

DOĞAL SAYILAR

Deste

Ad Soyad:

Sınıf: 2/...

No: ...

ETKİNLİK-1

Yönergelere göre etkinlikleri yapınız.


Keklerin **1 deste** olması için kaç tane daha gerekiyor?
Yanındaki kutucuğa yazınız.




Yastıkların **1 deste** olması için kaç tane daha gerekiyor?
Yanındaki kutucuğa yazınız.




Termosların **1 deste** olması için kaç tane daha gerekiyor?
Yanındaki kutucuğa yazınız.



Şekerlerin **1 deste** olması için kaç tanesinin silinmesi gerekir? Yanındaki kutucuğa yazınız.



El fenerlerinin **1 deste** olması için kaç tanesinin silinmesi gerekir? Yanındaki kutucuğa yazınız.







Kupa bardakların **2 deste** olması için kaç tane daha gerekiyor? Yanındaki kutucuğa yazınız.



Kalemıraşların **1 deste** olması için kaç tane daha gerekiyor? Yanındaki kutucuğa yazınız.



ETKİNLİK-2

Çiçekleri bir desteye tamamlayınız.**Nazar boncuklarını bir desteye** tamamlayınız.**Ağaçları iki desteye** tamamlayınız.**Şemsiyeleri bir desteye** tamamlayınız.**Balonları iki desteye** tamamlayınız.