

DOĞAL SAYILAR

Düzine

Ad Soyad:

Sınıf: 2/...

No: ...

ETKİNLİK-1

Yönergelere göre etkinlikleri yapınız.

Keklerin **1 düzine** olması için kaç tane daha gerekiyor?
Yanındaki kutucuğa yazınız.



Şemsiyelerin **1 düzine** olması için kaç tane daha gerekiyor?
Yanındaki kutucuğa yazınız.



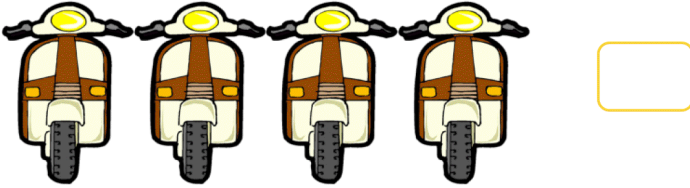
Kilitlerin **1 düzine** olması için kaç tane daha gerekiyor?
Yanındaki kutucuğa yazınız.



Abajurların **1 düzine** olması için kaç tane daha gerekiyor?
Yanındaki kutucuğa yazınız.



Motosikletlerin **1 düzine** olması için kaç tane daha gerekiyor? Yanındaki kutucuğa yazınız.



Şekerlerin **2 düzine** olması için kaç tane daha gerekiyor?
Yanındaki kutucuğa yazınız.




Yıldızların **1 düzine** olması için kaç tanesinin silinmesi gerekir? Yanındaki kutucuğa yazınız.

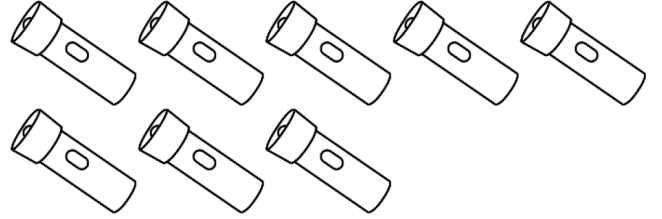


ETKİNLİK-2

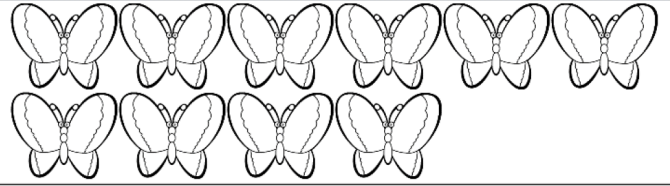
Balıkları **bir düzineye** tamamlayınız.



El fenerlerini **bir düzineye** tamamlayınız.



Kelebekleri **bir düzineye** tamamlayınız.



Kupa bardakları **iki düzineye** tamamlayınız.



Elmaları **iki düzineye** tamamlayınız.

