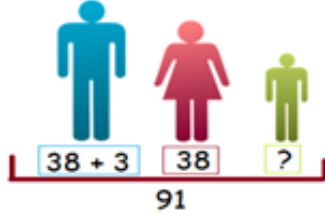


TOPLAMA İŞLEMİ GEREKTİREN PROBLEMLER

- 1- Annem 38 yaşında, babam annemden 3 yaş büyüktür. Üçümüzün yaşlarının toplamı 91 olduğuna göre, benim yaşı kaçtır?



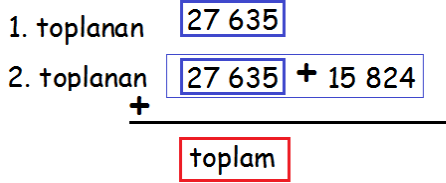
ÇÖZÜM :

- 2- 7 - 3 - 4 - 2 - 0 rakamlarını kullanarak yazılabilecek en büyük ve en küçük 5 basamaklı doğal sayıların toplamı kaçtır ?



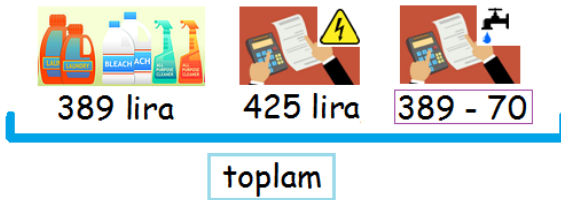
ÇÖZÜM:

- 3- Bir toplama işleminde 1. toplanan 27 635'tir. 2. toplanan birincinin 15 824 fazlası olduğuna göre toplam kaçtır?



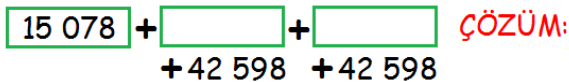
ÇÖZÜM:

- 4- Okulumuza 389 liralık temizlik malzemesi alındı. Elektrik faturası 425 lira, su faturası temizlik malzemesi tutarından 70 lira daha az olduğuna göre, okulumuzun bu ayki masrafı toplam kaç liradır?

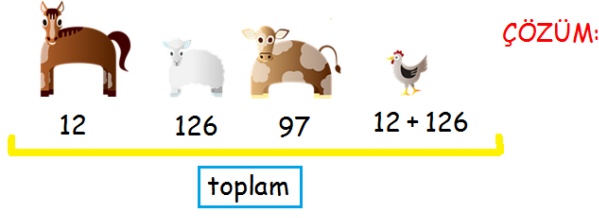


ÇÖZÜM:

- 5- Her biri diğerinden 15 078 fazla olan üç sayının en küçüğü 42 598 ise, bu üç sayının toplamı kaçtır ?



- 6- Bir çiftlikte 12 at, 126 koyun, 97 tane de inek var. Tavukların sayısı ise, atlarla koyunların toplamı kadardır. Bu çiftlikteki hayvanların hepsinin sayısı kaçtır?




- 7- Rakamları birbirinden farklı en büyük 6 basamaklı doğal sayı ile, rakamları birbirinden farklı en küçük dört basamaklı doğal sayının toplamı kaçtır?

ÇÖZÜM:

- 8- Yüzler basamağında 7 olan en büyük 6 basamaklı doğal sayı ile, onlar basamağında 3 olan en büyük dört basamaklı doğal sayının toplamı kaçtır?

ÇÖZÜM:

- 9- Bir şehirde 250 549 erkek, erkeklerden 4507 fazla kadın, kadınlardan 1780 eksik çocuk vardır. Bu şehirdeki çocuk sayısını bulunuz.



- 10- Rakamları birbirinden farklı 5 basamaklı en büyük sayı ile 587634'ün toplamı kaçtır?