



T.C.MİLLİ EĞİTİM BAKANLIĞI



AĞRI İL MİLLİ EĞİTİM MÜDÜRLÜĞÜ

3.SINIF BİRİNCİ FASİKÜL

K. Atatürk

İLİMİZDE GÖREV YAPAN VE BU FASİKÜLDE EMEĞİ GEÇEN DEĞERLİ ÖĞRETMENLERİMİZE
ÇOK TEŞEKKÜR EDERİZ...



3. SINIFLAR TÜRKÇE



HATIRLAYALIM =)

Atalarımızın yaşam deneyimlerini düşünce ve anlayışlarını kuşaktan kuşağa aktaran, söyleyeni belli olmayan, öğüt veren, öğretici, kısa özlü ve kalıplaşmış sözlerle "ATASÖZÜ" denir.

ÖZELLİKLERİ;

- *Öğüt vericidir.
- * Söyleyeni belli değildir.
- *Asla değiştirilemezler.
- * Toplumun ortak ürünüdür.
- * Bazıları gerçek anlamda kullanılır. Çoğu gerçek anlamının dışında kullanılır.

Aşağıdaki tabloda verilen atasözlerinin anlamlarını bularak eşleştiriniz.

1	Damlaya damlaya göl olur.
2	Dikensiz gül olmaz.
3	Ne ekersen onu biçersin.
4	Öfkeyle kalkan zararlar oturur.

	Kızgınlığına kapılarak iş gören sonunda güç duruma düşer.
	Bir birey çevresindekilere nasıl davranırsa öyle karşılık görür.
	Küçük şeyler birike birike büyük bir varlık olur.
	Kusursuz güzellik yoktur. Her şey illaki kusurludur.

Aşağıdaki atasözlerini eşleştiriniz. Eşleştirdiğiniz ve tamamladığınız atasözlerinin anlamlarını atasözleri sözlüğünüzden bulunuz. Defterinize anlamını yazınız ve atasözlerini ifade eden resminizi çizip boyayınız=)

Ak akçe

Ayağını
yorganına

Kaz gelecek
yerden

Bugünün
işini

İyilik eden

Terzi kendi

Davulun sesi

Körle yatan

Damlaya
damlaya

Bakarsan bağ
olur

Misafir
umduğunu
değil

yarına
bırakma.

bulduğunu
yer.

uzaktan hoş
gelir.

söküğünü
dikemez.

bakmazsan
dağ olur.

göl olur.

kara gün
içindir.

şaşı kalkar.

iyilik bulur.

göre uzat.

tavuk
esirgenmez.



3. SINIFLAR MATEMATİK



1) Aşağıdaki sayılardan hangisine 27 eklersek bir çift sayı olur?

A) 190

B) 24

C) 33

2) *108

*354

*265

*211

*157

*303

Yukarıdaki sayılardan kaç tanesi tek sayıdır?

A) 6

B) 3

C) 4

3) "59+75" işleminin sonucu ile ilgili ifadelerden hangisi yanlıştır?

A) Sonuç çift sayıdır.

B) Sonuç 3 basamaklı sayıdır.

C) Sonuç tek sayıdır.

4) Aşağıdaki işlemlerden hangisinin sonucu çift sayıdır?

A) $28+56$

B) $19+20$

C) $33+42$

5) 4, 5, 1 rakamları ile yazılabilecek en büyük çift sayı kaçtır?

A) 514

B) 154

C) 541

6) " Sekiz yüz elli" okunuşu verilen sayının yazılışı aşağıdakilerden hangisidir?

A) 805

B) 850

C) 508

7) " 2 yüzlük + 9 onluk + 4 birlik" basamak değeri verilen sayı kaçtır?

A) 492

B) 249

C) 294

8) "91A" üç basamaklı bir tek sayıdır. "A" yerine aşağıdakilerden hangisi yazılamaz?

A) 2

B) 3

C) 5

9) İki basamaklı en büyük doğal sayının 17 eksiği kaçtır?

A) 82

B) 73

C) 85

10) $(155+218) + 146$ verilen toplama işleminin sonucu kaçtır?

A) 529

B) 519

C) 539



3. SINIFLAR HAYAT BİLGİSİ



1) Aşağıdaki levhalardan hangisi okul geçidini gösterir?



2) "Yaya ve sürücülerin yolda giderken uymaları gereken kurallardır."

Yukarıda tanımı verilen trafik terimi aşağıdakilerden hangisidir?

- A) Yaya geçidi B) Trafik işaretleri C) Trafik kuralları

3) "Miraç'ın sınıfına Türkiye'ye göç etmiş farklı kültürü olan bir öğrenci geldi."

Miraç ve arkadaşları yeni arkadaşlarına nasıl davranmalıdır?

- A) Onu dışlamalıdır.
B) Onu sınıftan kovmalıdır.
C) Onu hoşgörülü karşılamalıdır.

4) Aşağıdakilerden hangisi Atatürk'ün kişilik özelliklerindendir?

- A) Çalışkan- cesur- ileri görüşlü
B) Zeki- cesur- mavi gözlü
C) Çalışkan- sabırlı- sarı saçlı

5) Seni arabayla çabucak eve götürelim.

Okul çıkışında Merve'ye yabancı biri bu teklifi etmiştir. Merve nasıl cevap vermelidir?

- A) Hayır diyerek oradan uzaklaşmalıdır.
B) Hemen evet demelidir.
C) Hemen arabaya binmelidir.

6) Boş bırakılan yerleri verilen uygun kelimelerle tamamlayınız.

barınma

kuzey

batıdan

hemen

temiz

1- Güneş, doğudan doğar batır.

2- Bitkiler canlıların; beslenme, ve korunma ihtiyaçlarını karşılar.

3- Ağaçların yosun tutan yüzeyleri yönünü gösterir.

4- Tehlikede olduğumuzu fark ettiğimizde bağırmalıyız.

5- Parkları, oyun alanlarını bırakmalıyız.

7) Aşağıda verilenlerden hangisi tehlikeli olabilir?

A) Kutudaki elektrikli ısıtıcı

B) Prizde olmayan ütü

C) Sobanın üzerindeki sıcak su

8) "İlçede, devleti temsil eder."

Yukarıda boş bırakılan yere aşağıdakilerden hangisi getirilmelidir?

A) Vali

B) Belediye

C) Kaymakam

9) Aşağıda verilenlerden hangisi doğrudur?

A) İli, belediye yönetir.

B) Köy ve mahalleyi muhtar yönetir.

C) İlçeyi belediye yönetir.

10) Ülkemizin yönetim şekliyle ilgili verilenlerden hangisi yanlıştır?

A) Kadın erkek eşitliği vardır.

B) Din ve devlet işleri birbirinden ayrı değildir.

C) Devletimizin yönetim şekli Cumhuriyet'tir.



3. SINIFLAR FEN BİLİMLERİ



1) Aşağıdakilerden hangisi çevremizi korumak için yapılacak davranışlardan biridir?

- A) Çöplerimizi çevreye atmak.
- B) Ağaç dikmek.
- C) Yere tükürmek.

2) Aşağıdakilerden hangisi canlıların özellikleri için söylenebilir?

- A) Hareket etmezler.
- B) Solunum yapmazlar.
- C) Suya ihtiyaç duyarlar.

3) * Her canlı solunum yapar.

* Her canlı boşaltım yapar.

* Beslenirler.

* Tepki verirler.

Yukarıdakilerden kaç canlıların ortak özelliklerindendir?

- A) 4
- B) 3
- C) 2

4) Aşağıda ses ile ilgili verilen bilgilerden hangisi yanlıştır?

- A) Bir yerde birbirinden farklı sesler işitebiliriz.
- B) Kulağımız her şiddetteki sesi duyar.
- C) Varlıklar titreşerek ses oluşturur.

5) Aşağıdakilerden hangisi yapay ışık kaynağıdır?

- A) Güneş
- B) Ateş Böceği
- C) Masa lambası

6) Aşağıda hareket türlerine verilen örneklerden hangisi yanlıştır?

- A) Sallanma-----) Salıncakta sallanma.
- B) Hızlanma-----) Sporcuların koşuda bitiş çizgisinden sonraki hareketi.
- C) Dönme-----) Hareket halindeki tekerleğin hareketi.

7) Kuvvetle ilgili aşağıdaki bilgilerden hangisi doğrudur?

- A) Şapkamızı çıkarırken itme kuvveti uyguluyoruz.
- B) Kitabımıza itme kuvveti uygulanırsa hareket etmez.
- C) Cisimlere sadece çekme kuvveti uygulanır.

8) Pil atıkları için aşağıdakilerden hangisinin yapılması uygundur?

- A) Geri dönüşüm kutularında pil atıkları için belirtilen yerlere koymak.
- B) Parka atmak.
- C) Bahçeye atmak.

9) Aşağıdakilerden hangisinin kullandığı enerji kaynağı farklıdır?

- A) Bulaşık Makinesi
- B) Televizyon kumandası
- C) Ütü

10) Aşağıdaki elektrikli araçlarla kullanım amaçları eşleştirmesinden hangisi yanlıştır?

- A) Elektrikli soba----- Isınma
- B) Klima----- Aydınlatma
- C) Buzdolabı----- Soğutma



3. SINIFLAR İNGİLİZCE




IN MY CITY

1. Resimlerle ilgili İngilizce kelimeleri eşleştirin

1



2



3



4




5



6



7



8



9



10



11



12



- a. Bank
- b. Carnival
- c. Hospital
- d. Police station
- e. Stadium
- f. Library
- g. Supermarket
- h. Post Office
- i. School
- j. Mosque
- k. Zoo
- l. Fire station

EĞLENCE ZAMANI

Çok çalıştın şimdi eğlence zamanı!!! Biraz ders arasında dinlenelim ve eğlencenin tadına varalım. Bakalım ne kadar dikkatlisin?

E	T	K	İ	N	L	İ	K	O	K
Ö	U	K	A	L	E	M	L	E	D
Ğ	A	R	K	A	D	A	Ş	Ğ	O
R	Ö	S	R	S	E	T	M	L	Y
E	D	E	U	I	R	O	U	E	U
N	V	V	A	N	S	K	T	N	N
C	R	G	D	I	A	U	L	C	N
İ	D	İ	A	F	H	L	U	E	A
Ö	Ğ	R	E	T	M	E	N	F	A
Z	T	A	H	T	A	L	A	S	I
D	O	K	U	M	A	K	I	R	.

Aşağıda yazan kelimeleri örnekteki gibi tabloda bulunuz. Bulurken dikkat edin!!! Her kelimeyi bulduğun zaman kalan harfler sana bir cümle oluşturacak. Bu cümleyi aşağıda bulunan "Özlü Söz" kutusuna yazınız.

Oyun

Öğretmen

Etkinlik

Mutlu

Öğrenci

Okul

Eğlence

Sınıf

Tahta

Sevgi

Arkadaşlık

Kalem

Ders

Defter

Okumak

ÖZLÜ SÖZ KUTUSU

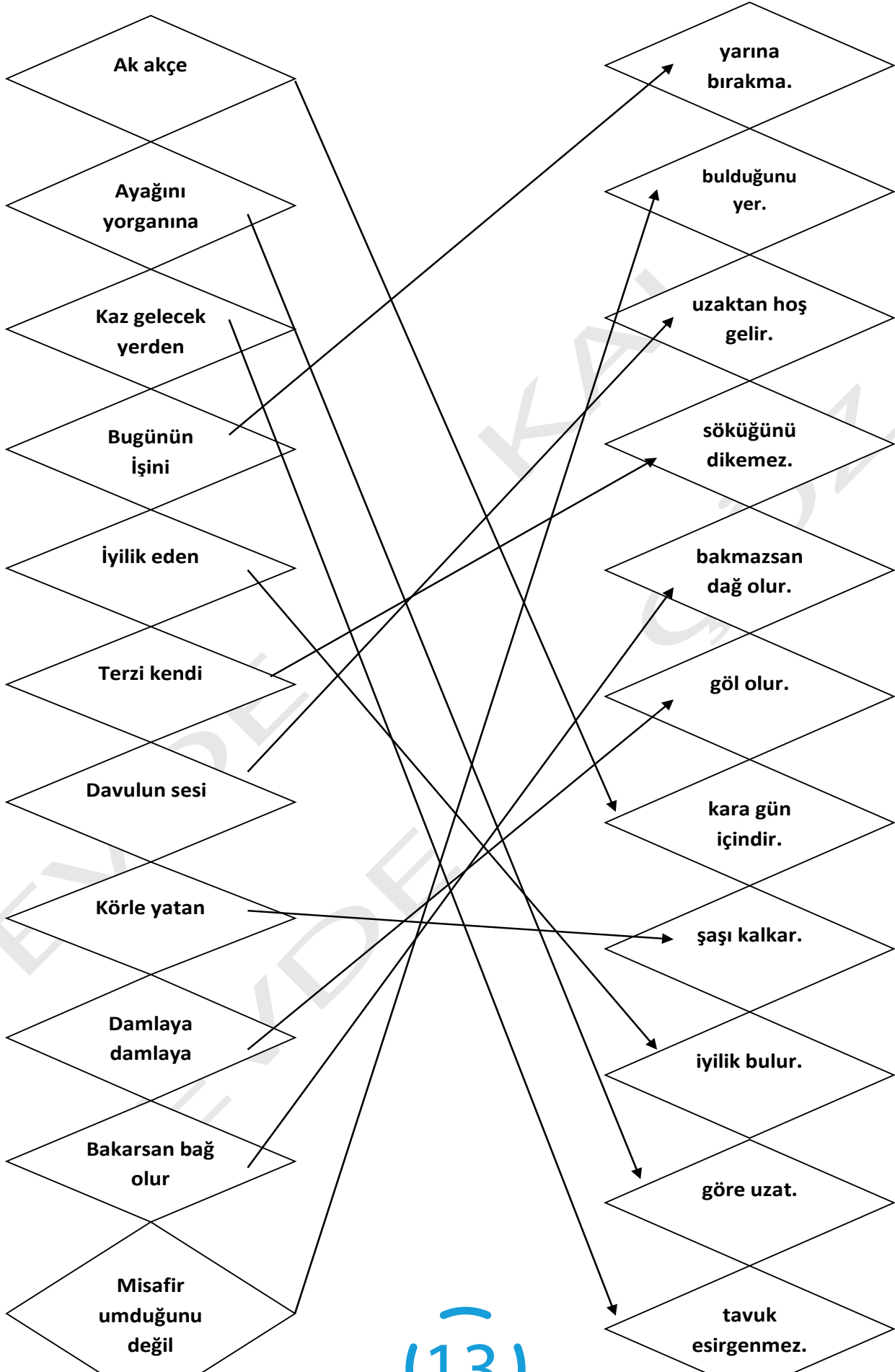
"....."
.....
....."

Aşağıdaki tabloda verilen atasözlerinin anlamlarını bularak eşleştiriniz.

1	Damlaya damlaya göl olur.
2	Dikensiz gül olmaz.
3	Ne ekersen onu biçersin.
4	Öfkeyle kalkan zararlar oturur.

4	Kızgınlığına kapılarak iş gören sonunda güç duruma düşer.
3	Bir birey çevresindekilere nasıl davranırsa öyle karşılık görür.
1	Küçük şeyler birike birike büyük bir varlık olur.
2	Kusursuz güzellik yoktur. Her şey illaki kusurludur.

Aşağıdaki atasözlerini eşleştiriniz. Eşleştirdiğiniz ve tamamladığınız atasözlerinin anlamlarını atasözleri sözlüğünüzden bulunuz. Defterinize anlamını yazınız ve atasözlerini ifade eden resminizi çizip boyayınız=)





EĞLENCE ZAMANI

Çok çalıştın şimdi eğlence zamanı!!! Biraz ders arasında dinlenelim ve eğlencenin tadına varalım. Bakalım ne kadar dikkatlisin?

E	T	K	İ	N	L	İ	K	O	K
Ö	U	K	A	L	E	M	L	E	D
Ğ	A	R	K	A	D	A	Ş	Ğ	O
R	Ö	S	R	S	E	T	M	L	Y
E	D	E	U	I	R	O	U	E	U
N	V	V	A	N	S	K	T	N	N
C	R	G	D	I	A	U	L	C	N
İ	D	İ	A	F	H	L	U	E	A
Ö	Ğ	R	E	T	M	E	N	F	A
Z	T	A	H	T	A	L	A	S	I
D	O	K	U	M	A	K	I	R	.

Aşağıda yazan kelimeleri tabloda bulunuz. Bulurken dikkat edin!!! Her kelimeyi bulduğun zaman kalan harfler sana bir cümle oluşturacak. Bu cümleyi aşağıda bulunan "Özlü Söz" kutusuna yazınız.

Oyun

Öğretmen

Etkinlik

Mutlu

Öğrenci

Okul

Eğlence

Sınıf

Tahta

Sevgi

Arkadaşlık

Kalem

Ders

Defter

Okumak

ÖZLÜ SÖZ KUTUSU

"OKUL DÖRT DUVARDAN DAHA FAZLASIDIR."

Matematik

1- C

2- C

3- C

4- A

5- A

6- B

7- C

8- A

9- A

10- B

Hayat Bilgisi

1- B

2- C

3- C

4- A

5- A

6-1. batıdan

6-2. barınma

6-3. kuzey

6-4. hemen

6.5. temiz

7- C

8- C

9- B

10- B

Fen Bilimleri

1- B

2- C

3- A

4- B

5- C

6- B

7- A

8- A

9- B

10- B

ANSWER KEY

a. Bank	5
b. Carnival	3
c. Hospital	1
d. Police station	4
e. Stadium	8
f. Library	10
g. Supermarket	11
h. Post Office	9
i. School	12
j. Mosque	2
k. Zoo	7
l. Fire station	6