



T.C MİLLİ EĞİTİM BAKANLIĞI



AĞRI İL MİLLİ EĞİTİM MÜDÜRLÜĞÜ

4. SINIF FASİKUL

K. Atatürk

İlimizde görev yapan ve bu fasikülde emeği geçen değerli öğretmenlerimize
ÇOK TEŞEKKÜR EDERİZ...



4. SINIFLAR TÜRKÇE



1) Aşağıdaki cümlelerin hangisinde sebep- sonuç ilişkisi yoktur?

- A) Akıllı bir karış havada olduğundan çantasını unuttu.
- B) Arkadaşına öfkelenip sınıftan çıktı.
- C) Okula giderken düştü.
- D) Oğlunu özlediği için gözleri doldu.

2) "Annesinin söylediklerini dikkate almadığı hasta oldu."

Tümcesinde boş bırakılan yere hangi kelime gelirse anlamlı bir tümce olur?

- A) ancak
- B) rağmen
- C) çünkü
- D) için

3) Aşağıdaki kelimelerden hangisi karşıt anlamı olmayan, sesteş bir kelimedir?

- A) yüz
- B) bin
- C) aç
- D) gül

4) Aşağıdaki tümcelerin hangisinde zıt anlamlı sözcükler beraber kullanılmıştır?

- A) Kolay soruları yap, zor sorulara beraber bakalım.
- B) Bir sağa bir sola yalpalayıp duruyordu.
- C) İyi kötü bir işi vardı.
- D) Ufak tefek problemler okulda çıkıyordu.

5) "Kitabı incelediğimizde yazarın dilinin pürüzsüz olduğunu görüyoruz."

Bu tümcedeki altı çizili sözcük hangi anlamda kullanılmıştır?

- A) Gerçek
- B) Mecaz
- C) Terim
- D) Deyim

6) Aşağıdaki cümlelerin hangisinde "kara" sözcüğü gerçek anlamının dışında kullanılmıştır?

- A) Kara günler bitmek bilmiyordu.
- B) Kedinin kara gözleri vardı.
- C) Karalar denizlere göre erken ısınır erken soğur.
- D) Kara bulutlar gökyüzünü kaplamıştı.

7) Aşağıdaki sözcüklerden hangisi somut isimdir?

- A) Düşünce
- B) Akıl
- C) Sevgi
- D) Su

8) Aşağıdaki sözcüklerden hangisi soyut isimdir?

- A) Sis
- B) Bulut
- C) Düşünce
- D) Kapı

9) 1- Kalem 2- kan 3- kıyafet 4- kural

Verilen kelimeler alfabetik sıraya koyulursa sıralama nasıl olur?

- A) 1-2-4-3
- B) 1-2-3-4
- C) 2-1-3-4
- D) 4-3-2-1

10) - asma

- ay

- kara

- bin

Yukarıdaki kelimelerden kaç tanesi sestestir?

- A) 1
- B) 2
- C) 3
- D) 4



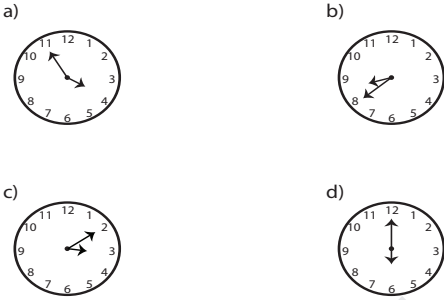
4. SINIFLAR MATEMATİK



1. Verilen boşlukları doldurunuz.

- a) 12 dk =saniye
- b) 8 hafta =gün
- c) 2 sa 10 dk =dk
- d) 3 gün =saat
- e) 48 sa =gün
- f) 7 yıl =ay
- g) 4 ay =gün
- h) 480 saniye =dakika

2. Verilen saatlerin yazılışlarını ve okunuşlarını yazınız.



3. Verilen saatleri çizip okunuşlarını yazınız.



4.

21.30'da yola çıkan otobüs, saat 05.45'te otogara vardı. Yolculuk kaç dakika sürmüştür?

5. Kitabımın bir sayfasını 4 dakikada okuyorum. 280 sayfalık bir kitabı kaç dakikada okurum?

6. Koşu yarışmasını 1080 saniyede tamamladım. Koşu yarışmasını kaç dakikada tamamladım?

7.

08.30'da başlayan ders 150 dk sürmüştür. Ders kaçta bitmiştir?

8. Yılın $\frac{2}{5}$ 'inde çalışan Emre kaç gün tatil yapmaktadır?

9.



verilen şekilde kaç kare, kaç dikdörtgen vardır?



4. SINIFLAR SOSYAL BİLGİLER



1) Hangisi birinci derece akrabalarımızdan değildir?

- A) Yenge B) Teyze C) Hala D) Amca

2) Cumhuriyetten önceki devletimizin adı aşağıdakilerden hangisidir?

- A) Bizans Devleti B) Osmanlı Devleti
C) Selçuklu Devleti D) Moğol Devleti

3) 1. Amasya Genelgesi

2. Sakarya Savaşı

3. Erzurum Kongresi

4. Sivas Kongresi

Yukarıdaki olayların kronolojik sıralaması aşağıdaki seçeneklerden hangisinde doğru olarak verilmiştir?

- A) 1-2-3-4 B) 4-3-1-2 C) 4-3-2-1 D) 2-4-1-3

4) Kuzeybatı yönünün tam karşısında hangi yön bulunmaktadır?

- A) Güneybatı B) Güney C) Güneydoğu D) Kuzeydoğu

5) Aşağıdaki cümlelerden doğru cevapların başına "D", yanlış olanların başına "Y" harfi koyunuz.

- () Bizden farklı düşünen insanları kınamalıyız.
- () Herkesin ilgi alanı farklıdır.
- () Soy ağacında komşuya yer verilmez.
- () Ehliyet ve Pasaport kimlik belgesi olarak kullanılamaz.
- () Ailede alınacak kararlarda aile bireylerinin düşüncesi alınmalıdır.
- () İlk eğitimimizi okulda alırız.
- () Boyumuz, saç rengimiz ve kilomuz fiziksel özelliklerimizdendir.
- () Önemli olayların tarih sırasına göre yazılmasına sıralama denir.
- () Kimlik kartımız turkuaz renklidir.
- () Gezmek, oyun oynamak, kitap okumak bizim duygusal özelliklerimizdir.
- () İsteklerimiz herkes için aynıdır.
- () Yurt dışına çıkmak isteyen kişilere pasaport belgesi verilir.
- () Yaşamımızı sürdürebilmek için gerekli olan her şeye istek denir.
- () Toplumu oluşturan herkese birey denir.
- () T.C. Kimlik numaramız 10 basamaklıdır.
- () Çocukların ilgi alanları aynıdır.
- () Yaşımız ilerledikçe ilgi alanımız hiç değişmez.
- () Tüm resmi kimlik belgelerinde soğuk damga bulunmak zorundadır.



4. SINIFLAR İNGİLİZCE



1. Boşlukları aşağıdaki resme bakarak “in”, “on”, “near”, “in front of” ve “behind” ile doldurunuz.



a) Where are the books?

They are mouse.

c) Where is the box?

It istubes.

e) Where is the glass?

It isthe sink.

b) Where is the bottle?

It is paper.

d) Where is the paper?

It is table.



EĞLENCE ZAMANI



Çok çalıştın şimdi eğlence zamanı!!! Biraz ders arasında dinlenelim ve eğlencenin tadına varalım. Bakalım ne kadar dikkatlisin?

E	T	K	İ	N	L	İ	K	O	K
Ö	U	K	A	L	E	M	L	E	D
Ğ	A	R	K	A	D	A	Ş	Ğ	O
R	Ö	S	R	S	E	T	M	L	Y
E	D	E	U	I	R	O	U	E	U
N	V	V	A	N	S	K	T	N	N
C	R	G	D	I	A	U	L	C	N
İ	D	İ	A	F	H	L	U	E	A
Ö	Ğ	R	E	T	M	E	N	F	A
Z	T	A	H	T	A	L	A	S	I
D	O	K	U	M	A	K	I	R	.

Aşağıda yazan kelimeleri örnekteki gibi tabloda bulunuz. Bulurken dikkat edin!!! Her kelimeyi bulduğun zaman kalan harfler sana bir cümle oluşturacak. Bu cümleyi aşağıda bulunan "Özlü Söz" kutusuna yazınız.

— Oyun —

Öğretmen

Etkinlik

Mutlu

Öğrenci

Okul

Eğlence

Sınıf

Tahta

Sevgi

Arkadaşlık

Kalem

Ders

Defter

Okumak

ÖZLÜ SÖZ KUTUSU

"....."
.....
....."



CEVAPLAR



EĞLENCE ZAMANI

Çok çalıştın şimdi eğlence zamanı!!! Biraz ders arasında dinlenelim ve eğlencenin tadına varalım. Bakalım ne kadar dikkatlisin?

E	T	K	İ	N	L	İ	K	O	K
Ö	U	K	A	L	E	M	L	E	D
Ğ	A	R	K	A	D	A	Ş	Ğ	O
R	Ö	S	R	S	E	T	M	L	Y
E	D	E	U	I	R	O	U	E	U
N	V	V	A	N	S	K	T	N	N
C	R	G	D	I	A	U	L	C	N
İ	D	İ	A	F	H	L	U	E	A
Ö	Ğ	R	E	T	M	E	N	F	A
Z	T	A	H	T	A	L	A	S	I
D	O	K	U	M	A	K	I	R	.

Aşağıda yazan kelimeleri tabloda bulunuz. Bulurken dikkat edin!!! Her kelimeyi bulduğun zaman kalan harfler sana bir cümle oluşturacak. Bu cümleyi aşağıda bulunan "Özlü Söz" kutusuna yazınız.

Oyun

Öğretmen

Etkinlik

Mutlu

Öğrenci

Okul

Eğlence

Sınıf

Tahta

Sevgi

Arkadaşlık

Kalem

Ders

Defter

Okumak

ÖZLÜ SÖZ KUTUSU

"OKUL DÖRT DUVARDAN DAHA FAZLASIDIR."

(9)

2. Boşlukları aşağıdaki resme bakarak “ in” , “ on” , “near” , in front of” ve “behind” ile doldurunuz.



a) Where are the books?

They are ...in front of.... mouse.

c) Where is the box?

It isbehind.....tubes.

e) Where is the glass?

It isin.....the sink.

b) Where is the bottle?

It isnear..... paper.

d) Where is the paper?

It is ...on... table.

TÜRKÇE

1. C
2. D
3. -
4. A
5. B
6. A
7. D
8. C
9. B
10. D

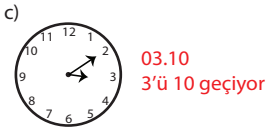
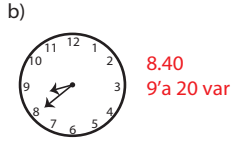
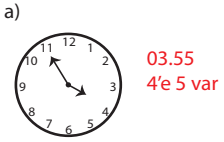
SOSYAL BİLGİLER

1. A
2. B
3. -
4. C
5. Y
- D
- D
- Y
- D
- Y
- D
- Y
- Y
- D
- Y
- D
- Y
- Y
- Y
- D

1. Verilen boşlukları doldurunuz.

- a) 12 dk = **720** saniye
 b) 8 hafta = **56** gün
 c) 2 sa 10 dk = **130** dk
 d) 3 gün = **72** saat
 e) 48 sa = **2** gün
 f) 7 yıl = **84** ay
 g) 4 ay = **120** gün
 h) 480 saniye = **8** dakika

2. Verilen saatlerin yazılışlarını ve okunuşlarını yazınız



3. Verilen saatleri çizip okunuşlarını yazınız.



4.

21.30'da yola çıkan otobüs, saat 05.45'te otogara vardı. Yolculuk kaç dakika sürmüştür?

495 dk sürmüştür.

5. Kitabımın bir sayfasını 4 dakikada okuyorum. 280 sayfalık bir kitabı kaç dakikada okurum?

1.320 dakikada okurum

6. Koşu yarışmasını 1080 saniyede tamamladım. Koşu yarışmasını kaç dakikada tamamladım?

18 dakikada tamamladım.

7.

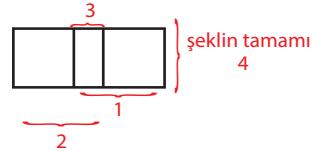
08.30'da başlayan ders 150 dk sürmüştür. Ders kaçta bitmiştir?

11.00'da bitmiştir.

8. Yılın $\frac{2}{5}$ 'inde çalışan Emre kaç gün tatil yapmaktadır?

219 gün tatil yapmaktadır.

9.



verilen şekilde kaç kare, kaç dikdörtgen vardır?

4 dikdörtgen vardır.