



T.C MİLLİ EĞİTİM BAKANLIĞI



AĞRI İL MİLLİ EĞİTİM MÜDÜRLÜĞÜ

7. SINIF KAZANIM DEĞERLENDİRME FASİKÜLÜ

K. Atatürk

İlimizde görev yapan ve bu fasikülde emeği geçen değerli öğretmenlerimize
ÇOK TEŞEKKÜR EDERİZ...



7. SINIFLAR TÜRKÇE

KAZANIM DEĞERLENDİRME TESTİ TEST 1



1. Aşağıdaki cümlelerin hangisinde ek fiil vardır?

- A) Umut , bugün eve erken geldi.
- B) Büşra, Ağrı ' ya yarın gidecekmış.
- C) Zeynep , ödevini yaptı .
- D) Senin geleceğini biliyorum.

2. Aşağıdaki cümlelerin hangisinde ek fiil vardır?

- A) Güzel günler , elbet gelecek .
- B) Sınıfta iki öğrenci vardı.
- C) Okul , 19 Haziranda tatil olacak .
- D) Haftaya sınavmaya beraber gidelim .

3. Aşağıdaki cümlelerin hangisinde ek fiil yoktur ?

- A) Yıldızlar , güzel güzel parlamaya başlamıştı .
- B) Dün akşam , arabası bozulmuştu.
- C) Bizim , beş tane ineğimiz var.
- D) Cumartesi günü dışarı çıktık.

4. "Çok eskiden beri biz bu mahallede oturuyoruz."
Hangi sözcük çıkarılırsa cümlemin anlamı değişmez?

- A) çok
- B) beri
- C) bu
- D) biz

5. Aşağıdaki cümlelerin hangisinde anlatım bozukluğu vardır?

- A) Eski konaklar insanlara daha çekici geliyor.
- B) Uzun yıllardan bu yana bu köyde yaşadım.
- C) Yeşile özlem duyan herkes şehirden kaçıyor.
- D) Yağmurdan sonra ağaçlar bir başka güzel görünüyor.

6. "İşlerinin çokluğundan iki gündür uyku uyuyamıyordu." cümlesinde hangi sözcük gereksiz kullanılmıştır?

- A) uyku
- B) gündür
- C) iki
- D) işlerinin

7. "Ben bu sıkıntılara ancak seninkatlanabilirim." cümlesinde noktalı yere aşağıdakilerden hangisi getirilirse anlatıma amaç katılmış olur?

- A) ile
- B) için
- C) kadar
- D) desteğinle

8. Aşağıdaki cümlelerin hangisinde bir anlatım bozukluğu vardır?

- A) Törene katılacakların kravat ve smokin giymesi gerekiyor.
- B) Büyük kentlerdeki hava kirliliği gün geçtikçe artıyor.
- C) Uçak vaktinde gelmediği için bekleyenlerin canı sıkıldı.
- D) Bu yıl çay üretiminin artması bekleniyor.

9. Aşağıdaki cümlelerin hangisinde bir anlatım bozukluğu yapılmıştır?

- A) Yol yürümekten ayaklarıma kara sular indi.
- B) Öğretmenini görünce eli ayağı dolaştı.
- C) Sınıfta olanları Aynur önce bana anlattı.
- D) Sınavdan sonra hiç kimse ne içeri ne de dışarı çıksın.

10. Aşağıdaki cümlelerin hangisinde bir anlatım bozukluğu yapılmamıştır?

- A) Ne o beni ne de ben onu aradım.
- B) Adamın suçlu ya da suçsuz olmadığını araştır.
- C) Akşamları evinde eski ama sağlam radyoları tamir ederdi.
- D) Her işe burnunu sokuyor, etrafındakileri kızdırıyordu.

11. "Son zamanlarda dedem sağlığına ve sıhhatine gereken özeni göstermiyordu." cümlesindeki anlatım bozukluğunun nedeni aşağıdakilerden hangisidir?

- A) Yanlış deyim kullanılması
- B) Bir sözcüğün yanlış anlamda kullanılması
- C) Gereksiz sözcük kullanımı
- D) Bir sözcüğün yanlış yerde kullanılması

12. "Yeni gelen arkadaşımız sınıfa girince öğretmene kendini tanıştırdı." cümlesindeki anlatım bozukluğunu gidermek için aşağıdakilerden hangisi yapılmalıdır?

- A) "girince" yerine "girdiğinde" getirilmeli.
- B) "gelen" sözcüğü atılmalı.
- C) "kendini" sözcüğü atılmalı.
- D) "tanıştırdı" sözcüğü yerine "tanıttı" konulmalı.

13. Aşağıdaki cümlelerden hangisinde altı çizili sözcük gereksiz kullanılmıştır?

- A) Ağaçların sık yeşil yaprakları elektrik ışııyla parıldıyor.
- B) Onlar evi de elden çıkarmak zorunda kaldılar.
- C) Hazırladığım bütün soruları ikinci kez yeniden gözden geçirdim.
- D) Eski dostlar bu akşam düşüncelerini birbirlerine iletiler.

14. Aşağıdaki cümlelerin hangisinde altı çizili sözcük çıkarılırsa, cümlenin anlamında bir değişiklik olmaz?

- A) İsteddiğiniz gömleği hemen şimdi paketleyeceğim.
- B) Evdekileri gördü, onlarla uzunca konuştu.
- C) Klasik Türk müziği yeni bir arayış içine girmeli.
- D) Arabasını park edebilmek için ileri gitti.

15. Aşağıdaki cümlelerin hangisinde anlatım bozukluğu vardır?

- A) İki yıldır sürekli ve düzenli olarak bu konu üzerinde çalışıyorum.
- B) Şirketi almak isteyenlerin teklif ettikleri bu öneriyi kabul ediyorum.
- C) Bana, doğru ve düzgün konuşmasını o öğretmişti.
- D) Dün, sabah gece yarısına kadar hiç durmadan bu yazıyı yetiştirebilmek için çalıştım.

16. Aşağıdaki cümlelerin hangisinde bir anlatım bozukluğu vardır?

- A) Davranışlarına dikkat eden insanlar çevrelerinin beğenilerini kazanırlar.
- B) Sözcüklerin yerinde kullanılması, yazının etkileyciliğini artırır.
- C) Böyle sorumsuz ve bencil bir insanla karşılaşacağımı sanmıyordum.
- D) Yaptığınız hareketin yanlış ve yerinde olmadığını size söylemişim.

17. Aşağıdaki cümlelerin hangisinde bir anlatım bozukluğu vardır?

- A) Ağabeyim İzmir’de, ablam Ankara’da okuyor.
- B) Ablam radyo dinlemesini, ben televizyon izlemesini severim.
- C) Sabahları bir bardak suyla ilaç içiyor.
- D) Ayşe, sen ve ben törende görevliyiz.

18. Aşağıdakilerin hangisinde bir anlatım bozukluğu vardır?

- A) Başarısına sevindik ve tüm kalbimizle kutladık.
- B) Verdiği tabloyu çok beğendi ve duvara astı.
- C) Yaşlı adam yaz kış evde oturur, sokağa hiç çıkmazdı.
- D) Bütün çarşığı gezdi; ama aradığı ayakkabıyı bulamadı.

19. Aşağıdaki cümlelerin hangisinde altı çizili sözcüğün çıkarılması, cümlenin anlamında daralmaya olmaz?

- A) Yaşlı doktor, bir hastayla konuşuyordu.
- B) Uçaklar, kente havadan bomba yağdırıyorlardı.
- C) Denizin serin sularında kendimizi çok mutlu hissediyorduk.
- D) Genç kızın mavi gözleri hüznü doluydu.

20. Aşağıdaki cümlelerin hangisinde yanlış anlamda kullanılan bir sözcük anlatım bozukluğuna neden olmaktadır?

- A) Sokakları kapsayan çöp torbaları çevreye kötü kokular yayıyor.
- B) Toplantı salonunda çekimser oy kullanacak bir delege vardı.
- C) Annem evde akşam yemeğini hazırlıyor.
- D) Okuma teşvik etmek devletin görevi olmalıdır.



7. SINIFLAR TÜRKÇE

KAZANIM DEĞERLENDİRME TESTİ

TEST 2



1. Aşağıdaki cümlelerden hangisi iki ek eylem almıştır?

- A) Zamanında burada olunca her şey yoluna girecekti.
- B) Elimizde yeterli boya vardı.
- C) Yağmurlu günlerde yürümeyi çok sevdi.
- D) Dün yolda gördüğüm sen değilsen kimdi?

2. Ek fiil, “-i(mek)” fiili ile yapılar ve iki görevi vardır. Bunlar: ismi ve isim soylu sözcükleri yüklem yapmak ve çekimlenmiş fiillere gelerek onları birleşik zamanlı yapmaktır.

Yukarıda verilen bilgiye dayanarak aşağıdaki ek fiillerin görevi diğerlerinden farklıdır?

- A) Milli koşucumuz diğer yarışmacıları geçerek bitiş çizgisine vardı.
- B) Okulumuzun açıldığı gün çok heyecanlıydım.
- C) İzlediğim filmlerin tümü seri halindeydi.
- D) İçmekten en çok zevk aldığım içecek bergamotlu çay.

3. Aşağıdaki ek fiillerden hangisi eylemin her zaman gerçekleştiği anlamını vermiştir?

- A) O herkesin kahramanıydı.
- B) Çocukların bunları izlemesi yasak.
- C) Yaklaşık yirmi yıldır burada çalışıyordum.
- D) Güneyli insanlar genellikle sıcakkanlı insanlardı.

4. Aşağıda verilen ek fiillerden hangisinin anlamı yay ayraç içinde verilenle uyuşmaz?

- A) Dün hava yağmurluydu. (tanık olma)
- B) İki aydır yurda dönmeye çalışıyormuş. (başkasından duyma)
- C) Dişlerimi düzenli fırçalayan bir insanım. (alışkanlık)
- D) Hastaysanız geç kalmadan doktora gidiniz. (başkasından duyma)

5. Aşağıdaki cümlelerin hangisinde ek eylem bulunur?

- A) Bu iki fidanı çürümüş olanların arasından çıkarmış.
- B) Hava soğuksa dışarı çıkmayı önermem.
- C) Orkidelerini bekletilmiş suyla sular.
- D) Dükkanlar akşam sekizden önce kapandı.

6. Aşağıdakilerden hangisi ek eylemin ismi yüklem yapma görevinde olumsuz biçimdedir?

- A) Henüz yollar kapanmamış.
- B) Birkaç öğrenci izin alamadığı için gelmiyormuş.
- C) Birazcık olsun bekleyemez miydi?
- D) Umarım, yerimiz sahneden çok uzakta değildir.

7. Aşağıdaki cümlelerin hangisinde ek fiil cümleye “terk edilmiş alışkanlık” anlamı katmıştır?

- A) Beyaz çarşafı karanlıkta gölge oyunu yapmak için kullanırdık.
- B) Her şey unutmuşmuş.
- C) Buralardan otobüs geçmezmiş.
- D) Böyle sıcak bir günde bu giyecekmiş.

8. Aşağıdaki cümlelerin hangisinde ek fiilin görülen geçmiş zamanıyla çekimlenmiş bir fiil yoktur?

- A) Bulutlar aniden gökyüzünü sardı.
- B) En doğrusu oraya gitmemekti.
- C) Çocukları gösteriye yetiştirdik.
- D) İtfaiye görevlileri alev alev yanan ormandaydı.

9. (I) Bu taşı kaldırır, paralarla mücevherleri taşın altında bulunması gereken çukura yerleştirirdim. (II) Taşı da eski durumuna getirip ayağımla düzelttikten sonra çekip gidiyordum. (III) Bir yıl, iki yıl bunlara el sürmezdim. (IV) Hadi bakalım, işiniz yoksa katili arayın durun.

Yukarıdaki paragrafta numaralandırılan cümlelerle ilgili aşağıdakilerden hangisi söylenemez?

- A) I. Cümledeki ek eylem “terk edilmiş alışkanlık” anlamı taşır.
- B) II. cümlede ek eylem, bir fiili birleşik zamanlı yapmıştır.
- C) III. Cümlede ek eylem, geniş zaman çekiminde olan bir fiili birleşik zamanlı yapmıştır.
- D) IV. cümlede ek eylem kullanılmamıştır.

10. “soğuk” sözcüğü aşağıdaki cümlelerden hangisinde ek fiille çekimlenerek yüklem görevinde kullanılmıştır?

- A) Çok soğuktu bize olan davranışları.
- B) Şuan beni en çok rahatlatacak şey soğuk bir su.
- C) Soğuk renkleri sıklıkla kullanırım.
- D) Hava soğuksa çocukları dışarı çıkarmayalım.

11. Aşağıdakilerden hangisinde gereksiz kullanımına dayanan bir anlatım bozukluğu vardır?

- A) Kurumamış çamaşırları giymemelisin.
- B) Yeşil bir yaprak gibiydi rengi kuşumun.
- C) Yetkili bu durum için önlem ve tedbirlerini almıştı.
- D) Buralarda çam ve meşe ormanları mevcut.

12. Aşağıdakiler hangisinde bir anlatım bozukluğu vardır?

- A) Bu karar ülkede insanların daha çok ölmesine neden oldu.
- B) Yoğun trafikte ilerlemek zor oldu.
- C) Çaydanlığa su koymayı unutmuş olamazsın.
- D) Bisikletin tekerlekleri oldukça eskimiş durumdaydı.

13. Bu kazağı örmeyi aşağı yukarı tam iki hafta önce bitirmiştin.

Bu cümledeki anlatım bozukluğunun nedeni aşağıdakilerden hangisidir?

- A) Gereksiz sözcük kullanımı
- B) Sözcüğün yanlış yerde kullanılması
- C) Sözcüğün yanlış anlamda kullanılması
- D) Anlamca çelişen sözcüklerin kullanılması

14. Polis, alkollü araç kullanan sürücünün ehliyetine el koydu.

Bu cümledeki anlatım bozukluğu aşağıdakilerden hangisiyle giderilebilir?

- A) “ehliyetine” yerine “belgesine” sözcüğü getirilerek
- B) “alkollü” sözcüğü “sürücünün” sözcüğünün hemen öncesine getirilerek
- C) “araç” sözcüğü çıkarılarak
- D) “el koydu” yerine “el koyabilir” getirilerek

15. Aşağıdaki cümlelerden hangisinde anlatım bozukluğu vardır?

- A) Hafta sonları yazlığa gidiyoruz.
- B) Araman beni çok mutlu etti.
- C) Bunu da mı gözüne yüzüne bulaştırdın?
- D) Ezberlemek doğru bir yöntem değil bu konu için.

16. Islak (I) kıyafetlerimi kuruması (II) için balkondaki (III) tellere asmalıyım (IV).

Yukarıda numaralanmış sözcüklerden hangisini çıkarılırsa anlatımda bir daralma olmaz?

- A) I B) II C) III D) IV

17. **Aşağıdakilerden hangisinde gereksiz sözcük kullanımına dayanan bir anlatım bozukluğu vardır?**

- A) Konuştuklarına dikkat etmelisin çünkü yerde kulak var.
B) Bu hastalık ölüme hatta astıma neden olabilir.
C) Her sınavın çocuğu yanlışlarla dolu.
D) Buradan sağlıklı ve sıhhatli çıkacağına eminim.

18. **Aşağıdakilerden hangisinde anlatım bozukluğu vardır?**

- A) Bardakları sırasıyla vitrine dizdim.
B) Şişedeki suyu hemen bitirmişsin.
C) Onun bizimle geleceğini öğrendiğimde çok şaşırdım.
D) Bana attığın iftiralar tamamen uydurma.

19. **Aşağıdakilerden hangisinde anlatım bozukluğu yoktur?**

- A) Şüphesiz ki onun yarışmayı kazandığını biliyor olmalısın.
B) Ben yirmili yaşlarımda oldukça zayıf olduğumu hatırlıyorum.
C) Davetiyesiz salona girmek yasaktır.
D) Bana iftira edildiğine sen de mi inanmıyorsun?



7. SINIFLAR TÜRKÇE

KAZANIM DEĞERLENDİRME TESTİ TEST 3



1-) Aşağıdaki cümlelerin hangisinin yüklemi ek eylem almış bir isimdir?

- A) Bu kitaptan bir tane de bana alır mısınız?
- B) O gün gelmediğim için sizden özür dilerim.
- C) Bir gün bize Bergama'yı gezdiriyorlardı.
- D) İnsanı yaşama bağlayan umutlarıdır.

2-) Aşağıdakilerin hangisinde ek eylem kullanılmamıştır?

- A) İyilikler, dostlukların başlangıcıdır.
- B) Ebedî bir dostluktur her iyilik.
- C) Kötü insanlar, toplumun yüz karasıdır.
- D) Borç yiyen kesesinden yer.

3-) Aşağıdaki cümlelerden hangisinin yüklemine "ek eylem" kullanılmamıştır?

- A) Kapıların kapanmasıyla oyun başladı.
- B) Böyle bir olay karşısında bile sakindi.
- C) Fırtınadan önce hava durgundu.
- D) Beni yaşama bağlayan senin sevgindi.

4-) Aşağıdaki cümlelerin hangisinde ek fiil yoktur?

- A) Orada kimse kimseye kötülük etmezmiş
- B) Bana, onun parası vardır, dedi.
- C) Salon ağzına kadar doluydu.
- D) Sen gidedur, ben burada bekleyeceğim.

5-) Aşağıdaki cümlelerin hangisinde ek fiil vardır?

- A) Bu gün çok iyiyim.
- B) Bir de ben göreyim.
- C) Eve erken döndü.
- D) Soruyu bir tek ben bildim.

6-) Aşağıdaki cümlelerin hangisinde ek fiil vardır?

- A) Tarih, milletlerin terazisidir.
- B) Terazi, kndini tartmaz.
- C) Kaderde ne varsa o çıkar
- D) Bilgisizlikten cahillik doğar.

7-) Aşağıdaki cümlelerin hangisinde ek eylem kullanılmamıştır?

- A) Arkadaşlarına yardım etmektedir.
- B) Bunlar, daha sonra, önemsiz gözükecek.
- C) Savunmalarını istemem mümkün değil.
- D) Enver, Şamlı Mehmet'in küçük oğludur.

8-) "Çok başarılı bir öğrenciyim." cümlesinin yüklemi ek fiilin hangi kipindedir?

- A) Görülen geçmiş zaman
- B) Öğrenilen geçmiş zaman
- C) Geniş zaman
- D) Koşul (şart)

9-) Aşağıdaki cümlelerin hangisinin yüklemi ek fiil almıştır?

- A) Bugün nereye gidiyoruz?
- B) Ali topu bahçeye atmış.
- C) Kadınlar bir çiçektir.
- D) Kalem bana ver.

10-) Aşağıdakilerin hangisinde ek eylem kullanılmamıştır?

- A) İyilikler, dostlukların başlangıcıdır.
- B) Ebedî bir dostluktur her iyilik.
- C) Kötü insanlar, toplumun yüz karasıdır.
- D) Borç yiyen kesesinden yer.

11-) Aşağıdaki cümlelerin hangisinde isimlere gelen ek fiil vardır?

- A) Soruları kolayca çözüverdik.
- B) Avrupa'yı dolaşmak istiyordu.
- C) Seni soran, amcanın kızıymış.
- D) Proje üç yılda tamamlanabildi.

12-) Aşağıdaki cümlelerden hangisinin yüklemde "ek eylem" kullanılmamıştır?

- A) Kapıların kapanmasıyla oyun başladı.
- B) Böyle bir olay karşısında bile sakindi.
- C) Fırtınadan önce hava durgundu
- D) Beni yaşama bağlayan senin sevgindi.

13-) Aşağıdaki cümlelerin hangisinde ek fiil yoktur?

- A) Şehirde herkes onu sever.
- B) Babası eli açık bir insandır.
- C) Ilık, yıldızlı bir geceydi.
- D) Kuvvetli kolları tunç rengindeydi.

14-) Aşağıdaki cümlelerden hangisinin yüklemi ek fiil değildir?

- A) Dünkü yarışmada çok heyecanlıyım.
- B) Kardeşim dün çok hastaydı.
- C) Sporcuların hepsi gençtiler.
- D) Hayatımda hiç yalan söylemedim.

15-)

Senden aldım bu feryadı
Bu imiş dünyanın tadı
Anılmazdı Veysel adı
O sana aşık olmasa

Bu dörtlükte kaç tane ek fiil kullanılmıştır?

- A) 1
- B) 2
- C) 3
- D) 4

16-) Aşağıdaki cümlelerden hangisinde ek fiil farklı bir görevde kullanılmıştır?

- A) Dün onu arayan en sevdiği arkadaşıydı.
- B) O babamın bana aldığı kitaptı.
- C) Acıymış hayatın bize gösterdikleri.
- D) Komşumuz akşam bana börek getirmişti.

17-) Aşağıdaki cümlelerin hangisinde fiil farklı bir ek eylemle çekimlenmiştir?

- A) Babasının onu gördüğünü söylüyormuş.
- B) Çocuk bakması gerçekten çok zor olmalıdır.
- C) Ağzında çıkan yaralar için doktora gidecekmış.
- D) Dedesini görmeye İstanbul'a gidiyormuş.

18-) "Kafama koyduğumu yaparım." diyordu. Cümlesinin yüklemde ek fiilinin hangi zamanı kullanılmıştır?

- A) Şimdiki zamanın rivayeti
- B) Gelecek zamanın hikayesi
- C) Şimdiki zamanın hikayesi
- D) Görülen geçmiş zamanın şartı

- 1- İki gündür canla başla uğraşıyordu.
- 2- Kedisini gezdirmek için kucağına almıştı.
- 3- Televizyonda kendisini görünce heyecandan yerinden fırlamış.
- 4- Sorular bu sene daha zor olacakmış.

19-) Yukarıdaki hangi cümlelerin yüklemleri aynı ek fiil ile çekimlenmiştir?

- A-) 1-3
- B-) 2-3
- C-) 1-2
- D-) 3-4

- 1- Bana öyle bakınca korkmuştum.
- 2- Öyle boş gözlerle bakma.
- 3- Onu yaralayan çekip gitmesiydi.
- 4- Bağırarak konuştuğu için herkes uyandı.

20-) Yukarıdaki cümlelerin yüklemlerinden hangileri ek fiil almıştır?

- A-) 1-2
- B-) 2-4
- C-) 1-4
- D-) 1-3



7. SINIFLAR MATEMATİK

KAZANIM DEĞERLENDİRME TESTİ TEST 1



1) 40 sayısının %40'ı kaçtır?

- A) 12 B) 16 C) 20 D) 24

2) 40 sayısının %20'si ile 60 sayısının %25'inin toplamı kaçtır?

- A) 10 B) 16 C) 23 D) 32

3) 60 soruluk bir deneme sınavında Mehmet soruların %70 ini doğru yanıtlamıştır. Mehmet hiç boş soru bırakmadığına göre, kaç soruyu yanlış yanıtlamıştır?

- A) 12 B) 14 C) 16 D) 18

4) 30 kişilik bir sınıfta öğrencilerin %40'ı kızdır. Buna göre bu sınıftaki erkek öğrencilerin sayısı kız öğrencilerin sayısından kaç fazladır?

- A) 6 B) 8 C) 12 D) 18

5) %35'i 42 olan sayı aşağıdakilerden hangisidir?

- A) 14 B) 56 C) 91 D) 120

6)



Verilen şeklin yüzde kaç yeşil renklidir?

- A) %80 B) %75 C) %50 D) %43


7) Bir çiftlikte 7 inek, 12 at, 21 tavuk bulunmaktadır. Buna göre, bu çiftlikteki hayvanların yüzde kaç attır?

- A) %12 B) %15 C) %18 D) %30

8) 990 sayısının %30 eksigi kaçtır?

- A) 625 B) 666 C) 693 D) 699

9)



Verilen dört farklı şekilden oluşan sticker (etiket) paketlerinden %25 indirimle alan bir öğrenci, toplam kaç TL ödemiştir?

- A) 9 B) 18 C) 27 D) 32

10) Üç saatin %40'ı kaç dakika eder?

- A) 24 B) 36
C) 72 D) 108

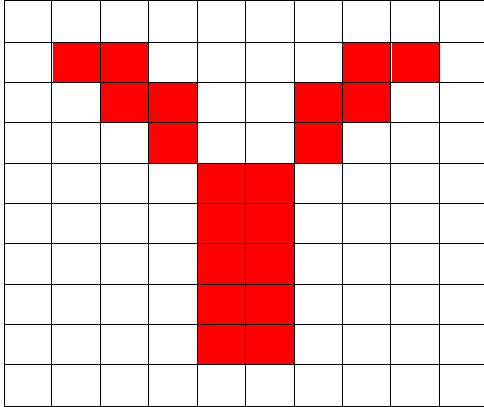
11) 21 sayısı 420 sayısının yüzde kaçdır?

- A) 50 B) 25
C) 15 D) 5

12) 3600 lira maaş alan bir kişi maaşının %40 ını faturalarına verdiği göre maaşının ne kadarını faturalar için harcamıştır?

- A) 960 B) 1200
C) 1440 D) 1750

13)



Şekilde boyalı kısım boyanmamış kısmın yüzde kaçdır?

- A) 40 B) 35
C) 30 D) 25

14) 600 liralık bir ürün için 54 lira KDV ödenmiştir. Buna göre bu ürünün KDV oranı yüzde kaçtır?

- A) 20 B) 18
C) 12 D) 9

15) 280 liralık bir ürün %40 kârla kaç liraya satılır?

- A) 392 B) 372
C) 324 D) 300

16) %20'si şeker olan bir karışımdaki şeker miktarı 65 gram olduğuna göre bu karışımın tamamı kaç gramdır?

- A) 250 B) 300
C) 325 D) 350

17) %20 kârla 1800 TL'ye satılan bir tablet bilgisayarın alış fiyatı (maliyeti) kaç TL dir?

- A) 1200 B) 1300
C) 1400 D) 1500

18) %24'ü 72 olan sayının %45'i kaç eder?

- A) 125 B) 130
C) 135 D) 150

19) Bir grupta; 25 doktor, 20 hemşire ve 15 ebe vardır. Buna göre grubun % kaç ebedir ?

- A) 25 B) 30
C) 35 D) 40

20) 80 000 TL'nin %1,2'si kaç TL'dir?

- A) 980 B) 960
C) 940 D) 920



7. SINIFLAR MATEMATİK

KAZANIM DEĞERLENDİRME TESTİ TEST 2



1) Bir satıcı malı %30 zararla 210 liraya satmıştır. Eğer 348 liraya satsaydı yüzde kaç kâr elde ederdi?

- A) 10 B) 12 C) 14 D) 16

2) Etiket fiyatı 300 lira olan bir ürünün %20 indirimli satış fiyatı kaç liradır?

- A) 200 B) 220 C) 240 D) 260

3) 400'ün %22 eksigi kaçtır?

- A) 302 B) 312 C) 322 D) 332

4) Ali 220 sayfalık bir romanın ilk gün 11 sayfasını okumuştur. Buna göre Ali'nin okumuş olduğu sayfa sayısı tüm romanın yüzde kaçıdır?

- A) 5 B) 6 C) 7 D) 8

5) 600 sayısının % kaç 48'dir?

- A) 8 B) 16 C) 20 D) 24

6) 300 sayısının %20 fazlası kaçtır?

- A) 320 B) 340 C) 350 D) 360

7) Aşağıdakilerden hangisi %50 'ye eşit değildir?

- A) $\frac{50}{100}$ B) $\frac{1}{2}$
C) $\frac{5}{10}$ D) $\frac{50}{10}$

8) %30 kârla 52 TL'ye bir ürünün maliyeti kaç liradır?

- A) 30 B) 40 C) 45 D) 50

9) Etiket fiyatı 80 TL olan bir ürün %60 iskonto ile kaç liraya satılır?

- A) 48 B) 40 C) 36 D) 32

10) 30 kalemın %60'ı mavi renktir. Mavi kalemlerden 10 tane satılıyor. Kalan kalemlerin yüzde kaç mavidir?

- A) 30 B) 40 C) 50 D) 60

16) Bir sepette bulunan 60 meyvenin 12'si çürüktür. Buna göre bu sepetteki meyvenin yüzde kaç çürüktür?

- A) 30 B) 25 C) 20 D) 15

7) Ela babasının aldığı kitabın 20 sayfasını okumuştur. Okunan kısım kitabın %40'ı olduğuna göre kitabın tamamı kaç sayfadır?

- A) 50 B) 40 C) 30 D) 20

18) Bir sınıfın %30'u kızdır. Kızların %25'i gözlüklüdür. Gözlüklü kız öğrenci sayısı 15'tir. Buna göre bu okulun mevcudu kaçtır?

- A) 100 B) 150 C) 175 D) 200

19) 32 kişilik sınıfın %25'i kızdır. Sınıfa 18 kız geldiğinde erkekler sınıfın yüzde kaçını oluşturur?

- A) 36 B) 40 C) 48 D) 52

20) 200 TL yıllık %12 faizden 2 yılda yüzde kaç faiz getirir?

- A) 40 B) 48 C) 50 D) 52

11) Bir spor kulübünün %30'u futbol, %20'si basketbol oynamakta. Futbol oynayanlar basketbol oynayanlardan 5 kişi fazla ise bu kulüpte kaç sporcu vardır?

- A) 70 B) 60 C) 50 D) 40

12) 200 liralık bir ürün için 44 TL komisyon alan bir komisyoncunun komisyon yüzdesi kaç liradır?

- A) 11 B) 22 C) 33 D) 44

13) %30 indirimli olarak 280 liraya satılan bir telefonun indirimden önceki satış fiyatı kaç TL'dir?

- A) 196 B) 300 C) 324 D) 400

14) Efe Bey gitmesi gereken yolun önce %28'ini, sonra %42'sini gidiyor. Gitmesi gereken daha 120 km yol olduğuna göre, yolun tamamı kaç km'dir?

- A) 300 B) 340 C) 380 D) 400

15) Bir mağazada tişört 24 TL ve etek 40 TL'dir. Buna göre etiket fiyatı verilen iki ürünü %25 indirimle alan biri kaç lira ödeme yapar?

- A) 16 B) 24 C) 32 D) 48



7. SINIFLAR MATEMATİK

KAZANIM DEĞERLENDİRME TESTİ TEST 3



1-) Bir fırındaki 240 simitin % 15 i satılmamıştır.

Buna göre satılmayan simit sayısını bulunuz ?

- A) 25 B) 36
C) 40 D) 44

2-) Ali cebindeki 20 TL sinin % 5 ini harcarsa geriye ne kadar parası kalıyor ?

- A) 2 TL B) 10 TL
C) 14 TL D) 19 TL

3-)



Yukarıdaki çiftlikte bulunan 250 hayvanın % 14 ü koyun ve keçilerden oluşuyor.

Buna göre bu çiftlikteki koyun ve keçi dışında kaç tane hayvan olduğunu bulunuz ?

- A) 140 B) 155
C) 215 D) 230

4-) 7/A sınıfındaki öğrencilerin 8 tanesi sarışın, 5 tanesi gözlüklü, 12 tanesi esmerdir.

Yukarıda verilen bilgilere göre bu sınıftaki öğrencileri % kaç gözlüklü öğrencidir ?

- A) %20 B) %16
C) % 12 D) %8



5-)Yukarıda verilen şekillerin % kaçı dörtgendir ?

- A) %35 B) %40
C) %45 D) %50

6-) Ahmet ve Elif iki arkadaş test çözme yarışı yapıyorlar. Ahmet soruların % 48 ini ve Elif ise soruların % 60 ını çözüyor.

Yukarıdaki duruma göre Elif in çözdüğü sorular Ahmet in çözdüğü soruların % kaçıdır ?

- A) %85 B) %100
C) %110 D) %125

7-)



Yanda verilen 1500 litrelik su deposunun % 85 i doludur. Bu depodan 375 litre daha su boşaltılırsa geriye kalan su deponun % kaçı olur ?

- A) %35 B) %60
C) %75 D) %80

8-) Alış fiyatı 75 TL olan bir elbiseye %4 KDV uygulanıyor. Bu elbisenin KDV li fiyatı kaç TL olur ?

- A) 78 TL B) 80TL
C) 84TL D) 88 TL

9-) Hakan 120 000 TL ye aldığı arabayı bir süre sonra değiştirmek istiyor ve arabasını 126 000 TL ye satıyor.Hakan bu satıştan % kaç kar etmiştir ?

- A) %3 B) %5
C) %6 D) %10

10-) Kısa kenarı 5 cm ve uzun kenarı 15 cm olan bir dikdörtgenin her kısa kenarı % 20 oranında artırılıp uzun kenarı ise % 20 oranında azaltılıyor.

Bilgilere göre yeni oluşan dikdörtgenin alanı nasıl değişir ?

- A) 2 cm^2 artar B) 8 cm^2 artar
C) 3 cm^2 azalır D) 4 cm^2 azalır

11-) % 20 si 25 olan sayı, % 55' i 88 olan sayıdan kaç eksiktir ?

- A) 20 B) 35
C) 42 D) 50

12-) Bir mağazada ürünler peşin ve taksitli olarak iki seçenek şeklinde satılmaktadır. Taksitli satış peşin satıştan %12 daha pahalıdır. Ayşe peşin fiyatı 200 TL olan ürünü 4 taksitli alırsa her taksiti kaç TL olarak öder ?

- A) 48 B) 52
C) 56 D) 60

13-) Bir ürünün % 12 indirimli fiyatı hesaplamak için ürünün fiyatını kaç ile çarpmak gerekir ?

- A) 0,88 B) 0,72
C) 0,12 D) 0,12

14-) 350 sayısının % 50 si ,%70 inden kaç eksiktir ?

- A) 45 B) 55
C) 60 D) 70

15-) 160 liraya satılan bir bot ,kış sezonu bitimi nedeniyle 120 liraya satılırsa indirim miktarı % kaç olur ?

- A) %15 B) % 20
C) %25 D) % 30

16-) 140cm boyundaki Rüstem' in gölgesi boyundan % 10 daha uzundur.

Buna göre Rüstem' in boyu ile gölgesinin toplam uzunluğu kaç cm dir ?

- A) 185 cm B) 192 cm
C) 254 cm D) 294 cm

17-) K şehri ile L şehri arasındaki 600 km' lik yolu saatte 100 km/sa hızla giden bir otomobil 1 saat gittikten sonra mola veriyor. Moladan sonra saatteki hızını %25 attıran araba L şehrine vardığında toplam kaç saat yol gitmiş olur ?

- A) 7 saat B) 6 saat
C) 5 saat D) 4 saat

18-) Bir komisyoncu % 4 komisyonla sattığı daireden 9200 lira komisyon alıyor. Bu dairenin satış fiyatını bulunuz ?

- A) 200 000 B) 230 000
C) 255 000 D) 300 000

19-) Bir mağaza bir çift eldiveni 5 TL den alıyor. % 20 karla satarsa 150 çift eldivenden ne kadar kar yapar ?

- A) 100 B) 150
C) 165 D) 200

20-) Bir öğle yemeğinde yemekhanede yemek yiyenlerin % 60 ı bayan geri kalanı ise erkektir. Erkeklerin % 30 u 12 kişi ise yemekhanedeki toplam kişi sayısı kaçtır ?

- A) 100 B) 130
C) 160 D) 180



7. SINIFLAR FEN BİLİMLERİ

KAZANIM DEĞERLENDİRME TESTİ

TEST 1



1-Ali yeşil elmayı yemeden önce kırmızı ışık altında ve beyaz ışık altında gözlemliyor .Ali elmayı sırası ile hangi renkte görür?

- A) Yeşil -siyah
- B) Kırmızı-yeşil
- C) Siyah-yeşil
- D) Kırmızı-beyaz

2- Renk çarkı ile beyaz ışığın ortaya çıktığını aynı zamanda Güneş ışığını cam prizmadan geçirerek ışığın renklere ayrıldığını gözlemleyen bilim insanı aşağıdakilerden hangisidir?

- A) Galileo
- B) Newton
- C) Ali Kuşçu
- D) Rudolf Virchow

3-Aşağıda verilenlerden hangisi düz aynanın özelliklerinden değildir?

- A) Görüntü düzdür.
- B) Görüntü simetriktir.
- C) Görüntü ile cismin aynaya olan uzaklığı aynıdır.
- D) Görüntü cismin boyundan küçüktür.

4-Aşağıda verilenlerden hangisi çukur aynanın kullanım alanlarından biridir?

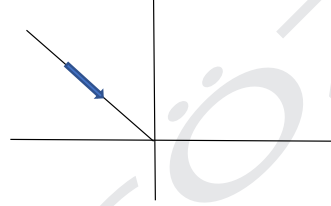
- A) Arabanın dikiz aynasında
- B) Arabanın yan aynalarında
- C) Arabanın farlarında
- D) Periskopta

5- " SER " kelimesinin düz aynadaki görünümü nasıl olur?

SER
|
Düz Ayna

- A) SER
- B) RES
- C) RE2
- D) RE3

6-



Yukarıda verilen ışının gelme açısı 30° 'dir. Bu ışın daha yoğun bir ortama geçeceğine göre kırılma açısı aşağıdakilerden hangisi gibi olabilir?

- A) 25
- B) 35
- C) 40
- D) 45

7- X ortamının yoğunluğu 1 g/cm^3

Y ortamının yoğunluğu $1,8 \text{ g/cm}^3$

Z ortamının yoğunluğu $1,4 \text{ g/cm}^3$

Yukarıda verilenlere göre ışık hızının ortamlara göre hızları büyükten küçüğe nasıl olur?

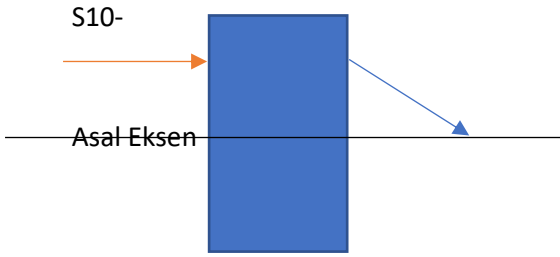
- A) X-Y-Z
- B) X-Z-Y
- C) Y-Z-X
- D) Z-X-Y

8- Aşağıda verilenlerden hangisi kalın kenarlı merceklerin kullanım alanlarından biridir?

- A) Hipermetrop göz kusurunda
- B) Teleskoplarda
- C) Miyop göz kusurunda
- D) Kuyumcularda

9- Aşağıda verilenlerden hangisi ince ve kalın kenarlı merceklerin ortak özelliğidir?

- A) İkisi de ışığı toplayarak kırar
- B) İkisi de ışığı dağıtarak kırar
- C) İkisinin de kırılan ışının uzantıları odak noktasında toplanır.
- D) İkisi de göz kusurları tedavisinde kullanılır.



Mavi kutunun içerisine yerleştirilen merceğin şekildeki görünümüne bakılarak :

I-İçerisinde kalın kenarlı mercek vardır.

II- İçerisinde ince kenarlı mercek vardır.

III-İçerisindeki mercek Fotoğraf makinelerinde kullanılabilir.

İfadelerinden hangisi veya hangileri doğrudur?

- A) I ve II
- B) I ve III
- C) II ve III
- D) Yalnız I

11-


VAR

Düz Ayna

Yukarıda verilen kelimenin görüntüsü nasıl olur?

- A) ЯAV
- B) ЯAA
- C) VAY
- D) VAR

12-



Yukarıda verilen cisimlere mavi ışık altında bakılır ise sırasıyla nasıl görünürler?

- A) Mavi -Siyah
- B) Mavi -Beyaz
- C) Siyah -Siyah
- D) Mavi -Mavi

13- Beyaz şapka

Kırmızı şapka

Siyah şapka

Yeşil şapka


Verilen şapkaların ilk sıcaklıkları aynıdır ve aynı anda Güneş'te eşit süre bekletiliyor ve son sıcaklık hangi şapkada daha fazla olur?

- A) Beyaz şapka
- B) Siyah şapka
- C) Yeşil şapka
- D) Kırmızı şapka

14-Aşağıda verilenden hangisi çukur aynanın kullanım alanlarından biridir?

- A) Kavşaklarda
- B) Araç altı kontrollerde
- C) Dikiz aynasında
- D) Dişçilerde

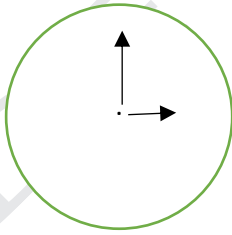
15-



Yeşil bir cisme sarı ışık altında bakılır ise cisim nasıl görünür?

- A) Siyah
- B) Sarı
- C) Yeşil
- D) Beyaz

16-



Düz Ayna

Şekilde verilen saate düz aynadan balınca saat kaç gösterir?

- A) 15:00
- B) 21:00
- C) 12:00
- D) 21:15

17-Aşağıda verilenlerden hangisi Çukur aynanın özelliklerinden değildir?

- A) Görüntü düz olabilir.
- B) Göründü ters olabilir.
- C) Görüntü cisimden daima küçüktür.
- D) Görüntü cisim ile aynı boyda olabilir.

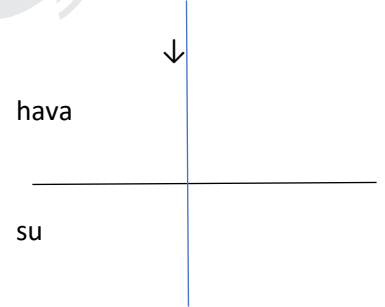
18-Aşağıda verilen ortamlarda hangisinde ışık hızı daha fazladır?

- A) Boşlukta
- B) Havada
- C) Suda
- D) Camda

19- Bir ışık ışını sudan cama geçiş yaparken kırılan ışın hakkında hangi yorumu yapabiliriz? (Camın yoğunluğu > suyun yoğunluğu)

- A) Işın normalden uzaklaşarak kırılır.
- B) Işının hızı artar.
- C) Işının hızı değişmez.
- D) Işın normale yaklaşarak kırılır.

20-



Şekilde verilen ışın dik geldiğine göre ortam değiştiren ışın hakkında ne söylenebilir?

- A) Hızı aynı kalır.
- B) Hızı değişir.
- C) Işın normalden uzaklaşarak kırılır.
- D) Işın normale yaklaşarak kırılır.



7. SINIFLAR FEN BİLİMLERİ

KAZANIM DEĞERLENDİRME TESTİ TEST 2



1. Aşağıda verilen ayna çeşitlerinden hangisi çukur ayna özelliği taşımaz?

- A)Makyaj aynası B)Mikroskop
C)Araba dikiz aynası D)Dişçi aynası

2. Aşağıda verilen ayna örneklerinde hangisi bir tümsek ayna çeşididir?

- A)Berber aynası B)Periskop
C)Mikroskop D)Kavşak aynası

3. Aşağıda verilen görüntü özelliklerinden hangisi düz aynaya aittir?

- A)Görüntü cisimden küçük olur.
B)Görüntü cisimle aynı boyda ve küçük olur.
C)Görüntü cisimden düz ve büyük olur.
D)Görüntü cisimden küçük ve ters olur.

4. Elindeki bir oyuncakçı çeşidini bilmediği bir aynaya tutan öğrenci oyuncakçı olduğundan küçük ve ters bir şekilde görüyorsa bu ayna türü aşağıdakilerden hangisidir?

- A)Düz ayna B)Çukur ayna
C)Tümsek ayna D)Eğik ayna

5. Aşağıdakilerden hangisi ışığın kırılması olayına ait bir örnek değildir?

- A)Gökkuşağının oluşması
B)Su bulunan bardaktaki kalemin görüntüsü
C)Çölde serap görme olayı
D)Periskop kullanarak gözlem yapma

6. 1. Güvenlik kamerası
2. Periskop
3. Araba dikiz aynası
4. Dişçi aynası

Yukarıda verilen ayna çeşitlerinden hangileri düz aynaya aittir?

- A)Yalnız 1 B)1 ve 2
C)2 ve 3 D)3 ve 4

7. BİLİM kelimesinin düz aynada oluşan görüntüsü aşağıdakilerden hangisinde doğru verilmiştir?

- A) BİLİM | MİJİE
B) BİLİM | MİLİB
C) BİLİM | BİLİM
D) BİLİM | EİİLİM

8. Aşağıda verilen örneklerden hangisi kalın kenarlı merceğin kullanım alanlarından değildir?

- A)Dış kapı dürbünü B)Projeksiyon cihazı
C)El feneri D)Deniz feneri

9. Merceklerde kırılan ışığın toplandığı yere ne ad verilir?

- A)Optik merkez B)Asal eksen
C)Odak noktası D)Odak uzaklığı

10. Boyu 60 cm olan bir cisim çukur ayna önüne konduğunda düz olan görüntünün boyu hangisi olamaz?

- A) 60 B) 70 C) 80 D) 90

11.

1. Düz ayna 2. Çukur ayna 3. Tümsek ayna

Yukarıdaki aynaların hangilerinde cismin görüntüsü küçük olabilir?

- A)Yalnız 1 B)Yalnız 2
C)1 ve 2 D)2 ve 3

12. Düz ayna önüne konulan bir cismin aynaya uzaklığı 40 cm ise cisim ile görüntü arasındaki mesafe nedir?

- A) 40 B) 80 C) 120 D) 160

13. Bir kedi ayna önüne geçtiğinde görüntüsü daha büyük oluyor. Buna göre bu ayna türü ile ilgili;

- I. Çukur ayna özelliği taşır.
- II. Bu ayna türü dikiz aynalarında kullanılır.
- III. Kedi ile ayna arasındaki mesafeye göre görüntüsü değişebilir.

İfadelerinden hangileri doğrudur?

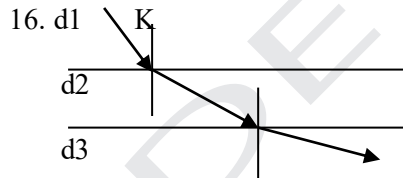
- A) Yalnız I
- B) I ve II
- C) I ve III
- D) I, II ve III

14. X ortamından Y ortamına geçerken yüzey ile gelen ışın arasındaki açı 30° olduğuna göre kırılma açısı kaç derecedir?

- A) 30
- B) 60
- C) 15
- D) 40

15. Aşağıda verilen araçlardan hangisinde bulunan ayna türü diğerlerinden farklıdır?

- A) Mikroskop
- B) Teleskop
- C) Periskop
- D) Dişçi aynası



Bir K ışınının farklı ortamlarda kırılarak izlediği yollar verilmiştir. Buna göre bu ortamların yoğunluklarının sıralaması nasıldır?

- A) $d1 > d2 > d3$
- B) $d3 > d2 > d1$
- C) $d1 > d3 > d2$
- D) $d3 > d1 > d2$

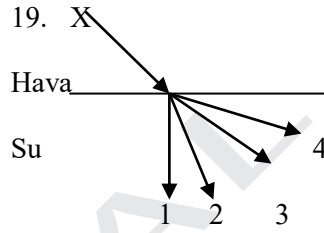
17. Bir cismin çukur aynadaki görüntüsü hangisi gibi olamaz?

- A) Düz ve büyük
- B) Düz ve küçük
- C) Ters ve büyük
- D) Ters ve küçük

- 18. 1. Büyüteç
- 2. Makyaj aynası
- 3. Kapı dürbünü
- 4. Mikroskop

Yukarıda verilen örneklerden hangilerinin ışığı toplayıcı özelliği vardır?

- A) 1 ve 3
- B) 2 ve 4
- C) 1, 2 ve 4
- D) 1, 3 ve 4



Yukarıda hava ortamından su ortamına geçen X ışınının kırılması gösterilmiştir. $d_{su} > d_{hava}$ olduğuna göre X ışını verilen yollardan hangisi yönünde kırılmaya uğrar?

- A) 1
- B) 2
- C) 3
- D) 4

20.

Ayna	Cismin boyu	Görüntünün boyu
X	10	10
Y	20	10
Z	20	25
T	10	30

Yukarıda verilen tabloya göre hangi ayna düz aynadır?

- A) X
- B) Y
- C) Z
- D) T



7. SINIFLAR FEN BİLİMLERİ

KAZANIM DEĞERLENDİRME TESTİ TEST 3



1. Geniş açılı görüntü elde etmek için kavşaklarda hangi ayna türü kullanılmaktadır?

- A) Çukur ayna B) Düz ayna
C) Tümssek ayna D) Yansıtıcı ayna

2. Ayrıntılı görmeyi gerektiren teleskoaplarda ve mikroskoaplarda hangi tür ayna kullanılmaktadır?

- A) Çukur ayna B) Tümssek ayna
C) Düz ayna D) Yamuk ayna

3. Düz aynanın görüntü özellikleri bakımından aşağıda verilenlerden hangisi yanlıştır?

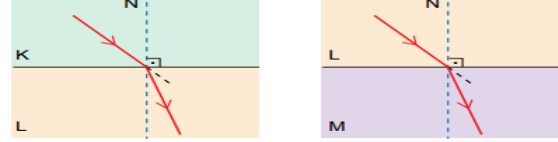
- A) Cisim aynaya göre simetrik.
B) Cismin aynaya uzaklığı görüntünün aynaya uzaklığına eşittir.
C) Cismin boyu görüntünün boyuna eşittir.
D) Cisim aynadan uzaklaştıkça görüntü aynaya yaklaşır.

4. I. Düz ayna – Periskop
II. Tümssek ayna – Güvenlik aynası
III. Çukur ayna – Dişçi aynası

Yukarıdakilerden hangilerinde aynalar ve kullanım alanları doğru eşleştirilmiştir?

- A) I ve II B) I ve III
C) II ve III D) I, II ve III

5. Şekilde bir ışının ortam değiştirirken izlediği yollar verilmiştir.



Bu ışınların ortamdaki yayılma hızları VK, VL, VM olduğuna göre aşağıdakilerden hangisi doğrudur?

- A) $VK > VL > VM$
B) $VL > VM > VK$
C) $VK > VM > VL$
D) $VK = VM < VL$

6. Işığın kırılma özellikleri ile ilgili iki farklı ortam arasında oluşan dik çizildiği varsayılan doğruya ne denir?

- A) Gelen ışın B) Normal
C) Asal eksen D) Kırılan ışın

7. Çukur ve tümssek aynalar ile ilgili aşağıda verilenlerden hangisi yanlıştır?

- A) Bir metal kaşığın iç yüzeyi çukur ayna örneğidir.
B) Tümssek aynada görüntü düz ve her zaman cisme göre küçüktür.
C) Bir metal kaşığın dış yüzeyi tümssek ayna örneğidir.
D) Çukur ve tümssek aynalara genel olarak dairesel aynalar adı verilir.

8. Mercekler ile ilgili aşağıda verilenlerden hangisi yanlıştır?

- A) İnce ve kalın kenarlı mercekler aynı özelliğe sahiptir.
B) Mikroskopta yer alırlar.
C) Günlük yaşamda kullanılır.
D) Ateş yakılmasında kullanılabilirler.

9. Aşağıdakilerden hangisi ışığın kırılması şartlarından biri değildir?

A) Işık, saydam bir ortamdan başka bir saydam ortama geçmelidir.

B) Işığın geçtiği ortamların yoğunlukları birbirinden farklı olmalıdır.

C) Parlak yüzeyli cisimlerde ışığın kırılarak yön değiştirdiği gözlenir.

D) Işık bir ortamdan diğer ortam yüzeyine dik olmayan bir açı ile gelmelidir.

10. Ahmet: Daha geniş bir alanı görebilmek istiyorum.

İlker : Işık ışınlarını bir noktada toplamak istiyorum.

Sinem : Görüntünün boyunun daima cismin boyuna eşit olmasını istiyorum.

Ahmet, İlker ve Sinem'in kullanmaları gereken ayna türleri aşağıdakilerden hangileridir?

A) Düz – Çukur – Tümsek

B) Tümsek – Düz – Çukur

C) Çukur – Düz – Tümsek

D) Tümsek – Çukur – Düz



12.

Yukarıda verilenlerden hangileri ince kenarlı mercekler?

A) 1 ve 2

B) 1 ve 3

C) 2 ve 4

D) 3 ve 4

13. -K ortamından L ortamına gönderilen ışık ışını normale yaklaşarak kırılır.

-M ortamından K ortamına gönderilen ışık ışını normalden uzaklaşarak kırılır.

Buna göre K, L ve M ortamlarının yoğunlukları arasındaki ilişki hangi seçeneklerdeki gibi olabilir?

A) $K > M > L$

B) $L > K > M$

C) $L > M > K$

D) $M > K > L$

14. I. Görüntü cismin aynaya göre simetriğidir.

II. Görüntünün boyu cismin boyuna eşittir.

III. Görüntünün aynaya olan uzaklığı cismin aynaya olan uzaklığına eşittir.

Düz ayna ile ilgili yukarıdakilerden hangileri söylenebilir?

A) I ve II

B) I ve III

C) II ve III

D) I, II ve III

15. Aşağıdakilerden hangisi kalın kenarlı merceklerle ilgili doğru bir ifade değildir?

A) Görüntü düz ve küçüktür.

B) Yakınsak mercek olarak da adlandırılır.

C) Uç kısımları ortasına göre kalındır.

D) Işığı dağıtarak kırar.

16. I. Az yoğun ortamdan çok yoğun ortama geçen ışığın hızı yavaşlar.

II. Normalden uzaklaşarak kırılan ışığın hızı artar.

III. Yüzeye dik gelen ışın kırılmadan yoluna devam eder.

Işığın kırılması ile ilgili ifadelerinden hangileri doğrudur?

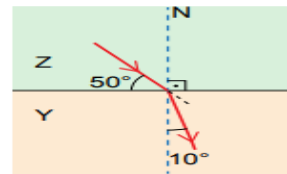
A) Yalnız I

B) I ve III

C) II ve III

D) I, II ve III

17.



Z saydam ortamından Y saydam ortamına geçen bir ışın şeklindeki yolu izliyor.

Buna göre aşağıdakilerden hangisi yanlıştır?

A) Kırılma açısı 10° dir.

B) Işık Z ortamında daha süratli olur.

C) Gelme açısı 50° dir.

D) Y ortamının kırıcılığı daha fazladır.

18.Kalın kenarlı merceklerde oluşan görüntü özellikleri hangi seçenekte doğru verilmiştir?

- A)Düz, cisimden küçük ve sanal
- B)Düz, cisimden küçük ve gerçek
- C)Düz, cisimden büyük ve sanal
- D)Ters, cisimden büyük ve gerçek

19.Aşağıda verilen araçların hangisinde mercekler kullanılır?

- A)Dümbün B)Teleskop
- C)Mikroskop D)Hepsi

39.Işığın kırılması ile ilgili verilen bilgilerden hangisi yanlıştır?

- A)Çok yoğun ortamdan az yoğun ortama geçerken normalden uzaklaşır.
- B)Az yoğun ortamdan çok yoğun ortama geçerken hızı azalır.
- C)Işık ışınları normale yaklaşırsa hızı artar.
- D)Gelen ışın, kırılan ışın ve normal aynı düzlemde dir.

20.1.Dişçi aynası -> Çukur ayna

2.Makyaj aynası -> Düz ayna

3.Mağaza güvenlik aynası -> Tümsek ayna

4. El feneri -> Çukur ayna

Yukarıda verilen örnek ve ayna çeşitlerinden hangisinde hata yapılmıştır?

- A) 1 B) 2 C) 3 D) 4



7. SINIFLAR SOSYAL BİLİMLER

KAZANIM DEĞERLENDİRME TESTİ TEST 1



1. - Fabrikaların sayısının artması

-İşçi sınıfının ortaya çıkması

-Yeni teknolojik ürünlerin bulunması

-Ham maddelere duyulan ihtiyacın artması

Yukarıdaki gelişmeler, aşağıdakilerden hangisinin sonucunda gerçekleşmiştir?

A)Reform hareketlerinin

B)Aydınlanma çağıının

C)Matbaanın icat edilmesinin

D) Sanayi İnkılabının

2. Cumhuriyetin ilânından sonra ülkemizde birçok kurum ve kuruluş tarıma destek vermiştir.

Aşağıdaki kurumlardan hangisinin böyle bir görevi yoktur?

A)Tarım Kredi Kooperatifleri

B) T.C. Ziraat Bankası

C) Çocuk Esirgeme Kurumu

D)Tarım Satış Kooperatifleri

3-Osmanlı Devletinde hastane, medrese, cami gibi çeşitli yardım kuruluşlarının ihtiyaçlarını karşılamak için tahsis edilen, gönüllü kişilerin bağışlamış olduğu araziler kişilere ait değildi ve devlet vakıf arazilerinden vergi almazdı.

Verilen bilgilere göre Osmanlı Devletindeki vakıf arazileriyle ilgili hangisi söylenemez?

A) Devlete gelir kazandırmak amacıyla kullanılmışlardır.

B) Osmanlı halkına sosyal destek amacıyla kullanılmışlardır.

C) Hayırsever insanlar tarafından bağışlanmış topraklardır.

D) Devlet desteği ile güçlendirilmeye çalışılmışlardır

4. Ahilik teşkilatı bulunduğu yerde mesleki eğitim vermek, pazarları kontrol etmek, mal ve ürünlerin kalitesini ve fiyatlarını belirlemek, savaş sırasında orduya yardım etmek gibi görevler üstlenmiştir.

Yukarıda verilen bilgilerden hareketle Ahilik teşkilatının en önemli faaliyet alanı hangisidir?

A) Sosyal B) Siyasi C)Askeri D) Mali

5. . Meslek seçimi bireyin hayatında çok önemli bir yere sahiptir. Bu süreçte en uygun olan mesleği seçebilmek için kendimize bazı sorular sormamız gerekir.

Aşağıdaki sorulardan hangisi doğru mesleği seçmemize yardımcı olamaz?

A) Hangi mesleği yapmaktan mutluluk duyarım?

B) Kişiliğime en uygun meslek hangisidir?

C) Ailem ve çevremın istedikleri mesleği seçmeli miyim?

D) İlgi ve yeteneklerime hangi meslek en uygundur?

6. Sivil toplum alanında etkinlik gösteren kurumlara sivil toplum kuruluşları denir.

Buna göre aşağıdakilerden hangisi sivil toplum kuruluşlarının amacı olamaz?

A) Siyasi partilerin faaliyetlerine destek olmak

B) Dergi, radyo, kitap, televizyon gibi araçlarla vatandaşları bilinçlendirmek

C) Kamuoyu oluşturma yoluyla bireylerin taleplerinin dikkate alınmasını sağlamak

D) Toplumsal sorunlar için çözüm üretmek

7. Tımar, devlete ait arazinin, savaşlarda yararlılığı görülen, kale yapım ve tamirinde bulunan, devlete hizmet eden askerlere ve diğer hizmetlerde bulunan kişilere verilmesidir.

Bu sistemde toprağın işlenerek vergilendirilmesi esas alınmıştır.

Buna göre aşağıdakilerden hangisi tımar sisteminin amaçlarından biri değildir?

- A) Hazineye yük olmadan asker yetiştirmek
- B) Üretimde sürekliliği sağlamak
- C) Devletin yönetim şeklini değiştirmek
- D) Toprağın boş kalmasını önlemek

8.Aşağıdaki vakıf kuruluşlarından hangisinin gösterdiği faaliyet alanı yanlış eşleştirilmiştir?

<u>Kuruluş</u>	<u>Faaliyet Alanı</u>
A) Darüşşifa	Sağlık
B) Aşevi	Mali
C) Medrese	Eğitim
D) Cami	Dini

9. • Sayı ve sembollerle akıl yürütme gücü
- Mantık yürütme ve tasarım yeteneği
- Bir işi öğelerine ayırıp işlem basamaklarını belirleme becerisi

Verilen özelliklere sahip bir kişinin aşağıdaki mesleklerden hangisini seçmesi daha uygundur?

- A) Türkçe Öğretmenliği
- B) Makine Mühendisliği
- C) Psikolog
- D) Avukat

10. Tema, Yeşilay, Kızılay, Lösev gibi kuruluşlar aşağıdakilerden hangisine örnek olarak verilebilir?

- A) Sivil Toplum Kuruluşları
- B) Resmi kurumlar
- C) Sendikalar
- D) Eğitim Kurumları

11. Aşağıdakilerden hangi e-ticaret ile ilgili yanlış bir bilgidir?

- A) Normal alışverişe göre müşterinin zaman kaybını azaltır.
- B) Yüzlerce müşteri beklemeksizin aynı anda alışveriş ve ödeme yapılabilir.
- C) E-ticaret kargo, bilgisayar ve internet giderlerinden dolayı daha pahalıdır.
- D) Firmalar ulaşılabildiklerinin çok üzerinde müşteri ve ciroya ulaşabilirler.

12.Aşağıdakilerden hangisi meslek seçiminde dikkat edilmesi gereken unsurlardan biri değildir?

- A) Bireyin yetenekleri belirlenmelidir.
- B) Kişilik özellikleri ortaya konmalıdır.
- C) Çok para getiren meslekler incelenmelidir.
- D) İlgi duyduğu meslekler incelenmelidir

13. Osmanlı Devleti zamanında da herkes her mesleği yapamazdı. Bir mesleği yapabilmek için onun eğitimini almak gerekirdi. Bu eğitimde kolay değildi. Çıraklık, kalfalık ve ustalık aşamalarını başarıyla geçen insanlar mesleklerini yapmaya hak kazanırlardı.

Parçada bahsedilen meslek edinmeyi sağlayan kurum aşağıdakilerden hangisidir?

- A) Vakıf Teşkilatı
- B) Lonca teşkilatı
- C) Asker Teşkilatı
- D) Enderun Teşkilatı

14. Vakıflar sayesinde Osmanlı ülkesinde; eğitim, sağlık, yol, cami, kervansaray, köprü, aşevi gibi toplumsal hizmetler gerçekleştirilmiştir.

Buna göre, aşağıdakilerden hangisi vakıfların görevlerinden biri değildir?

- A) Ülkeyi bayındır hale getirmek
- B) Ticareti canlandırmak
- C) Ülkenin siyasi politikasına yön vermek
- D) Toplumsal yardımlaşmayı sağlamak

15.Osmanlı Devleti’nde usta-çırak ilişkisine dayalı olarak uygulamalı meslek elemanı yetiştiren kurumlara ne denir?

- A) Ahi Teşkilatı B) Aşevleri
C) Enderun D) İmarethane

16.Osmanlı Devleti’nde Vakıf topraklarından vergi alınmamasının temel nedeni aşağıdakilerden hangisidir?

- A)Devletin gelirlerinin yeterli olması
B)Vakıf arazilerinin hayır işleri için kullanılması
C)Vakıf topraklarının az olması
D)Vakıf topraklarının Müslümanlar tarafından kullanılması

17. Avrupa’da XVIII. ve XIX. yüzyıllarda yeni buluşların üretime olan etkisi ve buhar gücüyle çalışan makineler makineleşmiş endüstriyi ortaya çıkarmıştır.

Buna göre sanayi inkılabı sonucunda;

- I. Yaşam standartları ve kalitesi yükselmiştir.
II. Hammadde ihtiyacı artmıştır.
III. Fabrikalarda çalışacak işçiye ihtiyaç duyulmuştur.

gibi yargılardan hangilerine ulaşılabilir?

- A) I ve II. B) II ve III.
C) I ve III. D) I, II ve III.

18. Toprağı ekip biçerek değerlendirmiş ve bu sayede üretimi artırmıştır. Böylece ihtiyaç fazlası üretim ortaya çıkmıştır.

İhtiyaç fazlası üretim yapılması aşağıdaki ekonomik faaliyetlerden hangisinin gelişmesine neden olmuştur?

- A) Ticaret B) Tarım
C) Hayvancılık D) Madencilik

19.Aşağıdakilerden hangisi Sanayi İnkılabının sonuçlarından biri değildir?

- A)Uluslararası ticaretin gelişmesi
B)Sömürgeciliğin artması
C)Mutlak krallıkların kurulması
D)Büyük fabrikaların kurulması

20. I- Mesleki eğitimin verildiği teşkilattır.

II- Devşirme kökenlilerin yetiştirildiği saray okuludur,

III- Dini ve pozitif ilimlerin okutulduğu, Osmanlı’nın temel eğitim kurumlarıdır.

Verilen bilgiler, aşağıdakilerden hangisinde doğru sıra ile verilmiştir?

- | <u>I</u> | <u>II</u> | <u>III</u> |
|------------------|----------------|------------|
| A)Sıbyan mektebi | Enderun | Medrese |
| B) Ahilik | Enderun | Medrese |
| C) Ahilik | Medrese | Enderun |
| D) Enderun | Sıbyan mektebi | Ahilik |



7. SINIFLAR SOSYAL BİLİMLER

KAZANIM DEĞERLENDİRME TESTİ

TEST 2



1. Osmanlı Devleti döneminde toplumsal dayanışma ve yardımlaşmaya katkı sağlamak amacıyla çalışmalar yürüten bir yardım kuruluşu kurulmuştur.

Aşağıdakilerden hangisi bu kurumlardan biridir?

- A) Vakıflar B) Medreseler
C) Tımar Sistemi D) Enderun Mektebi

2. "Friglerde öküz kesmenin ve saban kırmanın cezası ölümdür. Ayrıca ekili araziye zarar vermenin cezası da ağırdır."

Bu bilgidan yola çıkarak hangi faaliyete önem verildiği sonucunu çıkarabiliriz?

- A) Ulaşım B) Tarım
C) Sanayi D) Kültür

3. Aşağıdakilerden hangisi Osmanlıda sistemli bir zanaat teşkilatı olan Ahi teşkilatının bölümlerinden **değildir**?

- A-Zeamet B-Çıraklık
C-Kalfalık D-Ustalık

4. Osmanlı Devleti'nde uygulanan Selçuklulardaki İktâ uygulamasının devamı olan toprak sisteminin adı nedir?

- A) Ahi Teşkilatı B) Tımar
C) Enderun D) İmarethane

5. "Hizmet ve maaş karşılığında komutan ve devlet adamlarına verilen ve tarım yapılan topraklara denir. Toprak sahipleri, askerin ihtiyacını karşılar, savaş zamanlarında askerlerle orduya katılırdı. Vergi toplar ve bulunduğu yerin güvenliğini sağlardı." Böylece devlet sahiplerine maaş vermek zorunda kalmaz ve ordunun ihtiyacı olan askeri yetiştirmiş olurdu.

Yukarıda açıklaması yapılan kısımda boş bırakılan yere aşağıdaki tanımlardan hangisi gelmelidir?

- A) Tımar B) Vakıf
C) Devşirme D) Enderun

6. Meslek tercihi yapacak bir kişinin dikkat etmesi gereken hususlar arasında aşağıdakilerden hangisi **yoktur**?

- A) İlgi ve yeteneklerine uygun olmalı.
B) Taşıdığı kişilik özelliklerine uygun olmalı.
C) Ailenin meslek tercihinin göre olmalı.
D) Mesleğin özellikleri bilinmeli

7. Tarihimizde Osmanlı Devletinde özellikle İpek Yolu ve Baharat Yolu ele geçirildiği dönem olmuştur.

Bu iki önemli ticaret yollarının ele geçirilmesi Osmanlı Devleti'ne aşağıdaki katkılardan hangisini sağlamıştır?

- A) Eğitim alanında gelişme sağlanmıştır.
B) Osmanlı donanması güçlenmiştir.
C) Osmanlı ordusu güç kaybetmiştir..
D) Ekonomik gücü artmıştır.

8. Osmanlı Devleti'nde ekonominin temeli olan Tımar sistemiyle tarımdan elde edilen gelirlerle asker beslenir, devlet adamlarının maaşları ödenirdi. Bundan dolayı tarım gelirlerinde bir düşme olduğunda, askeri, ekonomik, idari alanlarda olumsuz etkiler oluşturmaktaydı. Tarımsal üretimin devamlılığını sağlamak için devlet bazı önlemler almak zorunda kalmıştır.

Bu açıklamaya bakılarak aşağıdaki önlemlerden hangisinin alındığı söylenebilir?

- A) Toprağı işleme hakkının halka ait olması.
B) Ürün üzerinden vergi alınması.
C) Üç yıl üst üste ekilmeyen toprağın, sahibinden alınarak başkasına verilmesi
D) Kadıların adaleti sağlaması.

9. Aşağıdakilerden hangisi tarımı destekleyen kuruluşlardan **değildir**?

- A) Türkiye Tarım Kredi Kooperatifleri
B) Devlet Su İşleri (DSİ)
C) Toprak Mahsulleri Ofisi (TMO)
D) TÜİK

10. İngiltere'de ortaya çıkan ve kol gücünden makine gücüne geçişin yaşandığı ve makineli üretime geçilen Sanayi Devrimi sonrasında aşağıdakilerden hangisinin ortaya çıktığı **söylenemez**?

- A) Ham madde gereksinimi azalmıştır.
B) Az zamanda çok ürün elde edilmiştir.
C) Üretim faaliyetleri artmıştır.
D) İnsan gücüne olan gereksinim azalmıştır.

11. Osmanlı Devleti'nde meslek eğitimi veren kurum aşağıdakilerden hangisidir?

- A) Loncalar B) Devşirme sistemi
C) Vakıflar D) Divan-ı Hümayun

12. “Bireylerin yardımlaşma amacıyla sahip oldukları servet veya gelirin bir kısmının gönüllü olarak kamu yararına harcanmasıyla ortaya çıkan hayır kurumuna denir.”

Tanımı verilen kavram aşağıdakilerden hangisidir?

- A) Medreseler.
- B) Vakıflar
- C) Saraylar
- D) Aşevleri

13. Aşağıdakilerden hangisi 19. yüzyılın başlarında ortaya çıkan Sanayi İnkılabının sonuçları arasında değildir?

- A) Ulus devletlerin kurulması.
- B) Hammadde arayışının hızlanması.
- C) Bol ve ucuz ürünlerin ortaya çıkması.
- D) Sömürgecilik yarışının artması.

14. Coğrafi keşiflerden sonra Avrupa’dan keşfedilen yerlere doğru hem gönüllü hem zorunlu göçler yapıldı.

Coğrafi keşiflerin verilen bu sonucu aşağıdaki hangi başlık altında gösterilebilir?

- A) Ekonomik sonuçlar.
- B) Siyasi sonuçlar.
- C) Dini sonuçlar.
- D) Sosyal sonuçlar.

15. İnsanlar yerleşik hayata geçtiğinden günümüze kadar yaşamak için seçtiği yerlerde hayatını daha kolay sürdürebilecek ve kolaylaştıracak bazı özellikler aramıştır.

Aşağıdakilerden hangisi bu özelliklerden değildir?

- A) Verimli topraklar.
- B) Düzlük alanlar.
- C) Su kaynaklarına yakınlık.
- D) Ortalama yükseltisi fazla alanlar.

16. Devletin ihtiyaçları karşılayamadığı durumlarda insanların bir araya gelerek oluşturduğu gönüllü kuruluşlara denir. **Örnek:** Dernekler, Vakıflar, Sendikalar, Birlik (Mesleki Kuruluşlar)’ler ve Kooperatifler

Açıklaması verilen kuruluş aşağıdakilerden hangisidir?

- A) Sivil Toplum Kuruluşu (STK)
- B) TÜİK
- C) Devlet Su İşleri (DSİ)
- D) Ziraat Bankası

17. Sömürgecilik hız kazandı

İşçi sınıfı denilen yeni bir kavram ortaya çıktı.
Ham madde ve pazar ihtiyacı arttı.
El tezgahları kapandı.

Yukarı verilenler öncüller aşağıdakilerden hangisi sonucu gerçekleştirmiştir?

- A) Reform
- B) Coğrafi Keşifler
- C) Sanayi inkılâbı
- D) Rönesans

18. Türkiye’de özellikle kurak ve yarı kurak alanlarda yaşanan bitki örtüsünden yoksun toprağın süpürülmesi sonucu meydana gelen erozyonla mücadele amaçlı kurulan kuruluş hangisidir?

- A) LÖSEV
- B) TEMA
- C) KIZILAY
- D) YEŞİLAY

19. *Doğal afetlerde zarar görenlere çadır, battaniye, giysi ve yiyecek yardımı yapar.

*Yoksul, kimsesiz, düşkünler için aşevleri açar.

*Kan bankasıyla kan bağıışı toplar, ihtiyacı olanlara gönderir.

*Savaşta geçici sağlık merkezleri kurar.

Yukarıda çalışma alanları verilen kuruluş hangisidir?

- A) TEMA
- B) YEŞİLAY
- C) MEHMETÇİK VAKFI
- D) KIZILAY

20. *Eğitime katkıda bulunur.

*İyi, eğitilmiş insan yetiştirir.

*Teknolojiyi eğitimde kullanır.

*Eğitim parkı, gezici öğrenim birimi oluşturarak 7-16 yaş grubu çocukların eğitimini sağlar.

Bu bilgilerden yola çıkarak hangi kuruluştan bahsedildiği söylenebilir?

- A) TÜRKİYE EĞİTİM GÖNÜLLÜLERİ VAKFI (TEGV)
- B) LÖSEV
- C) MEHMETÇİK VAKFI
- D) KIZILAY



7. SINIFLAR SOSYAL BİLİMLER

KAZANIM DEĞERLENDİRME TESTİ

TEST 3



1 . Toprak-insan ilişkisi insanlık tarihi kadar eskidir. Geçmişte olduğu gibi günümüzde de toprak önemini korumaktadır. Bunun en önemli nedeni aşağıdakilerden hangisidir?

- A) Ülkeler arasında yıllarca savaş sebebi olması
- B) Tarım ve tarıma dayalı üretim için önemli olması
- C) Eski dönemlerde padişahlara ait olması
- D) Yerleşim yerlerine uygun alanlar olması

2. Bu sistemde senyör her türlü yargı yetkisine de sahipti. Bu sistem aynı zamanda hukuki bir sistem olduğundan serfin senyör topraklarında çalışma mecburiyeti vardı. Çalışma şartları ve süreleri senyörce tayin edilirdi. Serfin topraktan ayrılması hâlinde senyörün onu bulup getirme ve tekrar toprakta çalıştırma yetkisi vardı.

Yukarıda açıklaması verilen ve Orta çağ Avrupasında uygulanan sisteme ne ad verilirdi?

- A) Monarşi
- B) Demokrasi
- C) Derebeylik
- D) Cumhuriyet

3. Selçuklu ve Osmanlıda toprak devletin malı halk ise kiracıydı. Devlet belirli Kurallar çerçevesinde toprağı halka işlemesi için verirdi . halk kendisine verilen bu toprakla geçimini sağlar, devlete vergi verir ve bir asker beslerdi.

Selçuklu ve Osmanlıda uygulanan bu toprak yönetim sistemine ne ad verilirdi?

- A) İltizam
- B) Derebeylik
- C) Devşirme
- D) Tımar

4. Aşağıdakilerden hangisi tımar sisteminin faydalarından biri değildir?

- A) Merkezi otorite güçlenmiştir.
- B) Vergiler düzenli olarak toplanmıştır
- C) Halk arasında eşitlik sağlanmıştır.
- D) Toprak sürekli ekip-biçildiği için üretimin devamlılığı sağlanmıştır.

5. Ağıdakilerden hangisi tarımı destekleyen ve Osmanlı döneminde kurulmuş en eski bankalardan biridir?

- A) Ziraat bankası
- B) Halk bank
- C) İş bankası
- D) Eti bank

6. Sanayi inkılabı ile ilgili verilen bilgilerden hangisi yanlıştır?

- A) Önce, İnsan gücüne dayalı üretim yapılıyordu. Sonra, Makine gücüne dayalı seri üretime geçilmiştir.
- B) Önce, Üretim ve tüketim kısıtlıdır. Sonra, Fabrikaların açılmasıyla üretilen ürün miktarı artmıştır.
- C) Önce, çekirdek aileler yaygındır. Sonra, geniş aile yaygınlaşmıştır.
- D) Önce, Uygulanan teknik, tecrübe ve ustalık geleneğine dayanır. Sonra, Bilime ve teknolojiye dayanan teknikler geliştirilmiştir.

7. Sanayi inkılabı ile başlayan üretim teknolojisindeki hızlı değişim sosyal ve ekonomik hayattaki değişimi de beraberinde getirmiştir.

Aşağıdakilerden hangisi bu değişimlerden biri değildir?

- A) Şehirleşme hızlanmıştır.
- B) Çevre sorunları ortaya çıkmış.
- C) Sanayileşmiş ülkelerin refah seviyesi yükselmiş.
- D) Üretimde aksamalar yaşanmıştır.

8. Geçmişten günümüze toplumlar kendi yapıları içinde sosyal yardım, dayanışma ve güvenlik ihtiyaçlarını gidermek amacıyla kurumlar oluşturmuşlardır. Günümüz modern toplumlarında tesis edilen sosyal yardım ve sosyal güvenlik uygulamaları geçmişte İslam toplumlarında tarafından gerçekleştirilmiştir. Boş bırakılan yere hangi kavram getirilmelidir?

- A) Vakıf
- B) Eğitim
- C) Tımar
- D) Devşirme

9. Vakıflar aşağıdaki alanların hangisinde topluma fayda sağlamamışlardır?

- A) Sosyal
- B) Ekonomik
- C) Askeri
- D) Dini

10 . Aşağıdakilerden hangisi vakıfların özelliklerinden biri değildir?

- A) Vakıflar insanlar arasında din, dil, ırk, düşünce farkı gözeterek ihtiyaç sahiplerine yardım götürmüşlerdir.
- B) Devlet görevlilerinin vakıf kurma konusunda öncülük etmeleri de devlet-toplum kaynaşmasını kuvvetlendirmiştir.
- C) Şehir merkezlerinde bir cami etrafında kümelenen medrese, imaret, çeşme, sebil, kütüphane, hastane ve bunun gibi diğer kuruluşlardan oluşan külliye ve bunları yaşatmaya çalışan vakıflar şehirleşmeyi hızlandırmıştır.
- D) Vakıfların faaliyetleri toplumda birlik ve beraberliğe katkı sağlamıştır. Vakıflar sadece insanların değil aynı zamanda hayvanların da beslenmelerini, tedavilerini ve barınmalarını sağlayacak faaliyetlerde bulunmuşlardır.

11. Aşağıdakilerden hangisi sivil toplum kuruluşlarının amaçlarından biri değildir?

- A) Demokratik bir yönetim anlayışının oluşmasında etkili olmak
- B) Doğal afetlerde halka en kısa zamanda ulaşarak gerekli yardımı sağlamak
- C) Toplumsal sorunlar için çözümler üretmek ve bunları uygulamaya koymak
- D) Küresel ısınma gibi tüm dünyayı etkileyen konularda sorunlara duyarsız kalmak

12. Osmanlıda halka mesleki eğitim vermek için oluşturulan kurumun adı nedir?

- A) Taşra teşkilatı
- B) Ahillik teşkilatı
- C) Lonca teşkilatı
- D) Vakıfla

13. Aşağıdakilerden hangisi geleceğin meslekleri içinde sayılmaz?

- A) Sosyal Medya Uzmanlığı
- B) Nalbantlık
- C) Beslenme Uzman
- D) Yapay Zekâ Uzmanı

14. Aşağıdakilerden hangisi geleceğin mesleklerinde başarılı olabilmek için gerekli olan beceriler arasında yer almaz?

- A) Keşifler yapabilme
- B) Yaratıcılık
- C) Eleştirel düşünme
- D) Skolastik düşünce

15. Meslek seçimi konusunda gerçekçi ve doğru karara ulaşabilmek için hangi özelliklere sahip olmamız gerekir?

- A) Değerleri önemsememe
- B) Kendini tanıma
- C) Sürekli kendini övme
- D) Empati kurmama

16. Genel Ağ üzerinden yapılan alışverişediyoruz. Yandaki boşluğa aşağıdaki kavramlardan hangisi gelmelidir?

- A) E ticaret
- B) İnternet
- C) Dijital
- D) Yazılım

17. Asırlarca tımar sistemini uygulayan Osmanlı Devleti, birçok bakımdan kazanç sağlamıştır. Bunların başındave kazançlar gelmektedir. Verilen bilgiyi doğru olarak tamamlamak için boş bırakılan yerlere sırasıyla aşağıdakilerden hangileri getirilmelidir?

- A) ekonomik – askerî
- B) bilimsel - mimari
- C) siyasi – dinî
- D) askerî - dinî

18. Aşağıda yer alan kavramlardan hangi ikisi, Türk devletlerindeki toprak sistemiyle ilgilidir?

- A) Derebeylik – tımar
- B) Tımar - ikta
- C) Lonca – tımar
- D) Feodalite – ikta

19. " Dijital ve ileri teknolojinin üretimin her alanında kullanıldığı bir dönemdeyiz. Günümüzde makinelerin birbirile iletişim kurabildiği, önceden insan gücü ile yapılan birçok işin robotlarla yapıldığı yeni bir teknolojik çağda yaşıyoruz. " Açıklaması verilen kavram aşağıdakilerden hangisidir?

- A) Nano teknoloji
- B) Sanayi inkılabı
- C) Dijital üretim
- D) E ticaret

20. Aşağıdaki mesleklerden hangisi geçmişte de gelecekte de ihtiyaç duyulan mesleklerden biri değildir?

- A) Doktorluk
- B) Çiftçilik
- C) Öğretmenlik
- D) Diyetisyenlik



7. SINIFLAR İNGİLİZCE

KAZANIM DEĞERLENDİRME TESTİ TEST 1



1. What is her expectation for the future? Look at the Picture and choose the correct option.

- A) He wants to be a pilot. C) She wants to be an animal protector.
B) She wants to be a singer. D) She wants to be a nurse.

Hanna: Hello Melisa. How are you?

Melisa: I am good. What about you?

Hanna: Thank you. I want to ask a question to you. What is your dream job?

Melisa: I really like space and one day I think I will be an astronaut.

Hanna: I hope you will.

2. According to the dialogue What is Melisa's dream job? Choose the correct Picture.

A)



B)



C)



D)



- *a good career *country *money
*freedom *cat

3. Above there are the most important things for the future. Choose the odd one.

- A) Cat C) Freedom
B) Money D) Country



4. According to the Picture What does she want to do?

- A) She wants to travel around the world.
B) He wants to be a doctor.
C) She wants to learn English.
D) I want to be a teacher.



5. According to the Picture What does this boy's dream?

- A) He wants to be a lawyer.
B) He wants to travel around the world.
C) She wants to be a musician.
D) He wants to go to France.

6. What will you do in your 20s? Which option can not be answer for this question?

- A) I will be a university student in my 20s.
- B) I will graduate from high school.
- C) I will be a mother.
- D) I will have a car in my 20s.



7. Look at the Picture above and answer this question. What is her dream job?

- A) She wants to be a famous football player.
- B) She wants to be a basketball player.
- C) He wants to be a famous football player.
- D) She wants to be a volleyball player.



8. What does he want to be in the future?

- A) He wants to be a famous football player.
- B) He wants to be a lawyer.
- C) He wants to be an animal protector.
- D) He wants to be a cook in the future

I'm Caroline. I'm 12 years old. I like school. I like all my lessons but I especially achieve great success in mathematics. In the future, I will definitely go to university and study mathematics. I guess I will be successful in my career. I have a dream. One day I will receive a Nobel Prize and the people in my country will be proud of me. Do you think it's a very big dream? Maybe it is, but life is full of surprises



9. Read the text about Caroline. And then choose which question is not answered in this text?

- A) Where does she live?
- B) What is Caroline's dream?
- C) What subject does Caroline like the most?
- D) What will Caroline definitely do in the future?

I will.....when I grow up. I will create a big pany.

10. Fill in the blanks with correct option.

- A) have a happy family
- B) work for nature
- C) buy a car
- D) run my own business



7. SINIFLAR İNGİLİZCE

KAZANIM DEĞERLENDİRME TESTİ TEST 2



1. People believe if
you see a black cat.

- A) It will bring good luck
- B) You will buy a car
- C) It will bring bad luck
- D) Nothing will happen to you

2. Teacher:

.....?

Ömer: I will pass the university
exams and go to college.

- A) Where do you live?
- B) What is your dream for the future?
- C) Why do you like university?
- D) How do you go to college?

3. You are planning to have a
birthday party at the weekend.

And you want to invite your
friends. What do you say to learn
their plans?

- A) Where will you stay?
- B) Who will you go to the party?
- C) Will you eat the cake?
- D) What will you do at the weekend?

4. Mary: What will you do in the
future?

Alex: About my, I
will get married and have two
children.

- A) Education
- B) Family
- C) Job
- D) Social relationships.

5., there will be very
good days in the future.

- A) I can
- B) I don't think so
- C) I believe
- D) I should

6. The students are talking about
predictions about the world.

Sally: The pollution will increase.

Max: Technology will develop and
scientists will find cure for all the
diseases.

Sam: There will be more traffic
jam.

Deniz: There won't be fresh air and
soil.

Ceren: The robots will be the
workers.

When we make the predictions in
groups, whose prediction will be
out?

- A) Deniz
- B) Sally
- C) Sam
- D) Max

7. William is talking about his future plans;

- I will live in Japan.
- I will be a successful dancer.
- I will go to dance school.
- I will not get married.

According to the plans of William, he DOESN'T give predictions about.....

- A) Hobby
- B) Job
- C) Family
- D) Education

8. I believe, you will have a wonderful life in the future. You will

Which of the following is suitable for the sentence?

- A) Lose all your money.
- B) Have a good career.
- C) Be poor.
- D) Have a car accident.

9. Hello, I'm Brad. I have many expectations about future. I have friendly and energetic personality. So, my dream job is bungee jumping trainer. Also, I hope, I will travel around the world. I won't miss even one country.
Brad

Which of the following does complete the sentence above?

- A) Will have a quiet and peaceful life.
- B) Wants to see different countries all over the world.
- C) Will get married, have three children and become a doctor.
- D) is an unfriendly and calm person.

10. It is believed that will bring good luck if you find it.

- A) Black cat
- B) Evil eye bead
- C) Four leaf clover
- D) Fortune teller





7. SINIFLAR İNGİLİZCE

KAZANIM DEĞERLENDİRME TESTİ TEST 3



1. What is your plan for the future? Marry:

.....

- A) I didn't graduate from university.
- B) Yes, I will have certificate of dancing.
- C) I will be a famous actress.
- D) I'm organizing a farewell party tonight.

2. Charlie's dreams;

- Travelling the world
- Going to university
- Living in a small and peaceful city
- Buying a house
- Getting married
- Be a successful scientist

According to the information above,
he does NOT want to;

- A) Have a wife
- B) See different places
- C) Have a good career
- D) Live in a metropol

3. tells you what will happen in the future.

- A) Scientist
- B) Fortune teller
- C) Imagine
- D) Witch



According to the information
above answer the questions of 4-5

4. We hear the question a lot nowadays: 'What will the world be like in the future?' Of course, we cannot give a correct answer to this question. Everyone thinks differently. But I believe, the world will be better than today. Because technology will develop more and scientists will achieve great successes in science. And I think, people will be more aware of environment. So, the environment will be more clean, so does the air. I believe, we will have more beautiful days than today.

Which of the following does
included in the passage?

- A) She/He thinks the future will be worse.
- B) She/He believes pollution will increase in the future.
- C) She/He hopes there will be better days in the future.
- D) She/He thinks the technological developments will decrease.

5. Which of the following question does NOT an answer in the text?

- A) How will the world be like?
- B) How will the air be like in the future?
- C) What will the scientists do in the future?
- D) What will the population of the world in the future?

6. Which of the following, Cindy's predictions about her future, is NOT related to her career?

- A) I will be a professional player.
- B) I will play in NBA league.
- C) I will live in New York.
- D) I will get the best player award.

7. James: I believe, you will buy that expensive car over there.

Linda:

- A) Thank you.
- B) I hope, so
- C) No, I can't.
- D) You're welcome.

8. Sally: Shall we have a picnic this weekend?

Olrıc: I'm afraid, we can't.

Sally: Why?

Olrıc: I

think,.....

- A) It will probably rain at the weekend.
- B) Let's have a picnic.
- C) I will go to university.
- D) Will we have barbecue?

9.

the / Sally / have / not / children / will / future / probably / in

Make a correct sentence with the given words.

- A) Will Sally in the future have children probably not.
- B) Probably Sally will have not children in the future.
- C) Sally probably will not have children in the future.
- D) In the future, will Sally not have probably children.

10. Betty: What do you think about future?

Lucy: I think, people will take pills instead of food.

Betty: I don't think so.

.....

Choose the best option.

- A) They will not eat any food.
- B) People will keep eating food, especially vegetables and fruit.
- C) Pills will be more effective.
- D) It will be very healthy



7. SINIFLAR OKAB

KAZANIM DEĞERLENDİRME TESTİ TEST 1



1. Peygamberimizle ilgili olarak aşağıda verilen bilgilerden hangisi yanlıştır?

- A) Peygamberimiz tüm yaşamını Mekke’de geçirmiştir.
- B) Peygamberimiz Mekke’de dünyaya gelmiştir
- C) Hz. Muhammed 40 yaşında peygamber olmuştur
- D) Peygamberimiz 25 yaşında Hz. Hatice’yle evlenmiştir "

2. Hz Muhammed’in yemesi içmesi gezmesi her türlü sosyal etkinliklere katılması onun hangi yönüyle ilgilidir?

- A) Kulluk yönü
- B) Peygamberlik yönü
- C) Ahlaki yönü
- D) İnsani Yönü "

3. Peygamberimizin insani yönü ilgili olarak aşağıda verilen bilgilerden hangisi yanlıştır?

- A) Sevinçli anları olduğu gibi üzüntülü anları da olmuştur.
- B) Bir anne ve babadan dünyaya gelmiştir
- C) İnsanüstü güçlere sahiptir.
- D) Evlenmiş ve çocuk sahibi olmuştur."

4. Peygamberimizle ilgili aşağıdakilerden hangisi yanlış bir yargıdır?

- A) Peygamberimiz rahmet olarak gönderilmiştir
- B) Peygamberimiz dini, ahlaki ve insani değerleri savunmuştur
- C) Davranışlarıyla merhametin nasıl olması gerektiğini göstermiş
- D) Peygamberimiz sadece Müslümanlar’a merhamet göstermiştir "

5. Aşağıdakilerden hangisi Hz. Muhammed’in peygamberlik yönüyle ilgili değildir?

- A) Kur’an’ı açıklayan sözler söylemesi
- B) Allah’ın buyruklarını insanlara bildirmesi
- C) İnsanları kötülöklere karşı uyarması
- D) Acıkması, susması

6. Hz. Muhammed’in Allah’tan aldığı buyrukları insanlara bildirme görevine ne ad verilir?

- A) Tebliğ
- B) İletme
- C) Bildirim
- D) Anlatım

7. Hz. Muhammed, Bizans İmparatoru Heraklios’a niçin mektup göndermiştir?

- A) Tebrik için
- B) Onları uyarmak ve İslam’a davet etmek için
- C) Savaş ilan etmek için
- D) Kendilerine yardım etmeleri için "

8. İslam dininin temel kaynağı nedir?

- A) Mezhepler
- B) Fıkhi yorumlar
- C) Kur’anı kerim
- D) Halifeler

9. Aşağıdakilerden hangisi Peygamberlerin insanlar içinden seçilmesinin nedenlerinden biri değildir?

- A) İnsanlara dini uygulamalı olarak gösterebilmeleri
- B) İlahi emirleri bizzat uygulayarak diğer insanlara örnek olmaları
- C) Aynı devirde yaşayan insanların peygamberlere rahatlıkla ulaşabilmeleri, merak ettiği şeyleri sorabilmeleri
- D) İnsanlara olağanüstü nitelikte olaylar göstermeleri

10. Hz. Muhammed (sav), peygamberlik görevini yerine getirirken Kuran’ın öğütlerini hem açıklamış hem de bizzat yaşamıştır.

Buna göre Hz. Muhammed (sav)’in peygamberlik görevinin temel amacı olarak aşağıdakilerden hangisi gösterilebilir?

- A) İnsanlar arasında eşitlik sağlamak
- B) Siyasi birlik sağlamak
- C) İnsanların refah düzeyini artırmak
- D) İnsanlara her konuda örnek olmak

11. Peygamberimizle ilgili aşağıdakilerden hangisi doğru bir yargıdır?

- A) Peygamberimiz ahlakı ile insanlara örnek olmuştur
- B) İnanan insanın doğru olması gerektiğini vurgulamıştır
- C) Dinin güzel ahlak olduğunu vurgulayarak insanlara güzel ahlakı tavsiye etmiştir
- D) Hepsi

12. Hz. Muhammed kaç yaşındayken Allah (c.c.) tarafından peygamber seçildi?

- A) 25 B) 35 C) 40 D) 53

13. Aşağıdakilerden hangisi Hz. Muhammed'in peygamberlik yönü ile ilgili değildir?

- A) Alışveriş yapar
- B) İnsanları uyarır
- C) Kur'an-ı Kerim'i açıklar
- D) Allah'tan aldığı emirleri insanlara iletir"

14. İslam Dini'ni eksiksiz öğreten ve yaşayışı ile bize en güzel örnek olan kimdir?

- A) Sahabe
- B) Dört halife
- C) Hz. Muhammed
- D) Allah'ın veli kulları

15. Peygamberimiz (s.a.v) kızlarını evlendirirken onların fikrini almıştır. Bedir ve Hendek savaşlarında arkadaşlarının fikirlerini uygulamıştır.

Bu örnekler onun hangi özelliğini ortaya koymaktadır?

- A) Cesaretli olduğunu
- B) Danışarak iş yaptığını
- C) Güvenilir olduğunu
- D) İnsanlara değer verdiğini"

16. Mekke toplumunda her insanın başaramadığını O başarmıştır. Daha gençlik yıllarında tüm Mekkelilerce dürüst ve güvenilir kabul ediliyordu. O erdemli davranışlara sahip bir insandı. Hatta tüm Mekkeliler dürüst ve güvenilirliğinden dolayı onu güzel bir isimle çağırıyordu.

Peygamberimize verilen o güzel isim aşağıdakilerden hangisidir?

- A) Muhammed Resulullah
- B) Muhammed'ul-Emin
- C) Ebu'l-kasım
- D) Habibullah "

17. ""O (Muhammed), Allah'ın elçisi ve peygamberlerin sonuncusudur.""

Yukarıda verilen ayete göre peygamberimizle ilgili aşağıdakilerden hangisi söylenemez?

- A) Allah'ın emir ve yasaklarını insanlara aktarmıştır.
- B) Peygamberimizin vefatından sonra da vahiy gelmeye devam etmiştir.
- C) Peygamberimizden sonra başka peygamber gönderilmeyecektir.
- D) Hz. Muhammed'le birlikte peygamberlik sona ermiştir."

18. Kur'an-ı Kerim'in namaz kılınmasını emrettiğini gören Müslümanlar peygamberimize nasıl namaz kılacaklarını sorarlar. Peygamber efendimiz de şöyle der: "Ben namazı nasıl kılıyorsam sizde öyle kılın"

Bu hadis Peygamberimizin hangi yönünü açıklamaktadır?

- A) Kur'an'ı açıklayıcı olmasını
- B) Son peygamber olmasını
- C) İnsanlığa rahmet olması
- D) İnsanlık için uyarıcı olması "

19. Kur’anda bir çok ayet Hz. Muhammed (s.a.v.)’den bahseder. Kuran’da yer alan aşağıdaki ayetlerden hangisi peygamberimizin diğer şıklardan farklı bir yönüne işaret etmiştir?

- A) “De ki Bende ancak sizin gibi bir insanım”
- B) “Ben bundan öncede aranızda bir ömür boyu yaşadım. Hiç düşünmüyor musunuz?”
- C) “Ey peygamber biz seni bir müjdeleyici ve bir uyarıcı olarak gönderdik.
- D) “Şöyle dediler; Bu ne biçim Peygamber bizim gibi yemek yiyor, çarşılarda dolaşıyor”

20. “Ey örtünüp bürünen Peygamber! Kalk ve insanları uyar. Sadece rabbini büyük tanı. Elbiseni tertemiz tut kötü şeyleri terk et.” ayetinde Peygamberin temel amaç olarak ne yapması istenilmektedir?

- A) Elbisesini temiz tutması
- B) Uyanması
- C) Örtüsünden çıkması
- D) Sadece Rabbini tanıyarak insanları dine davet etmesi "



7. SINIFLAR DKAB

KAZANIM DEĞERLENDİRME TESTİ

TEST 2



1) Aşağıdaki ayetlerden hangisi peygamberimizin rehber oluşu ile ilgili değildir?

- A) İnsan kendisinin başıboş bırakılacağını mı sanır?
- B) Öğüt ver , doğrusu öğüt insanlara fayda verir.
- C) Ey Peygamber biz seni Allah'a çağıran, aydınlatan bir ışık olarak gönderdik.
- D) Sana da insanlara açıklaman için bu zikir biz indirdik.

2) Peygamberleri öteki insanlardan ayıran en önemli fark hangisidir?

- A) İnsanlara iyiyi öğretmeleri
- B) Allah'tan vahiy almaları
- C) İbadet yapmaları
- D) Güzel ahlak sahibi olmaları

3) Aşağıdakilerden hangisi başlangıçta Mekke'liklerin peygamberimize inanmammasının sebeplerinden birisidir?

- A) Bir peygamberin olağanüstü özelliklere sahip olması, gelecekte haber veren veya meleklerle benzeyen biri olması gerektiğine inanıyorlardı
- B) Bir peygamberin geleceğine inanmıyorlardı
- C) Bir peygamberin Araplardan değil de Türklerden veya Çinlilerden çıkacağına inanıyorlardı
- D) Bir peygamberin kendileri gibi bir insan olması gerektiğine inanıyorlardı

4) "De ki: Ben Allah'ın dilediğinden başka kendime herhangi bir fayda veya zarar verecek güce sahip değilim. Eğer ben gaybı (geleceği) bilseydim elbette daha çok hayır yapmak isterdim ve bana hiçbir fenalık dokunmazdı. Ben sadece inanan bir kavim için bir uyarıcı ve müjdeciyim." (A'raf suresi, 188. ayet)

Yukarıda yer alan ayet-i kerime mealinde Peygamberimiz ile ilgili hangi bilgiye yer verilmemiştir?

- A) Peygamberimiz insanlara ve hayvanlara asla zarar vermezdi
- B) Peygamberimiz Allah'ın dilediğinden başka bir güce sahip değildi
- C) Peygamberimiz geleceği bilmezdi
- D) Peygamberimiz bir uyarıcı ve müjdeciydi

5) Hz. Muhammed (sav.)'in gençlik yıllarında "Erdemliler Topluluğuna" katılması daha çok hangi yönüyle ilgilidir?

- A) Öksüz ve yetim olması
- B) Haksızlıklara karşı mücadeleci olması
- C) Arkadaşlarına çok değer vermesi
- D) Liderlik özelliklerine sahip olması

6) "Ben ruhbanlıkla emrolunmadım; evlenirim, uyurum, uyanık da kalırım. Oruç tuttuğum gibi (ramazan ayı dışında) tutmadığım da olur." (Hadis-i şerif)

Bu hadiste verilen ana mesaj aşağıdakilerden hangisidir?

- A) İslam' da ruhbanlık yoktur.
- B) Hz. Muhammed (sav.) evlilik yapmamıştır.
- C) Hz. Muhammed (sav.), ramazan dışında bazen oruç tutmuştur.
- D) Hz. Muhammed (sav.) de bir insandır.

7) "De ki: Ben peygamberlerin ilki değilim. Bana ve size ne yapılacağını da bilmem. Ben sadece bana vahyedilene uyarım ve ben apaçık bir uyarıcıyım." (Ahkâf suresi, 9. ayet)

Bu ayetten aşağıdaki yargılardan hangisine ulaşılamaz?

- A) Hz. Muhammed (sav.) son peygamberdir.
- B) Hz. Muhammed (sav.) geleceği bilemez.
- C) Hz. Muhammed (sav.) de Kur'an'a uymakla görevlidir.
- D) Hz. Muhammed (sav.) 'in uyarı görevi vardır.

8) Hz. Muhammed (s.a.v.) Kur'an-ı Kerim'i en iyi açıklayan ve yorumlayan insandır. O (s.a.v.), Kur'an'da yer alan ayetlerin içerdiği anlamları insanlara sözleriyle ve davranışlarıyla açıklamıştır.

Bu durum O'nun (s.a.v.) hangi özelliğiyle yakından ilgilidir?

- A) İnsanlığa bir rahmet olması
- B) Kur'an'ı açıklayıcısı olması
- C) Son peygamber olması
- D) Güzel ahlaklı olması

9) Kur'an ayetlerini ayrıntılarıyla açıklayıp yorumlayan bilim dalına ne ad verilir?

A)Hadis B)Fıkıh C)Tefsir D)Tarih

10) Peygamber Efendimiz kadınlara değer verilmesi gerektiğini belirtti, kız çocuklarının öldürülmesinin önüne geçti, yetimi yoksulu koruyup gözettiler, insanlara sevgiyle yaklaştı, kaba ve kırıcı olmadı, kin gütmedi, herkese şefkatli ve merhametli davrandı.

Bütün bunlar O'nun (s.a.v.) hangi özelliğini vurgular?

A)Müjdeleyici olmasını
B) Son peygamber olması
C) insanlığa bir rahmet olması
D)Kur'an'ı açıklayıcısı olması

11) Allah'ın izniyle eceli gelenlerin canını almakla görevli olan meleğin adı nedir?

A)Mikail (a.s.) B)Cebrail(a.s.)
C)İsrafil(a.s.) D)Azrail(a.s.)

12)Doğa olaylarını düzenlemek ve yürütmekle görevli olan meleğin adı nedir?

A)Mikail (a.s.) B)Cebrail(a.s.)
C)İsrafil(a.s.) D)Azrail(a.s.)

13)Kıyamet vakti geldiğinde "sûr" denilen alete üflemele görevli olan meleğin adı nedir?

A)Mikail (a.s.) B)Cebrail(a.s.)
C)İsrafil(a.s.) D)Azrail(a.s.)

14)Vefat eden insanları sorgulamakla görevli olan meleklerin isimleri aşağıdakilerden hangileridir?

A)Hafaza melekleri
B)Münker-Nekir melekleri
C)Kıramen Katibin melekleri
D)İsrafil meleği

15) Şeytan hakkında aşağıdakilerden hangisi söylenemez?

A)Şeytan Allah'a isyan etmiş bir varlıktır
B)Şeytan topraktan yaratılmış bir varlıktır
C)Şeytan insanları kötülük yapmaya teşvik eden bir varlıktır
D)Şeytan kendisini insanlardan daha üstün gören bir varlıktır

16) İslam dininin ilkelerine, ayrıca akla ve bilime aykırı olan, doğruluk ve gerçeklik payı bulunmayan, dinde varmış gibi kabul edilen inançlara ne ad verilir?

A)Ahiret inancı B)Kader inancı
C)Doğru inanç D)Batıl inanç

17) Aşağıdakilerden hangisi batıl inançlardan korunmak için yapılması gerekenlerden değildir?

A)Kur'an'a ve Peygamberimizin sünnetine bağlı kalınmalıdır
B)Araştırma ve okumaya önem verilmelidir
C)Büyüden ve nazardan korunmak için nazar boncuğu takılmalıdır
D) Eğitim - Öğretime önem verilmelidir

18) İsrafil (a.s.) meleğinin sûr denilen boruya üflemesiyle dünyadaki yaşamın son bulup bütün canlıların ölmesine ne ad verilir?

A)Kıyamet B)Mahşer C)Mizan D)Cennet

19) Ahirette insanların bütün amellerinin tartıldığı ilahi adalet terazisine ne ad verilir?

A)Mizan B)Sûr C)Mahşer D)Kıyamet

20) İsrafil (a.s.) meleğinin sûra ikinci kez üflemesiyle dünyada yaşamış olan bütün insanlar ahirette yeniden diriltirler ve denilen büyük bir alanda, Allah'ın huzurunda toplanırlar. Yukarıdaki cümlede yer alan boşluğa aşağıdaki kelimelerden hangisi getirilmelidir?"

A) Cennet B)Mahşer C) Kabir D)Mizan

TÜRKÇE

TEST 1

1. B
2. B
3. D
4. A
5. B
6. A
7. B
8. A
9. D
10. D
11. C
12. D
13. A
14. C
15. B
16. D
17. B
18. A
19. B
20. A

TEST 2

1. D
2. A
3. B
4. D
5. B
6. D
7. A
8. D
9. D
10. A
11. C
12. A
13. D
14. B
15. C
16. B
17. D
18. D
19. B

TEST 3

1. D
2. D
3. A
4. D
5. A
6. A
7. B
8. C
9. C
10. D
11. C
12. B
13. A
14. D
15. B
16. D
17. B
18. C
19. C
20. D

MATEMATİK

TEST 1

1. B
2. C
3. D
4. A
5. D
6. C
7. D
8. C
9. C
10. C
11. D
12. C
13. D
14. D
15. A
16. C
17. D
18. C
19. A
20. B

TEST 2

1. D
2. C
3. B
4. A
5. A
6. D
7. D
8. B
9. D
10. B
11. C
12. A
13. D
14. C
15. B
16. C
17. B
18. D
19. D
20. D

TEST 3

1. B
2. D
3. C
4. A
5. B
6. D
7. B
8. A
9. B
10. C
11. B
12. C
13. A
14. D
15. C
16. D
17. C
18. B
19. B
20. A

FEN BİLİMLERİ

TEST 1

1. C
2. B
3. D
4. C
5. D
6. A
7. B
8. C
9. D
10. C
11. A
12. A
13. B
14. D
15. C
16. B
17. C
18. A
19. D
20. B

TEST 2

1. C
2. D
3. B
4. B
5. D
6. C
7. A
8. B
9. C
10. A
11. D
12. B
13. C
14. D
15. C
16. A
17. B
18. C
19. B
20. A

TEST 3

1. C
2. A
3. D
4. D
5. A
6. B
7. D
8. A
9. C
10. D
11. C
12. C
13. D
14. B
15. D
16. C
17. A
18. D
19. C
20. B

SOSYAL BİLİMLER

TEST 1

1. D
2. C
3. A
4. B
5. C
6. A
7. C
8. B
9. B
10. A
11. C
12. C
13. B
14. C
15. A
16. B
17. D
18. A
19. C
20. B

TEST 2

1. A
2. B
3. A
4. B
5. A
6. C
7. D
8. C
9. D
10. A
11. A
12. B
13. A
14. D
15. D
16. A
17. C
18. B
19. D
20. A

TEST 3

1. B
2. C
3. D
4. C
5. A
6. C
7. D
8. A
9. C
10. A
11. D
12. C
13. B
14. D
15. B
16. A
17. A
18. B
19. C
20. D

İNGİLİZCE

TEST 1

1. A
2. C
3. B
4. D
5. B
6. B
7. A
8. D
9. A
10. D

TEST 2

1. C
2. B
3. D
4. B
5. C
6. C
7. A
8. B
9. B
10. C

TEST 3

1. C
2. D
3. B
4. C
5. D
6. C
7. B
8. A
9. C
10. B

DKAB

TEST 1

1. A
2. D
3. C
4. D
5. D
6. A
7. B
8. C
9. D
10. D
11. D
12. C
13. A
14. C
15. B
16. B
17. B
18. A
19. C
20. D

TEST 2

1. B
2. A
3. A
4. A
5. B
6. D
7. A
8. B
9. C
10. C
11. D
12. A
13. C
14. B
15. B
16. D
17. C
18. A
19. A
20. B