

GEOMETRİK ŞEKİLLER VE CİSİMLER

Değerlendirme Etkinlikleri

1. Geometrik şekillerin özelliklerini yazalım.



-----kenarım ve -----köşem var.
Kenar uzunluklarım -----



----- ve -----




-----kenarım ve -----köşem var.
Karşılıklı kenar uzunluklarım-----




-----kenarım ve -----köşem var.

2. Hangisinin üç kenarı vardır? İşaretleyelim.



3. Verilen geometrik şekillerin kenar sayılarının toplamı kaçtır?



-----+-----+-----=-----
Kenar sayılarının toplamı-----dir.


4. Geometrik şekillerden 4 kenarı ve 4 köşesi olanları işaretleyelim.




5. Kenar ve köşesi olmayanları işaretleyelim.




6. 3 kenarı ve 3 köşesi olanları işaretleyelim.



7. Bütün kenar uzunlukları birbirine eşit olanları işaretleyelim.



8. Benzerleri ile eşleştirelim.



9. Boyalı yüzlerin gösterdiği şekilleri çizelim.

