



T.C.
MİLLÎ EĞİTİM BAKANLIĞI
ZONGULDAK İL MİLLÎ EĞİTİM MÜDÜRLÜĞÜ

TÜRKÇE



il_milli



zonguldakilmem



zonguldak ilmeme



www.zonguldak.meb.gov.tr





TÜRKÇE

Deneme Sınavı

7.SINIF



(1, 2, 3 ve 4. soruları aşağıdaki metne göre cevaplayınız.)

Otomobil, kullanılmaya başlandığından beri çeşitli kolaylıkları insanların hizmetine sunmaktadır. Bunların başında ulaşımда kolaylığı ve hızlılığı sağlaması, taşımacılıkta kullanılması, zaman ve enerji tasarrufu sağlaması gelmektedir. Otomobillerin bu özellikleri zamanla otomobilleri insanlar için lüks olmaktan çıkarmış, temel ihtiyaç haline getirmiştir. Üretim yapan firmaların çoğalması ise rekabeti artırarak otomobil fiyatlarını makul ve alınabilir seviyelere indirmiştir. Daha fazla satış yapmak isteyen üretici firmalar otomobillere yeni yeni özellikler ekleyerek tüketicilerin beğenisine sunmuşlardır. Zaman içinde birçok özellik standart donanım haline gelse de 0'dan 100 km hıza çıkış süresi, yakıt ekonomisi, bagaj hacmi ve otomatik vites seçeneği hâlâ rekabetteki yerini koruyan özelliklerdir. Ayrıca petrol fiyatlarının gün geçtikçe artması, insanların daha az yakıt harcayan araçlara yönelmesine neden olmuştur.

Aşağıda bir otomobil galerisinde sergilenen araçlar ve bu araçlara ait bilgiler bulunmaktadır.

Renk: Beyaz
Harcadığı Yakıt: 7 litre
Vites: Otomatik
0-100 Hızlanması: 9 saniye
Bagaj Hacmi: 450 litre
Fiyat: 205.000 TL



Renk: Sarı
Harcadığı Yakıt: 7 litre
Vites: Düz
0-100 Hızlanması: 10 saniye
Bagaj Hacmi: 520 litre
Fiyat: 180.000 TL

Renk: Kırmızı
Harcadığı Yakıt: 12 litre
Vites: Düz
0-100 Hızlanması: 8 saniye
Bagaj Hacmi: 450 litre
Fiyat: 195.000 TL



Renk: Mavi
Harcadığı Yakıt: 9 litre
Vites: Otomatik
0-100 Hızlanması: 13 saniye
Bagaj Hacmi: 720 litre
Fiyat: 165.000 TL



1. Abdullah Bey ve Emir Bey, otomobil galerisindeki araçları incelemektedir. Daha çok eşi için araba almayı planlayan Emir Bey, alacağı araçta hızlanmayı ve yakıt tasarrufunu önemsememektedir. Abdullah Bey ise aracı sadece kendisi kullanacağı ve araçla çok vakit geçireceği için yakıt tasarrufunu çok önemsemektedir. Emir Bey, aracı eşi için alacağından otomatik vitesli bir araba düşünürken Abdullah Bey'in böyle bir şartı yoktur. Emir Bey, bagajı 500 litreden daha fazla hacme sahip bir araç almak istemektedir. Abdullah Bey ise fiyatı 200.000 tl'yi geçmeyecek bir araç alabileceğini söylemektedir.

Bu bilgilere göre Abdullah Bey ve Emir Bey için en uygun araçlar aşağıdakilerden hangisidir?

	ABDULLAH BEY	EMİR BEY		ABDULLAH BEY	EMİR BEY
A)			B)		
C)			D)		

2. Bu parçada aşağıdakilerden hangisine değil nilmemiştir?

- A) Otomobil artık bir lüks olarak değil, ihtiyaç olarak görülmektedir.
 B) Otomobil üreticilerinin rekabeti otomobil fiyatlarını olumlu etkilemiştir.
 C) Petrol fiyatlarının artması otomobil satışlarını düşürmüştür.
 D) Otomobiller zaman ve enerji tasarrufu sağlayan araçlardır.

3. Anahtar sözcük; bir metnin konusunu en iyi biçimde yansıtan, metni hatırlamayı kolaylaştıran sözcüktür.

Buna göre aşağıdakilerden hangisi bu metnin anahtar sözcüklerinden birisi değildir?

- A) yakıt
 B) otomobil
 C) gelişim
 D) yaşam



4. Aşağıdaki cümlelerin hangisinde virgül, metindeki altı çizili cümlede kullanıldığı göreviyle kullanılmıştır?

- A) Kamyonlar, süslü otomobiller, eski antika araçlar... Her şey vardı bu fuarda.
- B) Otobüsün tekerleği patladı, şoför de hastalandı, bizi başka bir araca bindirdiler.
- C) Öğretmen, o anda garip bir ses duymuş gibi irkilen çocuğa hayretle baktı.
- D) Uçakta bekleyen ve hâlâ uçaktan inmeyen yolcular varmış, dedi ve uzaklaştı.

5. Franz Kafka, okurları tarafından en çok merak edilen yazarlardan biridir. Geçtiğimiz yıllarda Oxford Bodleian Kütüphanesi, yazarın özel yaşamına ışık tutan mektup koleksiyonunu bünyesine dâhil etmiş ve koleksiyon büyük ilgi görmüştür. Koleksiyon, Kafka'nın kız kardeşi Ottla'ya gönderdiği 100'den fazla mektup ve renkli kartpostalı içermektedir. Son olarak da Kafka'nın uzun yıllardır aranan kayıp el yazmaları (elle yazılmış kitap) ortaya çıkmıştır.

Aşağıdakilerden hangisi bu metinde altı çizili olarak verilen deyimlerden birinin anlamıdır?

- A) kaygılanmak
- B) bir yeri ışıkla aydınlatmak
- C) içine almak, katmak
- D) kendini göstermek

6. Haluk Bilginer, 47. Uluslararası Emmy Ödülleri'nde "Şahsiyet" dizisindeki performansı ile en iyi erkek oyuncu seçildi. Bu yıl 47'ncisi düzenlenen Uluslararası Emmy Ödülleri, Amerika'nın New York şehrinde düzenlenen törenle sahiplerini buldu. En iyi erkek oyuncu dalında Türkiye, İngiltere, Almanya ve Brezilya'dan 4 isim aday gösterildi. Haluk Bilginer, 47. Uluslararası Emmy Ödülleri'nde "en iyi erkek oyuncu" ödülüne layık görüldü.

Yukarıdaki metinden

1. hangi ülkelerin ödül aldığı
2. ödül töreninin nerede yapıldığı
3. ödül töreninin kaçınıcı defa yapıldığı
4. ödül alan kişinin hangi dalda ödül aldığı

maddelerinden hangilerinin cevaplarına ulaşamaz?

- A) yalnız 1
- B) 1 ve 4
- C) 2 ve 3
- D) 2, 3 ve 4



(7 ve 8. soruyu aşağıdaki metne göre cevaplayınız.)



Proboscis Maymunu: Ağaçta yaşayan, sadece Güneydoğu Asya'daki Borneo Adası'nda var olan endemik bir türdür. En karakteristik fiziksel özelliği hiç kuşkusuz uzun burunlarıdır. Erkeklerin burnu 10 cm'yi bulabilmektedir.

Gelada Maymunu: İnce bir yüze sahip olan Gelada Maymunu, yanaklarındaki ve boyunlarındaki uzun tüyleriyle dikkat çeker. Sadece Etiyopya Dağları'nda yaşar.

İmparator Tamarin Maymunu: Güney Amerika'da görülen bu maymun türü ormanlarda ağaçlar üzerinde yaşayarak çeşitli bitkiler, bitki nektarları ve böceklerle beslenir. Pençeleri ve elleri cisimleri tutma ve yakalama konusunda ustalaşacak şekilde yaratılmıştır. Beyaz ve uzun bıyıkları sayesinde bu maymunu diğer maymunlardan ayırmak kolaydır.

Kızıl Maymun: İsmi dizlerinin üstüne kadar gelen kırmızı tüylerden almakta olan bu maymun sadece Çin ve Vietnam'da yaşamaktadır.

7. Aşağıdaki görsellerden hangisi bu metinde bahsedilen maymunlardan birine ait değildir?



8. Sözü edilen maymunların tümüyle ilgili olarak aşağıdakilerden hangisine değinilmiştir?

- A) Beslenme düzenlerine
- B) Kendilerine verilen isimlerin nedenlerine
- C) Dünyanın neresinde yaşadıklarına
- D) Erkekleriyle dişileri arasındaki farklara



9. Aşağıda 2020 yılı takvimi görülmektedir. Takvimdeki kırmızı renkli günler hafta sonu tatillerini ve hafta içi tatil günlerini göstermektedir. Altı çizili günler ise resmî tatil günlerini göstermektedir.

2020 TAKVİMİ

2020 Takvimi

2020

Ocak

Pt	Sa	Ça	Pe	Cu	Ct	Pz
1		1	2	3	4	5
2	6	7	8	9	10	11 12
3	13	14	15	16	17	18 19
4	20	21	22	23	24	25 26
5	27	28	29	30	31	

Şubat

Pt	Sa	Ça	Pe	Cu	Ct	Pz
5					1	2
6	3	4	5	6	7	8 9
7	10	11	12	13	14	15 16
8	17	18	19	20	21	22 23
9	24	25	26	27	28	29

Mart

Pt	Sa	Ça	Pe	Cu	Ct	Pz
9						1
10	2	3	4	5	6	7 8
11	9	10	11	12	13	14 15
12	16	17	18	19	20	21 22
13	23	24	25	26	27	28 29
14	30	31				

Nisan

Pt	Sa	Ça	Pe	Cu	Ct	Pz
14			1	2	3	4 5
15	6	7	8	9	10	11 12
16	13	14	15	16	17	18 19
17	20	21	22	23	24	25 26
18	27	28	29	30		

Mayıs

Pt	Sa	Ça	Pe	Cu	Ct	Pz
18				1	2	3
19	4	5	6	7	8	9 10
20	11	12	13	14	15	16 17
21	18	19	20	21	22	23 24
22	25 26	27	28	29	30	31

Haziran

Pt	Sa	Ça	Pe	Cu	Ct	Pz
23	1	2	3	4	5	6 7
24	8	9	10	11	12	13 14
25	15	16	17	18	19	20 21
26	22	23	24	25	26	27 28
27	29	30				

Temmuz

Pt	Sa	Ça	Pe	Cu	Ct	Pz
27		1	2	3	4	5
28	6	7	8	9	10	11 12
29	13	14	15	16	17	18 19
30	20	21	22	23	24	25 26
31	27	28	29	30	31	

Ağustos

Pt	Sa	Ça	Pe	Cu	Ct	Pz
31					1	2
32	3	4	5	6	7	8 9
33	10	11	12	13	14	15 16
34	17	18	19	20	21	22 23
35	24	25	26	27	28	29 30
36	31					

Eylül

Pt	Sa	Ça	Pe	Cu	Ct	Pz
36	1	2	3	4	5	6
37	7	8	9	10	11	12 13
38	14	15	16	17	18	19 20
39	21	22	23	24	25	26 27
40	28	29	30			

Ekim

Pt	Sa	Ça	Pe	Cu	Ct	Pz
40			1	2	3	4
41	5	6	7	8	9	10 11
42	12	13	14	15	16	17 18
43	19	20	21	22	23	24 25
44	26	27	28	29	30	31

Kasım

Pt	Sa	Ça	Pe	Cu	Ct	Pz
44						1
45	2	3	4	5	6	7 8
46	9	10	11	12	13	14 15
47	16	17	18	19	20	21 22
48	23	24	25	26	27	28 29
49	30					

Aralık

Pt	Sa	Ça	Pe	Cu	Ct	Pz
49		1	2	3	4	5 6
50	7	8	9	10	11	12 13
51	14	15	16	17	18	19 20
52	21	22	23	24	25	26 27
53	28	29	30	31		

Buna göre takvimle ilgili aşağıdakilerden hangisi söylenemez?

- A) 2020 yılının altı ayında resmî tatil vardır.
 B) 2020 yılının yılbaşı günü çarşambaya, 2021 yılının yılbaşı günü ise cumaya denk gelmektedir.
 C) Yıl içinde 14 gün resmî tatil yapılacaktır ve bunun 10 günü hafta içine denk gelmektedir.
 D) En çok tatil yapılacak aylar mayıs ve temmuz aylarıdır.



(10 ve 11. soruları aşağıdaki bilgilere göre cevaplayınız.)

Türkçede “a, e” geniş ünlüleri ile biten fiillere şimdiki zaman kipi (-yor) eklendiğinde, fiilin sonundaki “a, e” geniş ünlüleri daralarak “ı, i, u, ü” ye dönüşür. Buna “ünlü daralması” denir. Örneğin “a” ünlüsüyle biten “anla-” fiiline “-yor” eki eklendiğinde fiil daralmaya uğrar ve “anlıyor” şeklinde değil “anlıyor” şeklinde yazılır. -yor eki olumsuzluk eklerine geldiğinde de daralma meydana gelir. Kaynaştırma harfi olan “y” harfi “de-” ve “ye-” fiillerinde daralmaya sebep olur. Örneğin “deyecek” değil “diyecek”, “yeyecek” değil “yiyecek” şeklinde okunur ve yazılır.

10. Bu bilgilere göre aşağıdaki cümlelerin hangisinde “ünlü daralması” yoktur?

- A) Onun da bize bu konuda söyleyecekleri var ki sabahtan beri yerinde duramıyor.
- B) Kimseyle görüşmedim bugün, şu anda deniz kenarında bir bankta oturuyorum.
- C) Herkesin el ele vererek muhtaç insanlara yardım ettiğini düşünüyorum çoğu zaman.
- D) Ben de bu saati arıyordum kaç gündür, meğer dolabın altına düşmüş de görmemişiz.

11. Yukarıdaki bilgilere göre aşağıdaki cümlelerin hangisinde “ünlü daralması” ile ilgili bir yazım yanlışlığı söz konusu değildir?

- A) Sofrayı kuralım da güzel bir akşam yemeği yiyelim.
- B) Tren hareket etse bile ben seni burada bekliyeceğim.
- C) Anılamadığım konuları bu hafta sonu tekrar etmeliyim.
- D) Sıkıldım, biraz da bizim yörenin türkülerini dinliyelim mi?



12. Ek eylemin görevlerinden birisi basit zamanlı fiilleri birleşik zamanlı yapmaktır. Basit zamanlı fiil, fiilin tek kip ekiyle çekimlenmesidir. Birleşik zamanlı fiilde ise birden çok kiple çekimlenme söz konusudur.

Aşağıdaki cümlelerin hangisinde altı çizili fiil, “bilinen geçmiş zamanın şartı” ve “ikinci tekil kişi”siyle çekimlenmiştir?

- A) Beni beklemişseniz çok teşekkür ederim.
- B) Onunla buluşsaymışsın sana küsmeyecekmış.
- C) Buraya baksaydı kolyeyi hemen bulacaktı.
- D) Çok bunaldıysan açık havada gezelim biraz.

13. Aşağıdaki cümlelerin hangisinde altı çizili eylemlerdeki ek fiilin cümleye kattığı anlam, yay araç içinde yanlış verilmiştir?

- A) Çok yorulmuşmuş, biz onun yaptığı işi yarım saatte yapıyoruz. (Küçümseme)
- B) O zamanlar deniz kıyısında yaşayıp balık avlardım. (Terk edilmiş alışkanlık)
- C) Yarın hep beraber tiyatroya gidecekmişiz. (Gerçekleşmemiş niyet)
- D) Doğum günümde hepsi bizim eve gelecekti. (Gerçekleşmemiş beklenti)



(14, 15, 16 ve 17. soruları aşağıdaki paragraflara göre cevaplayınız.)

- (1) Yerin derinliklerinde milyonlarca yıl boyunca kaya ve toprak altında kalmış, ısı ve basınç etkisiyle başkalaşıma uğramış bitki ve hayvanlardan oluşan enerji kaynaklarına “fosil yakıtlar” denir. Fosil yakıtların en önemli özelliği, hidrokarbon ve yüksek oranlarda karbon içeren organik maddelerden meydana gelmiş olmalarıdır.
- (2) Fosil yakıtlar ölmüş canlı kalıntılarının milyonlarca yıl oksijensiz ortamlarda çözülmesi sonucu oluşur. Doğal bir enerji kaynağı olarak öne çıkan petrol, doğal gaz ve kömür fosil yakıtlar arasında yer alır. Dünya fosil yakıt rezervinin yüzde 70’ini kömür, yüzde 14’ünü petrol, yüzde 14’ünü doğal gaz ve yüzde 2’sini de diğer fosil kaynaklar oluşturmaktadır.
- (3) 1760’da buhar makinesi icat edilince taş kömürü, 1873’te dinamo icat edilince su gücü kaynakları, 1900’lerde içten patlamalı motorlar ve 1910’larda içten yanmalı dizel motorlar icat edilince petrol büyük önem kazanmıştır.
- (4) Fosil yakıtların genel dağılımı incelendiğinde sıvı ve gaz yakıt rezervlerinin dünyanın belirli coğrafi bölgelerinde yoğunlaştığı buna karşın kömürün düzenli bir dağılım gösterdiği ve üretiminin 50’den fazla ülkede gerçekleştiği görülmektedir.

14. Bu metinden aşağıdakilerden hangisi çıkarılamaz?

- A) Fosil yakıtların oluşması için uzun bir süre geçmesi gerekir.
- B) Kömür, diğer fosil yakıtlara göre daha fazla ülkede çıkarılmaktadır.
- C) Fosil yakıtlar, organik maddelerden meydana gelmektedir.
- D) Fosil yakıtlar, dünyanın her bölgesinde çıkarılabilmektedir.

15. Metnin ilk paragrafında aşağıdaki düşünceyi geliştirme yollarından hangileri kullanılmıştır?

- A) Karşılaştırma - Sayısal Verilerden Yararlanma
- B) Tanımlama - Örnekleme
- C) Örnekleme - Sayısal Verilerden Yararlanma
- D) Karşılaştırma – Tanımlama



16. Yukarıdaki metin dört paragraftan oluşmaktadır. Ancak paragraflardan biri kendinden önceki ve kendinden sonraki paragraflarla anlam bütünlüğü sağlamamaktadır.

Buna göre metnin düşünce akışını bozan paragraf kaç numaralı paragraftır?

A) 1

B) 2

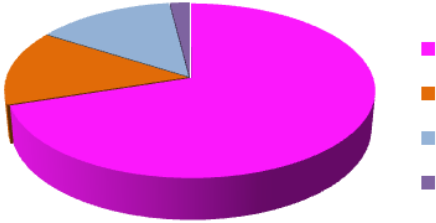
C) 3

D) 4

17. Metnin ikinci paragrafına göre aşağıda rakamları verilmeyen grafiklerden hangisi dünyada çıkarılan fosil yakıtların oranını göstermektedir?

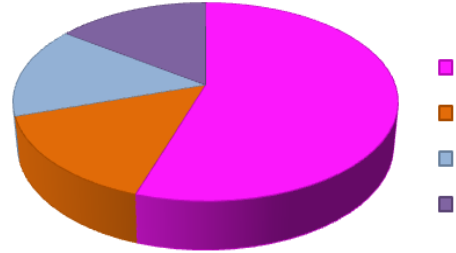
A)

Fosil Yakıtlar



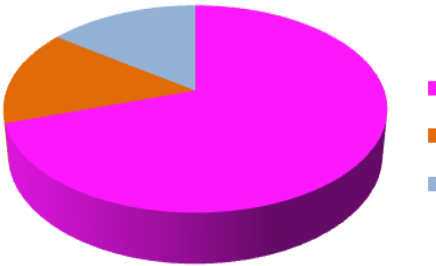
B)

Fosil Yakıtlar



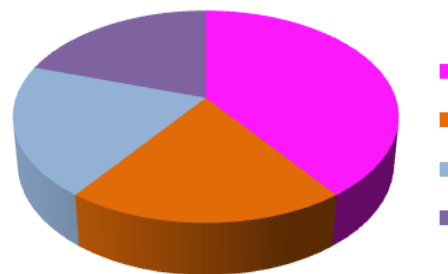
C)

Fosil Yakıtlar



D)

Fosil Yakıtlar





Tokyo Üniversitesi'nde görev yapan Prof. Dr. Hidesaburo Ueno, 1924'te bir köpek yavrusu bulur ve onu sahiplenir. Köpeğe, Japoncada "sekizinci" anlamına gelen "Haçiko" adını koyar. (1) Safkan akita cinsinden olan Haçiko, her sabah üniversiteye gitmek için evden metroya kadar yürüyen sahibine eşlik eder. Metronun dış kapısına kadar getirdiği sahibini uğurlayıp eve döner. Belli bir müddet sonra sahibinin eve dönüşünü de metronun önünde beklemeye başlayan Haçiko, bir yıl boyunca saati şaşırmaksızın her sabah, sahibini metroya kadar götürür; her akşam iş çıkışında da metronun önünde karşılar. Bir akşam Ueno, metrodan çıkmaz. (2) Ha-

çiko, Ueno gelmediği için gözleri metronun kapısında gece boyunca bekler. Bu bekleyiş dokuz yıl boyunca devam eder. Bugün Tokyo'ya gidenlerin Shibuya İstasyonu'nun kapısında karşılaştığı köpek heykeli Haçiko'ya aittir. Çünkü Japonlar, Haçiko'yu bir ... sembolü olarak benimsemişlerdir.

18. Bu parçadaki (1) ve (2) numaralı cümleler için sırasıyla aşağıdakilerden hangisi söylenebilir?

- A) (1) öznel cümle – (2) nesnel cümle
- B) (1) koşul cümlesi – (2) abartma cümlesi
- C) (1) amaç cümlesi – (2) sebep-sonuç cümlesi
- D) (1) karşılaştırma cümlesi – (2) kişileştirme cümlesi

19. Bu parçada aşağıdaki sorulardan hangisinin cevabı vardır?

- A) Haçiko, Ueno'yu ne kadar beklemiştir?
- B) Haçiko bulunduğunda kaç yaşındaydı?
- C) Ueno, köpeğe neden Haçiko ismini vermiştir?
- D) Ueno'nun gelmeme sebebi nedir?

20. Metnin son cümlesinde boş bırakılan yere aşağıdakilerden hangisi getirilemez?

- A) yardımlaşma
- B) bağlılık
- C) vefa
- D) sadakat