

ORTAOKUL 7.SINIF

HAFTALIK EV ÖDEVİ
11-15 Mayıs



1) Cemal ,Salih ,Berkhan ve Emre bir basketbol seçmelerine katılmaya karar vermişlerdir. Seçmeler için aşağıda bazı kurallar ve seçmelere katılanların atış tablosu verilmiştir:

KURALLAR:

- Her yarışmacı 20 atış hakkına sahiptir.
- Her isabetli atış: +7 puan
- Her isabetsiz atış : -5 puan

Atış Tablosu:

	İSABETLİ	İSABETSİZ
Cemal	12	8
Salih	10	10
Berkhan	5	15
Emre	8	12

Buna göre Cemal , Salih , Berkhan ve Emre ‘nin aldıkları puanlar toplamı aşağıdakilerden hangisidir?

- A)10 B) 15 C) 20 D) 25

2)

- I. $-3^2=9$
 II. $(-2)^4= -16$
 III. $4^3=64$
 IV. $-(-5)^2=25$
 V. $7^0=1$

Yukarıda verilen işlemlerden kaç tanesi doğrudur?

- A) 1 B) 2 C) 3 D) 4

3) Bir klima başlangıçta 15°C sıcaklığında olan bir odayı dakikada 2°C soğutmaktadır. Buna göre klima 9 dakika açık kaldığında son durumda oda sıcaklığı kaç derece olur?

- A) -1 B) -2 C) -3 D) -4

4)

$$\frac{3}{\frac{1}{2}} - \frac{\frac{1}{5}}{2}$$

İşleminin sonucu aşağıdakilerden hangisidir?

- A) $\frac{59}{5}$ B) $\frac{1}{5}$ C) $\frac{9}{5}$ D) $\frac{59}{10}$

5)

$$\left(\frac{5}{7}\right)^2 \dots\dots\dots \left(-\frac{5}{7}\right)^2$$

$$\left(-\frac{7}{9}\right)^3 \dots\dots\dots \left(\frac{7}{9}\right)^3$$

$$\left(-2\frac{3}{4}\right)^2 \dots\dots\dots \left(-\frac{1}{2}\right)^3$$

Boş bırakılan yerlere $<$, $>$ ve $=$ sembolleri yerleştirilecektir. Buna göre boş bırakılan yerlere gelmesi gereken semboller sırasıyla aşağıdakilerden hangisidir?

- A) $=$, $=$, $=$ B) $>$, $<$, $<$
 C) $>$, $<$, $=$ D) $=$, $<$, $>$

6) 18 cm



Yukarıda uzun kenarı verilen dikdörtgen şeklindeki bir tarlanın $\frac{5}{6}$ 'sına biber ekilmiştir. Biber ekili alan 150 m^2 olduğuna göre tarlanın kısa kenarı kaç m 'dir ?

A) 20 B) 16 C) 12 D) 10

7)



Efe 180 bilyesinin $\frac{1}{5}$ ' ini Ilgaz ' a kalan bilyelerinin $\frac{1}{12}$ ' sini ise Ezel ' e vermiştir. Buna göre Efe 'nin kaç bilyesi kalmıştır ?

A) 130 B) 131 C) 132 D) 133

8)



PANTOLON

Alış Fiyatı: $2X-4$ TL

Satış Fiyatı: $3X$ TL

GÖMLEK

Alış Fiyatı: $3X-5$ TL

Satış Fiyatı: $4x+1$

Bir mağazanın gömlek ve pantolonlarının alış ve satış fiyatları yukarıda verilmiştir. Buna göre 3 gömlek ve 5 pantolon satan mağaza sahibinin sattığı ürünlerden elde ettiği kar cebirsel olarak kaç TL 'dir ?

A) $7x+30$ B) $8x$ C) $8x+20$ D) $8x+38$

9)

1.Örüntü	3	5	7	9	11
2.Örüntü	1	5	9	13	17

Yukarıda iki örüntü verilmiştir. Buna göre 1.örüntünün 20.terimi A , 2.örüntünün 40. terimi B olduğuna göre $A+B$ işleminin sonucu kaçtır ?

A) 190 B) 195 C) 196 D) 198

10) Bir cep telefonu almak isteyen Ahmet ' e 2 farklı mağazadan ödeme şekillerine göre iki ayrı fiyat seçeneği sunulmuştur :

1.MAĞAZA
($X+30$) TL PEŞİNAT
Aylık: $2X+5$ TL
5 AY TAKSİT

2.MAĞAZA
($3X$) TL PEŞİNAT
Aylık: $X+7$ TL
6 AY TAKSİT

Ahmet Bey 2. Mağazanın daha uygun olduğunu düşünerek 2.seçeneği tercih ettiğine göre Ahmet Bey ürünü 1.mağazaya göre kaç lira daha uygun almıştır ?

A) $2x$ B) $2x+10$ C) $2x+ 13$ D) $2x + 15$

11)



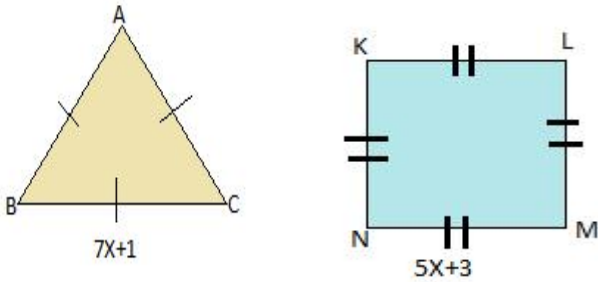
Nisa manavdan 9 kg muz , 6 kg kivi almış ve toplam 186 TL ödeme yapmıştır. Muzun kilogram fiyatının kivi kilogram fiyatından 4 TL daha fazla olduğu bilindiğine göre kivi kilogram fiyatını veren denklem aşağıdakilerden hangisidir?

- A) $9x + 6.(x+4)=186$ B) $9x+6x=186$
C) $9x+4+6x=186$ D) $9(x+4) + 6x=186$

12) Bir markette çikolata fiyatı bisküvi fiyatının 2 katının 20 kuruş eksikliğine eşittir. 3 çikolata 4 bisküvi alan bir müşteri 8 TL ödediğine göre 1 çikolata kaç kuruştur ?

- A) 112 B) 135 C) 145 D) 152

13)



Yukarıda verilen ABC eşkenar üçgeninin çevre uzunluğu KLMN karesinin çevre uzunluğuna eşit olduğuna göre karenin çevre uzunluğu kaç cm 'dir ?

- A) 186 B) 190 C) 192 D) 194

14)



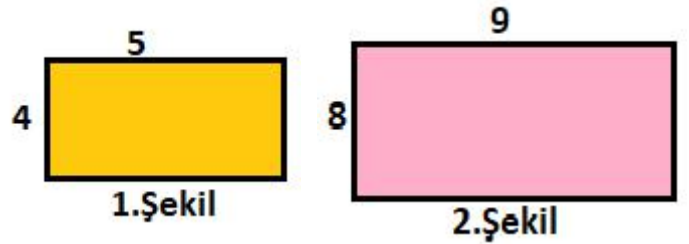
Evrin 188 sayfalık bir kitabı 4 günde okuyarak bitirmiştir. 2. ve 3. gün ilk gün okuduğu sayfa sayısının 24 fazlası kadar , 4. gün ise ilk gün okuduğu sayfa sayısının 4 katı kadar sayfa okumuştur . Buna göre Evrim 3.gün kaç sayfa kitap okumuştur ?

- A) 44 B) 50 C) 54 D) 60

15) Bir matematik testi çözen İrem 'in yanlış yanıt sayısının , doğru yanıt sayısına oranı $\frac{4}{11}$ 'dir. İrem 'in hiç boşu olmadığına göre toplam çözdüğü soru sayısı aşağıdakilerden hangisi olabilir ?

- A) 20 B) 25 C) 35 D) 45

16)



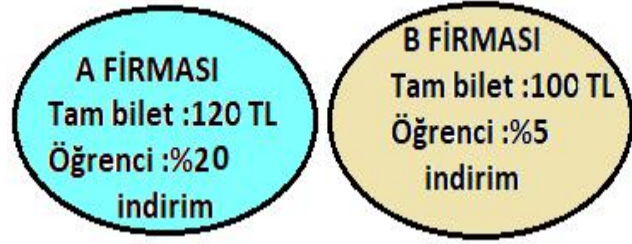
Yukarıda iki farklı odanın dikdörtgen şeklindeki duvarlarının boyutları verilmiştir. 1. Şekildeki duvar için 40 TL'lik boya kullanıldığına göre 2. Şekildeki duvar için kaç liralık boya harcanır ?

- A) 120 B) 130 C) 140 D) 144

17) Pınar öğretmen 2 öğrencisine yaptığı sınavda yaptıkları yanlış sayısı ile ters orantılı olacak şekilde 140 çikolatayı dağıtmıştır. Emre 6 yanlış , Salih 8 yanlış yaptığına göre salih kaç çikolata kazanmıştır?

- A) 50 B) 60 C) 70 D) 80

18)



8.Sınıf öğrencisi olan Ayşe ve annesi Nermin Hanım yaz tatilinde Siirt'ten Gaziantep 'e yolculuk yapmaya karar vermişlerdir. İki ayrı firmadan bilet satışlarına bakan Ayşe B firmasından biletleri aldığına göre, A firmasından alsaydı kaç lira daha fazla ödemiş olurdu ?

- A) 18 B) 19 C) 20 D) 21

19)

Arda Bey, eşi Buket Hanım ve 3 çocuğu ile birlikte tatile gitmişlerdir. Kaldıkları otelde ödeme planı aşağıdaki gibidir:

Aile bireylerinin yaş

Günlük Ödeme planı:
Tablosu:

Kişi başı :150 TL
0-4 yaş arası : ücretsiz
5-15 yaş arası :%30 indirim
16-18 yaş arası : %10 indirim

İsimler	Yaş
Arda	30
Buket	28
Fırat	17
Büşra	14
Yaren	3

Buna göre Arda Bey 'in 1 gece için ödemesi gereken ücret kaç TL ' dir ?

- A) 510 B) 520 C) 530 D) 540

20) Buzdolabı almaya karar veren Bengü'nün almak istediği dolabın ödeme seçenekleri aşağıdaki gibidir:



ETİKET FİYATI:
4800 TL



Buna göre B marka kredi kartının aylık taksit miktarı ,C marka kredi kartının aylık taksit miktarından kaç TL fazladır ?

- A) 250 B) 260 C) 270 D) 280

1) Orhun Yazıtları, Türklerin bilinen ilk alfabesi olan Orhun alfabesi ile Göktürkler tarafından yazılmış yazıtlardır. Bu yazıtlar Türkçenin tarihsel süreçteki gramer yapısı ve bu yapının değişimiyle ilgili bilgiler verdiği gibi Türklerin devlet anlayışı ile yönetimi, kültürel öğeleri, komşuları ile soydaşlarıyla olan ilişkileri ve sosyal yaşantısıyla ilgili önemli bilgiler içermektedir. Bilge Kağan ve Kül Tigin yazıtlarını Yollığ Tigin yazmıştır. Yollığ Tigin aynı zamanda Bilge Kağan'ın yeğenidir. Yazıtlarda bu abidelerin sonsuzluğa kadar kalması temennisi ile "Bengü Taşlar" denmiştir. Yazıtlar, 1889 yılında Moğolistan'da Orhun Vadisi'nde bulunmuşlardır. Bu yazıtlar II. Göktürk Kağanlığı'na aittir. Yazılış tarihleri MS. 8. yüzyılın başlarına dayanmaktadır. Yazıtlardan Kül Tigin Yazıtı 732 yılında, Bilge Kağan Yazıtı 735 yılında yazılmışlardır.

Bu metinden aşağıdaki yargılardan hangisi çıkarılamaz?

- A) Yazıtlarda anlatılanlar günümüz Türkçesiyle anlaşılabilir.
- B) Yazıtlar Türklerin devlet yönetimi hakkında bilgi vermektedir.
- C) Türklerin bilinen ilk alfabesi Orhun alfabesidir.
- D) Her iki yazıt aynı kişi tarafından yazılmıştır.

2)

Rengin ablamın adıdır.
O şimdi kızacak bana.
Fakat öğretmenim söyledi ya
Rengin demek renkli demek.

Yukarıdaki dördlülle ilgili bilgilerden hangisi doğrudur?

- A) İlk dizede belirtisiz ad tamlaması vardır.
- B) Şiirde özel ad yoktur.
- C) Dördlülükte işaret zamiri bulunmaktadır.
- D) İlk dizede ek fiil bulunmaktadır.

3) Aşağıdaki cümlelerde altı çizili fiillerle ilgili yapılan eşleştirmelerden hangisi yanlıştır?

- A) Borcunu gelecek ay ödemelisin. (Gereklilik kipi ile çekimlenmiştir.)
- B) Su insanı boğar ateş yakarmış. (Birleşik zamanlı fiildir.)
- C) El, elin eşeğini türkü çağırarak arar. (Türemiş eylemdir.)
- D) Saksıdaki çiçekler solmuş. (Oluş fiilidir.)

4)

Bu bahar havası, bu bahçe
Havuzda su şırıl şırıldır.
Uçurtmam bulutlardan yüce
Zıpızplarım pırıl pırıldır.
Ne güzel dönüyor çemberim!
Hiç bitmese horoz şekerim.

Yukarıdaki şiire göre aşağıdakilerden hangisi yanlıştır?

- A) Şiirde karşılaştırma vardır.
- B) Doğa güzelliği ve oyuncaklar çocukları mutlu eder.
- C) Altı çizili sözcükte ek fiil vardır.
- D) Şiirde hem beğenme hem de beklenti duygusu vardır.

5)

Su taşıyım, eşeğim önümde
Deh eşeğim, deh!
Bin kişinin canına can katar günde
Deh eşeğim deh!
İki teneke bir yanına,
İki teneke öbür yanına
Salına salına
Can katar günde bin kişinin canına
Deh eşeğim, deh!

Yukarıdaki şiire göre hangi bilgi doğrudur?

- A) Şiirdeki fiiller geniş zaman kipi ile çekimlenmiştir.
- B) Şiirde karşıt (zıt) anlamlı sözcükler kullanılmıştır.
- C) Şiirde deyim bulunmamaktadır.
- D) Şiirde birleşik zamanlı fiil kullanılmıştır.

6) Aşağıdaki cümlelerin hangisinde yazım yanlışlığı yoktur?

- A) Dünya da güneşin çevresinde döner.
- B) Maçımız saat 21.45'te başlayacak.
- C) Türkçe'mizi geliştirmek için çokça şiir ezberlemeliyiz.
- D) Sınıfta onbeş öğrenci vardı.

7) Aşağıdaki ifadelerden hangisinde anlatım bozukluğu vardır?

- A) Görmedim tunç yüzünde böylesine geceler.
- B) Ve ben boyuna onu düşünürdüm.
- C) Herkes akıl veriyor para vermiyor.
- D) Kuşkusuz Siirt'e varmış olmalı.

	COVID-19	SOĞUK ALGINLIĞI NEZLE	GRİP	ALERJİ
Ateş	✓ Sık	✓ Nadiren	✓ Sık	-
Yorgunluk	✓ Sık	✓ Bazen	✓ Sık	✓ Bazen
Kuru Öksürük	✓ Sık	-	✓ Sık	✓ Bazen
Solunum Zorluğu	✓ Şiddetli	-	-	✓ Bazen
Öksürük	✓ Sık	-	✓ Bazen	✓ Bazen
Ağrı	✓ Bazen	✓ Nadiren	✓ Sık	-
Hapşırma	-	✓ Sık	✓ Bazen	✓ Sık
Burun Akıntısı	-	✓ Sık	✓ Bazen	✓ Sık
Burun Tıkanıklığı	✓ Bazen	-	✓ Bazen	✓ Sık
Gözlerde Sulanma	-	-	-	✓ Sık
Boğaz Ağrısı	✓ Bazen	✓ Sık	✓ Bazen	-
İshal	✓ Bazen	-	✓ Nadiren	-

8) Bazı rahatsızlıklarla ilgili semptomları gösteren yukarıdaki grafiğe göre hangi yargı yanlıştır?

- A) Hapşırma COVID-19 hastalığının bir belirtisidir.
- B) Solunum zorluğu COVID-19 hastalığının en belirgin semptomlarından biridir.
- C) Ateş ve boğaz ağrısı üç hastalığın ortak belirtisidir.
- D) Grip gözlerde sulanmaya neden olmaz.

9)

Öğrencilerin sözle ve yazıyla anlatma kabiliyetlerini geliştirmek(I) zorlama kompozisyon dersleriyle gerçekleşebilir mi(II) Sanat eserinin tadına varacakları(III) enine boyuna fikir ve sanat dünyasına açılıp orada geniş soluklar alabilecekleri bir ortam oluşturulmalı ki hem dilleri hem de dünyaları zenginleşebilsin(IV)

Yukarıdaki metinde numaralanmış yerlere sırasıyla hangi noktala işaretleri getirilmelidir?

- A) Virgül-soru işareti-virgül-nokta
- B) Virgül-soru işareti-noktalı virgül-nokta
- C) Noktalı virgül-soru işareti-virgül-nokta
- D) Virgül-ünlem işareti-virgül-nokta

10) Aşağıdaki cümlelerin hangisinin eşleştirmesi yanlıştır?

- A)** Sözünde durmadığın için bu iş olmadı. (Sebep-sonuç cümlesidir.)
- B)** Hayattaki tek amacı beni geçmekmiş. (Amaç-sonuç cümlesidir.)
- C)** Tevfik Fikret'in şiirleri Mehmet Akif'in şiirlerinden daha sadedir. (Karşılaştırma cümlesidir.)
- D)** Sesini son kez işitmek için aradım. (Amaç-sonuç cümlesidir.)

11)

- I. Perdeyi aralayıp dışarıya baktı.
- II. Oyunun son perdesini izlemeye vakit bulabildim.
- III. Öğretmeninin gözüne girmeyi bir türlü başaramadı.
- IV. İnsanlar zenginleştikçe cimrileşirler.

Yukarıdaki cümlelerle ilgili olarak aşağıdaki tespitlerden hangisi doğrudur.

- A)** II. cümledeki altı çizili sözcük mecaz anlamlıdır.
- B)** III. cümlede deyim kullanılmamıştır.
- C)** IV. cümle öznel yargı içermektedir.
- D)** I. cümlede altı çizili sözcük terimdir.

12) “Güzel” sözcüğü aşağıdaki şıkların hangisinde zarf görevinde kullanılmıştır?

- A)** Kökleri kurumuş sandığım o güzel günler
- B)** Bugün hava güzel.
- C)** Beni bu güzel havalar mahvetti.
- D)** Güzel gören güzel düşünür.

13) Her insan iyi bilmek zorundadır. İşini iyi bilmeyen insanlarda özgüven duygusu eksik olduğu için bu insanlar kendileri de dâhil olmak üzere hiçbir kimseye yarar sağlamazlar. Aksine çevrelerine hatta bütün insanlığa zarar verebilirler. Şimdi, böyle bir insanın öğretmen olduğunu düşünelim.

Bu parçadan aşağıdakilerden hangisi çıkarılamaz?

- A)** İyi insanlar topluma yarar sağlayanlardır.
- B)** İyi bilmek özgüven duygusunun güçlenmesini sağlar.
- C)** İyi bilmeyen biri öğretmen olmamalı.
- D)** Özgüven eksikliği kişilere ve toplumlara zarar verebilir.

14) Söz sanatları ile ilgili aşağıdaki eşleştirmelerden hangisi yanlıştır?

- A)** Çatma, kurban olayım çehreni ey nazlı hilal! (Kişileştirme sanatı)
- B)** Kükremiş sel gibiyim, bendimi çiğner aşarım. (Benzetme sanatı)
- C)** Şüheda fışkıracak toprağı sıksan, şüheda. (Abartma sanatı)
- D)** Verme, dünyaları alsan da bu cennet vatanı. (Konuşturma sanatı)



15) Resimde gördüğünüz adamlar hangi konuda yarışıyorlar?

- A) Zıt anlamlı sözcükler B) Eş anlamlı sözcükler
C) Mecaz anlamlı sözcükler D) Eş sesli sözcükler

16) Aşağıdakilerden hangisi atasözüdür?

- A) Bir düşman çok, yüz dost azdır.
B) Fol yok yumurta yok.
C) Ayıkla pirincin taşını.
D) Tencere yuvarlanmış, kapağını bulmuş.

17) Aşağıdaki cümlelerin hangisinde “ki”nin yazımı doğrudur?

- A) Evde ki hesap çarşıya uymadı.
B) Hâlbuki sınava çalışmamıştım.
C) Sormadın ki söyleyeyim.
D) Sende ki azim bende olmalıydı.

18) Aşağıdaki cümlelerin hangisinde “de”nin yazımında yanlışlık vardır?

- A) Seni sinemada bekleyeceğim.
B) Trende garip yolcular vardı.
C) Dünyada iyi insanlarda varmış.
D) Kaderde bu da varmış.

19) Yardımcı eylemle birleşik fiil oluşturulurken ses türemesi veya ses düşmesi olursa yardımcı fiille isim bitişik yazılır.

Bu kurala göre aşağıdaki birleşik fiillerden hangisinin yazımı doğrudur?

- A) Hissemizi hazineye devir ettik.
B) Onları yeneceğimizi hissetmiştim.
C) Onun geldiğini farketmedim.
D) Olumsuzluklara sabır ettim.

20) Aşağıdakilerden hangisi anlatım türlerinden tartışmaya örnek gösterilebilir?

A) Bayındır Han, günlerden bir gün yine toy vermiş. Hanlık otağını Akmeydan'a diktirmiş. Önüne ala savanlardan gölgelikler çektirmiş. İçini ipek halılarla döşetmiş. Bir yere ak otağ, bir yere kızıl otağ, bir yere kara otağ kurdurmuş. Ak otağ ile kızıl otağın içini dışını bir güzel donattırmış. Her tarafını pırıl pırıl ettirmiş.

B) Servete, faziletin yükü, demekten daha iyi bir ad bulamıyorum. Ordu için ağırlığı ne ise, fazilet için de servet odur. Atılamaz; geride bırakılamaz. Sonra da yürüyüşlere engel olur. Hatta bazen ordu, ağırlığa bakayım derken, savaşı kazanamaz. Kazansa bile pahalıya mal olur. Bütün bir servetin, gerçek, hiç bir faydası yoktur. Belki etrafa dağıtmak için olur; o kadar. Ondan ötesi hayal.

C)... Salona girmeden hemen önce, kapının yanında o Eskimo'yu görürdünüz. Buz tutmuş bir gölün üstünde açtığı deliğin başında oturur, balık tutardı. Deliğin yanı başında daha yeni yakaladığı iki balık dururdu. Müze cam vitrinlerle doluydu. Üst katta da bir sürü vitrin vardı. İçinde pınardan su içen geyik bulunan, kış geldiği için güneye uçan kuşlar olan. Size yakın duran kuşlar doldurulmuş olurdu, tellerle asmışlardı onları. Geri plandakiler ise duvarın üstüne boyayla yapılmıştı. Hepsi de gerçekten güneye uçuyorlarmış gibi görünürlerdi. Başınızı eğip de onlara tersinden bakar gibi yaptığınızda kuşların güneye daha da aceleyle uçtuklarını sanırdınız. Ama o müzedeki en iyi şey, her şeyin yerli yerinde kalmasıydı. Hiç kimse kıpırdamazdı yerinden.

D) Bilim insanı probleme dönük gözlemlerde bulunur. Bunu yaparken nitel ve nicel olmak üzere iki ayrı gözlem yönteminden yararlanır. Nitel gözlem, duyu organlarıyla yapılan gözlemlerdir. Bu tür gözlemlerde hem hata payı yüksektir hem de yapılan tespit kişiden kişiye farklılık gösterir. Öznellik hâkimdir. Nicel gözlem, daha objektif ve ölçü aletlerine dayalı olarak yapılan gözlemlerdir. Bu tür gözlemlerde yanılma payı daha düşüktür ve bilim insanı tarafından daha çok tercih edilir.

1)

?	<p>Tekrar kullanılabilen uzay araçlarıdır.</p> <p>Uydu yerleştirmek ve uzayla ilgili araştırma yapmak için geliştirilmiştir.</p> <p>Roket gibi havalandır ve uçak gibi iniş yapabilirler.</p>
---	---

Yukarıda hakkında bazı bilgiler verilen uzay aracı hangi seçenekte doğru verilmiştir?

- A) Uzay sondası B) Uzay mekiği
C) Uzay roketi D) Uzay teleskobu

2)

I.Yıldızlar gökyüzünde yanıp sönen ışık kaynağı şeklinde görülmektedir.

II.Güneş en büyük yıldızdır.

III.Yıldızların doğum yeri bulutsudur.

Yukarıda verilenlerden hangileri doğrudur?

- A) Yalnız I B) Yalnız II
C) I ve III D) I,II ve III

3) Gökyüzüne dünyadan bakıldığında

sergiledikleri görünüm sebebiyle bir arada

bulunan yıldız grubuna **TAKIM YILDIZI** denir.

Yukarıda verilen bilgilere göre





aşağıdakilerden hangisi bir takımyıldızı değildir?

- A) Magellan B) Küçük Ayı
C) Ejderha D) Orion









4) Aşağıda verilenlerden hangisi uzay kirliliğine neden olmamaktadır?

- A)Uzaya yayılan roket parçaları
B) İşlevini yitirmiş yakıt tankları
C) Doğal uydular
D) Yapay uydular


5)

kloroplast= 
 Sentrozom = 
 Mitokondri = 
 Ribozom = 

Yukarıda sembollerle gösterilen organellerin Bitki ve Hayvan hücrelerine yerleştirilmesi aşağıdaki seçeneklerden hangisinde doğru verilmiştir?

- A)  
- B)  
- C)  
- D)  

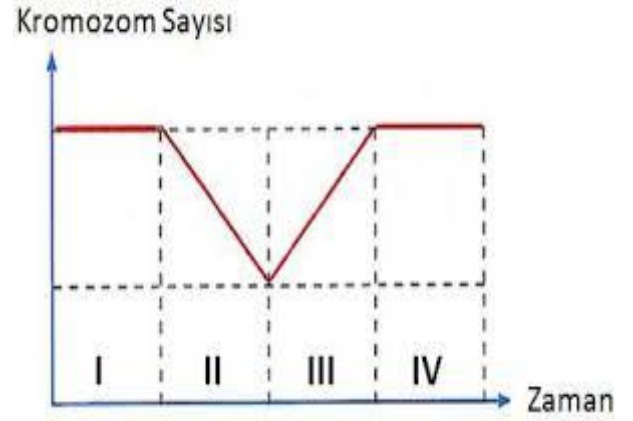
6)



En küçük yapıdan başlanarak bir canlının yapıları aşağıdaki gibi sıralanmıştır. Buna göre (?) olan yerlere aşağıdakilerden hangisi yazılamaz?

- A) Doku B) Organizma
 C) Organ D) Mitokondri

7)



Yukarıdaki grafiğe göre aşağıdakilerden hangisi yanlıştır?

- A) I zaman aralığında mitoz bölünme gerçekleşmiştir.
 B) IV zaman aralığında gerçekleşen olayda kalıtsal çeşitlilik sağlanmıştır.
 C) II olay mayoz bölünmedir.
 D) III olayda yumurta ve sperm hücresinin birleşmesi olayıdır.

8) Aşağıdakilerden kaç tanesi mayoz ve mitoz bölünmenin ortak özelliğidir?

- *DNA kendini eşler.
- *4 yeni hücre oluşur.
- *Parça değişimi gerçekleşir.
- *Sitoplazma bölünmesi gerçekleşir.
- *Kromozom sayısı yarıya düşer.
- *Hücreler, belli bir büyüklüğe ulaştığında tekrar bölünme geçirebilir.

- A) 1 B) 2 C) 3 D) 4

9) 10 kg'lık un çuvalı dinamometrenin ucuna asıldığında dinamometre üzerinde 100 N değerine yakın bir ölçüm elde edilmiştir.

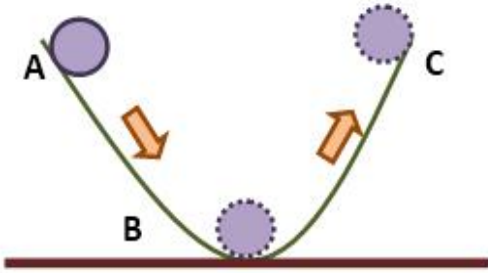
Yukarıdaki açıklamaya göre un çuvalıyla ilgili ;

- I. Kütle 10 N'dur.
- II. Ağırlığı yaklaşık 10 kg'dır.
- III. Kütle 10 kg'dır.
- IV. Ağırlığı yaklaşık 100 N'dur.

Yargılarından hangileri doğrudur?

- A) I ve II
- B) II ve III
- C) III ve IV
- D) I ve IV

10)



Yukarıdaki şekle göre;

- I. A dan B ye doğru gidildikçe kinetik enerji artar.
- II. B den C ye doğru gidildikçe sürat artar.
- III. B den C ye doğru gidildikçe kinetik enerji artar.
- IV. A dan B ye gidildikçe çekim potansiyel enerji azalır.

Yargılarından hangileri doğrudur?

- A) I ve IV
- B) I ve III
- C) I ve II
- D) II ve IV

11)



Yukarıdaki şekillerin kaç tanesinde iş yapılmıştır?

- A) 1
- B) 2
- C) 3
- D) 4

12) Aşağıdakilerden hangisi sürtünme kuvvetinin olumsuz etkisidir?

- A) Bir yerin silinmesini sağlar.
- B) Taşıtların durmasını sağlar.
- C) Sürtünen metal parçaların aşınmasına sebep olur.
- D) Resim ve boya yapabilmeyi sağlar.

13) Atom ve yapısında bulunan parçacıklar düşünüldüğünde;

- I. Atomun kütlesinin büyük bir kısmını çekirdekteki parçacıklar oluşturmuştur.
- II. Atomun kimliğini belirleyen parçacık yörüngelerde bulunur.
- III. Atomda; çekirdekteki parçacık sayısı, yörüngedeki parçacık sayısına her zaman eşittir.

İfadelerinden hangileri doğrudur?

- A) Yalnız I
- B) Yalnız III
- C) I ve III
- D) I, II ve III

14)

- I. 35°C 'de 200 gr. Su+10gr kesme şeker
- II. 35°C 'de 200 gr. Su+10gr toz şeker
- III. 35°C 'de 200 gr. Su+10gr pudra şeker
- IV. 40°C 'de 200 gr. Su+10gr pudra şeker

Dört ayrı kaptaki yukarıdaki çözeltiler hazırlandığında çözünme süresinin büyükten küçüğe doğru sıralaması nasıl olmalıdır?

- A) IV>II>III>I
- B) III>IV>II>I
- C) I>II>III>IV
- D) IV>III>II>I

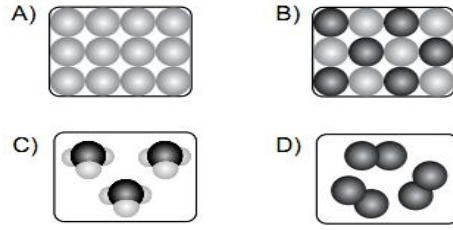
15)

- Üç farklı türde atom içerir.
- Yapısında 9 tane atom bulunur.

Yukarıda özellikleri verilen molekülün formülü aşağıdakilerden hangisidir?

- A) $C_6H_{12}O_6$
- B) C_2H_5OH
- C) $NaHCO_3$
- D) CH_3COOH

16) Aşağıdakilerden hangisi moleküler yapıli bileşik modelidir?



17)



Kırmızı Işık **Yeşil Işık** **beyaz ışık** **mavi ışık**

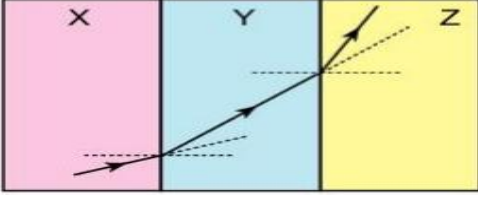
Yukarıdaki tişörtlerin üzerine karanlık ortamda altlarında yazan ışıklar tutulmaktadır. Buna göre hangi tişörtler siyah renkte görülür?

- A) Mavi, siyah ve beyaz tişörtler
- B) Sarı ve mavi tişörtler,
- C) Mavi ve siyah tişörtler
- D) Mavi, sarı ve siyah tişörtler

18) Ayna çeşitleri ile kullanım alanları eşleştirilmesi yapılırsa hangisi yanlış olur?

- A) Dişçi aynası - Çukur ayna
- B) Arabanın iç dikiz aynası – Çukur ayna
- C) Viraj aynası – Tümsek ayna
- D) Berber aynası – Düzlem ayna

19)



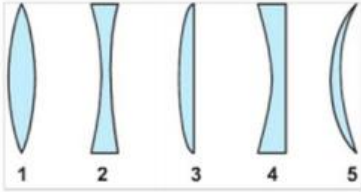
X, Y ve Z saydam ortamlarında ışığın izlediği yol verilmiştir. Buna göre

- I. Ortamların yoğunlukları arasındaki ilişki $X > Y > Z$ dir.
- II. Işığın en hızlı yayıldığı ortam X ortamıdır.
- III. X ortamı su, Y ortamı hava olabilir.

ifadelerden hangisi ya da hangileri doğrudur?

- A) Yalnız I
B) Yalnız II
C) I ve III
D) I, II ve III

20)



Yukarıdaki mercek türlerinden hangileri ışığı bir noktada toplar?

- A) 1 ve 3
B) 2, 3 ve 4
C) 1, 3 ve 5
D) 2 ve 4

1) İnsanın kendini karşısındaki kişinin yerine koyarak onun duygularını ve düşüncelerini doğru olarak anlamaya çalışmasına empati denir.

Buna göre aşağıdakilerden hangisi bir empati cümlesidir?

- A) Bugün çok sinirli görünüyorsun.
- B) Odanı temizlemen gerekiyor.
- C) Kardeşin ile tartıştığın için üzülüyorsun.
- D) En kısa sürede kendini toparlamalısın.

2) Halil >>> Bana kalırsa sen bu işi beceremiyorsun.

Ayşegül >>> Çocuk gibi davranıyorsun.

Tülay >>> Şimdi bunların sırası değil.

İsmail >>> En kısa zamanda toparlayacağına inanıyorum.

Yukarıdaki kişilerden hangisi iletişimi olumlu etkileyen bir ifade biçimi kullanmıştır?

- A) Halil
- B) Ayşegül
- C) Tülay
- D) İsmail

3) Etkili ve doğru konuşma kadar etkili dinlemede iletişim için önemlidir. Karşımızdakini anlamak, onun vermek istediği mesajı doğru algılamak için yapmamız gerekenler vardır.

Aşağıdakilerden hangisi etkili dinleme için yapılması gerekenlerden biri değildir?

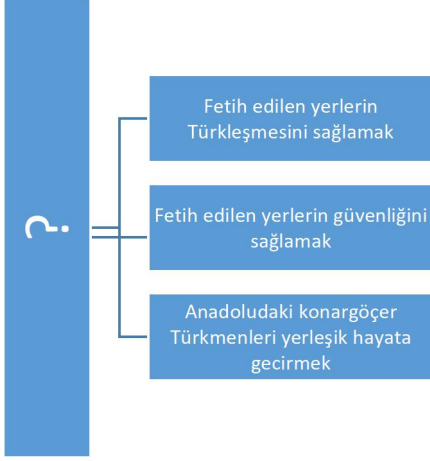
- A) Konuşmacıya dinlediğimizi hissettirmeliyiz.
- B) Önemli kısımları not alarak dinlemeliyiz.
- C) Konuşmacıya sık sık soru sorarak dinlediğimizi belli etmeliyiz.
- D) Konuşmacı ile göz teması kurulmalıdır.

4) Rümeysa arkadaşı Tuğba'nın fotoğraf ve videosunu çekerek izinsiz bir şekilde sosyal medyada paylaşmıştır. Durumu farkedten Tuğba hakkının çiğnendiğini söyleyerek Rümeysa'dan şikayetçi olmuştur.

Yukarıdaki boşluğa aşağıdakilerden hangisi getirilmelidir?

- A) Özel hayatın gizliliği
- B) İfade özgürlüğü
- C) Konut dokunulmazlığı
- D) Yaşama

5)



Şemada “?” ile gösterilen yere aşağıdakilerden hangisi yazılmalıdır?

- A) Hoşgörü politikası
- B) İskan politikası
- C) Cihan hakimiyeti politikası
- D) Tımar sistemi

6) Divan-ı Hümayun Osmanlı Devleti’nde yürütme görevini hükümdar adına kullanan kuruldur. Divan da tecrübeli devlet adamları görev yapmış ve üyeleri padişah tarafından atanmıştır.

Aşağıdakilerden hangisi Divan-ı Hümayun görevlileri arasında yer almaz?

- A) Vezir
- B) Nişancı
- C) Kazasker
- D) Kadi

7) Orhan Gazi döneminde;

- ⇒ Düzenli ordu kurulmuş
- ⇒ Divan teşkilatı oluşturulmuş
- ⇒ İlk medrese açılmıştır.

Verilen gelişmeleri değerlendirdiğimizde ulaşabileceğimiz en kapsamlı yargı aşağıdakilerden hangisi olur?

- A) Askeri alanda çalışmalar yapılmıştır
- B) Yönetim alanında kurul oluşturulmuştur
- C) Eğitime önem verilmiştir
- D) Farklı alanlarda kurumlar açılarak devlet kurumsal hale getirilmiştir.

8)

- I. Orta Çağ’ın kapanıp Yeni Çağ’ın başlaması
- II. Bizans’ın (Doğu Roma) yıkılması
- III. Osmanlı Devleti’nin balkanlardaki ilerleyişinin kolaylaşması

Yukarıda verilen bilgilerden hangileri İstanbul’un fethinin Dünya tarihi açısından sonuçları arasında yer alır?

- A) Yalnız I
- B) I ve II
- C) II ve III
- D) I, II ve III

9) Yavuz Sultan Selim tarafından gerçekleştirilen Mısır seferinin sonucunda;

- Memlûk Devleti yıkılmış
- Halifelik Osmanlı Devleti'ne geçmiş
- Baharat Yolu'nun kontrolü Osmanlıya geçmiş
- Mısır, Suriye, Arap Yarımadası ve Kudüs Osmanlı topraklarına katılmıştır.

Yukarıda verilen bilgiler doğrultusunda Osmanlı Devleti ile ilgili aşağıdakilerden hangisine ulaşamaz?

- A) Osmanlı Devleti'nin İslam dünyasındaki itibarı artmıştır.
- B) Kutsal topraklar hakimiyet altına alınmıştır.
- C) Devletin ekonomik geliri artmıştır.
- D) Afrika kıtası topraklarının büyük çoğunluğu fetih edilmiştir.

10) Devşirme yöntemi ile yetiştirilen askerlerden oluşur. Savaş zamanında padişahı, barış zamanında ise İstanbul'u korumakla görevlidirler.

Yukarıda bilgileri verilen askeri birlik aşağıdakilerden hangisidir?

- A) Yeniçeri
- B) Azaplar
- C) Akıncılar
- D) Cebeciler

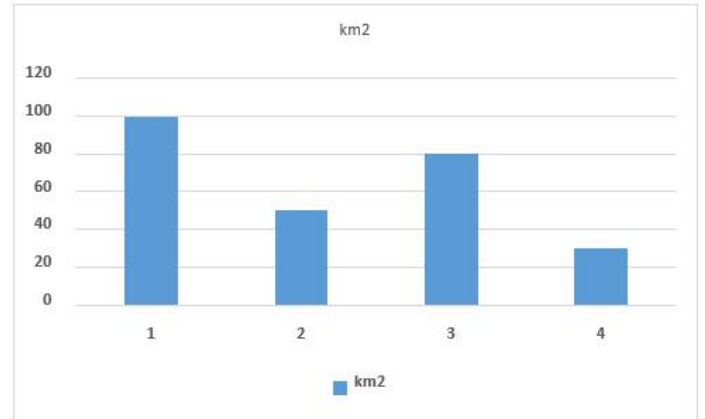
11) Eren öğretmen delta ovaların olduğu yerlerde nüfus yoğunluğunun fazla olduğunu söylemiştir. Eren öğretmen öğrencisinden delta ovalarının yerlerini haritada göstermesini istemiştir.



Buna göre öğrencisi haritada numaralı olarak verilen yerlerden hangisini gösterirse konuyu yeterince öğrenmediği düşünülebilir?

- A) I B) II C) III D) IV

12)



Yukarıda verilen bölgelerin nüfus miktarları aynıdır

Buna göre hangi bölgenin nüfus yoğunluğu daha fazla olması beklenir?

- A) 1 B) 2 C) 3 D) 4

13) Avrupa'da Avicenna adıyla tanınan ve tıp alanında yaptığı çalışmalarla bilinen bilim insanı kimdir?

- A) Harezmi B) İbn-i Sina
- C) Ali Kuşçu D) Uluğ Bey

14) Avrupa'da matbaanın kullanılması aşağıdaki seçeneklerdeki gelişmelerden hangisi üzerinde etkisi olmamıştır?

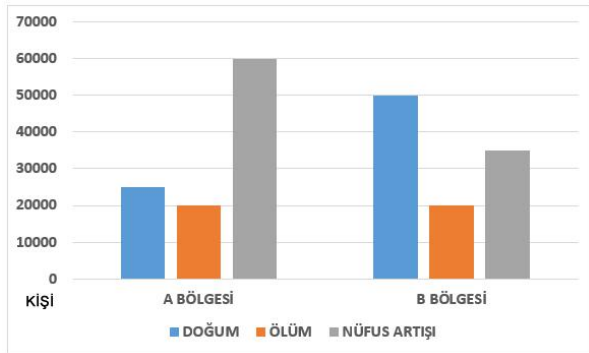
- A) Kitap basımının kolaylaşması
- B) Reform hareketlerinin ortaya çıkması
- C) Skolastik düşüncenin güçlenmesi
- D) Rönesans hareketlerinin yaşanması

15)

- I. Terör ve kan davaları
- II. Depremler
- III Kuraklık
- IV Volkanik olaylar

Yukarıdaki verilenlerden hangisi göçe neden olan beşeri etkenler arasında yer alır?

- A) I
- B) II
- C) III
- D) IV



16) Yukarıdaki grafikte, iki farklı bölgenin ölüm, doğum ve nüfus artış miktarları gösterilmiştir.

Bu grafiğe göre aşağıdakilerden hangisi çıkarılamaz?

- A) A bölgesinde nüfusun büyük bir kısmı kırsal kesimde yaşar
- B) A bölgesi göç almıştır
- C) B bölgesi göç vermiştir
- D) B bölgesinde nüfusun büyük bir kısmı kırsal kesimde yaşar

17)

- I. Yalova ve İstanbul'da kâğıt fabrikaları kuruldu.
- II. Kütüphaneler kuruldu.
- III. İlk Türk matbaası kuruldu.

Yukarıdakilerden hangileri lale devri dönemi ıslahatlarındandır?

- A) Yalnız I
- B) I ve II
- C) II ve III
- D) I,II ve III

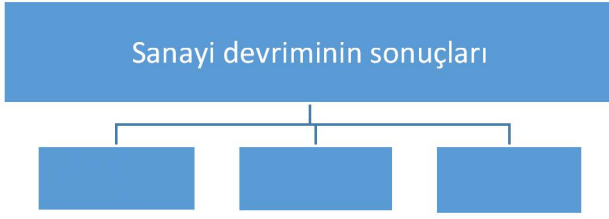
18)



II. Mahmut'un bu sözü, Osmanlı devletinin hangi özelliğini göstermektedir?

- A) Zorba
- B) Hoşgörülü
- C) Hırslı
- D) Cömert

19) Aşağıdaki tabloya sanayi devriminin sonuçlarından hangisi yazılamaz?



- A) Üretilen malların fiyatları arttı.
- B) İşçi sınıfı ortaya çıktı.
- C) Köylerden kentlere göçler hızlandı.
- D) Küçük imalathanelerin yerini büyük fabrikalar aldı.



Konut yetersizliği, çarpık kentleşme ve gecekondulaşma kırdan kente yapılan göçlerin önemli sonuçları arasındadır.

20) Yukarıdaki bilgiye göre aşağıdaki illerden hangisinde çarpık kentleşme diğerlerine göre daha azdır ?

- A) İstanbul
- B) Ankara
- C) Niğde
- D) İzmir

1) Görünmeyen âlem ve varlıklarla ilgili bilgilere denir. Akıl ve duyu organları yoluyla hakkında bilgi sahibi olunmaz. Melekler, cinler ve şeytan bu kapsamda değerlendirilir.

Yukarıda verilen kavram aşağıdakilerden hangisidir?

- A) Su'r
- B) Mizan
- C) Gayb
- D) Haşr

“ Biz cehennemın işlerine bakmakla yalnız melekleri görevlendirmişizdir. Onların sayısını da inkâr edenler için sadece bir imtihan vesilesi yaptık... ”(Müddessir suresi, 31. Ayet)

2) Yukarıdaki ayette meleklerle ilgili bahsedilen asıl özellik aşağıdakilerden hangisidir?

- A) Meleklerin sayısını sadece Allah bilir
- B) Melekler sadece cehennemde görevlidir
- C) Allah melekleri imtihan edecektir
- D) Melekler görünmeyen varlıklardandır

-“Şunu iyi bilin ki üzerinizde bekçiler, değerli yazıcılar vardır. Onlar, yapmakta olduklarınızı bilir.”(İnfitâr suresi, 10-12. ayetler.)

-“İnsanı önünden ve ardından takip eden melekler vardır. Allah’ın emriyle onu korurlar...” (Ra’d suresi, 11. ayet.)

-“...Melekler ise Rablerini hamd ile tesbih ederler ve yeryüzündekiler için bağışlanma dilerler. İyi bilin ki Allah, çok bağışlayandır, çok merhamet edendir.” (Şûrâ suresi, 5. Ayet)

3) Yukarıda verilen ayetlerde bahsedilen meleklerin isimleri aşağıdakilerden hangisinde doğru verilmiştir?

- A) Kiramen Katibin – Koruyucu melekler – Rahmet melekleri
- B) Koruyucu melekler - Rahmet melekleri - Kiramen Katibin
- C) Kiramen Katibin -Rahmet melekleri- Koruyucu melekler
- D) Rahmet melekleri - Koruyucu melekler - Kiramen Katibin

Peygamberimizin (s.a.v.) haber verdiğiğine göre “insanın içinde her zaman onu iyiye ve kötüye yönelten iki ses bulunur.....” (Tirmizî, Tefsîru’l - Kur’an, 2.)

4) Hadis-i Şerif’in devamına göre insanı iyiye ve kötüye yönelten bu sesler hangi varlıklara aittir?

- A) İsrâfil -Melek
- B) Cin – Şeytan
- C) Azrail- Cin
- D) Melek- Şeytan

5) Aşağıda verilen kavram ayet karşılaştırmasında hangisi yanlış verilmiştir?

A) Ba's - "Şüphesiz senin Rabb'in onları diriltip bir araya getirecektir. Şüphesiz o, hüküm ve hikmet sahibidir, hakkıyla bilendir."(Hicr suresi, 25. ayet.)

B) Mizan - "O gün amellerin tartılması da haktır. Kimlerin sevabı ağır basarsa işte onlar kurtuluşa erenlerdir." (Â'râf suresi, 8. Ayet)

C) Hesap günü - "Artık kim zerre ağırlığınca bir hayır işlerse onun mükâfatını görecektir. Kim de zerre ağırlığınca bir kötülük işlerse onun cezasını görecektir."(Zilzâl suresi, 7-8. Ayetler)

D) Mahşer - "Kıyamet günü mutlaka gelecektir, bunda hiç şüphe yoktur. Fakat insanların çoğu buna inanmazlar." (Mü'min suresi, 59. ayet.)

6) Hac ibadetiyle ilgili aşağıda verilen bilgilerden hangisi yanlıştır?

A) Sözlükte, kastetmek ve yönelmek anlamlarına gelir.

B) Hac Zilkade ayında farz kılınmıştır

C) Haccın 3 farzı vardır

D) Dinen zengin sayılan Müslümanlara farzdır

7) Aşağıdakilerden hangisi hac ile ilgili ibadetlerden biri değildir?

A) Vakfe

B) Tavaf

C) Müzdelife

D) Şavt

"...Gitmeye gücü yetenin o evi (Kâbe'yi) ziyaret etmesi, Allah'ın insanlar üzerinde bir hakkıdır..."(Âl-i İmrân suresi, 97. ayet.)

8) Aşağıdakilerden hangisi yukarıda verilen ayette ifade edilen haccın hükmüdür?

A) Sünnet **B)** Farz **C)** Müstehab **D)** Vacip

-Hac mevsiminin dışında yapılır

-İhram, tavaf, say, tıraş olma şartları vardır

-Gücü yeten Müslümanların ömürlerinde bir kere umre yapması sünnettir.

-Bir defadan fazla umre yapılabilir

-Ramazan ayında yapılması daha sevaptır

9) Umre ile ilgili yukarıda verilen bilgilerden kaç tanesi doğrudur?

A) 2

B) 3

C) 4

D) 5

10) Aşağıdakilerden hangisi ihram yasaklarından biri değildir?

A) Saç ve sakal tıraşı olmak

B) Vücuda ya da ihrama güzel koku sürmek

C) Başkalarıyla tartışmak ve onlara zarar vermek

D) Uykuya dalmak

"Kurban, sünnetidir." (İbn-i Mâce, Edâhî, 3.)

11) Yukarıda verilen hadis aşağıdakilerden hangisiyle tamamlanmalıdır?

A) Hz. İbrahim

B) Hz. İsa

C) Hz. İsmail

D) Hz. İshak

12) Aşağıdakilerden hangisi yeni doğan çocuk için kesilmesi sünnet olan kurbandır?

- A) Adak Kurbanı
- B) Akika kurbanı
- C) Şükür kurbanı
- D) Nezir kurbanı

13) Aşağıdakilerden hangisi kurban ibadetinin farklı yönden bir faydasını gösterir?

- A) Kurban sayesinde toplumda hayvancılık gelişip, ticari hayat canlanır.
- B) Kurban kesen kişi, malını Allah (c.c.) yolunda harcama bilincine sahip olur.
- C) Kesilen kurbanın etinden kurban kesemeyen fakirlere de et dağıtılır.
- D) Kurban, insanı cimrilikten kurtarır ve onu cömertliğe, paylaşımcılığa alıştıırır.

14) Kurban ibadetiyle ilgili verilen bilgilerden hangisi yanlıştır?

- A) Kurban Bayramı'nın ilk üç günü kesilmesi gerekir.
- B) Kurban kesilirken "Bismillâhi Allahü ekber. " denilir
- C) Kurban farz olan bir ibadettir
- D) Kurban edilecek hayvana kesinlikle eziyet edilmemelidir

15) Aşağıdakilerden hangisi kurban edilebilecek hayvanlardandır?

- A) Koyun, deve
- B) Horoz, deve
- C) Keçi, Tavuk
- D) Sığır, ördek

İnsanın, iyi veya kötü olarak vasıflandırılmasına yol açan manevi nitelikleri, huyları ve bunların etkisiyle ortaya koyduğu iradeli davranışlarının bütünüdür.

16) Yukarıda tanımı verilen kavram aşağıdakilerden hangisidir?

- A) Saygı
- B) Sabır
- C) Sorumluluk
- D) Ahlak

17) Aşağıda verilen ayet ve hadislerden hangisi farklı bir ahlaki özellikten bahseder?

- A) "...Allah'tan korkun ve çocuklarınız arasında adaletli olun."(Müslim, Hibe, 13.)
- B) "Ey insanlar! Şunu iyi biliniz ki Rabb'iniz birdir, babanız da birdir. Arap'ın Arap olmayana, Arap olmayanın Arap'a, beyaz tenlinin siyaha, siyah tenlinin de beyaza bir üstünlüğü yoktur." (Ahmed b. Hanbel, el-Müsned, C 4, s. 411)
- C) "Şüphesiz Allah; adaleti, iyilik yapmayı, yakınlarla yardım etmeyi emreder. Hayâsızlığı, fenalık ve azgınlığı da yasaklar. O, düşünüp tutasınız diye size öğüt veriyor." (Nahl suresi, 90. ayet.)
- D) "Ey iman edenler! Allah için hakkı titizlikle ayakta tutan, adalet ile şahitlik eden kimseler olun. Bir topluma olan kininiz sizi adaletsizliğe itmesin.Adil olun. Bu, Allah'a karşı gelmekten sakınmaya daha yakındır. Allah'a karşı gelmekten sakının. Şüphesiz Allah yaptıklarınızdan hakkıyla haberdardır." (Mâide suresi, 8. Ayet)

18) Hz. Muhammed'in "El Emin" ismini bilen bir Müslüman aşağıdaki davranışlardan hangisini yapmamaya çalışır?

- A)** Yalan söylemekten kaçınır
- B)** Söz verdiğinde onu mutlaka yerine getirir
- C)** Ticaret hayatında hiç kimseyi aldatmaz
- D)** Kendisine emanet bırakılan eşyaları çok mecbur kaldığında kullanır

I- Semud kavmine gönderilmiştir

II- Allah inanmayanları korkunç bir sesle cezalandırmıştır

III- İnsanlar mucize olarak gönderilen deveye çok iyi davranmışlardır.

IV- Mucize olarak kayanın içinden dişi bir deve gönderilmiştir

19) Hz. Salih'le ilgili verilen yukarıdaki bilgilerden hangileri doğrudur?

- A)** II – III
- B)** I – II - III
- C)** I – II - IV
- D)** I - III - IV

"Hristiyanların Meryem oğlu İsa'yı övmekte aşırı gittikleri gibi siz de beni övmeye aşırılık göstermeyin. Şüphesiz ki ben Allah'ın kuluyum. Onun için bana 'Allah'ın kulu ve resulü' deyin." (Buhârî, Enbiyâ, 48.)

20) Yukarıdaki hadiste asıl anlatılmak istenen nedir?

- A)** Hz. Muhammed bir insandır
- B)** Hz. Muhammed Hz. İsa gibi bir peygamberdir.
- C)** Hz. Muhammed Allah'ın resulüdür
- D)** Hz. İsa daha önce peygamber olarak gönderilmiştir

1) Jenny is thirteen years old, and she is with her cuteness.

- A) stubborn
- B) smart
- C) attractive
- D) generous

2) Michael: What is the new teacher like?

Sarah:

- A) She is tall and slim.
- B) She is a cheerful person.
- C) She has got dark and curly hair.
- D) She has got big blue eyes.

3) A: How often do you play football?

B:

- A) Yesterday
- B) Three days ago
- C) Next week
- D) Once a week

4) Tom couldn't ---- any goals in the last game.

- A) score
- B) lose
- C) hit
- D) win

5) A: did you meet your wife?

B: We met February last year.

- A) Where / on
- B) How long / at
- C) When / in
- D) What time / on

6) She from university last year and she at a big company now.

- A) graduate/ worked
- B) graduate / works
- C) graduated/ worked
- D) graduated / works

7) Some wild animals are in danger of, so we them.

- A) extinction / should protect
- B) survival / shouldn't protect
- C) cage / should protect
- D) habitat / shouldn't protect

8) Leopards are animals but people hunt them for their

- A) Reptile / meat
- B) Carnivorous / fur
- C) Herbivorous / wool
- D) Mammals / food

9) A: What type of programmes do you prefer watching on TV?

B: I prefer watching about wild animals.

- A) sitcoms
- B) reality shows
- C) soap operas
- D) documentaries

10) My father watches in the evenings, because he wants to get the latest information about the current events.

- A) TV series
- B) comedies
- C) the news
- D) talk shows

11) A: What does your mother look like?

B:

- A) My mother is mean.
- B) She is outgoing and friendly.
- C) She is polite.
- D) She is short and over-weight.

12) Bahar is a polite person. She always helps her friends and she counts on her friends. She never tells lies to her friends.

According to the text which of the following is the correct answer?

- A) She is stingy.
- B) She is helpful.
- C) She is rude.
- D) She is a liar.

13) A: Why do you do sports everyday?

B:

- A) Because I want to be fit and healthy.
- B) No, I don't do sports.
- C) Twice a week.
- D) I do sports everyday.

14) Which of the following is a team sport?

- A) Horse riding
- B) Cycling
- C) Baseball
- D) Sailing

15) A: Where were you born?

B:

- A) I was born in İzmir.
- B) I was born in 1881.
- C) She did sports.
- D) You were born in Ankara.

16) A:?

B: English and Spanish.

- A) Did you win any awards
- B) Where did you study English and Spanish
- C) What did you study at the university
- D) When did you graduate from university

17) is a mammal. It is not poisonous. It can't fly. It is herbivorous.

- A) Snake**
- B) Ant**
- C) Whale**
- D) Elephant**

18) We cut trees. They are important for the world.

- A) is**
- B) are**
- C) should**
- D) shouldn't**

19) A: What type of the films do you watch?

B:

- A) My mother and my sister**
- B) Keloğlan**
- C) Horror films**
- D) Rock music**

20) Tüba:?

Bahar: Yes, I do.

- A) What is that**
- B) Do you like quiz shows**
- C) How often do you watch cartoons**
- D) Where do you watch TV**

CEVAP ANAHTARI

MATEMATİK	TÜRKÇE	FEN BİL-	SOSYAL B-	DİN KÜLT-	İNGİLİZCE
1- C	1- A	1- B	1- C	1- C	1- C
2- B	2- D	2- C	2- D	2- A	2- B
3- C	3- C	3- A	3- C	3- A	3- D
4- D	4- C	4- C	4- A	4- D	4- A
5- D	5- A	5- C	5- B	5- D	5- C
6- D	6- B	6- D	6- D	6- B	6- D
7- C	7- C	7- B	7- D	7- C	7- A
8- D	8- A	8- B	8- B	8- B	8- B
9- D	9- A	9- C	9- D	9- D	9- D
10- C	10- B	10- A	10- A	10- D	10- C
11- D	11- C	11- B	11- C	11- A	11- D
12- D	12- D	12- C	12- D	12- B	12- B
13- C	13- A	13- A	13- B	13- A	13- A
14- A	14- D	14- C	14- C	14- C	14- C
15- D	15- D	15- B	15- A	15- A	15- A
16- D	16- A	16- C	16- A	16- D	16- C
17- B	17- B	17- C	17- D	17- B	17- D
18- D	18- C	18- B	18- B	18- D	18- D
19- D	19- B	19- C	19- A	19- C	19- C
20- C	20- B	20- C	20- C	20- A	20- B

Çalışmada Emeęi Geçen Öğretmenlerimiz

Sancaklar Ortaokulu Müdürü
Bekir Yeşil

Bilişim Teknolojileri Öğretmeni
Tarık IŞIKTAŞ

Bilişim Teknolojileri Öğretmeni
Mehmet Zakir BEKLİM

Matematik Öğretmeni
Gamze AKBULUT

Türkçe Öğretmeni
Necim GÜL

Fen Bil. Öğretmeni
Tuba GÖNCÜ
Nilay TAŞTAN

Sosyal Bilg. Öğretmeni
Filiz AYDEMİR ALADAĞ
İsmail AYDIN

DKAB Öğretmeni
Esra KARABAY

İngilizce Öğretmeni
Tüba YAŞAR
Bahar BAYAR YAVUZ

Bu çalışma Siirt İl Milli Eğitim Müdürlüğü
Öğretmenleri tarafından hazırlanmıştır. Emeklerinden dolayı teşekkür ederiz...