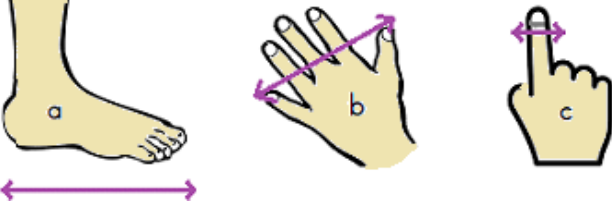


TEST

1 - Aşağıdaki görsellerle uzunluk birimlerinin doğru eşleştirilmesi hangi seçenekte verilmiştir ?

1. Karış 2. Parmak 3. Ayak



- A) 1 - a ; 2 - b ; 3 - c
B) 1 - b ; 2 - c ; 3 - a
C) 1 - c ; 2 - b ; 3 - a

2 - Aşağıdakilerden hangisinin boyunu adım ile ölçmemiz daha doğru olur ?


- A) Defterin B) Sehpanın
C) Odanın

3 - İhsan , cetvelinin boyunu 2 kalemle ölçüyor. Buna göre 4 cetvelin boyu kaç kalem uzunluğundadır ?



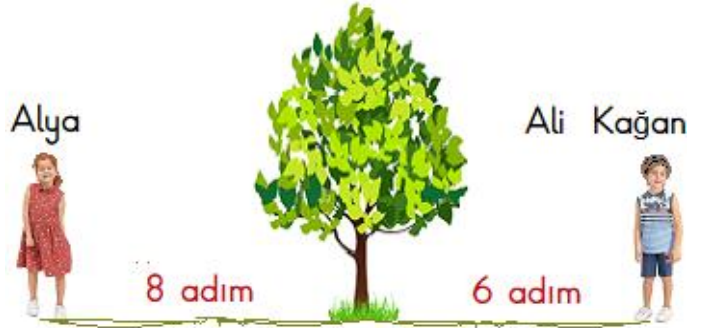
- A) 6 B) 8 C) 10

4 - Görseldeki çocukların boylarının karşılaştırılmasında hangi seçenekteki ifade doğru olur ?



- A) Ali , Selami 'den uzun ; Veli 'den kısadır.
B) Veli , Selami 'den uzun ; Ali 'den kısadır.
C) Selami , Veli 'den kısa ; Ali 'den uzundur.

5 - Alya 'nın ağaca uzaklığı 8 adım , Ali Kağan 'ın ise 6 adımdır.



Alya ile Ali Kağan yer değiştirirse , ikisinin attığı adım sayılarının toplamı kaç olur ?

- A) 28 B) 22 C) 14

TEST

6 - Aşağıdaki ifadelerden hangisi doğrudur ?

- A) Büyük boy resim defterinin boyu 2 kulaç olabilir.
- B) Bir kalemin boyu 10 parmak olabilir.
- C) Bir ağacın uzunluğu 12 karış kadar olabilir.

7 - Aşağıdakilerden hangisinin gerçek uzunluğu 3 parmak olamaz ?

A)

B)



C)



8 - Rüzgar , evin kapısından bahçe kapısına 16 adımda gidiyor. Rüzgar , bahçe kapısına gidip geri dönerse kaç adım atmış olur ?

- A) 26
- B) 32
- C) 34

9 - Aşağıdaki kalemin boyu 5 silgi kadardır. Uç uca eklediğimiz 3 kalemin boyu kaç silgi olur ?



- A) 8
- B) 13
- C) 15

10 - Aşağıdaki halıda , yapılan ölçümle ilgili olarak verilen ifadelerden hangisi doğrudur ?



- A) Halının boyu 9 ayaktır.
- B) Halının boyu 9 adımdır.
- C) Halının eni boyundan 5 adım kısadır .

11 - Aşağıda verilen uzunluklardan en uzun hangisidir ?

- A) 3 adım 2 ayak
- B) 5 adım
- C) 7 ayak

TEST

12 - Ali Sabri 'nin 1 karışı 7 parmak uzunluğundadır. Ali Sabri , hikaye kitabının boyunu 2 karışı 3 parmak olarak ölçüyor. Buna göre hikaye kitabının boyu kaç parmaktır ?

A)



B)



C)



13 - Defterimin uzun kenarı 7 silgi , kısa kenarı 5 silgi uzunluğundadır. Defterimin uzun kenarı ile kısa kenarının uzunluğu kaç silgi kadardır ?

A)



B)



C)



14 - Oğuz Kağan , Alperen 'den 3 karış uzundur. Oğuz Kağan 'ın boyu 14 karış olduğuna göre Alperen 'in boyu kaç karıştır ?

A)



B)



C)



15 - Odamdaki halının boyu 9 ayaktır. Salondaki halının boyu , odamdaki halının boyundan 7 adım fazladır. Buna göre salondaki halının boyu kaç adımdır ?

A)



B)



C)

