

İLKOKUL 2.SINIF

HAFTALIK EV ÖDEVİ
1-5 Haziran



SIİRT İL MİLLÎ EĞİTİM MÜDÜRLÜĞÜ
2020

19 MAYIS 1919

Mustafa Kemal 19 Mayıs 1919'da Bandırma Vapuruna binerek arkadaşları ile beraber Osmanlı Devletinin başkenti İstanbul'dan Samsun'a gitti. Halk Mustafa Kemal Paşayı coşkuyla karşıladı. Kurtuluş Savaşını başlattı. Oradan Amasya, Erzurum ve Sivas'a geçti. Amasya, Erzurum ve Sivas'ta toplantılar yaptı. Yurdu kurtarmak için halktan güç ve destek aldı. Sonra Ankara'ya geldi. 23 Nisan bin dokuz yüz yirmi de Türkiye Büyük Millet Meclisini açtı. Meclis, savaşla ilgili kararlar aldı. Kurtuluş Savaşı üç yıl sürdü. 30 Ağustos' ta zafere ulaştık. Her 19 Mayıs'ta bayram yaparız. Atatürk bu bayramı gençlere armağan etti.

İlk 3 soruyu metne göre cevaplayınız.

1. Mustafa Kemal Paşa Samsun'a **ne zaman** çıktı?

- A) 23 Nisan 1920
- B) 19 Mayıs 1919
- C) 30 Ağustos 1919

2. Mustafa Kemal Paşa aşağıdaki şehirlerin hangisinde toplantı yapmamıştır?

- A) İstanbul
- B) Erzurum
- C) Sivas

3. Kurtuluş Savaşının kararları **nerede** alınmış?

- A) Bandırma Vapuru'nda
- B) Samsun'da
- C) Türkiye Büyük Millet Meclisi'nde

Seni candan özledim,
Yollarını gözledim.
"Ne olur açıl!" dedim,
Benim güzel okulum



4) Yukarıdaki dörtlükte, aşağıdakilerden hangisi **yoktur**?

- A) Sabırsızlık
- B) Özlem
- C) Kızgınlık

5. Hangi cümledeki sözcük sayısı diğerlerinden **azdır**?

- A) Ailedeki mutluluğun kaynağı sevgi ve saygıdır.
- B) En iyi insan, başka insanlara iyilik edendir.
- C) Bir elin nesi var, iki elin sesi var.

"Azra ablasına bir kitap armağan etmeye karar verdi,kitabı almaya harçlığı yetmedi."

6) Cümlesindeki boşluğa, aşağıdaki sözcüklerden hangisinin yazılması **uygundur**?

- A) fakat
- B) için
- C) çünkü

7. Hangi seçenekte karışık olarak verilen kelimelerden bir cümle **oluşturulabilir**?

- A) olmalıyız-karşıdan-dikkatli-karşıya-geçerken
B) çok-yolculuk-yapmak-trenle
C) ziyaret-sık-sık-akrabalarımızı

8. “Kendine yapılan iyiliğe kötülükle karşılık vermek” anlamına gelen atasözü aşağıdakilerden hangisidir?

- A) Bugünün işini yarına bırakma.
B) Akıl yaşta değil, baştadır.
C) Besle kargayı oysun gözünü

*Ne kadar cömertsiniz çocuklar,
Ne kadar sevgili,
Yaşamayı sevdiğiniz,
Bakışlarınızdan belli.*

9. Şiire göre çocukların yaşamayı **sevdikleri nasıl anlaşılmaktadır**?

- A) Sevimli oluşlarından
B) Cömert oluşlarından
C) Bakışlarından













- I. Gören herkes köpeğime bayılıyor.
II. Eve geç dönmesinden dolayı ceza aldı.
III. Eksik çalıştığı için sınavdan düşük not aldı.

10. Yukarıdaki cümlelerden hangisi veya hangileri **sebep-sonuç** ilişkisidir?

- A) I - II - III B) I - III C) II - III









11. Sembollerle verilen sözcüklerin, sözlük sıralaması aşağıdakilerden hangisinde **doğru** verilmiştir?

- A)    
B)    
C)    



12. Balonların üzerine tarihler yazılmıştır. Tarihlerin yazımı yanlış olan balonlar patlatılacaktır. **Hangi renk balonlar patlatılmalıdır?**

- A)   Yeşil-Mavi
B)   Pembe-Mavi
C)   Pembe - Yeşil

13. “ Yol boyunca masmavi gökyüzünü tarladaki sarı buğday başaklarını ve tek katlı köy evlerini izledim.”

Tümcesinde geçen **varlıkların özelliklerini bildiren sözcükler** hangi seçenekte gösterilmiştir?

- A) Gökyüzü -tarladaki -köy evleri
- B) Masmavi -sarı -tek
- C) Boyunca -başaklarını -tek katlı



Ömer

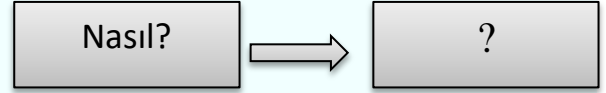
Yazılışları ve okunuşları aynı olan ama anlamları farklı olan kelimelere "sestpe (ps sesli)

14. Ömer'in açıklamasına göre aşağıdaki cümlelerin hangisinde **eş sesli** kelime yoktur?

- A) Tarlaya derin çukur kazdım.
- B) Fırtınaya yakalanan gemi karaya oturdu.
- C) Uzun kavak ağacı kurumuş.

15. Aşağıdaki cümlelerin hangisinde **olumsuz** bir ifade vardır?

- A) Aslı börek pişirmedi.
- B) Babam bacayı temizletiyor.
- C) Yavru köpek havlıyordu.



16. Yukarıdaki soruya aşağıdaki cümlelerin hangisi **cevap** olabilir?

- A) Yarın akşam sinemaya gidecekler.
- B) Çok eğlenceli bir oyun oynadık.
- C) Kitaplarımı sınıfta unutmuşum.

17. Aşağıdaki kelimeleri eş anlamlılarıyla eşleştirdiğimizde hangi kelime **dışarıda kalır**?

“ kalp - uyarı - vatan - tümce - ikaz - düş - yürek - yurt-cümle”

- A) cümle
- B) düş
- C) yurt



Özel isimler cümlelerin
neresinde olursa
olsun **büyük harfle**
başlar.

Emre

18. Emre'nin verdiği bilgiye göre
aşağıdakilerden hangisi **yanlıştır**?

- A) Okulumuzun kedisi Tekir akşama kadar okul bahçesinde dolaşır.
- B) Küçük Prens kitabı en çok okunan kitaplar arasındadır.
- C) Yarın cumhuriyet bayramı törenlerine katılacaz.

Fatma da Azra kadar mutlu
görünüyordu.

19. Yukarıdaki ifadeye göre Fatma ve Azra hangi yönden karşılaştırılmışlardır?

- A) Çalışkanlık
- B) Mutluluk
- C) Güven

Oltalarımızın ucuna
yemlerimizi taktık.

.....
.....

Uzun süre beklememize
rağmen hiç kimse balık
yakalayamadı.

20. Noktalı yere aşağıdaki cümlelerin hangisi getirilirse olayların oluş sırası bozulmamış olur?

- A) Sabah erkenden balık yakalamak için evden ayrıldık.
- B) Sonra hep beraber oltalarımızı denize attık.
- C) Erhan ve Onur sevinçle bağırdılar.

Cevap Anahtarı

1-B

2-A

3-C

4-C

5-A

6-A

7-A

8-C

9-C

10-C

11-C

12-A

13-B

14-C

15-A

16-B

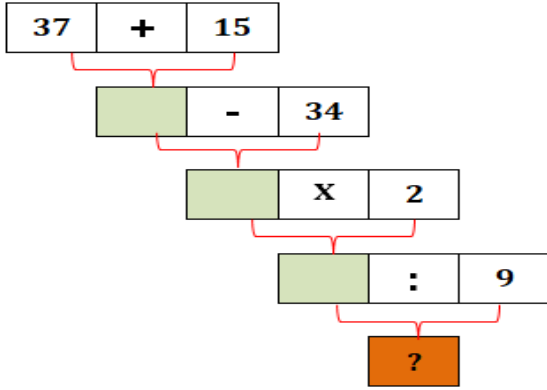
17-B

18-C

19-B

20-B

1.



Yukarıdaki şekle göre, soru işareti yerine kaç gelmelidir?

- A) 5 B) 4 C) 7

2. Umut, paketindeki bisküvilerden 5 arkadaşına ikişer tane verdi. Bir arkadaşına da 3 tane verdi. Paketin tamamında 20 bisküvi olduğuna göre, Umut'a kaç bisküvi kalmıştır?

- A) 6 B) 7 C) 10

3. Yandaki misketlerin sayısı ile ilgili, verilen bilgilerden hangisi **yanlıştır**?



- A) Misketlere 9 misket daha eklersem 2 deste misket olur.
B) Misketlerden 1 misket çıkarırsam misketlerin sayısı 1 deste olur.
C) Misketlerin sayısı 1 düzineden 1 fazladır.

4. Yandaki tabloya göre, boş kalan yerlere hangi sayılar gelmelidir?

+	28	17
37		
45		

A)

65	54
73	62

B)

65	54
63	62

C)

65	54
73	52

5. Berat ile Serhat'ın yaşları toplamı 18'dir. Kaç yıl sonra yaşları toplamı 24 olacaktır?

- A) 6 B) 9 C) 3

6. Bir bilet kuyruğunda Asmin baştan üçüncü sırada, sondan altıncı sıradadır. Buna göre bilet kuyruğunda kaç kişi vardır?

- A) 7 B) 8 C) 9

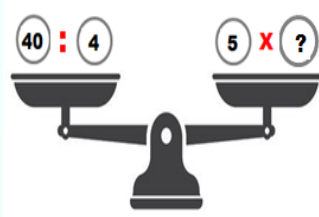
7. Menessa hafta içi günlerde yarım, hafta sonları çeyrek ekmek tüketiyor. Menessa'nın tükettiği ekmeklere göre, aşağıdakilerden hangisi söylenemez?

- A) 1 haftada, 7 yarım ekmek tüketmiştir.
- B) 1 haftada, 12 çeyrek ekmek tüketmiştir.
- C) 1 haftada, 3 bütün ekmek tüketmiştir.

8.

Bilgi: Bölme işlemi " : " şeklinde gösterilebilir.

Yandaki terazinin dengede durabilmesi için " ? " olan yere hangi sayı gelmelidir?



- A) 3
- B) 10
- C) 2


9. Aşağıda Mert'in belirttiği durum ile ilgili verilenlerden hangisi yanlıştır?



Kilogramı 4 TL olan domateslerden 3 kilogram aldım. Manava 20 TL ödedim.

- A) Domatesler 12 TL tutmuştur.
- B) Mert 8 TL para üstü almıştır.
- C) Domatesler 7 TL tutmuştur.

10.



Otobüse binen kişilerle ilgili verilen bilgilerden hangisi söylenemez?

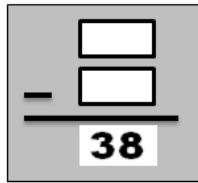
- A) Otobüse binen sondan dördüncü kişi Adar' dır.
- B) Sümeyye sondan beşinci kişinin arkasındadır.
- C) Gamze otobüse altıncı sırada binecektir.

11. Enes iki saat ders çalışmıştır. Enes ders çalışmayı yandaki saatte bitirdiğine göre, Enes saat kaçta ders çalışmaya başlamıştır?



- A) 4:30
- B) 4:00
- C) 5:30

12. Yandaki çıkarma işleminde çıkan sayı, farktan bir düzine fazladır. Buna göre, eksilen sayı kaçtır?

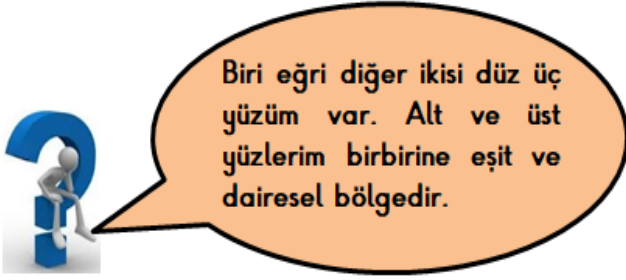


- A) 88
- B) 86
- C) 76




13. Bir ağılda bulunan koyunların ayak sayıları toplamı 24'tür. Buna göre bu ağılda kaç koyun vardır?

- A) 5 B) 8 C) 6

14.



Verilen ipuçlarına göre, benim adım aşağıdakilerden hangisidir?

- A)  **Koni**
- B)  **Silindir**
- C)  **Küp**

15.



Yukarıdaki hayvanlar bir haftada kaç kilogram saman tüketir?

- A) 56 B) 35 C) 21

NİSAN 2020						
P.tesi	Salı	Çar	Per	Cum	Ç.tesi	Paz
30	31	1	2	3	4	5
6	7	8	9	10	11	12
13	14	15	16	17	18	19
20	21	22	23	24	25	26
27	28	29	30	1	2	3

Not : 16 ve 17. Soruları yukarıdaki takvime göre cevaplayınız.

16. Yukarıdaki takvim ile ilgili verilen bilgilerden hangisi yanlıştır?


















- A) Çarşamba günleri müzik kursuna giden Meryem, nisan ayında 5 kere kursa gitmiştir.
- B) Nisan ayının son günü perşembedir.
- C) 23 Nisan Ulusal Egemenlik ve Çocuk Bayramı çarşamba günüdür.

17. 8 Nisan tarihinde ablası Sinan'ın doğum gününe 1 hafta 3 gün kalmış dediğine göre, Sinan'ın doğum günü tarihi nedir?

- A) 18 Nisan
- B) 12 Nisan
- C) 22 Nisan

18. Aşağıdaki sayılardan hangisi iki eş parçaya ayrılmaz?

- A) **3** B) **6** C) **8**

Çiçekçide Satılan Çiçekler	
Çiçekler	Sayıları
Papatya	    
Lale	 
Gül	  
Menekşe	      
Her şekil 4 varlığı göstermektedir.	

Aşağıda bir çiçekçi dükkânında bulunan çiçeklerin grafiği verilmiştir.

19 ve 20. soruları yukarıdaki grafiğe göre cevaplayınız.

19. Grafiğe göre aşağıda verilen bilgilerden hangisi **yanlıştır**?

- A) Çiçekçide 20 papatya bulunmaktadır.
- B) Çiçekçide bulunan güllerin sayısı, lalelerden 1 fazladır.
- C) Çiçekçide toplam 68 çiçek bulunur.

20. Çiçekçide kaç menekşe daha olursa, menekşelerin sayısı 3 deste olur?

- A) 23 B) 8 C) 2

CEVAP ANAHTARI

1. B
2. B
3. C
4. A
5. C
6. B
7. A
8. C
9. C
10. B
11. A
12. A
13. C
14. B
15. A
16. C
17. A
18. B
19. B
20. C

1. Aşağıdakilerden hangisinin yaptığı **doğru** bir davranıştır?

A) Mahmut, arkadaşını oyuna almadı.

B) Can, oyun kurallarına dikkat ederek oynadı.

C) Seher, oyunda istediği olmayınca oyundan çıktı.

2. Hangi öğrenci parasını tutumlu **kullanmamıştır**?

A) Mehmet ihtiyacı dışında harcamamıştır.

B) Hale bir kısmını biriktirmiştir.

C) Hasan sürekli kalemını kaybedip yenisini almaktadır.

★ Saygı

★ Sevgi

★ Küskünlük

★ Şefkat

★ Dayanışma

★ Dargınlık

3. Yukarıdakilerden kaç tanesi akrabalar arası dayanışmada **doğru** davranışlardandır?

A) 3

B) 4

C) 5

4. "Miray akraba ziyaretine giderken yolunu kaybetti."

Miray aşağıdakilerden hangisini bilirse, ailesine ulaşmak isteyenler Miray'a yardımcı olabilir?

A) Doğum tarihini

B) Öğretmenin adını

C) Babasının telefon numarasını

5) Aşağıdakilerden hangileri evde **yapabileceğimiz** işlerdendir?



Bulaşıkları toplama



Bulaşıkları yıkamak



Sofrayı hazırlamak

A)





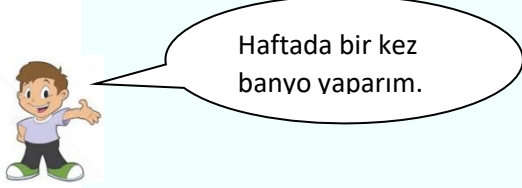
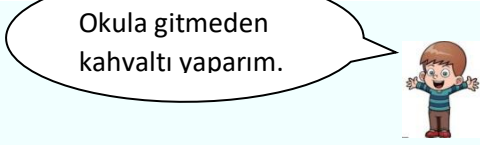
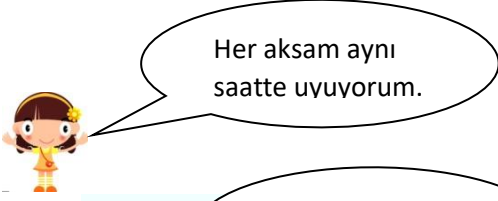
B)



C)



6. Aşağıdaki çocuklardan hangisi sağlığına dikkat **etmemektedir**?



7. "Temiz ve düzenli bir yerde yaşarsam olurum."



Can




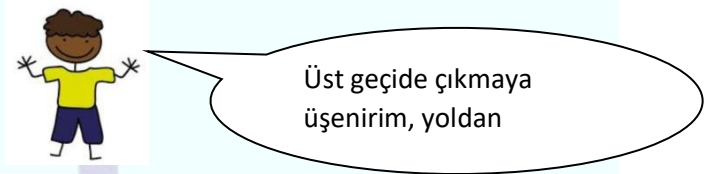
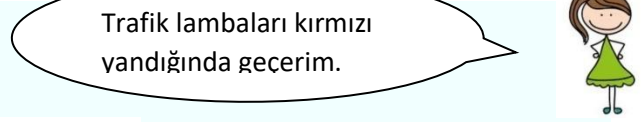
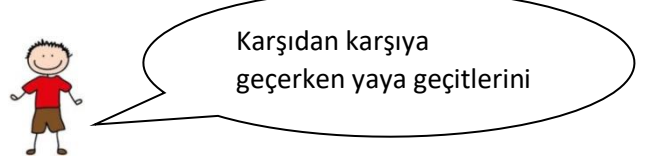
Can'ın söylediği cümlede boş bırakılan yere aşağıdakilerden hangisi **yazılamaz**?

A) Mutlu

B) Huzurlu

C) Sinirli

8. Aşağıdaki çocuklardan hangisinin yaptığı trafik kurallarına **uygundur**?



-Su

-Güneş ışığı

-Hava

9. Yukarıdakilerden kaç tanesi bitkilerin yaşamak ve büyümek için **ihtiyaç duyduklarındandır**?

A) 1

B) 2

C) 3

10. Aşağıdakilerden hangisi yaya olarak **uymamız gereken kurallardandır**?

A) Yaya kaldırımı olmayan sokak ve caddede yolun sağından yürümeliyiz.

B) Yaya kaldırımının istediğimiz yönünde yürüyebiliriz.

C) Yaya kaldırımının her zaman sol tarafından yürümeliyiz

11. Orman yangınlarından korunma ile ilgili aşağıda verilen bilgilerden hangisi **yanlıştır**?

- A)** Cam ve cam kırıklarını ormanda bırakmamalıyız.
- B)** Piknik alanlarını terk ederken eğer ateş yaktıysak söndüğünden emin olmalıyız.
- C)** Bir yangın gördüğümüzde 157'yi aramalıyız.

12. Teknolojik aletlerin kullanımı ile ilgili olarak aşağıdaki cümlelerden doğru olanlara (D), yanlış olanlara (Y) yazılacaktır.

Buna göre boş bırakılan kutucuklara sırası ile hangi harfler gelmelidir?

() Kombin ayarlarıyla oynamak, açıp kapatmak gaz sızıntılarına sebep olabilir.

() Uzun süreli kullanımı kulak sağlığınıza zarar verir.

() Tableti uzun süreli kullanmak gözümüze zarar verir.

A)	Y	B)	D	C)	Y
	D		D		D
	Y		D		D

13. Aşağıdaki verilen bilgilerden hangisi **yanlıştır**?

- A)** Vatanını seven herkes bayrağa ve milli marşına saygı göstermelidir.
- B)** Her bağımsız ülkenin bir bayrağı vardır.
- C)** İstiklal Marşı iki kıtadan oluşmaktadır.

14. Aşağıdaki verilen bilgilerden hangisi ya da hangileri doğrudur?

1-Zafer Bayramı her yıl 30 Ağustos'ta kutlanır.

2-Atatürk'ü Anma ve Gençlik ve Spor Bayramı her yıl 19 Mayıs'ta kutlanır.

3- Cumhuriyet Bayramı her yıl 23 Nisan'da kutlanır.

A) 1-2-3 **B)** 2-3 **C)** 1-2

15. 'Hayvanların da tüm canlılar gibi... ve ... ihtiyacı vardır.'

Yukarıdaki cümlede boş bırakılan yere aşağıdaki sözcüklerden hangisi yazılamaz?

- A)** Beslenmeye
- B)** Korunmaya
- C)** Barınmaya

16. Dini bayramlarımız ile ilgili olarak aşağıdaki cümlelerden doğru olanlara (D), yanlış olanlara (Y) yazılacaktır.

Buna göre boş bırakılan kutucuklara sırası ile hangi harfler gelmelidir?

() Dinî bayramlarda misafirlere ikram hazırlanır.

() Dinî bayramlar birlik ve beraberlik için önemli günlerdir.

() Dinî bayramlarda tatil yapmayız.

A)

Y
D
Y

B)

D
D
Y

C)

Y
D
D

17. Aşağıda bir tohumun büyüme aşamalarında bir yanlışlık yapılmıştır. Yanlışlığı düzeltmek için hangi numaraların yer değiştirmesi gerekir?

- 1- Tohumların sulanması
- 2- Tohumların uyanması
- 3- Yaprakların oluşması
- 4- Tohumların filizlenmesi

A) 1-2 B) 2-3 C) 3-4

18. Geri dönüşüm ile ilgi aşağıda verilen bilgilerden hangisi **yanlıştır**?

A) Geri dönüşüm sayesinde doğal kaynaklarımız korunur.

B) Geri dönüşüm sayesinde çöplerde atıklar birikir.

C) Geri dönüşüm ile enerji tasarrufu sağlanmış olur.

19. 'Kazalarda yaralıya müdahale edebilmek için bilginizin olması gerekir.'

Yukarıdaki cümlede boş bırakılan yere aşağıdaki sözcüklerden hangisi yazılması uygundur?

A) Sağlık

B) ilkyardım

C) Güvenlik

20) Aşağıda verilen bilgilerden hangisi **yanlıştır**?

A) Yönler Güneş'in hareketlerine göre belirlenmiştir.

B) İki tane ana yön vardır.

C) Güneş'in doğduğu yön doğudur.

Cevap Anahtarı

1-B

2-C

3-B

4-C

5-A

6-C

7-C

8-A

9-C

10-A

11-B

12-B

13-C

14-C

15-B

16-B

17-C

18-B

19-C

20-B

1. Answer the questions. (Soruları cevaplayalım.)


1- What is this?



2- What is that?



3- What is that?



4- What is this?



5- What is this?



2. Look at the pictures and answer the questions. (Resme bakalım ve soruları cevaplayalım.)



1- How many eyes?

.....

2- How many ears?

.....

3- How many mouths?

.....

4- How many feet?

.....

5- How many noses?

.....

6-How many fingers?

.....

3.!



- A- Touch your leg
- B- Show your foot
- C- Point to your knee

5. Look at my!



- A- ears
- B- head
- C- eyes

4. How many shoulders have you got?

- A- Two shoulders.
- B- Two shoulder.
- C- Five shoulders.



6. Görseli ifade eden seçenek hangisidir?



- A- Leg
- B- Arm
- C- Finger

Answer Key (Cevap anahtarı)

1. Answer the questions. (Soruları cevaplayalım.)

- 1- This is a mouth.
- 2- That is a nose.
- 3- That is a head.
- 4- This is a foot.
- 5- This is an ear.

2. Look at the pictures and answer the questions. (Resme bakalım ve soruları cevaplayalım.)

- 1- One eye / an eye.
- 2- Two ears.
- 3- One mouth / a mouth.
- 4- Two feet.
- 5- One nose / a nose.
- 6- Six fingers.

3. C
4. A
5. C
6. B

ÇALIŞMADA EMEĞİ GEÇEN ÖĞRETMENLERİMİZ

Abdurrahman CELAN Mehmet EKİNCİ
Seda AYDINLI Ekrem AYBEK
Kasım AYDIN

Bu çalışma Siirt Milli Eğitim Müdürlüğü öğretmenleri tarafından hazırlanmıştır. Emeklerinden dolayı teşekkür ederiz.