



ADİYAMAN İL MİLLÎ EĞİTİM MÜDÜRLÜĞÜ

KAZANIM PEKİŞTİRME ÇALIŞMASI

LIFE FITS INTO HOME

HAYAT EVE SIĞAR



3. SINIF
25-29 MAYIS

6.
SAYI

BU KİTAPÇIKTA

TÜRKÇE	15 SORU
MATEMATİK	15 SORU
FEN BİLİMLERİ	15 SORU
HAYAT BİLGİSİ	15 SORU
İNGİLİZCE	10 SORU

Yer almaktadır.

Not: Cevap anahtarı soruların yayımlandığı günden sonraki Salı günü
<http://adiyaman.meb.gov.tr/> duyurular sekmesinde açıklanacaktır.

Bu çalışmada yer alan Borsa İstanbul ilkokulu, Cumhuriyet İlkokulu, Mehmetçik İlkokulu, Menderes İlkokulu idareci ve öğretmenlerine teşekkürler...

ADİYAMAN MEM

2020

3. SINIF KAZANIM PEKİŞTİRME TESTİ

TÜRKÇE



Tilki çiftlikteki tavukları yemeyi çok istiyormuş. Ama çiftliğin sahibi kümesin deliklerini iyice kapamış. Tilki kümese girmenin yollarını aramaya başlamış. Ertesi gece tilki, eline bir doktor çantası alıp, kümese gelmiş. Tavuklara seslenmiş: -Tavuk kardeşlerim. Hasta olduğunuzu duydum. Size ilaç getirdim, demiş. Tavuklar tilkini hilesini anlamışlar, ona: -Biz hasta değiliz. Ama biraz bekle sahibimizin köpeği Karabaş hastaydı. Ona haber verelim demişler.

İlk beş soruyu yukarıdaki metine göre cevaplayınız.

1. Tilkinin amacı nedir?

- A) Tavuklarla arkadaş olmak
- B) Tavukları serbest bırakmak
- C) Tavukları yemek

2. Çiftliğin sahibi tilkinin kümese girmesini önlemek için ne yapmıştır?

- A) Tüm delikleri kapatmış.
- B) Kümesin kapısını kilitlemiş.
- C) Demirden bir kapı yapmış.

3. Tilki kümese girmek için nasıl bir hile düşünmüş?

- A) Yangın var diye bağırması!
- B) Doktor kılığına girmiş.
- C) Çiftçinin sesini taklit etmiş.

4. Tilkinin hilesini anlayan tavuklar tilkiyi kime yönlendirmişler?

- A) Çiftçiye
- B) Köpeğe
- C) Kediye

5. Aşağıdaki sözcüklerden hangisi yanlış yazılmıştır?

- A) Çifçi
- B) Tilki
- C) Kümes

- 6. I. Hepimiz yarışma için çok çalıştık.
II. Ailemiz başarmız için bizi kutladı.
III. Yarışmada birinci olduk.
IV. Sınıfça katılacağımız bir yarışma olduğunu öğretmenimiz söylemişti.**

Yukarıda anlatılan olayın oluş sırası aşağıdakilerden hangisinde doğru olarak verilmiştir?

- A) IV – II – I – III
- B) IV – I – III – II
- C) IV – III – II – I

- 7. “Cumartesi günü Lara, Menesse, Ozan, Murat ve Elif aileleriyle birlikte Çanakkale’ye gidecekler.”**

Yukarıdaki cümlede kaç tane özel isim vardır?

- A) 6
- B) 7
- C) 8

- 8. “Yasir ile beni ... tanıştırdın.”**

Yukarıdaki cümlede anlam bütünlüğünü korumak için aşağıdaki sözcüklerden hangisi getirilmelidir?

- A) sen
- B) onlar
- C) siz

9. Aşağıdaki cümlelerin hangisinde zıt anlamlı kelimeler bir arada kullanılmamıştır?

- A) İleri geri konuşmalarından rahatsız oldum.
- B) Aşağı yukarı sizin yaşlarda bir gençti.
- C) Her zaman tatlı tatlı gülümsemelisin

10. Aşağıdaki cümlelerin hangisinde özel ad kullanılmıştır?

- A) Kediler çok uysal hayvanlardır.
- B) Teyzemin kedisi Boncuk beyaz tüylüdür.
- C) Marketten kedi maması aldım.

11. “ Kök halindeki kelime aldığı ekle yeni bir anlam kazanıyorsa bu kelime türemiş kelime olur. Börek bir yiyecek iken + ci ekini alarak börek + ci = börekçi olup börek satan kişi oluyorsa börekçi türemiş kelimedir.”
Yukarıdaki bilgilere göre aşağıdaki cümlelerin hangisinde altı çizili kelime türemiş kelimedir?

- A) Ninemin gözlüğü kırıldı.
- B) Akşam bahçede ateşböceği gördük.
- C) Sabah kahvaltısında börek yedim.

12. Aşağıdaki cümlelerin hangisinde sebep – sonuç ilişkisi vardır?

- A) Çocuklar parka oynamaya gittiler.
- B) Park kalabalık olduğu için geri döndüler.
- C) Evde çizgi film izliyorlar.

13.



Çocuklar defterinize öyle bir kelime yazın ki hem eş anlamlısı, hem zıt anlamlısı olan eş sesli bir kelime olsun.

Yukarıdaki verilen bilgiye göre aşağıdaki kelimelerden hangisini yazan öğrenci doğru kelimeyi yazmış olur?

- A) Bina
- B) Kara
- C) Konak

14.

1	dayı	2	erkek	3	annemizin
4	deriz	5	kardeşine		

Yukarıda kelimelerle kurallı bir cümle oluşturacak olursak sıralama nasıl olmalıdır?

- A) 1-3-2-5-4
- B) 3-2-1-5-4
- C) 3-2-5-1-4

15. Zeynep arkadaşı Ece()nin ağladığını görünce ona ()

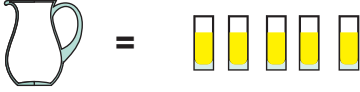
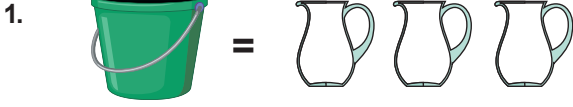
()Neden ağlıyorsun() diye sordu()

Yukarıdaki parantez () içlerine sırasıyla hangi noktalama işaretleri gelmelidir?

- A) (,) (:) (-) (!) (.)
- B) (') (:) (-) (.) (?)
- C) (') (:) (-) (?) (.)

3. SINIF KAZANIM PEKİŞTİRME TESTİ

MATEMATİK DERSİ




Yukarıdaki görsele aşağıdaki hangi bilgi yanlıştır?

- A) Bir kova su üç sürahi ile dolmaktadır.
B) Bir kova su 10 bardakla dolmaktadır.
C) Bir sürahi 5 bardakla dolmaktadır.

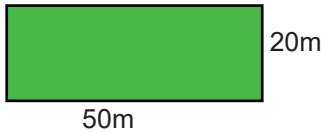


Yukarıdaki kovayı en çabuk aşağıdaki hangi nesne doldurur?



3. Beyza, resimdeki park alanının etrafındaki yolda 1 tur koşuyor.

Beyza kaç metre yol koşmuş olur?



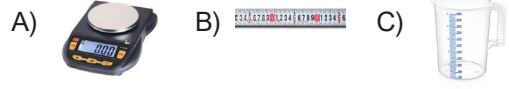
- A) 70m B) 140m C) 120m




Yukarıdaki karenin bir kenar uzunluğu üç santimetredir. Çevresi kaç santimetredir?

- A) 12cm B) 18cm C) 24cm

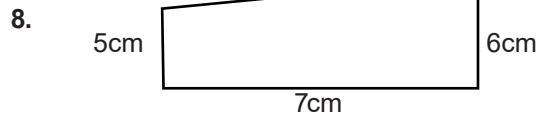
5. Aşağıdakilerden hangisi ile sıvıları ölçeriz?



6. Aşağıdakilerden hangisi daha az sıvı alır?



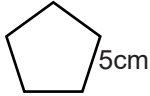
7. Aşağıdakilerden hangisi sıvı ölçüsü litre ile ilgilidir?



Yukarıdaki şeklin çevre uzunluğu 26 santimetredir. Şeklin verilmeyen kenar (?) uzunluğu kaç santimetredir?

- A) 8 B) 6 C) 4

9.

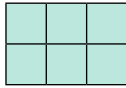


Yukarıdaki şeklin kenar uzunlukları eşittir.

Bir kenarı 5 cm şeklin çevre uzunluğu kaç santimetredir?

- A) 25 B) 30 C) 40

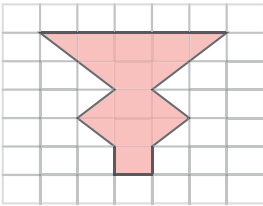
10.



Yukarıdaki şeklin alanı kaç birim kare dir?

- A) 5 B) 6 C) 9

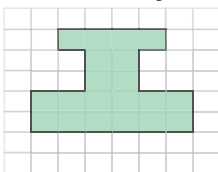
11.



Kareli kâğıt üzerine çizilen şeklin alanı kaç birim karedir?

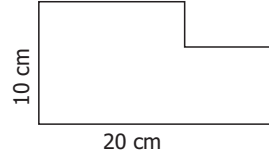
- A) 9 B) 10 C) 11

12. Aşağıdaki şekilde boyalı alan kaç birim karedir?



- A) 22 B) 20 C) 78

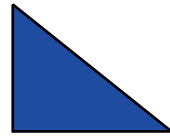
13.



Yukarıdaki şeklin çevre uzunluğu kaç santimetredir?

- A) 60 B) 30 C) 50

14.




Üçgen şeklindeki bir tarlanın bir kenar uzunluğu 50 santimetre diğer iki kenar uzunluğu ise 25 santimetredir.

Buna göre tarlanın çevre uzunluğu kaç santimetredir?

- A) 75 B) 125 C) 100

15.



Yukarıdaki şekil bir kenarının uzunluğu 3 cm olan üç eş kareden oluşmuştur.

Buna göre , şeklin çevresi kaç cm'dir?

- A) 8 B) 24 C) 38

3. SINIF KAZANIM PEKİŞTİRME TESTİ

FEN BİLİMLERİ

1. Aşağıdakilerden hangisi şehir elektriğiyle çalışmaz?

A)



B)



C)



Duvar saati

2. Aşağıdaki araçlardan hangileri haberleşme amacıyla kullanılır?

- A) Telefon, televizyon, radyo
- B) Televizyon, telefon, fırın
- C) Radyo, telefon, buzdolabı

3.



Yukarıdaki araç için hangisi söylenemez?

- A) İletişim amaçlı kullanılır.
- B) Aydınlatma amacıyla kullanılır.
- C) Şehir elektriğiyle çalışır.

4. Hangi elektrikli araç, kullanım alanına göre diğerlerinden farklıdır?

A)



B)



C)



5. Aşağıdakilerden hangisi soğutma amaçlı kullanılan araçlardan biridir?

A) Ütü

B) Klima

C) Mikser

6. Aşağıdakilerden hangisi kişisel bakımımızı yaparken kullandığımız elektrikli araçlardandır?

A)



B)



C)



7. Aşağıdakilerden hangisi elektrikle çalışır?

A) kaykay

B) mum

C) ütü

- 8. I. Buzdolabı II. Tost makinesi
- III. Tencere IV. Fırın
- V. Ütü VI. Mikser

Yukarıdakilerden hangileri mutfakta kullandığımız elektrikli araç gereçlerdendir?

A) I. II. III. ve IV

B) I. II. IV. ve VI

C) II. III. V. ve VI

9. Hangi elektrikli araç, kullanım alanına göre diğerlerinden farklıdır?



10. Aşağıdakilerden hangisi aydınlatma amacıyla kullanılır?

A) Televizyon B) Klima C) Masa Lambası

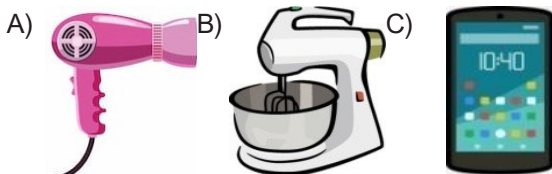
11.



Yukarıda verilen elektrikli araçların ortak özelliği hangisidir?

A) Aydınlatma alanında kullanılır.
B) Temizlik alanında kullanılır.
C) Soğutma alanında kullanılır.

12. Aşağıdaki elektrikli araçlardan hangisi iletişim alanında kullanılır?



13. Aşağıdaki eşleştirmelerden hangisi yanlıştır?

A) Çamaşır makinesi → Temizlik
B) Bilgisayar → Aydınlatma
C) Tren → Ulaşım

14. Aşağıda verilen elektrikli araçların hangisi hastanede kullanılmaktadır?

A) El feneri
B) Ultrason cihazı
C) Fırın

15. Aşağıdakilerden hangisi evimizde kullandığımız araç gereçlerden biri değildir?

A) Röntgen cihazı
B) Ütü
C) Çamaşır makinesi

3. SINIF KAZANIM PEKİŞTİRME TESTİ

HAYAT BİLGİSİ DERSİ

1. Aşağıda verilenlerden hangisi cansız bir varlıktır?




2. Aşağıdaki ürünlerden hangisi bitkilerden elde edilmektedir?



3. "Geniş yapraklı bitkiler iğne yapraklı bitkilerden daha fazla su tüketirler."

Aşağıdaki bitkilerden hangisi diğerlerinden daha az suya ihtiyaç duyar?



4. Aşağıdaki canlılardan hangisi hem et, hem de ot yiyerek beslenebilir?



5.



İnsanlar yukarıdaki verilen hayvanların kaç tanesinden beslenme yönüyle yararlanmaktadır?

A) 2 B) 3 C) 4

6. I. En güvenilir yön bulma yöntemi ağaç yosunlarıdır.
II. Ülkemizde minare kapıları güneyi gösterir.
III. Kutup Yıldızı'nın diğer adı Demirkazık'tır.
Yukarıda verilen bilgilerden hangileri doğrudur?

A) II-III B) I-II C) I-II-III

7.



Yukarıda verilen görselde yapılan bilinçsiz davranışlar aşağıdakilerden hangisine sebep olabilir?

A) Çevre kirliliği oluşabilir.
B) Bazı hayvanların nesli tükenebilir.
C) Ormanlık alanlar hızla yok olur.

8. Karınca yuvalarının toprak yığılı olan kısmı gösterir.

Yukarıda verilen cümlede boş bırakılan yere aşağıdakilerden hangisi getirilmelidir?

A) kuzeyi B) güneyi C) batıyı

9. Aşağıda verilen hayvanlardan hangisinin neslinin tükenme tehlikesi vardır?



10. Evinde bitki yetiştirmek isteyen birisi aşağıdakilerden hangisi ile ilgilenmez?

A) Yem B) Toprak C) Saksı

11. Aşağıdakilerden hangisi doğada daha çabuk yok olur?



12.



Yukarıdaki durumdan öncelikli olarak etkilenen canlı aşağıdakilerden hangisidir?



13. Aşağıdaki sivil toplum örgütlerinden hangisi çevre ile ilgili faaliyetler yürütmektedir?




14. Aşağıdakilerden hangisi bir yön değildir?

A) Batı B) Kuzey C) Orta

15. Resimdeki varlıkta aşağıdaki özelliklerinden kaç tanesi vardır?

- * Büyüme
- * Beslenme
- * Çoğalma
- * Hareket etme



A) 2 B) 3 C) 4

3. SINIF KAZANIM PEKİŞTİRME TESTİ

İNGİLİZCE

1. Görsellerdeki hayvanların isimleri hangi seçenekte doğru verilmiştir?




- A) elephant - ladybird
B) horse - bee
C) ladybird - turtle

2. What color is the monkey?



- A) It is black.
B) It is orange.
C) It is brown.

3. How many bees are there?



- A) There are two bees.
B) There are three bees.
C) There are four bees.

4. Is the shark purple?



- A) No, it is not
B) No, it can't
C) Yes, it is

5. Is the frog small?



- A) No, it is not
B) Yes, it is not
C) Yes, it is

	like	don't like
Yusuf		
Emir		
Ömer		

6, 7 ve 8. Soruları yukarıdaki tabloya göre çözünüz?

6. Tabloya göre hangi seçenek doğrudur?

- A) Yusuf likes bee
B) Ömer likes horse
C) Emir likes seagull

7. Tabloya göre Yusuf ne söylemiş olabilir?

- A) I don't like seagull
B) I don't like bee
C) I don't like dolphin

8. Tabloya göre Emir ne söylemiş olabilir.

- A) I like whale but I don't like seagull
B) I like dolphin but I don't like bee
C) I like horse but I don't like pigeon

- 9.



Yukarıdaki resimlerle hangisi anlatılmak istenmiştir?

- A) I like shark
B) I don't like bear
C) I don't like ladybird

10. How many butterflies are there?



- A) There are three butterflies
B) There are six butterflies
C) There are eight butterflies

MANİLER

Bayram neşe günüdür,
Müminin sevincidir,
Bugün sevinmek artık,
Orucun ürünüdür.

Komşular bayramlaşır,
Çoluk çocuk dolaşır,
Şeker toplar evlerden,
Kimileri şakalaşır.

Görülür sevgi seli,
Kokar bahçenin gülü,
Bayram günü gelince,
Öpülür büyük eli.

Hep tatlı konuşmalı,
Fakirle tanışmalı,
Tereddüt edilince,
Bilene danışmalı.

Bayram mübarek olsun,
Herkes huzuru bulsun,
Barışsın küs olanlar,
Hoca neşeyle dolsun!

