



LGS

Çalışma Kitabı

LGS’de Çıkmış Sorular ve
MEB Örnek Soruları

SÖZEL

Türkçe

TC. Inkılap Tarihi ve Atatürkçülük


Din Kültürü ve Ahlak Bilgisi

İngilizce



www.meb.gov.tr

Bu kitap Milli Eğitim Bakanlığı
Ölçme Değerlendirme ve Sınav Hizmetleri Genel Müdürlüğü tarafından hazırlanmıştır.



LGS

Çalışma Kitabı

LGS’de Çıkmış Sorular ve
MEB Örnek Soruları

SÖZEL

Türkçe

TC. İnkılap Tarihi ve Atatürkçülük

Din Kültürü ve Ahlak Bilgisi

İngilizce



www.meb.gov.tr

Bu kitap Milli Eğitim Bakanlığı

Ölçme Değerlendirme ve Sınav Hizmetleri Genel Müdürlüğü tarafından hazırlanmıştır.



İSTİKLÂL MARŞI

Korkma, sönmez bu şafaklarda yüzen al sancak;
Sönmeden yurdumun üstünde tüten en son ocak.
O benim milletimin yıldızıdır, parlayacak;
O benimdir, o benim milletimindir ancak.

Çatma, kurban olayım, çehreni ey nazlı hilâl!
Kahraman ırkıma bir gül! Ne bu şiddet, bu celâl?
Sana olmaz dökülen kanlarımız sonra helâl.
Hakkıdır Hakk'a tapan milletimin istiklâl.

Ben ezelden beridir hür yaşadım, hür yaşarım.
Hangi çılgın bana zincir vuracakmış? Şaşarım!
Kükremiş sel gibiyim, bendimi çiğner, aşarım.
Yırtarım dağları, enginlere sığmam, taşarım.

Garbın âfâkını sarmışsa çelik zırhlı duvar,
Benim iman dolu göğsüm gibi serhaddim var.
Ulusun, korkma! Nasıl böyle bir imanı boğar,
Medeniyet dediğin tek dişi kalmış canavar?

Arkadaş, yurduma alçakları uğratma sakın;
Siper et gövdeni, dursun bu hayâsızca akın.
Doğacaktır sana va'dettiği günler Hakk'ın;
Kim bilir, belki yarın, belki yarından da yakın.

Bastığın yerleri toprak diyerek geçme, tanı:
Düşün altındaki binlerce kefensiz yatanı.
Sen şehit oğlusun, incitme, yazıktır, atanı:
Verme, dünyaları alsan da bu cennet vatanı.

Kim bu cennet vatanın uğruna olmaz ki feda?
Şüheda fışkıracak toprağı sıksan, şüheda!
Cânı, cânânı, bütün varımı alsın da Huda,
Etmesin tek vatanımdan beni dünyada cüda.

Ruhumun senden İlahî, şudur ancak emeli:
Değmesin mabedimin göğsüne nâmahrem eli.
Bu ezanlar -ki şehadetleri dinin temeli-
Ebedî yurdumun üstünde benim inlemeli.

O zaman vecd ile bin secde eder -varsa- taşım,
Her cerihamdan İlahî, boşanıp kanlı yaşım,
Fışkırır ruh-ı mücerret gibi yerden na'sım;
O zaman yükselerek arşa değer belki başım.

Dalgalan sen de şafaklar gibi ey şanlı hilâl!
Olsun artık dökülen kanlarımın hepsi helâl.
Ebediyyen sana yok, ırkıma yok izmihlâl;
Hakkıdır hür yaşamış bayrağımın hürriyet;
Hakkıdır Hakk'a tapan milletimin istiklâl!

Mehmet Âkif Ersoy


GENÇLİĞE HİTABE

Ey Türk gençliği! Birinci vazifen, Türk istiklâlini, Türk Cumhuriyetini, ilelebet muhafaza ve müdafaa etmektir.

Mevcudiyetinin ve istikbalinin yegâne temeli budur. Bu temel, senin en kıymetli hazinendir. İstikbalde dahi, seni bu hazineden mahrum etmek isteyen dâhilî ve hâricî bedhahların olacaktır. Bir gün, istiklâl ve cumhuriyeti müdafaa mecburiyetine düşersen, vazifeye atılmak için, içinde bulunacağın vaziyetin imkân ve şeraitini düşünmeyeceksin! Bu imkân ve şerait, çok namûsait bir mahiyette tezahür edebilir. İstiklâl ve cumhuriyetine kastedecek düşmanlar, bütün dünyada emsali görülmemiş bir galibiyetin mümessili olabilirler. Cebren ve hile ile aziz vatanın bütün kaleleri zapt edilmiş, bütün tersanelerine girilmiş, bütün orduları dağıtılmış ve memleketin her köşesi bilfiil işgal edilmiş olabilir. Bütün bu şeraitten daha elîm ve daha vahim olmak üzere, memleketin dâhilinde iktidara sahip olanlar gaflet ve dalâlet ve hattâ hıyanet içinde bulunabilirler. Hattâ bu iktidar sahipleri şahsî menfaatlerini, müstevlîlerin siyasî emelleriyle tevhit edebilirler. Millet, fakr u zaruret içinde harap ve bîtap düşmüş olabilir.

Ey Türk istikbalinin evlâdı! İşte, bu ahval ve şerait içinde dahi vazifen, Türk istiklâl ve cumhuriyetini kurtarmaktır. Muhtaç olduğun kudret, damarlarındaki asil kanda mevcuttur.

Mustafa Kemal Atatürk



MUSTAFA KEMAL ATATÜRK

İÇİNDEKİLER

TÜRKÇE

1. Tema	1
2. Tema	15
3. Tema	31
4. Tema	49
5. Tema	69
6. Tema	75
7. Tema	81
8. Tema	87
Cevap Anahtarı	94

İNKILAP TARİHİ VE ATATÜRKÇÜLÜK

1. Ünite	95
2. Ünite	101
3. Ünite	113
4. Ünite	123
5. Ünite	129
6. Ünite	131
Cevap Anahtarı	134

DİN KÜLTÜRÜ VE AHLAK BİLGİSİ

1. Ünite	135
2. Ünite	145
3. Ünite	155
4. Ünite	163
5. Ünite	167
Cevap Anahtarı	170

İNGİLİZCE

Unit 1	171
Unit 2	181
Unit 3	189
Unit 4	199
Unit 5	205
Unit 6	215
Unit 7	221
Unit 8	227
Unit 9	231
Unit 10	233
Cevap Anahtarı	236
2018-2019 Merkezi Sınav Soruları (Sözel Bölüm)	237
Cevap Anahtarı	258
2019-2020 Merkezi Sınav Soruları (Sözel Bölüm)	259
Cevap Anahtarı	282



8. SINIF TÜRKÇE

1. Tema

1. Ünlü besteci Beethoven, yirmili yaşlarının sonlarına doğru işitme sorunları yaşamaya başlamıştı. Bu sorunlar - - - - neredeyse hiçbir şey - - - - hâle gelen Beethoven'ın bu esnada yeni bir yöntem geliştirdiği söylenir. Beethoven, piyanosuna tutturduğu metal bir çubuğu - - - - kemik titreşimi yoluyla sesleri duymaya çalışıyordu. Bu yöntemde, piyanoda oluşan titreşimler metal çubuktan geçerek dişlere ulaşıyor ve buradan kafatası aracılığıyla iç kulağa iletiliyordu.

Bu metinde boş bırakılan yerlere sırasıyla aşağıdakilerin hangisinde verilenler getirilmelidir?

- A) çözümlünce - algılayamaz - tutarak
B) ilerleyince - duyamaz - ısırarak
C) ortaya çıkınca - işitemez - fırlatarak
D) yaşanınca - sezemez - bağlayarak

2.
• Ben Lecomte, Atlas Okyanusu'nu yüzme tahtası kullanmadan yüzerek geçen ilk kişidir.
• Fransız yüzücünün 1998 yılında yaptığı bu yolculuk yetmiş üç gün sürmüştür.

Bu iki cümlede ifade edilenlerin anlamca doğru bir biçimde birleştirilmiş hâli aşağıdakilerden hangisidir?

- A) Atlas Okyanusu'nu yüzme tahtası kullanmadan yüzerek geçen Ben Lecomte'un 1998 yılında Fransa'da yaptığı bu yolculuk yetmiş üç gün sürmüştür.
B) 1998'de yetmiş üç gün süren yolculuğunda Atlas Okyanusu'nu geçen ilk kişi olan Ben Lecomte adlı yüzücü, Fransız kökenlidir.
C) Atlas Okyanusu'nu yüzme tahtası kullanmadan yüzerek geçen ilk kişi olan Fransız yüzücü Ben Lecomte, yetmiş üç gün süren bu yolculuğu 1998'de gerçekleştirmiştir.
D) Ben Lecomte, Atlas Okyanusu'nu 1998'de yüzme tahtası kullanmadan yetmiş üç günde yüzerek geçen ilk Fransız yüzücüdür.

3. Edebiyatta ve sanatta unutulmaz dönemler vardır. Tüm iyi şair ve yazarlar, yetenekli ressam ve heykeltıraşlar ortaya çıkmak için o dönemleri beklemiştir sanki. Böyle dönemlerde, olağanüstü ikramların bulunduğu sofrada ne yiyeceğini şaşırması bir misafir duygusuyla "Ama haksızlık bu!" diye düşünürsünüz.

Bu metinde yazarın "Ama haksızlık bu!" demesine sebep olan durum aşağıdakilerden hangisidir?

- A) İyi seçeneklerin çokluğu karşısında kararsızlık yaşanması
B) Nitelikli sanatçıların, kendi çağına denk gelmemesi
C) Eser çeşitliliğinin, kalitenin düşmesine yol açması
D) Bazı dönemlerin başarılı sanatçılardan yoksun olması

4. Öğretmen:
— Kitap okuyor musunuz, Ümit Bey?
Ümit Bey:
— Okumuyorum, bunun eksikliğini de hissetmiyorum.
Öğretmen:
— - - - -

Bu konuşmada boş bırakılan yere aşağıdakilerin hangisi getirilirse Ümit Bey'in dile getirdiği durumun, çevresi üzerindeki olumsuz etkisi vurgulanmış olur?

- A) Sizin adınıza çok üzıldüm.
B) Ama biz hissediyoruz.
C) İnsanlar bu durumu nasıl karşılıyor?
D) İleride pişman olabilirsiniz.

5. 1970'li yıllardan itibaren iş dünyasında kullanılmaya başlanan el yazısı biliminden (grafoloji), başta personel seçimi olmak üzere birçok alanda yararlanılmaktadır. El yazısı bilimi sayesinde herhangi birinin kişilik özellikleri hakkında bilgi sahibi olunabilmektedir.

Özel bir şirketin sahibi olan Hilal Hanım, el yazısı bilimiyle ilgili şunları bilmektedir:

- Bastırarak yazan insanlar kuralcı ve titizdir. Silik bir şekilde yazanların ise öz güveni düşüktür.
- Harfler sağa doğru yatıklaştıkça davranışlarda duygusallık, sola doğru yatıklaştıkça mantık ağır basar.
- Kelimelerin arasının açık olması insanlardan uzak durma eğilimini, yakın olması ise insanlarla iç içe olma isteğini gösterir.

Hilal Hanım "insanlarla kaynaşmayı seven, akılcı davranan, disiplinli" birini işe almak istemektedir. Bunun için de başvuran adaylara, aynı niteliklere sahip bir kurşun kalem ve çizgisiz kâğıt vererek onlardan belirli bir metni yazmalarını istemiştir.

Bu açıklamaya göre Hilal Hanım, aşağıda el yazısı örnekleri verilen kişilerden hangisini işe almalıdır?

A)

Her çocuk aslında doğuştan bir bilim insanıdır, yaşadığı çevreye büyük bir merak ve keşfetme arzusuyla bakar.
Kübra İnci

B)

Her çocuk aslında doğuştan bir bilim insanıdır, yaşadığı çevreye büyük bir merak ve keşfetme arzusuyla bakar.
Ahmet YAŞAR

C)

Her çocuk aslında doğuştan bir bilim insanıdır, yaşadığı çevreye büyük bir merak ve keşfetme arzusuyla bakar.
Aslı NUR

D)

Her çocuk aslında doğuştan bir bilim insanıdır, yaşadığı çevreye büyük bir merak ve keşfetme arzusuyla bakar.
Salih CAN

6. Yazarın, hikâyede süslü anlatımı öne çıkarması okura yüküdür. Süslü dil, konuyu gölgede bırakarak okurun kafasını karıştırır. Bu yüzden yazarın anlatımıyla hikâye arasında mesafe olması gerektiğine inanıyorum. Başka bir deyişle üslubun cüssesi hikâyeyi gölgelememeli.

Bu metindeki altı çizili sözle, aşağıdakilerden hangisinin yanlışlığı vurgulanmaktadır?

- A) Hikâyelerin, yazarın yaşamından izler taşımasının
- B) Hikâye dilini, okurun beğenisi doğrultusunda oluşturmanın
- C) Sanatlı dilin, hikâyede anlatılanların önüne geçmesinin
- D) Hikâye yazarlarının, okuru yönlendirmeye çalışmasının

7.

Beyin üzerine yapılan bazı araştırmalar, beynin sağ ve sol yarım kürelerinin farklı fonksiyonlara sahip olduğunu göstermiştir. Uzmanlar, bu yarım kürelerden baskın olan tarafa göre kişinin yeteneklerinin farklı olacağını ve bu yarım küreleri geliştirmek için farklı egzersiz uygulamaları yapılabileceğini belirtiyor. Araştırmalara göre,

Beynin sol yarım küresi baskın olan kişilerin genel özellikleri şunlardır:

- Matematiksel işlemlerde başarılıdır.
- Dilî iyi kullanır.
- Net sonuçlarla ilgilenir.
- Sebep-sonuç ilişkisini iyi kurar ve analitik düşünme becerisine sahiptir.
- Bilimsel konularda başarılıdır.
- Mantıksaldır.
- Yarararcıdır.



Beynin sağ yarım küresi baskın olan kişilerin genel özellikleri şunlardır:

- Sanatsal konularda yeteneklidir.
- Gerçeküstü hayaller kurar, mecaz anlamlarla ilgilenir.
- İnsanı insan yapan özellikleri (empati, şefkat...) ağır basar.
- Yeni şeyler üretir.
- Boyutları iyi algılar.
- Duygusaldır.
- Niyete bakar, iyi niyet arar.

Bu metinden hareketle, beynin sol yarım küresini geliştirmek isteyen birinden,

- I. Bulmaca çözmek
- II. Satranç oynamak
- III. Bir müzik aleti çalmak

egzersizlerinden özellikle hangilerini tercih etmesi beklenir?

- A) Yalnız I.
- B) Yalnız III.
- C) I ve II.
- D) II ve III.

8. "Çiçekler soldu." cümlesinde "soldu" sözcüğü çekimli bir "fiil"dir ve cümleinin yüklemidir. "Solan çiçekleri vazodan aldı." cümlesinde ise "solan" sözcüğü fiil anlamını korumakla birlikte sıfat görevinde olduğu için "sıfat-fiil"dir.

Bu açıklamaya göre aşağıdaki cümlelerin hangisinde sıfat-fiil kullanılmıştır?

- A) Çocuk, yıkanacak kıyafetlerini çamaşır makinesine koymuştu.
- B) Yağmur dinince rengârenk bir gökkuşağı belirdi gökyüzünde.
- C) Büyük sürprizi bozmamak için arkadaşına mecburen yalan söyledi.
- D) Zorlansalar da karşı kıyıya yüzerek geçmişlerdi.

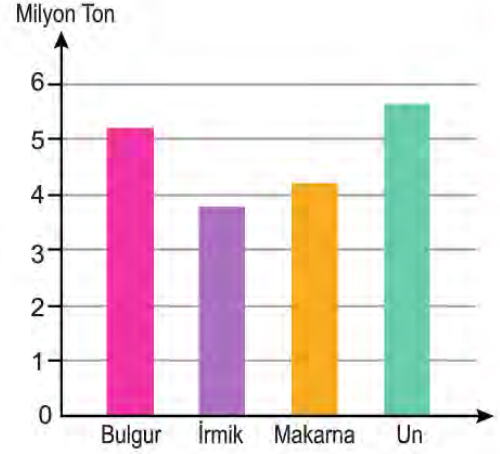
9. Bugün çiçeklerin, ağaçların yüzü güldü. Benim de... Dört beş aylık ayrılıktan sonra "Merhaba!" dedi yağmur. Sabah kahvaltıda duydum şıpırtıyı. Çayımı kaptığım gibi fırladım balkona. Gerçekten yağıyor. Gök yarı güneşli... Her zamanki gibi değil yağış. "Hadi, biraz daha!" diyorum içimden. Islattı epey. Beni, bahçeyi... Tozları yıkadı. Şimdi pırıl pırıl her yer.

Bu metnin anlatımında aşağıdakilerden hangisi yoktur?

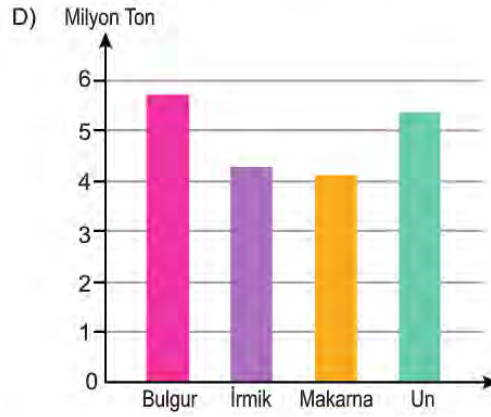
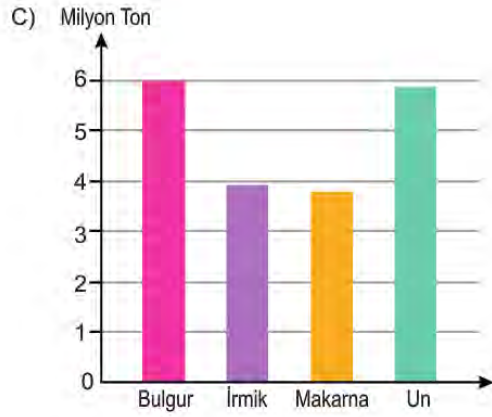
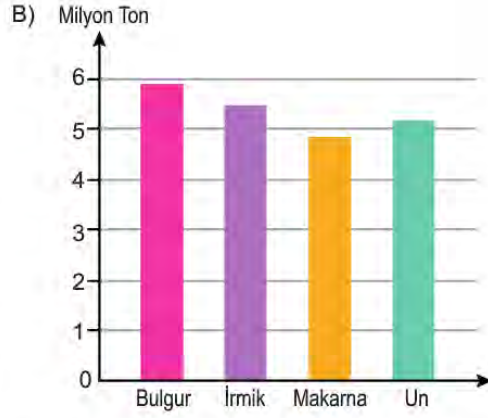
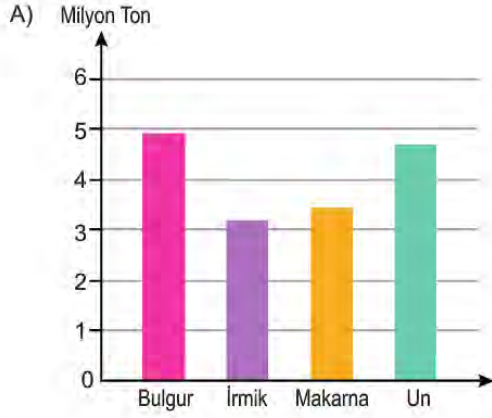
- A) Farklı duyarlarla ilgili ayrıntılar
- B) Mecazlı söyleyiş
- C) Karşılaştırma
- D) Abartma

10. Yandaki grafikte bir ülkenin 2015 yılındaki buğday ürünleri ihracat miktarı gösterilmiştir. Bu ülkenin 2016'daki buğday ürünleri ihracat miktarı ile ilgili şu sonuçlara ulaşılmıştır:

- En az ihraç edilen ürün makarnadır.
- Un ihracatında 2015'e göre azalma gözlenmiştir.
- 2015'te en çok ihraç edilen ikinci ürün, 2016'da ilk sıraya yükselmiştir.
- 2015'te en az ihraç edilen ürün, 2016'da en çok ihraç edilen üçüncü ürün olmuştur.



Buna göre sözü edilen ülkenin 2016 yılı buğday ürünleri ihracatını gösteren grafik aşağıdakilerden hangisi olabilir?



11. Bazı Nasrettin Hoca fıkralarında, insanlara bireysel özelliklerini göz önünde bulundurarak davranmak gerektiği vurgulanır.

Aşağıdaki fıkralardan hangisi bu cümlede sözü edilen duruma örnek olabilir?

- A) Adamın birine babasından büyük bir miras kalır. Kısa zamanda bu mirası tüketen adam, Hoca'ya gelerek "Elimde avucumda hiçbir şey kalmadı Hoca'm, bana bir çare!" diye yalvarır. Hoca, gayet sakin bir şekilde "Merak etme, yakında bu dertten kurtulursun." der. Adam, sevinçle "Yoksa tekrar zengin mi olacağım?" deyince de "Hayır, parasızlığa alışacaksın!" karşılığını verir.
- B) Hoca'nın cimri komşusu bir gün göle düşer. Arkadaşları ona yardım etmek için "Elini ver de seni çıkaralım." derler. Fakat cimrilik, ruhuna öyle işlemiştir ki boğulma tehlikesiyle karşı karşıya kalmasına rağmen elini vermek istemez. Komşusunu çok iyi tanıyan Hoca "Al elimi de seni çıkarayım." deyince adam, Hoca'nın elini tutar ve boğulmaktan kurtulur.
- C) Nasrettin Hoca bir gün yoğurt mayalamak için göl kenarına gitmiş. Göle kaşık kaşık yoğurt dökmeye başlamış. Gölün etrafında piknik yapan köylüler şaşırır. İçlerinden biri, Hoca'nın yanına gelerek şöyle demiş:
 – Hayırdır Hoca'm, ne yapıyorsun böyle?
 – Göle yoğurt çalıyorum.
 – İlahi Hoca'm, göl maya tutar mı?
 – Ya tutarsa...
- D) Hoca bir gün pazarda bir papağanın çok pahalı satıldığını görünce gidip evden hindisini getirmiş ve yüksek bir fiyata satmaya çalışmış. Yanındakiler gülererek "Hoca'm, bu hindi bu kadar para eder mi?" diye sormuşlar. Hoca, papağana da çok yüksek bir fiyat istediklerini söyleyince "O papağan konuşur da ondan pahalıdır." demişler. Hoca, "O konuşursa bu da düşünür." cevabını vermiş.

12. ULVIYE — Kızım, bugün Hüsrev'in odasına gazete götürdün mü?

HİZMETÇİ — Bir saat evvel götürdüm.

ULVIYE — Umarım, haberi okumamıştır.

HİZMETÇİ — Bilmiyorum, efendim! Ben içeriye girdiğimde yatağında oturuyordu. Eliyle, gazeteyi bırakmamı işaret etti. Ben de iskemlenin üzerine bırakıp çıktım.

ULVIYE — Peki, kızım!

ULVIYE — Demin mutfak katına indiğinde henüz okumamıştı. Ya şimdi okursa?

NEVZAT — Yapacak bir şey yok artık.

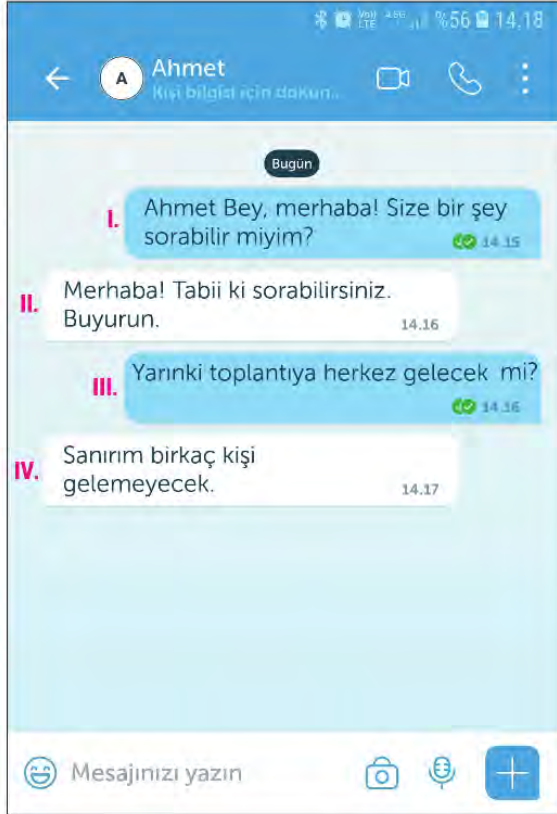
ULVIYE — Odasına girip belli etmeden alamaz mıyız gazeteyi?

NEVZAT — O zaman büsbütün şüphelenir.

Aşağıdaki yay ayraç içi ifadelerden hangisi bu metnin herhangi bir yerinde kullanılamaz?

- A) (Hatırlamak için elini çenesinin altında gezdirdikten sonra)
 B) (Hüsrev'e tedirgin gözlerle bakar.)
 C) (Gözlerini Ulviye'ye dikip bir süre susar.)
 D) (Odada ikisi kalmıştır.)

13.



Bu yazışmada numaralanmış bölümlerin hangisinde bir yazım yanlışı vardır?

- A) I. B) II. C) III. D) IV.

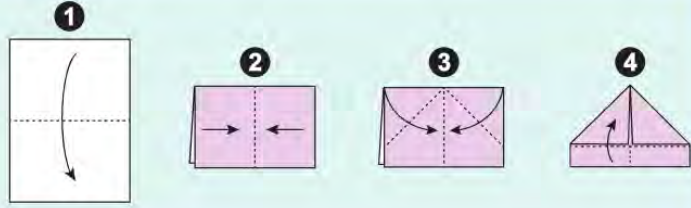
14. Bir kral, huzuru en güzel resmedecek sanatçıya büyük bir ödül vereceğini ilan eder. Yarışmaya çok sayıda sanatçı katılır. Kral, resimlerden sadece ikisini beğenir. Resimlerin birinde bir göl vardır. Göl, etrafında yükselen dağların görüntüsünü yansıtmaktadır. Üst tarafta pamuk beyazı bulutlar gökyüzünü süslemektedir. Resim, bakanlara huzur vermektedir. Diğer resimde de dağlar vardır ama engebeli ve çıplak dağlar... Dağların üstünde gri bulutlarla bezeli, kasvetli bir gökyüzü bulunmaktadır. Kısaca resim, pek de öyle huzur verecek türden değildir. Fakat kral, resme dikkatli bakınca şelalenin ardındaki çalılığın üstünde bir anne kuş ile yavrusunu görür. Sertçe akan suyun orta yerinde anne kuşun kurduğu yuva, görenlere eşsiz bir rahatlatma sunmaktadır. Ödülü kim kazanır dersiniz? Tabii ki ikinci resim... Kral bunun nedenini şöyle açıklar: - - -

Bu metnin sonuna düşüncenin akışına göre aşağıdaki cümlelerden hangisi getirilmelidir?

- A) Huzur hiçbir gürültünün, sıkıntının ya da zorluğun bulunmadığı yerdedir.
 B) Huzur, olumsuzlukların içinde bile olumlu olanı bulabilmektir.
 C) Sanatçının iç dünyasındaki huzur, eserlerine de yansır.
 D) Huzuru bulmak için doğru yerde aramak gerekir.

15. Aşağıda kâğıttan gemi yapımının ilk dört aşamasının anlatımı görselleriyle birlikte verilmiştir.

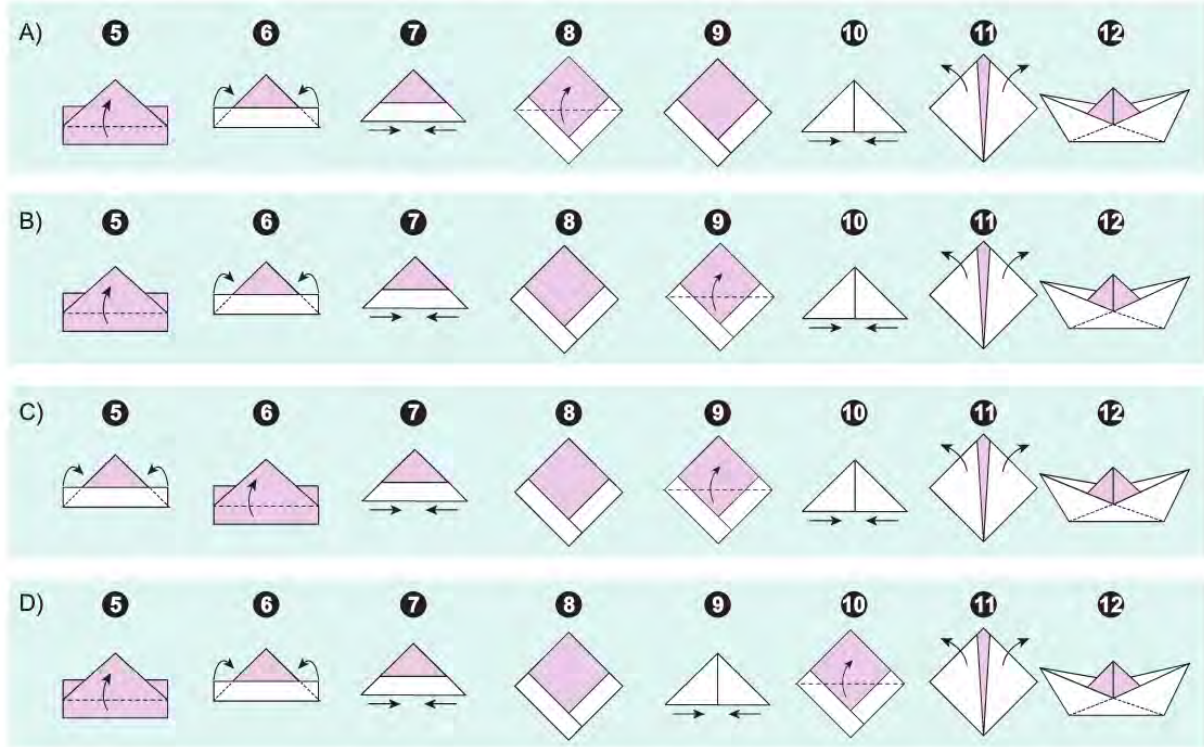
Ön yüzü beyaz, arka yüzü pembe olan dik-dörtgen bir kâğıt ok yönünde katlanır. Oluşan şekil tekrar ikiye katlanır ve ortaya çıkan bu kat yeniden açılır. Ortada bir çizgi elde edilir. Üstteki iki köşe ortadaki çizgiye doğru katlanır. Üçgenin altında kalan şeritlerden öndeki, yukarı doğru katlanır.



Kalan aşamalar şu şekildedir:

Kâğıt ters çevrilip kâğıdın diğer şeridi de yukarı doğru katlanır. Daha sonra köşeleri arkaya doğru katlanır. Oluşan üçgenin alt köşeleri tutulup birbirine doğru itilir ve düz bir kare elde edilir. Üst kanat yukarı doğru katlanıp aynı şey diğer tarafta da tekrar edildikten sonra yine bir üçgen elde edilir. Bu üçgenin alt köşeleri tutulup içe doğru itilir. Üst köşeler tutulur ve birbirinden ayrılır. Böylece ortaya bir gemi çıkar.

Bu metindeki açıklamaları içeren görseller aşağıdakilerin hangisinde sırasıyla verilmiştir?



















16. Bir kelime oyununda kişilerden, içinde harfler olan kutuları yan yana getirerek anlamlı sözcükler oluşturmaları istenmektedir. Bir kelimeden yola çıkılarak ikinci bir kelime oluşturulurken şu kurallara uyulacaktır:

- Kutuların yer değiştirmesi zorunludur.
- Kutulardaki harfler, kendi içinde yer değiştirebilir.

Örnek:   →  

Bu bilgilere göre aşağıdakilerin hangisindeki kelimeler verilen kurallara uygun oluşturulmuştur?

- A)   →  
- B)   →  
- C)   →  
- D)   →  

17. Aşağıdaki dizelerden hangisi tema bakımından diğerlerinden farklıdır?

- A) Hayal meyal şeylerden ilk aşkımız
Hatırası bile yabancı gelir
Hayata beraber başladığımız
Dostlarla da yollar ayrıldı bir bir
Gittikçe artıyor yalnızlığımız
- B) Allah'ım, ne güzel şey bu dost yüzü
İnsanın kalbine dolan bu bakış
Ey çorak ruhlara veren bu süsü
Ey gönül; sana alkış, alkış, alkış
- C) Dostluk dediğin güzel bir kitap
Hava gibi
Su gibi
Ekmek gibi
Vazgeçilmez bir tat
- D) Kalbindeki cama bir taş değer, dosttandır
Kırılınca anlaşılır kalbin camdan olduğu
Kalbin bahçesinde bir gül solar, dosttandır
Dostun varsa taşı güle sayarlar, akşamı güne

18. Son bestelerimden biri olan 9. Senfoni'yi dinlemeyen yoktur. 90'lı yıllarda okullarınızda teneffüs zili bile oldu. Ne var ki ben 9. Senfoni'nin tek bir notasını bile duymadım. Duymayan bir müzisyen! Kulağa imkânsız gibi geliyor, değil mi? Oysa kafamın içi seslerle dolup taşıyor.

Bu parçada,

- I. Sevinç, kıvanç, acı, korku, şaşma gibi duyguları anlatan cümle veya ibarelerin sonuna ünlem işareti konur.
- II. Özel adlara getirilen iyelik, durum ve bildirme ekleri kesme işaretiyle ayrılır.
- III. Bilinmeyen, kesin olmayan veya şüpheyile karşılanan yer, tarih vb. durumlar için soru işareti kullanılır.

kurallarından hangilerinin örneği vardır?

- A) Yalnız I. B) I ve II. C) II ve III. D) I, II ve III.

19. Besteyi ilk duyduğumda manzaraya tek başına hâkim, büyük bir ağaç canlandı gözlerimin önünde. Bu hayal, musikinin rüzgârıyla birdenbire beliren bir şeydi. Hâlbuki bu besteyi o anda dinlemeye hazır değildim, nağme beni ansızın yakalamıştı. Bu hayalin meydana gelmesi, âdeta uyanık hâlde görülen bir rüya gibiydi.

Aşağıdakilerden hangisi bu parçadaki altı çizili sözcüklerden herhangi birinin anlamını karşılamaz?

- A) Hatırlama B) Ortaya çıkma C) Etkileme D) Görünme

20. Şair, bir aydınlanma ve doğru olanın farkına varma hâlini ifade ettiği şiirinde, zamanın ve hayatın kıymetini bilmenin ve yaşama sevinçle bağlanmanın önemini kavradığını dile getirmektedir.

Bu parçada sözü edilen dizeler aşağıdakilerden hangisidir?

- A) Gökyüzünün başka rengi de varmış
Geç fark ettim taşın sert olduğunu
Su insanı boğar, ateş yakarmış
Her doğan günün bir dert olduğunu
İnsan bu yaşa gelince anlamış
- B) Yaşamak güzel şey doğrusu
Üstelik hava da güzelse
Hele gücün kuvvetin yerindeyse
Elin ekmek tutmuşsa bir de
Hele tertemizse gönlün
Hele kar gibiyse alın
- C) Yaşım ilerledikçe daha çok anlıyorum
Ne büyük nimet olduğunu ah ey güzel gün
Boş yere üzölmekte mana yok, anlıyorum
Kadrini bilmek lazım artık her açan gülün
Şükretmek, türküsüne daldaki her bülbölün
- D) Her mevsimiyle insanı ayrı ayrı saran
Bunca güzelliği nasıl koyup gideceğiz
Yaman çalacak o çalmayası saat yaman
Geçmiş ola, bir kez yumuldu mu gözlerimiz

21. Lebdeğmez (dudakdeğmez), genellikle Türk halk şiirinde yaygın olan ve içinde her iki dudağın birbirine veya alt dudağın üst dişlere dokunmasıyla ortaya çıkan seslerin kullanılmadığı şiir türüdür.

Bu bilgilere göre aşağıdaki dizelerden hangisi "lebdeğmez" örneğidir?

- A) Dinle sana bir nasihat edeyim
Hatırdan, gönülden geçici olma
Yiğidin başına bir iş gelince
Anı yad ellere açıcı olma
- B) Ağacınız yapraklarla donanır
Taşlarınız bir birliğe inanır
Hep çiçekler bağrınızda gönenir
Pınarınız çağlar, akışır dağlar
- C) Dikkat et araştırm gözlerini aç
Sanat her yiğidin kârı değildir
Eser yazarının serindeki taç
Altındandır, soğan zarı değildir
- D) Bir bağa ki rüzgâr terse vurursa
Dökülür gazeli soldu diyeler
Bir güzelin bahtı kara yazılsa
Toplanıp da hayıf oldu diyeler

22. "İstanbul, Türkiye'nin en güzel şehirlerindendir." cümlesi, söyleyenin kişisel düşüncesini içerdiğinden öznel anlatımlı cümle, "İstanbul, Türkiye'nin en kalabalık şehridir." cümlesi ise söyleyenin kişisel düşüncesini içermediğinden ve kanıtlanabilecek bir yargı bildirdiğinden nesnel anlatımlı cümledir.

Buna göre,

(I) Boyoz, mayasız hamurun kat kat açılmasıyla yapılır. (II) Açılan bu hamur, altın sarısı rengine gelene kadar pişirilerek çok farklı bir tada kavuşturulur. (III) Tadını bilenler için kahvaltı sofralarının vazgeçilmezlerinden olan boyoz; sade, çikolatalı, tahinli olarak üretilmektedir. (IV) İzmir'in bu eşsiz lezzetini herkesin denemesini öneririm.

metninde numaralanmış cümlelerin hangisinde nesnel anlatım vardır?

- A) I. B) II. C) III. D) IV.

23. Fiil kökünden türediği ve olumsuz, fiiller gibi "-ma /-me" eki ile yapılabildiği hâlde kip eki alamayan sözcüklere "filimsi" denir.

Buna göre,

- I. Bağışlar sayesinde bir kütüphane dolusu kitap birikmiş.
II. Suyun birikmesi birkaç saati bulacak gibi görünüyor.
III. Tarih ve arkeoloji alanlarında büyük birikim sahibidir.

cümlelerinin hangilerindeki altı çizili sözcükler filimsi değildir?

- A) Yalnız I. B) Yalnız II. C) I ve III. D) II ve III.

24. Fiil kök veya gövdelerine -an /-en, -ası /-esi, -maz /-mez gibi belirli eklerin getirilmesiyle sıfat-fiil oluşturulur. Sıfat-fiiller tıpkı sıfatlar gibi isimleri niteleme görevi üstlenir.

Bu açıklamaya göre,

Büyük bir bahçe... Ortasında köşk biçiminde yapılmış bir ev... Sağ köşesinde her zaman oturduğumuz beyaz perdeli

I

II

oda... Sabahları annem beni bir bebek gibi pencerenin kenarına oturtur, dersimi tekrarlatır, sütümü içirirdi. Bu pencereden görünen avlunun öbür yanındaki büyük toprak rengi yapının camsız, kapaksız tek bir penceresi vardı.

III

IV

metninde numaralanmış sözcüklerden hangisi sıfat-fiil değildir?

A) I.

B) II.

C) III.

D) IV.

25. Küçürek hikâye; az sayıda kelimeyle yoğun anlamlar aktarma gücüne sahip, mesaj kaygısı taşımayan, yalnızca bir anın saptaması olan anlatılardır.

Bu açıklamaya göre,

- I. Küçükken her tarafta "Suyu Koruyun, İdareli Kullanın" yazan afişler vardı. Televizyon ve radyolar sık sık bu konuyu gündeme getirir, insanları uyarırdı. Ama hiç kimse bu ikazlara aldırış etmezdi. Şimdi büyüdük, suyun sonsuza kadar yetmeyeceğini anladık.
- II. Ağaç dikmekle meşgul, yaşlı birine sorarlar:
 - Diktiğin ağaçların meyvesini büyük ihtimalle yiyemeyeceksin, o hâlde ne diye ağaç dikmekle uğraşıyorsun?
 - Yaşlı adam:
 - Bizden evvelkilerin ağaçlarının meyvesini biz yedik, bizim diktiklerimizin meyvesini de bizden sonrakiler yesin diye uğraşıyorum.
- III. Sadece kemanını vermedim... Yıllar sonra yeğenine armağan ettim. O da öğrenememiş doğru dürüst, evlerinin bir duvarına asmış. Ben zaten hiç beceremedim... Hiçbir şey... İç yangını anılara yol açmaktan başka.

metinlerinden hangileri küçürek hikâye örneğidir?

A) Yalnız I.

B) Yalnız III.

C) I ve II.

D) II ve III.

26. Shakespeare (Şekspir), "Hamlet" adlı eserinin bir bölümünde kahramanın ağzından şunları söyler:

Düşüncenin canı kısa sözdendir

Uzun sözlerse ancak dış görünüşlerdir

Yunus Emre de Shakespeare'den yüzyıllar önce aynı gerçeğe parmak basmıştır:

Az söz erin yüküdür

Çok söz hayvan yüküdür (er: yetenekli kimse)

Aşağıdaki cümlelerden hangisi bu görüşlerle benzer bir iletiye sahiptir?

- A) Söz, etkili ve özlü bir şekilde kullanılmalıdır.
- B) Düşünce ile söz arasında sarsılmaz bir denge olmalıdır.
- C) Kişi her bildiğini söylemeli, her söylediğini de bilmeli.
- D) Neyi, kime, ne zaman söylediğini unutma.

27. Ben roman yazmayı, sadece kendi üstlendiğim bir iş gibi görmüyorum. Bunu romanımın kişileriyle birlikte üstleniyoruz. Olayları, durumları, kişileri, birlikte yazıp götürüyoruz. El ele, omuz omuzayız. - - -. Her yazdığım insan benim, yazdığım her insan ben. Başka türlü nasıl olabilir? Belirli kurallarla, formüllerle roman yazan bir yazın memuru değil; kahramanlarıyla beraber çalışan bir romancıyım ben.

Bu parçada boş bırakılan yere anlam akışına göre aşağıdakilerden hangisi getirilebilir?

- A) Hepimiz kendi yolumuzu çizmişiz
- B) Kahramanlarım şekillendiriyor hikâyelerimi
- C) Farklı rüzgârlar şişiriyor yelkenlerimizi
- D) Hayal gücümüz aynı terziden giyiniyor

28. I. Bende iyi olan ne varsa hepsini kitaplara borçluyum. Bir kitap sevdalıyım ben. Kitaplardan ve yazarlarından söz ederken büyük bir heyecan duymamam imkânsız. Bu ilginç gelebilir size ama bir gerçek. Hatta belki de yaşadığım duygulara, bir insanın coşkun hevesleri denebilir. Ne denirse densin, bu sevdadan kurtulmam olanaksız.
- II. Her kitaptan, kulağıma bir ses gelir. Bu öyle bir sestir ki bir vapurdan belediye otobüsüne, bir kişinin çocukluktan yetişkinliğine; başka bir deyişle farklı mekânlara ve zamanlara değin uzanır. Ses, bana ne denli güçlü çarparsa fikir mağaramda o oranda yankı bulur. Yazarı sayfa sayfa dinledikten sonra söz sırası benim zihnimde beliren duygu, düşünce ve çağrışımlara gelir.
- III. Bir yazar olarak şunu söyleyebilirim ki kitaplar, bana yaşamda yol gösterir. Gerçi yaşamı az çok tanırım ama yine de okuduğum her şey insanın bilmediğim veya daha önce fark etmediğim bir yanını bulup çıkarmış, önüme sermiştir. Belki de koca bir kitapta beğeneceğim tek bir cümle bulabilirim ama bu tek cümle beni insanlara yaklaştırabilir.

Numaralanmış metinlerden hangileri "İyi kitapları okumak, bu kitapların yazarlarıyla konuşmak gibidir." sözü ile aynı iletiye sahiptir?

- A) Yalnız I.
- B) Yalnız II.
- C) I ve III.
- D) II ve III.

29. Modern çağda şöyle bir problem var: Hep başka bir yerde olmak istiyoruz. Bulunduğumuz yer bize hiç mutluluk vermiyor. İnsan hep başka iklimlerin yeşil kırlarına özlem duyuyor. Bir yere tatile gittiğinde acaba buraya değil de başka yere gitseydim daha mı iyi olurdu, diye düşünüyor. Seçmediği her şey için sıkıntı hissetmeye başlıyor.

Aşağıdakilerden hangisi bu parçada sözü edilen görüşü desteklemektedir?

- A) Günümüzde her birimiz ağ vatandaşıyız artık. Ağa bir kez yakalanmayagörün, onun gerçekliği sizin gerçekliğiniz oluverir. Böylece sanal âlem, gerçek hayatımıza bulaşır ve gerçeklikle olan bağımız belirgin olmaktan çıkar.
- B) Herkesin, önündeki ekrana baktığı bir çağda kimse diğerinin yüzüne bakmıyor. Hâlbuki bizi insan kılan şeylerden biri, muhatabımızın yüzünden, sesinden, duruşundan onu okuyabilmektir. İnsan olmak, hâlden anlamaktır.
- C) Anlaşmak için zaman gerekir, zaman ve mekân. Konuşmanın yanında susmak, birbirinin söylediğine dikkat kesilebilmek, kalbini dostunun kalbine yaklaştırmak gerekir.
- D) Yaşantı oburluğu içerisindeyiz. Ne kadar çok yaşantı tüketirsem o kadar mutlu olurum, şeklinde bir yanılgımız var. Hâlbuki sahip olduklarımızla da mutlu olabiliriz.

30. Ayşe, Büşra, Cenk, Davut, Ece ve Ferhat bir sürücü kursundaki K, L ve M sınıflarına kaydolmuşlardır. Bu kişilerin sınıflarıyla ilgili şunlar bilinmektedir:

- Ece ve Cenk aynı sınıftadır.
- Büşra'nın sınıfına kendisi dışında bir kişi daha kaydolmuştur.
- M sınıfına kaydolan bir kişi vardır ve bu kişi Ayşe değildir.
- Davut üç kişilik bir sınıftadır.

Bu bilgilere göre aşağıdakilerden hangisi Büşra ile aynı sınıftadır?

- A) Davut B) Ayşe C) Ferhat D) Ece

31.



Bu haritada gösterilen güzergâh aşağıdaki tur programlarından hangisine ait olabilir?

- A) Ocak Ayı Tur Programı: Her mevsimi ayrı güzel olan Kapadokya, kışın daha cazip bir hâle bürünür. Bu güzel dönemde bölgeyi görmek için önce Nevşehir'in merkezindeki tarihî alanlar gezilir. Bu tarihî alanlar gezildikten sonra Uçhisar'dan, karla kaplı masal diyarı Kapadokya izlenir. Göreme bu masal diyarının sonraki rotasıdır. Onu Ürgüp takip eder. Ürgüp de güzelliğini gösterdikten sonra sıra Çavuşin ve Zelve'ye gelir.
- B) Nisan Ayı Tur Programı: Kapadokya'yı bu ayda gezmek için önce Nevşehir'in merkezindeki Damat İbrahim Paşa Külliyesi'ne gidilir, sonra Uçhisar'a geçilir. Ardından Kavak'ta çay molası verilir. Bundan sonraki duraklar sırasıyla Ortahisar ve Ürgüp'tür. Ürgüp'ten sonra sizi harika manzarasıyla Göreme karşılar. Göreme'yi gizli güzellikleriyle Çavuşin ve saklı kent Zelve izler. Tur programı, Kızılırmak sularının hayat verdiği Avanos'ta biter.
- C) Ağustos Ayı Tur Programı: Turumuz Nevşehir'de, Damat İbrahim Paşa Külliyesi'nde başlayıp Kızılırmak üstüne kurulmuş, nefis manzaralı köprüsüyle ünlü Avanos'ta son bulur. Bu iki rota arasında ise sizi bambaşka ve harika mekânlar bekler. Nevşehir'in ardından Uçhisar gezilir. Sonrasında ise Kavak'a varılır. Kavak'ta verilen kısa bir fotoğraf molasının ardından sırasıyla Göreme ve Ürgüp gezilir. Çavuşin ve Zelve'ye de gidildikten sonra yolumuz Kızılırmak'a çıkar.
- D) Ekim Ayı Tur Programı: Turumuza ik olarak Kızılırmak kıyısındaki Avanos'ta yapacağımız kahvaltıyla başlarız. Çavuşin, diğer bir deyişle gizli güzellik, ikinci durağımızdır. Oradan sonbaharın sararttığı Zelve ve Göreme gezilir. Ürgüp türküsü eşliğinde Ürgüp'ün güzellikleri de görüldükten sonra Ortahisar'a uğranır. Ardından Kavak... Sonrasında Uçhisar'da nefis bir Kapadokya manzarası izlenir. Güneş batarken Nevşehir il merkezine ulaşılır.



8. SINIF TÜRKÇE

2. Tema

1. Sanatçı, "Bugün hikâye, hayatımızın neresinde duruyor?" sorusu üzerinde düşünen, konuşan, tartışan bir eser ortaya koymuştur. Eserin metinlerine atılan başlıklar, az söz ile çok şey ifade etme özelliği gösteriyor. Başlıkları bu şekilde değerlendirmemin sebebi, onların metnin içeriğini dört başı mamur bir şekilde kuşatmasıdır. Kelime tekrarlarına kolay kolay düşmemesi, incelemelerini çalakalem değil, söylediklerinin önünü ve arkasını doldurarak yapması gibi birçok neden, sanatçının güçlü bir kalemi olduğunu açık bir biçimde ortaya koyuyor.

Bu metinde aşağıdakilerden hangisinin anlamını karşılayan bir söz kullanılmamıştır?

- A) Gelişigüzel
- B) Anlaşılması güç
- C) Kısa ve öz anlatım
- D) Eksiksiz, kusursuz

2. Öznel anlatım, kişisel görüşler içerir. Nesnel anlatım ise kişisel görüşlerden uzak, kanıtlanabilir yargılarla oluşturulur.

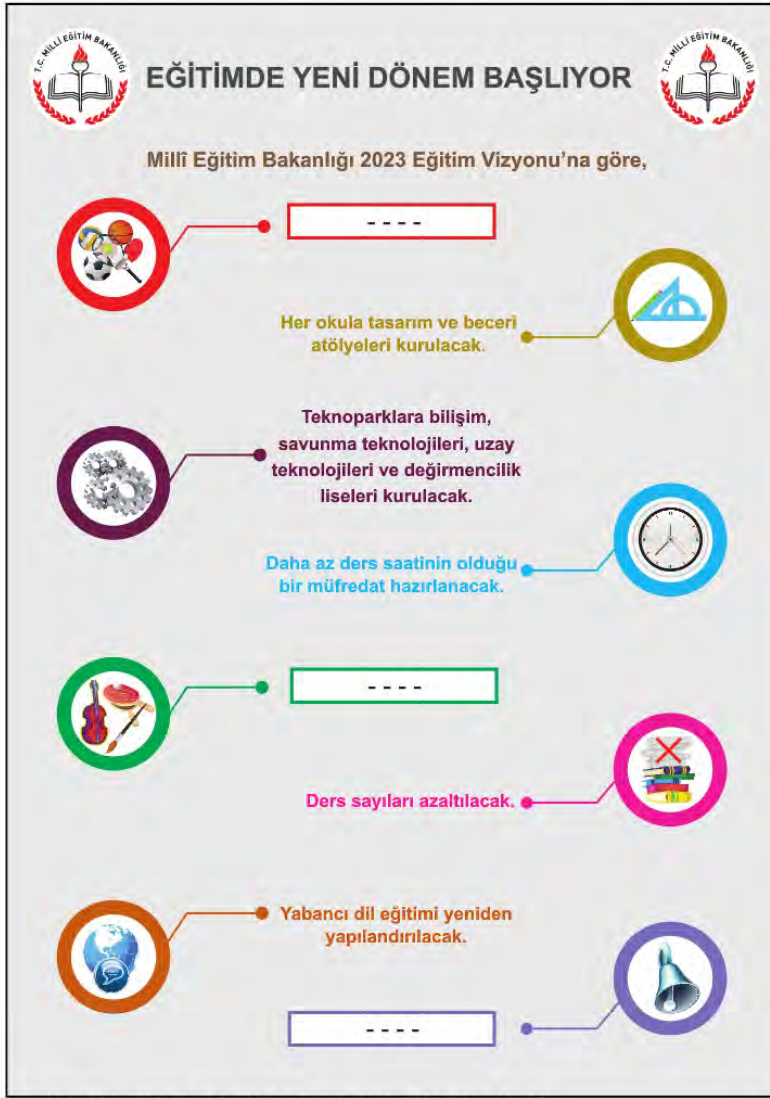
Bu açıklamaya göre aşağıdaki medya metnlerinin hangisinde öznel bir anlatıma başvurulmuştur?

- A) Kafkas Üniversitesinde yapılan bir araştırmaya göre Türkiye'de 193 çeşit peynir üretiliyor. Üretilen toplam peynir miktarının yaklaşık %96'sı inek sütünden elde ediliyor. Türkiye'de en çok tüketilen peynir çeşidi ise beyaz peynir.
- B) RoboGait, yürüme yeteneğinin tekrar kazanılması ve geliştirilmesi için kullanılan robot destekli bir yürüyüş rehabilitasyon sistemidir. Bu sistemle, yürüme zorluğu çeken hastaların bir askı yardımıyla yürüyüş bandı üzerinde, doğal yürüyüş biçimine uyarak yürümesi sağlanıyor.
- C) Son dönemlerde yapay zekâ üzerine çalışmalar artmaya başladı. Yapay zekâ sistemlerinin yine de istenen düzeye erişemediğini düşünüyor, bunu da teknik imkânsızlıklardan ziyade insan beyninin tam olarak anlaşılamamış olması-na bağlıyorum. Beyinle ilgili daha derin araştırmalar yapılmadan yapay zekâ konusunda gelişme sağlanamayacaktır.
- D) Bir teleskobun ne kadar kuvvetli olduğu aynasının çapı, bir diğer deyişle teleskobun açıklığı ile belirlenir. Bir teleskop, çapı ne kadar büyükse o kadar güçlüdür yani sönük gök cisimlerinin bile detaylı görüntüsünü oluşturabilir.

3. **Aşağıdakilerin hangisi "Hangi konuda yazarsam yazayım, gördüklerimi kendi ruh süzgecimden geçirmeden okuyucuya sunmam." diyen bir sanatçıya ait olabilir?**

- A) Berber bir süre baktı kapıdan çıkan adama, sonra tezgâha doğru yürüdü. Elinde tespih olan müşteri, sırası geldiği için koltuğa oturdu. Havlusu, چراغın elinde hazırdu. Berber, bir yandan tezgâhın üzerinde duran usturalardan birini seçmeye çalışıyor, bir yandan da koltukta oturan adama bakıyordu.
- B) Arabamı evin önüne park ederken duydum miyavlama seslerini. Başımı camdan uzatınca Tekir'in mahalleye dışarıdan gelen iki kediyi kovaladığını gördüm. Kedilerden sarı tüylüsü bir an dönüp tüylerini kabarttı, anında üzerine yürüdü Tekir. "Dur, Tekir; yapma!" diye bağırdım.
- C) Avluya girip duvar kenarına çömeldi. Sırtında deve tüyü çuldan yapılmış kısa bir cepken, bunun altında yıpranmış bir gömlek vardı. Ucunu sağ yanağının üstüne getirdiği kasketi yağ içindeydi. Kasketin yırtık ucundan koyu sarı bir mukavva sarkmıştı. Uzun süre hiç konuşmadan öylece oturdu.
- D) Her zamanki yerimizde, bahçedeki çınarın gölgesine kurulan masalardan birinde oturuyorduk. Çınarın kalın dallarını süsleyen iri, yeşil yapraklarda ne bir esinti vardı ne de bir kıpırtı. Koca çınar, heykel misali kaskatı eğilmişti masamızın üzerine. Emel, belki serinletir diye vantilatörü çıkarmıştı bahçeye.

4.



- I. Özel yetenekli öğrencilere yönelik seçmeli dersler getirilecek.
- II. Teneffüs süreleri uzatılacak.
- III. Okul ve mahalle spor kulüpleri kurulacak.

Yukarıdaki bilgilendirme grafiğinde bazı simgelerin karşısındaki açıklama bölümleri boş bırakılmıştır. Bu simgeler ve numaralanmış cümleler eşleştirildiğinde doğru sıralama aşağıdakilerden hangisi olur?

A)   B)   C)   D)   

5. Malazgirt Parkı'ndaki bir bankta oturan Eray'a, bir kişi Şükûfe Nihal Ortaokuluna yürüyerek nasıl gidebileceğini sormuştur.



Bu haritaya göre Eray aşağıdakilerden hangisini söylerse yolu doğru tarif etmiş olur?

- A) 1071. Sokak'tan Selim Caddesi'ne kadar yürüyün ve sağa dönün. Caddeden ilk sola döndüğünüzde 1072. Sokak'a ulaşacaksınız. Bu sokaktan üçüncü sola girip biraz ilerleyince okul, solunuzda kalacak.
- B) 1071. Sokak'tan Selim Caddesi'ne kadar ilerleyip sola dönün ve Kermes Sokağı'na kadar yürüyün. Kermes Sokağı'na girip dördüncü sola dönün. Biraz yürüdükten sonra okul, sağınızda kalacak.
- C) 1072. Sokak'tan Selim Caddesi'ne kadar yürüyün, caddeye ulaştınca sağa dönün, dümdüz gidip ilk sola dönün. Biraz ilerleyince okul, solunuzda kalacak.
- D) 1072. Sokak'la Selim Caddesi'nin kesiştiği yere kadar yürüyün. Bu noktadan sola dönün, Kermes Sokağı'na kadar dümdüz ilerleyin. Kermes Sokağı'na girip sokağın sonuna kadar yürüdüğünüzde okul, sağınızda kalacak.
6. Spor müsabakaları için 8/A ve 8/B sınıflarından Sude, Cüneyt, Elif, Defne, Erkan seçilmiştir. Bu kişilerin her biri; futbol, voleybol, basketbol, masa tenisi ve badminton müsabakaları için İzmir, Afyon, Çanakkale, Erzurum ve Rize şehirlerinden birine gitmiştir. Bu kişilerin sınıfları, gittikleri şehirler ve katıldıkları müsabakalarla ilgili şunlar bilinmektedir:
- Elif, Erzurum'a gitmiştir.
 - Defne, masa tenisi müsabakasına katılmıştır.
 - Futbol, basketbol ve badminton müsabakalarına katılanlar 8/A sınıfındandır.
 - 8/B sınıfından Sude, İzmir'e gitmiştir.
 - Afyon'a giden Erkan, basketbol müsabakasına katılmıştır.

Bu bilgilere göre kişilerden hangilerinin hem sınıfları hem müsabakaya katıldıkları spor dalları hem de gittikleri şehir kesin olarak bellidir?

- A) Defne ve Elif B) Defne ve Erkan C) Elif ve Sude D) Erkan ve Sude

7. Hani kimi zaman bir şeyler hissederiz, bir esinti yoklar içimizi. Bu hisleri ifade etmek isteriz ama uygun sözcükleri bir türlü bulamayız. Dilimizin ucuna bir şeyler gelir gibi olur ancak söze dönüşmez. Bu durumu Orhan Veli ne güzel dile getirmiştir: “- - -”

Bu metinde boş bırakılan yere anlam akışına göre aşağıdakilerden hangisi getirilmelidir?

- A) Eve ekmekle tuz götürmeyi
Böyle havalarda unuttum
Şiir yazma hastalığım
Hep böyle havalarda nüksetti
Beni bu güzel havalar mahvetti
- B) Garibim
Ne bir güzel var
Avutacak gönlümü
Bu şehirde
Ne de tanıdık bir çehre
Bir tren sesi
Duymaya göreyim
İki gözüm iki çeşme
- C) İstanbul'da Boğaziçi'nde
Bir garip Orhan Veli'yim
Veli'nin oğluyum
Tarifsiz kederler içinde
- D) Bir yer var biliyorum
Her şeyi söylemek mümkün
Epeyce yaklaşmışım, duyuyorum
Anlatamıyorum

8. Bir sanat alanında başarılı olmuş insanlar, bu alanda adını duyurmak isteyen kişilere bazen doğrudan destek verir, bazen de ilham kaynağı olur.

Bu cümlede anlatılan durumu,

- I. Paulo Coelho'nun anne ve babası, onun umut vadeden bir mesleğe yönelmesini istiyordu. Ancak o, yazar olmayı düşünüyordu ve ailesinin karşı çıkmasına rağmen yazmaya devam etti. Coelho'nun "Simyacı" isimli romanı dünya genelinde kırk milyondan fazla satıldı. Kitapları altmıştan fazla dile çevrildi. Mükemmel bir avukat da olabilirdi ancak o, dünyaca ünlü bir yazar oldu.
- II. Minnesota'da doğan Bob Dylan, müzisyenlikle ilgili hayallerini gerçekleştirmek için New York'a gitti. Orada pek çok sanatçıyla tanıştı. Bunlar arasında, onu hayal bile edemeyeceği sanatsal noktaya taşıyan kişi Woody Guthrie oldu. Onun ses kaydını duyduğu anı "Zihnimde bir şimşek çakmış gibiydi." diyerek ifade eden Dylan, yıllardır aradığını o kayıtta bulmuştu.
- III. Ressam olma hayaliyle büyüyen Mahişeker Hanım, bulduğu her kâğıda resim çizerek kendini bu alanda yetiştirmiştir. Resim tutkusu, ilkokul öğretmeninin etkisiyle küçük yaşlarda başlayan bu sanat âşığı teyzemiz "Köy yerinde ressam mı olurmuş?" sözlerine inat, resim yapmayı hiç bırakmadığını söylüyor.

metinlerinden hangileri örneklendirmektedir?

- A) Yalnız I.
- B) Yalnız II.
- C) II ve III.
- D) I, II ve III.

9. Alışverişlerde vaktimizin çoğu, gıda reyonlarında hangi ürünün daha sağlıklı olduğuna karar vermekle geçiyor. Kimi zaman doğru kararlar veriyor, kimi zaman da "Acaba gerçekten ne yiyoruz?" sorusuyla eve dönüyoruz. Özellikle yaz aylarında gıdaların paketlenmesine ve saklama koşullarına daha fazla dikkat etmek gerekiyor. Bunlara dikkat edilmezse gıdalarda, hastalıklara neden olan bakteriler oluşabiliyor. Bir grup araştırmacı, bu sorunun çözümüne katkı sağlayabilmek için bir algılayıcı (sensör) geliştirdi. Gıdalara yaklaştırılan bu algılayıcı, insanlarda hastalıkların oluşmasına neden olan bakterileri belirlediğinde ışık yayıyor.

Bu metinde sözü edilen algılayıcının üretilme amacı aşağıdakilerden hangisidir?

- A) Gıdalarda zararlı bakteri olup olmadığını tespit etmek
- B) Paketlenmiş yiyeceklerde bakteri oluşumunu engellemek
- C) Yiyeceklerde bakteri oluşumuna neden olan durumları saptamak
- D) Hazır gıdalarla doğal gıdalar arasındaki farkı göstermek

10. Kısaltmalarla ilgili bir çalışmada, kısaltmaların farklı yöntemlerle oluşturulduğu ifade edilmektedir. Bu yöntemlerden bazıları şunlardır:

- Kelimenin ilk hecesi kullanılarak yapılır.
- Kelimenin bazı ünlü ve ünsüz harfleri birlikte kullanılarak yapılır.
- Birleşik kelimelerde her kelimenin ilk harfi kullanılarak yapılır.

Aşağıdakilerden hangisi bu metinde sözü edilen kısaltma türlerinden herhangi birine örnek olabilir?

- A) AA (Anadolu Ajansı)
- B) m (Metre)
- C) Apt. (Apartman, Apartmanı)
- D) TR (Türkiye)

11.



Rus mühendisler 1971 yılında Türkmenistan'da, ki o zamanlar Sovyetler Birliği'ne bağlıydı, petrol arıyorlardı. Bu çalışmalar sırasında büyük bir doğal gaz rezervi bulundu. Doğal gazı çıkarmak ve işlemek için sondaj kuleleri, depolama alanları kuruldu. Ancak zemin, üzerindeki yükü taşıyamadı ve çöktü. Büyük bir krater oluştu ve çevreyi tehdit eder boyutta metan gazı ortaya çıktı. Bilim insanları çevre köylerdeki insanların, hayvanların ve bitkilerin zarar görmesinden endişelenerek gazı kontrollü bir şekilde yakmaya karar verdiler. Bu kontrollü yangın günümüzde de devam etmektedir.

Bu metinde virgül, numaralanmış görevlerinden hangisiyle kullanılmamıştır?

- A) I.
- B) II.
- C) III.
- D) IV

12. Algoritma, sorun çözmek ya da amaca ulaşmak için nasıl bir yol izlenmesi gerektiğinin adım adım tasarlanmasıdır. Algoritmada çözüme ulaşmak için tüm olasılıklar değerlendirilir, doğru ve etkin bir çözüm için komutlarla adımlar tanımlanır. Bu sürecin bir başlangıcı ve bitişi bulunmalıdır.

Bilişim Teknolojileri Öğretmeni Emin Bey, "Destekleme ve Yetiştirme Kursları"na başvuru yapmak isteyen 7. sınıf öğrencileri için bir algoritma hazırlamıştır.

Kurslarla ilgili bilinenler şunlardır:

- Öğrencinin e-okul sistemine kayıtlı olması gerekmektedir.
- Sisteme e-kurs modülü üzerinden "Öğrenci Girişi" sekmesi ile girilir.
- Ortaokulların 5, 6 ve 7. sınıflarındaki öğrenciler en fazla 5 farklı dersten, haftalık 12 saate kadar kurs alabilirler.
- 8. sınıftaki öğrenciler ise en fazla 6 farklı dersten, haftalık 18 saate kadar kurs alabilirler.

Bu bilgilere göre Emin Bey aşağıdaki algoritmalarından hangisini hazırlamış olabilir?



13. Kişinin bazı olay ve durumlar karşısında kararsızlık yaşaması çatışmaya neden olur. Bu durum üç şekilde ortaya çıkabilir:

Yaklaşma-Yaklaşma Çatışması: Birey, yapmak istediği iki şey arasında kararsızlık yaşar. Futbol oynamayı ve konsere gitmeyi seven birinin aynı saatte gerçekleşen bu iki etkinlik arasında kararsızlık yaşaması, bu çatışma türüne örnektir.

Yaklaşma-Kaçınma Çatışması: Birey, bir şeye karşı istek duyar ancak bu istek, bireyin hoşuna gitmeyen bir durumu ortaya çıkarır. Dondurma yemek isteyen birinin, boğazı ağrıdığı için yemekten çekinmesi bu çatışma türüne örnektir.

Kaçınma-Kaçınma Çatışması: Birey, istemediği iki durumdan birini seçmek zorunda kalır. Diş tedavisinden korkan birinin bu ağrıyı çekmek ile doktora gitmek arasında bir seçim yapma durumunda kalması, bu çatışma türüne örnektir.

Aşağıdaki atasözlerinden hangisi bu metinde sözü edilen çatışma türlerinden herhangi biriyle ilgili değildir?

- A) Ya bu deveyi gütmeli ya bu diyardan gitmeli.
 B) Gülü seven dikenine katlanır.
 C) Kır atın yanında duran ya huyundan ya suyundan...
 D) Ne yârden geçilir ne serden.

14. 2013 yılının Şubat ayında kütlesinin yaklaşık 12 bin ton olduğu düşünülen büyükçe bir meteor, atmosfere girdi ve orada parçalandı. Meteorun parçaları Rusya'nın Çelyabinsk kenti yakınlarına düştü. Çok sayıda bina zarar gördü ve yaralananlar oldu. Uzmanlar bu büyüklükteki bir meteorun en son 1908 yılında yeryüzüne düştüğünü belirtiyor.

Bu parçada aşağıdaki yazım kurallarından hangisine örnek olabilecek bir kullanım yoktur?

- A) Ses düşmesine uğrayan birleşik kelimeler bitişik yazılır.
 B) Özel adlara getirilen çekim ekleri kesme işaretiyle ayrılır.
 C) Belirli bir tarih bildiren ay ve gün adları büyük harfle başlar.
 D) Özel ada dâhil olmayıp tamlama kuran şehir, il, ilçe, belde, köy vb. sözcükler küçük harfle başlar.

15. Işık, gölge ve hacim duygusunun yansıtılmadığı küçük, renkli çizimlerin yapıldığı bu resim sanatında perspektif (bir nesnenin büyüklüğünün, görüldüğü gibi çizilmesi) uygulanmaz.

Aşağıdakilerden hangisi bu metinde sözü edilen resim sanatının örneğidir?



16. Bir balıkçının tezgâhında yer alan balık türleri ile ilgili bilgiler aşağıdaki tabloda verilmiştir.

Balık Türü	Balık Boyu	Önerilen Pişirme Şekli	
		Tava	Izgara
Barbun	Küçük	Önerilmez	Önerilir
Hamsi	Küçük	Önerilir	Önerilmez
Kılıç	Büyük	Önerilir	Önerilmez
Tekir	Küçük	Önerilir	Önerilir
Lüfer	Büyük	Önerilmez	Önerilir

Bu balıkçıdan alışveriş yapan Mine, Nermin, Okan, Ömer ve Pelin ile ilgili şunlar bilinmektedir:

- Her bir kişi, diğerlerinden farklı bir balık türü satın almıştır.
- Ömer, hem tavası hem ızgarası önerilen bir balık almıştır.
- Mine ve Pelin'in aldığı balıkların boy özelliği farklı, pişirme önerisi aynıdır.
- Okan tavada pişirilmesi önerilen, küçük bir balık almıştır.

Buna göre;

- I. Lüfer,
- II. kılıç,
- III. barbun

balıklarından hangilerini kimin alacağı kesin olarak söylenemez?

- A) Yalnız I. B) Yalnız II. C) I ve III. D) II ve III.

17. Bir ressamın her tür resmi ortaya çıkarabilmesi söz konusu değildir. - - -

Bu cümlelerin sonuna anlam akışına göre aşağıdakilerden hangisi getirilemez?

- A) Çünkü resim sanatının her bir dalını tam anlamıyla öğrenebilmek ve uygulayabilmek oldukça zaman alır.
 B) Resim sanatının birtakım alt dalları vardır ve bir ressam en fazla dört veya beş dalda kendini yetiştirebilir.
 C) Ama çevremizde veya sanat dünyasında "Elbette ben hepsini yapabilirim." diyen sanatkarlar da yok değil.
 D) Dolayısıyla bir ressam yeteri kadar çalışırsa hem portrede hem soyut resimde hem de natürmortta ustalaşabilir.

18. "Kitap nasıl okunmalı?" sorusunu kendime göre cevaplasam bile söylediklerim, yalnızca benim için geçerli olacaktır. Herkes kendi kararını kendi vermeli. Birilerinin; neyi, nasıl okuyacağımızı; okuduklarımızı nasıl değerlendireceğimizi söylemesine izin vermek çıkış kapılarımıza kilit vurmaktır.

Bu parçadaki altı çizili ifadenin yerine aşağıdakilerden hangisi getirilebilir?

- A) özgürlüklerimize B) yeteneklerimize C) birikimlerimize D) gayretlerimize

19. Hepimiz hayatımız boyunca iki veya daha fazla seçenek arasından birini yeğleriz. Hatta bazen sunulanların hiçbirinden hoşlanmasak da sırf içimizdeki dayanılmaz çelişkiden sıyrılmak için alternatiflerden birini seçeriz. Seçmediğimiz “diğeri”ni, ne olacağını hiç bilemeyeceğimiz bir konuma getiririz. Başka bir deyişle bizim için güzel veya kötü olacak o olasılığı yitiririz.

Bu parçada anlatılanları en iyi ifade eden söz aşağıdakilerden hangisidir?

- A) Deneyim en acımasız öğretmendir.
B) Unutmayın ki bir seçim yaparken seçmemek de seçilebilir.
C) Deneyen kaybedebilir ama denemeyen zaten kaybetmiştir.
D) Tercihler, insanın bazı şeylerden vazgeçmesini gerekli kılar.

20. Türkiye Büyük Millet Meclisi Müzesine giden bir öğrencinin, ziyaret ettiği bazı bölümlerle ilgili izlenimleri şunlardır:

Bu odadaki sıralarda milletvekillerinin oturduğunu hayal edip yeni kurulan ülkenin o günkü atmosferinde nelerin görüldüğünü düşünmek oldukça heyecan vericiydi. Gezdiğim başka bir bölümde yerli ve yabancı basın-yayın organlarının farklı olaylarla ilgili manşetlerini okuyarak o dönemin izlerini sürdürm âdeta. Mustafa Kemal Atatürk'ün dürbünü, gömleği ve kravatının sergilendiği oda ise beni oldukça duygulandırdı.

Bu izlenimlerden hareketle söz konusu öğrencinin, müzenin aşağıdaki bölümlerinden hangisini gezdiği söylenemez?

- A) **Girişin Sağ Tarafındaki İkinci Oda**

Buradaki ışıklı pano ve vitrinlerde hukuk alanındaki düzenlemeleri; uluslararası takvim, saat, tartı ve ölçülerin kullanılmaya başlanmasını; yeni Türk harflerinin kabulünü; Türk Hava Kurumu, demir yolları, ekonomi ve sanayi ile ilgili gelişmeleri anlatan gazete kupürleri ve fotoğraflar sergilenmektedir.

- B) **Girişin Sol Tarafındaki İkinci Oda**

“İdare Heyeti” olarak kullanılan bu odada Cumhuriyet'in ilanından günümüze kadar basılan kâğıt ve madeni paralar, pullar ve madalyonlar sergilenmektedir.

- C) **Meclis Toplantı Salonu**

Bu salon, Cumhuriyet'in ilk yıllarından itibaren gerçekleştirilen büyük atılımların karar merkezi olarak birçok konuşmaya sahne olmuş, tarihi değeri yüksek bir mekândır.

- D) **Girişin Sağ Tarafındaki Üçüncü Oda**

Burada Türk Tarih ve Türk Dil Kurumlarının kuruluşu, Montrö Boğazlar Sözleşmesi, tarım, arkeoloji ve güzel sanatlarla ilgili gelişmeler, Türk kadınına seçme ve seçilme hakkının verilmesi fotoğraflarla ve Atatürk'ün sözleriyle anlatılmakta, Atatürk'ün bazı özel eşyaları ve el yazısı örnekleri sergilenmektedir.

21. Birileri bana “Dünyanın en ilginç canlısını görmek ister misin?” diye sorsa cevabım kuşkusuz “Evet!” olurdu ve

ichim içime sığmazdı. Bu sorunun küçük bir çocuğa yöneltildiğini düşünelim bir de. Hiç şüphesiz yüreğinde davullar

I

gümbürder, bu canlının nasıl bir şey olduğunu görebilmek için yerinde duramazdı. Sevinçten âdeta deliye dönerdi.

II

III

Numaralanmış sözlerden hangileri bu metinde geçen “yüreğinde davullar gümbürder” sözüyle anlatılmak isteneni karşılar?

- A) Yalnız I. B) I ve II. C) II ve III. D) I, II ve III.

22. Ayşe, Burhan, Cenk, Deniz, Ebru ve Ferhat'tan oluşan yeşil, mavi ve beyaz takım "pas atma" oyunu oynayacaktır. Oyun ile ilgili şunlar bilinmektedir:

- Her takımda ikişer oyuncu vardır.
- Beyaz takım, mavilere; maviler, yeşillere ve yeşiller de beyazlara pas atacaktır.
- Cenk, Ebru'ya; Deniz, Ayşe'ye; Burhan ise Ferhat'a pas atacaktır.
- Ayşe yeşil takımdadır.
- Deniz ve Ferhat aynı takımdadır.

Bu bilgilerden hareketle aşağıdakilerden hangisi söylenebilir?

- A) Ayşe ile Cenk aynı takımdadır.
- B) Burhan ile Ebru farklı takımdadır.
- C) Deniz, yeşil takımdadır.
- D) Ferhat beyaz takımdadır.

23. Günümüzde kitaplar, bir tüketim nesnesi olarak sunuluyor ve okur tarafından da öyle algılanıyor. Kitabın, yaşamını kolaylaştırmasını ya da ihtiyacını hemen karşılamasını bekliyor okur. Kitap tanıtım yazıları da bu gereksinimi karşılamak üzere hazırlanıp âdeta bir satış tekniği olarak kullanılıyor.

Aşağıdakilerden hangisi bu metinde eleştirilen türde bir kitap tanıtım yazısı değildir?

- A) Bu roman, "İncecik bir kitaba, tarihin en büyük acılarını sığdırmak mümkün müdür?" sorusunun cevabı niteliğini taşıyor. Sembolik ve ders verici anlatımıyla savaşın tüm yıkıcılığını ortaya koyuyor.
- B) Bu kitap; insanın, elindeki en büyük gücü nasıl kullanması gerektiğini, inancın ve düşüncenin neler yapabileceğini söylerken kişinin, kendisi ile bağlantıya geçmesini de sağlıyor.
- C) Bu eser, insanın toplum içindeki yalnızlığını ele alıyor. Yazarın, büyük şehirlerde yaşayan yalnız bireylerin psikolojisini çözümleme çabasına tanık oluyoruz.
- D) Bu yapıt, sizi kendinizi bulmaya çağırıyor. Bu yapıtla duygu dünyanızın başrolü olan benliğinize geri dönecek ve kendinize tüm içtenliğinizle "Hoş geldin!" diyeceksiniz.

24. "Tiyatro ve sinema ip üstünde yürümeye benzer fakat sinemada ip yeredir." **sözüyle aşağıdakilerden hangisi vurgulanmıştır?**

- A) Sinemanın tiyatroya göre izleyicide daha çok heyecan uyandırdığı
- B) Tiyatro ve sinemanın, kendi içinde birtakım problemler barındırdığı
- C) Tiyatronun, oyuncular açısından sinemaya göre daha riskli olduğu
- D) Sinema ve tiyatronun birçok ortak yönünün bulunduğu

25. - - - - . Örneğin kek pişirmeyi ele alalım. Ürünün tadı; farklı sürelerde yüksek sıcaklıklara maruz bırakılan tereyağı, şeker ve un gibi bileşenlerin etkileşimiyle ortaya çıkar. Kekin tadı; yüzde şu kadar un, yüzde bu kadar tereyağı gibi parçalara ayrılmaz. Her bileşen, ürüne katkı sağlamıştır. Şiir için de aynı durum geçerlidir.

Bu parçanın başına anlam akışına göre aşağıdaki cümlelerden hangisi getirilmelidir?

- A) Şiir, anlaşılacak için değil hissedilmek içindir
- B) Şiir, düzyazıya çevrilemeyen dildir
- C) Şiir, sözcüklerle güzel olana ulaşma sanatıdır
- D) Şiir, ses ile anlam ortaklığından oluşur

26. I. Garbın âfâkını sarmışsa çelik zırhlı duvar,
Benim iman dolu göğsüm gibi serhaddim var.
Ulusun, korkma! Nasıl böyle bir imanı boğar,
Medeniyet dediğin tek dişi kalmış canavar?

II. Arkadaş, yurduma alçakları uğratma sakın;
Siper et gövdeni, dursun bu hayâsızca akın.
Doğacaktır sana va'dettiği günler Hakk'ın;
Kim bilir, belki yarın, belki yarından da yakın.

III. Ruhumun senden İlâhî, şudur ancak emeli:
Değmesin mabedimin göğsüne nâmahrem eli.
Bu ezanlar -ki şehâdetleri dinin temeli-
Ebedî yurdumun üstünde benim inlemeli.

Numaralanmış dizelerin hangilerinde ihtimal anlamı vardır?

- A) Yalnız I. B) Yalnız II. C) I ve III. D) II ve III.

27. I. Aydınlanma Dönemi'nde Avrupa'da "İnsan, düşünen bir varlık olarak şartlarını ve çağını ileriye taşımak zorundadır." fikri hâkimdir. Bu nedenle insanoğlu, evrenin sırlarını çözmeye çalışarak ve çağın en büyük korkusu olan başarısızlığın üstüne giderek yeni rotalar çizmek mecburiyetindedir. Çağın bir parçası olmak isteyen bilim insanları tarihten ders almak zorundadır.
- II. Türkiye'nin kaderini belirleyen, ülkemizi işgal kuvvetlerinin elinden kurtararak bağımsız bir devlet kurmamızı sağlayan Kurtuluş Savaşı, Mustafa Kemal Atatürk'ün önderliğinde, birçok kahramanın fedakârlığı sayesinde kazanılmıştır. Kadın, erkek, genç, yaşlı demeden herkesin bir olduğu bu mücadele, başta Atatürk olmak üzere kahramanlıkları ile göğsümüzü kabartan karakterlerin zaferidir.
- III. XV. yüzyılda Avrupa'da birçok sanatçı ve bilim adamı tarafından başlatılan Rönesans, Avrupa'nın aydınlanma yaşadığı bir dönemdir. Avrupa'ya öğrenim görmeye gelen kişiler ve Avrupa'dan ticaret yapmak için farklı ülkelere giden tüccarlar bu aydınlanma akımının yayılmasının en temel nedenleri olarak düşünülebilir.

Numaralanmış metinlerden hangileri "Zor zamanlar güçlü insanları, güçlü insanlar iyi zamanları, iyi zamanlar zayıf insanları, zayıf insanlar da zor zamanları ortaya çıkarır." cümlesinde belirtilen düşüncelerden herhangi biri ile ilişkilendirilemez?

- A) Yalnız I. B) Yalnız II. C) I ve III. D) II ve III.

28. Türk şiirinin evvelden beri anlamla başı derttedir. "Şiirin konusu ne?", "Ne anladın bu şiirden?" derler. Bütün bunlar çağdaş şiiri bilmeyenlerin sorularıdır. Bana "Bu şiirde ne demek istediniz?" diye sorulduğunda tekrar okurum o şiiri ve "İşte, bunu demek istedim." derim. Çağdaş şiirde her şeyden önemli olan duyumdur. Şiiri duymak, duyurmak, hissettirmek... Ben ilk okuduğumda anladığım şiire kolay kolay şiir diyemem.

Bu parçanın anlatımında aşağıdakilerden hangisine başvurulmamıştır?

- A) Eleştiriyi B) Tespiti C) Tanımlamaya D) Karşılaştırmaya

29 ve 30. soruları aşağıdaki metne göre cevaplayınız.

Caddede ne kadar da çok fotoğrafane var. Şimdiye kadar kaç tanesinin önünde fotoğraflardaki mesut insanları seyre daldım. Bu insanlar, buralara saadetlerini tespit ettirmek için koşmuş olmalılar. Onların tebessümleri, yaşamlarından daha uzun süre devam edecek. Ben de pekâlâ bu fotoğrafanelerden birine girebilir, "Ben de mesudum, benim de resmimi çekebilirsiniz!" diyebilirim. Fotoğrafçı da itiraz edemez. Siz yalnızsınız, fotoğrafı ne yapacaksınız, diyemez. Diyecek olursa ona "Elbette günün birinde benim de bir yakınım olabilir; sizin çekeceğiniz bu en güzel fotoğraf onun çantasının gizli bir köşesinde, güzel kokular içinde yatabilir." derim.

29. Bu sözleri söyleyen kişi ile ilgili,

- I. Kendisini yalnız hissetmektedir.
- II. Fotoğraflardaki insanların mutluluğuna imrenmektedir.
- III. Geçmişine özlem duymaktadır.

yargılarından hangileri çıkarılabilir?

- A) Yalnız I. B) Yalnız II. C) I ve II. D) II ve III.

30. Aşağıdaki yargılardan hangisi bu metindeki altı çizili cümle ile anlatılmak isteneni destekler?

- A) Günlük hayatın her anının fotoğraflanması gereksizdir.
- B) Mutlu anların fotoğrafları, uzun ömürlü belgelerdir.
- C) Güzel anların fotoğrafını çekmek mutluluk göstergesidir.
- D) Bazı fotoğraflar insanın gerçek duygularını yansıtmaz.

31. Gazeteci: (I) - - - -

Yazar: Ben İstanbul'un mütevazı bir mahallesinde doğdum. Hayalleri, özlemleri ve umutlarıyla yaşama bağlı insanların bulunduğu bir mahalle... Ne yazık ki buradaki insanlar acılarını, sevinçlerini kimseye duyuramıyorlardı. İşte ben, öykülerimle onların sesi olmak istedim.

Gazeteci: (II) - - - -

Yazar: O kadar çok ki hangisini söylesem bilemiyorum. Ancak gençliğimizde hem beni hem kuşağımızı etkilemiş bir yazar olan Rilke'nin "Malte Laurids Brigge'nin Notları" adlı eseri; yaşamı, doğayı, insan ilişkilerini oya gibi işleyen anlatımıyla bende ayrı bir yere sahiptir.

Bu konuşmada boş bırakılan yerlere sırasıyla aşağıdakilerden hangileri getirilmelidir?

- A) (I) Eserlerinizde İstanbul'u anlatmanızın nedeni nedir?
(II) Üslubunuzu belirlerken Rilke'den etkilendiniz mi?
- B) (I) Sizi yazmaya teşvik eden olay veya durum ne oldu?
(II) Hayatınıza yön veren bir eser var mıdır?
- C) (I) İstanbul'un yoksul bir mahallesinde yaşamınız, yazarlığınızı nasıl etkiledi?
(II) Çok tanınan ama sizi hayal kırıklığına uğratan bir yazar oldu mu?
- D) (I) Öykülerinizde karakterleri kurgularken nelere dikkat edersiniz?
(II) Gençliğinizde sizi en çok etkileyen sanatçı kim olmuştu?

32. Bir sorunu eleştiren yazılar görüyorum. Bu tür yazıları okuduğumda baktığım ilk şey, yazarın çözüme yönelik önerisi oluyor. Eğer yazarın önerisi yoksa o yazı benim için yok hükmündedir. Çünkü sorunu herkes görebilir ama çözümü herkes üretemez, marifet çözümüdür.

Bu sözleri söyleyen birinin aşağıdaki metinlerden hangisini beğenmesi beklenir?

- A) Bozkırı boydan boya geçen yolculuklar yaparken içim yanar hep. Yolculuğa çıkmadan önce bir umutla manzaranın değişeceğini düşünsem de zamanla gerçeği kabullenirim. O dağların, tepelerin ağaçlarla dolu olmasını beklerim ama beni çorak topraklar ve tepeler karşılar hep. Nice türkünün yakıldığı, nice güzel âdetin olduğu topraklara bu görüntü yakışmıyor.
- B) Yaşadığım şehrin sokaklarında gezerken içimden şu cümleyi söyler dururum: Bu sokakların ruhu yok! Evet, her gün geçtiğim bu sokaklar asfalt ve taştan oluşuyor; beni kendisine bağlayan bir yönü yok. Hâlbuki bir ruhu olsa bu sokakların... Mesela sokağın her köşesinde eskiden kalma kocaman ağaçlar olsa, o sokakta yaşamış ünlü insanların küçük anıtları olsa...
- C) Şehir yaşamının yol açtığı en önemli sorunlardan biri de trafik. Şehirlerde yaşayan milyonlarca insan her gün bu sıkıntıyı çekiyor. Kendisine ya da ailesine ayıracağı vakti trafikte harcıyor. Oysaki insanlar bu vakti yollarda trafiğin açılmasını bekleyerek değil, daha nitelikli işler yaparak geçirmeli.
- D) Modern çağın devasa mabetleri AVM'ler! Canlı, coşkulu, ele avuca sığmaz eski çarşıların yerini soğuk ve kaba hâllerıyla alarak günbegün hayatımıza girdiler. Evet, bizlere birçok ürünle hizmet sunuyorlar. Ancak bir makine gibi ruhtan ve doğallıktan yoksunlar.

33.



Bu görsele getirilebilecek en uygun başlık aşağıdakilerden hangisidir?

- A) İnsanların Gıda Saklama Koşullarına İlişkin Görüşleri
- B) Müşterilerin Alışveriş Tercihlerini Belirleyen Faktörlerin Sıklığı
- C) Tüketicilerin Gıda Tasarrufu Konusundaki Davranış Dağılımı
- D) Tüketicilerin Toplam Harcamalarında Gıda Ürünlerinin Oranı

34. Mecaz anlam; bir kelimenin gerçek anlamının dışında, başka anlamlara gelecek biçimde kullanılmasıdır.

Bu tanıma göre aşağıdaki dizelerin hangisinde mecaz anlam örneği yoktur?

- A) Şurda yeşil gözlü bir çocuk
Naylon geçirmiş şapkasına
Ferit'e benzettim azıcık
Kim bilir belki de başkasına
- B) Ufacık yüzünü gördüm kahvenin camında
Önümden el ele vermiş çocuklar geçiyorlardı
Bir kırlangıç havayı yarıp geçti
Gökyüzü neredeyse düşecekti
- C) İstanbul'da serin mevsim sonbahar
Hazin bir musiki tadıyla başlar
Ağır adımlarla dolaşır semt semt
- D) Seni bekliyordum yağmur, küçük yağmur
Ekinlerim için değil kendim için
Hani ellerinle bende yeşerttiğin
O yağmur kokulu düşüncelerin için

35. Aşağıda eski kitap ciltlerinde bulunan bazı bölümler tanımlanmıştır.

Mıklep: Kitabın okunmakta olan yerini belli eden, ucu üçgenimsi, katlanabilir parça.

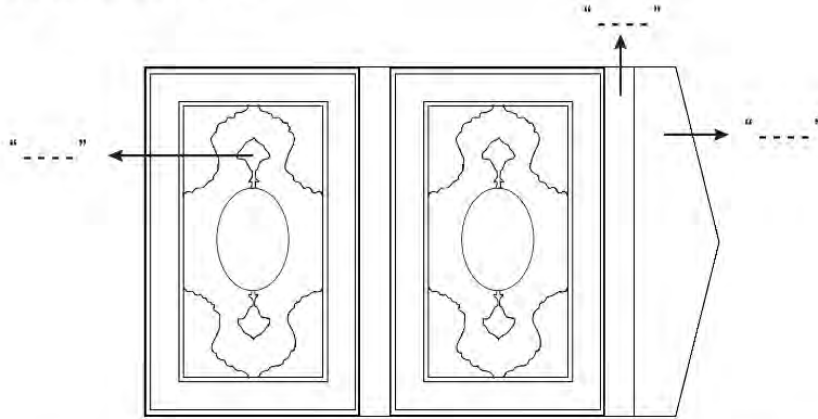
Şemse: Kitabın ön ve arka kapağında bulunan dairevi süs.

Salbek: Şemsenin iki ucundaki uzantı süs.

Sırt: Formaların (Tek kâğıt tabaka üzerine basılan on altı sayfalık kitap parçası) bağlandığı bölümü örten kısım.

Sertap: Mıklebi kitaba bağlayan ve kitabın ön kısmını muhafaza eden, mıklebe hareket kabiliyeti sağlayan bölüm.

Bu açıklamalara göre,




görselinde okla gösterilen alanlara aşağıdakilerden hangisi getirilemez?

- A) Mıklep
- B) Sırt
- C) Sertap
- D) Salbek

36.

Yeşilçam'ın Tonton Amcası:

HULÛSİ KENTMEN**1912**

20 Ocak'ta Tırnova'da dünyaya geldi.

1932

Sahneye ilk kez "Hisse-i Şayia" adlı oyunla çıktı.

1942-1988

Emekliliğinin ardından kendisini tiyatro ve sinemaya adadı.

1942'de kamera karşısına geçti.

1971 yapımı "Senede Bir Gün" filmiyle adını duyurdu.

"Hulûsi Kentmen Tiyatro Topluluğu" ile turnelere çıkıp birçok yerde oyun sahneledi.

500'e yakın filmde rol aldı.

Komiser, esnaf, hâkim ve fabrikatör rollerinin aranan yüzü oldu.

Kariyeri boyunca birçok filmde Adile Naşit, Münir Özkul, Kemal Sunal ve Tarkan Akan gibi isimlerle çalıştı.

Aynı zamanda keman ve fotoğrafçılık sanatlarıyla ilgilendi.

1993

20 Aralık'ta vefat etti.

Bu metinden Hulûsi Kentmen'le ilgili aşağıdakilerden hangisine ulaşamaz?

- A) Sinema ile şöhret kazandığına
- B) Sanatın farklı dallarıyla uğraştığına
- C) Sanat hayatına sinema ile başladığına
- D) Filmlerinde benzer karakterleri canlandığına



8. SINIF TÜRKÇE

3. Tema

1. Aksaray'daki bir muhasebe bürosunda kurulan sete bacaklarım titreyerek gittim. Masanın arkasındaki deri koltuğa oturduğum o ana kadar oyunculukla ilgili hiçbir tecrübeye sahip değildim. Ancak kamera karşısına çıkmadan önce, usta bir oyuncu olan rol arkadaşımın söylediği şu sözler beni biraz rahatlattı: "Sakın rol yapmaya kalkma! Sinemanın oynayan bir oyuncuya ihtiyacı yok."

Bu parçada geçen "oynayan bir oyuncu" sözüyle anlatılmak istenen aşağıdakilerden hangisidir?

- A) Doğallıktan uzak olmak
B) Senaryoya bağlı kalmamak
C) İşinin hakkını vermemek
D) Role kendi yorumunu katmak

2. Kültürümüzün koruyucusu dildir. Dili korumak, kültürü korumak demektir. Bu yüzden konuşurken veya yazarken yabancı sözcüklere mümkün olduğunca yer vermemeliyiz. Ama ne yazık ki çevremize baktığımızda durumun hiç de böyle olmadığını görüyoruz. Çarşıya çıkmak acı veriyor artık insana; mağazaların, dükkânların adları ya İngilizce sözcüklerden oluşuyor ya da Türkçe isimler bile İngilizce sözcükmüş gibi yazılıyor. İnsanlar, konuşurken aralara yabancı sözcükler sıkıştırmayı marifet sayıyorlar.

Aşağıdaki görsel ve afişlerden hangisi bu parçada yakınılan durumla ilgili değildir?

A)



B)



C)



D)



3. Çamaşırcı bir kadının kızı, okumak için benden kitap isteyince hoşuna gider diye düşünerek ona Orhan Kemal'in "Çamaşırcının Kızı" adlı öykü kitabını verdim. Ertesi sabah yanıma gelip kitabı bana uzatınca "Ne o, hemen getirdin kitabı, beğenmedin mi yoksa?" dedim. Kız, gözlerimin içine bakarak "- - -" dedi ve ekledi: "Ben okuduğum her kitapta yeni bir dünyayla tanışmak istiyorum."

Bu metinde boş bırakılan yere düşüncenin akışına göre aşağıdakilerden hangisi getirilmelidir?

- A) Önce yazarını tanımalıyım.
- B) Ben bunları biliyorum zaten.
- C) Bana sıkıntılarımla hatırlatıyor.
- D) O kadar akıcıydı ki bir çırpıda bitirdim.

4. Haber yazıları, bir olay ya da olguyla ilgili bilgilerin 5N1K kuralına göre yazılı metin hâline getirilmesiyle oluşur. 5N1K kuralı, haberin "ne, nasıl, niçin, nerede, ne zaman, kim" sorularına göre kurgulanmasıdır.

Bu açıklamaya göre aşağıdakilerin hangisi 5N1K kuralına göre yazılmış bir haber yazısıdır?

- A) Gazetede ki köşemizde bir reçete yazdık ya, birçok dostumuz aradı. Yeşillik dediğin sadece yemlik, kuzukulağı, madımdan mı ibarettir; daha sayılsa neler neler vardır, diye uyardılar beni. Ben ne yemek ustasıyım ne de salata uzmanı. Bahar geldi, tabiat kendini yeniledi; siz de şöyle bir silkinin, kış uykunuzu üstünüzden atın, demek istedim sadece.
- B) "Askerlik süresi kısaltılıyor. Üç ay temel askerlik eğitimi alan herkes, vatani görevini tamamlamış sayılacak. İsteyen, maaş karşılığında ordudaki görevine devam edecek. Yeni yasa, Resmî Gazete'de yayımlanmasının ardından yürürlüğe girecek." haberini okuyan babam gülümsedi. Başladı askerlik anılarını anlatmaya. Biz de her defasında olduğu gibi büyük bir heyecanla dinledik onu.
- C) Bilmem duyduunuz mu, Sultanahmet Camii'nin halıları yenilendi. Nasıl bir desen tutturacaklar diye merak ediyordum doğrusu. Sonuç olumlu çıktı. Sevindim. Caminin güzelliğini buradan tekrar anlatmaya gerek yok. Çinilerinin hâkim rengi ile "Mavi Cami" olarak anılıyor. Yapılan süslemeler, bu hâkim renge yer yer lacivert ve kırmızılar eklenerek tamamlanmış.
- D) Kastamonu'da bir aile beş kuşaktır şimşir kaşık üretiyor. Çocukluğundan beri ağaçları yontarak mutfak araç ve gereçleri yapan Mehmet Bey, dede mesleğini yaşatmak için çalışıyor. Bakteri üremesini engelleyen bir özelliğe sahip olduğu için sağlık açısından da tercih edilen bu kaşıklar, kayalıklarda yetişen ve değerli bir ağaç olan şimşirden yapılıyor.

5. Özne; yüklem bildirdiği işi yapan, yüklem bildirdiği durumu üzerine alan ögedir. Nesne ise cümlede öznenin yaptığı "eylemden" etkilenen ögedir. "Seda kütüphaneden kitap aldı." cümlesinde alma işini yapan "Seda"dır ve cümledeki öznesidir. Seda'nın alma eyleminden etkilenense "kitap"tır ve cümledeki nesnesidir.

Bu açıklamaya göre aşağıdaki cümlelerin hangisinde "nesne" yanlış gösterilmiştir?

- A) Dere kenarında bir güvercin su içiyordu.
- B) Karşı komşumuz kurabiyeyi çok güzel yapıyor.
- C) Babam ceketinin cebinden bir davetiye çıkardı.
- D) Her seferinde bize taze meyveler getirirdi.

















6. Belli bir bölgedeki bitki ve hayvan türlerinin zenginliğine “biyoçeşitlilik” denir. Gezegenimizi yaşanabilir hâle getiren biyoçeşitlilik, insanların sağlığını ve çevreyi korur. Biyoçeşitliliğin korunması için alınabilecek önlemlerden bazıları şunlardır:
- Tarım ilacı ve deterjan gibi kimyasal maddelerin kullanımı konusunda bilinçlendirme çalışmaları yapılmalıdır.
 - Biyohırsızlığı (bitki ve hayvan kaçakçılığı) yönelik önlemler alınmalıdır.
 - Doğal yaşam alanları ve su kaynakları korunmalıdır.
 - Organik tarım tercih edilmeli ve desteklenmelidir.
 - Ormanların tahrip edilmesinin önüne geçilmelidir.

Bu metne göre aşağıdaki afişlerden hangisi biyoçeşitliliğin korunması ile ilgili değildir?



7. Araştırmalara göre kar taneleri dört gruba ayrılır. Altı kenarlı düz bir levhaya benzeyen levha kar taneleri, donma noktasının hemen altında; sütun benzeri bir yapısı olan sütun kar taneleri çok düşük sıcaklıkta oluşur. Uzun, ince iğneler şeklinde görünen ve orta seviyedeki nemlilikte oluşan iğnemsî kar taneleri, sıkıştırılabilen yapısından dolayı kayak için mükemmel bir zemin oluşturur. Yüksek nemin etkisiyle oluşan ve karmaşık bir yapısı olan dendrit kar tanelerinde buhar, nemden dolayı çok hızlı yoğunlaştığı için buz kristalleri dallanmış bir yapıya bürünür.

Bu metinde numaralanmış kar tanesi türlerinin görselleri aşağıdakilerin hangisinde sırasıyla verilmiştir?

	I	II	III	IV
A)				
B)				
C)				
D)				

8. Aşağıda sinema filmi yapımının, sırasıyla "Geliştirim", "Yapım Öncesi", "Yapım", "Yapım Sonrası" ve "Dağıtım" başlıkları altında incelenen beş aşaması karışık olarak verilmiştir.

- I. Düzgün ve kolay bir film çekimi için iyi bir hazırlık gerekir. Bu aşamada senaryoya uygun oyuncular belirlenir, dekorlar ve kostümler hazırlanır.
- II. Filmin hangi sinemalarda, ne zaman gösterime gireceğine karar verilir ve belirlenen sinema salonlarında gösterimi tamamlandıktan sonra farklı ortamlarda satışı başlar. Bazı filmler de festivallere gönderilir.
- III. Çekimi tamamlanan sahneler bilgisayarda kurgulanır, filme görüntü ve ses efektleri ile müzik eklenir. Yapım ekibinin kontrolünden sonra film, izleyici ile buluşmaya hazır hâle gelir.
- IV. Her film bir fikirle başlar. Bu fikir, önce bir öyküye, sonra senaryoya ve daha sonra resimli taslağa dönüştürülür. Filmde, özel efektler ve fantastik öğeler kullanılacaksa bunları ekibin anlayacağı şekilde çizecek iyi bir ressam gereksinim duyulur. Daha sonra, masrafları üstlenecek bir yapımcı arayışına gidilir.
- V. Filmin bütün sahneleri, hazırlanan programa uygun şekilde çekilir. Bu sürecin sorunsuz geçmesi için görev dağılımının çok iyi yapılması gerekir.

Bu aşamalar aşağıdakilerin hangisinde doğru sıralanmıştır?

- A) I - IV - V - II - III B) I - V - III - IV - II C) IV - I - V - III - II D) IV - V - II - I - III

9. Üçgen, yıldız ve daireden oluşan bir kodlama sisteminde A, Ç, I, K, R harfleri aşağıdaki gibi gösterilmiştir.

A	▲★▲
Ç	★▲
I	▲★
K	★▲▲
R	★●▲★

Buna göre aşağıdaki beş harfli kelimelerden hangisi "★▲▲★●▲★▲★▲▲" şeklinde kodlanır?

- A) KIRAK B) KIRAÇ C) ÇIRAK D) ÇARIK

10. "İcat" ve "keşif" kelimeleri çoğu zaman aynı anlamda kullanılsa da aslında anlamları birbirinden çok farklıdır. Keşif, zaten var olan bir şeyin bulunmasıdır. Örneğin yer çekimi her zaman vardı ama biz onu Newton sayesinde fark ettik. İnsanlar olmasa da yer çekimi olacaktı. İcat ise daha önce var olmayan bir şeyin ortaya çıkarılması söz konusudur.


Buna göre aşağıdaki metinlerin hangisinde icat veya keşif kavramı yanlış kullanılmıştır?

- A) Pusula, temel olarak yeryüzünün manyetik alanına göre hareket eden bir iğneden oluşur. İğnenin ucu her zaman dünyanın kuzeyini gösterir. Çinliler tarafından bulunup Araplar vasıtasıyla Avrupa'ya ulaşan bu keşif, günümüzde de kullanılmaya devam etmektedir.
- B) Yazıyı icat eden topluluğun Sümerler olduğu söylene de yazının ilk defa Mısır'da kullanıldığını iddia eden bilim insanları da var. Her ne olursa olsun yazının insanlık tarihinde bilim adına atılmış ilk ve en büyük adım olduğu söylenebilir.
- C) "Biyçeşitlilik, Bilim ve Sürdürülebilirlik Enstitüsü" yeni türlerin keşfine ilişkin raporunda canlı sınıflandırmalarına yüz otuz üç yeni türün eklendiğini açıkladı. Bu türler arasında otuz altı böcek, yirmi üç balık, bir kum yosunu, bir kertenkele, bir de vatoz yer alıyor.
- D) Graham Bell, işitme kaybı olan kişilerle ilgili çalışmaları sırasında seslerin havadaki titreşimlerle nasıl oluştuğunu araştırmaya yönelmiş. Bu araştırma onun, konuşmaları teller aracılığıyla ileten telefonu icat etmesini sağlamıştır.

11.


GÖBEKLİTEPE UNESCO DÜNYA MİRAS LİSTESİ'NDE


Dışişleri Bakanlığı, Şanlıurfa'daki Göbeklitepe Arkeolojik Alanı'nın, UNESCO Dünya Miras Listesi'ne girmesiyle Türkiye'nin söz konusu listeye kayıtlı alanlarının sayısının arttığını duyurdu.




İLK KEZ 1963'TE FARK EDİLEN GÖBEKLİTEPE'DE BUGÜNE KADAR GÜN YÜZÜNE ÇIKARILAN BAZI ESERLER:

8 ila 30 m çapında dünyanın en eski tapınak kalıntıları







Çok sayıda yabani hayvan figürü, insan heykeli




Yaklaşık 12 bin yıl öncesine ait olduğu belirtilen 65 cm uzunluğunda insan heykeli




Neolitik Dönem'e ait, boyları 3 ila 6 m, ağırlıkları 40 ila 60 ton olan yabani hayvan figürlü, "T" biçimli dikili taşlar



Göbeklitepe,
"dünyanın en eski tapınak merkezi" kabul ediliyor.



6 yıl önce UNESCO Dünya Mirası Geçici Listesi'ne alındı.



Bahreyn'de yapılan 42'nci Dünya Miras Komitesi Toplantısı'nda UNESCO Dünya Kültürel Miras Listesi'ne kabul edildi.

Bu görseldeki bilgilerden hareketle Göbeklitepe ile ilgili,

- I. İnanç tarihine ait bilgileri altüst eden bir tapınaktır.
- II. İçindeki T biçimli ve hayvan figürlü dikili taşlar insanı temsil etmektedir.
- III. Türkiye'nin, Dünya Miras Listesi'nde Göbeklitepe dışında da eserleri vardır.

yargılarından hangilerine ulaşamaz?

- A) Yalnız I. B) Yalnız III. C) I ve II. D) II ve III.

12. Ünlü sanatçının Türkçeye ilk kez çevrilen eseri kitapçılardaki yerini aldı. Bu kitap hem metni hem desenleri hem de içeriğiyle iyi ki ve nihayet dedirtecek.

Bu parçadaki altı çizili ifadelerde, söz konusu kitapla ilgili vurgulanmak istenen aşağıdakilerin hangisinde sırasıyla verilmiştir?

- A) Yazarın bu tarzda bir kitap yazma konusunda geç kaldığı – Her okurun, kendisinden bir şeyler bulabileceği bir içeriği olduğu
- B) Eleştirmenlerden olumlu tepkiler geldiği – Şimdiye kadar bu alanda böyle bir kitap yazılmadığı
- C) Yazarın diğer eserlerinden daha iyi olduğu – Ele aldığı konunun daha önce işlenmediği
- D) Yazılmasından memnuniyet duyulduğu – Uzun süredir bu nitelikte bir kitabın beklendiği

13.

Bisikletin En Çok Kullanıldığı Ülkeler



Dünyada **1950'lerde** yılda **20 milyon** bisiklet üretilirken **2000'lerde** yılda **100 milyon** bisiklet üretiliyor.



Dünya genelinde **2 milyardan fazla** bisiklet var.

Türkiye'de Yaşa Göre Bisiklet Kullanım Oranı



Türkiye'nin Bisiklet İhracatı

2017	                               
------	---

14. Bazı cisimlerin tek bir rengi veya biçimi olduğunu kabul etme eğilimindeyiz. Mesela çocuklar kimi zaman, yıldızların -asında öyle olmadıkları hâlde- beş köşeli olduğuna inanır. Bir tabloda gökyüzünün mavi, çayırın da yeşil olmasında ısrar eden birinin bu çocuklardan pek farkı yok bana göre. Bu kişiler, bir tabloda başka renkler görmekten rahatsız olur. Oysa göğe ve çayıra ilişkin duyduğumuz her şeyi unutmayı bir denesek, dünyayı ilk kez görüyor gibi olsak o zaman nesneler daha değişik ve şaşırtıcı renklerle görünebilir bize. Böylece daha etkileyici sonuçlar elde edebilir, daha özgün eserler verebiliriz.

Aşağıdaki yargılardan hangisi bu parçada savunulan düşünceyi destekler?

- A) Sanat yapıtlarının tadına varılmasında alışkanlıklarımızı ve ön yargılarımızı aşmaktaki isteksizliğimizden daha büyük bir engel yoktur. Bilinen bir konuyu alışılmamış biçimde canlandıran bir resim, "doğru" olmadığı gibi bir gerekçeyle körü körüne eleştirilir çoğu zaman.
- B) Bir tabloyu bize sevdiren veya bizi ondan uzaklaştıran, çoğu vakit bir figürün ifadesidir. Bize tanıdık gelen ve böylece bizde heyecan uyandıran bir görüntü çoğumuzun hoşuna gider.
- C) Görünen dünyayı olduğu gibi resmetmedeki sabır ve yeteneğin kuşkusuz övülmesi gerekir. Bu nedenle geçmişin büyük sanatçıları, en ufak ayrıntının bile özenle saptandığı yapıtlarına çok çaba harcamışlardır.
- D) Büyük yapıtlar, önünde her durduğumuzda değişik görünür. Onlar da insan denen canlı gibi tükenmez ve önceden kestirilemez. Kendi serüvenleri ve akıl ermez yasalarıyla başlı başına bir heyecan dünyası oluşturur. Bu yüzden hiç kimse sanat hakkında her şeyi bildiğini ileri sürmemelidir.
15. (I) Gelişim, insanın en temel ihtiyaçlarından biridir. (II) Ancak günümüzde bilgeliğin yerini bilgi, oyunun yerini yarışma aldığı gibi maalesef gelişimin yerini de başarı almış durumda. (III) Hâlbuki her gelişim bir başarıyken her başarı bir gelişim değildir. (IV) Kişi, ehliyet sınavından iyi bir puan alabilir ama bu, onun öğrendiği ve geliştiği anlamına gelmeyebilir.

Bu parçada numaralanmış cümlelerle ilgili aşağıdakilerden hangisi söylenemez?

- A) I. cümlede karşılaştırma yapılmıştır.
- B) II. cümlede olumsuz bir eleştiri vardır.
- C) III. cümlede şarta bağlı bir durum söz konusudur.
- D) IV. cümlede örneklemeden faydalanılmıştır.
16. Tarihî ve doğal güzelliklerden ibaret değildir İstanbul sokakları. Aynı zamanda iç içe geçmiş sesler bütünüdür. Bu seslerle şekillenir İstanbul'un ahengi. Bu seslerdir İstanbul'un benzersiz bir orkestraya dönüşmesi.

Bu parçaya,

Bu bütünün parçaları Boğaz'da vapurların düdüklerinden dalga seslerine kadar uzanır. Kimi zaman bir dükkânın önündeki kafeste şakıyan şirin kanaryanın, kimi zaman bir adamın balkonda çaldığı udun, kimi zaman da karşı komşusunu çağıran bir teyzenin sesidir.

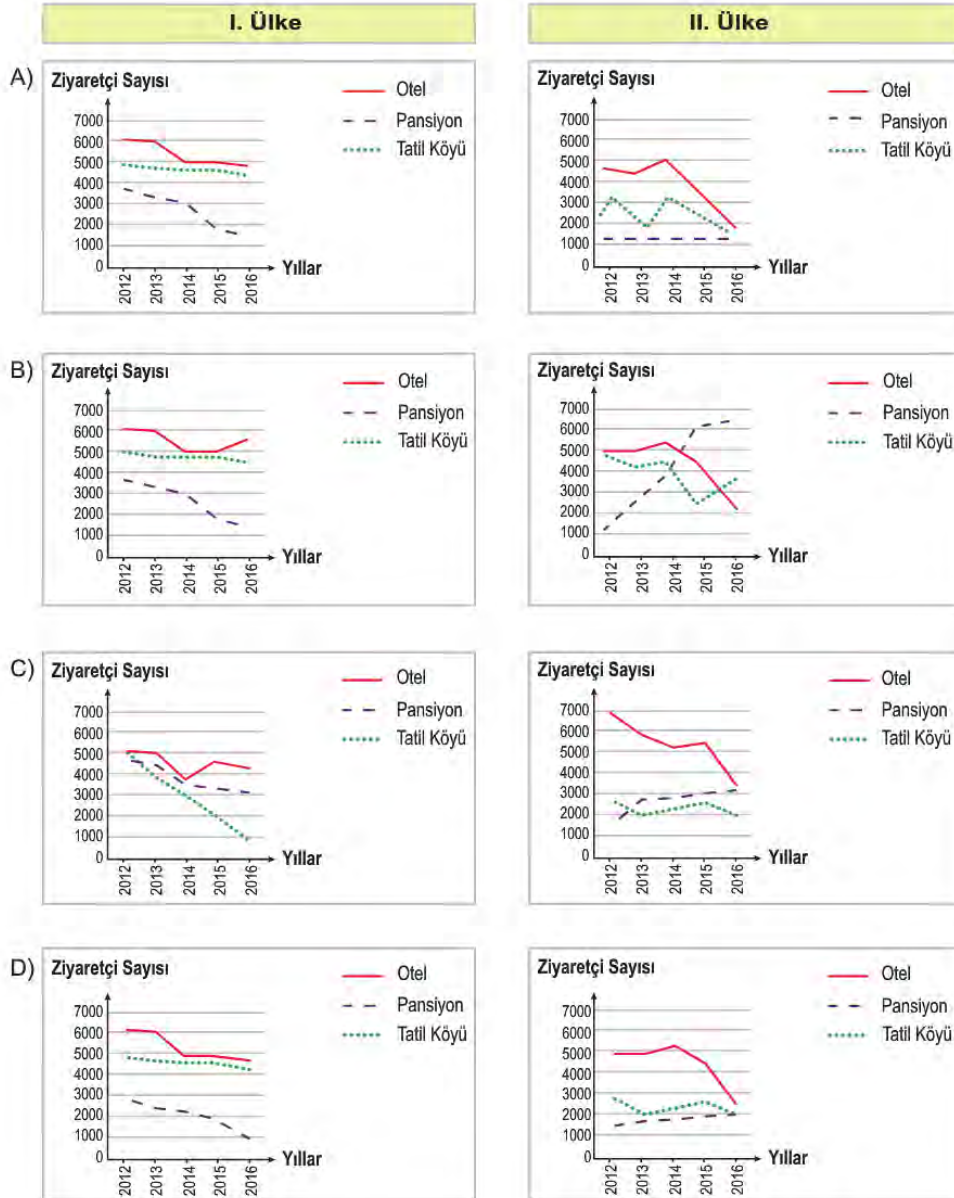
metni eklendiğinde parçanın anlatımıyla ilgili aşağıdakilerden hangisi söylenebilir?

- A) Karşılaştırma yapılmıştır.
- B) Anlatılanlar benzetme yoluyla somutlaştırılmıştır.
- C) Anlatıma nesnel bir boyut kazandırılmıştır.
- D) Ortaya konan düşünce örneklenmiştir.

17. 2012-2016 yılları arasında iki ayrı ülkeye gelen yabancı ziyaretçilerin konaklama türleri incelendiğinde şu sonuçlara ulaşılmıştır:

- I. ülkede, tatil köylerini tercih eden ziyaretçi sayısında yıllar itibarıyla keskin bir düşüş gözlenmezken II. ülkede durum inişli çıkışlı seyretilmiştir.
- I. ülkede pansiyonlarda kalan ziyaretçi sayısının yıllar içinde düşüş gösterdiği, II. ülkede ise arttığı tespit edilmiştir.
- Otellerin iki ülkede de her yıl diğer konaklama türlerine göre daha çok tercih edildiği görülmüştür.

Buna göre söz konusu yıllar arasında her iki ülkeye yurt dışından gelen ziyaretçilerin konaklama türlerini doğru gösteren grafikler aşağıdakilerin hangisinde verilmiştir?



18. Alan Turing, henüz 16 yaşındayken Einstein ve Newton'ın kuramlarının karşılaştırmasını özgün bir şekilde yazmıştır. Daha sonra ise matematiğin efsane isimlerinden Kurt Gödel'in geliştirmiş olduğu formülleri yeniden düzenleyerek yazdığı "Hesaplanabilir Sayılar" isimli makalesi ile matematik dünyasının unutulmaz isimlerinden biri olmuştur. Kendisinin en önemli özelliği, sayılar arasındaki ilişki olarak adlandırılan örüntüler konusunda üstün becerilere sahip olmasıdır. Turing, hayvanların beneklerinde bir örüntü olduğunu düşünerek bilim dünyasında fırtınalar koparmıştır.

Bu parçadan Alan Turing ile ilgili aşağıdakilerden hangisi çıkarılamaz?

- A) Kabul görmüş bilimsel yargıları değiştirmiştir.
- B) Doğa ile matematik arasında ilişki kurmuştur.
- C) Genç yaşta bilimsel bir çalışma ortaya koymuştur.
- D) Ünlü matematikçiler arasında yer almıştır.

19. Ses, dalgalar hâlinde yayılır. Kaynağından çıkan ses, çevresindeki molekülleri titreştirir ve bu titreşim molekülden moleküle aktarılır. Yani sesin yayılabilmesi için ortamda molekül bulunması gerekir. Örneğin ses, havada ve suda yayılabilir çünkü bu ortamlar moleküllerden oluşur. Uzayda yok denecek kadar az madde vardır, dolayısıyla moleküller birbirinden çok uzaktır. Bu yüzden uzayda oluşan ses, moleküller arasında iletilemez ve yayılamaz.

Bu metin aşağıdaki sorulardan hangisine cevap olarak yazılmıştır?

- A) Uzay boşluğundaki moleküllerin sesi duyulur mu?
- B) Ses, uzayda neden yayılmaz?
- C) Ses uzay boşluğunda niçin sonsuza kadar kalamaz?
- D) Ses dalgaları moleküllerden mi oluşur?

20. İnsanların deneyimledikleri farklı durumlar karşısında sabit bir algısı olduğunu düşünmek hatadır. Çünkü insanların algılarını çeşitli yollarla etkilemek mümkündür. Bu etkileme yollarının başında ise karşılaşılan durumun kişiye sunulma biçimi gelmektedir.

Aşağıdaki deneylerin hangisinde sunuş biçiminin, insan algısı üzerindeki etkisi örneklenmiştir?

- A) Yetkililerin, metro istasyonlarında yolculara klasik müzik dinletmeleri durumunda onlardaki taşkınlık ve gürültü çıkarma, etrafa zarar verme gibi birçok olumsuz davranış türünün önemli ölçüde azalması
- B) Bir kalemin ortasından ısırılarak bir süre ağızda tutulması durumunda yüzdeki gülme kaslarının harekete geçmesi ve bu yapay gülümsemeden kaynaklı olumlu sinyallerin beyne ulaşması ile kişinin daha mutlu bir ruh hâline girmesi
- C) Araştırmacıların bir dolu bardak suyun yarısını boşalttıklarında durumu gözlemleyenlerin yüzde 69'unun, bardağı yarısı boş olarak değerlendirmesi buna karşılık boş bardağı yarısına kadar su ile doldurduklarında gözlemcilerin yüzde 88'inin bardağı yarısı dolu olarak değerlendirmesi
- D) Bulundukları ortama bırakılan şekerleri yarım saat boyunca yememeleri hâlinde kendilerine o şekerlerin yanında başka şekerler de verileceğinin söylendiği çocuklardan, verilen süre içinde kendini kontrol edip şekere dokunmayanların şekerleri yiyenlere göre yıllar sonra daha mutlu ve başarılı bir yaşam sürdüklerinin belirlenmesi

21. Cümlede yüklem bildirdiği işi yapan veya o durumda bulunan ögeye "özne" denir.
Buna göre aşağıdaki cümlelerin hangisinde özne yanlış gösterilmiştir?

- A) Çocukluk tüm insanların gizli hazinesidir.
Özne
- B) Son yıllarda hızla gelişen teknoloji kimi riskleri beraberinde getiriyor.
Özne
- C) Hayatımızın en önemli gününü bir şölene çevirmek en büyük hayalimizdir.
Özne
- D) Çiçek dikiminde görevlendirilmek üzere işçiler alınacaktır.

22. Bir araştırmada beş yaşındaki çocuklardan oluşan iki gruba bir çocuk programı izletildi. Gruplardan birinin odasına ilgi çekici birçok oyuncak kondu. Oyuncak bulunmayan odadaki çocuklar programın %87'sini izlerken oyuncak bulunan odadaki çocuklar sadece %47'sini izlediler. Fakat bu iki gruptaki çocuklar, programın ne kadarını hatırladıklarını ve anladıklarını ölçen bir teste tabi tutulduklarında iki grup da yüksek puanlar aldı. Bu durum karşısında şaşkına dönen araştırmacılar şöyle bir açıklama yaptılar: "- - -"

Bu parçanın sonuna anlam akışına göre aşağıdakilerden hangisi getirilmelidir?

- A) Çocukların bir hedefe odaklanabilmeleri için bulundukları ortamın mümkün olduğunca dikkatlerini dağıtacak unsurlardan arındırılması gerektiğini tespit ettik.
- B) Oyuncakların bulunduğu odadaki çocukların, dikkatlerini oyuncaklarla oynama ve programı izleme arasında kolaylıkla bölüştürebildikleri sonucuna ulaştık.
- C) Anlaşılan o ki öğrenmenin niteliği, öğrenene ait özellikler kadar içinde bulunulan ortamdaki televizyon, oyuncak ve diğer insanlar gibi dış uyarıcılardan da etkilenmektedir.
- D) Hatırlama, sezme, anlama ve hayal kurma becerileri dikkate bağlı olarak gelişmektedir.

23. • Bal arıları, bitki varlığının devamı için önemli bir katkı sağlar.
• Bal arılarının toplu ölümü günümüzün önemli problemlerindendir.
• Bal arılarının yok olması ile ilgili araştırmalar yapılmaktadır.


Aşağıdaki metinlerin hangisinde bu cümlelerde ifade edilenlerin tümüne değinilmiştir?

- A) Arılar, taşıdıkları polenlerle 130 binden fazla bitkinin üremesine katkıda bulunuyor. Ancak suni gübre, tarım ilaçlarının yoğun kullanımı ve iklim değişikliği nedeniyle arılar yaşamını hızla yitiriyor. Arıların sayısının azalmasıyla birlikte pek çok bitkinin yok olma tehlikesiyle karşı karşıya kalacağı belirtiliyor.
- B) Arıların yaşamı tehdit altında. Zorlu kış şartları, hastalık yapıcı organizmalar ve küresel ısınma gibi sebepler arıların sayısını her geçen gün azaltıyor. Bir biyoteknoloji şirketi, arıların bağışıklık sistemini kuvvetlendirmek ve ölümlerini azaltmak için farklı ürünler geliştirmeye başladı.
- C) Bal arıları çiçek tozlarını taşıdığı için bitkilerin çoğalmasında önemli bir rol oynuyor. Ne var ki son yıllarda birçok ülkede bal arısı topluluklarında işçi arılar aniden yok oluyor. Araştırmacılar, bu sorunu çözmek amacıyla 5 bin bal arısına minik algılayıcılar takarak bu arıların gittiği yerleri belirleyecek ve arıların sayılarının azalma nedenlerini tespit etmeye çalışacak.
- D) Dünya Doğayı Koruma Vakfı, bal arılarının popülasyonunu korumak amacıyla daha önce yerleşim için kullanılan ancak artık kullanılmayan bölgelerin, bal arıları için sığınaklara dönüştürülebileceğini belirtiyor. Bazı araştırmacılar polen taşıyan böceklerle yaşam alanı sunan, doğal yaşam dostu çiftçilik ve bahçeciliğin de bal arılarına olumlu etkisi olabileceğini söylüyor.

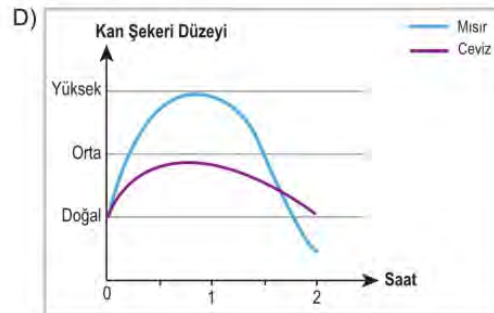
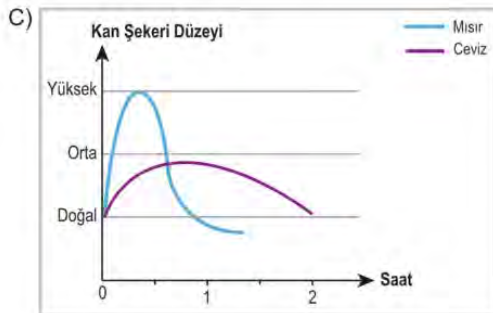
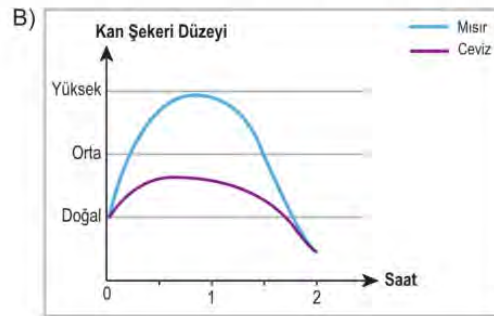
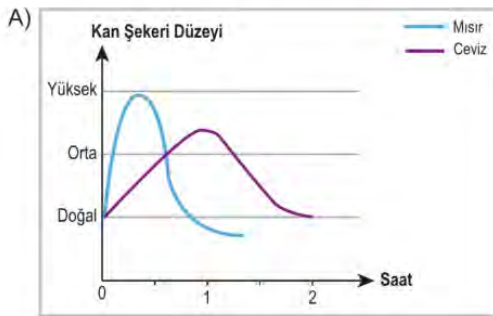
24 ve 25. soruları aşağıdaki parçaya göre cevaplayınız.

"Glisemik indeks" karbonhidrat içeren gıdaların, kan şekerini yükseltme oranını ölçen bir değerdir. Glisemik indeksi düşük olan gıdalar tüketildikten sonra kan şekeri yavaş yavaş doğal düzeyin üzerine çıkıp orta düzeye yaklaşır, iki saat içinde de doğal düzeye iner. Bu gıdalar yavaş sindirildiği için uzun süre tok tutar. Kişiyi şeker, tansiyon ve kalp hastalıklarına karşı korur; bağışıklık sistemini güçlendirir. Yüksek glisemik indeksli gıdalar tüketildiğinde ise kan şekeri yarım saat içinde en yüksek düzeye ulaşır, bir saat dolmadan da doğal düzeyin altına düşer. Bu gıdalar kan şekerinde dalgalanmalara yol açar ve uzun vadede vücutta yağlanmaya, şeker ve kalp hastalıklarına neden olur.

Aşağıdaki tabloda bazı gıdalar, glisemik değerlerine göre sınıflandırılmıştır.

GLİSEMİK DEĞERİ DÜŞÜK GIDALAR				GLİSEMİK DEĞERİ YÜKSEK GIDALAR			
							
Çilek	Brokoli	Ceviz	Elma	Karpuz	Ekmek	Patates	Mısır

24. Bu metne göre "ceviz" ve "mısır"ın, kan şekeri üzerindeki etkisi aşağıdakilerin hangisinde doğru gösterilmiştir?



25. Bu metinden aşağıdaki yargıların hangisi çıkarılamaz?

- A) Patates, vücuttaki yağ oranının artmasına neden olabilir.
- B) Elma, kan şekerinde ani değişikliklere yol açmaz.
- C) Brokoli, yavaş sindirilen bir besin olduğu için uzun süreli tokluk sağlar.
- D) Karpuz, kişinin hastalıklara karşı direncini artırır.

26. I. Başarılı insanlar, ara vermeden mücadele edenlerdir.
 II. Ne kadar çok bilersen o kadar az emin olursun.
 III. Matematikte zekâdan önce sabır gelir.

Numaralanmış cümlelerden hangileri,

Çoğu kişiye göre matematikten anlamak doğuştan sahip olunan bir yetenektir. Bu anlayışa göre matematiksel yeteneğe ya sahipsinizdir ya da değilsinizdir. Oysa bazı araştırmalara göre bu alanda gösterilen performans; yetenekten çok, matematiğe karşı takınılan tavırla ilgili. Çabalamaya istekli hele bir de gayretliyseniz matematikte ustalık kazanmanız pekâlâ mümkün.

paragrafının ana fikrini desteklemektedir?

- A) Yalnız I. B) I ve III. C) II ve III. D) I, II ve III.

27. Öğrenmenin aşamalarından bazıları şunlardır:

- Bilmeme hâli: Neyi bilmediğini bilmez.
- Öğrenmenin devam etmesi: Ne olduğunu bilir ancak yapamaz.
- Ustalık: Otomatik olarak yapar.

Aşağıdakilerden hangisi, bu metinde sözü edilen öğrenme aşamalarından herhangi birine örnek olamaz?

- A) Telefonun video kırpm özelliğinin bilinmesine karşın bu özelliğin kullanılamaması
 B) Bir türkünün, notalara bakılmaksızın bağlama ile kolayca çalınması
 C) Babasının oltayla balık tuttuğunu gören bir çocuğun balık tutmaya çalışması
 D) Bilgisayarın varlığından haberi olmayan birinin, onu açma konusunda da bilgisinin olmaması

28. **Aşağıdaki parçalardan hangisi "Gün batımından sonra neden uykumuz gelir?" sorusuna cevap vermektedir?**

- A) Yaşımız ilerledikçe vücudumuzda melatonin hormonu daha az salgılanıyor. Bu nedenle uykuda geçirdiğimiz zaman azalıyor. Bebekken neredeyse günün tamamını uyuyarak geçiriyoruz. 6-12 yaşlarındayken günde 9-10 saat uyuyoruz. Ninelerimizin ve dedelerimizin yaşına geldiğimizdeyse uykuda geçirdiğimiz süre azalıyor.
- B) Bilim insanları uykuyu çeşitli evrelere ayırmıştır. Bu evreleri uykuda sırasıyla deneyimlemeye başlarız. Derin uyku evresinden sonra hafif uyku evresine kısa süreli bir dönüş yapar ve sonra REM uykusuna geçeriz. Her bir döngü ortalama 90 dakika sürer ve bir gecede dört ya da beş kere tekrarlanır.
- C) REM uykusunun en dikkat çekici yanı, rüyalarımıza ev sahipliği yapması. Aslında uykumuzun herhangi bir aşamasında rüya görebiliyoruz ama REM uykusunda rüya görme olasılığımız daha fazla. Çünkü bu evrede beynimiz çok etkin.
- D) Melatonin hormonunun salınımı akşam gün ışığının ortadan kalkmasıyla artmaya başlıyor. Gece saat 02.00-04.00 arasında en yüksek seviyeye ulaşıyor. Güneşin doğuşuyla da bu seviye tekrar düşmeye başlıyor. İşte bu yüzden akşamları uyku gereksinimimiz doğuyor ve sabah uyandığımızda güne başlamaya hazır hissediyoruz.



29. Aşağıda Arda, Beril, Ceylin ve Didem adlı kişilerin aldığı bilgisayarların özellikleri verilmiştir.

Adı	Ağırlığı	Fiyatı	Depolama Alanı	Batarya Ömrü	Ekran Boyutu
K	1,9 kg	3.500 TL	256 GB	8 saat	39,60 cm
L	1,7 kg	2.700 TL	128 GB	7 saat	35,56 cm
M	1,4 kg	3.900 TL	256 GB	10 saat	35,56 cm
N	2 kg	2.900 TL	128 GB	6 saat	39,60 cm

Her biri farklı bir bilgisayar alan bu kişilerin satın aldığı bilgisayarların özellikleri şu şekildedir:

- Arda, rahat taşınabilen ve depolama alanı en geniş olan bilgisayarı;
- Beril, şarjı mümkün olduğunca uzun süre dayanan ve en büyük ekranlı bilgisayarı;
- Didem, fiyatı en uygun olan bilgisayarı almıştır.

Bu bilgilere göre aşağıdakilerden hangisi yanlıştır?

- A) Arda ile Beril'in aldığı bilgisayarların depolama alanları aynıdır.
 B) Beril'in bilgisayarı Ceylin'in bilgisayarından daha hafiftir.
 C) Ceylin'in bilgisayarının ekran boyutu Didem'inkinden büyüktür.
 D) Didem'in bilgisayarının batarya ömrü Arda'ninkinden fazladır.

30. Yer tamlayıcısı (dolaylı tümleş); cümlede yönelme, bulunma, ayrılma bildiren ve yüklemi yer anlamıyla tamamlayan ögedir.

Buna göre aşağıdaki cümlelerin hangisinde yer tamlayıcısı yoktur?

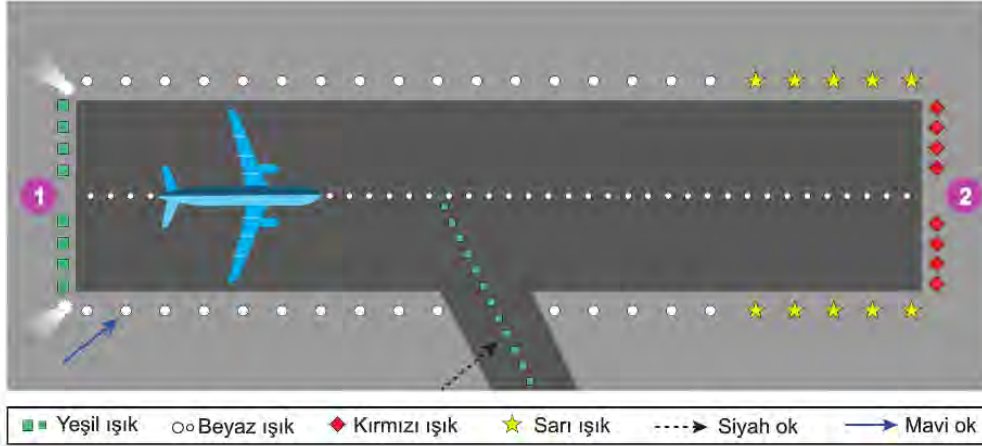
- A) Arkeologlar kazı çalışmalarına katılmak için Göbeklitepe'ye gitti.
 B) Yazar, uzun zamandır ailesiyle birlikte bahçeli bir evde yaşıyor.
 C) Müzeyi, her gün 09.30-18.00 saatleri arasında gezebilirsiniz.
 D) Örümcek ağının ipeği, örümceğin içinde sıvı hâlde bulunur.

31. ABD'de bulunan Steward Gözlemevindeki gök bilimciler Dünya'nın yörüngesinde dolanan bir gök cismi keşfettiler. Tıpkı Ay gibi, Dünya'nın çevresinde döndüğü için bu gök cismine "Mini Ay" dendi. Resmî adıyla "2020 CD3" oldu. Gök cisminin çapının 1,9 ila 3,5 metre arasında olduğu belirlendi. Yani yaklaşık bir otomobil kadar!

Bu parçada, aşağıda işlevi verilen noktalama işaretlerinden hangisinin örneği yoktur?

- A) Uzun cümlelerde yüklemden uzak düşmüş olan özneyi belirtmek için virgül kullanılır.
 B) Özel olarak vurgulanmak istenen sözler tırnak içine alınır.
 C) Sevinç, kıvanç, acı, korku, şaşma gibi duyguları anlatan cümle veya ibarelerin sonuna ünlem işareti konur.
 D) Kısaltmalara getirilen ekleri ayırmak için kesme işareti konur.

32. Bir uçak pistinde birbirinden farklı renklerde birçok ışık bulunur. Bu ışıklar pilota ne yapması gerektiği ve pistin durumu hakkında bilgi verir. Örneğin pistin başlangıcında bulunan dörtlü iki grup yeşil ışık, pistin uçağın inişi için müsait olduğunu belirtir. Pistin ortasındaki beyaz ışıklar, uçağın pistte doğru konumda olup olmadığını belirtir. Uçağın gövdesi tam olarak bu ışıkların üstünde olmalıdır. Pistin ortasından sağa ayrılan yeşil ışıklar iniş yapan uçağın yolcu indireceği alana gideceği yolu gösterir. Dörtlü, iki grup kırmızı ışık, pistin sonunu haber verir. Pistin kenarlarında beyaz ve sarı renkli ışıklar bulunur. Beyaz ışıklar, pistin kullanılabilir kısımlarını; sarı ışıklar ise pistin sonuna 600 metre kaldığını ifade eder. Eğer uçak kalkıyorsa bu sarı ışıklardan önce yerle temasını kesmelidir. İniş yapıyorsa da bu ışıklara gelmeden durmuş olmalıdır.



Yukarıdaki metne göre bu görseldeki pist ve uçakla ilgili,

- I. Uçağın kalktığı varsayılırsa havalanmasına 600 metre kalmıştır.
- II. İniş yaptığı varsayılırsa uçak, siyah ok ile gösterilen rotayı takip etmelidir.
- III. 1 numaralı ışıklar, pistin iniş için müsait olduğunu, 2 numaralı ışıklar pistin sonunu belirtir.
- IV. Mavi ok ile belirtilen ışıklar, uçağın yolcu indirebileceği alanları gösterir.

ifadelerinden hangileri doğrudur?

- A) Yalnız I. B) I ve IV. C) II ve III. D) III ve IV.

33. Bedeninizin, yürüyüşünüzden kalp atışınıza kadar pek çok özellik bakımından başkalarının bedeninden farklı olması, güvenlik sektörünü harekete geçirmiştir. Çünkü günümüzde kötü niyetli yazılım satın almış, beceriksiz bir fırsatçı bile mevcut birçok güvenlik yöntemine rağmen internetteki hesaplarınızı kolayca ele geçirebiliyor; kredi kartı bilgilerinize hatta daha fazlasına ulaşabiliyor. Özellikle kişinin parolası doğum tarihiyse ya da bir yıl içinde yirmi farklı sitede kullanıldıysa... Bu sorun, internete bağlı çalışan şirketlerin de müşterilerin de tahammül sınırlarını zorluyor. Bu noktada sorunun çözümü, her seferinde akılda tutulması daha zor parolalar oluşturmak değil, bedenimiz oluyor.

Bu metinde anlatılanları aşağıdakilerden hangisi en doğru şekilde özetler?

- A) Güvenlik sektörü, kötü niyetli kişilerin internet ortamındaki zararlı faaliyetlerini engellemek için çözüm arayışına girmiştir.
- B) Güvenlik sektörü, hem kullanımı kolay hem de çok güvenli olduğu için insan bedenini parolaya dönüştürmek istemektedir.
- C) İnternete bağlı çalışan şirketler, müşterilerini akılda tutulması kolay ama ele geçirilmesi zor bir parola kullanma konusunda uyarmaktadır.
- D) İnsanların beden özellikleri gibi çok özel bilgilerinin, kötü niyetli yazılımların hedefi olması güvenlik sektörünü harekete geçirmiştir.

34. Çocukluk ve ergenlik boyunca artış gösteren, yetişkinlikte en yüksek seviyeye ulaşan göz kırpmasının öncelikli amaçlarından biri, gözünü sürekli olarak nemli tutma çabasıdır. Gözün ön tarafında bulunan ve dış dünya ile temas eden bölüm, bebeklerde yetişkinlere kıyasla daha küçük olduğu için bebek gözü daha geç kurur yani daha geç nemlendirme gerektirir. Bebeklerin uzun uyku süreleri de gözlerinin daha uzun süre nemli kalmasına olanak sağlar. Yetişkinler, yüksek dikkat veya görsel takip gerektiren durumlarda daha az göz kırpmaya eğilimindedir. Ayrıca bebeklerin dış dünyayı sürekli anlamlandırma ve tanımayla odaklanma çabalarının da göz kırpmaya sayısını azalttığı düşünülmektedir.

Bu parçadan,

- I. Göz kırpmaya etki eden birçok faktörün bulunduğuna
- II. Bir işe odaklanıldığında göz kırpmaya sayısının yükseldiğine
- III. Yaş ilerledikçe gözü nemli tutma ihtiyacının arttığına

yargılarından hangilerine ulaşılabilir?

- A) Yalnız I. B) I ve III. C) II ve III. D) I, II ve III.

35. Nitelik ve nicelik bakımından çok iyi bir okur kitlesine sahip olduğumu düşünüyorum. Beni okuyanlar, gündelik ve edebiyat dışı okumalardan uzak duranlardır. Sıradan değildir onlar; kitap değil, yazar okumayı öğrenmişlerdir. Böyle bir okur kitlesini hak ettiğime inanıyorum çünkü kalemimin ucunu gelgeç modalar için yontmadım.

Bu parçadaki altı çizili sözle anlatılmak istenen aşağıdakilerden hangisidir?

- A) Metni oluştururken okurun beklentilerini gözlemlemek
- B) Yapıtı geleceğe taşıyacak unsurlara önem vermemek
- C) Herhangi bir sanat anlayışına bağlı olmamak
- D) Eseri geçici beğenilere göre oluşturmamak

36. Edison altmış yedi yaşındayken bütün hayatını adadığı atölyesi yanar. O sırada yanında bulunan oğlu, babasının tepkisinin ne olacağını merak eder. Edison, oğluna "Anneni çağır, o da bizimle beraber izlesin." der. Ertesi sabah kahvaltıda ailesini toplar ve "Şu anda bütün hatalarımız yanmış durumda." der. Edison bu olaydan üç hafta sonra ses kayıt sisteminin çekirdeğini oluşturan gramofonu icat eder. Bu olay, - - - insan hayatındaki yerini göstermesi bakımından manidardır.

Bu parçada boş bırakılan yere düşüncenin akışına göre aşağıdakilerden hangisi getirilmelidir?

- A) iyimserliğin B) alçak gönüllülüğün C) yardımseverliğin D) şefkatin

37. Rivayete göre önce eau admirable (hayranlık verici su), daha sonra da "eau de Cologne" (Köln suyu) adıyla pazarlanmaya başlanan kolonya ilk kez 1709 yılında üretilmiştir. İçeriğindeki maddelerin etkisiyle vücuttaki ısıyı çektiği için ferahlatıcı bir özelliğe sahip olan kolonya, ilk geliştirildiği yıllarda tıbbi amaçla kullanılmıştır. Ağız çalkalamada, yara temizlemede, kas ve eklem ağrılarınin ovulmasında faydalanılmış, keskin kokusu sebebi ile bir ayıltıcı olarak çokça tercih edilmiştir. Osmanlı topraklarına girişi II. Abdülhamit Dönemi'nin ilk yıllarına rastlayan ve kozmetik ürünü olarak da kullanılan bu parfüm Türk geleneğinin, türlü şekerlemeler eşliğinde sunulan en gözde ikram ürünlerinden biri olmuştur.


Bu parçada kolonya ile ilgili aşağıdakilerden hangisine değinilmemiştir?

- A) Kullanım alanlarına B) Türk kültüründeki yerine
- C) İçeriğinde neler bulunduğu D) Hangi isimlerle anıldığına

38.



Türkiye, küresel ısınmanın sonuçlarını en çok hisseden ülkeler arasında yer alıyor.



**Türkiye'nin 2000-2019 Yılları Arası
Ortalama Sıcaklığı**

14,1 °C

SON 49 YILIN EN SICAK 6 YILI (Ortalama sıcaklık)	
2010	15,6 °C
2018	15,5 °C
2014	14,9 °C
2019	14,8 °C
2001	14,5 °C
2016	14,4 °C



Bu görselden,

- Türkiye'de 2000-2019 yılları arasında ortalama sıcaklık değerinin en düşük olduğu yıl 2011'dir.
- 2019'da Türkiye'de son 49 yılın dördüncü en sıcak yılı yaşanmıştır.
- 2000-2019 yılları arasındaki ortalama sıcaklık, 2001'in ortalama sıcaklığından fazladır.

yargılarından hangileri çıkarılabilir?

- A) Yalnız I. B) I ve II. C) II ve III. D) I, II ve III.



8. SINIF TÜRKÇE

4. Tema

1.

I. Metin

Dinamit ağacı, Güney Amerika'da yetişen ve boyu 60 metreye kadar uzayabilen bir ağaçtır. Bu ağaç, tohumlarını yaymak için diğer ağaçlardan farklı bir yol izler. Olgunlaşan meyvelerini orman tabanına düşürmek yerine patlatarak, tohumları 45 metrelik bir alana yayar. "Maymun çıkmaz ağacı" olarak da adlandırılan bu ağaçtan, meyvelerini patlatırken sesler yükselir.

II. Metin

Bitkiler dünyasının en hızlı eylemini, "bunchberry" ağacının çiçekleri gerçekleştiriyor. Eylemin hızını anlatmak için saniyeyi çok daha küçük zaman birimlerine bölmek gerekiyor. Çiçek, saniyenin binde birinden daha kısa bir süre içinde açıyor. Hesaplamalar doğruysa bu çiçeklerin açtıkları sırada ortaya çıkan basınç, astronotların bir füzenin fırlatılışı sırasında hissettikleri basıncın sekiz yüz katı.

Aşağıdakilerden hangisi bu metinlerin ortak özelliklerinden biridir?

- A) Örneklere yer verilmesi
- B) Tanımlama yapılması
- C) Kişileştirmeden yararlanılması
- D) Karşılaştırmaya başvurulması

2. Toplum içine girdiğimde en çok karşılaştığım sözler şunlar oluyor: "Size çok imreniyoruz, okuyacak ne çok vaktiniz oluyor. Sosyal medyadan paylaştığınız kitapları hevesle alıyor ama onları okuyacak vakti bir türlü bulamıyoruz." Hâlbuki - - - -. Okumak hayatı anlamayı ve anlamlandırmayı kolaylaştırdığı için her anımızda, başka zevk arayışına girmeden bir kitabın sayfalarına demir atıveririz.

Bu parçada boş bırakılan yere düşüncenin akışına göre aşağıdakilerden hangisi getirilmelidir?

- A) okuyacak zamanımız olduğu için okumayız, okumaktan keyif aldığımız için okuruz
- B) zaman yetersizliği, yalnız okurların değil, toplumun genel bir sorunudur
- C) biz yazarlar da onlardan çok farklı değiliz, hayat telaşı içinde okumaya zaman bulamıyoruz
- D) okumak, gerçekten de öyle ayaküstü yapılabilecek, geçirilecek bir eylem değildir

3. Sanma şahım / herkesi sen / sadıkane / yâr olur

Herkesi sen / dost mu sandın / belki ol / ağyar olur

Sadıkane / belki ol / bu âlemde / dildar olur

Bu dördlükte her dizenin eğik çizgiyle (/) gösterilen ilk bölümleri yukarıdan aşağıya okunduğunda birinci dizeyi, ikinci bölümleri ikinci dizeyi, üçüncü bölümleri ise üçüncü dizeyi oluşturmaktadır.

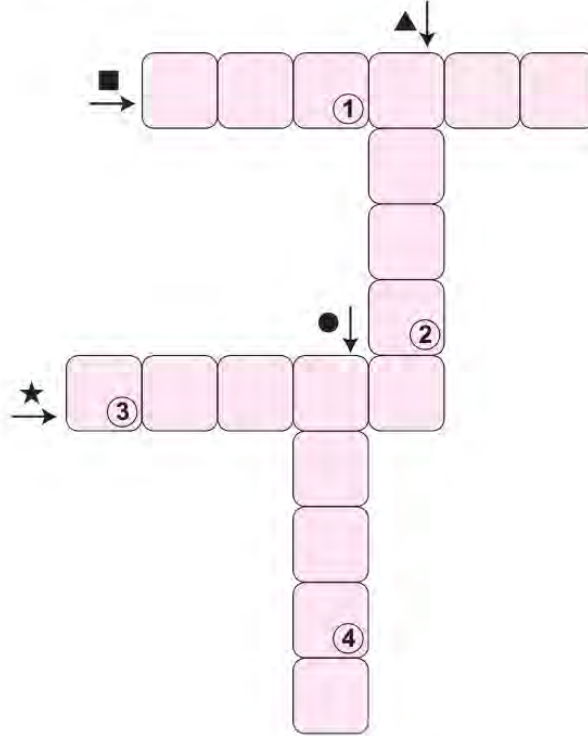
Buna göre dördlüğün son dizesi aşağıdakilerin hangisinde doğru verilmiştir?

- A) Ağyar olur / dildar olur / yâr olur / serdar olur
- B) Herkesi sen / bu âlemde / sadıkane / dost mu sandın
- C) Yâr olur / ağyar olur / dildar olur / serdar olur
- D) Sanma şahım / herkesi sen / sadıkane / dost mu sandın

4. Birbirine yardım eden fertlerden oluşan topluluklar, engelleri daha kolay aşır üst düzey başarılar elde edebilir. İnsanın geçmişinde gördüğümüz ve onu dünyada baskın tür hâline getiren sosyal ve kültürel gelişimin arkasında böyle bir gerçeklik yatar.

Bu metindeki bazı sözcüklerin anlamları "■, ★, ●, ▲" simgeleriyle verilmiştir. Bu sözcükleri metinden bularak aşağıdaki bulmacaya yerleştiriniz.

- Benzerleri arasında, güç ve önem bakımından başta gelen.
- ★ Bir nesnenin, bir kimsenin başka nesne veya kimselere göre değer ve yücelik derecesi.
- Bir şeyin gerçekleşmesini önleyen sebep.
- ▲ Sıkıntı çekmeden, yorulmadan yapılabilen.



ANAHTAR SÖZCÜK



Numaralanmış kutularda yer alan harfler "ANAHTAR SÖZCÜK" bölümüne yerleştirildiğinde aşağıdakilerden hangisi oluşur?

A) S E N A

B) S A L I

C) S A Y I

D) S A D E

5. Sanatın, gerçekleri yansıtması gerektiğini söyleyen Tolstoy, “Sanatta önemli olan, birtakım karakterler yoluyla hikâye anlatmak değil, okuyucuya gerçekleri hatırlatmaktır.” diyerek sanat eserlerinin insanlara boş şeylerle vakit kaybettirmesi gerektiğini vurgular. Çünkü hangi sanat türü olursa olsun, sanatta gerçekçilik çok önemlidir. Sanatın faydası, gerçeği bütün yönleriyle ve samimiyetle anlatmasındadır. Bu yüzden sanat eserlerinde gerçekler olduğu gibi verilmelidir. Hayalî ve gerçekleşmesi imkânsız birtakım eylemleri, durumları ve görüntüleri sanat diye sunmanın insana bir faydası yoktur.

Aşağıdaki tablolardan hangisi bu sözleri söyleyen kişinin onayladığı türden bir sanat eseri değildir?

A)



B)



C)



D)



6.



Bu görseli en doğru yansıtan metin aşağıdakilerden hangisidir?

- A) Geçenlerde mahalleden iskeleye kadar yürüyeyim, dedim. Sahilde kimi göreyim? Bizim Emine teyze bir köşeye oturmuş, kuşları yemiyor. Yanına gidip başına dikildim. Beni görünce heyecanlandı, hemen ayağa kalktı. Başladık eski günleri, o meşhur turşularını, benim mavi bisikleti konuşmaya.
- B) Sözde öğleden sonra buluşacaklardı ama Suat yapmıştı yine yapacağını. Bekleye bekleye bir hâl olmuştu. Karnı da epey acıkmıştı. Acaba arkasındaki simitçiden simit alsa açlığını bastırabilir miydi?
- C) Süleyman, dikkat et, diyorum. Ağabey, merak etme, diyor. Hareket hâlindeki kamyonu binmeye çalışılır mı hiç? Aşk olsun Mahmut, sen de gece gece şehrin göbeğine ne demeye soktun ki bizi? Oğlum, in aşağı; şimdi bir kaza çıkacak!
- D) Eyvah! Kırmızı hırkalı yaramaz yine çıkageldi. Ne zaman annesi ve kardeşi ile buradan geçseler bizi ürkütmeyi görev sayar. O yetmezmiş gibi bugün bir de şapkalı amcamız var. Dur, şunun etrafında uçup onu rahatsız edeyim!

7. Aşağıdaki metinlerden hangisine "Sosyal Medyanın Tüketici Davranışlarına Etkisi" başlığının getirilmesi en uygundur?

- A) Sosyal medya bağımlılığı, özellikle akıllı telefonların hayatımıza girmesiyle giderek arttı. Görünür olma ve başkalarının hayatını takip etme isteğinin günümüzde kimileri için abartılı bir hâl aldığını söyleyen uzmanlar, sosyal medya bağımlılığının kontrol altına alınmadığı takdirde kaygı bozukluklarından depresyona kadar pek çok zararı olabileceğini vurguluyor.
- B) Sosyal medyada bulunan içerikler, bunlardan yararlananların tutumunu ve sosyal medya pazarlamasını biçimlendirmektedir. İnsanlar, bir ürünü satın almaya karar verme noktasında sosyal medyadaki kullanıcı veya firma tarafından oluşturulmuş içeriklerden etkilenmektedir.
- C) Son dönemlerde toplumsal hayatta yaşanan birçok gelişme internetin doğrudan ya da dolaylı etkisiyle ortaya çıkmaktadır. Sosyal medya adı verilen bu yeni iletişim mecrası, eski medya araçlarından farklı ve yaşadığımız zamanın ruhuna daha uygundur.
- D) İnsanlık tarihi boyunca var olan iletişim, çağımızda yeni bir boyut kazanmıştır. Hızla değişen teknoloji, giderek artan istek ve ihtiyaçlar birtakım iletişim araçlarının ortaya çıkmasını sağlamıştır. Bu iletişim araçlarının en önemlisi günümüzde çok etkin kullanılan internettir. İnsanlar, internet ve sosyal medya sayesinde yeni iletişim olanaklarına sahip olmuşlardır.

8. Türklerin bilinen ilk alfabesi olan Orhun alfabesinde 38 harf vardır. Bu alfabeyle oluşturulan yazılar sağdan sola okunur. Orhun alfabesinin bazı özellikleri aşağıdaki tabloda verilmiştir.

Ünlüler				
Orhun alfabesinde ünlüleri veren simgeler dört tanedir.				
A/E	I/İ	O/U	Ö/Ü	
↯	┆	>	ℵ	
Ünlü Uyumu Gerektiren Ünsüzler				
Bazı ünsüzler, kalın ve ince ünlülerle birlikte kullanım durumlarına göre iki farklı simgeyle gösterilir.				
	B	G	D	K
İnce Ses (E, I, Ö, Ü ile)	⌘	⌘	X	ƒ
Kalın Ses (A, I, O, U ile)	⌘	ƒ	⌘	ℵ
	N	R	S	T
İnce Ses (E, I, Ö, Ü ile)	ℵ	ℵ	ℵ	ℵ
Kalın Ses (A, I, O, U ile)	ℵ	ℵ	ℵ	ℵ
Tüm Ünlüler ile Aynı Yazılan Ünsüzler				
Bazı ünsüzler, hem ince hem de kalın ünsüzlerle kullanıldığında aynı şekilde yazılır.				
Ç	M	P	Ş	Z
ℵ	⌘	1	ℵ	ℵ
Birleşik Sesler				
Bazı semboller birden çok sesi karşılar.				
İÇ/Çİ	İK/Kİ	OK/KO	ÖK/KÖ	
ℵ	ℵ	↓	ℵ	
NY	NG	NT	NÇ	LT
ℵ	ℵ	⊙	ℵ	M

Bu bilgilerden hareketle aşağıdakilerden hangisi "Suna, Tonguç, Bilge, Umay" isimlerinden herhangi birinin Orhun alfabesine göre yazımı değildir?

- A) D ↯ ⌘ >
- B) ↯) > ƒ
- C) ℵ > ℵ > ⌘
- D) ↯ ƒ ℵ ┆ ⌘

9. Aşağıda bir cep telefonunun garanti şartları ve kullanım kılavuzu verilmiştir.

GARANTİ ŞARTLARI

1. Garanti süresi, ürünün teslim tarihinden itibaren başlar ve üç yıldır.
2. Garanti hizmetinden faydalanmak için faturanın gösterilmesi gerekmektedir.
3. Ürünün, garanti süresi içinde gerek malzeme ve işçilik gerekse montaj hatalarından dolayı arızalanması hâlinde hiçbir ücret talep edilmeksizin tamiri yapılacaktır.
4. Ürünün, kullanım kılavuzunda yer alan hususlara aykırı kullanılmasından kaynaklanan arızalar garanti kapsamı dışındadır.

KULLANIM KILAVUZU

1. Telefonunuz için hasarlı güç kabloları, priz veya fişleri kullanmayınız.
2. Telefonunuzu sıvı temasından koruyunuz.
3. Herhangi bir arıza meydana gelirse telefonunuzu kendiniz tamir etmeyiniz.
4. Telefonunuza, güvenilir olmayan internet sitelerinden yazılım indirmeyiniz.

Dört farklı müşteri, bozulan telefonlarının garanti kapsamında tamir edilmesini istemektedir. Telefonu aldıkları firmaya bu amaçla bir dilekçe yazmışlardır.

Buna göre aşağıdaki taleplerden hangisinin firmadan olumlu cevap alması beklenir?

- A) İki yıl önce firmanızdan aldığım cep telefonum şarj olmuyor. Faturam olmadığı için kimlik bilgilerimi gönderiyorum. Ürünün değiştirilmesini veya ücretsiz tamirini talep ediyorum.
- B) İnternet sitenizden iki buçuk yıl önce aldığım ve faturasını sakladığım cep telefonum son iki haftadır aşırı ısınıyor. Ürünün firmanız tarafından tamir edilmesini istiyorum.
- C) Henüz iki ay önce firmanızdan aldığım telefonumun üzerine su döküldü. Telefonum o günden beri çalışmıyor. Cihazımın garanti kapsamında tamir edilmesini istiyorum.
- D) Firmanızdan bir yıl önce aldığım cep telefonu, kullanım kılavuzuna uygun kullandığım hâlde arızalandı. Ürünü onarmak için söktüğümde bazı parçaların paslandığını gördüm. Ürünün tamir edilmesini istiyorum.

10. Bugünkü sanat iklimi, sanatçılardan toplumun dertlerini ele alan şiirler istiyor. Ben de genç bir şair olarak böyle şiirler yazmaya çalışıyorum. Peki, ödevimi tam olarak yerine getirebiliyor muyum, dertlerinin çaresini arayan halka rehberlik edebiliyor muyum? Ne gezer! Bir türlü yapamıyorum. Çünkü yazdığım şiirler, o şiirleri doğuran şartların gerisinde kalıyor. Hayat benden daha hızlı gidiyor, toplum benden daha fazlasını istiyor. Toplum beni takip edecekken ben toplumu takip ediyorum. Bu yüzden son zamanlarda büyük şairlerin, zamanı yakalamaya çalışırken izlediği yöntemlere daha fazla odaklanıyorum.

Kendisinden böyle söz eden bir şair aşağıdakilerin hangisinde verilenlerle nitelendirilebilir?

- A) Öz eleştiri yapabilen - Gelişime açık
- B) Şüpheli - Umutlu
- C) Kendine güvenen - Başkalarını önemseyen
- D) Gayretli - İçe dönük

11. Aşağıda büyük harflerin kullanıldığı yerlerle ilgili bazı kurallar verilmiştir:

- Yer adları (kıta, bölge, il, ilçe, semt vb.) büyük harfle başlar.
Uyarı: Özel ada dâhil olmayıp tamlama kuran şehir, il, ilçe, belde vb. sözcükler küçük harfle başlar.
- Yer adlarındaki ilk isimden sonra gelen ve deniz, nehir, göl, dağ, boğaz vb. tür bildiren ikinci isimler büyük harfle başlar.
- Yer, millet ve kişi adlarıyla kurulan birleşik kelimelerde sadece özel adlar büyük harfle başlar.

Bu kurallara göre,

- Dedem, geçen yıl bana bembeyaz bir Van kedisi almıştı.
- Türkiye'nin en önemli ulaşım noktalarından biri de Zigana geçididir.
- Marmaris'te bulunan Selimiye Köyü ziyaretçi akınına uğruyor.
- Yarın akşam İç Anadolu'nun kuzey kesimlerinde yağış bekleniyor.

cümlelerinden hangilerinde yazım yanlışı yapılmıştır?

- A) I ve II. B) I ve IV. C) II ve III. D) III ve IV.

12. Bir kişinin, kendi yaşam öyküsünü anlattığı şiirlere "otobiyografik şiir" denir.

Buna göre aşağıdakilerden hangisi otobiyografik şiirdir?

- A) Yeşil, ipek gömleğinin yakası
Büyük zamana düşer
Her şeyin fazlası zararlıdır ya
Fazla şiirden öldü Edip Cansever
- B) Yaş otuz beş! Yolun yarısı eder
Dante gibi ortasındayız ömrün
Delikanlı çağımızdaki cevher
Yalvarmak, yakarmak nafie bugün
Gözünün yaşına bakmadan gider
- C) Anam Nergiz, babam Hacı
Üç kardeşiz, iki bacı
Şeref der, konuşmam acı
Yumuşaktır huyum benim
Bir doksan bir boyum benim
- D) Adı soyadı
Açılır parantez
Doğduğu yıl, çizgi, öldüğü yıl, bitti
Kapanır parantez
O şimdi kitaplarda bir isim, bir soyadı
Bir parantez içinde doğum, ölüm yılları

13. Şiir serüveninin başından itibaren her şeyin şiire konu olabileceği ilkesini benimseyen şair, "- - -" anlayışı çerçevesinde sosyal ilişkilere, tabiata, teknolojiye, tarihe dair meseleleri farklı sanat dallarından taşıyıp getirdiği malzemelerle harmanlayarak her zaman güncel kalabilen eserler verdi.

Bu cümlede boş bırakılan yere aşağıdakilerden hangisi getirilmelidir?

- A) şiir dünyadan ibaret B) sanat şiirden ibaret C) hayat şiirden ibaret D) şiir insandan ibaret

14 ve 15. soruları aşağıdaki metne göre cevaplayınız.



“Kudüs Şairi” Nuri Pakdil

“Suskunluğu, tırnaklarımın altında
bir tahta kıymığı gibi taşıyorum.”

• 1934

Kahramanmaraş'ta dünyaya geldi.

• 1967

“Büyük Doğu” ve “Diriliş”
dergileriyle güçlü bağlar kurdu.

• 1969-1984

Türk edebiyatında “Yedi Güzel Adam”
olarak bilinen sanatçılardan
Rasim Özdenören, Erdem Bayazıt
ve Akif İnan ile birlikte “Edebiyat”
dergisini yayımlamaya başladı.
“Edebiyat” dergisinin çevresinde
çok sayıda yeni şair ve yazar yetişti.

Pakdil, 1984 yılına kadar Harikalar
Tablosu (çeviri şiir), Umut (oyun),
Sükût Suretinde (şiir) ve
Batı Notları'nın (gezi) aralarında
bulunduğu pek çok kitap çıkardı.

• 1997

“Otel Gören Defterler” başlıklı
altı kitaptan oluşan deneme serisi
okuyucuyla buluştu.

• 2013-2014

2013'te Kültür ve Turizm Bakanlığı
Kültür Sanat Büyük Ödülü'ne,
2014'te ise Necip Fazıl Saygı
Ödülü'ne layık görüldü.

14. Bu metinde Nuri Pakdil ile ilgili,

- I. Hangi türde eserler verdiği
- II. Fikir hayatının şekillenmesinde kimlerin etkili olduğu
- III. Kendisine niçin “Kudüs Şairi” dendiği

bilgilerinden hangilerine değinilmiştir?

- A) Yalnız I. B) Yalnız II. C) I ve III. D) II ve III.

15. Nuri Pakdil bu metindeki altı çizili cümlede suskunluğun, kendisine hangi duyguyu yaşattığını ifade etmek istemiştir?

- A) Endişe B) Sitem C) İzdırıp D) Ümitsizlik

16. Öğrencilik yıllarımda Avrupa'ya birçok seyahatim oldu. O dönemde Fransa'daki çanta satıcılarının müşterilere, çanta takma konusundaki ısrarları beni şaşırtmıştı. Sonradan anladım ki insan, bir nesnenin kendisine ait olabileceğini düşündüğünde bir sahiplik duygusu geliştiriyor ve ondan ayrılmak bir kaybetme kaygısı yaratıyor. Böylece kişi, o nesneyi satın alma konusunda daha istekli oluyor.

Aşağıdakilerden hangisi bu parçada sözü edilen durumu örneklemektedir?

- A) Bankaların yeni bir uygulamayı herkesçe sevilen kişiler aracılığıyla tanıtması
- B) Marketlerin belirli bir miktarın üzerinde harcama yapan müşterilerine indirim uygulaması
- C) Otomobil satıcılarının, müşterilerine yeni model araçlarla test sürüşü yaptırması
- D) Alışveriş sitelerinin, müşterilerine yeni kampanyalar hakkında bilgi mesajları göndermesi

17. Antroposen adı verilen yeni çağın en belirgin özelliği, ona jeolojik faaliyetlerden çok, insanların yol açmış olmasıdır. - - - -

Bu cümlelerin ardına anlam akışına göre,

- I. Antroposen Çağı'nda gezegenin insan eli değmemiş köşeleri gitgide azalırken yerleşim merkezleriyle diğer canlıların paylaştığı kırsal arasında var olduğuna inanılan kültür-doğa ayrımı ortadan kalkıyor.
- II. Canlılar ile makinelerin, doğal ve yapay zekânın iç içe geçtiği bu çağın gözle görünür sonuçlarından en dikkat çeken, Pasifik Okyanusu'ndaki "Yedinci Kıta" adı verilen devasa atık yığınıdır.
- III. Farklı bir jeolojik çağa girildiği konusunda dünyadaki pek çok bilim insanı aynı fikri taşımaktadır.

cümlelerinden hangileri getirilebilir?

- A) Yalnız I.
- B) I ve II.
- C) II ve III.
- D) I, II ve III.

18. Aynı sözcükler kullanılarak oluşturulan söz öbekleri ve birleşik sözcüklerin bitişik mi, ayrı mı yazıldığına karar vermek için cümlede hangi anlamda kullanıldığına bakılır. Örneğin "yer" ve "altı" sözcüklerinin birleşmesiyle oluşan yapılar, hem "yerin altı (yer altı)" hem de "gizli ve yasa dışı (yeraltı)" anlamlarını sağlar. Bu kullanımlardan ilki (yer altı), anlamsal açıdan şeffaflık taşıdığından söz öbeği işlevindedir ve ayrı yazılmalıdır. Ancak anlamsal şeffaflığın bulunmadığı ikinci durumda sözcük (yeraltı), farklı bir kavramı karşılar hâle geldiği için yeni bir sözcük olarak değerlendirilmeli ve bitişik yazılmalıdır.

Bu metne göre aşağıdakilerin hangisinde altı çizili sözün yazımı yanlıştır?

- A) Kendisine çok iyi bakacağımı, isterse sağ kolum olabileceğini söyledim.
- B) Gözlerini açar açmaz, baş ucunda bekleyenlere gülümsemeyi ihmal etmedi.
- C) Müzenin kurulmasına önayak olan sanatçılarımıza, katkılarından dolayı minnettarız.
- D) Büyük bir maharetle attığı topun kaleye girmesine bıçaksırtı kalmıştı.

19.

“Bozkırın Tezenesi” mütevazılığıyla gönüllerde taht kurdu.

Yaşamı boyunca pek çok plağa ve kasete imza atan, “Garip” mahlasıyla yazdığı şiirlerinde kendi hayatını anlatan Neşet Ertaş, sanatı kadar kişiliği ve her konseri öncesinde sevenlerine söylediği “Ayaklarınızın turabı, gönüllerinizin hizmetçisiyim.” gibi sözleriyle akıllarda kaldı.

- İlkokul çağında önce keman, sonra da bağlama çalmayı öğrenen Neşet Ertaş, müzik hayatına saz ustası babası Muharrem Ertaş sayesinde başladı.
- İstanbul’a gitti ve Muharrem Ertaş’a ait “Neden Garip Garip Ötersin Bülbül” eseri ile ilk plağını çıkardı.
- Çok beğenilen bu plağın ardından yeni plak ve kasetler çıkaran Ertaş, halk konserleri vermeye başladı.
- “Türkülerin Babası” ve “Anadolu Efsanesi” gibi isimlerle de anılan sanatçı 25 Eylül 2012’de aramızdan ayrıldı.



Bu metinden Neşet Ertaş ile ilgili aşağıdakilerden hangisi çıkarılamaz?

- A) Yetişmesinde babasının katkısı olduğu
- B) Konserlerine, benzer sözlerle başladığı
- C) Kimi şiirlerinin, yaşamından izler taşıdığı
- D) Plaklarını çeşitli takma isimlerle çıkardığı

20. İlhan Berk yaptığı resimleri, üstünde “60 bin” yazılı koca bir zarftan tek tek çıkararak döşemeye serdi. Bir süre gülümseyerek baktı otuz resme de. Ferit Edgü ve bana düşüncelerimizi sordu. Ressamların bayıldığı huyları vardır: Yapıtlarını gösterirken eserlerini överler, o arada onların reklamını da yaparlar. İlhan Berk de resim yapmaya başladı. Ona da mı geçmiş bu huy? Değil. Çünkü o, şiirlerini ortaya koyarken de öteden beri böyle yapar. Oysa şairler genellikle utanırlar şiirlerini gösterirken. Bir alçak gönüllülük tavrı benimserler.

Bu parçada aşağıdakilerden hangisi yoktur?

- A) Tespit
- B) Karşılaştırma
- C) Betimleme
- D) Öneri

21. Bilinç akışı tekniğinin kullanıldığı modern öykü ve romanlarda okur, olayları değil; olayların insan üzerindeki etkilerini, oluşturduğu çağrışımları ve duyguları izleme imkânı bulur. Bilinç akışında kahramanın zihninden geçen düşünceler arasında mantıksal bir bağ yoktur.

Buna göre aşağıdaki metinlerin hangisinde bilinç akışı tekniği kullanılmıştır?

- A) Elektriğe henüz kavuşmuş kasabada doktor, mühendis ve avukatların çok önemsendiği yıllardı. Her şeyi, herkesten daha iyi bilir; bundan dolayı da çarşıda, pazarda, kahvede, lokantada en çok saygıyı onlar görürlerdi. Bir doktor, bir avukat, bir mühendisin çevresi çokluk büyük çiftçiler, tüccarlar tarafından çevrilir; yorumları can kulağıyla dinlenirdi.
- B) Üç torba aldığımı iyi ettim, lahana da alırım ıspanak da. Üç daire... Şimdi apartman katları kira getirmiyor, bankaya yatırmak en iyisi. Bıyıklarını boyamış şu. Arnavut kaldırımının böylesine ne topuk dayanıyor ne pençe. Yarın gözünü kapadı mı hiç yoktan iyi. Ufak tefeğe kulak asma. Katları onlara bölüştürür, ben bana kalan aylığa bakarım.
- C) Bazı hiç sebep yokken annesinin boynuna sarılır; yanaklarını, gözlerini, ellerini öperdi. Melek Hanım bu dakikalarda onun nezaketten ezildiğini, mavi gözlerinin yaşla dolduğunu görürdü. Sebebini sorduğu vakit Kenan, bir şey söyleyemezdi. Çünkü bu sebebi kendi de bilmezdi. Bu, onun için uyumak ve su içmek gibi bir ihtiyaçtı.
- D) Bir kartal yuvasını andıran köy, dağın eteklerine sırtını vermiş, dünyaya kafa tutuyor gibiydi. Köyün yamaçlarına kurulmuş kerpiç evler toprağın yeryüzüne köpürüşü gibi duruyordu. Uzaktan bakanlar, bir tespih gibi dizilen evleri ve maviye boyanmış kapıları görürlerdi. Şehirlerde hızla akıp giden hayat burada iyice yavaşlar, belli bir süre kendini sessizliğe bırakırdı.

22. Sözcüklerin, anlamlarına uygun olmayan bir şekilde cümlede kullanılması anlatım bozukluğuna yol açmaktadır. Türk Dil Kurumu, bu yanlışlardan kaçınmak isteyenlere yardımcı olmak amacıyla birbiriyle sıkça karıştırılan bazı sözcüklerin anlamını şöyle vermiştir:

Yakın: Az bir ara ile ayrılmış olan (zaman veya yer).

Yaklaşık: Gerçek değeri ve miktarı değil, ondan biraz fazla veya eksik bir niceliği gösteren, aşağı yukarı bir değerlendirme yapılarak bulunan.

Maiyet: Üst görevlinin yanında bulunan kimseler, alt kademedekiler.

Mahiyet: İçyüz.

Tabii: Olağan, alışılmış, her zamanki gibi olan, beklendiği gibi.

Tabi: Bağımlı.

Teamül: Bir yerde öteden beri olagelen davranış.

Temayül: Bir tarafa eğilme, meyletme.

Buna göre aşağıdaki cümlelerin hangisinde bir anlatım bozukluğu vardır?

- A) Bu işin mahiyetini en kısa zamanda öğrenmeliyiz.
- B) Teyze çocuklarımı üç güne yakındır görmüyorum.
- C) Büyüklerin elini öpme teamülü kültürümüzde bir saygı ifadesidir.
- D) Sosyalleşmek insan ruhu için tabii bir ihtiyaçtır.





23. I. Unutulma hakkı, bireyin ulusal ve uluslararası metinlerde çerçevesi çizilen her türlü kişisel verisinin korunmasını sağlayan bir haktır.
- II. Bu durumu ortadan kaldırmak için kişisel verilerin korunması hakkının bir görünümü sayılabilecek olan "unutulma hakkı" kavramı gündeme gelmiştir.
- III. Kişisel veriler dijital ortamlarda bir kez paylaşıldığında bu ortamda kayıt altına alınmakta, kimi zaman üçüncü kişiler tarafından bireyin rızası dışında kullanılabilir.
- IV. Bu hak, dijital hafızada yer alan kişisel bir içeriğin, bireylerin talebi üzerine bir daha geri getirilemeyecek biçimde silinmesidir.

Bu parçanın anlamlı bir bütün oluşturabilmesi için numaralanmış cümlelerden hangileri yer değiştirmelidir?

- A) I ve II. B) I ve III. C) II ve IV. D) III ve IV.

24. Aşağıdaki tablolarda bir şehre ait dört günlük hava durumu tahmini ve bu tahminlerde kullanılan simgelerin anlamları verilmiştir.

Tablo 1: Dört Günlük Hava Durumu Tahmini

Tarih	Hadise	Sıcaklık (°C)		Nem (%)		Rüzgâr Hızı (km/sa)
		En Düşük	En Yüksek	En Düşük	En Yüksek	
5 Şubat Salı		13	17	64	92	23
6 Şubat Çarşamba		9	12	83	98	19
7 Şubat Perşembe		6	9	71	83	21
8 Şubat Cuma		5	9	48	73	19

Tablo 2: Hava Tahminlerinde Kullanılan Simgelerin Anlamları

	Açık		Az Bulutlu
	Parçalı Bulutlu		Çok Bulutlu
	Hafif Yağmurlu		Yağmurlu
	Kuvvetli Yağmurlu		Sağanak Yağışlı
	Gök Gürültülü Sağanak Yağışlı		Kar Yağışlı

Bu tablolardan hareketle yapılan aşağıdaki açıklamalardan hangisi yanlıştır?

- A) Salı günü havanın sağanak yağışlı, sıcaklığın 13 ila 17 °C arasında olması, rüzgârın ise saatte 23 km hızla esmesi bekleniyor.
- B) Çarşamba gününün gök gürültülü sağanak yağışlı geçmesi bekleniyor ve nem oranının önceki güne göre artacağı tahmin ediliyor.
- C) Perşembe günü havanın yağmurlu, sıcaklığın 6 ila 9 °C arasında olacağı ve nem oranının önceki güne göre azalacağı tahmin ediliyor.
- D) Cuma günü yağışların azalması, havanın az bulutlu olması, sıcaklık ve rüzgâr hızının önceki güne göre artması bekleniyor.

25. Bir yazarın, ana dilini bilmediği düşünülebilir mi? Soruyu ters çevirelim. Ana dilini bilmeyen bir kimse yazar olabilir mi? Maalesef olabiliyor. Üstelik belli ölçüde isim bile yapabiliyor.

Bu metin aşağıda açıklaması verilen anlatım biçimlerinden hangisine örnektir?

- A) Herhangi bir konu hakkında bilgi verilir, bir şeyler öğretmek amacına yöneliktir. Yazar, sanatlı söyleyişlerden ve öznellikten kaçınır.
- B) Bir yerin veya varlığın özellikleri, bu özelliklerin yazarda uyandırdığı izlenimler, okurun gözünde canlanacak şekilde anlatılır.
- C) Bir yaşam kesiti, belli bir olaya bağlı olarak anlatılır. Amaç; okuru olayların içinde yaşatmak, kahramanlarla ve olayla özdeşleştirmektir.
- D) Yazar bir konu ile ilgili kişisel görüşünü belirterek okuyucunun o konu hakkındaki fikrini etkilemeye çalışır. Karşılıklı konuşma havası vardır.

26. Ülkemizde sağlık giderlerinin %60'ı ilaç harcamalarından oluşuyor. Bu oran Avrupa ülkelerinde %15 civarında. Eczanelerdeki ilaçların ortalama %7'si kullanım süresi dolduğu için çöpe atılıyor. Evlerde antibiyotiklerin %44'üne hiç dokunulmuyor, diğer ilaçların ise %60'ının kullanım tarihi, kutusu dahi açılmadan sona eriyor.

Bu açıklamaya göre,

- I. Son kullanım tarihi geçmemiş ve kullanılmayan ilaçlar için toplama merkezleri oluşturulması
- II. İlaç tüketimi konusunda toplumun bilinçlendirilmesi
- III. İlaç tanıtım yazılarının (prospektüs) dikkatle okunması

fikirlerinden hangileri metinde sözü edilen soruna yönelik bir çözüm olabilir?

- A) Yalnız I.
- B) I ve II.
- C) II ve III.
- D) I, II ve III.

27. Dünyaya sana ait bir ses, bir renk, bir ezgi, bir eda, bir duruş, bir cümle bırak. Sana has bir düşünüş bırak. Koşmak zorunda değilsin, düşersen kalkmak zorunda değilsin. Düştüysen bir süre çimenlerin tadını çıkarabilirsin. Sana sürekli koşmanı söylüyorlar. Yarışmanı, birilerini arkada bırakmanı, ipi önce göğüslemeni bekliyorlar. Hep daha hızlı koşmanı istiyorlar. Bense sadece annenin, çocukluğunda sana söylediği bir sözü hatırlatacağım: Koşma, düşersin!

Bu parçada,

- I. Özgünlük
- II. Sakinlik
- III. Kararlılık

kavramlarından hangileri vurgulanmaktadır?

- A) I ve II.
- B) I ve III.
- C) II ve III.
- D) I, II ve III.

28.

O	F	D	B	B
M	E	C	A	Z
L	Ç	B	Y	Y

Bu tabloda, her sütundaki harfler aşağıdan yukarıya doğru, harflerin alfabedeki sırası (...PRSŞTUÜVYZABC...) göz önünde bulundurularak belli bir harf atlama düzenine göre dizilmiş ve orta kısımda "MECAZ" sözcüğü oluşmuştur.

Bu harf atlama düzenine göre "KARNE" sözcüğü aşağıdaki tabloların hangisinde gizlenmiştir?

A)

M	B	S	O	F
J	Y	P	M	D

B)

M	B	Ş	L	G
J	Y	P	O	D

C)

M	B	Ş	O	G
J	Y	P	L	D

D)

M	B	Ş	O	G
J	Y	Ö	L	D

29.

- Açıklık, anlatımın hiçbir tartışmaya yol açmayacak şekilde anlaşılır olmasıdır.
- Akıcılık, anlatımda söyleniş kolay sözcüklerin kullanılmasıdır.
- Özgünlük, anlatımın nitelik bakımından benzerlerinden farklı olmasıdır.
- Duruluk, anlatımda gereksiz sözcüğün bulunmamasıdır.

Bu açıklamalara göre "Bir yazının kusursuzluğu, eklenecek bir söz kalmamasıyla değil çıkarılacak bir söz kalmamasıyla ölçülür." cümlesinde aşağıdaki kavramlardan hangisinin önemi vurgulanmaktadır?

A) Açıklık

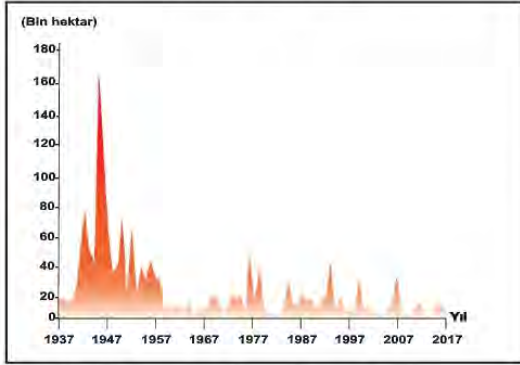
B) Akıcılık

C) Özgünlük

D) Duruluk

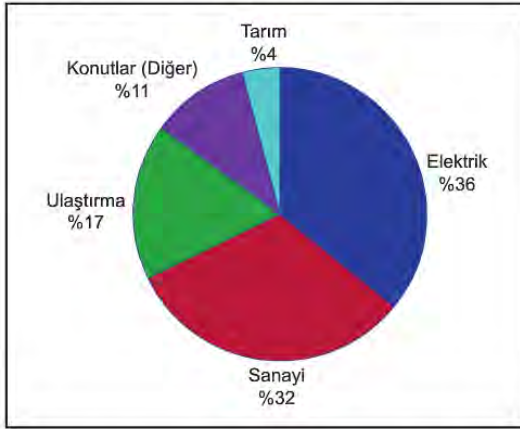
30. Aşağıdaki grafiklerin karşısında açıklamaları verilmiştir.

I. Türkiye'de Orman Yangınlarından Etkilenen Alan Miktarının Yıllara Göre Dağılımı



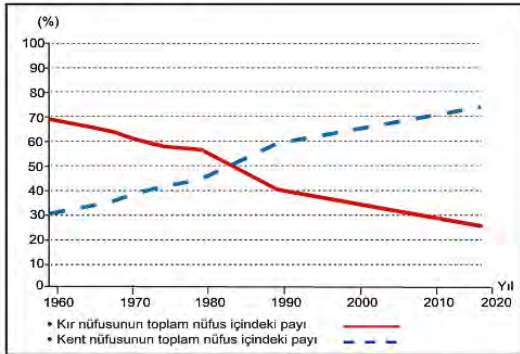
1957'den itibaren Türkiye'de orman yangınlarında kayda değer bir azalma görülüyor.

II. Türkiye'de Sera Gazı Kaynaklarının Dağılımı



Türkiye'de sera gazı salınımı her geçen gün artıyor.

III. Türkiye'de Kent ve Kırsal Nüfusunun Yıllara Göre Toplam Nüfus İçindeki Payı



1960'tan beri Türkiye'de kent nüfusunun toplam nüfus içindeki payı her yıl artarken kırsal nüfusunun payı azalmıştır.

Numaralanmış grafiklerden hangileri açıklamaları ile örtüşmez?

A) Yalnız I.

B) Yalnız III.

C) I ve II.

D) II ve III.

31.

I.

Bir tilki, gün doğarken gölgesinin uzunluğuna baktı ve şöyle dedi:

— Bugün öğle yemeğinde bir deve yiyeceğim.

Ve bütün sabah deve arayıp durdu. Ama öğle güneşi yükseldiğinde gölgesinin ne kadar kısa olduğunu görünce kendi kendine şöyle söyledi:

— Bir fare de işimi görür.

II.

Kavağın yanında bir kabak filizi boy vermişti. Bahar ilerledikçe kavak ağacına sarılarak yükselmeye başladı ve neredeyse onunla aynı boya geldi. Bir gün dayanamayıp kavağa sordu:

— Sen kaç ayda bu hâle geldin?

— On yılda...

— On yılda mı; ben neredeyse iki ayda seninle aynı boya geldim, dedi ve güldü.

Günler günleri kovaladı. Sonbahar geldiğinde kabak önce üşümeye başladı, sonra yapraklarını düşürmeye.

Endişeyle kavağa sordu:

— Neler oluyor bana?

— Kuruyorsun.

— Niçin?

— Benim on yılda geldiğim yere, iki ayda gelmeye çalıştığın için...

Bu metinlerin ortak vurgusu aşağıdaki deyimlerden hangisiyle ifade edilebilir?

A) Başı göğe ermek

B) Haddini bilmek

C) Tepeden bakmak

D) Bindığı dalı kesmek

32.

I. Sözcüklerini aramaktan yorulmuş anılarımı yüreğimin kuytu bir köşesine ekleyerek seslerin ve kokuların yalnızlaştığı bu kulübede saatlere karışıyorum.

II. İskelenin yanından kalkıp yorgun adımlarla kulübeye doğru yürüyorum yavaş yavaş.

III. Günün akşama döndüğü dakikalarda, pejmürde perdelerini ve deniz kokan tahtalarını ardımda bırakarak kulübeden çıkıyorum bir gölge gibi.

IV. Rüyalarımı ve tedirgin masallarımı kıyıda bırakarak, denizin ve martıların seslerini yüreğime hapsederek açıyorum yılların acısıyla gıcırdayan kapıyı.

Numaralanmış cümleler düşüncenin akışına göre sıralandığında hangisi baştan üçüncü olur?

A) I.

B) II.

C) III.

D) IV.

33.

EBA TV Ortaokul Haftalık Ders Programı						
Sınıf	Başlangıç Saati	Pazartesi	Salı	Çarşamba	Perşembe	Cuma
5. Sınıf	09.00	Türkçe	Sosyal Bilgiler	İngilizce	Türkçe	İngilizce
	09.30	Matematik	Fen Bilimleri	Din Kültürü ve Ahlak Bilgisi	Matematik	Fen Bilimleri
6. Sınıf	10.00	Türkçe	Sosyal Bilgiler	İngilizce	Türkçe	İngilizce
	10.30	Matematik	Fen Bilimleri	Din Kültürü ve Ahlak Bilgisi	Matematik	Fen Bilimleri
7. Sınıf	11.00	Türkçe	Sosyal Bilgiler	İngilizce	Türkçe	Matematik
	11.30	Matematik	Fen Bilimleri	Din Kültürü ve Ahlak Bilgisi	Matematik	Fen Bilimleri
8. Sınıf	12.00	Türkçe	T.C. İnkılap Tarihi ve Atatürkçülük	İngilizce	Türkçe	İngilizce
	12.30	Matematik	Fen Bilimleri	Din Kültürü ve Ahlak Bilgisi	Matematik	Fen Bilimleri
TEKRAR 13.30-21.30						

Ahmet 7. sınıf, kardeşi Eren ise 5. sınıf öğrencisidir. İki kardeş, MEB'in hazırladığı EBA TV Ortaokul Haftalık Ders Programı'na göre uzaktan eğitim alacaktır. Dersler 20 dakika sürmektedir ve her bir dersten sonra 10 dakikalık etkinlik kuşağı yer almaktadır.

Ahmet ve Eren ilk günkü ders yayınlarını verimli bir şekilde takip eder. Ancak oturdukları apartmanın elektrik tesisatındaki arıza nedeniyle salı günü 09.30-11.30, cuma günü ise 09.00-09.30 ve 11.00-11.30 saatleri arasındaki derslerin yayınlarını izleyemez ve bu derslere ait yayınların tekrarlarını izlemeye karar verir.

Buna göre Ahmet ve Eren'in, tekrar yayınlarını izleyecekleri dersler aşağıdakilerin hangisinde doğru verilmiştir?

Salı		Cuma	
A) Eren: Sosyal Bilgiler	Ahmet: Fen Bilimleri	Eren: Fen Bilimleri	Ahmet: Matematik
B) Eren: Fen Bilimleri	Ahmet: Sosyal Bilgiler	Eren: İngilizce	Ahmet: Fen Bilimleri
C) Eren: Sosyal Bilgiler	Ahmet: Sosyal Bilgiler	Eren: Fen Bilimleri	Ahmet: İngilizce
D) Eren: Fen Bilimleri	Ahmet: Sosyal Bilgiler	Eren: İngilizce	Ahmet: Matematik

- 34.
- İsmi ne anlama geldiği
 - Gelir kaynağı
 - Coğrafi konumu
 - Halk arasında nasıl anıldığı

Aşağıda tanıtılan şehirlerin hangisinde bu bilgilerin tümüne yer verilmiştir?

- A) Endonezya'nın başkenti ve en büyük şehri olan Cakarta'nın diğer adı Big Durian'dır. Cakarta; kendine has iklimi, bitki örtüsü ve doğal güzellikleri sayesinde seyahatiniz boyunca sıkılmayacağınız bir şehirdir. Monas, Ancol Rüya Parkı, Endonezya Minyatür Parkı şehirde gezilecek yerler arasındadır.
- B) Bir Güney Asya ülkesi olan Bangladeş'in başkenti Dakka, dünyanın en fazla nüfusa sahip yedinci şehridir. Çok kalabalık olduğu için şehirde "bisiklet taksi" uygulaması yaygındır. Halk arasında "camiler şehri" olarak bilinir. Sıcak, yağışlı ve nemli bir iklimi vardır.
- C) İskenderiye, beş milyonu aşan nüfusuyla Mısır'ın Akdeniz kıyısındaki büyük şehirlerindendir. Önemli bir sanayi bölgesi olan İskenderiye, ülkenin dış ticaretinin büyük bir bölümünü karşılar. İsmi Makedonya Kralı İskender'den almıştır.
- D) Kuzey Afrika'nın batısında, Fas'ın orta kısmında yer alan Marakeş'in kelime anlamı "Tanrı'nın ülkesi"dir. Toprağının kırmızı renkli olmasından dolayı bölgede yaşayanlar ona "kırmızı şehir" demektedir. Marakeş, dünyanın en çok tercih edilen turizm merkezlerinden biri olduğu için ülke ekonomisine büyük katkı sağlar.

35. Büyük firmalar bir yerde mağaza açmadan evvel ön araştırma yapar. Bu araştırmada mağazanın açılacağı bölgeden günde kaç kişinin geçtiği; geçenlerin yaşı, cinsiyeti ve beğenileri ile ilgili veriler toplanır.

Bu parçanın sonuna "Tıpkı bunun gibi, bir konuşmacının da konuşmasından önce dinleyicilerin nelere ilgi duyduğu noktasında titizlik göstermesi gerekir." cümlesi getirilirse aşağıdakilerden hangisi yapılmış olur?

- A) İlişkilendirme B) Onaylama C) Eleştiri D) Betimleme

36. Bir yazarın, kendisine yöneltilen sorulara verdiği cevaplar şunlardır:

- İki biribirinden ayrılabilir şeyler değil. Bu, herkeste olması gereken bir hassasiyet aslında. Harfler sesleri temsil ediyor. Kâğıdın üzerine yazılan harflerden topluca bir ses çıkıyor. Bu sesi düzenlemesi gerekir yazarın. Sesler tesadüfün eline bırakılırsa tatsız bir gürültüye dönüşür.
- Yazma amacım ilk gün neyse şimdi de o: Kendimi ifade edebilmek. Bu nedenle adımın sıkça anıldığı ödüllerini alıp almamam hiç önemli değil. Önemli olan, önceki romanlarımdan daha iyi birkaç roman yazabilmek. Ben -insanlar müsaade ederlerse- birkaç roman daha yazıp bu işe nokta koymak istiyorum.
- Hayatımın en olgun dönemini yaşıyorum. Bu yüzden okurken daha seçici davranıyorum. Bugünlerde, denemelere merak saldım. Ayrıca yeni çıkan öykü ve romanları da elimden geldiğince takip etmeye çalışıyorum. Pek azını beğeniyorum. Güzel bir metinle karşılaşınca da kendim yazmış gibi heyecanlanıyorum.

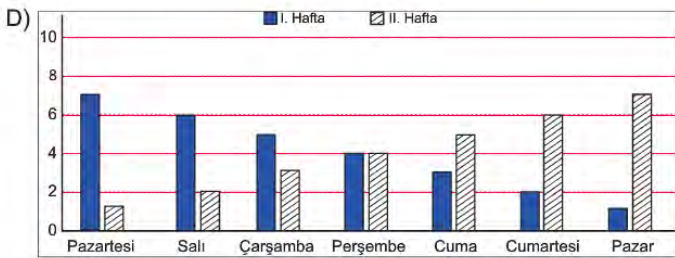
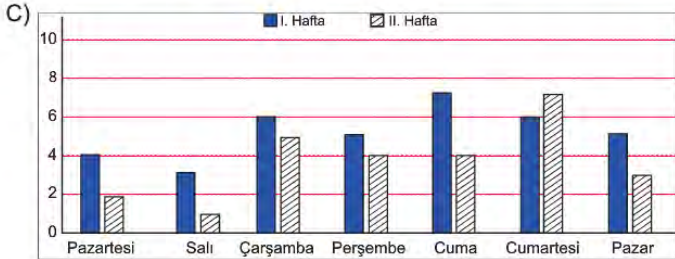
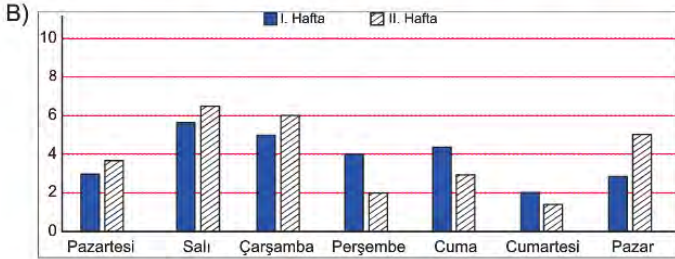
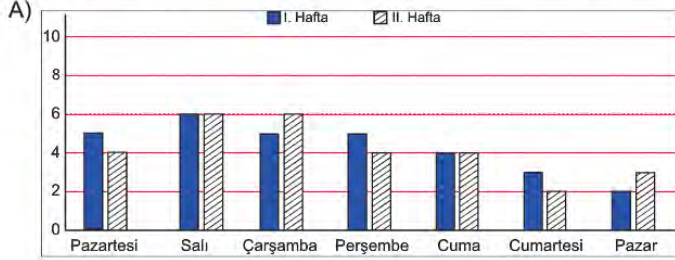
Aşağıdaki sorulardan hangisi bu cevapların herhangi biri ile ilişkili değildir?

- A) Son zamanlarda ne tür yazılar okuyorsunuz?
- B) "Yazmak beste yapmak gibidir." sözüyle ne anlatmak istiyorsunuz?
- C) Yazmak ve okumak arasında nasıl bir ilişki vardır sizce?
- D) Edebiyat ödüllerinin sanatınız üzerindeki etkisi nedir?

37. Bir bilgi yarışmasına katılacak olan Ayşe, Beril, Cemil ve Demir'in iki hafta boyunca günde kaç saat çalıştıkları belirlenmiş ve her birinin çalışma süresi grafik üzerinde gösterilmiştir. Öğrencilerin çalışma sürelerine ilişkin şunlar bilinmektedir:

- Ayşe: Her iki haftada da en fazla ve en az çalıştığı günler aynıdır.
- Beril: Haftanın her günü; birinci hafta, ikinci haftadan daha fazla çalışmıştır.
- Cemil: Çalışma saatleri, birinci hafta gün geçtikçe azalırken ikinci hafta gün geçtikçe artmıştır.
- Demir: Her iki haftada da hafta sonları, hafta içindeki günlere göre daha az çalışmıştır.

Buna göre aşağıdaki grafiklerin hangisi sözü edilen öğrencilerden herhangi birine ait değildir?





8. SINIF TÜRKÇE

5. Tema

1. Yazarın hikâyelerindeki karakterler, çoğunlukla zor koşullar altında yaşayan insanlardır. O, var olma mücadelesi içindeki bu karakterleri, güçlü bir gözlem yeteneğine ve içgörüye dayanarak son derece kanlı canlı biçimde betimler. Hatta yakın arkadaşı olan Cemal Süreya, onun hikâyelerindeki kişiler için şöyle der: "Onun kişilerine iğne batırsan kan çıkar."

Bu metindeki altı çizili cümlede, sözü edilen hikâye karakterlerinin hangi özelliği anlatılmak istenmiştir?

- A) Etkileyiciliği B) Özgünlüğü C) Gerçekçiliği D) Evrenselliği

2. Türk sanatında süslemelerin ve onları oluşturan motiflerin ayrı bir önemi vardır. Her biri evrensel bir dile sahip olan motifler kültürümüzde çeşitliliği, renkliliği ve zenginliğiyle dikkat çekmektedir. Tarihten günümüze yetişen nice nakkaş, hattat ve ressam, eserlerini motiflerin binbir renk ve biçimiyle süslemiştir. Türk sanatında kullanılan bu motiflerden biri "ışın"dır. Bir ışık kaynağından çıkarak her yöne yayılan ışık demeti şeklinde oluşturulan bu motif, özellikle Osmanlı armalarında kullanılmıştır. Sürekliliği yansıtan "çarkıfelek" motifi; dünyanın dönüşünü, devinimi ve hayatı anlatır. Bu motifte, merkezden dışa doğru açılan çizgiler, rüzgârgülü gibi tek yönde şekillendirilerek oluşturulmuştur. Bir diğer motif olan "zencerek", belli bir düzenle birbirinin içinden geçirilmiş iplere benzeyen yapısından dolayı "mutluluk düğümü" olarak adlandırılmaktadır. Sonsuzluğu simgeleyen bu motif; güç, birlik ve mutluluğu da temsil eder.

Aşağıdakilerden hangisi bu metinde sözü edilen motiflerden biri değildir?



3. Nesne alabilen fiillere geçişli fiil, nesne alamayan fiillere geçişsiz fiil denir. Örneğin "Ufuk çay içiyor." cümlesindeki "iç-" fiili nesne alabilen bir fiildir. Oysa "Ufuk gülüyordu." cümlesindeki "gül-" fiili nesne alamaz.

Buna göre aşağıdaki cümlelerin hangisinde geçişsiz bir fiil vardır?

- A) İnsan, açıklayamadığı her olaydan korkar.
B) Empati kurabilenler, karşısındakini daha iyi anlar.
C) Gençler, duygularının yansımasını şiirlerde bulur.
D) Yaşamdaki birtakım zorluklar insanı yorar.

4. Yazar, yaygın bir fikri değiştirmek amacıyla yazdığı bu yazıda, savunduğu düşünceyi başkasının görüşüyle desteklemiştir.

Aşağıdakilerden hangisi bu cümlede sözü edilen yazıdan alınmış olabilir?

- A) Birçok sanatçı, sanat eserlerinin hiçbir düşünceyi yaymadığını söyler. Böyle bir şey mümkün değildir. Her eser, ister istemez bir insanın, bir toplumun düşüncelerini bildirir. Hatta sadece güzellik kaygısıyla yazılmış olanlar bile bir dünya görüşünden haber verir. Böyle olmasaydı Benite "Sanat eserleri bir medeniyeti sonraki nesillere anlatan şahitlerdir." der miydi hiç?
- B) Bir yazarın, dilini geliştirmesi neye bağlıdır? Bu sorunun cevabı gayet basit: Halkla göbek bağına kesmemesine... Çünkü dili doğuran, besleyip geliştiren, halktır. Şair ve yazarlar ise halkın sesidir. Ne güzel diyor Dağlarca: "Şair ve yazarlar çağlarının, ülkelerinin ön duyarlılıklarıdır. Bir karanlığı, bir acıyı ilk onlar dile getirir." Bu gerçek, yeryüzündeki bütün şair ve yazarlar için geçerlidir.
- C) Dostluğun temelinde sevgi vardır. Dostlukta hiçbir şey yalan ve yapmacık değildir, her şey gerçektir ve içten gelir. Bu yüzden dostluk, ihtiyaçlar ve çıkarlar gözetilerek doğmaz. Dostluğun doğuşunda, ruhların sevgiyle birbirine bağlanması vardır. Aristo'nun da dediği gibi dostluk, iki gövdede yaşayan bir ruhtur.
- D) Bir sanatçının eser ortaya koyması; toplum içinde onu isteyen, ondan anlayan; onun güzelliğini, çirkinliğini, iyiliğini ve kötülüğünü seçebilecek kimseler bulunduğu inandığını gösterir. Bu nedenle sanat adamının, eseri ile ilgili eleştiri yazılmasını istememesine aldanmayın. Onun istemediği şey, ortaya koyduğu eserin beğenilmemesidir.

5. **Aşağıdaki medya metinlerinden hangisinin yazılış amacı yay ayraç içinde yanlış verilmiştir?**

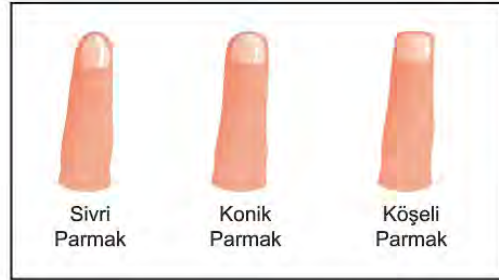
- A) Kahve, Anadolu'nun dillere destan konukseverliğinin en önemli göstergelerinden biridir. Anadolu'da sizi acı bir kahve içmeye çağıran kişiye "Neden acı kahve?" diyemezsiniz. Bu acılıkta, yıllar yılı sürececek bir tatlılık, yakın bir dostluk vardır. Bu yüzden "Bir fincan kahvenin kırk yıl hatırı vardır." sözü Anadolu'nun her yerinde, her zaman söylenir durur. (Kültür aktarma)
- B) Dünyadaki böcek türlerinin sayısı her geçen yıl azalıyor. Bu azalmaya zirai endüstri, doğal ortamların yok edilmesi, böcek ilacı kullanımı ve iklim değişikliği neden olmaktadır. Araştırmacılar önümüzdeki 30-40 yıl içinde gıda üretme yöntemleri değiştirilmezse böceklerin yok olacağını vurguluyor. (Olay yorumlama)
- C) Buğday unu tüketimi ile obezite arasında doğrudan bağlantı kurulmıyor. Dünya Sağlık Örgütü'nün açıklamalarına göre Fransa'da kişi başına düşen buğday tüketimi Amerika'dakinden %50 fazla olmasına rağmen obezite oranı Amerika'dan çok daha düşük. İtalya'da ise Amerika'dakinin iki katı buğday tüketilmesine rağmen obezite oranı Amerika'dakinin dörtte biri oranında. (İkna etme)
- D) Avrupa Nükleer Araştırma Merkezi (CERN) dünyanın en büyük fizik laboratuvarıdır. On iki Avrupa ülkesi tarafından 1954'te kurulmuştur. CERN'e üye ülkeler kendi olanakları ile gerçekleştirecekleri yüksek maliyetli araştırmaları burada yapmaktadır. 2015'ten beri CERN'e üye olan Türkiye de oradaki çalışmalara katılabilmektedir. (Bilgilendirme)

6. İnsanların ellerine bakılarak karakterlerine dair hükümler çıkarmak çok eski dönemlerden kalma bir yöntemdir. Bu yöntem, Osmanlıda özellikle sarayda çalıştırılacak kişilerin seçiminde önemli bir değerlendirme aracı olmuştur. Bu yöntemle göre,

- Yüzük parmağı işaret parmağından uzun olan kişiler, risk almaya açık bir yapıya sahiptir.
- İşaret parmağı ile yüzük parmağı eşit olanlar, hiçbir konuda aşırı gitmezler.
- Orta parmağı ile yüzük parmağı eşit olanlar, ömürlerini serüven arayışı içinde geçirir.

Parmakların şekline göre de karakter tahlili yapılmaktadır. Örneğin,

- Parmakları sivri olanlar, güzel ve etkili konuşur; güçlü bir hayal gücüne sahiptir.
- Konik parmaklı kişiler, kimsenin etkisinde kalmadan kendi başına karar almak isteyen bir yapıya sahiptir.
- Köşeli parmakları olanlar, olaylara sakin ve temkinli yaklaşır.



Buna göre maceraperest ve özgürlüğüne düşkün bir kişinin parmak yapısının aşağıdakilerden hangisine benzer olması beklenir?



7. Ankara'dan Avustralya'ya gitmek isteyen bir kişi İnternet'ten uçak bileti alacaktır. Ankara - Avustralya arasında doğrudan uçuş olmadığı için aktarma uçuş yapmak zorundadır. Bu uçuş için hatlar sırasıyla Ankara - İstanbul, İstanbul - Singapur ve Singapur - Avustralya şeklindedir. Yani Ankara'dan uçağa binen bir kişi önce İstanbul'a, sonra Singapur'a, daha sonra ise Avustralya'ya uçacaktır.

NEREDEN	NEREDEN	NEREDEN	NEREDEN	NEREDEN
İSTANBUL	ANKARA	SİNGAPUR	ANKARA	SİNGAPUR
NEREYE	NEREYE	NEREYE	NEREYE	NEREYE
SİNGAPUR	İSTANBUL	AVUSTRALYA	İSTANBUL	AVUSTRALYA
TARİH	TARİH	TARİH	TARİH	TARİH
6 MART 2018	7 MART 2018	7 MART 2018	6 MART 2018	6 MART 2018
KALKIŞ SAATİ	KALKIŞ SAATİ	KALKIŞ SAATİ	KALKIŞ SAATİ	KALKIŞ SAATİ
22:30	19:10	16:45	20:00	14:00
VARIŞ SAATİ	VARIŞ SAATİ	VARIŞ SAATİ	VARIŞ SAATİ	VARIŞ SAATİ
12:30	20:10	02:15	21:00	23:30
I	II	III	IV	V

- Bütün uçuş saatleri Türkiye saatine göre.

Ankara'dan Avustralya'ya gitmek isteyen biri numaralanmış biletlerden hangilerini almış olamaz?

- A) II ve III. B) II ve V. C) III ve IV. D) IV ve V.

8. Söylenmemiş aşkın güzelliğiyedir

Kâğıtlarda yarım bırakılmış şiir

İnsan, yağmur kokan bir sabaha karşı

Hatırlar bir gün bir camı açtığını

Duran bir bulutu, bir kuş uçtuğunu

Bu dizelerin anlamlı ve kurallı cümleler hâline getirilmiş biçimi aşağıdakilerden hangisidir?

- A) İnsan, bir gün yağmur kokan bir sabaha karşı söylenmemiş aşkın güzelliğiyle bir camı açtığını, duran bir bulutu, bir kuş uçtuğunu, kâğıtlarda yarım bırakılmış şiiri hatırlar.
- B) İnsan, bir gün yağmur kokan bir sabaha karşı duran bir bulutu, bir kuş uçtuğunu, kâğıtlarda söylenmemiş aşkın güzelliğiyle yarım bırakılmış şiiri hatırlar.
- C) Kâğıtlarda yarım bırakılmış şiir, aşkın güzelliğiyle söylenmemiştir. İnsan, yağmur kokan bir sabaha karşı bir gün bir camı açtığını, duran bir bulutu seyrettiğini, bir kuş uçtuğunu hatırlar.
- D) Kâğıtlarda yarım bırakılmış şiir, söylenmemiş aşkın güzelliğiyedir. İnsan bir gün, yağmur kokan bir sabaha karşı bir camı açtığını, duran bir bulutu, bir kuş uçtuğunu hatırlar.

9 ve 10. soruları aşağıdaki metne göre cevaplayınız.

“Dede Korkut Kitabı” atasözü, deyim, ağıt vb. sözlü ürünlerin yanı sıra Türk gelenek ve inanışlarına da yer verilen hikâyelerden oluşan zengin bir kaynaktır. 15. yüzyılda yazıya geçirilen ve bugün Türkiye, Azerbaycan ve Kazakistan’ı kapsayan geniş bir bölgede “Dede Korkut veya Korkut Ata” olarak tanınan bilge kişilik etrafında oluşan hikâyeler, edebiyatımızın en özgün eserlerindendir. Kitapta on iki hikâye vardır. Destandan halk hikâyesine geçiş niteliği gösteren bu hikâyelerin en önemli özelliklerinden biri, şiirsel anlatıma sahip olmasıdır. Kahramanlıkların efsanevi unsurlarla birlikte anlatıldığı hikâyelerde Dede Korkut, zaman zaman ortaya çıkar ve bilge bir kişi olarak kurguya katkıda bulunur. İşte geleneğimizin bu eşsiz eseri, “Dede Korkut (Korkut Ata) Mirası: Kültürü, Efsaneleri ve Müziği” adıyla Türkiye, Azerbaycan ve Kazakistan’ın ortak başvurusu sonucu 28 Kasım 2018’de UNESCO İnsanlığın Somut Olmayan Kültürel Mirası Temsilî Listesi’ne kabul edilmiştir.

9. Bu metinden Dede Korkut hikâyeleri ile ilgili,

- I. Dede Korkut tarafından kaleme alınmıştır.
- II. Gerçek ve olağanüstü olaylar birlikte anlatılmıştır.
- III. Türk kültürünün zenginliklerini gösteren önemli bir kaynaktır.
- IV. Halk hikâyelerinin oluşumuyla ilgili bilgilere yer verilmiştir.

yargılarından hangileri çıkarılabilir?

- A) I ve II. B) I ve IV. C) II ve III. D) III ve IV.

10. Bu metinde iki nokta (:) aşağıdaki işlevlerinden hangisiyle kullanılmıştır?

- A) Karşılıklı konuşmalarda, konuşan kişiyi belirten sözlerden sonra kullanılır.
- B) Kendisiyle ilgili açıklama yapılacak cümle veya ifadelerin sonuna konur.
- C) Edebî eserlerde konuşma bölümünden önceki ifadenin sonunda kullanılır.
- D) Kendisiyle ilgili örnek verilecek cümle veya ifadelerin sonuna konur.



8. SINIF TÜRKÇE

6. Tema

1. Aşağıdaki şekillerde numaralanmış bölümlere, çevresindeki sözcük veya söz gruplarının çağrıştırdığı en uygun kavram yazılmak istenmektedir.



Buna göre, numaralanmış yerlere getirilecek kavramlar aşağıdakilerin hangisinde doğru verilmiştir?

	1	2	3
A)	İletişim	Başarı	Mutluluk
B)	Mutluluk	İletişim	Başarı
C)	Mutluluk	Başarı	İletişim
D)	İletişim	Mutluluk	Başarı

2. I. sorunlarına çözüm ararken
II. toplumun özelliklerini göz önünde
III. bir eğitim sisteminin
IV. o sistemi oluşturan kültürün ve
V. bulundurmamak gerekir

Numaralanmış sözler anlamlı ve kurallı bir cümle oluşturacak biçimde sıralandığında hangisi baştan üçüncü olur?

- A) I. B) II. C) III. D) IV.

3. I. Derin uykunun ardından beşinci ve en ilginç evreye geçilir, bu evrede rüya görürüz.
II. Bu araştırmaya göre yavaş yavaş uyumaya başladığımız evre, uykunun birinci ve ikinci evrelerini oluşturur.
III. Beynimiz, o gün yaşadıklarımızla geçmişte yaşadıklarımızı duygularımızla birleştirerek gerçeküstü filmler şeklinde bize sunar.
IV. Derin uyku evresi olan üçüncü ve dördüncü evrelerde uyanmamız zor olur ve bedenimiz hem dinlenir hem de yenilenir.
V. Bu evrelerde uyanmamız kolay olur; kimi hafif sesler, dokunmalar uyanmamıza yol açabilir.
VI. Uykuyla ilgili bir araştırmada, insan beyninin uykusu sırasında ürettiği elektrik dalgaları incelendi ve uykunun beş evreden oluştuğu anlaşıldı.

Numaralanmış cümlelerle anlamlı bir metin oluşturulduğunda hangisi baştan üçüncü sırada yer alır?

- A) I. B) II. C) IV. D) V.

4. Aşağıdaki tablolarda yangın türleri ve bu yangın türlerinde kullanılabilecek söndürme maddeleri gösterilmiştir. Hangi yangın türünde hangi söndürme maddelerinin kullanılabileceği "✓" işareti ile belirtilmiştir.

YANGIN TÜRLERİ			SÖNDÜRME MADDELERİNİN YANGIN TÜRLERİNE GÖRE KULLANIM ŞEMASI					
TÜRÜ	MADDESİ	ÖRNEK	SÖNDÜRME MADDELERİ	YANGIN TÜRLERİ				
				A	B	C	D	E
A	Katı, Esnemeyen Maddeler	Odun, kömür, ot, dokuma, plastik...		✓	--	--	--	--
B	Yanıcı Sıvılar, Eriyen Katı Maddeler	Petrol, yağ, mum, polar çözücüler, solventler...		✓	✓	--	--	--
C	Yanıcı Gazlar	Metan, propan, bütan, hidrojen, asetilen, doğal gaz, SPG/LPG...		✓	✓	✓	--	--
D	Yanıcı Metaller ve Alaşımlar	Alüminyum, magnezyum, uranyum...		--	✓	✓	--	✓
E	A, B, C ve D'deki Maddelerin Elektrik Gerilimi Altında Bulunması	Motor, şalter, elektrik tesisatları...		--	✓	✓	--	--
				--	--	--	✓	--

Bu tablolardan hareketle aşağıdaki olayların hangisinde yangın söndürme konusunda hatalı davranıldığı söylenebilir?

- A) Bir petrol istasyonunun elektrik tesisatında çıkan yangına ABC tozu ile müdahale edilmesi
 B) Doğal gaz depolama alanında çıkan yangına müdahale edilirken BC tozunun kullanılması
 C) Mobilya atölyesinde çıkan bir yangına müdahale edilirken köpük kullanılması
 D) Uranyum işleme tesisinde çıkan yangına D tozuyla müdahale edilmesi

5. Varlıkların, okuyucunun gözünde canlanacak şekilde, resim çizer gibi anlatılması olarak tanımlanan betimleme, açıklayıcı ve sanatsal olmak üzere iki başlık altında incelenir. Açıklayıcı betimlemede varlıkların olduğu gibi tanıtılması amaçlanır, kişisel düşüncelere yer verilmez. Görsellikten çok, izlenim ve sezgilerin ağır bastığı sanatsal betimlemede ise yazar, anlatımına duygu ve yorumlarını da katar.

Bu metne göre aşağıdakilerin hangisinde açıklayıcı betimleme yapılmıştır?

- A) Gitgide kararan bulutsuz gökyüzünün altında, Dolmabahçe Sarayı'nın önündeki lokantanın terasında oturuyorduk. Lokantadaki bütün masalar doluydu. Arada bir geçmekte olan vapurların oluşturduğu dalgalar da olmasa durgundu deniz. Kıyıda bir çocuk, martılara ekmek atıyordu.
- B) Mavinin değişik tonları ile boyanmış resimde farklı yollar çizilmişti: dağların arasından geçen bir patika, nehrin üzerine kurulu bir asma köprü, evlerin arasından büyük bir meydana uzanan Arnavut kaldırımları, uçsuz bucaksız çölde güneşe kadar uzanan gümüşten bir asfalt...
- C) Gelinin başında sıra sıra altın ve incilerle süslenmiş bir fes vardı. İki demet sarı tel, yanaklarının üstüne çaresizce uzanıyordu. Onu bugünün hürmetine tahta bir iskemleye oturtmuşlardı. Şaşkın ve nemli gözlerle etrafı süzüyor fakat daha ziyade önüne bakarak bu anın bitmesini bekliyordu.
- D) Vahanın altından, zeytinyağı renginde, elinizi sürseniz bulaşacağını sandığınız koyu bir çay akar. Çayın kenarında, yapraklarının ters tarafları rüzgârla güneşe dönünce parlayan narin kavaklar dizili, kof gölgeler serilidir. İncecik, yumuşak ve sık otlarla kaplı yamaçlar heybetli görünmeye çalışır.

6. Olay : Bir balıkçının, ağına takılan küçük balıkları göle bırakması
 Yer : Göl
 Zaman : Kış, öğleden sonra
 Kişiler : Deniz ve köpeği
 Anlatıcı : 1. kişi

Aşağıdaki metinlerden hangisi bu yapı unsurlarına uygun olarak kurgulanmıştır?

- A) Bütün göl buz kesmişti. Balıkçılar sabah gerdikleri ağıları öğleden sonra toplamaya koyuldular. Ancak ağılara takılan balıklar çok küçüktü. Moraller bozuktu ama balıkları tekrar göle bırakmak dışında bir seçenekleri yoktu. Gün kararıyor, köpekler havlıyor, balıkçılar evlerine elleri boş dönüyordu.
- B) Geçen gün öğleden sonra kanepede uzanmış, karın yağışını izliyordum. O ara uyuyakalmışım. Uyku arasında birinin "Denize güven olmaz, inişli çıkışlıdır." diye bağırıldığını işitince sıçradım. İsmimi kimin söylediğini anlamak için salona gittiğimde köpeğimin, ağzında kumandayı gevelediğini ve o sırada "Göl ve Deniz Balıkçıları" adlı belgeseli açtığını fark ettim. Balıkçıların, küçük balıkları göle bıraktıkları sahnede bizimkinin nasıl yalandığını görmeliydiniz.
- C) Deniz, o kış her öğle sonu köpeğini de yanına alarak balığa çıkmış. Önceleri olta balıkçılığına merak salsa da zamanla ağ ile balık avlamak onu daha çok sarmış. Gölde birçok balık türü yakalamak mümkün olsa da onun turna balığına olan merakı bir başkaymış. Varsa yoksa turna... O kadar ki ağına başka balıklar takıldığında onları gerisin geri göle bırakmış.
- D) Vakit öğleyi geçti, hava çok soğuk. Eee, ne de olsa ocak ayındayız. Buna rağmen köpeğimle birlikte bir gölün ortasındaayım. Neden mi bu havada bu göldeyim? Adımı boşuna Deniz koymamışlar. Herkesin bir uğraşı vardır ya, benimki de balıkçılık. Yalnız prensip sahibiyimdir bu işte. Küçük balıkları avlamam. Örneğin şu ağdaki balıkların küçük olanlarını az evvel ayırıp göle bıraktım.
7. Levent, yeni aldığı akvaryumda farklı türde balıklar besleyecektir fakat balıkların birbirine zarar vermesinden endişe etmektedir. Balıkları beslerken herhangi bir sorunla karşılaşmamak için bir araştırma yapmış ve aşağıdaki tabloya ulaşmıştır.

AKVARYUM UYUMLULUK TABLOSU						
E : Zarar Vermez H : Zarar Verir D : Zarar Verme İhtimali Vardır	Beta	Büyük kedi balığı	Çöpçü balığı	Gökkuşuğu	Japon balığı	Vatoz
Beta	D	D	E	D	H	E
Büyük kedi balığı	D	D	D	D	H	D
Çöpçü balığı	E	D	E	E	E	E
Gökkuşuğu	D	D	E	E	H	E
Japon balığı	H	H	E	H	E	E
Vatoz	E	D	E	E	E	D

Buna göre Levent'in aşağıdakilerin hangisinde verilen balıkları aynı akvaryumda beslemesi beklenir?

- A) Beta - Gökkuşuğu - Japon balığı
 B) Büyük kedi balığı - Çöpçü balığı - Gökkuşuğu
 C) Çöpçü balığı - Japon balığı - Vatoz
 D) Beta - Büyük kedi balığı - Vatoz

8. Gazeteci:

(I) - - - -

Yazar:

– Bir film düşünün. Filmdeki kişileri, olayların ayrıntılarını beyninize kaydetmekte hiç zorlanmıyorsunuz. Çünkü bu bilgiler duygularla birlikte giriyor zihninize. Edebiyat da beyni duygusal olarak uyarıyor ve bilgiler bu uyarının açtığı kapılardan girip beyne yerleşiyor. Ben de yazdığım bu kitapta matematiği, duygularla birlikte vererek sevdirmeye çalıştım.

Gazeteci:

(II) - - - -

Yazar:

– Kaliteli kitaplara ulaşmak zor değil aslında. Bunu sağlamanın yöntemi, anne ve babaların kitap okumayı sevmeleri. Anne ve babasını kitap okurken gören çocuk, okumayı sever. Okumayı seven insan, süreç içinde kaliteli kitabı tanımaya gelir. Kaliteli kitaptan anlayan okurlar, yazarları da iyi kitap üretmeye zorlar. Seçici okurun olduğu yerde, kolayca kaçan yazar ve yayıncılar barınmaz. Kaliteli kitaplar böyle bir ortamda üretilir ve bunlara ulaşılması daha kolay olur.

Bu diyalogda boş bırakılan yerlere aşağıdakilerin hangisi getirilmelidir?

- A) (I) Çocuklar için yazılan bazı hikâyelerde matematiğin konu edilmesini nasıl karşılıyorsunuz?
(II) Bir kitabın kaliteli olup olmadığını nasıl anlarsınız?
- B) (I) Matematiği çocuklar için eğlenceli hâle getiren bu kitabı neden yazdınız?
(II) Çocukların nitelikli kitaplara ulaşabilmesinin yolu nereden geçiyor?
- C) (I) Bu kitabı, çocuklara matematiği sevdirmek için mi yazdınız?
(II) Ülkemizde yapılan çocuk yayıncılığını nasıl değerlendiriyorsunuz?
- D) (I) Çocukları bilimsel çalışmalarla, sanatla, felsefeyle, matematikle tanıştırmada edebiyatın rolü nedir?
(II) Nitelikli okur olmanın yolunun hangi aşamalardan geçtiğini düşünüyorsunuz?

9. Bazı sözcükler isim-fiil eki aldığı hâlde kalıplaşarak bir varlığın, kavramın ismi olur. Bunlar fiilimsi olarak kabul edilmez. Örneğin "Tatlı yemek istiyorum." cümlesindeki "yemek" sözcüğü fiilimsidir, "Çok güzel bir yemek yaptım." cümlesindeki "yemek" sözcüğü ise isimdir.

Buna göre aşağıdakilerin hangisinde fiilimsi eki aldığı hâlde, kalıplaşarak bir varlığı veya kavramı karşılayan sözcük yoktur?


- A) Görüşlerinizi bizimle paylaşabilir misiniz?
- B) Bir bebeğin gülüşü hangi insanı mutlu etmez?
- C) Sofrada, haşlanmış yumurta ve kavurma vardı.
- D) Çakmak, kibritten önce bulunmuştur.

10. "Anadolu'nun dört bir yanı medeniyetin beşiğidir." cümlesinde "medeniyetin beşiğidir" ifadesi yüklemidir. Bu cümlede yüklem dışında yargı bildiren bir sözcük veya söz grubu bulunmadığı için cümle, tek yüklemlidir.

Buna göre aşağıdakilerden hangisi tek yüklemlidir?

- A) Yaşamınızdaki her sorun, içinde bir armağan saklar.
- B) Bilimde en yeni, edebiyatta en eski kitapları oku.
- C) Boş oturmak pas gibidir, insanı çabucak eskitir.
- D) Hayatın dengesini sevgi ile birlikte güven oluşturur.

11.




KULLANMA TALİMATI

I. Bu ilaç, enfeksiyonların tedavisinde kullanılır ve enfeksiyona neden olan bakterileri etkisiz hâle getirir.

II. İlaç toz hâlinde olduğundan ilaca, etiket üzerinde işaretli çizginin yaklaşık yarısına denk gelecek kadar su ekleyerek şişeyi iyice çalkalayınız.

III. Deri yüzeyinin altında küçük noktalar şeklinde kırmızı yuvarlak beneklerin oluşması durumunda ilacı kullanmayı bırakınız.

IV. Mide ve bağırsak rahatsızlıkları ihtimalini en aza indirmek için yemekten önce alınmalıdır.



Aldığı ilacı nasıl kullanması gerektiğini bilmeyen bir kişi, kullanma talimatında numaralanmış ifadelerin hangilerine dikkat etmelidir?

- A) I ve III. B) I ve IV. C) II ve III. D) II ve IV.

12. Ahmet, Berna, Cem, Deniz ve Elif adlı kişiler hem cuma hem de cumartesi gösterilen K ve L oyunlarına bilet almışlardır. Kişilerin biletlerine ilişkin bazı bilgiler şu şekildedir:

- Her bir kişi, sadece bir bilet almıştır.
- Cuma günü gösterilen oyunlara sadece birer kişi bilet almıştır.
- Cumartesi günü gösterilen L oyununa sadece Elif bilet almıştır.
- Ahmet ve Cem, aynı oyunun farklı günlerine bilet almıştır.
- Berna, cuma günü gösterilen bir oyuna bilet almıştır.

Buna göre aşağıdakilerden hangisi bilinirse tüm kişilerin bilet bilgileri belirlenebilir?

- A) Ahmet'in hangi gün için bilet aldığı
 B) Berna'nın hangi oyuna bilet aldığı
 C) Cem'in hangi oyuna bilet aldığı
 D) Deniz'in hangi gün için bilet aldığı



8. SINIF TÜRKÇE

7. Tema

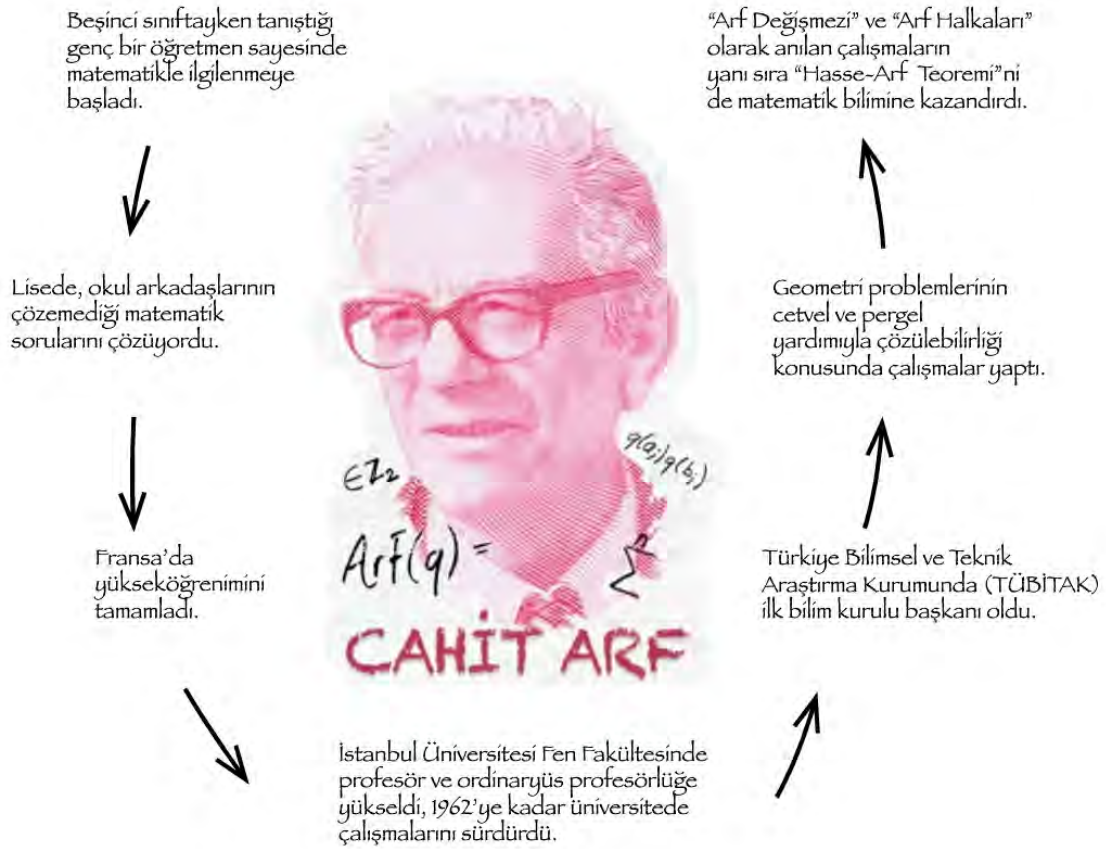
1. Deyimler sözlerimizin anlaşılmasını kolaylaştıran, anlatımı renklendiren ve dakikalarca konuşarak ifade edemeyeceğimiz fikirleri bir çırpıda dile getiren kalıplardır. Bu kalıplar dilimize yerleşmiştir ve anlamları hemen herkes tarafından bilinir. Örneğin kötü niyet ve eylemlerin, sahibine zarar verdiği durumlarda ----, küçük bir iyilik yapılmak istenirken büyük zararlar verildiğinde ----, bir şeyi bildiği hâlde bilmiyormuş gibi görünen kişileri anlatmak için ---- deyimini kullanırız.

Aşağıdakilerden hangisi bu metinde boş bırakılan yerlerden herhangi birine getirilemez?

- A) çizmeyi aşmak
B) kaş yapayım derken göz çıkarmak
C) renk vermemek
D) kazdığı kuyuya düşmek

2.

10 TL'lik banknotta portresi yer alan, matematik konusunda yaptığı çalışmalarla dünyaca ün kazanmış olan Ord. Prof. Dr. Cahit Arf'ı tanıyor muyuz?



Bu metinden hareketle Cahit Arf'la ilgili aşağıdakilerin hangisine ulaşılabilir?

- A) Dünyaca ünlü bilim insanları yetiştirmiştir.
B) Matematikte birtakım özgün buluşlara imza atmıştır.
C) Türkiye Bilimsel ve Teknolojik Araştırma Kurumunun kurucusudur.
D) Matematiğe olan tutkusu, yurt dışında başlamıştır.

3. Aşağıda bazı söz sanatlarının açıklaması verilmiştir:

- Teşhis (kişileştirme), insan dışındaki varlıklara insana ait özellikler verme sanatıdır.
- Mübalağa (abartma); bir niteliği, olduğundan çok üstün veya aşağı gösterme sanatıdır.
- Tezat (karşıtlık), birbirine zıt kavram veya durumların bir arada kullanılmasıyla oluşan sanattır.
- İntak (konuşturma), insan dışındaki bir varlığın konuşturulmasıyla oluşan sanattır.

Aşağıdakilerin hangisinde, açıklaması verilen sanatlardan herhangi birine yer verilmemiştir?

- A) Gözümde bir damla su, deniz olup taşıyor
Çöllerde kalmış gibi yanıyor, yanıyorum
- B) Özlediğin hayatı buldun mu bilmem
Gözlerinde hâlâ hüznün var gibi
- C) Nazlı yârdan kem haberler geliyor
Dostlarım ağlıyor, düşman gülüyor
- D) Küçük bir çeşmeyim yurdumun
Unutulmuş bir dağında

4. Cömertlik ve yardım etmede

Akarsu gibi ol
Şefkat ve merhamette
Güneş gibi ol
Başkalarının kusurunu örtmede
Gece gibi ol
Hiddet ve asabiyette
Ölü gibi ol
Tevazu ve alçak gönüllülükte
Toprak gibi ol
Hoşgörülükte
Deniz gibi ol
Ya olduğun gibi görün
Ya görüldüğün gibi ol

Aşağıdaki atasözlerinden hangisi Mevlâna'nın bu metindeki öğütlerinden herhangi biriyle değildir?

- A) Öfkeyle kalkan, zararlı oturur.
- B) Sana taşla vurana sen ekmekle dokun.
- C) Ağacın meyvesi olunca başını aşağı salar.
- D) Baca eğri de olsa dumanı doğru çıkar.

5. Besinler, mineral içeriğine göre asitli ve alkali olarak sınıflandırılmaktadır. Bir besinin asit ve alkali derecesini belirtmek için pH cetvelindeki 0-14 arası değerler kullanılır. Bu cetvele göre sınıflandırılan besinlerin bazı özellikleri aşağıda verilmiştir.

- **4-7 arası pH değerlerine sahip besinler:** Asitli olarak adlandırılan bu besinler, fazla tüketildiğinde vücut direncini düşürür. Vücut, dengeyi sağlayabilmek için kemik ve kaslardan magnezyum, kalsiyum, çinko gibi alkali mineralleri kullanmaya ve fazla asidi dokularda depolamaya başlar. Bu da eklem ve kas ağrıları, yorgunluk, saç dökülmesi gibi rahatsızlıklara neden olmaktadır.
- **7 pH değerinde olan besinler:** Asit ve alkali bakımından nötr (etkisiz) besinlerdir.
- **7-10 arası pH değerlerine sahip besinler:** Alkali olarak adlandırılan bu besinler kanın temizlenmesini sağlar, yüksek magnezyum ve potasyum içerdiğinden vücuda direnç kazandırır.

Aşağıdaki tabloda bazı besinler pH cetveline göre sınıflandırılmıştır.



Bu metin ve tablodan hareketle aşağıdakilerin hangisi söylenemez?

- A) Lahana ve kayısı, vücuda direnç kazandıran besinlerdir.
- B) Et ürünlerinin fazla tüketilmesi eklem ve kas ağrılarına yol açabilir.
- C) Peynir, fındık ve yulaf saç dökülmesine neden olabilir.
- D) Pişmiş ıspanak ve siyah çay, kanı temizleme özelliğine sahiptir.
6. Tokyo Üniversitesinde görev yapan Prof. Dr. Hidesaburo Ueno, 1924'te bir köpek yavrusu bulur ve onu sahiplenir. Köpeğe, Japoncada "sekizinci" anlamına gelen "Haçiko" adını koyar. Safkan akita cinsinden olan Haçiko, her sabah üniversiteye gitmek için evden metroya kadar yürüyen sahibine eşlik eder. Metronun dış kapısına kadar getirdiği sahibini uğurlayıp eve döner. Belli bir müddet sonra sahibinin eve dönüşünü de metronun önünde beklemeye başlayan Haçiko, bir yıl boyunca saati şaşımaksızın her sabah, sahibini metroya kadar götürür; her akşam iş çıkışında da metronun önünde karşılar. Bir akşam Ueno, metrodan çıkmaz. Haçiko, gözleri metronun kapısında gece boyunca bekler. Bu bekleyiş dokuz yıl boyunca devam eder. Bugün Tokyo'ya gidenlerin Shibuya İstasyonu'nun kapısında karşılaştığı köpek heykeli Haçiko'ya aittir. Çünkü Japonlar, Haçiko'yu bir vefa sembolü olarak benimsemiştir.

Bu metinde Haçiko ile ilgili aşağıdakilerden hangisine değinilmmiştir?

- A) Ne zaman doğduğuna
- B) Heykelinin niçin dikildiğine
- C) Çok zeki olduğuna
- D) Adının neden Haçiko olduğuna

7.

ÇEVRESEL PERFORMANS İNCELEMESİ RAPORU'NA GÖRE TÜRKİYE

2008 yılındaki Çevresel Performans İncelemesi'nden bu yana Türkiye; hava kirliliği, enerji kullanımı ve su tüketiminin azaltılması konularında ilerleme kaydetti.

11 yılda Türkiye'de kaydedilen gelişmeler şunlardır:



Bu metinde aşağıdakilerden hangisine başvurulmamıştır?

- A) Tanımlamaya B) Örneklendirmeye C) Karşılaştırmaya D) Açıklamaya

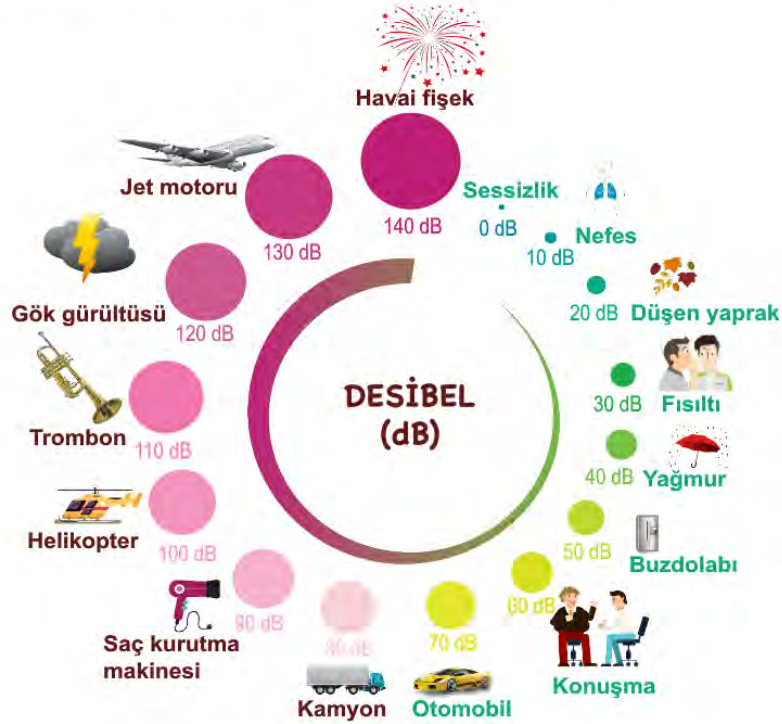
8. Kerem, Leyla, Merve, Nihat ve Osman adlı kişiler, A ve B filmlerine gitmiştir. Bu kişilerin gittikleri filmlerle ilgili şunlar bilinmektedir:

- Her bir kişi sadece bir filme gitmiştir.
- Üç kişi A filmine gitmiştir.
- Merve ve Nihat aynı filme gitmiştir.
- Leyla ve Osman'ın gittiği filmler farklıdır.

Buna göre aşağıdakilerden hangisi kesinlikle B filmine gitmiştir?

- A) Osman B) Merve C) Kerem D) Leyla

9. Desibel, ses şiddetini ölçmek için kullanılan bir birimdir. Uzmanlar, 85 desibel üzerindeki bir sesle sürekli karşı karşıya kalanlarda işitme bozukluğunun oluşabileceği konusunda hemfikir. Aşağıdaki grafikte canlı ve cansız bazı varlıkların çıkardığı seslerin desibeli gösterilmiştir.



Bu bilgi ve görselden hareketle aşağıdakilerin hangisine ulaşamaz?

- A) Helikopter sesinin desibeli, trombonunkinden düşüktür.
 B) Jet motorunun sesine uzun süre maruz kalmak işitme bozukluğuna yol açabilir.
 C) Düşen yaprağın ses şiddeti insan nefesininkinden yüksektir.
 D) Kamyon ve otomobillerin geçtiği bir yolda durmak işitme kaybına neden olabilir.

10. • Topkapı Sarayı'nda bulunan bakır pişirme kapları oldukça büyüktür.
 • Şüphe dolu gözlerle "Dostum, ne'n var; her şey yolunda mı?" diye sordu.
 • III. Selim, İsmail Dede Efendi'nin bestelerini severek dinlemiştir.

Bu cümlelerde kesme işaretinin (') aşağıdaki işlevlerinden hangisinin örneği yoktur?

- A) Kişi adlarından sonra gelen saygı ve unvan sözlerine getirilen ekleri ayırmak için kullanılır.
 B) Özel adlara getirilen durum eklerini ayırmak için kullanılır.
 C) Bir ek veya harften sonra gelen ekleri ayırmak için kullanılır.
 D) Seslerin söyleyiş gereği düştüğünü göstermek için kullanılır.



8. SINIF TÜRKÇE

8. Tema

1. • Ateş, düştüğü yeri yakar.
• Ayağını yorganına göre uzat.
• Güneş balçıkla sıvanmaz.
• Ağaç, yaprağıyla gürler.

Aşağıdakilerden hangisi, bu atasözlerindeki altı çizili sözcüklerin karşıladığı anlamlardan biri değildir?

- A) Gerçekler B) Dert C) Akraba D) Meslek

2. • Daha az izle, daha fazla yap.
• Daha az kork, daha fazla dene.
• Daha az yargıla, daha fazla kabul et.

Aşağıdaki özdeyişlerden hangisi bu cümlelerin herhangi biriyle anlamca ilişkilendirilemez?

- A) Elindekiyle yetinmeyen, elde edeceği ile de yetinmez.
B) Güllerin dikenli olduğundan yakınma, dikenlerin gülü olduğuna şükret.
C) Seni hayallerine ulaştıracak en önemli şey cesaretindir.
D) Hayata seyirci kalmaktansa çaba gösteren bir oyuncu ol.

3. İki hayalî çay markasının lezzet testine tabi tutulduğu bir araştırmada, markaların ilk üç harfi, katılımcıların adlarındaki harflerden oluşmaktaydı. Örneğin Tarık ve Demet isimli katılımcıların deneyeceği çayların markaları "Tarçay" ve "Demlik"ti. Katılımcılar çayların tadına bakmış, ikisi üzerinde de dikkatle düşünmüş ve neredeyse her seferinde isimlerine benzer harflerle başlayan çay markasını yeğlemişlerdi. Yani Demet, "Demlik" markalı çayı; Tarık "Tarçay" markalı çayı lezzetli bulmuştu. Bir başkası da yine adına göre uydurulmuş bir diğer markanın çayını... Katılımcılar bu harf bağlantısının açık bir biçimde farkında değillerdi. Seçtikleri çayın tadının daha iyi olduğuna inanıyorlardı yalnızca. Bilmedikleri ise iki çay fincanının da aynı çaydanlıktan doldurulmuş olmasıydı.

Bu metinden hareketle aşağıdaki yargıların hangisine ulaşılabilir?

- A) İnsanoğlu çeşitli olaylar karşısında empati kurmakta zorlanır.
B) Birçok insan peşin hükümlü davranmayı alışkanlık hâline getirmiştir.
C) İkilemde kalan insan bu durumdan bir an önce kurtulmak ister.
D) İnsanlar, kendileriyle ilgili unsurlarla yakınlık kurma eğilimindedir.

4. Küresel Tohum Deposu, Norveç'te bulunuyor. Burada, dünyanın her köşesinden toplanan 4,5 milyon bitki tohumunun her birinden beş yüz, toplamda 2,25 milyar örneğin depolanması hedefleniyor. İstenen çeşitliliğe ve sayıya ulaşıldıktan sonra depo kapılarının kapatılması, gerekli olmadıkça da depoya giriş ve çıkışların durdurulması planlanıyor. Bir sığınağı andıran bu depo, her biri yirmi yedi metre uzunluğunda, on metre genişliğinde ve altı metre yüksekliğinde üç ana bölümden oluşuyor. Yerin yüz yirmi metre altında bulunmasına rağmen deniz seviyesinin üstünde kalan depo, buzullar erise dahi, yükselen deniz sularının altında kalmayacak ve kutuplardan gelen soğuklardan faydalanacak şekilde özenle konumlandırılmış. Nem düzeyi düşük bir ortamda ve -18 derece sıcaklıkta korunan bitki tohumlarının, içinde bulundukları ortamda yıllarca bozulmadan kalacağı düşünülüyor.

Bu metinde "Küresel Tohum Deposu" ile ilgili aşağıdakilerden hangisine değinilmemiştir?

- A) Yapı özelliklerine B) Taşıdığı öneme C) Kuruluş amacına D) Ortam koşullarına

5. Köyünden çıkıp zaman zaman aramıza katılan ve büyük bir halk şairi olan Âşık Veysel'le Ankara'da tanışmıştım. Olgunluğu, dürüstlüğü ve inceliğiyle beni kendisine hayran bırakan şair; bildiğini tam biliyor, bilmediğini samimiyetle söylüyordu. Hayatında önemli bir yere sahip olan sazını çalarken, ektiği buğdayı biçen bir köylü kadar doğaldı. Aynı doğallığı sazına şiir söylerken de gösteren şairin şiirlerinin çıkış noktasını insan ve vatan sevgisi, yaşama sevinci, kardeşlik duygusu ve barış özlemi oluşturur. Yenilikleri ve bilimsel gelişmeleri dikkatle takip eden Âşık Veysel, şiirlerinde bu konulara da yer vermiştir. Şiirlerini, yaşadığı topraktan beslenerek oluşturan Veysel'in ne kadar kendine mahsus bir tadı olduğunu ona yakından bakan herkes fark eder.

Âşık Veysel'e ait aşağıdaki dörtlüklerden hangisi, bu metinde sözü edilen konulardan biriyle ilişkilendirilemez?

- A) Avrupa Asya ayrı bir kıta
Bir yıllık yol idi deveye ata
Uçaklar sığdırdı beş on saate
Daha neler çıkar, dur belli değil
- B) Her ferdin hakkı var, bizimdir vatan
Babamız, dedemiz döktüler al kan
Hudut boylarında can verip yatan
Saygıyla anarız, şehit diyerek
- C) Gezdim dere tepe niceler gibi
Yağmurlu karanlık geceler gibi
Bir gemi deryada bocalar gibi
Geçirdim günümü gaflet içinde
- D) Benim her derdime ortak sen oldun
Ağlarsam ağladın, gülersem güldün
Sazım bu sesleri turnadan mı aldın
Pençe vurup sarı teli sızlatma
6. Rıdvan, kitap sipariş etmek için bir siteye üye olacaktır. Bunun için şifre oluşturması gerekmektedir. Şifre belirleme kuralları aşağıda verilmiştir.

ŞİFRE

- Şifreniz en az bir büyük harf, bir küçük harf, bir özel karakter (#, @, &, ?, !) ve bir rakam içermelidir.
- Şifrenizde, alfabetik sıralamada art arda gelen harfler (AB, ab, Ab, aB gibi) yan yana yer almamalıdır.
- Şifreniz en az beş, en çok dokuz karakter uzunluğunda olmalıdır.
- Şifrenizde "ç, ğ, ı, ö, ü, ş" harfleri olmamalıdır.

Buna göre Rıdvan, aşağıdaki şifrelerden hangisini oluşturursa siteye üye olabilir?

A) 46KkLLlS

B) n27@ıRY

C) B?vM34c1

D) a#Ez60T9&G

7. Aşağıda yazılı medya istatistikleri ile ilgili bir görsel verilmiştir.

Türkiye’de 2017’de yayımlanan gazete ve dergilerin toplam sayısı, bir önceki yıla göre %2,3 azaldı. 2017’de 6 bin 124 gazete ve dergi yayımlanırken bu yayınların %59,6’sını dergiler oluşturdu.

TÜRKİYE’DE YAYIMLANAN GAZETE VE DERGİLERİN YILLARA GÖRE SAYISI

2013 - 2017



GAZETE VE DERGİLERİN YILLIK BASKI SAYISI

2013 - 2017

	GAZETE	DERGİ
2013	2 MİLYAR 296 MİLYON	165 MİLYON
2014	2 MİLYAR 141 MİLYON	134 MİLYON
2015	1 MİLYAR 994 MİLYON	139 MİLYON
2016	1 MİLYAR 604 MİLYON	101 MİLYON
2017	1 MİLYAR 559 MİLYON	102 MİLYON



TÜRKİYE’DE 2017’DE YAYIMLANAN GAZETELERİN

— %90,8’İ YEREL

— %7,1’İ ULUSAL

— %2,1’İ BÖLGESEL

YAYIN YAPTI

Bu görselden hareketle,

- 2017’de yayımlanan gazete sayısının aynı yıl yayımlanan dergi sayısına oranı
- 2015-2017 yılları arasında yayımlanan yerel gazetelerin baskı sayısı
- 2016 yılında gazete ve dergi okuyucularının oranı
- 2013-2017 arasında Türkiye’de yayımlanan dergilerin yıllara göre sayısal dağılımı

bilgilerinden hangilerine kesinlikle ulaşılır?

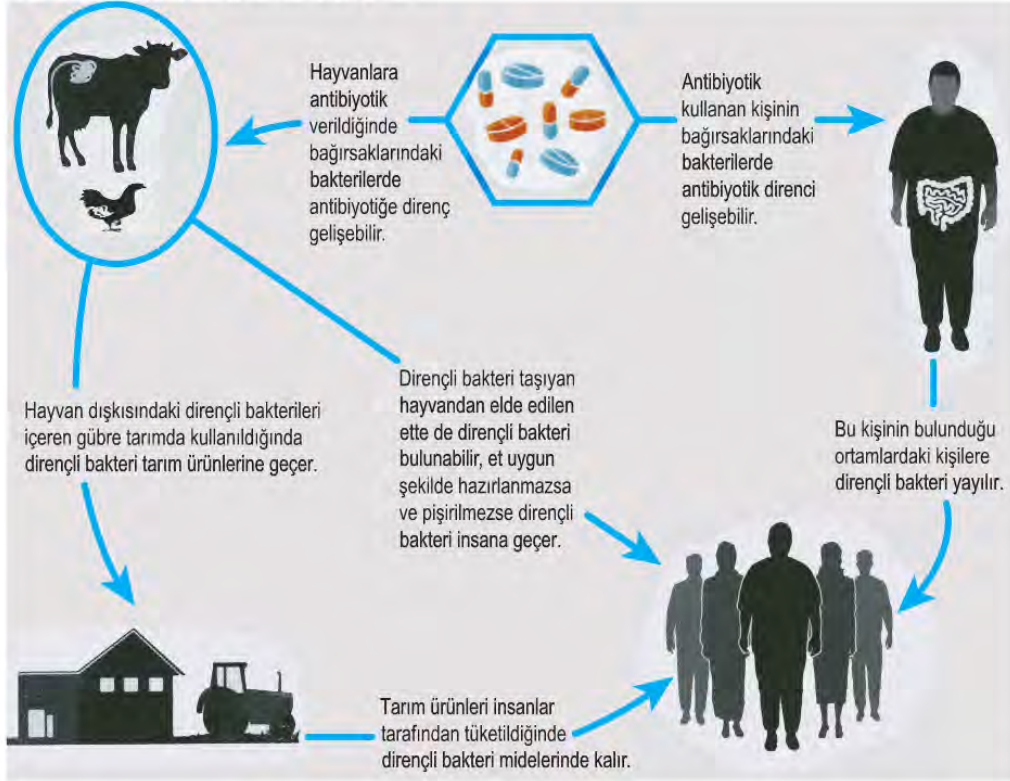
- A) I ve II. B) I ve IV. C) II ve III. D) III ve IV.

8. Eleştiri yazı türünün amacı bir edebiyat veya sanat eserini her yönüyle değerlendirerek anlaşılmasını sağlamaktır.

Bu açıklamaya göre aşağıdakilerden hangisi bir eleştiriden alınmış olabilir?

- A) Anadolu Türk'ünün başarısını sadece savaş meydanlarındaki zaferlerle izaha kalkışmak çok yanlış bir görüştür. Anadolu Türk devlet ve medeniyetini kuranlar sadece gaziler değildir. Mevlâna, Hacı Bektaş-ı Veli ve Yunus Emre gibi bütün insanlığı bir felsefe etrafında birleştiren velilerin de bunda büyük rolü vardır.
- B) Hüzün düşünlerinden değilim. Bu hâlden hoşlanmam, ona değer de vermem. Ama çokları hüznü büyük bir değer kabul eder; onu olgun, erdemli, kafalı insanların bir özelliği sayar.
- C) "Türkçe Bilen Aranıyor" çok hacimli ve titizlikle hazırlanmış bir kitap. Dili, imrenilecek derecede güzel ve akıcı. Bir yandan okuyucuyu bilgilendirirken öte yandan Türkçenin zevkini tattırıyor.
- D) Türkiye Futbol Federasyonunun geçen hafta aldığı kararla yabancı sayısına sınırlama getirmesi uzun vadede Türk Millî Takımı'na fayda sağlayacaktır. Türk futbolcular, takımlarında daha çok oynama şansı bulacağından artık Millî Takım'a oyuncu seçme konusunda bir sıkıntı yaşanmayacaktır.

9. Şekil : Antibiyotik Direncinin Yayılımı



Bu şekilde belirtilen sorunla ilgili aşağıdakilerden hangisi bir çözüm önerisi olamaz?

- A) Tarımda hayvansal gübre kullanımı yaygınlaştırılmalıdır.
- B) Antibiyotik kullanan kişiler, başkalarıyla yakın temastan kaçınmalıdır.
- C) Et ve et ürünleri, doğru yöntemlerle pişirilerek tüketilmelidir.
- D) Sebze ve meyveler, denetimden geçirildikten sonra tüketiciye sunulmalıdır.

10. • Tüm dizelerin sonunda ses benzerliği vardır.
• İnsan dışındaki bir varlığa insana ait özellik yüklenmiştir.
• Bütün dizelerin hece sayıları eşittir.

Aşağıdaki dördlüklerden hangisi bu özelliklerin tümünü içerir?

- A) İçimiz sevgi dolu, neşeler saçacağız
Beyaz güvercin olup göklerde uçacağız
Dünyaya, insanlığa barış dağıtacağız
Bugün küçüğüz ama yarın büyüyeceğiz
- B) Yuvası saçakta kalan kırlangıç
Yavrusu dallara emanet serçe
Derken camiler üstünde güvercin
Minareler katından geçiyorum
- C) Yürüyordum, ağlıyordu ırmaklar
Yürüyordum, düşüyordu yapraklar
Yürüyordum, sararmıştı yaylalar
Yürüyordum, ekilmişti tarlalar
- D) Yaşamak güzel şey doğrusu
Üstelik hava da güzelse
Hele gücün kuvvetin yerindeyse
Elin ekmek tutmuşsa bir de

11. Birden çok yüklemlili cümlelerde öznenin bütün yüklemlerle uyumlu olması gerekir. Aksi takdirde özne eksikliğinden kaynaklanan anlatım bozukluğu ortaya çıkar.

Aşağıdakilerin hangisinde bu açıklamaya uygun bir anlatım bozukluğu vardır?

- A) Herkes doğayı korumak için elinden geleni yapmalı, sorumluluktan kaçmamalıdır.
- B) Akşamları ben müzik dinlemeyi, kardeşim ise kitap okumayı tercih ediyordu.
- C) Memleketime bir an önce dönmek istiyorum çünkü çok özledim.
- D) Güneş her gün dünyamızı aydınlatıyor, sevinç ve mutluluk veriyordu.

TÜRKÇE CEVAP ANAHTARI

1. Tema	2. Tema	3. Tema	4. Tema	5. Tema	6. Tema	7. Tema
1. B	1. B	1. A	1. D	1. C	1. C	1. A
2. C	2. C	2. D	2. A	2. A	2. D	2. B
3. A	3. D	3. B	3. C	3. A	3. D	3. B
4. B	4. D	4. D	4. D	4. A	4. A	4. D
5. D	5. B	5. A	5. C	5. B	5. A	5. D
6. C	6. D	6. B	6. D	6. D	6. D	6. B
7. C	7. D	7. B	7. B	7. B	7. C	7. A
8. A	8. B	8. C	8. D	8. D	8. B	8. C
9. D	9. A	9. C	9. B	9. C	9. B	9. D
10. D	10. C	10. A	10. A	10. B	10. C	10. C
11. B	11. A	11. C	11. C		11. D	
12. B	12. B	12. D	12. C		12. A	
13. C	13. C	13. D	13. A			
14. B	14. A	14. A	14. A			
15. B	15. D	15. C	15. C			
16. D	16. C	16. D	16. C			
17. A	17. D	17. D	17. B			
18. B	18. A	18. A	18. A			
19. A	19. D	19. B	19. D			
20. C	20. B	20. C	20. D			
21. C	21. D	21. C	21. B			
22. A	22. A	22. B	22. B	8. Tema		
23. C	23. C	23. C	23. B	1. D		
24. D	24. C	24. C	24. D	2. A		
25. B	25. D	25. D	25. D	3. D		
26. A	26. B	26. B	26. B	4. B		
27. D	27. A	27. C	27. A	5. C		
28. B	28. C	28. D	28. C	6. C		
29. D	29. C	29. D	29. D	7. B		
30. B	30. B	30. C	30. C	8. C		
31. B	31. B	31. A	31. B	9. A		
	32. B	32. C	32. A	10. C		
	33. C	33. B	33. D	11. A		
	34. A	34. B	34. D			
	35. B	35. D	35. A			
	36. C	36. A	36. C			
		37. C	37. C			
		38. B				



8. SINIF

T.C. İNKILAP TARİHİ VE ATATÜRKÇÜLÜK

1. Ünite

1. Avrupa'da gelişen Sanayi İnkılabı ile sanayileşen Avrupalı devletler ürettikleri ürünleri kapitülasyonlar sayesinde Osmanlı ülkesine kolaylıkla ihraç ettiler. Osmanlı pazarları Avrupa'dan gelen maliyeti düşük sanayi mallarıyla doldu. İnsanlar, ithal ürünleri satın almaya yöneldiler.

Buna göre Sanayi İnkılabı'nın Osmanlı Devleti'nde aşağıdakilerden hangisine neden olduğu söylenebilir?

- A) İşsiz insan sayısında azalma olmasına
B) Küçük el tezgâhlarının sayısında artış yaşanmasına
C) Devletin vergi gelirlerinin çok yüksek düzeye ulaşmasına
D) Ülke topraklarının uluslararası açık bir pazara dönüşmesine

2. "Selânik Mülkiye Rüştiyesinde iken mahallemizdeki Binbaşı Kadri Bey'in oğlu Ahmet askerî rüştiyeye (ortaokul) devam ediyor ve askerî üniforma giyiyordu. Onu gördükçe ben de böyle giyinmeye hevesleniyordum. Sonra sokaklarda subaylar görüyordum. Subay olmak için önce askerî rüştiyeye girmek gerektiğini anlıyordum. O sırada annem Selânik'e gelmişti. Askerî Rüştiyeye girmek istediğimi ona söyledim. Annem asker olmamı istemiyordu. Sınav zamanı ona sezdirmeden rüştiyeye giderek sınava girdim."

Bu bilgiye göre Mustafa Kemal'in askerlik mesleğine ilgi duymasına aşağıdakilerden hangisi etkili olmuştur?

- A) Ailesi
B) Çevresi
C) Öğretmenleri
D) Okuduğu kitaplar

3. Aşağıda I. Balkan Savaşı öncesinde ve sonrasında Osmanlı Devleti ve Balkan ülkelerini gösteren haritalara yer verilmiştir.



I. Balkan Savaşı öncesinde Balkanlar



I. Balkan Savaşı sonrasında Balkanlar

Bu haritalara göre I. Balkan Savaşı'nın sonuçları ile ilgili aşağıdakilerden hangisi söylenemez?

- A) Sırbistan, Karadağ ve Yunanistan, sınırlarını genişletmiştir.
B) Karadağ'ın Osmanlı Devleti ile kara bağlantısı kalmamıştır.
C) Osmanlı'nın Balkanlardaki tek sınır komşusu Bulgaristan olmuştur.
D) Osmanlı Devleti Avrupa kıtasındaki topraklarının tamamını kaybetmiştir.

4. Mustafa Kemal, 31 Mart Vakası'ndan sonra subayların siyasete karışmasının tehlikelerini sezmişti. Subaylar arasında yayılan partikilik düşüncesi orduda düzen ve disiplinin bozulmasına neden olmuştu. Mustafa Kemal bu durumun gelecekte, vatanın bekası için tehlikeli sonuçlar doğurabileceğini belirtmişti. Bu nedenle ordunun siyasetten uzak durması gerektiği yönündeki düşüncelerini arkadaşlarıyla paylaşmıştı. Nitekim Balkan Savaşları sırasında Mustafa Kemal'in öngörülerini gerçekleştirmiş ve ordumuz büyük bir felaketle karşılaşmıştır.

Bu metinden Mustafa Kemal'in hangi kişisel özelliği çıkarılabilir?

- A) İleri görüşlülüğü B) Eğitimsiliği C) İdealistliği D) Sabırlılığı

5. Aşağıdaki haritada Mustafa Kemal'in doğduğu ve ilk çocukluk yıllarının geçtiği Selanik şehrine ait bazı bilgiler verilmiştir.



Bu haritaya göre Selanik ile ilgili,

- I. Ticaretin en yoğun yaşandığı şehirdir.
- II. Kültürel gelişmeler yayılma imkânı bulmuştur.
- III. Farklı dinlere mensup insanların kaynaştığı bir şehirdir.

çıkarımlarından hangilerine ulaşılabilir?

- A) Yalnız II. B) Yalnız III. C) I ve III. D) I, II ve III.

6. Mustafa Kemal Paşa Havza'ya ulaştıktan sonra halkla toplantı yapmış, toplantı sonunda Havza Müdafaa-i Hukuk Cemiyetinin açılmasını sağlamıştır. Mustafa Kemal Paşa, Havza'dan kolordu komutanlarına gizli bir telgraf göndermiştir. Bu telgrafta, Anadolu'da yaşanan işgallerin mitingler yapılarak ve İtilaf Devletleri ile Osmanlı Hükûmetine telgraflar çekilerek protesto edilmesini istemiştir. Bu telgraftan sonra yurdun birçok yerinde mitingler düzenlenmiştir.

Bu metinden Mustafa Kemal'in aşağıdaki kişilik özelliklerinden hangisine ulaşılabilir?

- A) Örgütleyiciliği B) Vatanseverliği C) Açıksözlülüğü D) Liderliği

7. Balkan Savaşları sonucunda Balkanlardaki Türk hâkimiyeti sona erdi. Kaybedilen Balkan topraklarından Anadolu'ya büyük bir göç dalgası yaşandı. Yunanistan ve Bulgaristan'da kalan Türklerin kültürel ve dinî hakları antlaşmalarla güvence altına alındı.

Bu bilgiye göre aşağıdakilerden hangisi söylenemez?

- A) Anadolu'daki Türk nüfusu artmıştır.
B) Balkanlarda Türk varlığı sona ermiştir.
C) Osmanlı Devleti'nin sınırları daralmıştır.
D) Balkanlarda Müslüman nüfus azalmıştır.

8. 1789'da Fransız İhtilali sonucunda ortaya çıkan milliyetçilik fikri, içerisinde farklı ulusları barındıran imparatorluklarda birtakım sıkıntıların baş göstermesine neden olmuştur. Bazı Avrupalı devletlerin kışkırtmasıyla Osmanlı Devleti içerisinde bulunan Sırp, Rum, Bulgar gibi uluslar Osmanlıya karşı ayaklanmışlar ve bağımsızlıklarını ilan etmişlerdir. Buna karşılık milliyetçilik fikri, Türk ulusunu da etkilemiş ve Kurtuluş Savaşı'nın kazanılmasında önemli bir rol oynamıştır.

Yukarıdaki bilgiler dikkate alındığında;

- I. Osmanlı Devleti'nin çok uluslu bir yapıya sahip olduğu,
II. Avrupalı devletlerin Osmanlı Devleti'ne karşı dostça tavırlar sergilediği,
III. Milliyetçilik fikrinin Millî Mücadele'nin başarıya ulaşmasında etkili olduğu,

yargılarından hangilerine ulaşılabilir?

- A) Yalnız I. B) I ve III. C) II ve III. D) I, II ve III.

9. 1876'da ilan edilen anayasa (Kanun-i Esasi) ile Türk tarihinde yeni bir döneme geçilmiş oldu. Devlet, artık padişahın kişisel isteklerine göre değil anayasadaki kurallara göre yönetilecektir. Anayasada kişiler arası eşitlik, mal ve konut dokunulmazlığı, eğitim hakkı, vicdan hürriyeti, basın hürriyeti ve mahkemelerin bağımsızlığı gibi kişi hak ve hürriyetlerine yer verilmiştir.

Buna göre Kanun-i Esasi'nin ilanı ile aşağıdakilerden hangisinin amaçlandığı söylenemez?

- A) Temel hakları korumak B) Anayasal düzene geçmek
C) Yargı bağımsızlığını sağlamak D) Padişah otoritesini güçlendirmek

10. Aşağıdaki tabloda 19. ve 20. yüzyıllarda Osmanlı Devleti'nin dağılmasını önlemek için ortaya çıkan fikir akımlarıyla ilgili bilgiler verilmiştir.

I. Osmanlıcılık	II. İslamcılık	III. Türkçülük
Hangi din ve ırktan olursa olsun Osmanlı Devleti sınırları içinde yaşayanları kaynaştırarak bir "Osmanlı milleti" oluşturmanın amaçlandığı bu akımla imparatorluğun bütünlüğünü sağlamak hedeflenmiştir.	Devleti kurtarmak için hangi milletten olursa olsun bütün müslümanları halifenin etrafında toplamayı amaçlamıştır.	Devlet; dili, dini, soyu ve ülküsü bir olan topluma dayanarak ayakta durabilir. Bu nedenle Osmanlı Türklerine ulusal bilinç kazandırılmalıdır.

Bu bilgilere göre, müslüman olan Trablusgarp halkının 1911 yılında yapılan Trablusgarp Savaşı'nda İtalya'ya karşı Osmanlı Devleti'nin yanında yer alması bu akımlardan hangileriyle ilişkilendirilebilir?

- A) Yalnız I. B) Yalnız III. C) I ve II. D) II ve III

11. Selanik'in karışık sokak aralarında tatlı sürprizlerle karşılaşıldı; kâh yeşilliklerin arasında birdenbire denize açılan manzaralar, kâh çocuk sesleri ile Kur'an nağmelerinin taşıdığı sıbyan mektepleri, kâh muntazam vuruşlarla bakır veya demir döven çekiç seslerinin duyulduğu karanlık atölyeler, kâh kırlangıç yuvası gibi geçmişin birçok faciasını yaşamış yüksek evler... Bu şehrin dilleri ve dinleri farklı insanları, bu küçük tatlılardan büyük mutluluklar çıkarmasını bilirdi.

Bu parçaya verilebilecek en uygun başlık aşağıdakilerden hangisidir?

- A) Selanik ve Milliyetçilik
B) Selanik ve Milli Mücadele
C) Selanik ve Kültürel Zenginlik
D) Selanik'in Jeopolitik Konumu

12. Mustafa Kemal'in doğduğu Selanik, önemli bir liman şehri olmanın yanında demir yolu ile Belgrad, Manastır ve İstanbul gibi şehirlere bağlanmaktaydı. Bu durum Selanik'in hem Batı ile etkileşimini kolaylaştırmış hem de sosyal ve kültürel yönden gelişmesine zemin hazırlamıştır. Avrupa'da çıkarılan gazete, dergi ve kitaplardaki fikirler çok uluslu yapıya sahip olan Selanik üzerinden Osmanlı ülkesine yayılıyordu. Bu yönüyle Selanik, Avrupa'daki gelişmelerin yakından takip edildiği ve Batı ülkeleriyle etkileşimin en yoğun yaşandığı şehirlerden biriydi. Denebilir ki Selanik, Osmanlı Devleti'nin Batı'ya açılan bir penceresi konumundaydı.

Bu metinden hareketle Selanik'in Mustafa Kemal'in kişisel özelliklerinden hangisi üzerinde etkili olduğu söylenebilir?

- A) Planlı ve çalışkan olması
B) Sabırlı ve disiplinli olması
C) İyi bir asker ve yönetici olması
D) Zengin bir düşünce yapısına sahip olması

13. Mustafa Kemal'in Vatan ve Hürriyet Cemiyeti'nin Selanik şubesinin açılışında yaptığı konuşma:

"Arkadaşlar, bu gece burada sizleri toplamaktaki amacım şudur: Memleketin yaşadığı tehlikeli anları size söylemeye gerek görmüyorum. Bunu hepimiz anlarsınız. Bu talihsiz memlekete karşı önemli görevlerimiz vardır. Onu kurtarmak tek hedefimizdir. Bugün Makedonya'yı ve bütün Rumeli topraklarını vatan bütünlüğünden ayırmak istiyorlar... Memlekete yabancı etkisi ve egemenliği kısmen ve fiilen girmiştir. Şimdilik gizli çalışmak ve teşkilatı şekillendirmek mecburidir. Sizden fedakârlıklar bekliyorum. Milleti hâkim kılmak, özetle vatani kurtarmak için sizi göreve çağırıyorum."

Bu konuşmadan hareketle Mustafa Kemal ile ilgili aşağıdakilerden hangisine ulaşamaz?

- A) Liderlik vasfına sahip olduğuna
B) Milli bir ordu kurmayı amaçladığına
C) Bağımsızlık duygusu ile hareket ettiğine
D) Millî egemenlik anlayışını benimsediğine

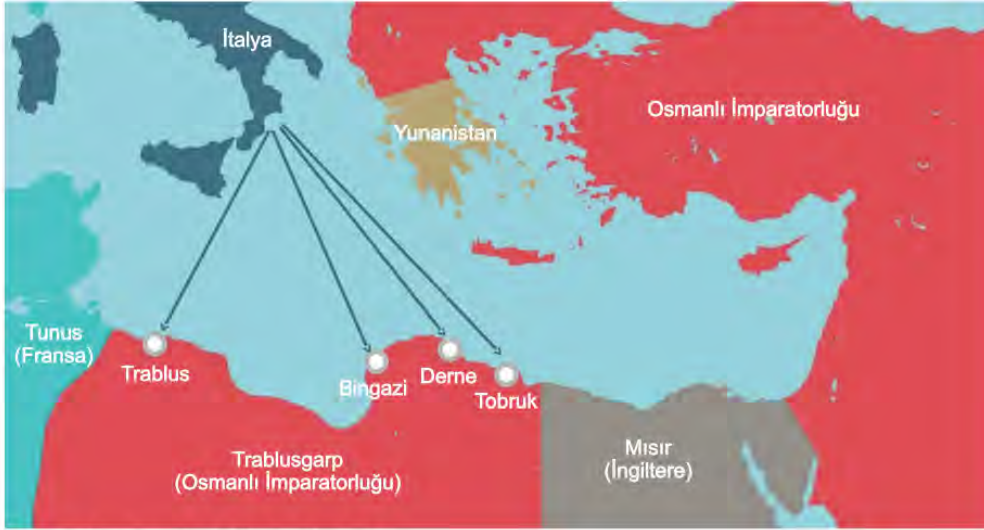
14. Mustafa Kemal, askerî ateşelik görevi nedeniyle bir süre Bulgaristan'ın Sofya kentinde bulunmuştur. Bu görevi sırasında,

- Bulgar parlamentosunu yakından takip etmiştir.
- Bulgaristan'da azınlıkta kalan Türklerle yakın ilişkiler kurmuş ve Türkçe yayımlanan gazetelere destek vermiştir.
- Diğer devletlerin elçileriyle görüş alışverişinde bulunmuştur.
- İstanbul'dan getirttiği gazete ve dergileri özenle takip etmiştir.

Buna göre Mustafa Kemal ile ilgili aşağıdakilerden hangisi söylenemez?

- A) Milliyetçi bir kişiliğe sahiptir.
B) Ülkesindeki ve dünyadaki gelişmeleri takip etmiştir.
C) Bulgaristan'daki Türk azınlığın sorunlarına çözüm getirmiştir.
D) Demokratik yönetim sistemleri hakkında fikir sahibi olmuştur.

15. İtalya'nın Trablusgarp'ı işgal etme girişimi sırasında izlediği yollar aşağıdaki haritada verilmiştir.



Verilen haritaya göre İtalya ile ilgili;

- I. Akdeniz'deki hakimiyet alanını genişletmek istemiştir.
- II. Osmanlı Devleti'nin toprak bütünlüğünü bozmuştur.
- III. Kuzey Afrika topraklarını egemenliği altına almıştır.

yargılarından hangilerine ulaşılabilir?

- A) Yalnız I B) I ve III. C) II ve III. D) I, II ve III.

16. İtalyanlar işgal ettikleri bölgelerde birtakım kurumlar açmışlardı. Bunların başında İtalyanca eğitim yapan okullar bulunuyordu. Açılan bu okullarda aynı zamanda Hristiyanlık propagandası da yapmışlardı. Bunun yanında Anadolu sahilleri ile işgalleri altındaki Rodos ve 12 Ada'ya gemi seferleri düzenlemişlerdi.

Bu politikayla İtalyanların aşağıdakilerden hangisini amaçladığı söylenebilir?

- A) Ekonomik kalkınmayı sağlamak B) İtalyan kültür ve inancını yaymak
C) Eğitim kurumlarını çağdaşlaştırmak D) Ulaşım ve haberleşmeyi geliştirmek

17. Selanik, önemli bir liman şehri olmanın yanı sıra demir yolu ile de Belgrad, Manastır ve İstanbul gibi önemli şehirlere bağlanmaktaydı. Avrupa'da çıkarılan gazete, dergi ve kitaplardaki fikirler, farklı milletlerin bir arada yaşadığı Selanik üzerinden Osmanlı ülkesine yayılıyordu.

Verilen bilgide Selanik'in, aşağıdaki özelliklerinden hangisine vurgu yapılmamıştır?

- A) Çok uluslu yapısına
B) Sınır kenti olmasına
C) Deniz kıyısında bulunmasına
D) Kültürel yönden gelişmişliğine



8. SINIF

T.C. İNKILAP TARİHİ VE ATATÜRKÇÜLÜK

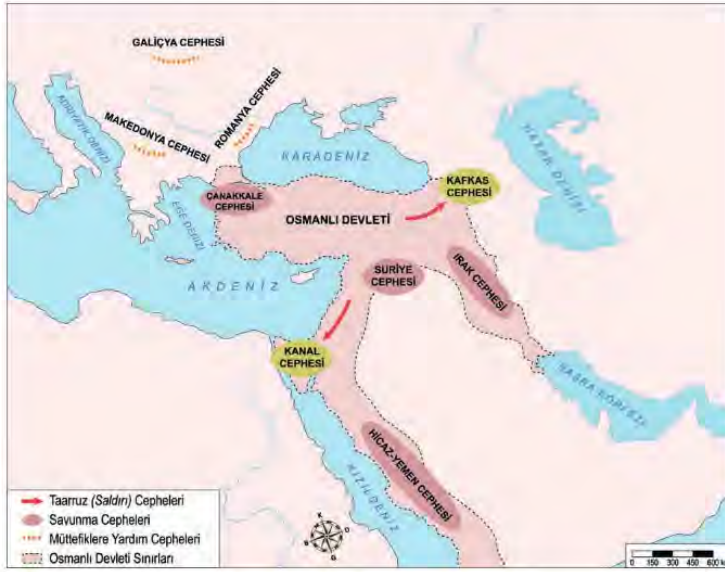
2. Ünite

1. Birinci Dünya Savaşı'nın sonunda:
- Sınırlar yeniden çizilmiştir.
 - Milletler Cemiyeti kurulmuştur.
 - İmparatorluklar yıkılmış yerine ulus devletler kurulmuştur.
 - Ülkeler ve şehirler harap olmuştur.

Birinci Dünya Savaşı'nın yukarıdaki sonuçlarından hangileri savaş sonunda toprak kayıplarının yaşandığına kanıt gösterilebilir?

- A) I ve II. B) I ve III. C) I, II ve IV. D) II, III ve IV.

2. Aşağıdaki haritada Osmanlı Devleti'nin I. Dünya Savaşı'nda mücadele ettiği cepheler gösterilmiştir.



Haritadaki bilgilere göre;

- Cephelerin açılmasıyla savaş geniş bir alana yayılmıştır.
- Osmanlı Devleti savunma cephelerinde büyük kayıplar vererek geri çekilmek zorunda kalmıştır.
- Osmanlı Devleti sınırları dışında da savaşmıştır.

yargılarından hangilerine ulaşılabilir?

- A) Yalnız I. B) I ve III. C) II ve III. D) I, II ve III.

3. 12 Ocak 1920'de Mebusan Meclisi, İstanbul'da çalışmalarına başlamış ve 17 Şubat 1920'de Misakımillî Kararları tüm dünyaya ilan edilmiştir. Ancak İtilaf Devletleri Misakımillî Kararları'nın kabulünden rahatsız olmuştur. 16 Mart 1920'de İngilizler, toplantı halinde olan Mebusan Meclisi'ni basmış ve dağıtmıştır.

Bu metinde verilen bilgilere göre İtilaf Devletlerinin aşağıdakilerden hangisini amaçladığı söylenebilir?

- A) İstanbul Hükûmeti'ne yardım etmeyi B) Millî iradeyi ortadan kaldırmayı
C) Misakımillî'yi kabul ettirmeyi D) Yeni bir meclis oluşturmayı

4. I. Dünya Savaşı'nda devletler İttifak ve İtilaf olmak üzere iki gruba ayrılmıştır.

İttifak (Bağlaşma) Devletleri	İtilaf (Anlaşma) Devletleri
Savaştan önce: Almanya, Avusturya-Macaristan, İtalya. Savaş sırasında: Osmanlı Devleti ve Bulgaristan katıldı.	Savaştan önce: İngiltere, Fransa, Rusya. Savaş sırasında: İtalya, ABD, Sırbistan, Yunanistan, Japonya, Brezilya, Portekiz ve Romanya bu gruba katıldı.

Verilen tabloya göre aşağıdakilerden hangisine ulaşamaz?

- A) Savaş başladıktan sonra her iki gruba da başka devletlerden katılım olmuştur.
 B) Devletler başka devletlerle anlaşarak güç dengesi oluşturmaya çalışmıştır.
 C) Birinci Dünya Savaşı'na en son dahil olan devlet Rusya olmuştur.
 D) Savaş sırasında taraf değiştiren devletler olmuştur.
5. Trakya Paşaeli Müdafaa-i Hukuk Cemiyeti, Rumların bölgede yaptıkları isyanlara ve Yunanların işgaline karşı kurulmuştur. Bölgenin kültürel, ekonomik, nüfus bakımından Türklere ait olduğunu tarihi belgelerle ispatlamak için çalışmalar yapmıştır. Edirne'de iki defa kongre yaparak silahlı direniş kararı almış, gerekirse yerli halktan asker toplanabileceğini ilan etmiştir.

Buna göre Trakya Paşaeli Müdafaa-i Hukuk Cemiyeti;

- Bölgenin Türklere ait olduğunu ispat etmeye çalışmıştır.
- Bölgesel nitelikte kongreler yapmıştır.
- İşgallere karşı silah kullanılabileceğini belirtmiştir.
- Askere alma işlemlerini zorunlu hale getirmiştir.

yargılarından hangilerine ulaşılabilir?

- A) I ve II. B) II ve III. C) I, II ve III. D) I, II, III ve IV.

6. Sevr Antlaşması'nın bazı maddeleri aşağıda verilmiştir:

- Zorunlu askerlik kaldırılacak, asker sayısı sınırlandırılacak ve ordunun ağır silahı olmayacak.
- Boğazlar; içinde Türklerin bulunmadığı uluslararası bir komisyon tarafından yönetilecek, savaş zamanı dahi bütün gemilere açık olacak.
- Kapitülasyonlardan bütün devletler faydalanacak.
- Azınlıkların hakları genişletilecek.

Bu maddelerden hareketle Osmanlı Devleti ile ilgili aşağıdaki yargılardan hangisine ulaşamaz?

- A) Azınlıklar müslüman halk ile eşit hale getirilmiştir.
 B) Ekonomik bağımsızlığı yok sayılmıştır.
 C) Askerî gücü yok edilmek istenmiştir.
 D) Egemenlik hakları zedelenmiştir.

7. Misakımillî’de alınan,

- İşgal altındaki Arap halkları, özgürce verecekleri oylarla kendi geleceklerine kendileri karar vermemelidir.
- Kendi istekleriyle ana vatana katılmış olan Kars, Ardahan ve Batum için gerekirse tekrar halk oylaması yapılabilir.
- Batı Trakya’nın durumu, orada yaşayan halkın serbestçe verecekleri oylarla belirlenmelidir.

kararlarından hareketle aşağıdaki yargılardan hangisine ulaşılabilir?

- A) Kapitülasyonlara karşı çıkıldığına
B) Halkın kararına saygı duyulduğuna
C) Uluslararası eşitlik ilkesine vurgu yapıldığına
D) Türk yurdunun sınırlarının çizildiğine

8. Osmanlı Devletinin I. Dünya Savaşı’nda mücadele ettiği bazı cepheler aşağıda tabloda verilmiştir:

Kanal Cephesi	Kafkas Cephesi
<p>Nedeni: Osmanlı Devleti bu cephede İngilizlerin elinde bulunan Mısır’ı geri almak ve Süveyş Kanalı’nın kontrolünü ele geçirip İngiltere’nin sömürgeleriyle olan bağlantısını kesmek için saldırıya geçmiştir.</p> <p>Sonuç: İngilizler’in güçlü bir orduya sahip olmaları, çölün aşırı sıcakları ve susuzluk nedeniyle Osmanlı ordusu yenilmiştir.</p>	<p>Nedeni: Osmanlı Devleti Rusların kontrolündeki Bakü petrollerini ele geçirmek ve Orta Asya’daki Türkleri kendi çatısı altında birleştirmek amacıyla saldırıya geçmiştir.</p> <p>Sonuç: Osmanlı Devleti kış şartları ve aşırı soğuklar nedeniyle bu cephede ağır kayıplar vererek geri çekilmiştir.</p>

Buna göre verilen cephelerin benzer özellikleri arasında;

- I. Taarruz harekâtında bulunulmuştur.
II. Kaybedilmelerinde doğa koşullarının da etkisi olmuştur.
III. Daha önce kaybedilen topraklar geri alınmak istenmiştir.

durumlarından hangilerinin yer aldığı söylenebilir?

- A) Yalnız I. B) Yalnız III. C) I ve II. D) I, II ve III.

9. I. Dünya Savaşı sırasında İtilaf Devletlerinin Çanakkale Cephesi’ni açmalarının amaçları şunlardır:

- İstanbul’u işgal ederek Osmanlı Devleti’ni teslim almak.
- Karadeniz’i geçerek Ruslara yardım götürmek.
- Savaşa girmeyen devletleri kendi yanlarında savaşa çekmek.

Bu amaçlar dikkate alındığında;

- I. Rusya’nın henüz İtilaf Devletlerine katılmadığı,
II. Osmanlı Devleti’nin stratejik açıdan önemli bir konumda olduğu,
III. İtilaf Devletlerinin savaşı kısa sürede bitirmeyi hedeflediği

yorumlarından hangilerine ulaşılabilir?

- A) Yalnız I. B) Yalnız II. C) II ve III. D) I, II ve III.

13.



Verilen görselden hareketle aşağıdaki yargılardan hangisine ulaşılabilir?

- A) İngilizler Anadolu'daki Rumlara destek olmuşlardır.
- B) Milli Mücadelenin gerekçesi ve yöntemi kararlaştırılmıştır.
- C) Mustafa Kemal bağımsızlık amacıyla Samsun'a çıkmıştır.
- D) Mondros Ateşkesi sonrası Anadolu'da işgaller yaşanmıştır.

14. Erzurum Kongresi'nde alınan,

- Millî sınırlar içinde vatan bir bütündür, bölünemez.
- Kuva-yı Milliye'yi tek kuvvet olarak tanımak ve millî iradeyi hakim kılmak esastır.
- Manda ve himaye kabul edilemez.

kararlarından hareketle aşağıdakilerden hangisi söylenemez?

- A) Yönetim sisteminin değiştirileceğine işaret edilmiştir.
- B) Osmanlı Hükûmeti'nin denetlenmesi amaçlanmıştır.
- C) "Vatanın bütünlüğü" ilkesine vurgu yapılmıştır.
- D) "Tam bağımsızlık" ilkesi dile getirilmiştir.

15. Mustafa Kemal Paşa, Erzurum Kongresi'nin açılış konuşmasında ulusal egemenliğe dayanan bir millet meclisi meydana getirilmesi ve gücünü millettten alacak bir hükümetin kurulması gerektiğinden bahsetmiştir.

Buna göre kongrenin aşağıdaki kararlarından hangisinin bu doğrultuda alındığı söylenebilir?

- A) Manda ve himaye kabul edilemez.
- B) Millî sınırları içinde vatan bir bütündür, parçalanamaz.
- C) Kuvâ-yı Millîye'yi etkin ve millî iradeyi hâkim kılmak esastır.
- D) Hristiyan azınlıklara siyasi hâkimiyet ve sosyal dengemizi bozacak ayrıcalıklar verilemez.

16. Mustafa Kemal Paşa, Milli Mücadele ruhunu "Söylev" adlı eserinde şöyle tanımlamıştır:

"Millet fertleri; yalnız düşman karşısında bulunanlar değil, köyde, evinde, tarlasında bulunan herkes silâhla vuruşan savaşçı gibi kendini vazifeli sayarak bütün varlığını yalnız mücadeleye verecekti. Bütün maddî ve manevî varlığını yalnız vatan savunmasına vermekte ağır davranan milletler, savaş ve çarpışmayı gerçekten göze almış ve başarabileceklerine inanmış sayılmazlar."


Mustafa Kemal Paşa'nın bu sözlerinden hareketle aşağıdakilerden hangisine ulaşılabılır?

- A) Vatan savunmasında maddî imkânların kullanılmasına öncelik verilmelidir.
- B) Halkın çatışma bölgelerinden uzak, güvenli alanlara taşınması gereklidir.
- C) Düşman karşısında askerî birliklerin mücadele etmesi yeterlidir.
- D) Topyekûn mücadeleyi benimseyen milletler başarılı olacaktır.

17.

Milletin kurduğu devletin ve hükümet teşkilatının, vatandaşlara karşı yükümlü olduğu vazifeleri ve yetkileri vardır. Bu vazife ve yetkiler şöyle sıralanabilir: Memleket içinde, güvenliği ve adaleti sağlayarak ve devam ettirerek vatandaşların her çeşit hürriyetini güven altında bulundurmak. Dış siyaset ve diğer milletlerle olan ilişkileri iyi idare ederek ve her çeşit savunma kuvvetlerini, daima hazır tutarak milletin bağımsızlığını güven altında bulundurmak.

Mustafa Kemal Atatürk



Atatürk'ün sözlerinden hareketle devletin görev ve sorumlulukları içerisinde,

- I. Kişi hak ve özgürlüklerini güvence altına almak
- II. Halkı iç ve dış tehditlere karşı korumak
- III. Bağımsızlığın devamı için mücadele etmek

hedeflerinden hangileri yer alır?

- A) I ve II.
- B) I ve III.
- C) II ve III.
- D) I, II ve III.

18. Mustafa Kemal Paşa, hazırlamış olduğu Amasya Genelgesi'ne ait taslak için; Ali Fuat Bey, Rauf Bey, Refet Bey ve Erzurum'da bulunan Kazım Paşa'nın da görüş ve onayını almıştır. Tarihe Amasya Genelgesi olarak geçen bu ihtilal beyannamesinin öne çıkan maddeleri ise şunlardır:

- Vatanın bütünlüğü, milletin bağımsızlığı tehlikededir.
- Osmanlı hükûmeti üzerine aldığı sorumluluğu yerine getirememektedir.
- Milletin bağımsızlığını yine milletin azim ve kararı kurtaracaktır.

Metne göre Amasya Genelgesi ile ilgili aşağıdakilerden hangisine ulaşamaz?

- A) Osmanlı hükûmet üyeleri değiştirilmiştir.
B) Milli Mücadelenin gerekçesi belirtilmiştir.
C) Genelge kararları kişisellikten çıkarılmıştır.
D) Milli Mücadelenin yol haritası belirlenmiştir.

19. Aşağıdaki tabloda Osmanlı Devleti'nin I. Dünya Savaşı'nda kendi sınırları içinde savaştığı bazı cepheler ve bu cephe-lerin açılma nedenleri verilmiştir.

Cephe	Açılma Nedeni
Çanakkale Cephesi	İtilaf Devletlerinin, müttefiki olan Rusya'ya yardım götürmek istemesi
Kanal Cephesi	İngiltere'nin, sömürgeleriyle olan bağlantısının kesilmek istenmesi
Irak Cephesi	İngiltere'nin, Musul petrolerine sahip olmak ve Rusya'ya Kafkasya üzerinden yardım götürmek istemesi

Buna göre aşağıdaki yargılardan hangisine ulaşamaz?

- A) İngiltere ile farklı cephelerde savaş yapılmıştır.
B) Osmanlı Devleti, Kanal Cephesi'nde başarılı olmuştur.
C) Osmanlı Devleti, coğrafi olarak önemli bir konumdadır.
D) Cephe-lerin açılmasında ekonomik nedenler de etkilidir.

20. 23 Nisan 1920'de açılan TBMM; ulusal bağımsızlığı öngördüğü için İtilaf Devletleri'ni, ulusal egemenliği öngördüğü için de Osmanlı yönetimini rahatsız etmiştir. Bu rahatsızlıktan dolayı İstanbul Hükûmeti ve İtilaf Devletleri, Türk halkını TBMM'ye karşı kışkırtmış; bu da Anadolu'nun dört bir yanında isyanların çıkmasına neden olmuştur. Bu isyanlar yeni kurulan TBMM için bir otorite sınavı olmuş ve sonuçta TBMM, ayaklanmaları bastırmayı başarmıştır.

Buna göre,

- I. TBMM'yi yıpratmak için girişimlerde bulunulmuştur.
II. Ayaklanmaların bastırılması TBMM'nin otoritesini sağlamlaştırmıştır.
III. İstanbul Hükûmeti ve İtilaf Devletleri TBMM'nin karşısında yer almıştır.

yargılarından hangilerine ulaşılabilir?

- A) Yalnız I. B) I ve III. C) II ve III. D) I, II ve III.

21. İtilaf Devletleri Mondros Mütarekesi'nin 7. maddesini bahane ederek Anadolu'yu işgale başlamışlardı. Buna karşılık Mustafa Kemal 1919 yılında Havza Genelgesi'nde bu işgallerin protesto edilmesini, mitingler yapılmasını fakat bu faaliyetlerde azınlıklara kötü davranılmaması gerektiğini belirtmişti.

Buna göre Mustafa Kemal'in aşağıdakilerden hangisini amaçladığı söylenemez?

- A) Azınlıklara ayrıcalık tanımayı
- B) Halkta millî bilinci uyandırmayı
- C) İşgallerin genişlemesini önlemeyi
- D) İşgallere karşı kamuoyu oluşturmaya

22. Osmanlı Mebusan Meclisi'nde alınan Misakımillî kararlarından bazıları şunlardır:

- Mondros Ateşkes Antlaşması imzalandığı sırada işgal edilmemiş olan bölgelerin tümü, ayrılmaz bir bütündür.
- Batı Trakya'nın durumu, orada yaşayan halkın serbestçe vereceği oylarla belirlenmelidir.
- Tam bağımsızlığın sağlanabilmesi için millî ve ekonomik gelişmemizi engelleyen her türlü siyasi, adli ve mali sınırlamalar kaldırılmalıdır.

Buna göre aşağıdaki yargılardan hangisine ulaşamaz?

- A) Kapitülasyonlara karşı çıkmıştır.
- B) Türk yurdunun sınırları belirlenmiştir.
- C) Ulusal egemenliğe vurgu yapılmıştır.
- D) Batı Trakya'nın geleceği, halkın iradesine bırakılmıştır.

23.

Sivas Kongresi kararlarından bazıları şunlardır:

- Manda ve himaye kesin olarak reddedilmiştir.
- Yurttaki tüm cemiyetler Anadolu ve Rumeli Müdafaa-i Hukuk Cemiyeti adı altında birleştirilmiştir.
- Erzurum Kongresi'nde doğu illerini temsilen seçilen 9 kişilik Temsil Heyeti Sivas Kongresi'nde 6 kişi daha seçilerek genişletilmiş, bütün ulus adına söz söyleme yetkisi verilmiştir.

Kongre kararlarına göre;

- I. Temsil Heyeti bütün vatani temsil eder hâle getirilmiştir.
- II. Ulusal örgütlenme tüm vatani kapsayacak şekilde genişletilmiştir.
- III. Tam bağımsızlık hedeflenmiştir.

yargılarından hangilerine ulaşılabilir?

- A) I ve II.
- B) I ve III.
- C) II ve III.
- D) I, II ve III.

24. "Temel ilke, Türk milletinin haysiyetli ve şerefli bir millet olarak yaşamasıdır. Bu ilke, ancak tam istiklale sahip olmakla gerçekleştirilebilir. Ne kadar zengin ve bolluk içinde olursa olsun, istiklalden yoksun bir millet, medeni insanlık dünyası karşısında uşak olmak mevkiinden yüksek bir muameleye layık görülemez. Yabancı bir devletin koruyup kollayıcılığını kabul etmek, insanlık vasıflarından yoksunluğu, güçsüzlük ve miskinliği itiraftan başka bir şey değildir. Gerçekten de bu seviyesizliğe düşmemiş olanların, isteyerek başlarına bir yabancı efendi getirmelerine asla ihtimal verilemez."

Mustafa Kemal Atatürk'ün bu sözünden hareketle,

- I. Manda ve himaye altında olmayı acizlik olarak kabul etmiştir.
- II. Bağımsızlığın zenginlik ve güçle gerçekleştirilebileceğini savunmuştur.
- III. Saygın ve onurlu yaşama tam bağımsızlıkla kavuşulabileceğini belirtmiştir.

yargılarından hangilerine ulaşılabilir?

- A) Yalnız I. B) I ve III. C) II ve III. D) I, II ve III.

25. "Bir ulus, sımsıkı birbirine bağlı olmayı bildikçe yeryüzünde onu dağıtabilecek bir güç düşünülemez."

Mustafa Kemal Atatürk bu sözü ile aşağıdakilerden hangisinin önemine vurgu yapmıştır?

- A) Millî birlik ve beraberlik B) Teşkilatçılık
C) Millî egemenlik D) Tam bağımsızlık

26.

ERZURUM KONGRESİ	
Toplanma Amacı	Doğu Anadolu'da kurulmak istenen Ermeni Devleti'ne karşı mücadele etmek
Alınan Kararlardan Bazıları	<ul style="list-style-type: none"> Her türlü yabancı işgaline karşı Osmanlı Hükûmetinin dağılması durumunda hep birlikte direniş ve savunma yapılacaktır. Hristiyan azınlığa, siyasi egemenliğimizi ve sosyal dengemizi bozucu ayrıcalık verilemez. Millî sınırlar içinde vatan bir bütündür, parçalanamaz. Manda ve himaye kabul olunamaz.

Buna göre Erzurum Kongresi ile ilgili aşağıdakilerden hangisi söylenemez?

- A) İstanbul Hükûmeti ile birlikte hareket edilmiştir.
B) Tüm yurdu ilgilendiren kararlar alınmıştır.
C) Toplanış amacı bakımından bölgeseldir.
D) Tam bağımsızlık ilkesi vurgulanmıştır.

30.

Mondros Ateşkes Antlaşması Sonrası Yaşanan İşgaller Karşısında

İstanbul Hükûmeti'nin Görüşü	Halkın Görüşü
Damat Ferit Hükûmeti'ne göre işgaller geçiciydi. Bu nedenle işgallere karşı sessiz kalınmalıydı. İtilaf Devletleri'ni kızdıracak tutum ve davranışlardan kaçınılmalıydı. Barış antlaşması imzalanıncaya kadar İtilaf Devletleri'ne karşı uzlaşmacı bir politika izlenmeliydi.	Türk halkı, vatanını korumak ve bağımsızlığını elde etmek için harekete geçti. Ülkenin çeşitli yerlerinde halk, cemiyetler kurarak ülke topraklarının işgal edilmesini telgraf- lar çekerek ve mitingler düzenleyerek protesto etmeye başladı. Aynı zamanda işgalcilere karşı vatan topraklarını savunmak için silahlı direniş kuvvetlerini kurdular.

Verilen bilgilerden hareketle aşağıdaki yargılardan hangisi söylenemez?

- A) İstanbul Hükûmeti ile halk arasında görüş ayrılığı vardır.
- B) Türk halkı vatan topraklarını korumak için teşkilatlanmıştır.
- C) Ülkenin kurtuluşu için bağımsızlık anlayışından uzak fikirler vardır.
- D) İstanbul Hükûmeti'ne göre milletin istiklalini milletin kararı kurtaracaktır.



8. SINIF

T.C. İNKILAP TARİHİ VE ATATÜRKÇÜLÜK

3. Ünite

1. Mustafa Kemal, taarruz için ordunun yanı sıra kamuoyunu ve meclisi de hazırlamaya önem verdi. Bu amaçla halka dağıtılacak bildirileri kaleme aldı. Bazı milletvekilleri taarruzun bir an önce yapılmasını istemekteydi. Mustafa Kemal bu milletvekillerini "Ordumuzun kararı, taarruzdur. Fakat bu taarruzu erteliyoruz. Sebebi, hazırlığımızı tamamen ikmale biraz daha zaman lazımdır. Yarım hazırlıkla, yarım tedbirle yapılacak taarruz hiç taarruz etmemekten daha fenadır." sözleriyle yatıştırdı. Bu gelişmeler doğrultusunda ordu, 1922 yılının yaz aylarına doğru taarruza hazır hâle gelmişti.

Buna göre Mustafa Kemal'in taarruzu ertelemesinin sebebi nedir?

- A) Milletvekillerinin isteklerini yerine getirmek
- B) Savunma savaşı yapmak
- C) Taarruzu yaz aylarında yapmak
- D) Ordunun eksiklerini tamamlamak

2. 1927 yılında başkent Ankara'da Türk halkının katkılarıyla Kurtuluş Savaşı anısına "Zafer Anıtı" yaptırılmıştır. Atatürk, anıtta asker kıyafetleri içinde Sakarya isimli atının üzerinde gösterilmiştir. Anıtın dört yanında taş kaideler üzerinde bronz dökümden üç figür bulunmaktadır. Bunlardan ikisinde ülkesini koruyup gözeten Mehmetçik, diğerinde ise cepheye silah ve cephane taşıyan Türk kadını tasvir edilmiştir.

Buna göre Zafer Anıtı'nda Kurtuluş Savaşı ile ilgili aşağıdakilerden hangisi anlatılmak istenmiştir?

- A) Türkiye'deki siyasal gelişmeler
- B) Milli egemenliğin önemi
- C) Milli birlik ve beraberlik
- D) Yurtta ve dünyada barış

3. Kazım Karabekir Paşa, Gümrü Antlaşması ile ilgili olarak şunları söylemiştir: "Ermenilerin Sevr Antlaşması'ndaki imzalarını geri aldık."

Kazım Karabekir Paşa bu sözleriyle aşağıdakilerden hangisini anlatmak istemiştir?

- A) Sevr Antlaşması Ermeni Hükûmeti tarafından geçersiz sayılmıştır.
- B) Doğu Anadolu'da iki yeni devletin kurulmasına karar verilmiştir.
- C) Ermeni Hükûmeti, Sevr Antlaşması'nın yeniden düzenlenmesini istemiştir.
- D) İtilaf Devletleri Sevr Antlaşması'nı yok saymışlardır.

4. Wilson İlkeleri'ne göre Osmanlı Devleti'nin Türklerin çoğunlukta olduğu bölgelerine kesin egemenlik hakkı tanınacak, Türk olmayan milletlere de kendi kendini yönetme hakkı verilecekti. Ancak İngilizlerden destek alan Yunan askerleri 15 Mayıs 1919'da İzmir'e çıkarma yaptılar ve İzmir'i işgal ettiler. İşgalden sonra Yunanistan'dan İzmir'e gemilerle Rum göçmenleri taşındılar.

Buna göre Yunanlıların İzmir'e Rum göçmenleri taşıma amacı aşağıdakilerden hangisidir?

- A) Savaş tazminatı almak
- B) Ekonomiyi canlandırmak
- C) Halkın güvenliğini sağlamak
- D) İzmir'de çoğunluğu sağlamak

9. Lozan Barış Antlaşması'na göre Ege adalarından Gökçeada, Bozcaada ve Tavşan Adaları Türkiye'ye; Limni, Semadirek, Midilli, Sakız, Sisam ve Nikerya adaları ise Yunanistan'a bırakılacaktı. Fakat Türkiye antlaşmaya Yunanistan'ın bu adalarda deniz üssü kuramayacağına dair bir madde ekletmiştir.

Türkiye bu maddeyi antlaşmaya ekleterek,

- I. Ege Adalarını silahsızlandırmayı
- II. Diplomatik ilişkileri geliştirmeyi
- III. Sınırlarını güvence altına almayı

amaçlarından hangilerini hedeflemiştir?

- A) Yalnız I. B) Yalnız II. C) I ve II. D) I, II ve III.

10.



1935 Milletvekili Seçimlerinde Vatandaşlar Oy Kullanırken

Bu fotoğraf dikkate alındığında Cumhuriyetin ilk yılları için,

- I. Türk kadınına seçme hakkının verildiği
- II. Ülke yönetiminde halkın söz sahibi olduğu
- III. Tek dereceli seçim sisteminin uygulandığı

yargılarından hangileri çıkarılamaz?

- A) Yalnız I. B) Yalnız III. C) I ve II. D) II ve III.

11. Aşağıda Yakup Kadri Karaosmanoğlu'nun "Yaban" adlı eserinden alınan bazı bölümler verilmiştir:

"... Onlara İstanbul'un dört devletin askerî işgali altında olduğunu, İzmir'in ta Bursa'ya kadar Yunanlılar tarafından istila edildiğini, Adana'dan Fransızların henüz el çekmediğini, Urfa'da, Antep'te kanlı olayların cereyan etmekte olduğunu haber veriyor, her birinin yüzüne ayrı ayrı bakıyordum.

... İstanbul'da ne padişahın ne devletin ne hükûmetin itibarı kaldı. Yüzbaşı rütbesinde yabancı subaylar, sadrazamlara emir veriyor, padişaha filan adamı filan yere tayin et diye akıl veriyor. Memleketin büyüklerini, akıllı adamlarını Malta Adası'na sürdüler. Kimseye göz açtırmıyor, söz söyletmiyorlar..."

Yukarıdaki metinden hareketle,

- I. Yunanlılar ve Fransızlar Anadolu'da işgal faaliyetlerinde bulunmuştur.
- II. Toplumdaki aydın insanlar İtilaf Devletleri tarafından baskıya maruz kalmıştır.
- III. Osmanlı Devleti'nin otoritesi sarsılmıştır.

yargılarından hangilerine ulaşılabilir?

- A) Yalnız I. B) Yalnız II. C) II ve III. D) I, II ve III.

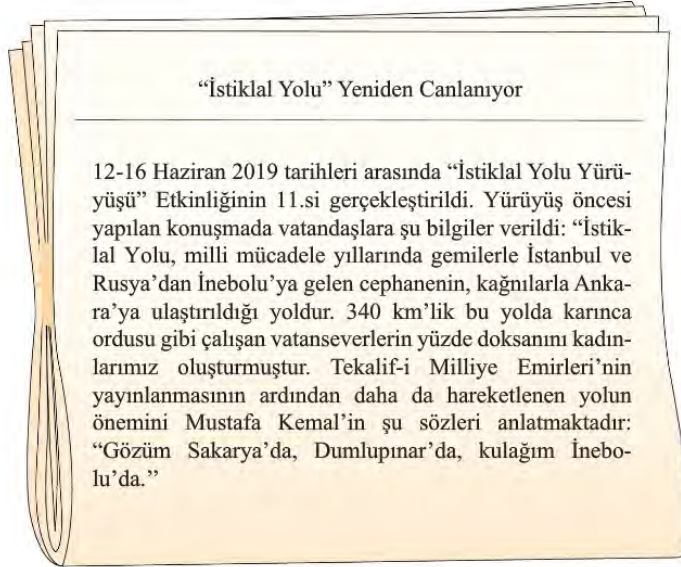
12. Aşağıda İsmet Bey'in Doğu Cephesi'nde kazanılan zaferden sonra Kâzım Karabekir Paşa'ya yazdığı mektuba yer verilmiştir:



Bu mektuba göre aşağıdakilerden hangisine ulaşılabilir?

- A) Kazanılan zafer ile Milli Mücadele tamamlanmıştır.
- B) Kâzım Karabekir Paşa'nın askerî rütbesi yükselmiştir.
- C) Doğu'daki zafer kurtuluş mücadelesine umut olmuştur.
- D) Elde edilen başarının sonucunda Yunanlılar geri çekilmiştir.

13.



Yukarıda verilen gazete haberinden hareketle aşağıdakilerden hangisi söylenemez?

- A) Halk birlik ve beraberlik içinde hareket etmiştir.
- B) İstanbul Hükümeti ile Türk halkı güç birliği yapmıştır.
- C) Türk kadını cephe gerisinde önemli işler başarmıştır.
- D) Cephe gerisindeki çalışmalar, cephedeki kadar önemli görülmüştür.

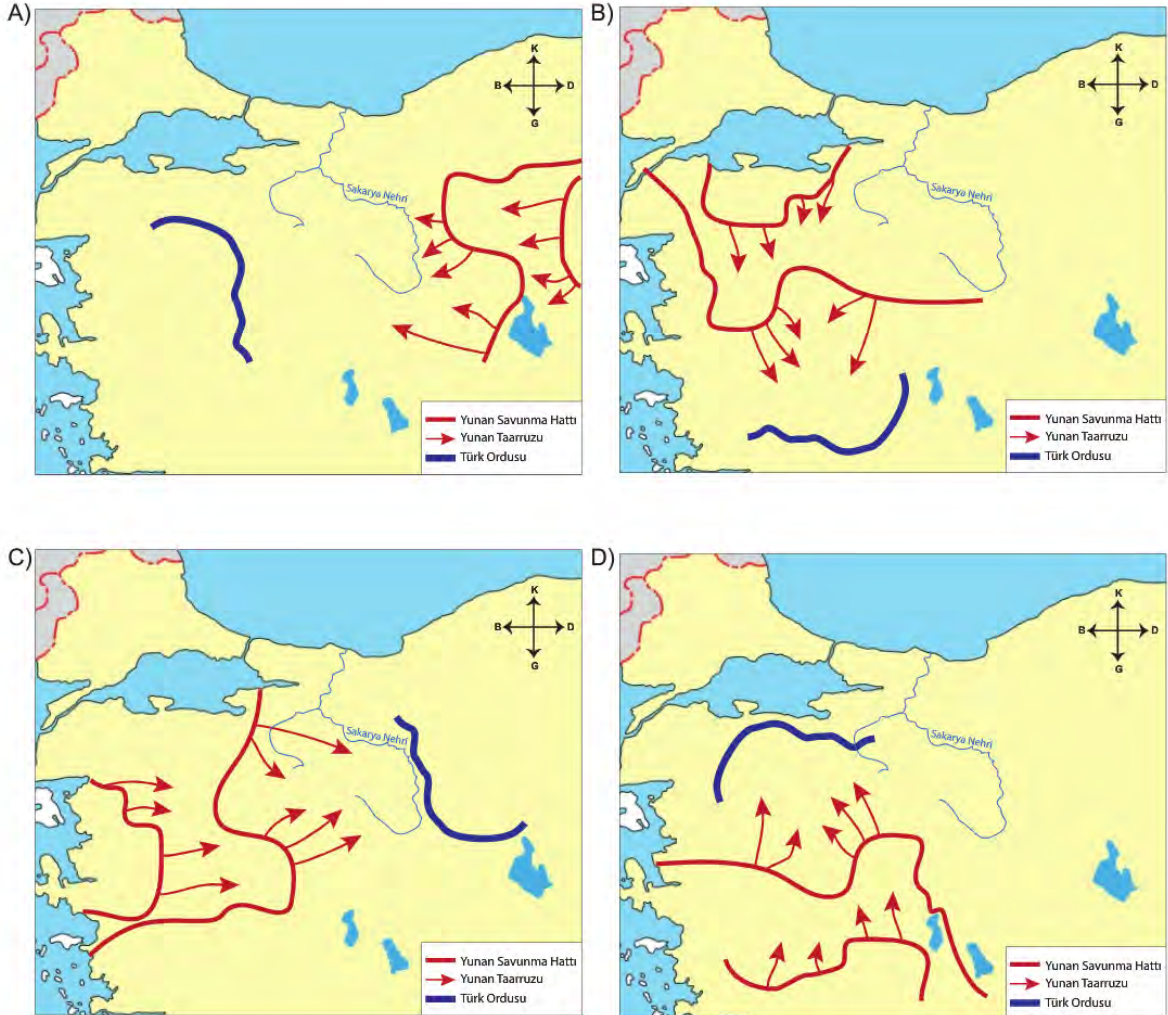
14. Aşağıda, halk tarafından kendilerine "Onikiler" adı verilen bir grup vatanseverin Fransız işgal komutanına gönderdiği uyarı mektubundan bir bölüm verilmiştir.

"...Biz Onikiler; şehirli ve köylü, Türk ve Kürt, yerleşik ve göçebe bütün Urfa halkının hislerine tercümanız. Bizi esir alamazsınız. Alsanız bile bu mücadeleyi durduramazsınız..."

Bu metne göre aşağıdaki yargılardan hangisine ulaşılabilir?

- A) Düzenli orduya katılım sağlanacağına
B) Onikiler'in Batı illerinden destek aldığına
C) Millî Mücadele'nin başarıya ulaşacağına
D) Onikiler'in Urfa halkını temsil ettiğine
15. Sakarya Savaşı'ndan önce Türk ordusu, Kütahya-Eskişehir Savaşları'ndaki kayıp sayısını azaltmak, ihtiyaçlarını gidermek, zaman kazanmak ve savunma için daha elverişli koşullar sağlamak üzere, Sakarya Nehri'nin doğusuna çekilmiştir.

Buna göre aşağıdaki haritalardan hangisi Sakarya Savaşı'ndan önce Türk ve Yunan ordusunun durumunu göstermektedir?



16.

I. Durum

I. İnönü Zaferi'nden sonra İtilaf Devletleri Londra'da toplanan barış konferansına TBMM heyeti ile beraber İstanbul Hükümeti'ni de davet ettiler. Ancak konferansta İstanbul Hükümeti adına söz alan Tevfik Paşa "Ben sözü Türk milletinin hakiki temsilcisi olan TBMM delegesine bırakıyorum." diyerek İtilaf Devletleri'nin Türk tarafını ikiye bölme planlarını sonuçsuz bıraktı.

II. Durum

Lozan'da yapılacak barış görüşmelerine İtilaf Devletleri TBMM ile beraber İstanbul Hükümeti'ni de davet edince TBMM 1 Kasım 1922'de aldığı kararla saltanatı kaldırdı. Lozan görüşmelerinde de Türk halkını TBMM temsil etti. Böylece İtilaf Devletleri'nin Türk tarafını ikiye bölme ve Sevr Antlaşması'nı kısmen de olsa Türklere kabul ettirme planları sonuçsuz kaldı.

Verilen durumlar birlikte değerlendirildiğinde aşağıdaki yargılardan hangisi çıkarılamaz?

- A) TBMM Misakımillî hedeflerini taviz vermeden gerçekleştirmiştir.
- B) Ulusal bağımsızlık ve ulusal egemenlik mücadelesi birlikte yürütülmüştür.
- C) İtilaf Devletleri farklı zamanlarda benzer politikaları uygulamak istemiştir.
- D) TBMM Türk halkının tek temsilcisi olduğunu göstermiştir.

17. Türkiye, Lozan Konferansı'nda birtakım isteklerde bulunmuştur. Bu istekler şunlardır:

- Kapitülasyonlar ve Düyun-u Umumiye İdaresinin kaldırılması
- İstanbul'un ve Boğazların boşaltılması
- Musul ve Kerkük'ün Türkiye'ye bağlanması
- Yunanistan'ın tazminat ödemesi

Türkiye'nin bu isteklerle aşağıdakilerden hangisini amaçladığı söylenemez?

- A) Savaşın neden olduğu ekonomik zararı telafi etmeyi
- B) Ekonomik bağımlılığının ortadan kaldırılmasını
- C) Toprak bütünlüğünün sağlanmasını
- D) Mevcut sınırlarını genişletmeyi

18. Sovyetler Birliği ile TBMM Hükümeti arasında imzalanan Moskova Antlaşması'na göre,

- Uluslar kendi geleceğine kendisi karar verecektir.
- Sovyetler Birliği, kapitülasyonların kaldırıldığını kabul edecektir.
- Taraflardan birinin tanımadığı uluslararası bir antlaşmayı diğeri de tanımayacaktır.

Buna göre TBMM Hükümeti ile ilgili,

- I. Uluslararası diplomaside Sovyetler Birliği ile ortak hareket etmeyi kabul etmiştir.
- II. Ekonomik bağımsızlık yolunda önemli bir adım atılmasını sağlamıştır.
- III. Sovyetler Birliği'nin iç işlerine karışmamayı taahhüt etmiştir.

yargılarından hangilerine ulaşılabilir?

- A) Yalnız I.
- B) I ve II.
- C) II ve III.
- D) I, II ve III.

19. Osmanlının son dönemlerinde Avrupa devletleri birçok bahane ile devletin iç işlerine müdahale etmişlerdir. TBMM Heyeti, Lozan Barış Antlaşması'nda alınacak kararlarla, yeni kurulan Türk devletinin iç işlerine müdahalede bulunulmasını engellemeye çalışmıştır.

Lozan Antlaşması'nın aşağıdaki maddelerinden hangisi bu doğrultuda alınan kararlardan biri değildir?

- A) Kapitülasyonlar kaldırılacaktır.
- B) Düyun-u Umumiye Teşkilatı kaldırılacaktır.
- C) Anadolu'daki bütün gayrimüslimler Türk vatandaşı kabul edilecektir.
- D) Boğazlar "Uluslararası Boğazlar Komisyonu" tarafından yönetilecektir.

20. 1 Mart 1921 tarihinde Türkiye ile Afganistan arasında imzalanan dostluk anlaşmasına göre Türkiye Afganistan'ın bağımsızlığını tanımış ve taraflar Doğu uluslarının bağımsızlığını onaylamıştır. Ayrıca taraflardan birine emperyalist güçlerce yapılacak saldırıya karşı ortak tepki verileceği, taraflardan birine düşman olan devletlerle anlaşma imzalanmayacağı ve herhangi bir devletle anlaşma yapmadan önce tarafların birbirlerine bilgi vereceği vurgulanmıştır.

Buna göre aşağıdakilerden hangisi dostluk antlaşmasının hedeflerinden biri değildir?

- A) Sömürgecilğe karşı ortak bir tavır almak
- B) İç politikadaki sorunları çözüme kavuşturmak
- C) İş birliğine dayalı bir yaklaşım ortaya koymak
- D) Taraf devletlerin bağımsızlık mücadelesini desteklemek

21. Maarif Kongresi 16-21 Temmuz 1921 tarihleri arasında askeri, siyasi ve ekonomik alanlarda pek çok sorunla baş edilmeye çalışılan bir süreçte toplanmıştır. Dönemin Maarif Vekili Hamdullah Suphi (Tanrıöver) Meclis'te yaptığı konuşmada, kongreye katılacak delegeler için iki bin lira bütçe kullanıldığı, üç dört delegenin birlikte seyahat ettiği durumlarda yol giderlerinin karşılandığı, konaklama giderlerine ise karışılmadığı bilgisini vermiştir.

Buna göre;

- I. Eğitim konusuna önem verildiği,
- II. Kongrenin zor şartlar altında toplandığı,
- III. Kongreye yönelik tasarruf önlemlerinin alındığı,

ifadelerinden hangilerine ulaşılabilir?

- A) I ve II.
- B) I ve III.
- C) II ve III.
- D) I, II ve III.

22. Millî Mücadele Dönemi'nde Antep, Urfa ve Maraş; Fransızlar ve Fransızların silahlandığı Ermeniler tarafından işgal edilmiştir. Düzenli bir ordu bulunmadığı için Güney Cephesi'nde Kuvâ-yı Millîye birlikleri işgallere karşı direnmiştir.

Buna göre Güney Cephesi ile ilgili,

- I. Bölgesel direniş güçlerinin etkili olduğu
- II. Kuvâ-yı Millîye'nin işgallere son verdiği
- III. Fransızların azınlıklar ile iş birliği yaptığı

yargılarından hangilerine ulaşılabilir?

- A) Yalnız III.
- B) I ve II.
- C) I ve III.
- D) I, II ve III.

23. Kütahya-Eskişehir Savaşları'nda mağlup olan Türk ordusu Sakarya Irmağı'nın doğusuna çekilince Türk ordusunun savaşı kaybedeceği yönünde TBMM'de büyük tartışmalar yaşanmıştır. Bunun üzerine başarıdan emin ve kararlı olan Mustafa Kemal tüm sorumluluğu ve yetkiyi üzerine almıştır. Sakarya Meydan Muharebesi öncesi Tekâlîf-i Milliye Emirleri yayınlanmıştır. Buna karşılık Türk halkı maddi manevi tüm imkânları ile ordusunun yanında yer almıştır.

Buna göre;

- I. Tekâlîf-i Millîye Emirleri ile ordunun ihtiyaçları halk tarafından karşılanmıştır.
- II. Türk halkı millî birlik ve beraberlik anlayışı içinde hareket etmiştir.
- III. TBMM'de Millî Mücadele'nin başarıya ulaşıp ulaşmayacağına yönelik farklı görüşler vardır.

yargılarından hangilerine ulaşılabilir?

- A) Yalnız I. B) I ve II. C) II ve III. D) I, II ve III.

24. İtilaf Devletleri I. İnönü Savaşı'ndan sonra toplanacak olan Londra Konferansı'na Osmanlı Hükûmetinin yanında TBMM Hükûmetini de çağırıştır. Bu konferansa Osmanlı Hükûmeti adına Tefik Paşa, TBMM Hükûmeti adına Bekir Sami Bey katılmıştır. Konferansta söz sırası Tefik Paşa'ya geldiğinde "Ben sözü Türk milletinin hakiki temsilcisi olan TBMM delegesine bırakıyorum." demiştir.

Tefik Paşa bu sözü ile İtilaf Devletleri'nin hangi amacını boşa çıkarmıştır?

- A) Anadolu topraklarını işgale başlama
- B) Türk delegeler arasında ikilik çıkarma
- C) Düzenli ordunun kurulmasını engelleme
- D) Türk milletini Millî Mücadele'den vazgeçirme

25. 16 Mart 1921'de TBMM Hükûmeti ile Sovyetler Birliği arasında imzalanan Moskova Dostluk Antlaşması'na göre doğu sınırı büyük ölçüde çizilmiş; Batum, Misakımillî sınırları içerisinde olmasına rağmen Gürcistan'a bırakılmıştır. Ayrıca taraflar, bu antlaşma sonrasında uluslararası ilişkilerde birbirlerine zarar verecek faaliyetlerde bulunmayacaklarını kararlaştırmışlardır. Bunun yanında Sovyet yönetimi kapitülasyonların kaldırıldığını kabul etmiş ve Osmanlı Devleti ile Çarlık Rusya arasında yapılan bütün antlaşmaların geçersiz olduğu ilan edilmiştir.

Buna göre Moskova Antlaşması ile ilgili,

- I. Misakımillî'den taviz verilmiştir.
- II. Ekonomik bağımsızlığa katkı sağlanmıştır.
- III. Sovyetler Birliği TBMM'nin varlığını tanımıştır.

yargılarından hangilerine ulaşılabilir?

- A) Yalnız I. B) I ve II. C) II ve III. D) I, II ve III.

26. İkinci İnönü Savaşı sonucunda yaşanan gelişmelerden bazıları şunlardır:

- O güne kadar Yunanistan'ın arkasında olan İngiltere, tutumunu değiştirmeye başlamış; hemen sonrasında İtilaf Devletleri savaşta tarafsız olduklarına dair bir bildiri yayımlamıştır.
- Fransa, TBMM Hükûmeti'ni fiilen tanımıştır ve hükûmetin temsilcileriyle görüşmeye başlamıştır.
- Halkın TBMM Hükûmeti ve ordusuna olan güveni artmış, Millî Mücadele ruhu pekişmiştir.
- İtalya, Anadolu'dan kademeli olarak çekilmeye başlamıştır.

Bu bilgilerden hareketle,

- I. İtilaf Devletleri arasında görüş ayrılıkları yaşanmaya başlamıştır.
- II. Yunanistan, barış antlaşması istemek zorunda kalmıştır.
- III. TBMM'nin ulusal ve uluslararası saygınlığı artmıştır.

yargılarından hangilerine ulaşılabilir?

- A) Yalnız I. B) Yalnız II. C) I ve III. D) I, II ve III.

27. Millî Mücadele Dönemi'nde Türk kadını, işgallere karşı çeşitli dernekler kurmuş, mitingler düzenlemiş, yardım dernekleri kurarak ordu, göçmenler ve kimsesizler için yardımlar toplamış, cephane imalathanelerinde çalışmış, kağıt kollarında cepheye erzak ve cephane taşımıştır.

Buna göre Millî Mücadele Dönemi'nde Türk kadınının yapmış olduğu faaliyetler ile ilgili aşağıdakilerden hangisi söylenemez?

- A) Anadolu'daki azınlıkların haklarını savunmuşlardır.
- B) Cephe gerisinde faaliyetlerde bulunmuşlardır.
- C) Millî bilincin uyandırılması için çalışmışlardır.
- D) İşgallere karşı örgütlenmişlerdir.



8. SINIF

T.C. İNKILAP TARİHİ VE ATATÜRKÇÜLÜK

4. Ünite

1. Halkçılık; bütün vatandaşların yasalar önünde eşit olmalarını, devlet imkânlarından eşit olarak yararlanmalarını esas alan ve her türlü ayrımcılığı reddeden Atatürk ilkesidir.

Buna göre aşağıdaki uygulamalardan hangisi Atatürk'ün halkçılık ilkesine göre hareket edildiğinin göstergesidir?

- A) Millî kültürün korunması ve geliştirilmesi
- B) Büyük yatırımların devlet tarafından gerçekleştirilmesi
- C) Dünyadaki bilimsel ve teknolojik gelişmelerin takip edilmesi
- D) Sosyal ve ekonomik alanda kadınlara erkeklerle aynı hakların sağlanması

2. Tevhid-i Tedrisat Kanunu'nun kabul edilmesinden sonra yabancı okullar Türkiye için bir sorun hâline gelmiştir. 1925 yılında bu okullarda;

- Tarih, coğrafya ve yurttaşlık bilgisi derslerinin Türk öğretmenler tarafından okutulması,
- Türk müfettişlerce denetlenmesi,
- Derslerde Türklük aleyhinde ifadelerin yer almaması

kararları alınmıştır.

Buna göre Türkiye'nin, yabancı okullar konusunda sergilediği tutumla aşağıdakilerden hangisini amaçladığı söylenebilir?

- A) Eğitim kalitesini artırmayı
- B) Kapatılmalarını sağlamayı
- C) Millî kültüre zarar verilmesini önlemeyi
- D) Laikliğe uygun eğitim yapılmasını sağlamayı

3. Atatürk'ün Osmanlı'nın son yenilmez pehlivanı Kurtdereli Mehmet Efendi'ye yazdığı mektuptan:

Seni cihanda büyük ün almış bir Türk güreşçisi olarak tanıdım. Parlak başarılarının sırrını şu sözlerle açıkladığını da öğrendim: "Güreşirken bütün milletimi arkamda hisseder ve milletimin şerefini korumak için herşeyi yapardım. Ve sanki bütün milletimin kuvvetinin yanımda olduğunu hissederdim." Bu dediğini en az yaptıkların kadar beğendim. Onun için senin bu değerli sözünün Türk sporcularına bir meslek ilkesi olmasını diliyorum.

Bu mektuba göre Atatürk Türk sporcularına aşağıdakilerden hangisini tavsiye etmektedir?

- A) Sporun yalnızca yeteneğe bağlı kalması gerektiğini
- B) Sporunun milli heyecan içinde yetişmesi gerektiğini
- C) Sporun sadece başarıyı esas alması gerektiğini
- D) Ata sporlarımızdan güreşe daha fazla önem verilmesi gerektiğini

4. Cumhuriyetçilik ilkesi; yönetim şekli olarak halk egemenliğini esas alan, yöneticilerin halk tarafından belli bir süre için seçilmesini sağlayan, cumhuriyet rejimini ön plana çıkaran ve bunu bir hayat felsefesi hâline getirmeyi amaçlayan Atatürk ilkelerinden birisidir.

Buna göre cumhuriyetçilik ilkesi için,

- I. Ülke yönetiminde tek kişinin egemenliğini reddeder.
- II. Halkın, yönetimde söz sahibi olmasını savunur.
- III. Seçimlerin belli aralıklarla yapılmasını öngörür.

yargılarından hangilerine ulaşılabilir?

- A) Yalnız I. B) I ve II. C) II ve III. D) I, II ve III.

5. İstanbul Hükûmeti adına Tevfik Paşa, 17 Ekim 1922'de bana gönderdiği telgrafta kazanılan zaferin bundan böyle İstanbul ile Ankara arasında anlaşmazlık ve ikiliği ortadan kaldırdığını ve millî birliğimizi sağladığını yazıyordu. Yani Tevfik Paşa şöyle demek istiyordu: "Memlekette düşman kalmadı. O hâlde padişah yerindedir, hükûmet onun yanındadır. Millete düşen de bu makamların vereceği emirlere uymaktır. Böyle olunca da elbette birliğe engel bir şey kalmamış olur."

Tevfik Paşa, Mustafa Kemal'e çektiği bu telgrafta aşağıdakilerden hangisini yok saymıştır?

- A) Ülke bütünlüğü B) Millî egemenlik C) Millî bağımsızlık D) Millî kültür

6. Milliyetçilik ilkesi;

- Toplum ve devlet düzeni içerisinde inanç ve mezheplere saygılıdır.
- Sınıf ve zümre egemenliğini reddeder.
- Yer altı ve yer üstü kaynaklarının işletilmesinde ulusallaşmayı amaçlar.

Buna göre Atatürk'ün milliyetçilik ilkesinin;

- I. Laiklik,
- II. Devletçilik,
- III. Halkçılık

ilkelerinden hangileriyle ilişkili olduğu söylenebilir?

- A) Yalnız I. B) I ve III. C) II ve III. D) I, II ve III.

7. Cumhuriyetçilik, devlet yönetiminde millî egemenliği ve millî iradeyi esas alan Atatürk ilkesidir. Bu ilkenin yönetim biçimi ve siyasi rejim olarak ifadesi cumhuriyettir.

Buna göre Atatürk'ün hangi sözü cumhuriyetçilik ilkesi bağlamında değerlendirilemez?

- A) Milletin saltanat ve hâkimiyet makamı yalnız ve ancak Türkiye Büyük Millet Meclisidir.
- B) Ben milletimin en büyük ve ecdadımın en kıymetli mirası olan istiklal aşkı ile dolu bir insanım.
- C) Artık hükûmet ile millet arasında geçmişteki ayrılık kalmamıştır. Hükûmet millet; millet hükûmettir.
- D) Efendiler; bu isim gereği bütün dünya bilmelidir ki artık Türkiye halkı hâkimiyetini hiçbir kişi ve makama veremez.

8. Atatürk'ün inkılap anlayışı; çağdaş uygarlığa ulaşma çabasıyla yapılan yeniliklere sahip çıkılmasını, bunların korunmasını ve yeni ihtiyaçlar doğrultusunda geliştirilmesini öngörür. Atatürk'ün anlayışına göre inkılap, bir noktaya varıp orada durmaz, sürekli ve sürekli. Yaşam şartlarına ve çağın ihtiyaçlarına uygun biçimde gelişmeye açıktır.

Buna göre Atatürk'ün,

- I. "Vatan artık bayındır hâle getirilmek istiyor, zenginlik ve refah istiyor. İlim ve bilgi, yüksek medeniyet, hür fikir ve hür zihniyet istiyor! Bağımsızlık ve öz varlık, vatanın bu isteklerini tam olarak ve hızla yerine getirmek için esaslı ve ciddi bir şekilde çalışma emreder."
- II. "Din ve mezhep, herkesin vicdanına kalmış bir iştir. Hiç kimse hiç bir kimseyi, ne bir din ne de bir mezhebi kabul etmeye zorlayabilir."
- III. "Bizim milletimiz birbirinden çok farklı menfaatleri takip eden ve bu itibarla birbiriyle mücadele hâlinde bulunan çeşitli sınıflara sahip değildir."

sözlerinden hangileri inkılapçılık ilkesiyle ilişkilidir?

- A) Yalnız I.
- B) I ve II.
- C) II ve III.
- D) I, II ve III.

9. Atatürk'e göre, Türk Devleti'nin dayandığı esaslar, tam bağımsızlık ve kayıtsız şartsız millî egemenliktir. Atatürk tam bağımsızlığı, "siyasi, mali, ekonomik, adli, askeri, kültürel kısaca her hususta bağımsızlık ve serbestlik" olarak tanımlamaktadır.

Buna göre aşağıdakilerden hangisi millî bağımsızlık doğrultusunda yapılanlardan biri değildir?

- A) Kapitülasyonların kaldırılması
- B) Büyük Millet Meclisinin açılması
- C) Manda ve himayenin reddedilmesi
- D) Çok partili hayata geçiş denemeleri

10. Misak-ı İktisadi esaslarından bazıları şunlardır:

- Türk milleti tahribat yapmaz, imar eder. Bütün mesai, ekonomik yönden ülkeyi yükseltmek gayesine yönelmiştir.
- Türk vatandaşları kullandığı eşyayı mümkün mertebe kendi üretir. Çok çalışır, vakitte, servette ve ithalatta israftan kaçınır.
- Türkler hangi meslekte olursa olsun birbirlerini candan severler. Meslekler, zümre itibarı ile el ele vererek birlikler oluşur.

Buna göre aşağıdakilerden hangisi Misak-ı İktisadi esaslarının amaçlarından biri değildir?

- A) Tasarruf bilincini geliştirmek
- B) Kalkınmayı ithalat ile arttırmak
- C) Millî üretime katkıda bulunmak
- D) Meslek grupları arasında dayanışmayı sağlamak

11. Halkçılık, bireyler arasında hiçbir ayırım gözetmemek, kişilerin yasalar önünde eşitliğini benimsemek ve egemenliğin halka ait olduğunu kabul etmektir.

Buna göre halkçılık ilkesinin toplumda,

- I. Yönetime katılma
- II. Hiçbir kişi ya da gruba ayrıcalık tanımama
- III. Devlet imkânlarından eşit olarak faydalanabilme

hedeflerinden hangilerini gerçekleştirmeye yönelik olduğu söylenebilir?

- A) I ve II.
- B) I ve III.
- C) II ve III.
- D) I, II ve III.

12. Birinci Beş Yıllık Sanayi Planı, büyük sermaye ve ileri teknoloji gerektiren projelere, ham maddeleri yurt içinde üretilen ve üretilebilecek tesislere ve bu tesislerin kuruluş kapasitelerinin iç tüketimi karşılayabilecek düzeyde tutulmasına öncelik vermiştir. Bu dönemde 20 fabrikanın kurulması öngörülmüş ve dokuma, cam, kimya ve kâğıt sanayinde çok sayıda fabrika açılmıştır. Bu fabrikaların işletme ve yönetimleri Sümerbank'a verilmiş, madencilik ve enerji işlerini yönetmekle Etibank ve Maden Tetkik Arama Enstitüsü görevlendirilmiştir.

Buna göre aşağıdakilerden hangisinin Birinci Beş Yıllık Sanayi Planı'nın uygulanma nedenlerinden biri olduğu söylenebilir?

- A) Ham madde ihtiyacını ithal ürünlerle karşılamak
- B) Ekonomide üretim açısından dışa bağımlılığı azaltmak
- C) Yatırımların özel sektör aracılığıyla gerçekleştirilmesini sağlamak
- D) Yer altı kaynaklarının yabancı sermaye eliyle çıkarılmasını teşvik etmek

13. "...Bizim toplumumuz için ilim ve fen lüzumlu ise bunları aynı derecede hem erkek ve hem de kadınlarımızın elde etmeleri gerekir... Bundan dolayı kadınlarımız ilim ve fen sahibi olacaklar ve erkeklerin geçtikleri bütün öğretim basamaklarından geçeceklerdir... Kadınlar toplum yaşamında erkeklerle birlikte yürüyerek birbirinin yardımcısı ve destekçisi olacaklardır."

Atatürk'ün 31 Ocak 1923 tarihli İzmir konuşmasıyla,

- I. Kadınların eğitime gereken önemin verilmesi
- II. Kadın-erkek eşitliğine yönelik adımların atılması
- III. Kadınların sosyal hayata aktif katılımının sağlanması

durumlarından hangilerini amaçladığı söylenebilir?

- A) I ve II. B) I ve III. C) II ve III. D) I, II ve III.

14. Atatürk, İzmir İktisat Kongresi'nin açılış konuşmasında; "...Baylar, tarihimizi dolduran bunca başarının, zaferlerin veya yenilgilerin, sıkıntı veren büyük zararın ve yıkımların tamamı oluştukları devirdeki ekonomimiz ile doğrudan ilgilidir. Yeni Türkiye'mizi hak ettiği yüksek düzeye ulaştırmak için zaman kaybetmeden ekonomimize öncelikle önem vermek zorundayız. Çünkü günümüz bütünüyle ekonomi çağıdır." ifadelerini kullanmıştır.

Aşağıdakilerden hangisi Atatürk'ün bu sözü doğrultusunda alınan kararlardan biri olamaz?

- A) Yabancı yatırımların engellenmesi
- B) Aşar vergisinin kaldırılması
- C) Özel girişimcilere kredi imkanı verilmesi
- D) Vergi sisteminin çağın gereklerine uygun düzenlenmesi



8. SINIF

T.C. İNKILAP TARİHİ VE ATATÜRKÇÜLÜK

5. Ünite

1. Serbest Cumhuriyet Fırkası programında yer alan hükümlerden bazıları şunlardır:

- Fırka, Türk parasının kıymetini bir an önce tespit edecek ve dış sermayenin memlekete girmesini sağlayacaktır.
- Köylü ve çiftçiye kolay yollardan kredi verilecektir.
- Yerli mahsuller korunacak ve bunlara dış pazar bulunacaktır.

Bu hükümlerden,

- I. Uluslararası ticaretin Türk lirası ile yapılmasının amaçlandığı
- II. Tarımı geliştirmeye yönelik tedbirlerin alındığı
- III. Dış ticaretin geliştirilmesinin hedeflendiği

çıkarımlarından hangileri yapılabilir?

- A) Yalnız I. B) Yalnız II. C) I ve III. D) II ve III.



8. SINIF

T.C. İNKILAP TARİHİ VE ATATÜRKÇÜLÜK

6. Ünite

1.



Taraf devletler Balkan Antantı ile II. Dünya Savaşı öncesi bulundukları bölgede barışı ve güvenliğini sağlamayı amaçlamışlardır.

Yukarıdaki harita ve bilgi değerlendirildiğinde Balkan Antantı ile ilgili,

- I. Antanta katılmayan Balkan ülkeleri vardır.
- II. Karadeniz'in güvenliği sağlanmıştır.
- III. Türkiye barışçıl bir politika izlemektedir.

yargılarından hangilerine ulaşamaz?

A) Yalnız II.

B) I ve II.

C) II ve III.

D) I, II ve III.

İNKILAP TARİHİ VE ATATÜRKÇÜLÜK CEVAP ANAHTARI

1. Ünite	2. Ünite	3. Ünite	4. Ünite	5. Ünite	6. Ünite
1. D	1. B	1. D	1. D	1. D	1. A
2. B	2. B	2. C	2. C		
3. D	3. B	3. A	3. B		
4. A	4. C	4. D	4. D		
5. A	5. C	5. B	5. B		
6. C	6. A	6. D	6. B		
7. B	7. B	7. D	7. B		
8. B	8. C	8. B	8. A		
9. D	9. C	9. C	9. D		
10. C	10. A	10. B	10. B		
11. C	11. B	11. D	11. D		
12. D	12. B	12. C	12. B		
13. B	13. B	13. B	13. D		
14. C	14. B	14. D	14. A		
15. A	15. C	15. C			
16. B	16. D	16. A			
17. B	17. D	17. D			
	18. A	18. D			
	19. B	19. D			
	20. D	20. B			
	21. A	21. D			
	22. C	22. C			
	23. D	23. D			
	24. B	24. B			
	25. A	25. D			
	26. A	26. C			
	27. D	27. A			
	28. C				
	29. D				
	30. D				



8. SINIF

DİN KÜLTÜRÜ VE AHLAK BİLGİSİ

1. Ünite

1. Dere yatağına ev yapan Mustafa Bey yaşanan sel felaketinden sonra "Ne yapayım? Kaderim böyleymiş." diye yakınır.

Buna göre onun kader anlayışıyla ilgili,

- I. Kaderi pasif bir duruş olarak görmüştür.
- II. Kaderde, insanın sorumluluğunun olmadığına inanmıştır.
- III. Kaderi, önünde duramayacağı bir güce boyun eğme olarak anlamıştır.

sonuçlarından hangileri çıkarılabilir?

- A) I ve II. B) I ve III. C) II ve III. D) I, II ve III.

2. "İnsanoğlu kıyamet gününde şu beş şeyden hesaba çekilmedikçe Rabb'inin huzurundan bir yere kımıldayamaz: Ömrünü nerede ve nasıl tükettiğinden, gençliğini nerede geçirdiğinden, malını nereden kazanıp nereye harcadığından, bildiği ile amel edip etmediğinden."

Bu hadisten, insanla ilgili aşağıdakilerden hangisine ulaşamaz?

- A) Ömrünün sınırlı olduğuna
- B) Yaptıklarından hesaba çekileceğine
- C) İrade ve sorumluluk sahibi olduğuna
- D) Yaratılmışların en şerefli sayıldığına

3. Evrendeki hiçbir şey başıboş, anlamsız ve amaçsız değildir. Hiçbir varlık kendisi için belirlenmiş kanunların dışına çıkmaz. Her varlık, birbiriyle uyum içinde ve büyük bir bütünün parçası olarak hareket eder. Örneğin bazı canlılar oksijen tüketip karbondioksit açığa çıkarır, bitkiler ise besin üretmek için karbondioksit tüketip oksijen üretir.

Bu parçadan aşağıdakilerin hangisine ulaşamaz?

- A) Canlıların hiçbir varlığa ihtiyaç duymadan yaşadığına
- B) Bütün varlıkların evrenin işleyişinde görevi olduğuna
- C) Her varlığın, yaratılış gayesine uygun hareket ettiğine
- D) Evrendeki her şeyin belli bir düzene göre yaratıldığına

4. Yetiştirdiği mısırlarla her yıl “en kaliteli mısır” ödülünü alan bir çiftçi bu mısırların tohumlarını, ekmeleri için komşularına da dağıtmaktadır. Bunu öğrenen bir gazeteci, çiftçiye şöyle sorar: “Seninle her yıl aynı yarışmaya giren komşularına, kaliteli tohumlarından vermeyi nasıl göze alabiliyorsun?” Çiftçi şu cevabı verir: “Yoksa bilmiyor musunuz? Olgunlaşan mısırların polenleri farklı yollarla tarlalara dağılır. Eğer komşularım kalitesiz mısır yetiştirirse benim ürettiğim mısırların kalitesi de çapraz tozlaşmanın etkisiyle her geçen yıl düşer. Kaliteli mısır yetiştirmek istiyorsam komşularıma da kaliteli mısır yetiştirmeleri için yardım etmeliyim.”

Bu çiftçinin, farklı tarlaları bir bütünün parçaları olarak görmesi gibi Hz. Muhammed de (sav.) Müslümanları aynı beden organları olarak görür. Organlar arasındaki bağ ne kadar sağlıklı ve güçlü olursa beden de o derece güçlü olur. Bu sebeple İslam dini, insanların birbirleriyle yardımlaşmasını, dayanışma içinde olmasını ve iyi ilişkiler kurmasını ister.

Bu metin, evrendeki;

- I. toplumsal,
- II. biyolojik,
- III. fiziksel

yasalardan hangileriyle ilgili bilgi içermektedir?

- A) Yalnız I. B) Yalnız III. C) I ve II. D) I, II ve III.

5. Uzun süredir görüşmediği arkadaşıyla karşılaşan İbrahim, arkadaşının yıllardır hiç çalışmadığını, sürekli ibadet ettiğini öğrenir ve arkadaşına “Seni bu duruma ne getirdi?” diye sorar. O şöyle cevap verir: “Günlerden bir gün, kanatları kırık bir kuş gördüm. Kendi kendime ‘Burada oturayım ve bu kuşun rızkının nereden geldiğini gözetleyeyim.’ dedim. O sırada başka bir kuş gelerek yaralı kuşun yanına kondu ve gagası ile getirdiği yiyeceği onun ağzına bıraktı. Bu durumu görünce ‘Bu kuşun rızkını veren Allah, nerede olursam olayım benim rızkımı da gönderir.’ diyerek kazanç peşinde koşmayı bıraktım ve kendimi tamamen ibadete verdim.” İbrahim “Peki sen neden o kanadı kırık kuş gibi değil de ona yiyecek taşıyan sağlam kuş gibi davranmayı tercih etmiyorsun? Hz. Peygamber’in - - - - - hadisini duymadın mı?” diyerek onu uyardı.

Metindeki boş bırakılan yere aşağıdaki hadislerden hangisi getirilmelidir?

- A) Veren el, alan elden üstündür.
 B) Bir şey isteyeceğin zaman Allah’tan iste.
 C) Komşusu açken tok yatan bizden değildir.
 D) Bir iyiliğe öncülük eden kimse o iyiliği yapmış gibidir.

6. Hz. Yakup, "Oğullarım! (Şehre) hepiniz bir kapıdan girmeyin, ayrı ayrı kapılardan girin. Ama Allah'tan gelecek hiçbir şeyi sizden uzaklaştıramam. Hüküm Allah'tan başkasının değildir. Ben yalnız O'na güvenip dayandım. Güvenecek olanlar yalnız O'na güvenip dayansınlar." dedi."

(Yûsuf suresi, 67. ayet)

Hz. Yakub'un bu öğüdüne uygun olan ilke aşağıdakilerden hangisidir?

- A) Can tehlikesi olan yerlere gidilmemelidir.
- B) Tedbir aldıktan sonra Allah'a güvenilmelidir.
- C) Her şehre birden çok giriş kapısı yapılmalıdır.
- D) Tehlikeden korunmak için tedbir almak yeterlidir.

7. • "Biz gökleri, yeri ve bunlar arasında bulunanları oyun ve eğlence olsun diye yaratmadık."

(Enbiyâ suresi, 16. ayet)

- "Göklerin ve yerin yaratılışında, gece ile gündüzün birbiri ardınca gelip gidişinde selim akıl sahipleri için elbette ibretler vardır."

(Âl-i İmrân suresi, 190. ayet)

Bu ayetlerden aşağıdaki yargıların hangisine ulaşamaz?

- A) Evrenin yaratıcısı Allah'tır.
- B) Yaratılan her şeyin bir sonu vardır.
- C) Kur'an, aklın kullanılmasını teşvik eder.
- D) Her varlık bir amaç doğrultusunda yaratılmıştır.

8. Yapılan araştırmalar, meyve ve sebzelerin besin değerlerinin geçmişten günümüze önemli bir düşüş gösterdiğini ortaya koymaktadır. Kimyasal atıklar sebebiyle toprağın verimsizleşmesi, tarım ilaçlarının bilinçsiz kullanımı, çabuk olgunlaşmasını sağlamak amacıyla sebze ve meyvelerde çeşitli hormonların kullanılması bu düşüşün nedenleri arasında sayılabilir. Bu durum, insanlığın bugünü ve yarını için büyük risk oluşturmaktadır.

Aşağıdaki ayetlerden hangisinin mesajı bu metinde anlatılanlarla örtüşmektedir?

- A) "Allah'ın size helal ve temiz olarak verdiği rızıklardan yiyin ve kendisine inanmakta olduğunuz Allah'a karşı gelmekten sakının."

(Mâide suresi, 88. ayet)

- B) "Biz gökleri, yeri ve ikisi arasındakileri ancak hak ile ve belirli bir süre için yarattık..."

(Ahkâf suresi 3. ayet)

- C) "İnsanların kendi işledikleri (kötülükler) sebebiyle karada ve denizde düzen bozuldu. Dönmeleri için Allah, yaptıklarının bazı (kötü) sonuçlarını (dünyada) onlara tattıracaktır."

(Rûm suresi, 41. ayet)

- D) "Size tohumlar, bitkiler, sarmaş dolaş olmuş bağlar, bahçeler yetiştirmeniz için yağmur yüklü bulutlardan bol yağmur indirdik."

(Nebe' suresi, 14-16. ayetler)

9. İnsan; rızkını kazanmak için, Allah'ın koyduğu yasalar çerçevesinde çalışıp çabalar. Karşısına çıkan imkânları değerlendirir, tercihlerde bulunur ve kendine uygun işi seçer. Allah da yaptığı işin gereklerini yerine getiren kişiye rızkını verir.

Bu metinde anlatılanlar aşağıdakilerden hangisiyle ilişkilendirilemez?

- A) Kader B) Ecel C) İrade D) Emek

10. • "Kim iyi bir iş yaparsa kendi lehinedir. Kim de kötülük yaparsa kendi aleyhinedir..."
(Kehf suresi, 29. ayet)
- "Andolsun, size içinde sizin için öğüt bulunan bir kitap indirdik. Hâlâ aklınızı kullanmayacak mısınız?"
(Enbiyâ suresi, 10. ayet)

Bu ayetlerden insan ile ilgili;

- I. Tercihlerinde özgürdür.
II. Eylemlerinden sorumludur.
III. Düşünebilme yeteneğine sahiptir.

yargılarından hangilerine ulaşılabilir?

- A) Yalnız I. B) I ve II. C) II ve III. D) I, II ve III.

11. "Allah, kendisinden başka hiçbir ilah olmayandır; diridir, her şeyin varlığı O'na bağlı ve dayalıdır. Ne uykusu gelir ne de uyur. Göklerde ve yerde ne varsa hepsi O'nundur. O'nun izni olmadıkça katında hiçbir kimse şefaât edemez. Onların önlerinde ve arkalarında olanları O bilir. O'nun bildirdiklerinin dışında insanlar O'nun ilminden hiçbir şeyi tam olarak bilemezler..."

(Bakara suresi, 255. ayet)

Ayet'el-Kürsi'nin Türkçe mealindeki altı çizili bölümler Allah'ın isimleriyle eşleştirildiğinde aşağıdakilerden hangisi dışta kalır?

- A) Rezzak B) Hayy C) Alîm D) Kayyum

12. Ahmet Bey, tarımsal üretimi etkileyen faktörleri dikkate alarak; tarımın bilinçli yapılması konusunda çevresindeki çiftçilere örnek oldu. O, üretime başlamadan önce toprak analizi yaptırdı. Çıkan sonuçlara göre, tarlalarında hangi sebzeleri yetiştirmenin daha uygun olacağı konusunda uzmanlara danıştı. Aldığı tavsiyelerden hareketle tarlalarına uygun sebzeleri ekti ve gerekli bakımları yaptı. Bol ve kaliteli ürün alabilmek için Allah'a dua etti. Hasat mevsimi geldiğinde hem verim hem de kalite açısından iyi bir sonuç elde etti.

Metinde anlatılanlar aşağıdaki kavramlardan hangisi ile ilişkilendirilemez?

- A) Rızık B) Emek C) Şükür D) Tevekkül

13. "O, karanlığı yarıp sabahı çıkarandır. Geceyi dinlenme zamanı, Güneş'i ve Ay'ı da ince birer hesap ölçüsü kıldı. Bütün bunlar mutlak güç sahibinin, hakkıyla bilen takdiridir."

(En'âm suresi, 96. ayet)

Bu ayetteki altı çizili cümleyi karşılayan kavram aşağıdakilerden hangisidir?

- A) Kaza B) Kader C) Tevekkül D) Cüzî irade

14.



11 MİLYON AĞAÇ

BUGÜN FİDAN YARIN NEFES

Ülkemizde ağaç sevgisini geliştirmek, toplumun çevreye olan duyarlılığını artırmak, biyoçeşitliliği korumak ve yok olan ormanların geri kazanılmasını sağlamak amacıyla Tarım ve Orman Bakanlığı tarafından bir kampanya başlatıldı. "11 Milyon Ağaç, Bugün Fidan Yarın Nefes" sloganıyla başlatılan bu kampanya kapsamında tüm Türkiye'de eş zamanlı olarak çok sayıda fidan dikimi gerçekleştirildi. Kampanyaya; öğrencilerden askerî birliklere, sivil toplum kuruluşlarından kamu kurum ve kuruluşlarına, esnafından işçisine toplumun bütün kesimleri yoğun ilgi gösterdi.

Bu metinde sözü edilen etkinlik aşağıdaki ayet veya hadislerden hangisi ile ilişkilendirilemez?

- A) "Göğü Allah yükseltti ve mizanı (dengeyi) o koydu. Sakın dengeyi bozmayın." (Rahmân suresi, 7 ve 8. ayetler)
- B) "Allah size emanetleri mutlaka ehline vermenizi ve insanlar arasında hükmettiğiniz zaman adaletle hükmetmenizi emrediyor." (Nisâ suresi, 58. ayet)
- C) "Bir kimse ağaç diker de o ağacın meyvesinden bir insan veya Allah'ın mahlûkatından herhangi bir varlık yerse bu, o ağacı diken kimse için sadaka olur." (Hadis-i şerif)
- D) "Kıyametin kopacağını bilseniz bile elinizdeki fidanı dikiş." (Hadis-i şerif)

15. • “Ölçtüğünüz zaman tastamam ölçün ve doğru terazi ile tartın. Bu, hem daha iyidir hem de neticesi bakımından daha güzeldir.”

(İsrâ suresi, 35. ayet)

- “Ey iman edenler! Karşılıklı rızaya dayanan ticaret hâli müstesna, mallarınızı bâtıl (haksız ve haram yollar) ile aranızda yemeyin...”

(Nisâ suresi, 29. ayet)

Bu ayetler, evrendeki;

- I. biyolojik,
- II. toplumsal,
- III. fiziksel

yasalardan hangileriyle ilgilidir?

- A) Yalnız I. B) Yalnız II. C) I ve III. D) II ve III.

16. Allah insana, iyiyi kötünden ayırt edebilmesi için akıl ve düşünme yeteneği vermiştir. Ayrıca kitaplar ve peygamberler göndererek doğru ile yanlış bildirmiş ancak onu seçimlerinde serbest bırakmıştır. Dolayısıyla insan herhangi bir işi yapıp yapmamaya kendi iradesiyle karar verir ve tercihleri sonucunda yaptığı davranışın sorumluluğu da kendisine aittir.

Aşağıdaki ayetlerden hangisi bu metinde anlatılanlarla ilişkilendirilemez?

- A) “Şüphesiz biz her şeyi bir ölçüye göre yarattık.”

(Kamer suresi, 49. ayet)

- B) “Dinde zorlama yoktur. Artık doğrulukla eğrilik birbirinden ayrılmıştır...”

(Bakara suresi, 256. ayet)

- C) “De ki: “Hak, Rabb’inizdendir. Artık dileyen iman etsin, dileyen inkâr etsin.”

(Kehf suresi, 29. ayet)

- D) “Şüphesiz biz ona yolu gösterdik. İster şükredici olsun ister nankör.”

(İnsan suresi, 3. ayet)

17. “Tevekkül,” terim olarak insanın bir konuda üzerine düşen her şeyi yapıp sonucu Allah’a bırakmasıdır. Tevekkül eden kişi ortaya çıkacak durum beklentilerini karşılamadığında bile yeni kapıların açılacağı konusunda umudunu yitirmez ve Allah ile bağını güçlü tutar.

Bu metne göre aşağıdaki ayetlerin hangisinde “tevekkül”den söz edilmektedir?

- A) “Başınıza her ne musibet gelirse, kendi yaptıklarınız yüzündendir. O, yine de çoğunu affeder..”

(Şûra suresi, 30. ayet)

- B) “Göklerde, yerde ne varsa hepsini Allah’ın sizin hizmetinize verdiğini ve açıkça yahut gizlice üzerinizdeki nimetlerini tamamladığını görmediniz mi?...”

(Lokmân suresi 20. ayet)

- C) “Artık kim zerre ağırlığınca bir hayır işlerse onun mükâfatını görecektir. Kim de zerre ağırlığınca bir kötülük işlerse onun cezasını görecektir.”

(Zilzâl suresi, 7 ve 8. ayetler)

- D) “...Kararını verdiğin zaman da artık Allah’a dayanıp güven. Çünkü Allah, kendisine dayanıp güvenenleri sever.”

(Âl-i İmrân suresi, 159. ayet)

18. "Şüphesiz biz ona (doğru) yolu gösterdik. İster şükredici olsun ister nankör."

(İnsan suresi, 3. ayet)

Bu ayette, aşağıdaki kavramlardan hangisine vurgu yapılmıştır?

- A) Emek B) Tevekkül C) Özgürlük D) Ömür

19. Fiziksel yasalar; madde ve enerjinin oluşumu, değişimi, hareketi ve maddeler arası ilişkilerle ilgili yasalardır. Bunlara "doğa yasaları" da denir. Bu yasalar gözlenebilir olgu ve durumlar arasındaki sebep sonuç ilişkilerini gösterir.

Buna göre aşağıdakilerden hangisi fiziksel yasalar kapsamında değerlendirilir?

- A) Dere yatağına yapılan evlerin sel sebebiyle zarar görmesi
B) Adalet ve eşitliğin olmadığı toplumlarda kargaşa yaşanması
C) Sağlığına dikkat eden toplumların yaşam süresinin uzun olması
D) Savaş bölgelerindeki insanların daha güvenli yerlere göç etmesi

20. Aşağıda Allah'ın bazı sıfatları verilmiştir:

- İlim: Allah'ın her şeyi bilmesi
- Kudret: Allah'ın her şeye gücünün yetmesi
- İrade: Allah'ın istediğini istediği gibi dilemesi ve seçmesi

Buna göre;

"O, karanlığı yarıp sabahı çıkarandır. Geceyi dinlenme zamanı, Güneş'i ve Ay'ı da ince birer hesap ölçüsü kıldı. Bütün bunlar mutlak güç sahibinin, hakkıyla bilen takdiridir."

(En'âm suresi, 96. ayet)

ayeti Allah'ın;

- I. İlim,
- II. İrade,
- III. Kudret

sıfatlarından hangileriyle ilişkilendirilebilir?

- A) Yalnız I. B) I ve II. C) II ve III. D) I, II ve III.

21. Üflelemeli çalgılarımızdan biri olan ney, kargı kamışından yapılır. Ülkemizin sadece belli bölgelerinde yetişen bu kamışlardan ney olmaya uygun olanlar seçilerek kesilir ve kurumaya bırakılır. Kamışların düz olması önemlidir. Bundan dolayı eğriliği bulunan kamışlar doğru kamışlara bağlanarak işleme tabi tutulur ve sonunda onların da düzeldiği görülür. İnsanlar da böyledir. İyilerle, doğrularla vakit geçirdikçe eğrilikleri, hataları düzelir.

Bu metindeki altı çizili bölüm, evrendeki;

- I. toplumsal,
- II. biyolojik,
- III. fiziksel

yasalardan hangilerine örnek oluşturur?

- A) Yalnız I. B) I ve II. C) II ve III. D) I, II ve III.

22. "... Yapmakta olduğunuz şeylerden mutlaka sorguya çekileceksiniz."

(Nahl suresi, 93. ayet)

"Şüphesiz biz ona doğru yolu gösterdik. İster şükredici olsun ister nankör."

(İnsân suresi, 3. ayet)

"Bir şeyi dilediği zaman, O'nun emri o şeye ancak "Ol!" demektir. O da hemen olurur."

(Yâsin suresi, 82. ayet)

"... Şüphesiz Allah istediği hükmü verir."

(Mâide suresi, 1. ayet)

Verilen ayetler aşağıdaki kavramlardan hangisi ile ilişkilendirilemez?

A) Külli irade

B) Tevekkül

C) Sorumluluk

D) Cüz'i irade

23. Toplumsal yasalar, toplumun huzur ve barışını sağlamak, fertlerin güven içinde ve mutlu bir şekilde yaşamalarına ortam hazırlamak için konmuş kurallar, kalıcı değer ve ilkelerdir.

Buna göre aşağıdakilerden hangisi toplumsal yasalar kapsamında değerlendirilemez?

A) Kul hakkına riayet etmek

B) İhtiyaç sahiplerine yardım etmek

C) Akraba ve komşularla iyi ilişkiler kurmak

D) Evrenin işleyişi hakkında araştırma yapmak

24. İnsan, evrendeki biyolojik yasalara göre hayatını sürdürür. Onun sağlıklı olması, hastalanması, iyileşmesi ve ölümü de bu yasalar çerçevesinde gerçekleşir. İslam'da sağlığın korunması esas ilke olmasına rağmen insan bazen çeşitli sebeplerle sağlığını kaybedebilir. Bu durumda doktora başvurur, ilacını kullanır ve sonuçta şifayı Allah'tan bekler. Nitekim Hz. Peygamber (sav.), Ebu Huzâme isminde bir sahabenin "Biz, hastalıklardan korunmaya çalışıyoruz, dua ediyoruz ve tedavi oluyoruz. Bunlar kaderi değiştirir mi?" sorusuna, "Hastalıklardan korunmaya çalışmak, dua etmek ve hastalanınca tedavi olmak da kaderdir." diye cevap vermiştir. Bu durumda, bir kişinin sağlığı konusunda gerekli özeni göstermeyip bunu kadere yüklemesi İslam'a uygun bir tutum değildir.

Bu metinde aşağıdaki kavramlardan hangisine değinilmemiştir?

A) Adalet

B) İrade

C) Tevekkül

D) Sorumluluk

25. "İnsanoğlu kıyamet gününde şu beş şeyden hesaba çekilmedikçe Rabb'inin huzurundan bir yere kımıldayamaz: Ömrünü nerede ve nasıl tükettiğinden, gençliğini nerede geçirdiğinden, malını nereden kazanıp nereye harcadığından, bildiği ile amel edip etmediğinden."

Bu hadisi dikkate alan bir kişide,

I. Kazancının helal olmasına özen gösterme

II. Hayatını faydalı şeyler yaparak değerlendirme

III. Eylemlerinden sorumlu olduğu bilinciyle hareket etme

tutum ve davranışlarından hangilerinin gelişmesi beklenir?

A) Yalnız I.

B) I ve II.

C) II ve III.

D) I, II ve III.

26. Kaza, Allah'ın ezelde takdir ettiği şeyleri yeri ve zamanı gelince ilim, irade ve takdirine uygun olarak yaratmasıdır.

Buna göre aşağıdaki cümlelerden hangisi "kaza" kapsamında değerlendirilir?

- A) Baharın gelişyle birlikte ağaçlar çiçek açtı.
- B) Sağlıklı yaşamak istiyorsan spor yapmalısın.
- C) Akıl, insanı diğer varlıklardan ayıran en önemli özelliktir.
- D) Erozyonu önlemek için ağaçlandırmaya önem verilmelidir.

27. Mehmet Akif Ersoy,

- I. 20 Aralık 1873'te İstanbul'da doğdu.
- II. Vatanını ve milletini çok seven bir şairdir.
- III. Halkalı Baytar Mektebinden birincilikle mezun oldu.
- IV. Yazmış olduğu İstiklal Marşı'nı Türk milletine armağan etti.

Mehmet Akif Ersoy'la ilgili numaralanmış cümlelerden hangisi cüzi irade kapsamında değerlendirilmez?

- A) I.
- B) II.
- C) III.
- D) IV.

28.

Buzdolabının icat edilmediği dönemlerde dağların doruklarından buza dönüşen kar parçaları kesilir ve pazarlarda satılmış. Adamın biri bir gün dağlardan bulup getirdiği buzları satmaya çalışmış ancak pek müşteri çıkmamış. Buz parçaları öğleye doğru erimeye başlayınca endişelenen adam "Sermayesi eriyip giden bu adama acıyın, merhamet edin; bu fakirden buz alan yok mu?" diye bağırmaya başlamış. O sırada öğrencileriyle oradan geçmekte olan bir âlim, öğrencilerine dönerek şöyle demiş: "Buzlarını satmaya çalışan adamın sözlerine dikkat edin. Eriyip giden; aslında sadece buzlar değil, en kıymetli sermayemiz olan zamandır. Zamanın boşu boşuna akıp gitmesine endişe etmeyen ziyandadır."

Bu metinde önemi vurgulanan kavram aşağıdakilerden hangisidir?

- A) Yardımlaşma
- B) Ömür
- C) Rızık
- D) Tevekkül



8. SINIF

DİN KÜLTÜRÜ VE AHLAK BİLGİSİ

2. Ünite

1. "Gördün mü, o hesap ve ceza gününü yalanlayan! İşte o, yetimi itip kakan, yoksula yedirmeyi özendirmeyen kimsedir. Yazıklar olsun o namaz kılanlara ki onlar namazlarını ciddiye almazlar. Onlar gösteriş yaparlar. Ufacık bir yardıma bile engel olurlar."

(Mâûn suresi, 1-7. ayetler)

Aşağıdakilerden hangisi bu ayetlerde eleştirilen tutumlardan biri değildir?

- A) Bencillik B) Karamsarlık C) Kibirlenmek D) Riyakârlık

2. "Sadakalar (zekât gelirleri) ancak şunlar içindir: Yoksullar, düşkünler, sadakaların toplanmasında görevli olanlar, kalpleri kazanılacak olanlar, azat edilecek köleler, borçlular, Allah yolunda (çalışanlar) ve yolda kalmışlar. İşte Allah'ın kesin buyruğu budur. Allah bilmekte ve hikmetle yönetmektedir."

(Tevbe suresi, 60. ayet)

Bu ayet aşağıdaki sorulardan hangisinin cevabıdır?

- A) Kimler zekâtı verir?
B) Zekât kimlere verilir?
C) Nelerden zekât verilir?
D) Zekât ne zaman verilir?

3. **Aşağıdaki hadislerin hangisinde sadakanın faydası vurgulanmaktadır?**

- A) Güzel söz sadakadır.
B) Sağ elin verdiğini sol el bilmemelidir.
C) Sadakanın en hayırlısı ihtiyaç fazlası maldan verilir.
D) Su, ateşi söndürdüğü gibi sadaka da kötülükleri söndürür.

4. "Bir hurmanın yarısı da olsa onu sadaka olarak vererek ateşten korunun! Kim yarım hurma bulamazsa güzel bir sözle korunsun!"

Bu hadisten aşağıdakilerden hangisine ulaşamaz?

- A) İslam dini yardımlaşmaya çok önem verir.
B) Yardımların gizli yapılması daha doğru olur.
C) Yapılan iyilikten, iyilik yapan kişi de fayda görür.
D) İnsandan gücü oranında yardım etmesi beklenir.

5. "Bir insan öldüğünde şu üç şey dışında amel defteri kapanır: Kalıcı hayır işleri, faydalanılan ilim ve kendisine dua eden hayırlı evlat."

Hadisteki altı çizili bölüm aşağıdaki kavramlardan hangisiyle ifade edilir?

- A) Sadaka-i fitr B) Sadaka-i cariye C) İnfak D) Zekât

6. • Bazı ibadetleri yerine getirebilmek için gerekli zenginlik ölçüsüdür.
• Zenginlerin yılda bir kez mallarının belli miktarını vererek yaptıkları ibadettir.
• Gücü yetenlerin ramazan ayının sonuna kadar vermekle yükümlü oldukları sadakadır.

Bu cümlelerde aşağıdakilerden hangisinin tanımına yer verilmemiştir?

- A) Fitre B) Fidye C) Nisap D) Zekât

7. "Öyleyse yetimi sakın ezme. El açıp isteyen de sakın azarlama ve Rabb'inin nimetini minnet ve şükranla an."
(Duhâ suresi, 9-11. ayetler)

Bu ayetlerden aşağıdakilerin hangisi çıkarılamaz?

- A) İhtiyaç sahiplerinin onuru korunmalıdır.
B) Güçsüzlere haksızlık etmekten kaçınılmalıdır.
C) Allah'ın verdiği nimetlere teşekkür edilmelidir.
D) Yardımlaşmaya, en yakın akrabadan başlanmalıdır.

8. Yalnızca Allah rızasını gözeterek, karşılık beklemezsizin bir kişinin yapmış olduğu her türlü maddi veya manevi iyiliğe sadaka denir.

Buna göre aşağıdakilerden hangisi sadaka kapsamında değerlendirilemez?

- A) Hastaları ziyaret etmek
B) Otobüste yaşlılara yer vermek
C) İşçilerin maaşını vaktinde ödemek
D) Sokak hayvanlarına yiyecek vermek

9. Semih Bey'in 100 gr altını bulunmaktadır. Bu malın zekâtını, ihtiyaç sahibi komşusuna 1/50 (%2) oranında vermiştir.

Buna göre Semih Bey, zekât ile ilgili aşağıdakilerden hangisinde yanlışlık yapmıştır?

- A) Zekât verdiği malın cinsinde
- B) Zekât verdiği oranda
- C) Zekât verdiği kişide
- D) Nisap miktarında

10. Osmanlı ve Selçuklu Dönemi'nde şehirlerin belirli noktalarına konan "sadaka taşları", İslam dininin insanlar arasındaki gelir eşitsizliğini gidermek amacıyla emrettiği yardımlaşmanın büyük bir incelikle yerine getirilmesini sağlıyordu. Cami avlularının en kuytu köşesine konan silindirik şeklindeki bu taşın üst kısmında küçük bir oyuk bulunurdu. İmkânı olan insanlar, bu oyuya bıraktıkları sadakalarla yoksullara, onları rencide etmeden el uzatıyordu.

Bu metinde sözü edilen gelenek aşağıdaki hadislerden hangisinin mesajıyla örtüşmektedir?

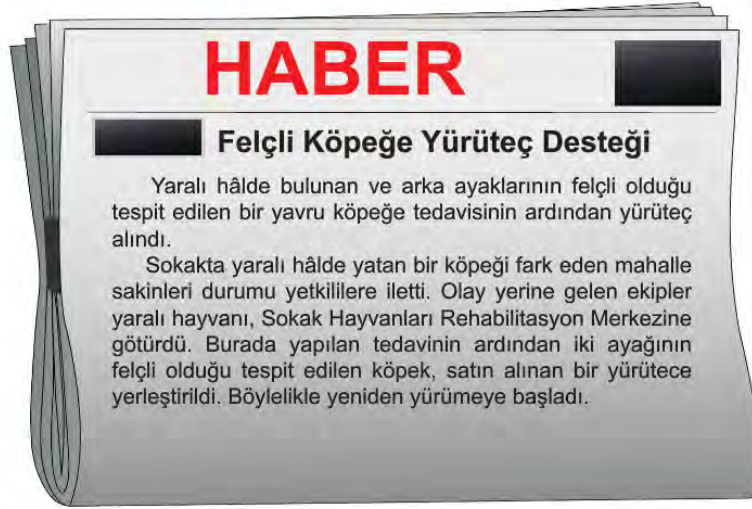
- A) Sadaka, malı bereketlendirir.
- B) Sağ elin verdiğini sol el görmesin.
- C) Rızkının bol olmasını isteyen sadaka versin.
- D) Sadaka, suyun ateşi söndürdüğü gibi hataları yok eder.

11. Meyve ağaçlarının budanma zamanıydı. Babasına yardım eden Ömer, merakla sordu: "Baba! Dalları neden kesiyorsun, yazık değil mi?" Baba, oğluna gülümseyerek şöyle dedi: "Budama işlemi, ağaçlarımızın daha iyi gelişmesi ve verimini artırması için kullandığımız bir yöntemdir. Şöyle ki kestiğimiz yerlerden yeni dallar çıkar, zamanla büyür ve gürleşir. Bu sayede ağaçlarımızdan daha çok ürün alabiliriz."

Bu metne göre budama işleminin faydaları ile zekât ibadetinin aşağıdaki sonuçlarından hangisi benzeşmektedir?

- A) Malı bereketlendirmesi
- B) İnsanın iç huzurunu artırması
- C) Toplumsal barışa katkı sağlaması
- D) Toplumdaki gelir dağılımını dengelemesi

12.



Bu haberin konusu aşağıdaki kavramlardan hangisine örnek oluşturur?

- A) Sadaka B) Zekât C) Fitre D) Fidyе

13. Aşağıdaki tabloda "zekât"la ilgili bazı bilgilere yer verilmiştir.

?	?	?
Zengin olan her Müslüman	• Altın, gümüş • Nakit para ve menkul değerler • Ticaret malları	1/40 yani %2.5
	• Koyun ve keçi	40'tan 120'ye kadar bir koyun, 121'den 200'e kadar iki koyun
	• Sığır ve manda	1/30 30'dan 40'a kadar bir tane 2 yaşında buzağı, 41'den 59'a kadar bir tane 3 yaşına basmış buzağı
	• Deve	Her beş deve için bir koyun veya keçi
	• Toprak ürünleri	1/10 yani %10
	• Madenler	1/5 yani %20
		• Yoksullar • Düşkünler • Borçlular • Yolda kalmış yolcular • Özgürlüğünü yitirmiş olanlar • Kalbi, İslam'a ısındırılmak istenen kişiler • Allah yolunda çalışanlar • Zekât memurları

Aşağıdaki sorulardan hangisi bu tabloda "?" ile gösterilen bölümlerden herhangi birine getirilemez?

- A) Kimlere verilir?
B) Kimlere farzdır?
C) Ne kadar verilir?
D) Nelerden verilmez?

14. "Ey kavmim! Allah'a kulluk edin. Sizin O'ndan başka ilahınız yoktur. Ölçüyü ve tartıyı eksik yapmayın. Ben sizi bolluk içinde görüyorum. Ben sizin adınıza kuşatıcı bir günün azabından korkuyorum..."

(Hûd suresi, 84. ayet)

Hız. Şuayb'ın halkına seslenişini içeren bu ayet:

- I. tevhit,
- II. tevekkül,
- III. dürüstlük

kavramlarından hangileriyle ilişkilendirilebilir?

- A) Yalnız I. B) Yalnız II. C) I ve III. D) II ve III.

15. Bu sabah sağa sola kayarak ilerleyen bir otomobil geçti yanımızdan. O an yüreğimiz ağzımıza geldi âdeta. Yolun buzlu olması nedeniyle hâkimiyetini kaybeden sürücü, kaldırıma çarparak durabildi. O esnada yolda başka bir araç veya yayanın olmaması muhtemel bir kazayı önledi. Hemen kaza yapan aracın yanına gittik. Neyse ki sürücünün durumu iyiydi. Babam sürücüye "Geçmiş olsun, verilmiş sadakanız varmış." dedi.

Aşağıdaki hadislerden hangisi bu metindeki altı çizili sözle anlamca aynı doğrultudadır?

- A) "Az sadaka, çok belayı önler."
- B) "Her iyilik ve güzel iş bir sadakadır."
- C) "Sadaka vererek rızkınızı bollaştırın."
- D) "Yoldaki rahatsızlık veren şeyi kaldırmak sadakadır."

16. Hız. Ömer, aldığı bir arazi için "Ömrüm boyunca böyle güzel ve kıymetli araziye sahip olmamıştım." diyerek ona verdiği değeri belirtmiş ve daha sonra bu arazinin gelirini ihtiyaç sahiplerine bırakmıştır.

Hız. Ömer'in bu davranışı aşağıdaki ayetlerden hangisinde verilmek istenen mesajla örtüşmektedir?

- A) "Ey iman edenler! Allah'a ve ahiret gününe inanmadığı halde insanlara gösteriş olsun diye malını harcayan kimse gibi sadakalarınızı başa kakmak ve gönül kırmak suretiyle boşa çıkarmayın..."
(Bakara suresi, 264. ayet.)
- B) "Allah o su ile size; ekin, zeytin, hurma ağaçları, üzüm ve her türlü meyvelerden bitirir. Elbette bunda düşünen bir kavim için bir ibret vardır."
(Nahl suresi, 11. ayet)
- C) "Sevdiğiniz şeylerden Allah yolunda harcamadıkça gerçek iyiliğe asla erişemezsiniz..."
(Âl-i İmrân suresi, 92. ayet)
- D) "Öyleyse sakın yetimi ezme! El açıp isteyeniyi de sakın azarlama!"
(Duhâ suresi, 9 ve 10. ayetler)

17.



Kahramanmaraş'ın Elbistan ilçesinde hayırsever bir vatandaş, bir bakkala girerek ihtiyaç sahibi ailelerin, veresiye defterindeki borçlarını ödedi ve bu ailelere verilmek üzere birer torba un parası bıraktı. Bakkal sahibi, olayla ilgili şunları anlattı: "Genç bir adam bakkala geldi ve borcunu ödemekte zorlanan müşterimin olup olmadığını sordu. Söylediğim kişilerin borçlarını hesaplatıp ödedi. Kim olduğunu sorduğumda ise 'Sağ elin verdiğini sol el bilmemelidir.' hadisini hatırlatarak ismini söylemekten kaçındı."

Metindeki yardımlaşma şeklinin;

- I. İhtiyaç sahipleri tespit edilmelidir.
- II. Yardım edilen kimselerin onuru zedelenmemelidir.
- III. Yardım etmeye akraba ve yakınardan başlanmalıdır.

İlkelerinden hangileriyle ilgili olduğu söylenebilir?

- A) Yalnız I. B) I ve II. C) II ve III. D) I, II ve III.

18. Bir hükümdar, arkadaşlarıyla birlikte gezmeye çıkmıştı. Yolu üzerindeki bir köyde çok yaşlı bir adamın, tarlasına fidan dikmekle meşgul olduğunu gördü, gayretini takdir etti ve yanına gidip şöyle dedi:

– Baba, sen ne diye fidan dikmeye uğraşıyorsun? Maşallah yaşını yaşamışsın, bu diktiğin fidanların meyvesinden belki de yiyemeyeceksin!

İhtiyar şöyle cevap verdi:

– Diktiğim fidanların meyvesini benim yemem şart değil, evlat! Biz nasıl bizden öncekilerin diktiği fidanların meyvesinden yiyorsak bizim diktiğimiz fidanların meyvesini de bizden sonrakiler yer.

Bu metindeki yaşlı adamın davranışı, aşağıdaki kavramlardan hangisinin kapsamında değerlendirilir?

- A) Sadaka-i cariye B) Fıtır sadakası C) Zekât D) Fidyeye

19. Aşağıda verilen ayetlerden hangisi zekâtın kimlere, nasıl veya nelerden verilmesi gerektiği ile ilgili bilgi içermez?

- A) "Sadakalar (zekâtlar)... ancak fakirler, düşkünler, zekât toplayan memurlar, kalpleri İslâm'a ısındırılacak olanlarla (özgürlüğüne kavuşturulacak) köleler, borçlular, Allah yolunda cihat edenler ve yolda kalmış yolcular içindir..."
(Tevbe suresi, 60. ayet)
- B) "Mallarını Allah yolunda harcayan, sonra da harcadıklarının peşinden (bunları) başa kakmayan ve gönül incitmeyenlerin, Rabb'leri katında mükâfatları vardır. Onlar için korku yoktur. Onlar üzülmeyeceklerdir de."
(Bakara suresi, 262. ayet)
- C) "Mallarını Allah yolunda harcayanların durumu, yedi başak bitiren ve her başakta yüz tane bulunan bir tohum gibidir. Allah dilediğine kat kat verir. Allah lütfu geniş olandır, hakkıyla bilendir."
(Bakara suresi, 261. ayet)
- D) "Ey iman edenler! Kazandıklarınızın iyilerinden ve rızık olarak yerden size çıkardıklarımızdan hayra harcayın. Size verilse, gözünüzü yummadan alamayacağınız kötü malı, hayır diye vermeye kalkışmayın..."
(Bakara suresi, 267. ayet)

20. İslam dininin beş temel şartından biri olan zekâtın; kimler tarafından, nelerden, ne kadar, kimlere ve nasıl verileceği Kur'an-ı Kerim'de belirtilmiştir.

Bu cümleden hareketle, zekâtla ilgili,

- I. Farz bir ibadettir.
- II. Sistemli bir yardımlaşma şeklidir.
- III. Malın bereketlenmesine sebep olur.

yargılarından hangilerine ulaşılabilir?

- A) Yalnız I. B) I ve II. C) II ve III. D) I, II ve III.

21. "Kim bir Müslüman'ın sıkıntılarında birini giderirse Allah da onun kıyamet günündeki sıkıntılarından birini giderir. Kim darda kalan bir kimsenin işini kolaylaştırırsa Allah da dünya ve ahirette onun işlerini kolaylaştırır. Kim bir Müslüman'ın ayıbını örterse Allah da dünya ve ahirette onun ayıplarını örter. Kul, kardeşine yardım ettiği sürece Allah da onun yardımcı olur."

Bu hadiste aşağıdakilerden hangisinin önemine vurgu yapılmıştır?

- A) İbadet etmenin
- B) Dünya ve ahiret ilişkisinin
- C) Yardımlaşma ve dayanışmanın
- D) Birey ve toplum arasındaki iletişimin

22. İslam dininde yardımlaşma, insanların maddi ve manevi hayatını kapsayacak şekilde, en geniş sınırları ile ele alınmıştır. Ayrıca yardım edilen insanların incitilmemesi ve onurunun korunması da çok önemsenmiştir. Bu konuyla ilgili Kur'an-ı Kerim'de şöyle buyrulur:

"Allah yolunda, sevdiğiniz şeylerden infak etmedikçe asla iyiliğe eremezsiniz..."

(Âl-i İmrân suresi, 92. ayet)

"Sadakaları açıktan verirsiniz ne güzel! Fakat onları gizleyerek fakirlere verirsiniz bu sizin için daha hayırlıdır ve günahlarınızdan bir kısmına da kefarettir..."

(Bakara suresi, 271. ayet)

Aşağıdakilerden hangisi bu metinde vurgulanmak istenen düşünceye ters düşer?

- A) Verilen malın iyi olmasına dikkat edilmesi
- B) Yardım yapılırken Allah rızasının hedeflenmesi
- C) Yardım yapılan kimselerin sosyal medyada paylaşılması
- D) İhtiyaç sahiplerinin belirlenmesi için araştırma yapılması

23. Sadaka-i cariyeye; insana, öldükten sonra da sevap kazandıran amellerdir. Hz. Muhammed (sav.) bu konuda şöyle buyurmuştur: "Bir insan öldüğünde şu üç şey dışında amel defteri kapanır: Kalıcı hayır işleri, faydalanılan ilim ve kendisine dua eden hayırlı evlat."

Buna göre, salgın hastalık yaşanan bir toplumda aşağıdakilerden hangisini yapmak sadaka-i cariyeye kapsamında değerlendirilir?

- A) Hastalığa karşı ilaç geliştirmek
- B) Hastaların iyileşmesi için dua etmek
- C) İhtiyaç sahiplerine gıda yardımı yapmak
- D) Devletçe alınan tedbir ve kararlara uymak

24. Kadir Sami Bey; ihtiyaç sahibi kimselere, sahip olduğu mallardan 1/40 (%2,5) oranında vererek zekât ibadetini yerine getirmiştir.

Buna göre aşağıdakilerden hangisi Kadir Sami Bey'in, zekâtını verdiği mallardan biri olamaz?

- A) Altın
- B) Para
- C) Koyun
- D) Buğday

25. • "Bir mümin, aç bir mümini doyurursa Allah da o kimseyi cennet meyveleriyle doyuracaktır."
 • "İki kişinin arasını düzeltmen sadakadır. Yoldaki rahatsızlık veren bir şeyi kaldırmak da sadakadır."
 • "Bir kimse ağaç diker de o ağacın meyvesinden bir insan veya hayvan yerse bu, o ağacı diken kimse için sadaka olur."

Bu hadislerden hareketle,

- I. Sadaka, kapsamlı bir yardımlaşma şeklidir.
 II. İslam dini yardımlaşma ve dayanışmayı teşvik eder.
 III. Yardımlaşmada, gösterişten kaçınılması esastır.

İfadelerinden hangilerine ulaşılabilir?

- A) Yalnız I. B) I ve II. C) II ve III. D) I, II ve III.

26. **H. Muhammed'in (sav.) "Sağ elin verdiğini sol el görmesin." sözü ile aşağıdaki ayetlerden hangisi anlamca örtüşür?**

- A) "Öyleyse yetimi sakın ezme. El açıp isteyen de sakın azarlama ve Rabb'inin nimetini minnet ve şükranla an."
 (Duhâ suresi, 9-11. ayetler)
 B) "Sevdiğiniz şeylerden Allah yolunda harcamadıkça gerçek iyiliğe asla erişemezsiniz..."
 (Âl-i İmrân suresi, 92. ayet)
 C) "Ey iman edenler! Kazandıklarınızın iyilerinden ve rızık olarak yerden size çıkardıklarımızdan hayra harcayın. Size verilse gözünüzü yummadan alamayacağınız kötü malı, hayır diye vermeye kalkışmayın..."
 (Bakara suresi, 267. ayet)
 D) "Eğer sadakaları (zekât ve benzeri hayırları) açıktan verirsiniz ne âlâ! Eğer onu fakirlere gizlice verirsiniz işte bu sizin için daha hayırlıdır..."
 (Bakara suresi, 271. ayet)

27. "Gördün mü o hesap ve ceza gününü yalanlayan! İşte o; yetimi itip kakan, yoksula yedirmeyi özendirmeyen kimsedir. Yazıklar olsun o namaz kılanlara ki onlar namazlarını ciddiye almazlar. Onlar (namazlarıyla) gösteriş yaparlar. Ufacık bir yardıma bile engel olurlar."

(Ma'ûn suresi, 1-7. ayetler)

Aşağıdakilerden hangisi bu sureden çıkarılabilecek sonuçlardan biri değildir?

- A) Yetim hakları korunmalıdır.
 B) Fakirlere yardım edilmelidir.
 C) Ölçü ve tartıda hile yapmaktan kaçınılmalıdır.
 D) İbadetler sadece Allah rızası gözetilerek yapılmalıdır.



8. SINIF

DİN KÜLTÜRÜ VE AHLAK BİLGİSİ

3. Ünite

1. I. "Ey iman edenler! Mallarınızı birbirinize haksızlık ederek değil, karşılıklı rızaya dayalı ticaretle yiyin. ..."
(Nisâ suresi, 29. ayet)
- II. " ... Kim bir kimseyi öldürürse bütün insanları öldürmüş gibi olur. Kim de bir can kurtarırsa bütün insanların hayatını kurtarmış gibi olur..."
(Mâide suresi, 32. ayet)
- III. "Kim de bir mümini kasten öldürürse cezası, içinde devamlı kalmak üzere cehennemdir. ..."
(Nisâ suresi, 93. ayet)

Numaralanmış ayetlerden hangileri can güvenliği ile ilgilidir?

- A) Yalnız I. B) Yalnız II. C) I ve III. D) II ve III.

2. Hz. Muhammed bir keresinde, "Müflis kimdir, bilir misiniz?" diye sorar. Sahabe "Bizim aramızda müflis, parası ve eşyası olmayan kimsedir." diye karşılık verince şöyle buyurur: "Benim ümmetimden müflis o kimsedir ki kıyamet gününde namaz, oruç ve zekât gibi ibadetlerin sevabıyla gelmiş ancak şuna sövmüş, buna iftira bulunmuş, ötekinin malını yemiştir, berikinin kanını dökmüş, diğerini de dövmüştür. Bu nedenle, hesap gününde hakkına girdiği kimselere onun iyiliklerinden alınıp dağıtılır. Eğer yaptığı iyilikleri kötülüklerinin cezasını karşılamaya yetmezse hak sahiplerinin günahlarından alınarak onun üzerine yüklenir. Sonra da günahkâr bir kimse olarak cehenneme atılır. İşte asıl müflis bu kişidir."

Bu hadiste aşağıdakilerden hangisi vurgulanmaktadır?

- A) Yararsız işlerden kaçınma
B) Kul hakkından uzak durma
C) Hatalarından ders çıkarma
D) Bolluk ve darlıkta infak etme

3. • Telif hakkı, kişinin her türlü fikrî emeği ile meydana getirdiği ürünler üzerinde hukuken sağlanan haklardır.
• İslam'da bir insanın malını onun izni olmadan almak ve kullanmak günah sayılmış ve yasaklanmıştır.

Buna göre aşağıdaki ayet ve hadislerden hangisi "telif hakkı" ile ilişkilendirilemez?

- A) "Ey iman edenler! Birbirinizin mallarını batıl yollarla yemeyin. ..."
(Nisâ suresi, 29. ayet)
- B) "Hiç kimse kendi el emeğiyle kazandığından daha hayırlı bir lokma yememiştir..."
(Hadis-i şerif)
- C) "Kim Allah için elindekinden verir ve sakınıp O'nu tasdik ederse, biz onun işlerini kolaylaştırır, onu başarılı kılarız."
(Leyl suresi, 5-7. ayetler)
- D) "... İnsanların mallarını haksız yere yemeleri sebebiyle önceden kendilerine helal kılınmış temiz ve hoş şeyleri onlara haram kıldık."
(Nisâ suresi, 160. ayet)

4. Aşağıdaki tutum ve davranışlardan hangisi İslam'da yer alan "canın korunması" ilkesi ile ilişkilidir?

- A) İş güvenliğini sağlayıcı tedbirlerin alınması
- B) Aile bireylerinin hak ve hukukunun gözetilmesi
- C) İnsanlar arasında yardımlaşma bilincinin geliştirilmesi
- D) Hile, rüşvet gibi haksız kazanç yollarının yasaklanması

5. I. Akraba ve komşularla iyi ilişkiler kurulması
 II. Yardımlaşma ve dayanışma içinde olunması
 III. İnsanlar arasında adalet ve barışın tesis edilmesi
 IV. Evrenin işleyişinin incelenip bundan sonuçlar çıkarılması

Numaralanmış ifadelerden hangileri dinin toplumla ilgili tavsiyeleri kapsamında değerlendirilir?

- A) II ve III. B) III ve IV. C) I, II ve III. D) I, II, III ve IV.

6. Ey iman edenler! İçki, kumar, dikili taşlar ve fal okları şeytan işi, iğrenç şeylerdir. Bunlardan kaçının ki kurtuluşa eresiniz.
 (Mâide suresi, 90. ayet)

Bu ayet, İslam'ın;

- I. malın,
- II. dinin,
- III. aklın

korunması ilkelerinden hangileriyle ilgili mesajlar içermektedir?

- A) I ve II. B) I ve III. C) II ve III. D) I, II ve III.

7. 2018'de hayata geçirilen "Turuncu Bayrak Uygulaması" ile otel ve restoranlardaki ihtiyaç fazlası yemeklerin değerlendirilmesi amaçlanmaktadır. Bu proje kapsamında gıdaların satın alma, üretim, tüketim, değerlendirme, ayrıştırma ve geri dönüşüm süreçleri düzenlenecek; ayrıca kurulacak Gıda Bankası aracılığıyla fazla yemekler ihtiyaç sahiplerine ulaştırılacaktır.

Bu uygulamanın amacı ile aşağıdaki ayetlerden hangisinin mesajı örtüşmektedir?

- A) "Ey iman edenler! Size verdiğimiz rızıkların temiz olanlarından yiyin ve Allah'a şükredin..."
 (Bakara suresi, 172. ayet)
- B) "Şüphesiz Rabb'in, dilediğine rızkı bol bol verir, dilediğine de kısar..."
 (İsrâ suresi, 30. ayet)
- C) "...Yiyiniz, içiniz fakat israf etmeyiniz. Çünkü Allah israf edenleri sevmez."
 (A'râf suresi, 31. ayet)
- D) "Ey iman edenler! Karşılıklı rızaya dayanan ticaret dışında birbirinizin malını haksızlıkla yemeyiniz..."
 (Nisâ suresi, 29. ayet)

8. İslam'da "malın korunması ilkesi" gereği - - - yasaklanmıştır.

Bu cümlede boş bırakılan yere aşağıdaki kavramlarından hangisi getirilemez?

- A) Hırsızlık B) İnfak C) Kumar D) İsrar

9. Hz. Peygamber, Allah'tan başkasından yardım alma gayesi güden her türlü batıl inanç ve hurafe ile mücadele etmiş ve Müslümanları bu konuda uyarmıştır. Örneğin insanların hastalıklardan kurtulmak amacıyla putlara kurban kesmelerini, kâhinlere danışmalarını ve sihir yapmalarını yasaklamıştır.

Bu yasaklar İslam'ın korunmasına önem verdiği temel haklardan hangisiyle doğrudan ilgilidir?

- A) mal B) nesil C) din D) can

10.



Bu afişte sözü edilen uygulama İslam dininin, korunmasına önem verdiği temel haklardan hangisiyle doğrudan ilgilidir?

- A) Mal B) Akıl C) Can D) Din

11. "Andolsun zamana ki insan gerçekten ziyan içindedir. Ancak iman edip de salih ameller işleyenler, birbirlerine hakkı tavsiye edenler, birbirlerine sabrı tavsiye edenler başka. (Onlar ziyanda değildir.)"

(Asr suresi)

Bu sureden,

- I. Kötülüklerden Allah'a sığınılmalıdır.
- II. İnanma ihtiyacı insanda doğuştan vardır.
- III. İnsanların başkalarına karşı sorumlulukları vardır.
- IV. İnsan zamanını iyi şeyler yaparak değerlendirmelidir.

yargılarından hangilerine ulaşılabilir?

- A) I ve II. B) I ve III. C) II ve IV. D) III ve IV.

12. İslam dini, sadece Allah'a kulluk etmeyi, ona güvenmeyi ve yalnız ondan yardım dilemeyi emreder. Türbe ve yatırlardan medet ummak, dileğin kabulü için ağaçlara bez bağlamak gibi akla ve mantığa uymayan, insanları dinin özünden uzaklaştıran yanlış anlayış ve inanışlardan uzak durulmasını ve dinin yalnızca Allah'a tahsis edilerek ibadet edilmesini öğütler. Bu durum Kur'an-ı Kerim'de şu şekilde ifade edilmiştir: - - -

Metindeki boşluğa anlam akışına göre aşağıdaki ayetlerden hangisi getirilmelidir?

- A) "De ki: 'Rabb'im adaletle davranmayı emretti.'..."
(Âraf suresi, 29. ayet)
- B) "... O hâlde sen de dini Allah'a has kılarak (ihlâs ile) kulluk et."
(Zümer suresi, 2. ayet)
- C) "Ey iman edenler, mallarınızı, sizden karşılıklı anlaşmadan (doğan) bir ticaretten başka haksız 'nedenler ve yollarla' (batılca) yemeyin."
(Nisâ suresi, 29. ayet)
- D) Eğer Allah'ın dünyada ve ahirette sizin üzerinizde fazlı ve rahmeti olmasaydı içine daldığınız dedikodudan dolayı size büyük bir azap dokunurdu.
(Nûr suresi, 14. ayet)

13. "And olsun zamana ki insan gerçekten ziyan içindedir. Ancak, iman edip de salih ameller işleyenler, birbirlerine hakkı ve sabrı tavsiye edenler başka. (Onlar ziyanda değildir.)"

(Asr suresi, 1-3. ayetler)

Aşağıdaki atasözlerinden hangisi bu surede vurgulanan ana düşünceyle ters düşer?

- A) İyilik eden iyilik bulur.
- B) Tatlı dil yılanı deliğinden çıkarır.
- C) Üzüm üzüme baka baka kararır.
- D) Bana dokunmayan yılan bin yaşasın.

14. Aşağıdaki kurum ve kuruluşlar bazı temel hakların korunması amacıyla kurulmuştur.

- I. Çocuk Destek Merkezleri
- II. Tüketici Mahkemeleri
- III. Hastaneler

Numaralanmış kurum ve kuruluşların korumayı amaçladığı temel haklar aşağıdakilerin hangisinde doğru eşleştirilmiştir?

	I	II	III
A)	Neslin Korunması	Canın Korunması	Malın Korunması
B)	Neslin Korunması	Malın Korunması	Canın Korunması
C)	Canın Korunması	Neslin Korunması	Malın Korunması
D)	Malın Korunması	Canın Korunması	Neslin Korunması

15. İslam dininde, bireyin dünya ve ahiret mutluluğunun sağlanması ve güvenli bir toplumun oluşturulması için "zarûrât-ı hamse" denilen beş temel ilke ve değer vardır. Bunlar canın, aklın, malın, neslin ve dinin korunmasıdır. Bu ilkeler kişinin ve toplumun varlığını koruyabilmesini ve devam ettirebilmesini sağlar.

Aşağıdaki ayetlerden hangisi bu ilkelerin korunmasıyla ilgili değildir?

- A) "...Kim, haksız yere bir cana kıyarsa bütün insanları öldürmüş gibi olur. Her kim bir canı kurtarırsa bütün insanları kurtarmış gibi olur..."
(Mâide suresi, 32. ayet)
- B) "Aranızda birbirinizin mallarını haksız yere yemeyin..."
(Bakara suresi, 188. ayet)
- C) "İnsanlardan alırken ölçüp tarttıklarında tam, onlara vermek için ölçüp tarttıklarında ise noksan yapan hilekârlara yazıklar olsun!"
(Mutaffifin suresi, 1-3. ayetler)
- D) "Ne Güneş Ay'a yetişebilir, ne de gece gündüzü geçebilir. Her biri bir yörüngede yürümektedir."
(Yâsin suresi, 40. ayet)

16. Toplumun huzur ve güven içerisinde yaşamasını hedefleyen İslam'ın temel ilkelerinden biri de insan hayatını korumaktır. Bu ilke gereği, insanın canına zarar verebilecek davranışlarda bulunması yasaklanmıştır. Her insanın, akıl ve beden sağlığını koruma hakkı olduğu gibi, diğer insanların sağlığını tehlikeye atmama sorumluluğu da vardır. Bununla birlikte kişisel temizliğe ve çevre temizliğine özen göstermek ve sağlıklı beslenmek de her Müslüman'ın vazifesidir.

Bu metin aşağıdaki ayet veya hadislerden hangisiyle ilişkilendirilemez?

- A) "Yemekten önce ve yemekten sonra ellerinizi yıkayınız."
(Hadis)
- B) "... Kendi kendinizi tehlikeye atmayınız..."
(Bakara suresi, 195. ayet)
- C) "...Birbirinizin kusurlarını ve mahremiyetlerini araştırmayınız..."
(Hucurât suresi, 12. ayet)
- D) "Bir yerde bulaşıcı hastalık ortaya çıktığını duyduğunuz zaman oraya girmeyiniz. Bulunduğunuz yerde bulaşıcı bir hastalık ortaya çıkarsa, oradan da çıkmayınız."
(Hadis)

17. İslam dini can, akıl, mal, nesil ve dinin korunmasına özen göstermiş, bu değerlerden her birinin varlığını, sürekliliğini ve korunmasını sağlayan hükümler koymuştur.

Aşağıdaki ayetlerden hangisi bu kapsamda değerlendirilmez?

- A) "Rabb'in, kendisinden başkasına asla ibadet etmemenizi, anaya-babaya iyi davranmanızı kesin olarak emretti..."
(İsrâ suresi, 23. ayet)
- B) "... Kendi kendinizi tehlikeye atmayın..."
(Bakara suresi, 195. ayet)
- C) "... Allah, bir güçlükten sonra bir kolaylık yaratacaktır..."
(Talâk suresi, 7. ayet)
- D) "Aranızda birbirinizin mallarını haksız yere yemeyin..."
(Bakara suresi, 188. ayet)

18. Muhammed Ali Raşvan 1956 Kahire doğumlu judocudur. 1984'te ABD Los Angeles Yaz Olimpiyatları'nda ülkesini temsil etti.

Judo final müsabakasında minderde rakibi Japon Yasuhiro Yamashita ile karşılaştı.

Yamashita müsabakalar sırasında sağ ayağının kasları yırtıldığı için final karşılaşmasına yaralı olarak çıkmak zorunda kaldı. Yamashita sol ayağıyla yürüyor ve sağ ayağını âdeta peşinden sürüklüyordu.

Müsabaka sırasında Muhammed Ali'nin antrenörü kenardan sürekli bağıırıyordu: "Sağ bacağına oynat! Sağ bacağına vur!" Muhammed Ali'nin rakibinin sağ ayağına bir defa vurması yetecekti. Fakat o, bunu yapmadı. Yenildi ve gümüş madalya ile yetindi.

Müsabakadan sonra etrafını saran bütün gazetecilerin sorusu aynıydı: "Niçin yapmadın, niçin sağ ayağına vurmadın?"

O şöyle cevap verdi: "Ben bir Müslüman'ım. Benim dinim insana zarar vermeyi yasaklıyor. Eğer onun yaralı bacağına vursaydım engelli de kalabilirdi. Bir madalya için bunu ona yapamazdım."

Muhammed'in bu tavrı ayakta alkışlandı ve Uluslararası Fairplay Komitesi tarafından, 1984 Fairplay Ödülüne layık görüldü. O, daha sonra gittiği Japonya'da da bütün ülkenin onur konuğı olarak, bir kral gibi karşılandı.

Muhammed Ali Raşvan'ın rakibi karşısındaki bu tutumu İslam'ın korunmasını istediğı temel ilkelerden hangisinin kapsamında değerlendirilir?

- A) Akıl B) Can C) Nesil D) Mal

19. "Medyen halkına da kardeşleri Şuayb'ı peygamber olarak gönderdik. Dedi ki: Ey kavmim! Allah'a kulluk edin, sizin ondan başka tanrınız yoktur. Size Rabbinizden açık bir delil gelmiştir; artık ölçüyü, tartıyı tam yapın, insanların eşyalarını eksik vermeyin..."

(A'râf suresi, 85. ayet)

Hız. Şuayb'ın bu ayetteki sözleri, İslam'ın;

- I. dinin,
II. malın,
III. canın

korunması ilkelerinden hangileriyle ilgilidir?

- A) Yalnız I. B) Yalnız III. C) I ve II. D) II ve III.

20. • "Ey insanlar! Hayatınız, mallarınız, haysiyet ve şerefınız Rabb'inizle buluşacağınız güne kadar kutsal ve saygındır."
(Hadis)
- "Aranızda birbirinizin mallarını haksızlıkla yemeyin..."
(Bakara suresi, 188. ayet)
- "Sizin en hayırlınız, ailesine karşı en iyi davrananınızdır."
(Hadis)

Bu ayet ve hadislerin tümü aşağıdaki konulardan hangisine örnek oluşturur?

- A) Biyolojik yasalar
B) Emek- rızık ilişkisi
C) Ahiret hayatının önemi
D) İslam'ın korunmasını istediği temel ilkeler

21. Hz. Peygamber, Hz. Ali'yi Yemen'e yönetici olarak gönderdiğinde ona şöyle demiştir:
"Sana iki hasım (düşman) geldiğinde her iki tarafı dinlemeden karar verme! Doğru kararı ancak her iki tarafı dinledikten sonra verebilirsin!"

Hz. Peygamber bu tavsiyesinde aşağıdaki kavramlardan hangisinin önemini vurgulamıştır?

- A) Adalet B) Hoşgörü C) Merhamet D) Yardımseverlik

22. Hz. Peygamber Veda Hutbesi'nde Müslümanlara hitaben şöyle buyurmuştur:

"Müminler! Sözümü iyi dinleyiniz ve iyi kavrayınız! Müslüman, Müslüman'ın kardeşidir ve böylece bütün Müslümanlar kardeşler. Bir Müslüman'a kardeşinin canı da malı da helal olmaz. Fakat malını gönül hoşluğu ile vermişse o başkadır."

Aşağıdakilerden hangisi Hz. Muhammed'in (sav.) bu sözü söylemekteki amaçlarından biri olamaz?

- A) Yaşam hakkı ihlallerini engellemek
B) Kişilerin mülkiyet haklarını korumak
C) Toplum huzurunu sağlamaya yönelik tedbirler almak
D) Kardeşler arasındaki miras paylaşımının şartları açıklamak



8. SINIF

DİN KÜLTÜRÜ VE AHLAK BİLGİSİ

4. Ünite

1. Hz. Peygamber, bir eve misafir olur. Evin hanımı, çocuğuna "Gelirsen sana bir şey vereceğim." diye seslenir. Bunun üzerine Hz. Peygamber anneye "Çocuğa ne vereceksin?" diye sorar. O da hurma vereceğini söyler. Bunun üzerine Allah Resulü, "Eğer aldatıp ona bir şey vermeseydin sana bir yalan günahı yazılmış olurdu." buyurur.

Bu olayda Hz. Peygamber'in verdiği mesaj aşağıdakilerden hangisidir?

- A) Anneler çocuklarına merhametli olmalıdır.
 B) Çocuklar koruyup gözetilmelidir.
 C) Verilen söz yerine getirilmelidir.
 D) Başarı ödüllendirilmelidir.

2. Hz. Ali, bir gün Hz. Ömer'in telaş içinde bir yere gittiğini görür ve sorar:
 - Müminlerin emiri (halifesi) nereye gidiyorsun?

Hz. Ömer:

- Devlete ait develerden biri kaçmış, onu aramaya gidiyorum, diye cevap verir.

Bunun üzerine Hz. Ali şöyle der:

- İnan ki senden sonra bu milleti idare edecek olanlara ağır bir yük bırakıyorsun! Herkes senin yaptığını yapamaz!

Hz. Ömer karşılık verir:

- Hz. Muhammed'i (sav.) hak peygamber olarak gönderen Allah'a yemin ederim ki Fırat kenarında bir oğlak kay-bolsa korkarım ki kıyamet gününde hesabı Ömer'den sorulur.

Hz. Ömer'in bu tavrı aşağıdaki kavramlardan hangisi ile ilişkilendirilemez?

- A) Eşitlik B) Dürüstlük C) Güvenilirlik D) Sorumluluk

3. • "Demek sen, bu söze (Kur'an'a) inanmazlarsa, arkalarından üzülerək âdetâ kendini tüketeceksin!"
 (Kehf suresi, 6. ayet)
 • "(Ey Muhammed!) Mümin olmuyorlar diye neredeyse kendini yiyip bitireceksin!"
 (Şu'arâ suresi, 3. ayet)

Bu ayetlerde Hz. Muhammed'in (sav.) hangi yönüne dikkat çekilmektedir?

- A) Doğru yola yönlendirme isteğine
 B) İslam'ı tebliğ etmedeki cesaretine
 C) Yaşanılan sıkıntılı durumlara sabretmesine
 D) Şahsına yapılan kaba davranışları hoş görmesine

4. Hz. Muhammed (sav.), peygamberliğinin ilk yıllarında, Safâ tepesinden Mekkelilere, "Şu vadinin arkasında size saldırmak isteyen süvari birlikleri var desem bana inanır mısınız?" diye sorduğunda onlar hep bir ağızdan, "Evet, inanırız... Biz senin bugüne kadar yalan söylediğini hiç görmedik..." diye karşılık vermişlerdir.

Parçadaki altı çizili cümle peygamberlerin aşağıdaki özelliklerinden hangisiyle ilişkilidir?

- A) Fetanet B) Tebliğ C) Sıdk D) İsmet

5.
 - Ben âlemlere rahmet olarak gönderildim.
 - Güneş'i sağ elime, Ay'ı da sol elime koysalar yine de yolumdan dönmem.
 - Ey Müslümanlar, şayet birinize haksız bir muamelede bulunmuşsam onu ödemeye hazırım. Kimin hakkı varsa işte şahsım, işte malım; gelsin, alsın.

Bu hadislerden Hz. Muhammed'in (sav.) kişilik özellikleri ile ilgili aşağıdaki yargılardan hangisine ulaşamaz?

- A) Affedicidir.
B) Kararlıdır.
C) Adaletlidir.
D) Merhametlidir.

6. Mekke'li müşriklerin ileri gelenleri Hz. Muhammed'e (sav.) gelerek "Biz senin yanına geldiğimizde fakir ve zavallı insanları yanından kov. Biz o insanlarla bir arada olmaktan hoşlanmıyoruz. Çünkü biz, toplumun seçkin kişileriyiz." dediler. Hz. Peygamber onların bu isteğini kabul etmedi.

Bu olay, Hz. Muhammed'in (sav.) aşağıdaki özelliklerinden hangisine örnek oluşturur?

- A) Yetimler, hastalar ve yaşlılarla ilgilenirdi.
B) İnsanların sevinç ve üzüntülerini paylaşırdı.
C) Verdiği sözü yerine getirir, emanete sahip çıkardı.
D) İnsanlar arasında ayırım yapılmasına izin vermezdi.

7. "Sen onlara Allah'ın lütfu sayesinde yumuşak davrandın. Eğer katı kalpli ve kaba olsaydın onlar etrafından dağılır giderlerdi. Onları affet, onların bağışlanmasını dile; iş hakkında onlara danış, karar verince de Allah'a güven. Doğrusu Allah, kendisine güvenenleri sever."

(Âl-i İmrân suresi, 159. ayet)

Bu ayette aşağıdaki kavramların hangisine vurgu yapılmamıştır?

- A) İstişare B) Tevekkül C) Emek D) Merhamet

8. Müslüman, insanların elinden ve dilinden emin olduğu kimsedir.

Bu hadisteki altı çizili ifade;

- I. çalışkan olmak,
- II. doğru konuşmak,
- III. verdiği sözü tutmak

tutum ve davranışlarından hangilerini kapsamaktadır?

- A) Yalnız I. B) Yalnız II. C) II ve III. D) I, II ve III.

9. Hz. Muhammed (sav.), başkasının hurma ağacına taş atan bir çocuğa, ağacı niçin taşıdığını sormuş. Aç olduğu için yaptığını öğrenince de "Evladım, hurma ağacını taşılama; yere düşmüş olan hurmaları alıp ye!" diyerek çocuğa nasihatle bulunmuş, ardından da "Allah'ım, onun açlığını gider!" diyerek dua etmiştir.

Hiz. Peygamber'in bu davranışı hangi konuda örnek oluşturmaz?

- A) Merhametli olma B) Doğayı koruma C) Hakkı gözetme D) Cömert olma



8. SINIF

DİN KÜLTÜRÜ VE AHLAK BİLGİSİ

5. Ünite

1. Aşağıdaki ayetlerin hangisinde Kur'an-ı Kerim'in gönderiliş amacına vurgu yapılmaktadır?

- A) "Kur'an okuduğun zaman, kovulmuş şeytandan Allah'a sığın." (Nahl suresi, 98. ayet)
- B) "Gerçekten bu Kur'an en doğru olan yola götürür." (İsrâ suresi, 9. ayet)
- C) "Şüphesiz ki Kur'an'ı sana biz, elbette biz indirdik." (İnsan suresi, 23. ayet)
- D) "... Biz onu kutlu bir gecede indirdik..." (Duhân suresi, 3. ayet)

2. Kur'an, namaz kılmanın farz olduğunu bildirmiş ancak namazın nasıl kılınacağını, hangi vakitlerde ve kaç rekât kılınacağını açıklamamıştır. Hz. Peygamber, "Namazı benim kıldığım gibi kılın." buyurarak namaz ibadetinin nasıl yerine getirileceğini öğretmiştir.

Bu parçada aşağıdaki kaynaklardan hangisi vurgulanmaktadır?

- A) Kur'an B) Sünnet C) İcma D) Tefsir

- 3.**
- "Namazı dosdoğru kılın, zekâtı verin, Resule itaat edin ki size merhamet edilsin." (Nûr suresi, 56. ayet)
 - "Ey iman edenler! Zannın çoğundan sakının çünkü bazı zanlar günahtır. ..."
 - "... Her biri; Allah'a, meleklerine, kitaplarına ve peygamberlerine iman ettiler..."
- (Hucurât suresi, 12. ayet)
- (Bakara suresi, 285. ayet)

Bu ayetlerde Kur'an'ın aşağıdaki ana konularından hangisine değinilmemiştir?

- A) Ahlak B) İbadet C) İman D) Kıssa

4. Muamelat, insanlar arasındaki hukukî, malî ve sosyal ilişkileri düzenleyen hükümlerdir.

Buna göre aşağıdaki ayetlerden hangisi muamelat ile ilgili değildir?

A) "Biz insana anne babasına iyi davranmayı emrettik..."

(Ahkâf suresi, 15. ayet)

B) "Kitaptan sana vahyolunanı oku, namazı da dosdoğru kıl."

(Ankebût suresi, 45. ayet)

C) "Ölçtüğünüzde ölçmeyi tam yapın, doğru terazi ile tartın..."

(İsrâ suresi, 35. ayet)

D) "...Hiçbir suçlu, başkasının suçunu yüklenmez..."

(En'âm suresi, 164. ayet)

DİN KÜLTÜRÜ VE AHLAK BİLGİSİ CEVAP ANAHTARI

1. Ünite

1. D
2. D
3. A
4. C
5. A
6. B
7. B
8. C
9. B
10. D
11. A
12. C
13. B
14. B
15. B
16. A
17. D
18. C
19. A
20. D
21. A
22. B
23. D
24. A
25. D
26. A
27. A
28. B

2. Ünite

1. B
2. B
3. D
4. B
5. B
6. B
7. D
8. C
9. B
10. B
11. A
12. A
13. D
14. C
15. A
16. C
17. B
18. A
19. C
20. B
21. C
22. C
23. A
24. D
25. B
26. D
27. C

3. Ünite

1. D
2. B
3. C
4. A
5. C
6. D
7. C
8. B
9. C
10. C
11. D
12. B
13. D
14. B
15. D
16. C
17. C
18. C
19. C
20. D
21. A
22. D

4. Ünite

1. C
2. A
3. A
4. C
5. A
6. D
7. C
8. C
9. D

5. Ünite

1. B
2. B
3. D
4. B



8th GRADE ENGLISH

Unit 1

Answer questions 1 - 2 according to the invitation card below.

1.



Classmates come together on July 30 because - - - .

- A) some of them like activities B) they like playing games together
C) their teachers want to organize a party D) there is an organization on Friendship Day

2. According to the saying on the card, your best friend can count on you because - - - .

- A) you always support him/her
B) you can organize a meeting together
C) you have a lot of fun with your teachers
D) your friends come together on Friendship Day

Complete the sentence according to the text below.



Mark Twain



Nikola Tesla

Do you know Mark Twain and Nikola Tesla? I'm sure you do! Mark Twain (1835-1910) wrote many books and Nikola Tesla (1856-1943) was a famous scientist. They met in New York in 1880s. They spent a lot of time together and they shared a lot of ideas. When they were in different countries, they wrote letters to each other to keep in touch. Tesla loved Twain's books and Twain respected Tesla's scientific work. Tesla invited Twain to his lab for a special day when he conducted an important experiment.

3. We can understand from the text that Mark Twain and Nikola Tesla - - - .

- A) had the same jobs B) were good friends C) usually argued D) rarely met

Answer questions 3 - 5 according to the invitation card below.



4. Complete the sentence.

The invitation card is for a/an - - - -.

- A) school lunch
- B) birthday party
- C) graduation party
- D) online exhibition

5. Complete the sentence.

The event will be - - - -.

- A) in the afternoon
- B) at the weekend
- C) \$ 25 for 2 students
- D) in the school garden

6. Complete the sentence.

If students want to ask for more information, they should - - - -.

- A) call Jack by phone
- B) meet Jack on July 7
- C) visit Jack at the Hotel
- D) send an e-mail to Jack

Read the conversation and complete the sentence.

7.



According to the conversation, Sophie - - - -.

- A) tells Nathalie what she is doing now
- B) makes an excuse for not going there
- C) cannot go there because she is busy
- D) asks for some details about the event

Read the information about the personal characteristics of Rosa and answer the question.

8.



Which of the following IS NOT related to Rosa's personality?

- A) She always says "please" and tells the truth.
- B) She buys presents for her friends.
- C) She likes doing extreme sports.
- D) She never changes her mind.

Read Arthur's plans and the conversation. Answer the question.

9.

MONDAY	TUESDAY	WEDNESDAY	THURSDAY
(6 pm - 8 pm)	(7 pm - 9 pm)	(5 pm - 8 pm)	(4 pm - 6 pm)
Going to the tennis course	Attending John's party	Taking care of my brother	Training for the tournament

Blake : We are planning to gather on Monday. Will you come?

Arthur : What time?

Blake : At 4 pm.

Arthur : - - - .

Which of the following completes the conversation?

- A) It is awesome but I will be at John's party
- B) I'd love to but I have to leave before six
- C) That sounds great but I have to train for the tournament
- D) I am sorry but I am taking care of my brother at that time

Look at the poster below and answer the question.

10.



Which of the following DOES NOT have an answer in the poster?

- A) How long is the trip?
- B) Is there anything to eat?
- C) How can we learn details?
- D) Which equipment do we need?

Answer the question using the invitation card below.

11.



Which of the following DOES NOT have an answer in the invitation?

- A) Who is the party for?
- B) What time are they meeting?
- C) Where is the party going to be?
- D) How can they learn about the details of the event?

Read the conversation and answer the question.

12. Dean is organizing a chess tournament on Sunday. He sent messages to his friends to invite them. Here are their responses:

Tina : I will definitely be there. You have no chance to win.

Sam : That sounds great, but I will be out of the town at the weekend.

Clark : That's a good idea. Text me about the time.

Peter : I'd love to join, but I have football training. I can join you after it.

According to the conversation above, which of the following is CORRECT?

- A) Tina isn't interested in playing chess.
- B) Sam has to attend a course, so he can't join the tournament.
- C) Clark needs extra information about the event.
- D) Peter is available all day on Sunday.

Read the text, check the website and answer the question.

13. Sarah likes comedy films and science fiction movies. However, she finds dramas unbearable. Her 14 year old son, Tim, is fond of watching action movies and comedies. He also thinks science fiction movies are interesting. Sarah wants to go to the cinema on Sunday morning with her son. She wants to find a movie that is appropriate for both of their preferences.



According to the information above, which of the following is an appropriate movie for Sarah and Tim?

- A) Ridiculous Man
B) Out of the World
C) Impressive Life
D) Last Two Hours

Look at the poster below and answer the question.

14.



Which of the following does NOT have an answer in the poster?

- A) Which equipment do we need? B) Which activities can we do?
C) Where do we meet? D) How long is the camp?

Read the conversation and answer the question.

15. **Daisy** : What do you like doing in your free time?

Janet : I don't miss any plays. I am also fond of jazz and pop, but I dislike playing an instrument and playing team sports.

Sam : I enjoy buying new things. I also like doing sports. However, painting and seeing a play are unbearable for me.

According to the conversation above, which of the following are the most appropriate activities for Janet and Sam?

A)

Janet

- playing volleyball
- joining a guitar course

Sam

- going to the shopping mall
- doing basketball training

B)

Janet

- watching a play
- going to a concert

Sam

- going to the theatre
- joining a drawing course

C)

Janet

- swimming
- playing the piano

Sam

- watching a play
- visiting an art exhibition

D)

Janet

- listening to music
- going to the theatre

Sam

- cycling
- going shopping

Read the text, look at the table and answer the question.

16. Alice invites her friends for some activities. Here is some information about the invitation and answers:

Invitation for	Invitation's day	Invitee	Invitee's answer
Going trekking	Monday	Sally	"I'd love to but I can't."
Cycling	Wednesday	Jane	"Yeah, why not?"
Drinking something at a cafe	Saturday	Mary	"Sure, it sounds great."

Which of the following does NOT have an answer in the table above?

- A) Which activity is at the weekend?
 B) When does Alice want to ride a bike?
 C) Who refuses the offer giving a reason?
 D) How many people accept the invitation?

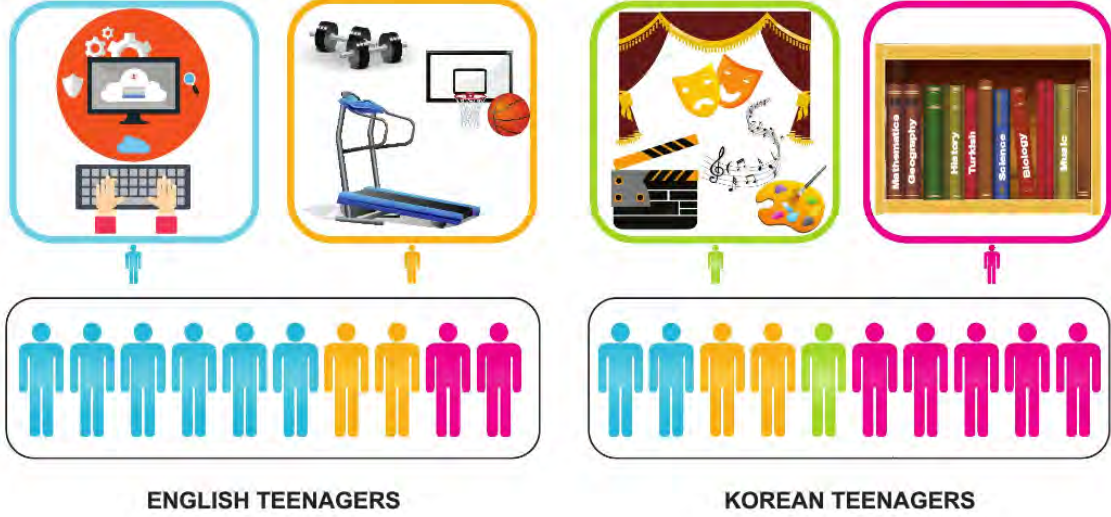


8th GRADE ENGLISH

Unit 2

Look at the visuals and read the text. Answer questions 1 - 2 according to them.

The researcher, Professor Barclay, conducts research about teenagers. His last research was about teenagers' daily routines. He compared young people in England and Korea. He asked young people about their habits. He gave them a questionnaire about their routines. Here are some results of his study from the questionnaire that he gave to the teenagers.



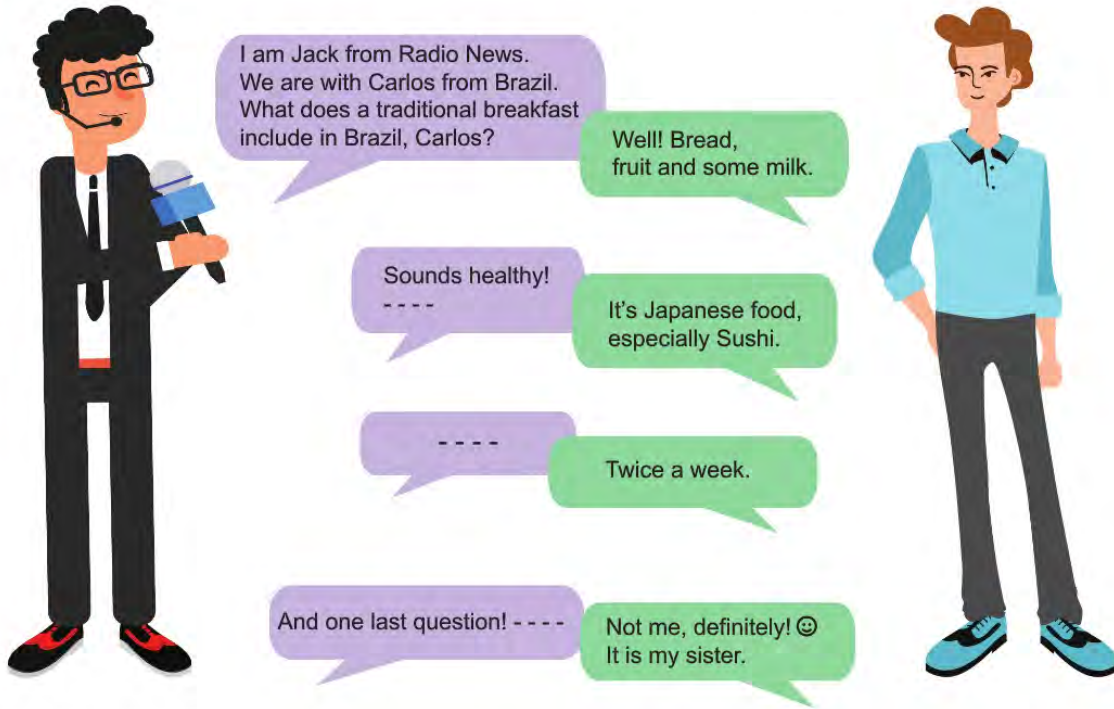
1. Which sentence can be **CORRECT** according to the research results?

- A) Korean teens are more interested in sports than English teens are.
- B) Korean teens spend less time studying than English teens.
- C) English teens' favorite activity is going online.
- D) English teens prefer artistic activities.

2. Which can **NOT** be one of the questions in the questionnaire?

- A) What do you do on the weekends?
- B) Why do you like going to the movies?
- C) What is your favorite free-time activity?
- D) Which activities do you do on the Internet?

Answer the question according to the dialogue between Jack and Carlos.



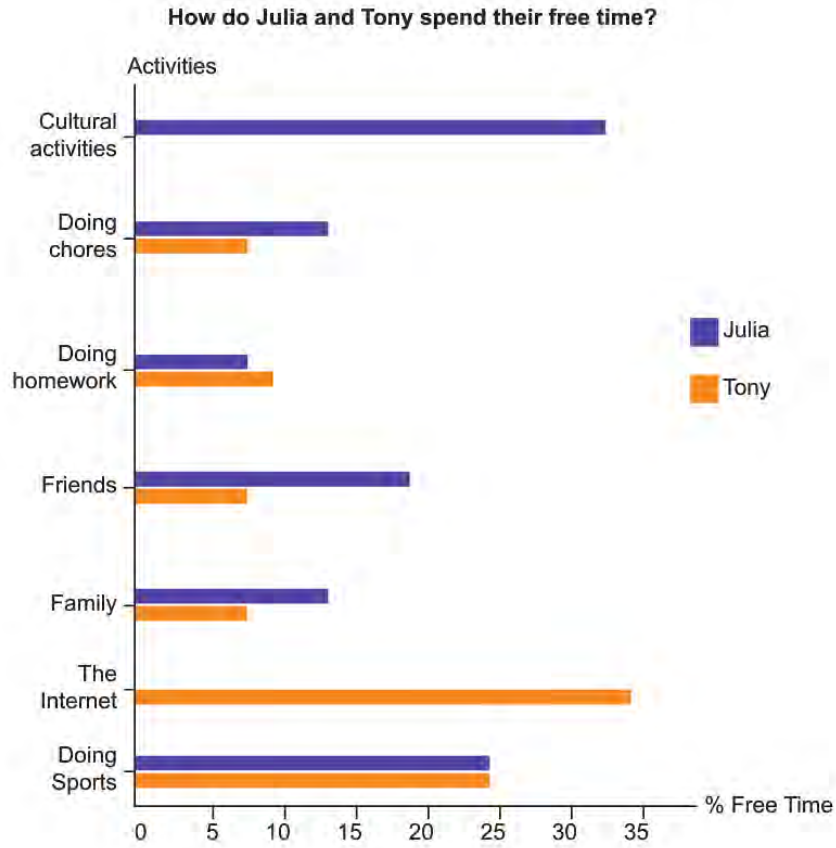
3. Which question DOES NOT Jack ask Carlos?

- A) How often do you eat Japanese food?
- B) Why do Japanese people like Sushi?
- C) Who cooks well in your family?
- D) What is your favorite food?

Answer the question according to the information and the text below.

Tony and Julia are school friends. They have similar and different interests and responsibilities.

The table below shows how they spend their free time and the activities they enjoy doing.



4. Which of the following is NOT correct according to the information?

- A) Both Tony and Julia like physical exercise.
- B) They spend same amount of time helping housework.
- C) Julia spends more time with her friends than Tony.
- D) Tony enjoys spending time online most.

Read the text and answer the question.

5. The table below shows Helena and Tracy's likes. They want to attend a course together.

HELENA	TRACY
Playing the guitar	Preparing traditional dishes
Fishing	Taking photos
Cooking	Swimming

Which of the following is appropriate for both of them?

A)

HUNT THE BIGGEST

B)

IMPROVE MUSICAL SKILLS

C)

LEARNERS IN THE KITCHEN

D)

ART OF CAMERA

Read the text below and answer the question.

6. There was a rock concert of a famous singer last weekend. After the concert, some people wrote notes and threw them to the singer. Here are the comments:

It's the worst performance I've ever seen. Your behavior during the concert was insulting.
SAM

I think your concert was magnificent. At the end of the concert, I was really happy.
JANE

Your music is impressive. I cannot stop listening to your songs.
JOHN

Your concerts are always terrific. I am fond of your voice.
MARY

Whose comment was disappointing for the singer?

A) Sam

B) John

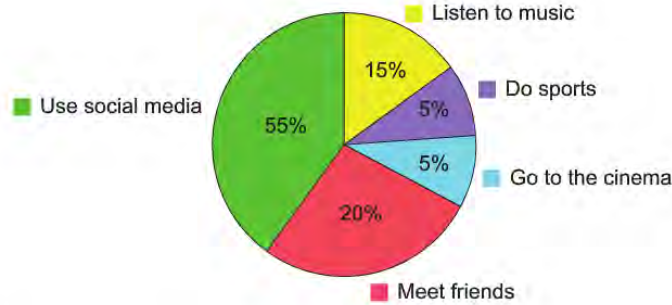
C) Jane

D) Mary

Read the information and answer the question.

7. The pie chart below shows the results of a study on the favorite free time activities of 100 teens.

Favorite Free Time Activities of the Teenagers



Which of the following is **CORRECT** according to the information above?

- A) Watching movies is the most favorite activity of the teens.
- B) Doing exercise is very popular among the teens.
- C) The teens usually spend their time on the Net.
- D) The teenagers never listen to music.

Read the text, look at the table and answer the question.

8. Brian and Jenny want to do something different this weekend. Here is the list of their types of interests:

BRIAN	JENNY
Technology	Sculpture
Books	Sports
Paintings	Fashion

According to the table, which of the following is an appropriate place for them to go?

- A) Art exhibition
- B) Book fair
- C) Amusement park
- D) Cinema

Read the text, look at the table and answer the question.

9. Alice, David, Mary and Tom are planning different free time activities for this week.

- Alice is going to go to the cinema with her friends.
- Tom is going to go to the café with his buddies.
- David is going to ride a bike in the morning.
- Mary is going to play bowling after school.

DAYS	ACTIVITIES
Monday	Doing sports
Thursday	Meeting friends
Saturday	Cycling
Sunday	Watching a movie

According to the information above, who is NOT planning an activity for the weekend?

- A) Mary and Alice B) Mary and Tom C) David and Tom D) David and Alice

Read the text and answer the question.

10.



Hello. My name is Frank. I'm 14 years old and a student in 8th grade. On weekdays, I get up at 7:30. I wash my hands and face before I have breakfast with my family. I go to school at 8:40. After school, I like reading books and playing chess with my brother, David. I usually read detective books. I don't like biographical books. My friends and I play basketball on Saturday afternoons. We have lots of fun together. I do my homework on Sunday mornings and help my mother in the kitchen. On Sunday afternoons, I like drawing pictures and spending time on the Internet.

Which of the following does NOT have an answer in the text?

- A) What kind of games does Frank like playing?
 B) What time does he get up on Tuesdays?
 C) What does he do before the breakfast?
 D) Where does he play basketball?

Read the text, look at the table and answer the question.

11. Simon is planning to go to a book fair on Saturday afternoon with his friends. He sends his friends a message to invite them to the fair. The table below shows his friends' plans for Saturday:

Betty	Carl	Tom	Lily
going to a concert with Jane 4 pm-7 pm	visiting grandparents 10 am-1 pm	doing sports 9 am-12 pm	seeing a new play 3 pm-7 pm

According to the information above, which of the following is NOT an appropriate reply to Simon's invitation?

- A) 
- B) 
- C) 
- D) 

Read the text, look at Tim's plans and complete the sentence.

12. Tim : I have to stay home to be safe because of COVID-19. Being at home is a bit difficult, so I am trying to do different things every day. Here are my favourite activities for each day:

Monday	Tuesday	Wednesday	Thursday	Friday	Saturday	Sunday
Listening to my favourite band	Practising my French	Trying new recipes with my mum	Playing chess with my dad	Watching a pop concert	Joining an online drawing course	Painting

Tim ----.

- A) spends time only with his mum
B) listens to music only once a week
C) studies two different languages
D) does art at the weekend



8th GRADE ENGLISH

Unit 3

Answer the question according to the recipe below.

How to Make a Cupcake

- 🍰 First, heat the oven at 200 °C.
- 🍰 Mix two eggs with a cup of sugar.
- 🍰 Next, add some milk, flour, oil and powder.
- 🍰 Then, mix all the ingredients and pour the mixture into the cups.
- 🍰 Finally, put the cups into the oven and bake for 30 minutes.
- 🍰 Cupcakes are ready.

Enjoy.

1. Which picture shows the step after mixing the ingredients?



Answer questions 2 - 3 according to the recipe below.

Charlotte is baking a brownie today. Here is her recipe.



- First, mix $\frac{1}{2}$ cup of oil, 1 cup of sugar and 1 teaspoon of vanilla in a bowl.
- Second, add some flour, $\frac{1}{3}$ cup of cocoa and $\frac{1}{4}$ teaspoon of baking powder into mixture.
- Then, whisk 2 eggs, and pour it into the bowl.
- Mix all the ingredients (I use a mixer. It is easier ☺) and then, pour it into the cake pan.
- Finally, bake it in a preheated oven to 250 °C about 20 minutes.
- Let it cool before cutting into slices.

Enjoy it!

P.s.: Use eggs in room-temperature for better taste.

2. Which tool will NOT Charlotte use while baking the brownie?

A)



B)



C)



D)



3. You will have a more delicious cake if you - - - .

- A) don't bake it in an oven you heated before
- B) break the eggs into the baking powder
- C) cut it into the slices after it cools
- D) don't use cold eggs

Look at the visual below, read the text and answer the question.

4.



Rosa and Troy want to buy ice cream. Rosa loves only sour flavors but Troy likes ice cream with fruits. They have little money and they can buy only one cup of ice cream.

Which numbers should they press on the machine to buy a cup that reflects both of their preferences?

A) 3 - 7 - 8

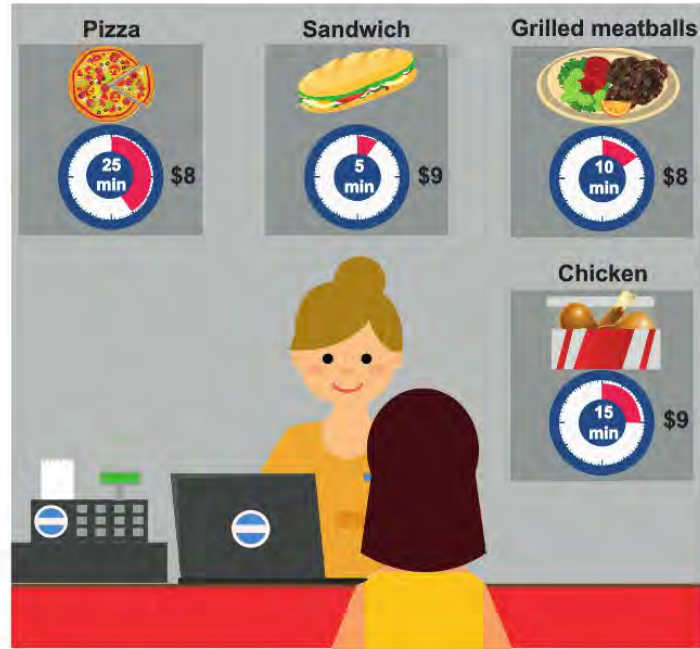
B) 2 - 3 - 4

C) 1 - 5 - 7

D) 1 - 4 - 6

Look at the visual below, read the text and answer the question.

5.



Jane had \$20. She came to a shopping mall to watch a movie. She paid \$12 for the ticket. The film is going to start twenty minutes later. She wants to eat something quickly before the film begins.

Keeping in mind how much money and time Jane has, what should she choose?

- A) Grilled meatballs B) Sandwich C) Chicken D) Pizza

Read the text and answer the question.

6. Kingston family is in the kitchen. They are talking about their dinner. They want to eat chicken.



Which of the following cooking methods is suitable for all the family members?

- A) roasting B) grilling C) boiling D) frying

Read the text and answer the question.

- 7.






Claire is a chef at a famous restaurant. It is not suitable for the people who like meat and pasta. Today, Claire is cooking the speciality of the restaurant.

Here is the recipe: First, heat the oil in a large pot. Then, chop the onion, the carrot and some garlic. Next, fry them and add sliced tomatoes and potatoes. After that, pour two glasses of water into the pot and boil them. Cook the mixture for 5 minutes after boiling.

Finally, put a leaf of basil in it. Serve hot.

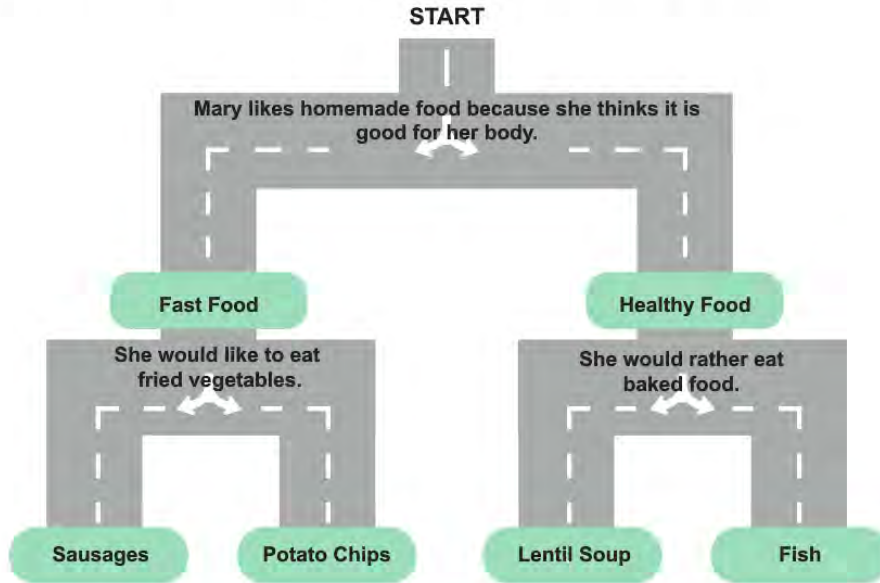
Enjoy!

According to the recipe above, in which restaurant does Claire work as a chef?

- A)  SPAGHETTI HOUSE B)  CITY OF FISH
- C)  TACOS KITCHEN D)  VEGETABLE WORLD

Read the text and complete the sentence.

8. Nick is playing a game. He should choose the correct moves and find Mary's favorite food.



Mary's favorite food is - - - .

- A) fish B) lentil soup C) potato chips D) sausages

Read the conversation below and answer the question.

9. The students below are talking about the reasons for using smartphones.

Jack: I always buy something using my smartphone.

Julia: Mostly, I use it to practice my foreign language.

Tim: I usually use it to keep in touch with my friends.

Maggy: I use it to follow the news online every day.

Which of the following IS NOT correct according to the conversation above?

- A) Jack does his shopping online.
 B) Julia improves her science knowledge.
 C) Tim uses his smartphone for communication.
 D) Maggy reads magazines and newspapers on the Net.

Read the text and answer the question.

10. Mary, Tom, Lisa and John met at a restaurant. They all ordered what they like most.



According to the information above, which of the following is NOT correct?

- A) Mary ordered pasta as a main course.
- B) Tom chose salad and meatballs.
- C) Lisa ate a slice of strawberry cake.
- D) John had both grilled chicken and ice cream.

Read the conversation and answer the question.

11.



- Philip** : Hi, mom. I need your help. - - - -?
- Mom** : Sure, honey.
- Philip** : - - - -?
- Mom** : You need a cup of red lentil, a carrot, a potato, an onion, a tablespoon of olive oil, four cups of water and a pinch of salt.
- Philip** : They're ready. - - - -?
- Mom** : First, peel and cut the carrot, potato and onion. Second, wash the lentil. Put all of them into a pot. Then add water and cook them. After that, mix it with a blender. Finally, add olive oil and salt.
- Philip** : Thanks mom.



Which of the following does NOT complete the conversation?

- A) Can you give me a recipe for lentil soup
- B) How long does it take to cook
- C) What are the preparation steps
- D) What are the ingredients

Read the text and answer the question.

12. Sam invites his friend, Tom, to dinner. He wants to prepare meals according to Tom's preferences. Here is some information about Tom's food preferences:

- Tom prefers meat to fish.
- He dislikes green vegetables.
- He isn't keen on cold desserts.

According to the information above, which of the following is the most appropriate menu for Tom?

- A) *Menu*
• Potato Soup
• Meatball
• Ice Cream
- B) *Menu*
• Parsley Soup
• Grilled Chicken
• Cake
- C) *Menu*
• Lentil Soup
• Fish
• Pudding
- D) *Menu*
• Tomato Soup
• Steak
• Hot Cocoa Rolls

Read the recipe and answer the question.

13.

Vegetable soup is very healthy and easy to prepare. You can make it at home in nearly 40 minutes.

First, peel an onion, two carrots, a potato and rinse them under water. Then, rinse a red pepper and broccoli under water. Second, chop the onion and dice the other vegetables. Put four tablespoons of olive oil in a large pot and heat it for half a minute. Then, add the onion and carrots. After cooking them for 5 minutes, add half a cup of flour and stir them for 2 minutes. Then, add the other vegetables and 5 glasses of water. After that, sprinkle a teaspoon of salt and cook for around 20 minutes over low heat. Finally, add 1/2 teaspoon of black pepper and your vegetable soup is ready to eat. Serve it hot. Good appetite!



According to the text, which of the following is CORRECT?

- A) Making vegetable soup takes less than an hour.
- B) Adding some milk to the soup makes it tastier.
- C) There is sugar and honey in the soup.
- D) We don't need any onions for the soup.

Read the text and answer the question.

14.



My parents are going to have some guests for a party at home tonight. We are all very excited. All of us are doing something. We are helping each other. My mother is baking the chicken and my father is preparing the salad. I am making the desserts and my sister is setting the table.

Which of the following has an answer in the text?

- A) Why are they having a party?
- B) When is the party going to be?
- C) Who is preparing the drinks?
- D) Which desserts is Mike making?

Read the text, look at the visual and answer the question.

15. Amy and Pam want to join a cooking course together. They both like preparing different desserts and salads. Both of them want to spend less than 70\$ for the course. Amy is available between 5th and 12th July. Pam has to be at school on 10th July.



KITCHEN SKILLS

Course 1	Course 2	Course 3	Course 4
Ice Cream Master	Pasta House	Chocolate World	Vegetable Garden
75\$ for each person	50\$ for each person	40\$ for each person	60\$ for each person
July 3 - 7	July 5 - 9	July 6 - 8	July 7 - 11

According to the information above, which of the following should they choose?

- A) Course 1
- B) Course 2
- C) Course 3
- D) Course 4



8th GRADE ENGLISH

Unit 4

Answer the question according to Larissa's plans.

 LARISSA'S PLANS	MONDAY SHOPPING WITH MY SISTER	TUESDAY WATCHING A MOVIE	WEDNESDAY GOING TO THE CONCERT "BEYONCÉ"
	THURSDAY MEETING WITH FRIENDS	FRIDAY VISITING THE LIBRARY	SATURDAY SWIMMING
		SUNDAY HELPING MOTHER WITH THE HOUSEWORK	

Wendy: Hey Larissa. It's Wendy. Are you free this weekend?

Larissa: Hi Wendy! Why are you asking?

Wendy: I want to go to the new Chinese restaurant with you in the afternoon.

Larissa: - - - -.

1. Which of the following completes the dialogue?

- A) My sister and I will go shopping together
- B) I'm sorry, I have to finish my homework
- C) I'd love to, but I have things to do
- D) Of course, I will be there on time

Answer the question according to the dialogue between Mr. Archlair and Mr. Cullingham.

2. **Mr. Cullingham** : Hello, Mr. Archlair. My car is not working.
I don't know the problem.

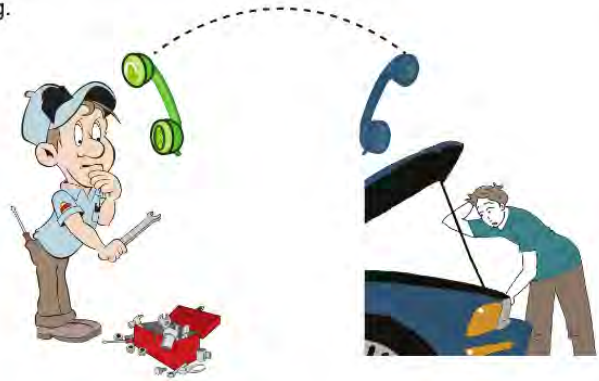
Mr. Archlair : Hi, Mr. Cullingham. Oh, I am sorry to hear that.

Mr. Cullingham : And I have a meeting at ten o'clock.

Mr. Archlair : OK. Tell me where you are and - - - -.

Choose the correct option to complete the dialogue.

- A) I hope you will be more careful when you drive
- B) I will send someone to take you and your car
- C) I will see your car if you come to the garage
- D) I will go to the meeting if you really want



Answer the question according to the dialogue between Angela and Bridget.

3. Fill in the blank.



This is Angela speaking.
How can I help you?

I would like to make a reservation from
Germany to Turkey on August 3.

There is a flight at 11 o'clock in the morning
and one at 2 o'clock in the afternoon.

One ticket for the 11 o'clock plane,
please.

Can you- - -, please?

It's Bridget Hopkins.

A) repeat that again

B) hold on a moment

C) tell me your name

D) spell your name

Read the text and answer the question.

4. Tom and Alice are talking about smartphones but they have different opinions about them. Tom thinks that they are useful while Alice believes that they are harmful.

Which of the following is Tom's speech bubble?

A)

Playing games on a bright screen
causes eye diseases.

B)

Having a smartphone gives us a chance to
connect quickly with emergency services.

C)

Buying a smartphone costs
a lot of money.

D)

Constantly checking social media accounts
creates concentration problems.

Read the text below and answer the question.

5. A research company asked 100 people about why they usually called customer services. Here are their answers:
- 35 people called to change an item they bought.
 - 20 people called to make a reservation for transportation.
 - 15 people called to learn something new.
 - The rest of them called when their products didn't reach them on time.

Which of the following shows the results of the research?



return
a product



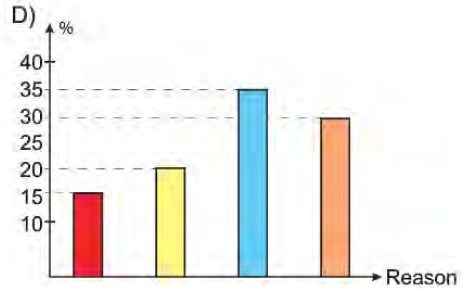
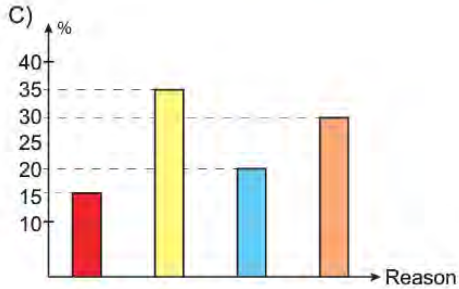
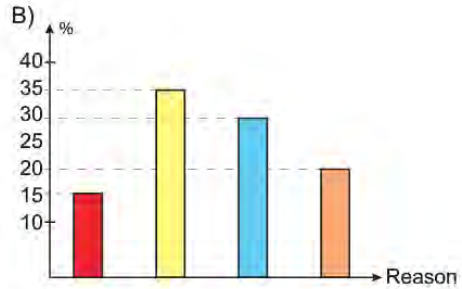
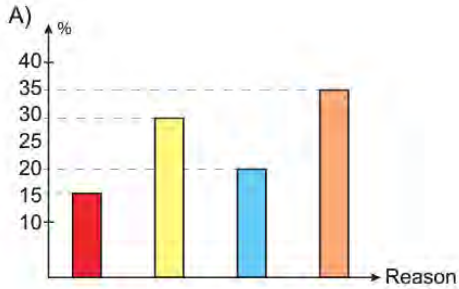
book
a flight ticket



get
information



report late
arriving products



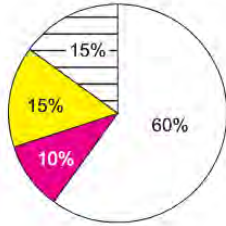
Read the text and answer the question.

6. Mr. Black asked 100 students about their mobile phone usage habits. Here are the results:

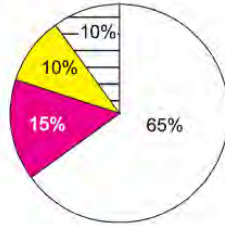
- More than half of the students use it to keep in touch with their friends.
- The number of the students who use mobile phones to find articles related to their lessons is less than all others.
- Playing online games using mobile phones is as popular as buying things from the Internet.

According to the results of the survey, which of the following is CORRECT?

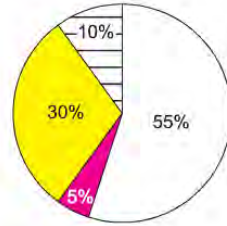
A)



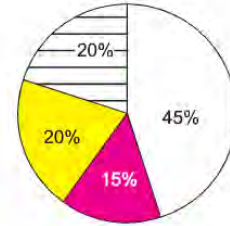
B)



C)



D)



□ communication

■ doing research

■ fun

▨ online shopping

Read the text and answer the question.

7. Susan organizes a birthday party at 8 pm on Monday and calls Mary to invite her. However, Mary doesn't answer the phone, so Susan leaves a message.

Which of the following is Susan's message?

- I think you're not available now, I'll call you in the evening.
- I'm busy now, I'll get back to you as soon as possible.
- It's a bad line. Could you get back to me later?
- I'm not at home right now, I'll talk to you soon.

Read the conversation and answer the question.

8. **Customer Service** : Hello, how can I help you?
Alice : Hi, I want to book a flight ticket from London to New York.
Customer Service : Sure. One way or return?
Alice : Return.
Customer Service : Can you tell me the dates on which you want to travel?
Alice : June 15th and June 26th.
Customer Service : Can I have your name and phone number, please?
Alice : Alice Black, 09502345678.
Customer Service : Your flight is reserved. Have a good flight.



Which of the following does NOT have an answer in the conversation above?

- A) What is the phone conversation about?
 B) What is the destination of the flight?
 C) What are the dates of the flights?
 D) What is Alice's reason for travelling?

Read the conversation, check the ticket and answer the question.

9. **Scott** : Hello, Scott is speaking. How may I help you?
Tina : Hi! I'd like to book a ticket for a jazz concert.
Scott : Sure. Which one do you prefer, August 21st or August 25th?
Tina : August 25th, please.
Scott : Could I have your name and phone number, please?
Tina : Tina White. My phone number is 48978565. Can I learn when the concert starts?
Scott : It starts at 7 pm and it is 3 hours long. It is at the Woods Centre.
Tina : Thank you.
Scott : You're welcome. Please get your ticket before the concert.



Which information on the ticket is NOT correct according to the conversation above?

- A) genre B) time C) date D) place

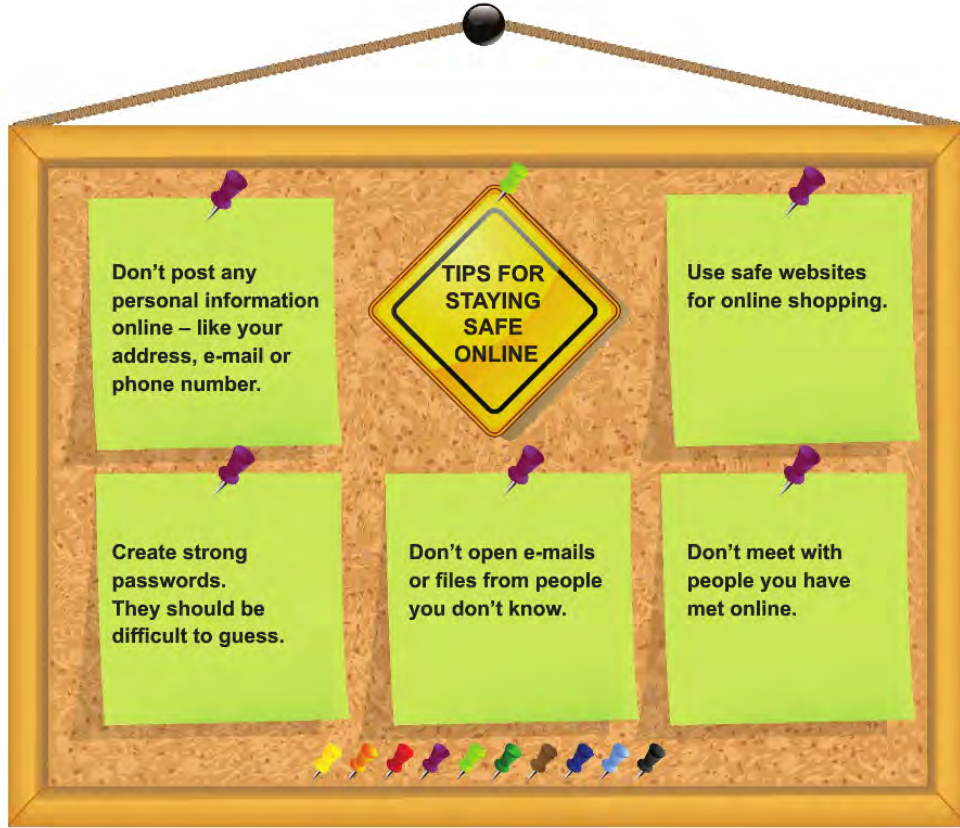


8th GRADE ENGLISH

Unit 5

Answer the question according to the texts below.

1.



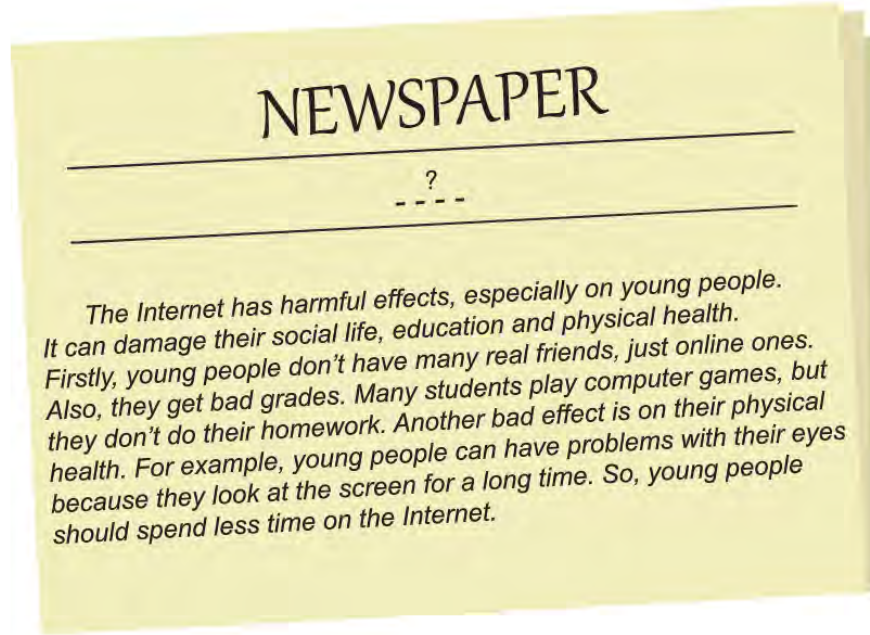
If you want to be safe online, you should - - - .

Which option best completes the sentence?

- A) invite people you met online to your house
- B) create a password such as your birthday
- C) buy things from websites you trust
- D) tell the place of your school

Answer questions 2 - 3 according to the text below.

2.



What can be the best title for the text?

- A) Dangerous Effects of Internet on Physical Health
- B) Disadvantages of Internet on Young People
- C) Social Life, Online Friends and Internet
- D) Internet: Bad for Teen's Education

3. If young people want to have better grades, they should - - - .

Complete the sentence.

- A) have real friends
- B) sit far away from the screen
- C) study more for their lessons
- D) play online games with their friends

Answer the question according to the dialogue between Jeremy and Paul.

4. **Jeremy :** You should be careful about the things you share on the Internet.

Paul : What do you mean?

Jeremy : I mean don't - - - .

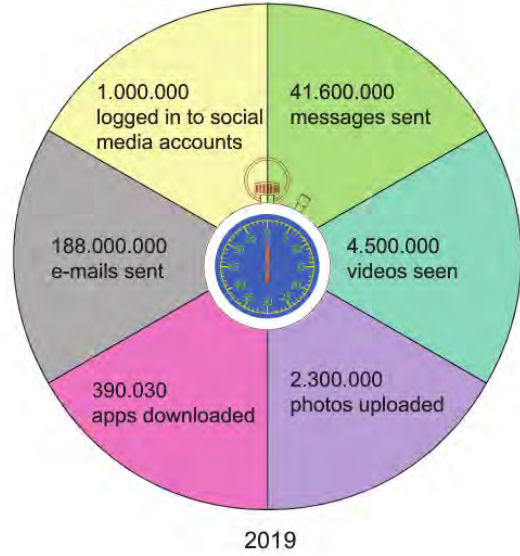
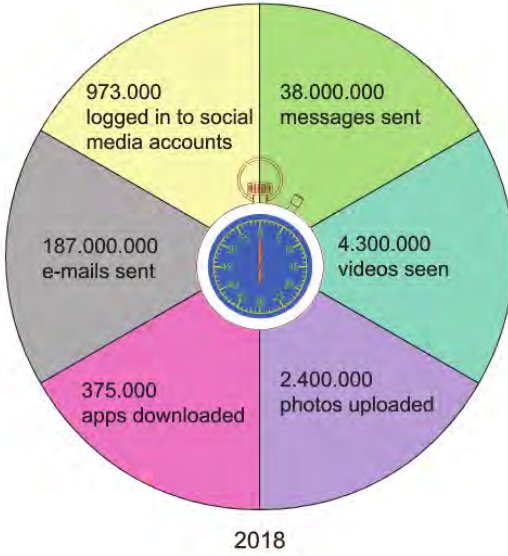
Complete the sentence.

- A) give personal information on the Internet
- B) shop from the websites you trust
- C) believe everything you read
- D) meet your online friends



Answer the question according to the information below.

5. People use the Internet for different reasons. A research compared what happens on the Internet in 60 seconds. The research looked at the years 2018 and 2019.



Complete the sentence.

- - - - in 2019 than they did in 2018.

- A) Less people logged in to their social media account
- B) More people downloaded photos
- C) People watched more videos
- D) People wrote less e-mails

Answer the question according to the telephone screen and the text below.

6.



Frank has a new telephone. He wants to join the Internet.

Which icon should Frank click?

A)



B)



C)



D)



Read the text and answer the question.

7. Mary and her friends spend most of their free time on the Net at weekends. Here is some information about what they do when they are online:

- Mary keeps in touch with her friends on the Net.
- One of them takes an online foreign language course.
- Two of them use the Net for the same purpose.

According to the information above, which of the following is CORRECT?

A)

Mary	Julia	Rose	Ashley
Sending e-mails	Doing research	Downloading articles	Chess training

B)

Mary	Julia	Rose	Ashley
Following her favourite series	Watching movies	Having video chats	Practising Italian

C)

Mary	Julia	Rose	Ashley
Using social networking sites	Learning French	Reading e-books	Checking bank accounts

D)

Mary	Julia	Rose	Ashley
Chatting online	Doing online shopping	Studying Spanish	Ordering what she needs

Read the text and answer the question.

8. Jack wants to create a password for his account and reads the rules below.

HOW TO CREATE STRONG PASSWORDS

- 🔒 Use at least ten characters.
- 🔒 Use a mixture of letters, numbers and punctuation.
- 🔒 Do not use ordered letters and numbers (e.g. abcde, 12345).
- 🔒 Do not use personal information such as names, birth dates or phone numbers.

Which of the following is an appropriate password for Jack?

- A) 3.qa!iwf2m B) 2007jack_7 C) 123123abc+ D) 5552660912

Read the text and answer the question.

- 9.

RULES FOR USING SOCIAL MEDIA SAFELY

- ⚠️ Do not believe any information without confirming it.
- ⚠️ Use private settings to control your account.
- ⚠️ Be sure that you want to post a photo/ video.
- ⚠️ Do not talk about your private life.



Tom: In the evenings, I surf the Internet. When I see interesting news, I try to find out its source.

Sally: I am very careful before I post a photo or video online.

Chris: When I sign up to a social media site, I make sure that only my friends see what I post.

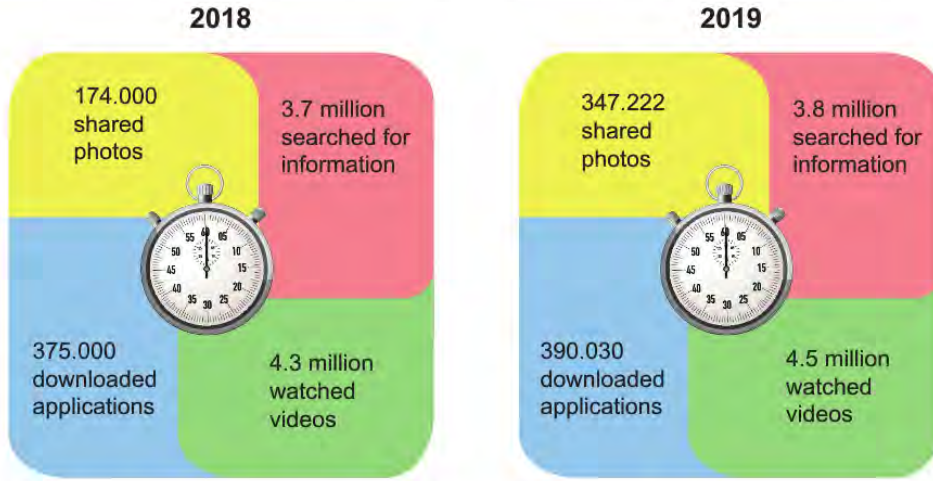
Emily: When I am online, I tell everybody my birthday, where I live and what I like.

Who does NOT follow the rules for using social media safely?

- A) Tom B) Sally C) Chris D) Emily

Read the text, look at the visuals and answer the question.

10. The visuals below show what kind of activities people did on the Net in a minute in 2018 and 2019.

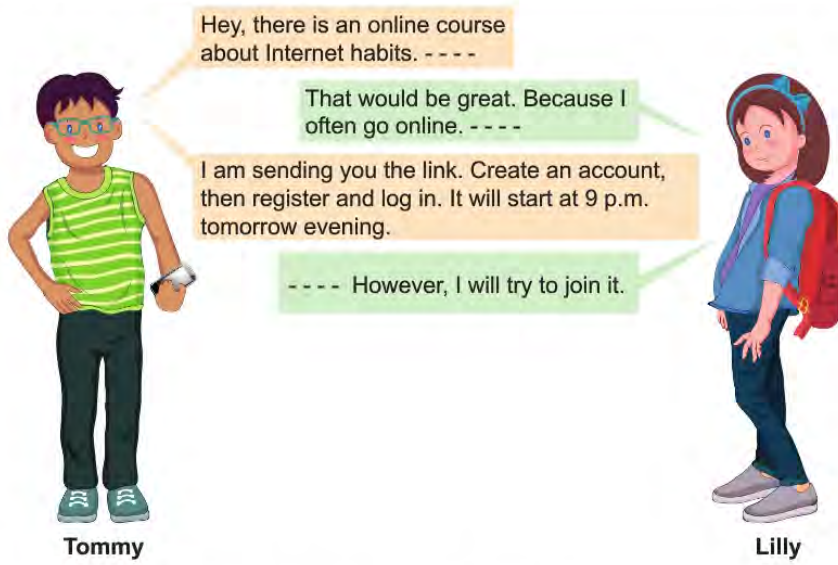


According to the results above, which of the following is NOT correct?

- A) In 2018, people shared less photos than in 2019.
- B) More people watched videos on the Net in 2018 than in 2019.
- C) People downloaded more applications from the stores in 2019.
- D) About four million people used search engines both in 2018 and 2019.

Read the conversation and answer the question.

11.



Which of the following does NOT complete the conversation above?

- A) Would you like to register?
- B) My Internet is not working properly.
- C) What is the web address of the course?
- D) I am bad at face-to-face communication.

Read the text and answer the question.

12. Here is Mike's search history in the last two weeks:

History	
2 weeks	
<input type="checkbox"/>	Facts about websites
<input type="checkbox"/>	Online courses
<input type="checkbox"/>	Social media addiction
<input type="checkbox"/>	Internet safety rules

Which of the following is NOT related to Mike's search history?

- A) The exact number of active Internet sites is unknown.
- B) New generation smartphone war takes new shape.
- C) 92% of teens go online daily and 24% say they are always online.
- D) Many people practice a foreign language by using the Internet.

Read the text and answer the question.

13. Online games are very popular among young people. Lots of children are becoming addicted to the Internet and online games. They play online games on their tablets or smartphones. These children spend 6-10 hours online and they rarely have face-to-face communication with their families. Some of them refuse to go to school because they want to stay at home and play games. Parents are not happy about their children.

Which of the following does NOT have an answer in the text above?

- A) What kind of devices can children use to play online games?
- B) How much time do the addicted children spend online?
- C) What are the reasons for online game addiction?
- D) How do parents feel about their children's habits?



Read the text and answer the question.

14. A teacher asks 100 students why they use the Internet. Here are their answers:

- 12 students use the Internet to chat.
- 24 students use the Internet to share their photos.
- 42 students use the Internet to learn something new.
- 22 students use the Internet to follow their favourite series.

Which of the following is CORRECT according to the information above?

- A) Only a few students search new things on the Internet.
- B) Nearly 25% of the students post photos on the Internet.
- C) Half of the students prefer watching something on the Internet.
- D) 20% of the students use the Internet for communication.

Read the text, look at the visual and answer the question.

15. Sally and her friends answered a survey to learn if they are Internet addicts. Here are their answers:

ARE YOU AN INTERNET ADDICT?	
Choose your answers.	
1. Do you play online games every day?	<input type="checkbox"/> Yes <input type="checkbox"/> No
2. Do you use the Internet to do your homework?	<input type="checkbox"/> Yes <input type="checkbox"/> No
3. Do you have more than two social media accounts?	<input type="checkbox"/> Yes <input type="checkbox"/> No
4. Do you comment on all of your friends' photos?	<input type="checkbox"/> Yes <input type="checkbox"/> No
5. Do you spend more than three hours online every day?	<input type="checkbox"/> Yes <input type="checkbox"/> No

**If you have answered more than three of the questions with YES, you are an Internet addict.*

SALLY		TOM	
Yes	No	Yes	No
1. <input type="checkbox"/>	<input checked="" type="checkbox"/>	1. <input checked="" type="checkbox"/>	<input type="checkbox"/>
2. <input checked="" type="checkbox"/>	<input type="checkbox"/>	2. <input type="checkbox"/>	<input checked="" type="checkbox"/>
3. <input checked="" type="checkbox"/>	<input type="checkbox"/>	3. <input checked="" type="checkbox"/>	<input type="checkbox"/>
4. <input checked="" type="checkbox"/>	<input type="checkbox"/>	4. <input checked="" type="checkbox"/>	<input type="checkbox"/>
5. <input checked="" type="checkbox"/>	<input type="checkbox"/>	5. <input type="checkbox"/>	<input checked="" type="checkbox"/>

MARIA		JACK	
Yes	No	Yes	No
1. <input type="checkbox"/>	<input checked="" type="checkbox"/>	1. <input checked="" type="checkbox"/>	<input type="checkbox"/>
2. <input checked="" type="checkbox"/>	<input type="checkbox"/>	2. <input type="checkbox"/>	<input checked="" type="checkbox"/>
3. <input type="checkbox"/>	<input checked="" type="checkbox"/>	3. <input checked="" type="checkbox"/>	<input type="checkbox"/>
4. <input checked="" type="checkbox"/>	<input type="checkbox"/>	4. <input checked="" type="checkbox"/>	<input type="checkbox"/>
5. <input type="checkbox"/>	<input checked="" type="checkbox"/>	5. <input checked="" type="checkbox"/>	<input type="checkbox"/>

Which of the following is NOT correct according to the results of the survey?

- A) Sally and Maria use the Internet to get help for their lessons.
- B) Tom and Jack spend more time on the Net than the others.
- C) All of them share their opinions about their friends online.
- D) Two people are Internet addicts according to the results.



8th GRADE ENGLISH

Unit 6

Look at the brochures and read the text below. Complete the sentence according to them.

1.

PARAGLIDING

- Are you an adventurer?
- Do you enjoy watching the view over the sky?
- What about paragliding together?

Date : **28th May**

- ✓ \$ 50 for each person
- ✓ Free food
- ✓ Free bus service
- ✓ Paragliding parachute needs \$ 30

Contact us at prgldng@prgldng.com

SCUBA DIVING

- Are you an adrenalin lover?
- Do you want to explore the world under water with professional trainers?

Then, join us
on 17th April.

- ✓ \$ 50 for each person
- ✓ Free transportation
- ✓ Equipment included
- ✓ Free sandwiches for lunch

Contact us at scuba@diving.com

Steve loves extreme sports a lot. So far, he has tried several activities such as rafting and rock climbing. He wants to try a different sport, but he doesn't have much money. He has two options. He prefers going scuba diving because - - - .

- A) it is on April 17
- B) he doesn't like free food
- C) it offers free transportation
- D) he won't pay for equipment

Answer the question according to Martin's talk below.

2.

Extreme sports are popular all over the world. People enjoy the adventure and fun. I am one of them. I like extreme sports because they are exciting. I tried paragliding before and I enjoyed it. Then, I tried water extreme sports such as diving, kayaking and rafting. They are all exciting, but I enjoy exploring the fish and sea animals the most. I think it is more amusing than all other sports. I also take photos of different kinds of fish.

Martin

What is Martin's favorite extreme sport?

- A) Paragliding
- B) Kayaking
- C) Rafting
- D) Diving

Complete the sentences in questions 2 - 3 according to the text below.

3.



If you want to have a safe and amusing safari tour, you should - - - .

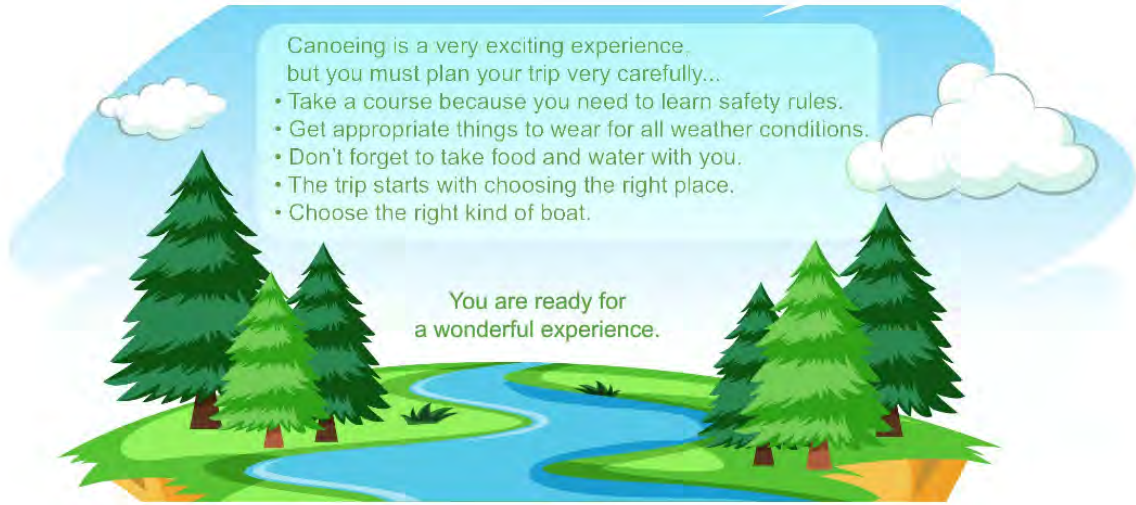
- A) wear comfortable clothes
- B) be close to the animals
- C) not stay in the tour car
- D) not take any photos

4. - - - - will help you during the safari.

- A) Heat
- B) Mosquitos
- C) Tour guides
- D) Wild animals

Complete the sentence according to the text below.

5.



There is no information about - - - .

A) clothes

B) equipment

C) climate

D) training

Answer the question according to the text below.

An extreme sports complex conducted a research on what people think about extreme sports. Here are some of the answers.

6.

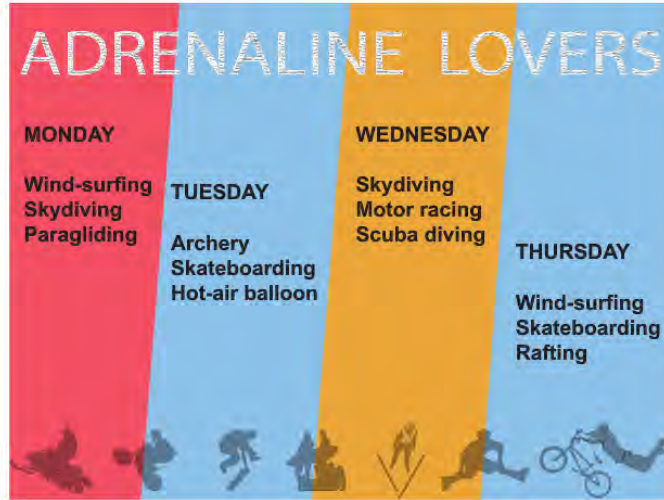
What do you think about extreme sports?	
ANDY	I love extreme sports. I prefer climbing. I go climbing with my friends about three times a year.
JESSICA	I love doing water extreme sports not the others. I am in love with sea. My favourite is exploring fish under water.
AMELIE	I am afraid of extreme sports so I prefer indoor exercises. I do sports three or four times a week.
JASON	I love nature so I like sports such as trekking and canoeing. With the school trekking club, we try a new route every month.

Which of the following **CANNOT** be correct according to the people's answers?

- A) Amelie loves sports like bungee jumping.
- B) Jessica enjoys the scuba diving most.
- C) Andy likes camping in the mountains.
- D) Jason is an eco-friendly person.

Read the text, look at the poster and answer the question.

7. Emily, Sandra and Sally want to try extreme sports together. However, they like doing different kinds of activities. Emily enjoys being in the air. Sandra is interested in underwater sports. Sally is keen on speed.



According to the information above, which of the following is a suitable day for all of them?

- A) Monday B) Tuesday C) Wednesday D) Thursday

Read the text and complete the sentence.

8.



When I go on a holiday, I try different sports. I tried skydiving last summer. It requires a lot of courage and it is really exciting. You jump from a plane with a parachute. I have also done rafting and it was awesome. You travel down the river and try to stay on the boat. It is challenging and dangerous, but I would like to do it again. If you ask me which sport I liked more, I would say skydiving.

The text above is mainly about Nick's - - - .

- A) plans about future holidays
B) experiences with extreme sports
C) preferences of equipment for skydiving
D) thoughts about transportation options

Look at the brochure and answer the question.

9.

RAFTING ON ÇORUH RIVER

Would you like to try rafting on Çoruh River?

Çoruh River is in the northeast of Turkey. It is one of the top ten white-water rivers in the world. Because of the water level, the best months for rafting here are May and June. Many travel companies organize rafting holidays on Çoruh River. They provide wet suits, helmets, life jackets and the other necessary things for rafting. While on a rafting holiday, you can camp by the river or you can stay in hotels or village houses.



Which of the following is **CORRECT** according to the text?

- A) People have to bring their own rafting equipment.
- B) If you want to try rafting on Çoruh, go there in the winter.
- C) Çoruh is the most popular white-water river in the world.
- D) There are various accommodation options for rafting lovers.



8th GRADE ENGLISH

Unit 7

Answer the question according to the brochure below.

1.

- Are you interested in nature?
- Would you like to take a balloon tour?
- What about trying horse riding or paragliding?

Then, take a trip to Göreme between August 28-30.

Enjoy a two-night stay at a

five-star hotel

**For more information call:
0 500 123 45 67**



Which question is NOT answered in the text?

- A) What do we eat? B) How long is the trip?
C) What activities do you offer? D) Where do we stay during the trip?

Answer the question according to Fiona's talk.

2.



Fiona

I work in a big city so holidays are important for me. I prefer summer holidays. I love the sea and the beach but historic places attract me most. I have exciting plans for next summer. First, I am going to visit an ancient city because I like walking through old cities and learning about different cultures. Then, I will go to a beautiful hotel by the beach and swim every day.

Where is she going to start her holiday?

A)



B)



C)



D)



Answer the questions 3 and 4 according to the brochure.

3.


TRAVEL TO TURKEY

BALIKESİR

It's famous for Mount Ida (Kazdağı), special desserts, seafood and local bazaars. You can enjoy swimming and the beautiful beaches.

RİZE

Rize is famous for its natural beauties. Its most important features are: tea gardens, fish (hamsi) and local folk dance (horon). There are so many routes to go trekking.



ADIYAMAN

It is a city of culture and ancient cities. Mount Nemrut is on the World Heritage List. It is also worth going for its local bazaars and of course its delicious food, especially meatballs (çiğ köfte).

VAN

Van is not by the sea, but it has Turkey's biggest lake. It is one of the best places for rafting and paragliding. Local bazaars and its famous breakfast attract many local and foreign tourists.

After Andrew saw the brochure, he decided to go to Turkey because he studies history at university. He thinks this trip will be useful for his lessons.

Which city should he go?

A) Adıyaman

B) Balıkesir

C) Rize

D) Van

4. In all the cities, a tourist can - - - .

Complete the sentence.

A) enjoy extreme sports

B) see an ancient city

C) do water sports

D) taste local food

Complete the sentence according to the information on the website.

5.

How To Travel

- ◆ Around the city: Travelling by bus is cheap, but it isn't the fastest way.

What to do

- ◆ Explore Ancient Rome
- ◆ Enjoy the countryside
- ◆ Try different types of pasta
- ◆ Attend a traditional food festival



Where to stay

- ◆ Choose a hotel around the places you will go, so you can walk and enjoy the streets in the city.
- ◆ Try staying in the countryside.

When to visit

- ◆ There's really no "bad" time to visit Italy. You can enjoy Italy the whole year. Especially in April to July.

On the website, you can find information about - - - .

- A) cheaper accommodation tips
- B) appropriate months to go to Italy
- C) activities that local people enjoy most
- D) fastest transportation way to the countryside

Answer the question according to the information below.

The website helps tourists to plan their trip according to their interests. First, write where you are going. Then, choose the topics you are interested in. The website finds the appropriate places or activities for you.

6.

PLAN YOUR TRIP
Because a good trip starts with a good plan.

Enter your destination: country, region or city

+Add destination

Date

Adult - 2 +

Child - 2 +

Choose

☐ Culture

☐ Museum

☐ Food and Drink

☐ Fun

☐ Wildlife

☐ Beaches

☐ Shopping

☐ Historic Sites

If you are interested in eating local food, going to concerts and swimming, which options should you choose?

- A) Culture, Wildlife and Fun
- B) Beaches, Fun, and Food & Drink
- C) Historic Sites, Beaches and Wildlife
- D) Food & Drink, Shopping and Museum

Read the text and answer the questions 7-8.

Terry asked some of his friends about their holiday plans and wrote down their answers. Here are his notes:

<u>Names</u>	<u>Preferences</u>	<u>Dates of their holidays</u>
Lily	She likes water sports, so she is going to swim and go scuba diving.	13 - 20 June
Mary	She likes extreme sports. Therefore, she is going to do mountain biking and skydiving.	18 - 22 May
Tom	He is going to a summer camp because many people from different nationalities are going to be there. He is going to learn more about their cultures.	21 - 23 August
Dave	He is interested in history. Therefore, he is going to visit Göbeklitepe, Şanlıurfa which is nearly 12000 years old.	22 - 24 April

7. Which of the following is **NOT** correct according to the information above?

- A) Lily is planning a seaside holiday for the summer.
- B) Mary and Dave prefer different kinds of holidays.
- C) Lily's and Tom's holidays have the same duration.
- D) Dave is going to visit an ancient site.

8. Which of the following does **NOT** have an answer in the text above?

- A) Which equipment do they need on their holidays?
- B) Who prefers going on an adventure holiday?
- C) When are they going to have their holidays?
- D) Why are they going on such holidays?



8th GRADE ENGLISH

Unit 8

Fill in the blank according to the table and the text below.

Emily Jones is our teacher. Every week, she gives rewards to the students who has the most smiling faces for each title on the table. Last week, Jack got a book for keeping the class clean because he had the most smiling faces.



Responsibilities in Class				
Responsibilities Students	Coming to class on time	Helping other students	Doing your homework	Keeping the class clean
Mark	😊😊😊	😊😊😊	😊😊😊😊	😊😊
Lily	😊😊😊😊😊	😊😊	😊😊😊	😊😊
Jennifer	😊😊	😊😊😊😊😊	😊😊😊	😊
Amelie	😊😊😊😊😊	😊😊😊	😊😊😊😊😊	😊😊😊
Jack	😊😊😊	😊😊😊😊😊	😊😊😊	😊😊😊😊😊

1. Unfortunately, - - - - could not get any prize last week.

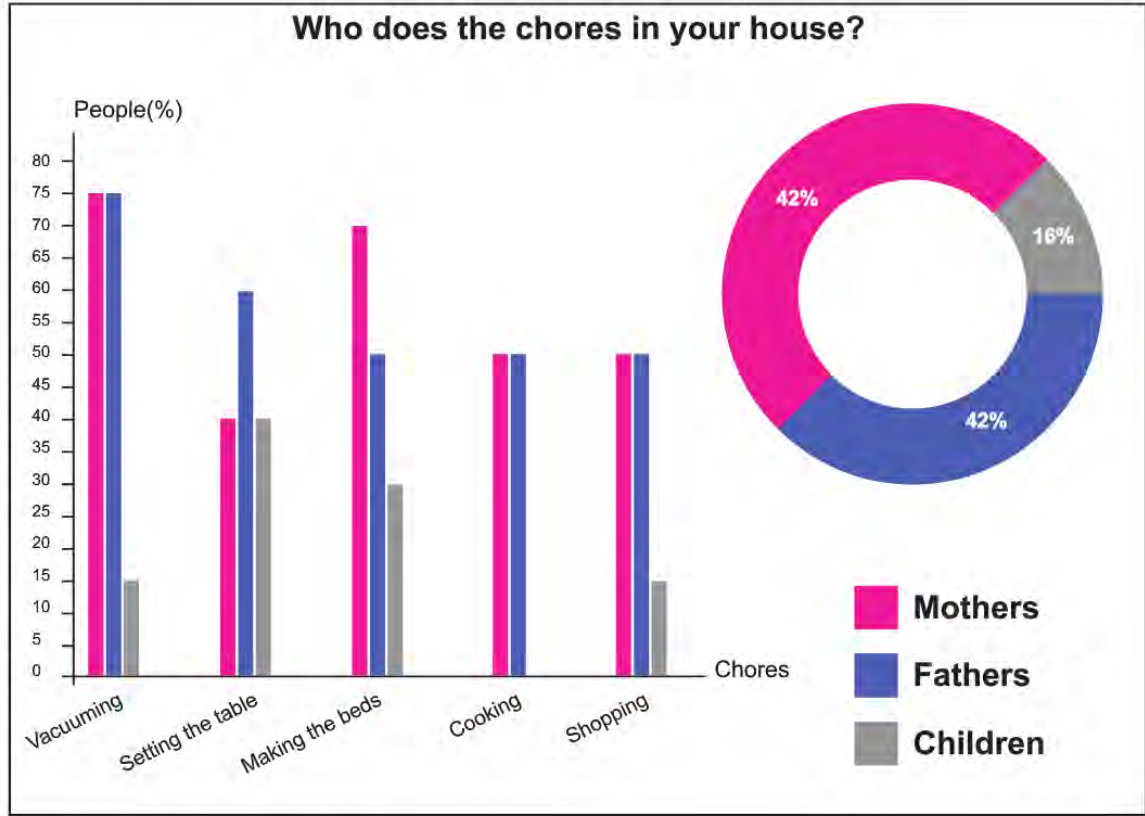
A) Jennifer

B) Amelie

C) Lily

D) Mark

Answer the questions 2 - 3 according to the information below.



--- do most of the chores in the house.

2. Fill in the blank according to the information above.

- A) Mothers
- B) Parents
- C) Children
- D) Fathers

3. Which of the following is CORRECT according to the information?

- A) Every member of the family takes part in all the household chores.
- B) Fathers spend more time on cooking than mothers and children do.
- C) Mothers are in charge of making the beds less than other members of the family.
- D) The number of mothers vacuuming the house is the same as the number of fathers.

Fill in the blank according to the information below.



Student Responsibilities

As a student of class 3 – A, I accept to obey all the rules in my classroom.

- ✓ Study hard and do all my homework.
- ✓ Dress appropriately.
- ✓ Respect all students and teachers.
- ✓ Come to class on time.
- ✓ Help other students.
- ✓ Listen carefully to my teacher.
- ✓ Keep the classroom clean and tidy.

Name: Susan Bell

Susan

4. A student in this class should - - - .

- A) hit their friends
- B) be late for the lesson
- C) not do their homework
- D) not throw garbage on floor



8th GRADE ENGLISH

Unit 9

Answer the question according to the text.



Aziz Sancar was born in Savur, Mardin in 1946. He had four brothers and three sisters. His parents were not rich and all the children including Aziz helped them with their work. He worked hard to be a doctor. He has conducted a lot of research on medicine. Today, he is a world famous scientist who has the Nobel Prize in chemistry.

1. What is the main idea of the text?

- A) Famous scientists have Nobel prizes.
- B) He had many brothers and sisters.
- C) Hard work brings success.
- D) It was difficult to be a doctor.



8th GRADE ENGLISH

Unit 10

Fill in the blank with the appropriate word.



1.

- A) Earthquake
- B) Forest fire
- C) Drought
- D) Flood

ENGLISH ANSWER KEY

Unit 1

1. D
2. A
3. B
4. C
5. B
6. D
7. D
8. D
9. B
10. A
11. B
12. C
13. A
14. C
15. D
16. C

Unit 2

1. C
2. B
3. B
4. B
5. C
6. A
7. C
8. A
9. B
10. D
11. C
12. D

Unit 3

1. B
2. A
3. D
4. D
5. A
6. C
7. D
8. A
9. B
10. B
11. B
12. D
13. A
14. B
15. C

Unit 4

1. C
2. B
3. C
4. B
5. C
6. A
7. A
8. D
9. B

Unit 5

1. C
2. B
3. C
4. A
5. C
6. A
7. D
8. A
9. D
10. B
11. D
12. B
13. C
14. B
15. B

Unit 6

1. D
2. D
3. A
4. C
5. C
6. A
7. C
8. B
9. D

Unit 7

1. A
2. B
3. A
4. D
5. B
6. B
7. C
8. A

Unit 8

1. D
2. B
3. D
4. D

Unit 9

1. C

Unit 10

1. A



2018-2019

Sınavla Öğrenci
Alacak Ortaöğretim Kurumlarına
İlişkin Merkezi Sınav Soruları

Sözel Bölüm

1. I. Tedirgin etmek, sataşmak
II. İnsanın içine işlemek, duygulandırmak, etkilemek
III. İlişkin olmak, ilgili olmak, değinmek

"Dokunmak" sözcüğü aşağıdaki cümlelerin hangisinde numaralanmış anlamlarından herhangi biriyle kullanılmamıştır?

- A) Masamın üzerindeki evraklara kimse dokunmasın.
B) Bugün ona dokunmayın, keyfi yerinde değil.
C) Bu konuya dokunduklarını pek görmedim eleştirmenlerin.
D) Hiçbir şiirin bana bu kadar dokunduğunu hatırlamıyorum.

3. Birden çok yüklemli cümlelerde öznenin bütün yüklemle uyumlu olması gerekir. Aksi takdirde özne eksikliğinden kaynaklanan anlatım bozukluğu meydana gelir.

Aşağıdakilerin hangisinde bu açıklamayı örnekleyen bir anlatım bozukluğu vardır?

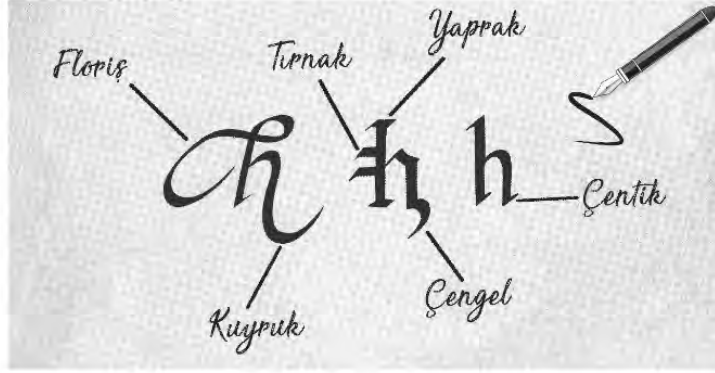
- A) Tarlaya tohumlar ekimde atılacak, ürün haziran-da toplanacak.
B) Bu hastalığın tedavisi bulunmalı, insanlığa tehdit olmaktan çıkarılmalı.
C) Yazarın her kitabını okuyorum ve takdir ediyorum.
D) Her akşam bizimle ilgilenir, yemek getirirdi.

2. Aşağıdaki cümlelerin hangisinde "tecrübe"yi anlatan bir söz kullanılmamıştır?

- A) Bizim takımın teknik direktörü eski kurttur, maçlarda takıma iyi taktik veriyor.
B) Sütten ağzı yandı, yoğurdu üfleyerek yiyor; artık arkadaş seçiminde daha dikkatli.
C) Ben insan sarrafı oldum, beni kolay kolay kandıramazlar.
D) İnce eleyip sık dokuduğundan işlerinde başarılı oluyor.

4. Kaligrafi sanatı, yazıya ahenkli ve anlamlı şekiller verme sanatıdır ve içinde birçok tekniği barındırır. Sanatçılar eserlerinde bu teknikleri kullanarak kendi tasarımlarını oluşturabilir. Harfin yapısına ve kendi isteklerine göre çizgi tekniklerinin yönlerini değiştirebilir.

Görselde kaligrafi sanatında kullanılan bazı çizgi teknikleri verilmiştir.



Buna göre aşağıdaki sözcüklerden hangisi "kuyruk, çengel, çentik, tırnak" teknikleri kullanılarak yazılmıştır?

- A) *Tael* B) *Kum*
C) *Naz* D) *Lav*

5.



Bilim insanları, tarihî mağaralardan birinin duvarında yukarıdaki şekilleri buluyorlar. Bu şekillerin bilinmeyen bir yazı sistemi olduğuna karar veriyorlar. Bu yazı sisteminde her şeklin bir sözcük olduğu ve sözcüklerin soldan sağa dizildiği sonucuna varıyorlar.

Bu bilgilere göre aşağıdaki şiirlerden hangisi mağara duvarında bulunan sembollerin düzenine uygun yazılmıştır?

- A) Bu bir türkü
Toprak çanaklarda
Güneşi içenlerin türküsü
- B) Görmek koklamak hissetmek
Alabildiğine koşmak
Alabildiğine koşmak gökyüzüne
- C) Kuşlar kanat çırpıyor
Süzülüyor gökyüzünde
Gökyüzünde süzülüyor kuşlar
- D) Sözlerin özlem kokulu
Beni yüreklendirir
Beni yüreklendirir sözlerin

6. Deneme, bir konu üzerinde yazarın kesin yargılara varmadan, kanıtlama amacı gütmeyen kişisel görüşlerini ifade ettiği yazı türüdür.

Aşağıdakilerden hangisi bu açıklamayı örnekleyen bir metindir?

- A) Bir melodi duyduğumuzda beynimizde, farklı işlevleri olan birçok bölge etkinleşir. Bir müzik aleti çaldığımızda ise bu etki çok daha belirgindir. Çünkü bir müzik aleti çalabilmek için kas hareketlerinin kontrollü ve uyum hâlinde olması gerekir. Bunun için de beyin daha aktif çalışır.
- B) Herkes kendi hayatından bilir ki her gün birbirini görmeyen tadı başka, ayrılık kavuşmanın tadı başkadır. Ayrılıklar benim yakınlarıma sevgimi tazeler, ev hayatımın tadını artırır. Unutulmamalı ki sevginin kolları, birbirimizi dünyanın bir ucundan bir ucuna kucaklayabilecek kadar uzundur.
- C) Şefika Kutluer adına 1-21 Aralık tarihleri arasında uluslararası festival düzenleniyor. "Sihirli Flüt" unvanlı, Türk sanatçı Şefika Kutluer adına düzenlenen bu festivale bu yıl ABD, Çin, Portekiz, Slovakya, Polonya, Avusturya ve Filistin'den sanatçılar katılacak.
- D) On yıl kadar önce, annemin gençlik arkadaşı Bedia Muvahhit'le karşılaşmıştım bir lokantada. Yanına gittim, eğildim "Bedia Teyze, yetmişimi aştım." diye fısıldadım kulağına. Bu münasebet-siz lafımla onun da yetmişini çoktan aştığını söylemek istediğimi hemen anladı. "Sus kız! Herkese ilan edeceksin." diye beni şakadan azarladı.

7. Miyop, gözün uzaktaki cisimleri net olarak göremediği bir göz hastalığıdır. Uzağı yani geleceği göremeyen şirketler de "pazarlama miyobu" olarak adlandırılmıştır. Pazarlama miyopluğunun nedeni şirketlerin pazara ve müşterilere eski usul yaklaşmaya devam etmeleridir. Bunun en açık belirtisi de reklamlarında, ürünün müşterilere fayda sağlayacak özelliklerini ön plana çıkarmamalarıdır.

Bu metne göre, aşağıdaki reklam afişlerinden hangisi "pazarlama miyopluğu" yaşayan bir firmaya ait olabilir?


A)



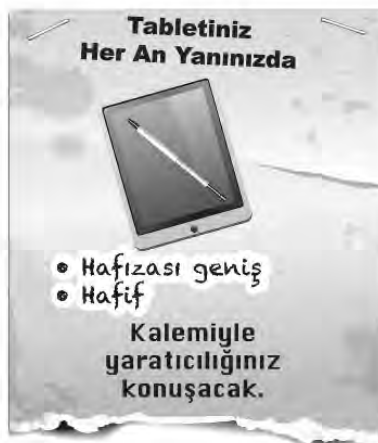
B)



C)



D)



8. Ön yargı, kişinin bir kimse veya bir şeyle ilgili peşinen varsaydığı olumlu veya olumsuz tutumların tümüdür.

Buna göre aşağıdakilerin hangisinde ön yargılı bir tutumdan söz edilemez?

- A) Emanete hıyanet olmaz.
- B) Kişi arkadaşından bellidir.
- C) İnsan yedisinde ne ise yetmişinde de odur.
- D) Çok havlayan köpek ısırılmaz.

10. "Dedesinin elini öptü." cümlesinde "öptü" sözcüğü çekimli fiildir ve cümlenin yüklemidir. "Dedesinin öpülesi ellerini hatırladı." cümlesinde ise "öpülesi" sözcüğü fiil anlamını korumakla birlikte kendisinden sonra gelen ismi nitelediği için sıfat-fiildir.

Buna göre aşağıdakilerin hangisinde sıfat-fiil kullanılmıştır?

- A) Meyvesiz ağaca kimse taş atmaz.
- B) Menfaatleri için küçülmeyen insan büyüktür.
- C) Hayat ancak yaşayarak tecrübe edilir.
- D) Öğrenmenin sınırlarını genellikle kendiniz koyarsınız.

9. Anadolu'yu köy köy dolaşmış bir gezgin olarak Maçka'yı her zaman özlerim.

Bu cümleyi dile getiren kişi için aşağıdakilerden hangisi kesin olarak söylenir?

- A) Anadolu'da en son Maçka'yı gezmiştir.
- B) Anadolu'nun dışında başka bir yer dolaşmamıştır.
- C) Gezdiği yerler içinde aklında sadece Maçka kalmıştır.
- D) Maçka'yı tekrar görmek istemektedir.

11. "Lavanta kokulu Kuyucak köyü, ziyaretçileri büyülüyor." cümlesi; "büyülüyor" yüklemi fiil olduğu için yüklem türüne göre fiil cümlesi, yüklem sonda olduğu için yüklem yerine göre kurallı cümledir.

Bu bilgiye göre aşağıdakilerden hangisi kurallı bir fiil cümlesidir?

- A) Güneşli, güzel günlerin hayalini kuruyorum.
- B) Adım atmaya mecalsiz bir ihtiyar oluyor böyle anlarda zaman.
- C) Soframıza bereket katan şey sıcak bir tebessümdür.
- D) Yapraklarından utanan solgun bir gül taşıyorum göğsümde.

12. • aşka bir kimseden veya yazıdan olduğu gibi aktarılan sözler tırnak içine alınır. Tırnak içindeki alıntının sonunda bulunan işaret tırnak içinde kalır.
- Özel olarak vurgulanmak istenen sözler tırnak içine alınır.
 - Cümle içerisinde eserlerin ve yazıların adları ile bölüm başlıkları tırnak içine alınır. Bunlara getirilen çekim ekleri tırnağın dışında kalır.

Bu açıklamalara göre aşağıdakilerin hangisinde tırnak işaretinin kullanımıyla ilgili yanlışlık yapılmıştır?

- A) İnsanın "sevgi" açlığı, maddi değerlere bağımlılığını artırıyor.
- B) Çoğu arkadaşım Attila İlhan'ın "Ben Sana Mecburum" şiirini ezbere biliyor.
- C) Atatürk'ün "Bilgi kuvvettir." sözü günümüz çağının anahtarıdır.
- D) Kurtuluş Savaşı'nı anlatan "Küçük Ağa'yı" okuduğumda çok etkilendim.

13. Ay ve gün adları belirli bir tarih bildiriyorsa büyük harfle, bildirmiyorsa küçük harfle başlar.

Bu açıklamaya göre,

- I. 2018'de ziyaret ettiğim Kuzey Ege'nin sevimli köyü Assos'u gezmek için Mart belki de en doğru zaman.
- II. Macar bir mimarın grafik resimlerinden oluşan "Türkiye'deki Macar İzleri" başlıklı sergi 2017'nin Eylül ayına kadar ziyaret edilebilecek.
- III. Şebiarus töreni için 15 Aralık çarşamba günü Konya'ya gideceğim.

cümlelerinin hangilerinde yazım yanlışı vardır?

- A) Yalnız I.
- B) Yalnız II.
- C) I ve III.
- D) II ve III.

14. Koca bir ömür yaşamış tecrübeli insanlar, gençlerin umursamaz hareketlerini gördükçe onlara "- - - ." diye nasihat etmekten geri durmazlar. Ama kaç genç bu sözün önemini kavrayabilir? Hâlbuki hayat ilerledikten sonra insanların duydukları birçok pişmanlık, gençlikte bile bile kaybettikleri imkânlar yüzündendir. "O zamanlar niçin daha çok okumadım? Niçin daha çok çalışmadım?" diye dizlerini döven insanlara hayatta çok rastlanıyor. Bu insanların neden bu kadar üzüldüklerini gençler anlamasa bile feleğin çemberinden geçmiş yaşlılar çok iyi anlıyor.

Bu metinde boş bırakılan yere düşüncenin akışına göre aşağıdakilerden hangisi getirilmelidir?

- A) Büyüklerin sözünü dinleyin
- B) Elinizdeki olanakların kıymetini bilin
- C) Geçmişe takılıp kalmayın, geleceğe odaklanın
- D) Hayatta hep mutlu olmaya çalışın

15. Doğup büyüdüğüm mahallede herkes birbirini tanırdı. Kimse aç uyumaz; kimsenin düğünü, cenazesi unutulmazdı. Pek az küslük olur, kalpler kolay kolay kırılmazdı. Bugüne kıyasla masal gibi bir yerdin mahallemiz. Şüphesiz, burası eserlerimdeki konuya ve karakterlere yön verdi.

Bu metin aşağıdaki sorulardan hangisine cevap vermek amacıyla yazılmıştır?

- A) Nasıl bir çocukluk geçirdiniz?
- B) Çocukluğunuzun geçtiği yerler eserlerinizi nasıl etkiledi?
- C) Usta bir yazar, yaşadığı yeri eserlerinde ne ölçüde anlatmalıdır?
- D) Günümüzdeki toplumsal ilişkileri nasıl değerlendiriyorsunuz?

16. Sosyal medya devri bazı şirketler, kendi üyelerinin verilerini işleyip kullanabilmek için bazı özel programlar geliştiriyor. Kişilerle ilgili elde ettikleri verilerden yola çıkarak da onları etkilemeye çalışıyor. 2013'te açıklanan bir araştırmaya göre bu tür programlar, kullanıcılarının karakterini beğendiği içeriklerden yola çıkarak doğru tahmin edebiliyor. Şirketler bu tip programlar sayesinde sizi, sosyal medya hesabınızdaki 9 beğeninize bakarak bir iş arkadaşınız kadar, 65 beğeninize bakarak bir akrabanız kadar, 225 beğeninize bakarak ebeveyniniz kadar tanıyabiliyor. Beğendiğiniz içeriklere dayanarak yaşınızı, cinsiyetinizi, kültür seviyenizi, siyasi görüşlerinizi hatta o anki ruh halinizi sadece bir tıkla tespit edebiliyor.

Bu parçaya göre sosyal medya kullanımı,

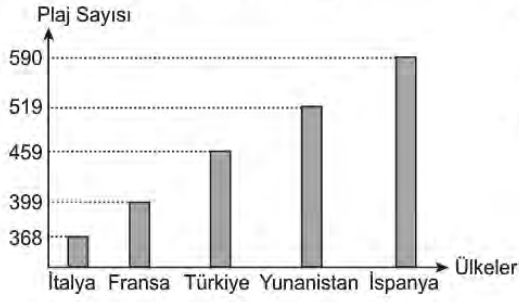
- I. Kişilerin internet şifrelerinin ele geçirilmesi
- II. İnsanların, zamanlarını verimsiz kullanması
- III. İnsanları yönlendirebilecek haber ve yayınlara yer verilmesi
- IV. Kişiyi özel reklamlar sunulması

durumlarından hangilerini ortaya çıkarabilir?

- A) I ve II.
- B) I ve III.
- C) II ve IV.
- D) III ve IV.

17.

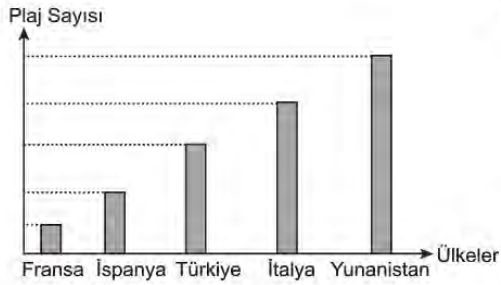
2018 Yılı Ülkelere Göre
Mavi Bayraklı Plaj Sayısı Grafiği



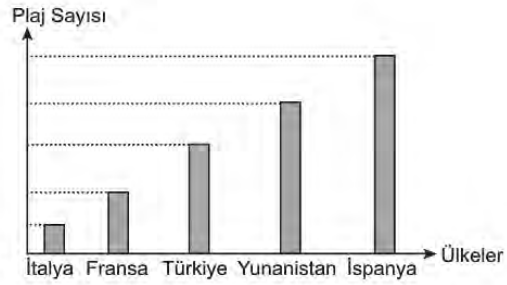
- Türkiye 2018'de sıralamadaki yerini korumuştur.
- 2018'de Fransa, İtalya'yı geçerek son sıradan kurtulmuştur.
- Yunanistan 2018'de liderliğini kaybetmiştir.
- İspanya 2018'de Yunanistan'ı geçerek bir sıra yükselmiştir.

Bu bilgilere göre 2017 yılına ait "Ülkelere Göre Mavi Bayraklı Plaj Sayısı"nı gösteren grafik aşağıdakilerden hangisi olabilir?

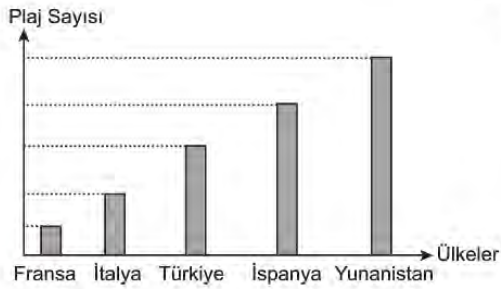
A)



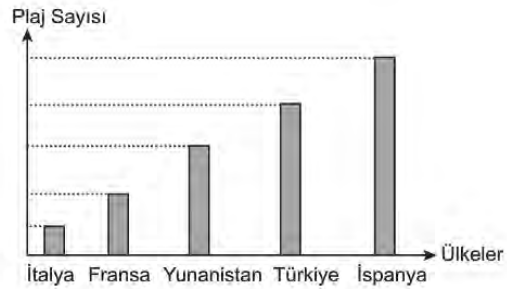
B)




C)



D)



18. Türk Dil Kurumunun e-sözlüğünde yer alan "testi" sözcüğüyle ilgili bazı açıklamalar aşağıda verilmiştir.

<p style="text-align: center;">testi</p> <p style="text-align: center;">Köken: <i>Farsça destî</i></p> <p>Geniş gövdeli, dar boğazlı, emzikli veya emziksiz olabilen, toprak, cam, metal vb. maddelerden yapılan su kabı.</p> <p><i>Çeşme başında dizleri üstüne çökmüş bir ihtiyar kadın, testisini dolduran genç kıza bakıyordu.</i></p> <p>testi kırılmadan</p> <p>testi kırılrsa da kulpu elde kalır - testiye kıran da bir, suyu getiren de</p>
<p style="text-align: center;">"testi" Sözcüğünün Parmak Alfabetiyle Gösterilişi</p>  <p style="text-align: center;">t e s t i</p>

Buna göre "testi" sözcüğünün açıklamalarında, sözlüklerde bulunması beklenen;

- I. Sözcüğün tanımlanması ve tanıma uygun kullanımının örneklendirilmesi,
- II. Sözcüğün, içinde kullanıldığı deyim ve atasözlerine yer verilmesi,
- III. Kimi kavramların ifade ettiği anlamların resimle gösterilmesi,
- IV. Sözcüğün ortaya çıktığı dil ve o dildeki hâli ile ilgili bilgi verilmesi,
- V. Sözcüğün yöresel kullanımlarının belirtilmesi

niteliklerinden hangileri örneklenmiştir?

- A) I, II ve IV. B) I, II ve V. C) II, III ve IV. D) III, IV ve V.

19. Bazen ilacımızı zamanında içmeyi unutuyor, bazen de içtiğimizi unutup aynı ilacı tekrar alıyoruz. Bu soruna çözüm amaçlı bir akıllı ilaç kapağı tasarlanmış. Bu kapak telefona indirilen bir uygulamayla çalışıyor. Bu uygulamaya ilacın adı ve dozajı giriliyor. Kullanmanız gereken zamanda ilacın kapağını açmadığınızda telefonunuza "İlacını acilen al.", aynı ilacı içtiğinizi unutup ikinci kez almaya kalktığınızda telefonunuza "Onu zaten almıştın." uyarı mesajı geliyor. Akıllı ilaç kapağını zamanında açtığınızda ise "Teşekkür ederim." mesajı geliyor.

Kıvanç Bey sabah alması gereken ilacını "V", öğle vakti alması gereken ilacını "Y", akşam alması gereken ilacını da "Z" şeklinde uygulamaya kaydediyor. Kıvanç Bey'in telefonuna gelen mesajlar aşağıdaki tabloda gösterilmiştir.

	Sabah	Öğle	Akşam
Pazartesi	İlacını acilen al.	Onu zaten almıştın.	Onu zaten almıştın.
Salı	Teşekkür ederim.	Teşekkür ederim.	Teşekkür ederim.
Çarşamba	Onu zaten almıştın.	Teşekkür ederim.	Teşekkür ederim.
Perşembe	Onu zaten almıştın.	İlacını acilen al.	Teşekkür ederim.
Cuma	Teşekkür ederim.	Teşekkür ederim.	Teşekkür ederim.

Bu bilgilere göre Kıvanç Bey'in ilaç kullanımıyla ilgili aşağıdakilerden hangisi söylenemez?

- A) Uygulamanın uyarıları, en çok pazartesi günü işine yaramıştır.
 B) Çarşamba günü "V" ilacını içtiğini unutmuştur.
 C) Perşembe günü "Y" ilacını içmeyi uygulama sayesinde hatırlamıştır.
 D) Uygulamanın uyarılarına en çok "Z" ilacı için ihtiyaç duymuştur.

20. Trafik kurallarına uymayan sürücülere belirli oranlarda ceza puanı verilir. Bir yıl içinde ceza puanı 100'e ulaşan sürücünün sürücü belgesine el konur.

Bazı kural ihlalleri ve ceza puanları şu şekildedir.

Kanun Maddesi	Trafik Kural İhlalinin Konusu	Ceza Puanı
44/b	Araç kullanırken sürücü belgesini yanında bulundurmamak	5
47/1-b	Kırmızı ışık kuralına uymamak	20
51/2-a	Hız sınırlarını %30'dan fazla aşmak	15
61/o	Taşıt yolu üzerinde engelli araçları için ayrılmış park yerlerinde park etmek	10
78/1-a	Emniyet kemeri bulundurmamak ve kullanmamak	15

Aynur, Meltem, Rıza ve Veysel'in bir yıl içinde aldıkları ceza puanlarıyla ilgili bilinenler şunlardır:

- Veysel iki ihalden toplam 35 ceza puanı almıştır.
- Aynur, sadece 78/1-a kanun maddesine uymadığı için ceza puanı almıştır.
- Meltem, farklı iki kural ihlalinde bulunmuştur.
- Rıza üç kez aynı kural ihlalinde bulunmuştur.
- Meltem ile Aynur'un ceza puanları aynıdır.

Bu bilgilere göre aşağıdakilerden hangisine kesin olarak ulaşılır?

- A) Veysel'in kural ihlallerinden biri de 51/2-a kanun maddesine uymamasıdır.
 B) Aynur ve Rıza aynı kural ihlalinde dolayı ceza puanı almıştır.
 C) Meltem'in kural ihlallerinden biri de 61/o kanun maddesine uymamasıdır.
 D) Rıza'nın ceza puanı Veysel'inkinden fazladır.

TÜRKÇE TESTİ BİTTİ.

T.C. İNKILAP TARİHİ VE ATATÜRKÇÜLÜK TESTİNE GEÇİNİZ.

5. Mustafa Kemal Paşa, Sakarya Meydan Savaşı'nı şu sözlerle özetlemiştir:

"Düşman, ordumuzu sol kanattan çevirerek çabuk ve yok edici bir sonuç almak istiyordu. Düşmanı savaşıma zorlayarak savaşı cephe savaşı şekline soktuk. Ondan sonra Yunanlar merkezimizi yarmak istedi ancak başarılı olamayıp savunma yapmak zorunda kaldı. Taarruzlarımızla buna da engel olduk ve böylece Sakarya Meydan Savaşı ordumuz tarafından kazanıldı..."

Mustafa Kemal'in bu sözlerine göre Sakarya Meydan Savaşı'nın kazanılmasında aşağıdakilerden hangisi etkili olmuştur?

- A) Türk ordusunun silah bakımından ve sayıca üstün olması
- B) Savaş meydanında askerî harekât ve stratejilerin başarıyla uygulanması
- C) Yunan ordusunun sürekli savunma savaşını tercih etmesi
- D) Savaşın çok geniş ve engebeli bir alanda yapılması

6. Birinci Dünya Savaşı başladığında Osmanlı Devleti,

- Tarafsızlığını ilan etti.
- Boğazları ulaşımına kapattı.
- Ülke genelinde seferberlik başlattı.
- Kapitülasyonları kaldırdığını duyurdu.

Buna göre Osmanlı Devleti'nin aşağıdakilerden hangisini amaçladığı söylenemez?

- A) Ülke güvenliğini sağlamayı
- B) Savaş dışında kalmayı
- C) Ekonomik baskılardan kurtulmayı
- D) Dış borçları kapatmayı

7. Ancak birbirlerinin hâinden anlayan, derdine ortak olan, geleceğe birlikte yürüyen, ortak hayali paylaşan insanlar millet olabilirler. Onlar birbirlerine gönülden bağlıdır. Dinleri, ırkları farklı olabilir ama sevinçleri ve hüzneleri birdir. Aynı gaye etrafında birleşir ve geleceğe inançla yürürler.

Atatürkçü düşüncede millet anlayışını bu şekilde yorumlayan birine göre bir insan topluluğunun millet olmasında;

- I. Ülkü birliği,
- II. Kan bağı,
- III. Din birliği,
- IV. Duygu birliği

unsurlarından hangileri gerekli görülmektedir?

- A) I ve III.
- B) I ve IV.
- C) II ve III.
- D) II ve IV.

8. İzmir İktisat Kongresi'nde alınan kararlardan bazıları şunlardır:

- Tarım makinelerinin ülkemizde yapılması
- Yabancı sermayeye tekel oluşturma yetkisinin verilmemesi
- Fabrika üretimini yaygınlaştırmak için gerekli kolaylıkların sağlanması
- Yerli malı kullanımını sağlamak için bazı zorunluluklar getirilmesi

Bu kararların ortak amacı aşağıdakilerden hangisidir?

- A) Yabancılarla ekonomik ayrıcalık tanımak
- B) Türk çiftçisini bilinçlendirmek
- C) Başka ülkelere bağımlılığı azaltmak
- D) Geleneksel tarımı sürdürmek

9. Atatürk ilke ve inkılapları, yaşanan tecrübeler ve geleceğe dair hedefler üzerine kurulmuştur. Bu ilke ve inkılaplar Amasya Genelgesi'yle başlayan, Erzurum ve Sivas Kongreleriyle devam eden ve TBMM'nin açılmasıyla ortaya çıkan ulusal iradenin her şeyin üzerinde tutulmasını esas alır. Aynı zamanda hiçbir devletin himayesi ve etkisi altına girmeyi kabul etmez.

Bu bilgide Atatürk ilke ve inkılaplarının dayandığı temel esaslardan hangisi vurgulanmıştır?

- A) Millî egemenlik ve tam bağımsızlık
- B) Millî kültürün korunması ve geliştirilmesi
- C) Sürekli gelişim ve değişimi öngörmesi
- D) Uluslararası ilişkilerde saygı ve eşitliği esas alması

10. Atatürk Dönemi Türk dış politikasıyla ilgili bazı ifadeler şunlardır:

- Gerçekleşmeyecek hayaller peşinde koşulmamalıdır.
- Devletler arası ilişkilerde dostça yöntemler takip edilmelidir.
- Siyasi, askerî ve ekonomik alanda kendi iradesiyle hareket etmelidir.

Bu ifadeler Atatürk Dönemi Türk dış politikasının dayandığı aşağıdaki temel ilke ve esaslarla ilişkilendirildiğinde hangisi dışarıda kalır?

- A) Barışçılık
- B) Gerçekçilik
- C) Tam bağımsızlık
- D) Karşılıklılık (Mütakabiliyet)

1. Bir adam, Hz. Muhammed'e (sav.) gelerek hasta olduğunu söyler ve ondan iyileşmesi için dua etmesini ister. Bunun üzerine Hz. Muhammed (sav.) "Bana gelmeden önce bir hekime gittin mi?" diye sorar. Adam gitmediğini söyleyince o da öncelikle hekime gitmesi gerektiğini ifade eder.

Bu parçada aşağıdakilerden hangisi vurgulanmaktadır?

- A) Sağlık, insana verilen en büyük nimetlerdendir.
B) Hastalıkların şifasını veren Allah'tır.
C) İnsan, hasta olmadan gerekli tedbirleri almalıdır.
D) İnsan, hastalık durumunda tedavi olmalıdır.

2. • "Bizim gözetimimiz altında ve öğrettiğimiz şekilde gemiyi yap. Haktan sapanlar için bana başvuruda bulunma!.."
(Hûd suresi, 37. ayet)
• "İkiniz birlikte Firavun'a gidin. Çünkü o, sınırı çok aştı. Yine de ona söyleyeceklerinizi yumuşak bir üslupla söyleyin. Belki öğüt alır yahut korkar."
(Tâ-Hâ suresi, 43-44. ayetler)

Aşağıdakilerden hangisi bu ayetlerde konu edilen peygamberlerden biri değildir?

- A) Hz. Harun
B) Hz. Şuayb
C) Hz. Musa
D) Hz. Nuh

3. Hz. Ömer, Hayber'de çok güzel bir hurma bahçesi satın aldı. Daha sonra Hz. Muhammed'in (sav.) yanına gitti ve "Ey Allah'ın Resûl'ü! Ben bu malımla Allah'ın rızasını kazanmak istiyorum. Onu nasıl değerlendireceğim?" diye sordu. Bunun üzerine Hz. Muhammed (sav.) "Dilersen aslını vakfet, mahsulünü de sadaka olarak dağıt." buyurdu. Hz. Ömer de bahçesini; satılmaması, hibe edilmemesi ve miras bırakılmaması şartıyla fakirlere, kölelere, Allah yolundakilere ve yolculara bağışladı.

Hız. Ömer'in bu davranışı yardımlaşma ile ilgili aşağıdaki kavramların hangisi kapsamında değerlendirilir?

- A) Sadaka-i câriye
B) Sadaka-i fıtır
C) Zekât
D) Öşür

4. I. Yolda oynayan çocuklara rastladığında onlara hâl hatır sorması
II. Hacerü'l-Esved'in yerine konması hususunda onun hakem olmasından herkesin memnun olması
III. Medine'ye hicret edeceği gün, kendisine bırakılan emanetleri sahiplerine teslim etmek üzere Hz. Ali'yi görevlendirmesi
IV. Hayatının son on yılını Medine'de geçirmesi

Numaralanmış ifadelerden hangileri Hz. Muhammed'in (sav.) güvenilir olduğuna örnek oluşturur?

- A) I ve III.
B) I ve IV.
C) II ve III.
D) II ve IV.

5. Hz. Muhammed (sav.), Müslümanlarla beraber umre yapmak için Mekke yakınında Hudeybiye'de konakladı. Durumu haber alan Mekkeliler müşrikler Müslümanları şehre sokmama kararı aldılar. Bunun üzerine Hz. Muhammed (sav.), kendileri ile konuşmak üzere Hz. Ömer'i elçi olarak göndermek istedi. Fakat o "Ya Resûlallah! Eğer Mekkeliler bana zarar vermek isterlerse orada bana sahip çıkacak yeterince akrabam yok." diyerek bu görevden affını istedi. Hz. Muhammed (sav.) de Hz. Ömer'in bu isteğini haklı buldu ve Mekke'de akrabaları güçlü olan Hz. Osman'ı elçi olarak gönderdi.

Bu metinden Hz. Muhammed (sav.) ile ilgili aşağıdakilerden hangisine ulaşamaz?

- A) İnsanların görüşlerine değer verdiğine
B) Akriba ziyaretini önemseydiğine
C) Temkinli ve tedbirli davrandığına
D) Anlayışlı ve uzlaşmacı bir tavır sergilediğine

6. İslam dini; can, mal, nesil, akıl ve dinin korunmasını temel haklar olarak kabul eder.

Aşağıdaki ayetlerin hangisi bu haklardan birinin korunması ile ilgili değildir?

- A) "Ne Güneş Ay'a yetişebilir ne de gece gündüzü geçebilir. Her biri bir yörüngede yürümektedir."
(Yâsin suresi, 40. ayet)
B) "Ey iman edenler! Karşılıklı rızaya dayanan ticaret dışında mallarınızı haksızlıkla yemeyin..."
(Nisâ suresi, 29. ayet)
C) "(Resûl'üm!) Şüphesiz ki Kitab'ı sana hak olarak indirdik. O hâlde sen de dinî Allah'a has kılarak ihlas ile kulluk et."
(Zümer suresi, 2. ayet)
D) "... Kim bir kimseyi haksız yere öldürürse bütün insanları öldürmüş gibi olur. Kim de bir insan hayatını kurtarırsa bütün insanların hayatını kurtarmış gibi olur..."
(Mâide suresi, 32. ayet)

7. Hz. Muhammed (sav.), Muaz bin Cebel'i Yemen'e vali olarak görevlendirdiğinde "Bir sorunla karşılaştığında nasıl çözersin?" diye sorar. Muaz da: "Öncelikle Allah'ın Kitab'ı ile, eğer onda bulamazsam sizden duyduklarım ve gördüklerimle, şayet onda da bulamazsam kendi görüşlerimle." diye cevap verir. Hz. Muhammed (sav.) onun bu cevabından memnun olur.

Bu metin aşağıdakilerden hangisi hakkında bilgi vermektedir?

- A) Dinin temel gayesi
B) Kur'an-ı Kerim'in ana konuları
C) Kur'an-ı Kerim'in özellikleri
D) İslam dininin temel kaynakları

8. Zekât vermek için Allah ve Resûl'ü tarafından belirlenen mali yeterlilik ve zenginlik ölçüsüne sahip olmak gerekir. Bir Müslüman'ın kendisi ve bakmakla yükümlü olduğu kimselerin yeme, içme, barınma, giyinme, sağlık, eğitim ve ulaşım gibi giderleri için ayırdığı mallar, asli ihtiyaçlar kapsamına girer. Bu mallardan zekât verilmesi gerekmez.

Bu metinde zekât ile ilgili aşağıdaki bilgilerden hangisine değinilmemiştir?

- A) Temel ihtiyaç kapsamı dışında kalan fazla maldan verileceğine
B) Varlıklı insanların yerine getirmesi gereken bir ibadet olduğuna
C) Yılda bir defa verilmesi gerektiğine
D) Kur'an ve sünnet ile belirlendiğine

9. Hz. Muhammed (sav.), Hz. Ali'yi bir bölgeye görev için gönderdiğinde ondan, davalı ve davacının her ikisini de dinledikten sonra hüküm vermesini istemiştir.

Bu metinde Hz. Muhammed'in (sav.) hangi yönü vurgulanmaktadır?

- A) Hakkı gözetmedeki hassasiyeti
B) Merhametli ve affedici oluşu
C) Davasındaki cesaret ve kararlılığı
D) İstişareye önem vermesi

10. Hz. Muhammed (sav.), katı kalpli olmaktan şikâyet eden birine, ihtiyaç sahiplerine ikramda bulunmasını ve yetimlere şefkatli davranmasını tavsiye etmiştir.

Bu metinde sadaka ile ilgili aşağıdakilerden hangisi vurgulanmaktadır?

- A) Malı bereketlendirir.
B) Allah rızasını kazandırır.
C) Merhamet duygusunu güçlendirir.
D) Birlik ve beraberliği artırır.

1.

Marcy
We have similar interests.

Lisa
Tim is always cool.

Mel
We have fun together.

Sam
He always tells the truth.


Tim's Best Friends


According to the information above, who thinks Tim is an honest friend?


- A) Marcy
C) Mel
- B) Lisa
D) Sam


2. This afternoon, Jane's mother is coming home from a short trip. Jane's mother can't stand dirty dishes.

Which of the following chores must Jane finish before her mother comes home?

A) 

B) 

C) 

D) 

3. Fill in the blank according to the table below.

Amanda's Exams	
Subject	Day
Chemistry	Monday
History	Tuesday
Physics	Wednesday
English	Friday

Amanda has the - - - -.

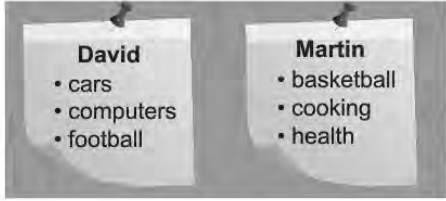
- A) chemistry exam after she has the English exam
B) history and physics exams on the same day
C) physics exam two days after the chemistry exam
D) English exam before she has the history exam

4. **Mike** : Good afternoon. This is Mike.
Sally : Good afternoon, Mike. This is Sally.
Mike : - - - -
Sally : Hold on a moment, please. I'll get him.

Which of the following DOES NOT complete the conversation?

- A) Is Nick there?
B) Nick has gone out.
C) I want to talk to Nick.
D) May I speak to Nick?

5. David and Martin decided to read the same book and discuss it later. Here are the lists of their personal interests:



Choose the book that both David and Martin will enjoy reading.

- A) B)
- C) D)

6.



Gary : Hello everybody! Today, our guest is Michael Miller. What is your favorite sport, Michael?

Michael : It's paragliding.

Gary : ---?

Michael : Twice a week.

Gary : ---?

Michael : Watching the scenery is fascinating.

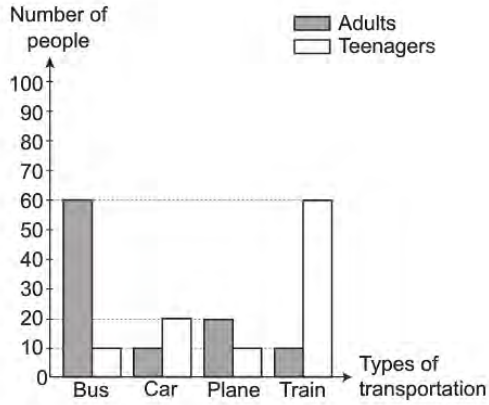
Gary : ---?

Michael : A helmet and a parachute.

Which of the following questions DOES NOT Gary ask Michael?

- A) How often do you do it
B) Why do you like it
C) What do you need for it
D) Where do you try it

7. Researchers asked teenagers and adults about the types of transportation they preferred. Here are the results:



Which of the following is **CORRECT** according to the results?

- A) Travelling by bus is popular among teenagers.
 B) Teenagers mostly travel by train.
 C) Adults always travel by plane.
 D) Adults never travel by car.

8.

NIKOLA TESLA



A Famous Scientist

Nikola Tesla was born on July 10, 1856. He became interested in physics when he was just a small boy. He learned different languages, because he wanted to read about scientific achievements in different parts of the world. He invented many new things during his life.

In this paragraph, there is **NO** information about Tesla's - - - .

- A) relatives B) achievements
 C) birthday D) early ages

9. The table below shows the results of a study on daily Internet activities of 100 teens in Japan.

Internet activities	Number of teens
reading news	5
shopping online	5
checking emails	10
doing homework	15
watching movies	20
playing games	45

According to the results, which of the following is CORRECT?

- A) Shopping online is very popular among teens in Japan.
 B) Most of the students use the Internet to do their homework.
 C) Nearly half of the students spend their time checking their emails and reading the news.
 D) Many of the teens spend time playing games and watching movies.

10. These are pictures from Lily's video:



Lily is talking about making a delicious dessert.

Which of the following steps DOES NOT match with one of the pictures above?

- A) Put some milk, sugar, flour and vanilla in a saucepan.
 B) Heat the mixture in the saucepan and stir it.
 C) Peel the fruits and chop them into small pieces.
 D) Pour the mixture into the bowls and put some pieces of chocolate on each mixture.

TEST BİTTİ.
CEVAPLARINIZI KONTROL EDİNİZ.

SÖZEL BÖLÜM CEVAP ANAHTARI

Türkçe	T.C. İnkılap Tarihi ve Atatürkçülük	Din Kültürü ve Ahlak Bilgisi	Yabancı Dil (İngilizce)
1. A	1. A	1. D	1. D
2. D	2. C	2. B	2. B
3. B	3. A	3. A	3. C
4. C	4. D	4. C	4. B
5. D	5. B	5. B	5. A
6. B	6. D	6. A	6. D
7. A	7. B	7. D	7. B
8. A	8. C	8. C	8. A
9. D	9. A	9. A	9. D
10. B	10. D	10. C	10. C
11. A			
12. D			
13. C			
14. B			
15. B			
16. D			
17. C			
18. A			
19. D			
20. C			



2019-2020

Sınavla Öğrenci
Alacak Ortaöğretim Kurumlarına
İlişkin Merkezi Sınav Soruları

Sözel Bölüm

1. Yazar, çocukluk ve ilk gençlik yıllarını yoksulluk içinde geçirmesine rağmen azim ve

I
iradesi sayesinde her türlü engeli aşmak
suretiyle Türk ilim ve kültür hayatının kendi-

II
siyle daima iftihar ettiği örnek bir ilim insanı
III

olmuştur.

**Bu cümledeki numaralanmış sözcüklerin anlam-
ca karşılıkları aşağıdakilerin hangisinde veril-
miştir?**

I	II	III
A) direnme gücü	amacıyla	gururlanmak
B) kararlılık	yoluyla	kıvanç duymak
C) gayret	isteğiyle	saygı göstermek
D) cesaret	şartıyla	iltifat etmek

2. (I) Bizim memlekette dağ taş, orman ağaç hayatın hikâyesini anlatır. (II) Toprak burada ustanın elinden çıkmış bir çinidir, desen desen. (III) Toprak verimlidir; kuru çubuk daksen meyve verir, salkım salkım. (IV) Portakallar dallarında birer güneştir, turuncu turuncu.

**Bu metinde numaralanmış cümlelerin hangilerin-
de aynı söz sanatı kullanılmıştır?**

- | | |
|--------------|-------------|
| A) I ve III | B) I ve IV |
| C) II ve III | D) II ve IV |

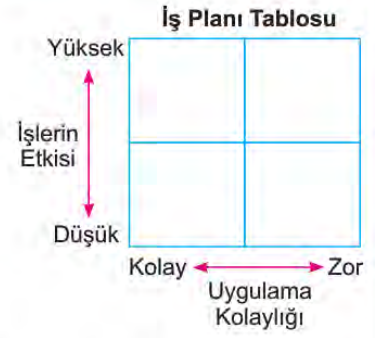
3. Bir sanatçıya, gazetecilerle yaptığı sohbet sırasında gazetecinin biri "Efendim, uzun süredir yeni bir eser vermiyorsunuz. Yoksa düşüncelerinizin üzerine kar mı yağdı?" diye sordu. Bunun üzerine sanatçı "Kışın yağın kar, toprağı örterek bitkileri şiddetli soğuktan korur. Toprağın altındaki bitki ve hayvanlar ilkbahara hazırlanır. Karlar eridiğinde tüm canlılıklarıyla hayatlarına devam eder. Evet, benim düşüncelerimin üzerine kar yağdı." şeklinde cevap verdi.

**Bu metinde sanatçının "Evet, benim düşünceleri-
min üzerine kar yağdı." sözüyle anlatmak istediği
aşağıdakilerden hangisidir?**

- A) Sanatçılar ürettikçe var olur, bu yüzden her zaman ortaya koyacakları bir eserleri olmalıdır.
B) Eser üretmekte zorlanan sanatçılar, sanat güçlerini gittikçe kaybederler.
C) Sanatçılar verimsiz bir dönemde gibi görünseler de yeni eserleri için zihinlerinde hazırlık yaparlar.
D) Düşünce kısırlığı çeken sanatçılar, düşüncelerini zenginleştirmek için çok iyi gözlem yapmalıdır.

6. Sudenaz Hanım şirkette hafta boyunca yapacağı planlama, denetleme, personel alımı ve raporlama işleri için şekildeki gibi bir tablo hazırlamıştır. Yapacağı işleri tabloya yerleştirirken işlerin etki derecesini ve uygulama kolaylığını göz önünde bulundurmuştur. Bunları da şu şekilde belirlemiştir:

- Planlama: Uygulanması zor ve etkisi yüksek
- Raporlama: Uygulanması zor ve etkisi düşük
- Personel alımı: Uygulanması kolay ve etkisi yüksek
- Denetleme: Uygulanması kolay ve etkisi düşük



Sudenaz Hanım'ın bir hafta içinde yapacağı işler şunlardır:

- Şirketin son üç aylık durumunu ortaya koymak amacıyla üretim-satış verilerine ilişkin grafik ve tablolar hazırlamak
- Aksaklık olup olmadığını görmek amacıyla fabrikadaki işleyişi kontrol etmek
- Hangi işin, ne zaman yapılacağına dair bir çizelge hazırlamak
- Şirketin ihtiyacı doğrultusunda, iş başvurusunda bulunan adayların öz geçmiş formlarını incelemek

Bu bilgilere göre Sudenaz Hanım'ın yaptığı İş Planı Tablosu aşağıdakilerden hangisidir?

A)

IV	III
II	I

B)

I	IV
III	II

C)

I	III
II	IV

D)

IV	II
III	I

7. Yapılan bir ankette, sorulara verilen cevapların yüzdesi grafiklerde gösterilmiştir.



Aşağıdakilerden hangisi bu grafiklerin raporlaştırılmış hâlidir?

- A) Araştırma sonucuna göre çalışanlar yapay zekâya öğrencilerden çok güvenmektedir. Çalışanlar öğrencilere göre yapay zekânın, işleri insanın yerine yapmasından daha çok endişe duymaktadır.
- B) Yapılan araştırmaya göre insan zekâsına, çalışanlar öğrencilerden daha çok güvenmektedir. İşleri insanın yerine yapay zekânın yapıyor olmasında ise öğrenciler çalışanlardan daha endişelidir.
- C) Araştırma sonuçlarına bakıldığında hem çalışanların hem de öğrencilerin yapay zekâya insan zekâsından çok güvendiği görülür. Ancak iki grup arasındaki en büyük fark, işleri insanın yerine yapay zekânın yapmasından öğrencilerin daha çok endişe duymasıdır.
- D) Öğrenci ve çalışanlarla yapılan bir araştırmanın sonucu her iki kitlenin de insan zekâsına daha çok güvendiğini ortaya koymuştur. Yapay zekânın insanların işini yapmasından duyulan endişenin öğrencilerde daha yüksek olduğu görülmüştür.

8. I. Çünkü bu tepelere değil yükü tırmanmak, yürüyerek çıkmak bile çok ağır bir spor gibi.
 II. Her birimizin taşıması gereken yük altı yedi kilo var.
 III. Oduncular, köküne zarar vermeyecek şekilde meşeleri kesiyor ve kızağa yüklüyorlar.
 IV. Onlar taşınacak ipleri, baltaları ve diğer malzemeleri hazırlamış; bizi bekliyorlar.
 V. Bu ağırlığın ne demek olduğunu dağa tırmandıkça daha iyi anlıyorum.
 VI. Dağdan odun indirecek odun ekibiyle buluşmak için sabah erkenden köyün meydanına geldik.

Numaralanmış cümlelerle anlamlı bir metin oluşturulduğunda hangisi dışarıda kalır?

- A) II B) III C) IV D) V

9. Sosyal medyanın gündelik hayata etkisi nasıldır?

Aşağıdaki metinlerden hangisi bu soruya verilmiş bir yanıt olamaz?

- A) Asılsız haber ve içerikler sosyal medya yoluyla bilinçli veya bilinçsizce daha fazla ve hızla yayılıyor. Geleneksel medyanın da bunları kaynak almasıyla geniş toplum kitleleri yalan haberlere maruz kalıyor.
 B) Bugün dilimiz yerine parmaklarımız konuşuyor. Eskiden komşu evlerinde yapılan sohbetler şimdi sosyal medya gruplarına taşındı. Aynı evin içinde bile telefonla haberleşir oldu insanlar.
 C) Kullanıcı eğilimleri sosyal medya yazılımlarının güncellenmesine sebep oluyor. Yazılımcılar her geçen gün yeni uygulamalar geliştiriyor. Bu da sosyal medya şirketleri arasında büyük bir rekabet doğuruyor.
 D) Sosyal medya uygulamaları sayesinde gözden uzak olan artık gönülden uzak olmuyor. Araya ne kadar mesafe girerse girsün -isterseniz dünyanın öbür ucuna gidin- fotoğraflarınızı, videolarınızı sevdiklerinizle paylaşabilir hatta onlara canlı yayın yapabilirsiniz.

10. Türkiye'de taşıt plaka kodları, 27 Eylül 1962 tarihinde yayımlanan yönetmelikle düzenlenmiştir. Bu tarihte il niteliğindeki bulunan 67 şehre alfabetik sıraya göre taşıt plaka kodları verilmiştir. Bu tarihten sonra farklı zamanlarda il olan şehirlere de taşıt plaka kodu verilmiştir.

İLLERİN PLAKA KODLARI TABLOSU								
01 Adana	11 Bilecik	21 Diyarbakır	31 Hatay	41 Kocaeli	51 Niğde	61 Trabzon	71 Kırıkkale	81 Düzce
02 Adıyaman	12 Bingöl	22 Edirne	32 Isparta	42 Konya	52 Ordu	62 Tunceli	72 Batman	
03 Afyon	13 Bitlis	23 Elazığ	33 İçel	43 Kütahya	53 Rize	63 Şanlıurfa	73 Şırnak	
04 Ağrı	14 Bolu	24 Erzincan	34 İstanbul	44 Malatya	54 Sakarya	64 Uşak	74 Bartın	
05 Amasya	15 Burdur	25 Erzurum	35 İzmir	45 Manisa	55 Samsun	65 Van	75 Ardahan	
06 Ankara	16 Bursa	26 Eskişehir	36 Kars	46 Kahramanmaraş	56 Siirt	66 Yozgat	76 Iğdır	
07 Antalya	17 Çanakkale	27 Gaziantep	37 Kastamonu	47 Mardin	57 Sinop	67 Zonguldak	77 Yalova	
08 Artvin	18 Çankırı	28 Giresun	38 Kayseri	48 Muğla	58 Sivas	68 Aksaray	78 Karabük	
09 Aydın	19 Çorum	29 Gümüşhane	39 Kırklareli	49 Muş	59 Tekirdağ	69 Bayburt	79 Kilis	
10 Balıkesir	20 Denizli	30 Hakkâri	40 Kırşehir	50 Nevşehir	60 Tokat	70 Karaman	80 Osmaniye	

Bu bilgilerden aşağıdakilerin hangisine ulaşılabilir?

- A) Ardahan, Eskişehir'den sonra il olmuştur.
 B) Şanlıurfa'ya "Şanlı" unvanı 27 Eylül 1962'den sonra verilmiştir.
 C) Gaziantep "Gazi" unvanını 27 Eylül 1962'deki düzenlemeden önce almıştır.
 D) Bursa, Manisa'dan önce il olmuştur.

11. Bizim zamanımızda şiir, hayatımızın içinde yer alan ve ruhumuzu ince söyleyişleriyle besleyen bir türdü. Şiirin etkisi, on beş yirmi sene öncesine göre çok çok azaldı. İnternet üzerinden de dolaşıma girmesine rağmen şiirin etkisi azalmaya devam etmektedir. Bunun temel sebebi, hayatın bugünkü koşullarının heyecan, zevk, merak unsurlarını anlık duygular hâline getirmesidir. Şairin ilham aldığı bir melek yok artık! Melekler hayatımızdan çekildi! Onları hayatımızdan çekilmeye zorladık. Artık ilhamı, içi boş şeylerden alıyoruz.

Bu metnin yazıldığı türle ilgili aşağıdakilerden hangisi doğrudur?

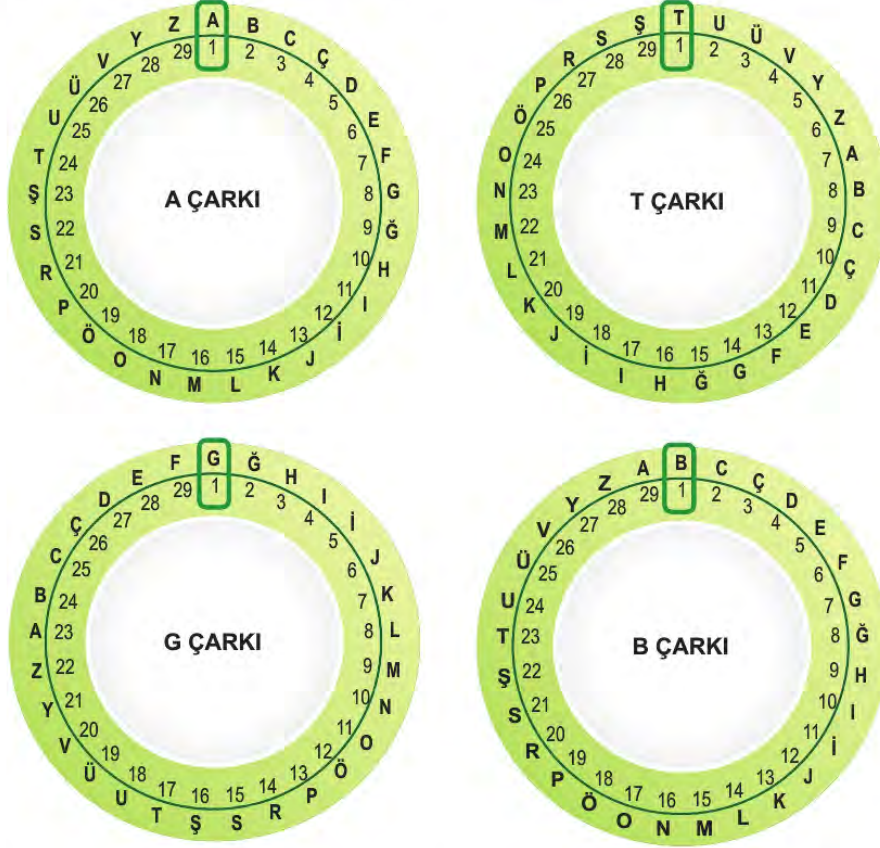
- A) Bir kişinin başından geçen olaylar aktarılmıştır.
- B) Düşünceler bir olay örgüsü çerçevesinde dile getirilmiştir.
- C) Düşünceler kanıtlama amacı güdülmeden öznel bir üslupla ifade edilmiştir.
- D) Bir konuyla ilgili tespitler bilimsel gerçekliğe uygun olarak anlatılmıştır.

12. Avustralya'da yaşayan Rebecca isimli bir kadın, dünyada sadece 80 kişide görülen "süper otobi-yografik hafıza"ya sahip. Rebecca, bugüne kadar yaşadığı en önemsiz olayları bile gayet net hatırlayabiliyor. Çocukken okuduğu kitapların hemen hepsini cümlesi cümlesine ezbere anlatabiliyor. Çoğu insanın gıpta edebileceği bu yetenek, sonradan olumsuz bir duruma dönüşebiliyor. Yeni şeyler öğrenme konusunda zaman zaman güçlükler çeken Rebecca, hatıralarıyla baş etmekte zorlanıyor. Bu özel durum, yeni öğrenmelere yer açan unutkanın ne kadar güzel olduğunu gösteriyor.

Bu medya metninin yazılış amacı aşağıdakilerden hangisidir?

- A) Olay yorumlama – Bilgi aktarma
- B) Bilgi aktarma – İkna etme
- C) Kültür aktarma – Olay yorumlama
- D) İkna etme – Kültür aktarma

15. Görsellerde bir şifreleme sistemine ait çarklar verilmiştir.



Üç harfli bu şifreleme sisteminde, yazılacak sözcüklerin harfleri için önce A çarkından harfin numarası bulunur; sonra sözcüğün birinci harfi için T, ikinci harfi için G, üçüncü harfi için B çarkından o numaraya karşılık gelen harf yazılır. Üçten fazla harfli olan sözcüklerde ise döngü aynı şekilde devam ettirilir.

Buna göre "VATAN" sözcüğünün bu şifreleme sistemindeki karşılığı aşağıdakilerden hangisidir?

- A) RGUTT B) RGUGT C) RTGTU D) RTGGU

16. Otomobillerde hibrit teknoloji, çevreci ve ekonomik olması nedeniyle son yıllarda tercih edilmeye başlandı. Hibrit araçlarda fosil yakıtla ve elektrikle çalışan iki ayrı motor bulunur. Hibrit otomobil teknolojisi bu iki motoru, uygun durumlar için “değişmeli” veya “beraber” kullanarak aracın yakıt verimliliğini artırırken zararlı gaz salınımını azaltır.

Hibrit Otomobilin Çalışma Sistemi

Kalkış: Sadece elektrikli motor çalışır.

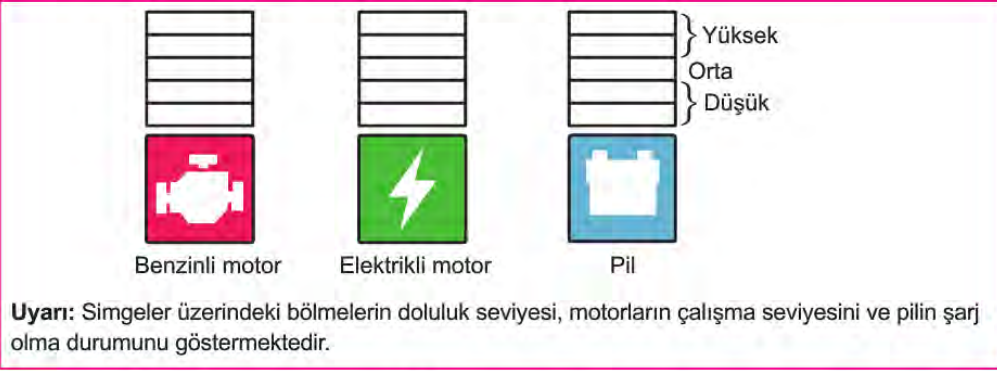
Normal sürüş: Asıl gücü elektrikli motor sağlarken diğer motor gerektiğinde destek olur.

Hızlı sürüş: Benzinli motor asıl gücü sağlarken elektrikli motor destek olur.

Yavaşlama-Frenleme: Benzinli ve elektrikli motor durur.

Pilin Şarj Olma Durumları

- Benzinli motor çalıştığında düşük düzeyde şarj olur. (Hızlı sürüşte şarj olmaz.)
- Frenleme sırasında yüksek düzeyde şarj olur.



Bu bilgilerden yola çıkarak benzinli ve elektrikli motorun çalışma seviyeleri ile pilin şarj olma durumunu göstermek isteyen biri, aşağıdakilerin hangisinde yanlışlık yapmış olur?

A) Kalkış:



B) Normal sürüş:



C) Hızlı sürüş:



D) Yavaşlama-Frenleme:



17. Shenzen şehri 1980'lerde uygulanmaya başlanan SEZ (Özel Ekonomik Bölge) projesiyle kurulmuş ve bu projeden sonra gelişmiş bir şehir. Shenzen sokaklarını adımlar ve teknolojik dünyanın enerjisini hissederken hep aynı tipler çıkıyor önünüze: düşlerinin peşinden koşan girişimciler, ilham peşindeki sanatçılar, kişilik arayışına çıkmış kayıp ruhlar...

Bu metindeki noktalama işaretlerinin işlevi aşağıdakilerin hangisinde yanlış verilmiştir?

- A) İki nokta, kendisiyle ilgili örnek verilecek cümlelerin sonuna konmuştur.
- B) Virgül, birbiri ardınca sıralanan eş görevli kelime ve kelime gruplarının arasında kullanılmıştır.
- C) Yay ayraç, cümledeki anlamı tamamlayan ve cümlelerin dışında kalan ek bilgileri belirtmek amacıyla konmuştur.
- D) Üç nokta, herhangi bir sebepten dolayı açık yazılmak istenmeyen kelime ve bölümlerin yerine konmuştur.

18. Özne; yüklem bildirdiği işi yapan, yüklem bildirdiği durumu üzerine alan ögedir. Nesne ise cümlede öznenin yaptığı eylemden etkilenen ögedir. "Selim çantasını masaya bıraktı." cümlesinde bırakma işini yapan "Selim"dir ve cümledeki öznesidir. Selim'in bırakma işinden etkilenen ise "çanta"dır ve cümledeki nesnesidir.

Bu açıklamaya göre aşağıdakilerin hangisinde altı çizili öge cümledeki öznesidir?

- A) Pencerenin önündeki ağacın çiçekli dalları rengârenk bir kelebeği ağırlıyordu.
- B) Sağlı sollu ırmaklar kasabadaki doğuya meyilli sokakları canlandırmıştı.
- C) İlkbahar rüzgârıyla neşelenen martılar sessizliğe bürünen sokağı çınlatıyordu.
- D) Derme çatma kır bahçesini genç bir dut ağacının gölgesi koruyordu.

19.

Açıklama

Cümlede durum veya zaman bildiren fiilimsiler zarf-fiildir.

Örnekler:

Murat Nehri donunca gençler, üzerinde top zaman bildiren zarf-fiil oynuyordu.

Gözlerini kitaptan ayırmadan sorduğum durum bildiren zarf-fiil soruya cevap verdi.

(I) Yaz aylarında tamamen kuruyan Kara Muğla Deresi'nin yatağını takip ederek Saburhane Meydanı'na ilerliyorum. (II) Saburhane'nin sürprizli sokaklarına doğru yol alırken yüzleri ısıtan neşeli ilkbahar güneşinin ağaçlara can verdiğini hissetmek zor olmuyor. (III) Kim bilir üst üste kaç kat kireç atılmış bembeyaz boyalı evleri keşfetmek için sokak aralarına dalıyorum. (IV) Evlerin ahşap bölümleri, Saburhaneli kadınların titizliğiyle siline siline özgün ve büyümlü bir sanat eserine dönüşmüş sanki.

Bu parçada numaralanmış cümlelerin hangisinde zarf-fiil yoktur?

- A) I B) II C) III D) IV

20.

(I) Çayın hikâyesi yaklaşık beşbin yıl evvel Çin'de başladı. (II) Efsaneye göre İmparator Shen Nung bir öğle istirahatindeyken hizmetkârları, içmesi için ona bir kaptı su kaynatıyorlardı. (III) Bu sırada tatlı bir rüzgâr, sıcak suya birkaç çay yaprağı düşürdü. (IV) İmparator, bu suyu içince öyle beğendi ki çay bir içecek olarak keşfedilmiş oldu.

Bu parçadaki numaralanmış cümlelerin hangisinde yazım yanlışı vardır?

- A) I B) II C) III D) IV

TÜRKÇE TESTİ BİTTİ.
T.C. İNKILAP TARİHİ VE ATATÜRKÇÜLÜK
TESTİNE GEÇİNİZ.

1. "Tanzimat Fermanı sadece iç dinamiklerden kaynaklanmış olamaz. Osmanlı Devleti'nin zayıflamasıyla birlikte, ülkedeki gayrimüslimler üzerindeki hâkimiyetini artırmak isteyen Batılı ülkelerin de tesiri son derece önemlidir." **diyen bir tarihçi Tanzimat Fermanı'nın hangi özelliğine vurgu yapmaktadır?**

- A) Can ve mal güvenliğini devlet güvencesine alması
- B) Azınlıkları kanun önünde eşit kabul eden bir belge oluşu
- C) Ferman'ın ilanında yabancı devletlerin etkisinin bulunması
- D) Osmanlı'nın dağılmasının önüne geçmek için alınan bir tedbir olması

2. Osmanlı Devleti'nin çöküş sürecinde devletin varlığını sürdürmek ve dağılmasını önlemek için bazı fikir akımları geliştirilmiştir. Bu fikir akımlarından biri de Osmanlıcılıktır. Osmanlıcılık akımı, Osmanlı Devleti sınırları içinde yaşayanları hangi din ve soydan olursa olsun kaynaştırarak bir "Osmanlı Milleti" oluşturmayı amaçlamıştır. Ancak Osmanlıcılığın gerçekçi bir çözüm olmadığı kısa sürede görülmüştür.

Buna göre aşağıdaki gelişmelerden hangisi Osmanlıcılık akımının geçerliliğini yitirmiş olduğunun bir göstergesidir?

- A) Osmanlı Devleti'nin Birinci Dünya Savaşı'nda İttifak Devletleri yanında savaşa girmesi
- B) Müslüman olmayanlara bütün devlet memurluklarına atanabilme hakkının verilmesi
- C) Mebusan Meclisinde tüm Osmanlı unsurlarına temsil hakkının verilmiş olması
- D) Balkan milletlerinin isyan edip Osmanlı Devleti'nden ayrılması

3. • İngiltere ve Fransa 12-18 Eylül 1910'da bir tatbikat yapma kararı almıştır. Bu tatbikata Picardie (Pikardi) Manevraları adı verilmiştir. Bu manevralara Osmanlı ordusunu temsilen Mustafa Kemal katılmıştır. Tatbikat sırasında yaptığı gözlem ve değerlendirmelerle dikkatleri üzerine toplamıştır.
- Mustafa Kemal, Balkan Savaşlarının sona ermesinden sonra Sofya'ya ataşe olarak atanmıştır. Bu şehirde sık sık üst düzey toplantı, balo ve davetlere katılmıştır.

Bu bilgilere göre Mustafa Kemal'in aşağıdaki alanlardan hangileri ile ilgili çalışmalar yaptığı söylenebilir?

- A) Ekonomik - Sosyal
- B) Askerî - Diplomatik
- C) Hukukî - Diplomatik
- D) Siyasî - Ekonomik

4. Müdafaa-i Hukuk Cemiyetleri tarih, dil, din ve ırk bakımından kendilerini ilgilendiren bölgenin Türk ve Müslüman çoğunlukta olduğunu İtilaf Devletleri'ne ve dünya kamuoyuna gazete, kitap vs. dağıtarak türlü yollardan anlatmaya çalışmaktaydı. Bu cemiyetler, faaliyetlerini etkin hâle getirmek ve kamuoyunu harekete geçirmek için bölgelerinde kongreler tertip etmekteydi. Bu cemiyetlerden bazıları gerekirse silahlı mücadeleyi de göze almışlardı.

Buna göre Müdafaa-i Hukuk Cemiyetleri hakkında aşağıdakilerden hangisi söylenebilir?

- A) Bölgesel nitelikli kuruluşlardır.
- B) Düzenli ordu birliklerinden oluşmuşlardır.
- C) İhtiyaçları devlet tarafından karşılanmıştır.
- D) İstanbul Hükûmeti tarafından kurulmuşlardır.

5. Büyük Millet Meclisine karşı Anadolu'nun pek çok yerinde ayaklanmalar çıktı. Bu ayaklanmaların çıkmasında İstanbul yönetimi ve İtilaf Devletleri'nin zararlı faaliyetleri etkili oldu. 1920 yılı boyunca süren bu ayaklanmaların amacı Kuvâ-yı Millîye'yi etkisiz hâle getirmek ve bağımsızlık hareketini boğmaktır. Ayaklanmalar, Büyük Millet Meclisini uzun süre uğraştırdı. İnsan ve malzeme kaybedildi. Başta Yunanlar olmak üzere düşman hareketleri daha serbest hâle geldi. Ancak her şeye rağmen ayaklanmalar bastırılarak meclisin otoritesi korundu.

Bu bilgilerden hareketle Büyük Millet Meclisine karşı ayaklanmaların sonuçları ile ilgili,

- I. Millî Mücadele sürecinin uzamasına sebep olmuştur.
- II. Askerî imkânların bir kısmının gereksiz bir biçimde tüketilmesine neden olmuştur.
- III. Büyük Millet Meclisi, çalışmalarına ara vermek zorunda kalmıştır.
- IV. Anadolu'daki bütün işgaller sona ermiştir.

yargılarından hangilerine ulaşılabilir?

- | | |
|-------------|--------------|
| A) I ve II | B) I ve III |
| C) II ve IV | D) III ve IV |

6. Mustafa Kemal, Mondros Ateşkes Antlaşması sonrasındaki süreci şu şekilde değerlendirmiştir:

"Genel savaştan sonra imza edilen ateşkes sonucunda ülkemizin büyük bir kısmı elden gittikten başka vatanımızın önemli parçaları da düşman orduları tarafından işgal edilmişti. Ordumuzun silahları ve cephanesi yabancılar tarafından toplanarak ülke dışına sevk ediliyor ve denize atılıyordu. Kökleri, insanlık tarihinin derinliklerinde bulunan Türk milletinin son ve tek bağımsız devleti yıkılıyordu."

Mustafa Kemal'in bu sözlerinden hareketle Mondros Ateşkes Antlaşması ile ilgili aşağıdaki yargılardan hangisine ulaşamaz?

- A) Türk bağımsızlığına ters düşmektedir.
- B) Osmanlı Devleti'ni hukuken sona erdirmiştir.
- C) Osmanlı topraklarının işgaline zemin hazırlamıştır.
- D) Osmanlı Devleti'nin savunma gücü kırılmaya çalışılmıştır.

7. Aşağıda Urfa direnişine öncülük eden "Onikiler"in, Fransız işgal komutanına gönderdiği notadan bir bölüm yer almaktadır:
- "Biz Urfa Sancağı halkı barışsever insanlarız. Bin yıldan beri bu topraklarda hür olarak yaşıyoruz. Topraklarımıza göz dikenleri hep pişman etmişizdir. Şimdiye dek sizin buraya belli süre için geldiğinizi sanıyorduk. Fakat bayraklarımızı indirmez, sizin Urfa'yı işgal niyetinde olduğunuzu gösteriyor. Bu kötü niyetinizi gördük ve biz Urfalılar, sizi bu topraklardan atmak için bütün gücümüzle çalışmaya yemin ettik. Bizi on iki kişi sanıyorsunuz. Oysaki bu rakam gerçek sayımızın yanında çok küçük kalır. Zira Urfalılar sizleri buradan çıkarmaya yediden yetmiş kadar yemin etmişlerdir."

Buna göre Urfa halkı için aşağıdakilerden hangisi söylenebilir?

- A) Millî egemenliği benimsemişlerdir.
- B) Anadolu'daki ilk silahlı direnişi başlatmışlardır.
- C) İstanbul Hükûmeti ile birlikte hareket etmişlerdir.
- D) Bölgelerini düşman işgalinden kurtarmaya kararlıdır.

8. Birinci Dünya Savaşı'nda, Osmanlı orduları yedi cephede birden savaşımıştır. Örneğin Galiçya Cephesi'nde Ruslarla ve Romenlerle; Makedonya'da Yunan ve Fransızlarla; Çanakkale'de İngiliz ve Fransızlar ile; Filistin, Suriye ve Irak cephelerinde İngilizler ile...

Bu bilgilerden hareketle Osmanlı Devleti hakkında,

- I. Rusya ile farklı blokta yer almıştır.
- II. Savaştığı cepheler taarruz cepheleridir.
- III. İngiliz ve Fransızlarla birden fazla cephede savaşımıştır.
- IV. Osmanlı toplumu savaşa girme düşüncesini desteklemiştir.

yargılarından hangilerine ulaşılabilir?

- | | |
|-----------------|------------------|
| A) I ve III | B) II ve IV |
| C) I, II ve III | D) II, III ve IV |

9. Aşağıda TBMM ile Sovyetler Birliği arasında imzalanan Moskova Antlaşması'nın bazı maddeleri verilmektedir.
- Taraflar herhangi birine zorla kabul ettirmek istenen bir antlaşmayı tanımayacaktır.
 - Kars, Ardahan ve Artvin Türkiye'ye; Batum Gürcistan'a bırakılacaktır.
 - Boğazlar meselesi Karadeniz'e kıyısı olan devletlerle yapılacak bir konferansta görüşülecektir.
 - Kapitülasyonlar her iki ülkenin gelişmesini olumsuz etkilediğinden kaldırılacaktır.

Buna göre Moskova Antlaşması'nın sonuçları hakkında aşağıdakilerden hangisi söylenebilir?

- A) TBMM'nin uluslararası alandaki ilk siyasi zaferidir.
 B) Millî Mücadele'nin Doğu Cephesi başarı ile kapanmıştır.
 C) Sovyetler Birliği, Sevr Antlaşması'nın geçersizliğini kabul etmiştir.
 D) Boğazlar konusu Avrupalı devletlerin görüşleri çerçevesinde çözümlenmiştir.

10. Yurdun her tarafından iki yüz elli kadar öğretmenin katıldığı Maarif Kongresi hakkında Mustafa Kemal: "Cephede ordu Yunanlarla mücadele ederken Ankara'da muallimler ordusu cehalete karşı müdafaa programı hazırlıyor. Harp ve maarif cephelerinin ikisinde de faaliyetler var. Millî ordu vatandan düşmanı, muallim ordusu da cehalet ve zulmeti kovacak, iki hizmetin aynı zamanda gerçekleşmesi ulvî bir tesadüftür..." ifadelerini kullanmıştır.

Buna göre Maarif Kongresi hakkında,

- I. Cephede kazanılan başarılar eğitimden daha önemli görülmüştür.
 II. Kurtuluş Savaşı devam ederken toplanmıştır.
 III. Temsiliyet açısından ulusal nitelik taşımaktadır.
 IV. Ülkedeki eğitim kurumları Millî Eğitim Bakanlığına bağlanmıştır.

Çıkarımlarından hangileri yapılabilir?

- A) I ve II
 B) I ve IV
 C) II ve III
 D) III ve IV

**T.C. İNKILAP TARİHİ VE ATATÜRKÇÜLÜK TESTİ BİTTİ.
 DİN KÜLTÜRÜ VE AHLAK BİLGİSİ TESTİNE GEÇİNİZ.**

1. Toplumun sağlıklı bir şekilde varlığını sürdürebilmesi için uyması gereken yasalara toplumsal yasalar denir. Sevgi, kardeşlik, doğruluk, adalet, kul hakkı gibi ilkeler toplumsal yasaların temelini oluşturur. Toplumsal barış ve uyum bu ilkelere olan bağlılıkla sağlanır. Bu konuda Kur'an-ı Kerim'de "... Şüphesiz ki bir topluluk kendi durumunu değiştirmedikçe Allah onların durumunu değiştirmez..." (Ra'd suresi, 11. ayet) buyrulmaktadır.

Bu metinden aşağıdakilerin hangisine ulaşılabilir?

- A) Toplumsal yasalar Allah'ın birliğinin delillerinden-
dir.
B) Toplamların huzuru, toplumsal yasalara uyup
uymamalarına göre değişiklik gösterir.
C) Allah her topluma durumlarını düzeltmeleri için
peygamberler göndermiştir.
D) Toplumsal yasaların iyi anlaşılması için Kur'an
geçmiş toplumların hayatlarından örnekler verir.

2. Kendimi bildim bileli yazıyorum. Bazen bir satır, bazen sayfalarca. Bunun bana hediye edilmiş bir yetenek olduğunu biliyorum. Arkadaşlarım sinemaya, tiyatroya giderken ben masamda oturup yazmayı tercih ediyorum. Saatlerce uykusuz kalsam da yazdıklarımın beğenilmesi tüm yorgunluğumu alıyor. Bazen kendi kendime soruyorum. Kelimelerim olmazsa ben kimim?

Bu metin, kader ile ilgili aşağıdaki kavramlardan hangisiyle ilişkilendirilemez?

- A) Emek
C) Cüzi irade
B) Külli irade
D) Sağlık

3. Hz. Muhammed (sav.) döneminde zekât, görevliler tarafından toplanır ve ihtiyaç sahiplerine ulaştırılırdı. Hz. Muhammed (sav.) giyim kuşam ürünlerinin bol olduğu Yemen'e zekât için gönderdiği görevliye, arpa ve buğday gibi toprak ürünlerinin zekâtını elbise olarak almasını söylemişti. Çünkü bu uygulamanın hem zekâtın ulaştırılacağı insanlar hem de zekât verecek olan Yemen halkı için uygun olacağını düşünmüştü.

Bu metinden aşağıdakilerin hangisine ulaşılabilir?

- A) Zekâtta insanların durum ve ihtiyaçları gözeti-
lir.
B) Zekât verilecek malın üzerinden bir yıl geçmelidir.
C) Toprak ürünlerinin zekâtı hasat döneminde veril-
melidir.
D) Zekât verirken gizliliğe özen gösterilmelidir.

4. Bir sahabe elinde bir miktar altın ile Hz. Muhammed'e (sav.) gelerek bundan başka malı olmadığını, onu da sadaka olarak vermek istediğini söyledi. Fakat Hz. Muhammed (sav.) onun bu isteğini kabul etmedi. Sahabe ısrarcı davranınca, "Biriniz sahip olduğu her şeyi getirip 'Bu benim sadakamdır.' diyor, sonra da oturup insanlara avuç açıyor. Sadakanın en hayırlısı ihtiyaç fazlası maldan verilir." buyurdu.

Bu metinde aşağıdakilerden hangisi vurgulanmaktadır?

- A) Zekâtın hangi mallardan verilmesi gerektiği Hz. Muhammed (sav.) tarafından belirlenmiştir.
B) Kişinin kendisinin ve ailesinin geçimini sağlama-
sı, sadaka vermesinden önceliklidir.
C) İslam, sadaka beklemek yerine çalışarak kazan-
mayı teşvik eder.
D) Sadaka, insanın Allah'a kulluk etmesinin bir
göstergesidir.

5. Ordu'nun bir ilçesinde yaşamakta olan zihinsel engelli Salih, her gün evinin yakınındaki kara yolunun kenarına çıkmakta, gelip geçenlere el sallayarak selam vermektedir. İlçe halkının sevgisini kazanan Salih'in her sabah gittiği bu mekân, zamanla "Salih'in Yeri" olarak anılmaya başlanmıştır. Ancak ilçede yapılan kara yolu çalışmasında Salih'in Yeri yıkılmıştır. Bu durum Salih'i çok üzmüştür. Bunu duyan ilçe kaymakamı, Salih için kara yolu kenarına üstü kapalı başka bir yer yaptırmış ve onun tekrar yola çıkıp insanlara el sallayarak mutlu olmasını sağlamıştır.

Kaymakamın bu davranışı aşağıdaki hadislerden hangisi ile ilişkilendirilemez?

- A) Sizin en hayırlınız insanlara faydalı olanınızdır.
B) Her iyilik bir sadakadır.
C) Kim Allah'a ve ahiret gününe iman ediyorsa misafirine ikram etsin.
D) Allah her işte güzel davranmayı emretmiştir.

6. Hz. Muhammed (sav.), sorumluluklarını terk ederek kendisini sadece ibadete veren Osman bin Mazun'a şöyle demiştir: "Ailenin senin üzerinde hakkı vardır. Misafirin senin üzerinde hakkı vardır. Senin kendi üzerinde hakkın vardır."

Bu metinden çıkarılabilecek en kapsamlı yargı aşağıdakilerden hangisidir?

- A) Konuklara gereken ilgi gösterilmelidir.
B) Aile fertlerinin ihtiyaçları karşılanmalıdır.
C) İbadetler noksanlı ve zamanında yapılmalıdır.
D) Dinin yaşanmasında denge gözetilmelidir.

7. Geleneksel Türk motiflerine bakıldığında İslam dinine ait figürlere sıkça rastlanmaktadır. Bunun en güzel örnekleri halı, kilim ve duvar süslemelerinde görülmektedir. Bu eserlerde camiye sembolize eden kubbe ve mihrap figürlerine, ahireti sembolize eden anahtar ve kapı figürlerine sıkça yer verilmektedir.

Bu metinden aşağıdakilerin hangisine ulaşılabılır?

- A) Dinin kültür üzerinde etkisi vardır.
B) Din, kendinden önceki güzel gelenekleri devam ettirir.
C) Türklerin İslam öncesindeki kültürleri, İslam'ı kabul etmelerinde etkili olmuştur.
D) İslam sanatı, tevhid anlayışı çerçevesinde şekillenir.

8. Münire Teyze torununa bir miktar parası olduğunu ve bunu kendisine sürekli sevap kazandıracak bir hayır için harcamak istediğini söyledi. O da Afrika'da su ihtiyacı olan insanlar için bir su kuyusu açtırmanın bu amaç için uygun olacağını ifade etti. Bu teklifi beğenen Münire Teyze, bir su kuyusu açtırarak insanların ihtiyaçlarını gidermekten çok mutlu oldu. Torununun iyiliğe aracılık ederek sevap kazanacak olması ise onu ayrıca sevindirdi.

Bu metinden aşağıdaki sonuçların hangisine ulaşılamaz?

- A) İslam ihtiyaç sahiplerine yardım etmeyi teşvik eder.
B) Sadaka-i cariye toplumsal faydaları vardır.
C) Allah, yardım edilen kişinin onurunun korunmasını ister.
D) İnsanları hayra yönlendirmek Allah'ın rızasını kazandırır.

9. Hz. Musa ve inananları Firavun'un eziyetlerinden dolayı Mısır'dan gizlice çıkarken takip edildiklerini fark eder. Hz. Musa'ya inananlar telaşlanır. Bu durum Kur'an-ı Kerim'de şöyle ifade edilmektedir: "İki topluluk birbirini görünce Musa'nın halkı 'İşte yalandık!' dediler. Musa, 'Hayır! Eminim ki Rabb'im benimledir, bana bir çıkış yolu gösterecektir.' dedi." (Şu'arâ suresi, 61-62. ayetler)

Bu metinden Hz. Musa ile ilgili aşağıdakilerin hangisine ulaşılabılır?

- A) Sihirbazların hilelerini boşa çıkarmıştır.
- B) Allah'a olan teslimiyeti ile inananlara örnek olmuştur.
- C) Kardeşi Hz. Harun ile desteklenmiştir.
- D) Firavun'a karşı galip gelmiştir.

10. İslam insana, sahip olduğu imkânlardan, Allah'ın hoşnutluğunu kazandıracak hayır yollarına harcamasını emretmektedir. İslam medeniyetinde -böyle bir niyete dayanması şartıyla- ülkenin savunulması, hac hizmetleri, yoksulların desteklenmesi; okul, cami, yol, köprü, çeşme, bakımevleri gibi toplumsal hizmet ve hayır kurumlarının kurulması hatta tabiatın korunup geliştirilmesine kadar her türlü çaba Allah yolunda harcama sayılmıştır.

Bu metinden İslam ile ilgili aşağıdakilerin hangisine ulaşılamaz?

- A) Medeniyetin gelişmesine katkı sağlar.
- B) İnsandan çevresine duyarlı olmasını ister.
- C) İnsanı iyiye ve güzele yönlendirir.
- D) Yardımlaşmada akrabalara öncelik vermeyi öğretir.

**DİN KÜLTÜRÜ VE AHLAK BİLGİSİ TESTİ BİTTİ.
YABANCI DİL TESTİNE GEÇİNİZ.**

1. Read the comments about Jack.

I know he always backs me up.



Jess

We really get on well.



Angelina

I can never count on him.



Tom

He never shares my secrets with other people.



Bill

According to the comments above, who says something bad about Jack?

- A) Jess
C) Bill
B) Tom
D) Angelina

2. You work at a call center and answer customers' questions on the phone. You are there to solve their problems.

According to the information above, which of the following you should NOT say?

- A) If you have a problem again, please contact us.
B) Our friends will solve your problem today.
C) I am too busy to solve your problem.
D) After I talk to our team, I will call you.

3. Read the statements below.

William : We must listen to our teachers while they are talking.

Charles : We must come home early in the evenings.

Jane : We mustn't drink or eat during our lessons.

Rachel : We mustn't talk to each other during the exams.

Who does NOT talk about school rules?

- A) William
C) Jane
B) Charles
D) Rachel

4.

There is too much black pepper in this soup. I hate - - - food.



Alice

This lemonade is really - - -. Can you add some more sugar, please?



Brad

My brother likes eating - - - things. He always buys chocolate, cookies and cakes.

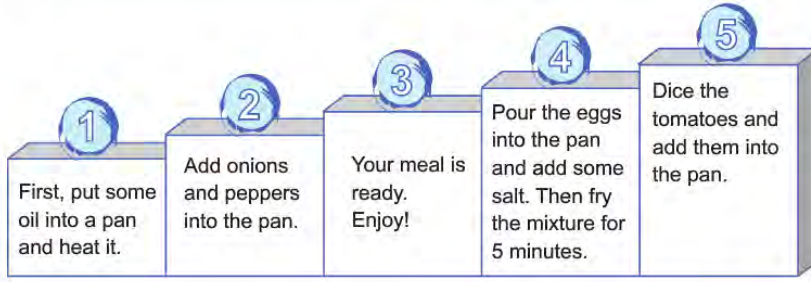


George

Which of the following words CANNOT you use in any of the sentences above?

- A) sour
C) spicy
B) sweet
D) salty

5.



Which of the following steps of the recipe should change places to get the correct order of the cooking process?

A) 1 - 4

B) 2 - 3

C) 3 - 5

D) 1 - 5

6. Read the phone conversation below.

Greg : Hello, It's "Green Mobile".
How can I help you?

Mr. Carter : Hello, my computer is
not working properly.
I think it is broken.

Greg : Oh, OK, I understand. Can
I take your address, please?

Mr. Carter : 8 Freeway Street.

Greg : Thank you. Our team
will be there in an hour to
check your computer.

Mr. Carter : Thank you.

Why does Mr. Carter call "Green Mobile"?

To ----.

- A) tell "Green Mobile" about a problem
- B) buy a new computer
- C) change his home address
- D) say "Thank you" to "Green Mobile"

7.

Dear friends,

Our school basketball team has a match
with a team from Johnson High School
this Saturday at 3 p.m. Let's watch the
match together!

Ted

These are Ted's friends' plans for that day:

- Jason will study for his English exam on that day.
- Kevin has to stay with his grandparents.
- Matt likes basketball matches and he will be there.
- Sandy will meet her cousins.

According to the information above, who will
watch the match?

- A) Sandy
- B) Matt
- C) Kevin
- D) Jason

8. Tomorrow is Kate's birthday. So, Joe decides to buy her a book and asks Kate's friends about the books she has read or bought. These are their answers:

Max : I know she has finished "The
Friendship".

Zack : She wanted to read "The Old World"
and Jane bought it for her.

Rose : She wanted to buy the book "The Indian
Music" but she bought "The Great Dog".

According to the information above, which of
the following books should Joe buy for Kate?

- A) The Indian Music
- B) The Great Dog
- C) The Old World
- D) The Friendship

9. Read the information and the telephone conversation below.

ENGLISH DAY

- Come and Share Your English Project with us.
- No rules, just fun!
- All schools and students can join.

Date : 20.06.2020
Time : 5 - 7 p.m.
Place: Concert House

For more information call 0123 456 78 99

Suzanne : Hello, this is Suzanne Jordan, I'm
calling you for the English Day
event.

Secretary : Hello Suzanne. How can I help you?

Suzanne : What should I do to join the event?

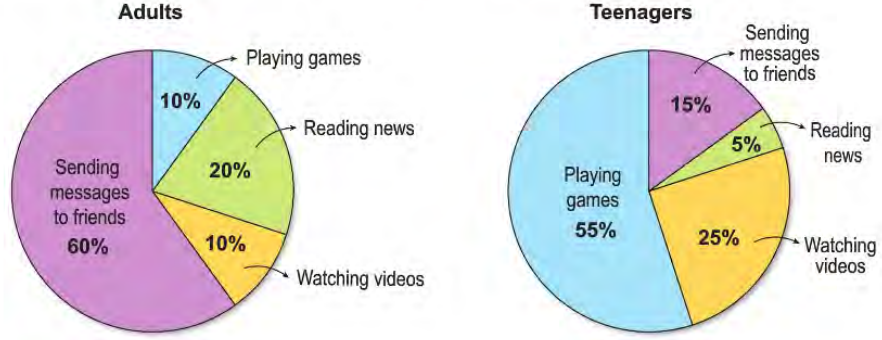
Secretary : ----.

Suzanne : Oh, OK! Thank you.

According to the information above, which of
the following completes the conversation?

- A) You can't join if you are a student
- B) If you need more information, send an email,
don't call
- C) The event will be in the morning, so come early
- D) Just bring your project to the Concert House

10. These are the results of a survey about the Internet habits of adults and teenagers.



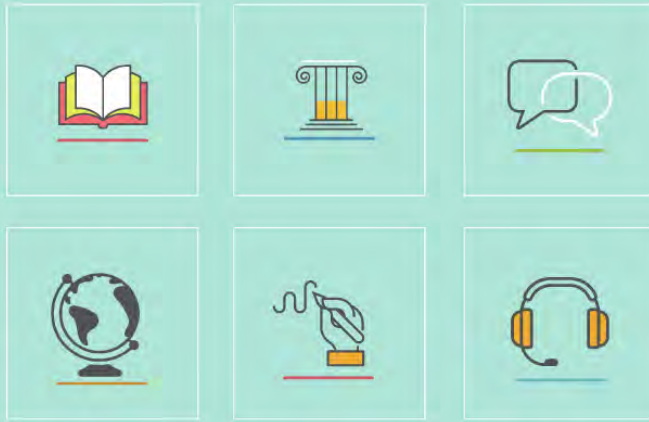
Which of the following is correct according to the results?

- A) Many adults like watching online videos.
- B) Teenagers prefer reading news to watching videos.
- C) Most of the adults enjoy sending messages.
- D) Teenagers hate playing online games.

TEST BİTTİ.
CEVAPLARINIZI KONTROL EDİNİZ.

SÖZEL BÖLÜM CEVAP ANAHTARI

Türkçe	T.C. İnkılap Tarihi ve Atatürkçülük	Din Kültürü ve Ahlak Bilgisi	Yabancı Dil (İngilizce)
1. B	1. C	1. B	1. B
2. D	2. D	2. D	2. C
3. C	3. B	3. A	3. B
4. C	4. A	4. B	4. D
5. A	5. A	5. C	5. C
6. A	6. B	6. D	6. A
7. D	7. D	7. A	7. B
8. B	8. A	8. C	8. A
9. C	9. C	9. B	9. D
10. D	10. C	10. D	10. C
11. C			
12. A			
13. C			
14. B			
15. A			
16. B			
17. D			
18. A			
19. C			
20. A			



www.meb.gov.tr

Bu kitap Millî Eğitim Bakanlığı
Ölçme Değerlendirme ve Sınav Hizmetleri Genel Müdürlüğü tarafından hazırlanmıştır.