



- Bu testte sırasıyla Tarih(1-10), Coğrafya (11-20), Felsefe (21-30), Din Kültürü ve Ahlak Bilgisi (31-40) alanlarına ait toplam 40 soru bulunmaktadır.
- Cevaplarınızı, ekranın solunda yer alan cevap bölümüne işaretleyiniz.

TARİH - COĞRAFYA - FELSEFE
DİN KÜLTÜRÜ AHLAK BİLGİSİ

1. Orta Asya'nın iklimsel koşulları ve ekonomik faaliyetlerinin bir sonucu olarak konar-göçer bir yaşam benimseyen Türk topluluklarından bir kısmı zaman içerisinde çeşitli sebepler ile yerleşik düzene geçmiştir.

Aşağıdakilerden hangisi Türklerin yerleşik yaşama geçmesiyle hayatlarında meydana gelen değişimlere örnek olarak gösterilemez?

- A) Kalıcı mimari eserler inşa etmeleri
- B) Farklı dini inanışları benimsemeleri
- C) Tarımsal etkinliklere önem vermeleri
- D) Yazılı kültüre ait ürünler oluşturmaları
- E) Orak,saban gibi aletleri kullanmaları

2. Orta Asya'da İslamiyet'i benimseyen ilk Türk devleti olan Karahanlılar, İslamiyet'i devletin resmi dini ilan etmiş; fakat birçok konuda İslamiyet öncesi geleneklere bağlı kalmışlardır. Devleti iki koldan yönetmiş; han, hakan gibi unvanlar kullanmış; edebi eserlerinde ve bilimsel çalışmalarında Türkçeyi kullanmışlardır. Ayrıca medreselerde bursluluk sistemini uygulamış, Türk Dünyası adına birçok bilim adamı ve sanatkâr yetiştirerek, Türk dilini ve kültürünü devam ettiren İslam eserleri ortaya koymuşlardır.

Buna göre Karahanlı Devleti ile ilgili aşağıdakilerden hangisi söylenemez?

- A) Merkezi otoriteyi korudukları
- B) Ulusal değerleri sürdürdükleri
- C) İkili yönetim uyguladıkları
- D) Eğitime önem verdikleri
- E) Türk-İslam kültürünü geliştirdikleri

3. İngiltere Kralı VII. Edward ile Rus Çarı II.Nikola 1908'de Reval Limanı'nda bir araya gelmiştir. Bu buluşmada Makedonya ve Boğazlar Sorunu ele alınmıştır.

Reval Görüşmeleri ile ilgili olarak:

- I. II. Meşrutiyet'in ilan edilmesine zemin hazırlamıştır.
- II. İngiltere bu görüşme ile Osmanlı Devleti'nin parçalanmasını onaylamıştır.
- III. Rusya'ya Boğazlar ve İstanbul çevresi verilerek, Makedonya'da ıslahat yapılması kararı alınmıştır.

maddelerinden hangileri söylenebilir?

- A) Yalnız I
- B) Yalnız II
- C) I ve II
- D) II ve III
- E) I, II ve III



4. 22 Mayıs 1919 tarihli Samsun Raporu'nda Mustafa Kemal;

- Türklüğün yabancı mandası ve kontrolüne tahammülü yoktur.
- Rumlar siyasi emellerinden vazgeçerlerse asayiş kendiliğinden sağlanacaktır.
- Yunanlıların İzmir'de hakları yoktur.
- Millet, Türk milliyetçiliğini kabul etmiştir.

görüşlerine yer vermiştir.

9. Ordu müfettişi olarak Mustafa Kemal'den beklenenler göz önüne alındığında aşağıdakilerden hangisi söylenebilir?

- A) Mondros Ateşkes antlaşmasına uygun hareket ettiği.
- B) İstanbul Hükümeti ile görüş birliği içinde olduğu.
- C) Milli egemenliği gerçekleştirmek için çalıştığı.
- D) Görev ve yetkilerinin dışına çıktığı.
- E) Bölgesel çalışmaları desteklediği.

5. Osmanlı Devleti;

- I. Senedi ittifak
- II. Tanzimat Fermanı
- III. I. Meşrutiyetin İlanı

gelişmelerinden hangilerini Avrupa Devletlerinin iç işlerine karışmasını önlemek amacıyla gerçekleştirmiştir?

- A) Yalnız I B) I ve II C) I ve III D) II ve III E) I, II ve III

6.

| | OLAY | SONUÇ |
|------|--------------------|--|
| I. | Havza Genelgesi | İşgallere karşı tepkilerin başlaması |
| II. | Amasya Genelgesi | Mebussan Meclisi'nin toplanması |
| III. | Sivas Kongresi | Milli cemiyetlerin birleştirilmesi |
| IV. | Amasya Görüşmeleri | Temsil Heyeti'nin İstanbul Hükümetince tanınması |
| V. | Misak-ı Milli | Tam bağımsızlık kararının çıkması |

Verilen olay sonuç eşleştirmelerinden hangisi yanlıştır?

- A) I B) II C) III D) IV E) V

7. Cumhuriyet, milletin egemenliğini kendi elinde tuttuğu bir yönetim şeklidir. Cumhuriyet'te egemenlik; kişi, zümre, sınıf gibi toplumun bir kısmına değil tüm halka aittir.

Buna göre:

- I. Medeni Kanun'un kabul edilmesi
- II. Kadınlara seçme seçilme hakkının verilmesi
- III. Seçmen yaşının 22'den 18'e düşürülmesi

Verilenlerden hangisi Cumhuriyet rejimine uygun gelişmelerdir?

- A) Yalnız I B) Yalnız II C) Yalnız III D) I ve II E) II ve III

8.



1919 Versay Antlaşması ile siyasi,-sosyal,ekonomik ve askeri kısıtlamalar getirilen Almanya'da 1929 Ekonomi Bunalımı'nın da etkisi ile Nazi Partisi lideri Adolf Hitler iktidara gelmiştir.



I.Dünya Savaşı'ndan bekletisini karşılayamayan İtalya'da Akdeniz'i "Bizim Deniz" olarak tanımlayan Faşist Parti lideri Benito Mussolini darbe ile 1922'de yönetime el koymuştur.



Çin'in toprağı olan Mançurya'yı işgal eden Japon İmparatoru Hirohito "Asya Asyalılarıdır." sloganıyla Avrupalı Devletleri Asya'dan çıkarmayı amaçlamıştır.

II. Dünya Savaşı öncesi Mihver Devletler hakkında bilgi veren diyagram dikkate alındığında aşağıdaki çıkarımlardan hangisi doğru değildir?

- A) Ekonomik gelişmeler siyasi hayatı şekillendirmiştir.
- B) I. Dünya Savaşı sonrası yaşanan gelişmeler totaliter rejimlerin taraftar bulmasına zemin hazırlamıştır.
- C) Avrupa ve Asya'da mevcut statükoyu tehlikeye atan gelişmeler yaşanmıştır.
- D) Asya'da yayılmacı politikaya karşı mücadele edilmesi amaçlanmıştır.
- E) İtalya'da antidemokratik bir yolla iktidar değişmiştir.

9.



6-11 Ocak 1921 tarihleri arasında Yunan ve Türk ordusu arasında yaşanan I. İnönü Muharebesi ile ilgili verilen haritadan yola çıkarak aşağıdaki yargılardan hangisine ulaşılamaz?

- A) Türk ordusu Yunanlılara karşı savunma savaşı yürütmüştür.
- B) Yunan birlikleri Türk ordusu karşısında direnememiştir.
- C) Türk ordusu, Kuvay-ı Milliye birliklerinden cephede destek almıştır.
- D) Türk ordusu yaklaşık iki katı sayıya ulaşan Yunan kuvvetleri ile mücadele etmiştir.
- E) Yunan ordusu Marmara bölgesinden güneye harekete geçmiştir.

10. Yavuz Sultan Selim'in siyasi politikası, Türk-İslam dünyasını tek çatı altında toplamak ve Safevilerin Anadolu'ya hakim olmak için uygulamaya koyduğu Şii propagandasını önlemektir.

Bu amaçla Safevilerle;

- I. Turnadağ
- II. Çaldıran
- III. Ridaniye

savaşlarından hangileri yapılmıştır?

- A) Yalnız I
- B) Yalnız II
- C) I ve II
- D) I ve III
- E) I, II ve III



11. (I) Kanatları kırmızımsı ve kahverengi, gagası, bacakları ve ayakları siyah olan Lir kuşu, büyük bir sülüne benzer. (II) Menu-ra cinsini oluşturan bu kuş türü, güzel renk ve desenlere, süslü kuyruklara sahiptir. (III) Güney Tasmanya'da nemli orman-larda bulunan Lir kuşları, gece ağaçlarda tüneyen, toprak meskenli kuşlardır. (IV) Zincir, testere, araba motoru, maymun haykırışı, köpek havlaması ve yerel kuşların seslerini taklit ederek sesleri eşsiz bir potpori şeklinde birleştirirler. (V) Sürekli yaşam alanları olan Güneydoğu Avustralya ana kıtasındaki yuvalarından nadiren uzaklaşırlar.

Yukarıda verilen metindeki cümlelerden hangilerinde Lir kuşunun coğrafi dağılışı bahsedilmiştir?

- A) I ve II B) II ve III C) III ve IV D) III ve V E) IV ve V

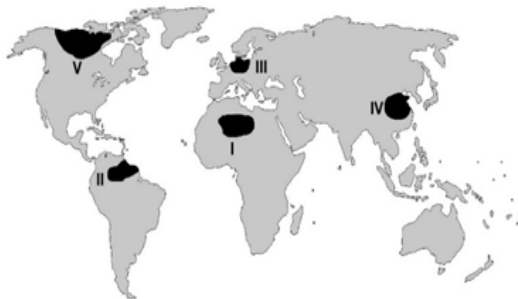
12. Doğal çevrenin elamanları ile doğal çevrede meydana gelen ve insan topluluklarını etkileyen doğal olaylar fiziki coğraf-yanın konularıdır.

Fiziki coğrafya konularını jeomorfoloji, klimatoloji, hidrografya, biyocoğrafya ve kartoğrafya gibi alt bölümlere ayırarak inceler.

Aşağıdakilerden hangisinin konusu fiziki coğrafyanın alt bölümlerinden birinin inceleme alanına girmez?

- A) Batı Akdeniz yöresindeki karstik şekillerin incelenmesi
B) Marmara Bölgesi günlük hava tahminlerinin yapılması
C) Türkiye'deki kızılçam orman alanlarının tespit edilmesi
D) Doğu Karadeniz'deki bakır rezervlerinin belirlenmesi
E) Kıyı Ege'deki fay hatları haritasının oluşturulması

13. Dünya'da nüfusun genellikle bol yağış alan bölgelerde yoğunlaştığı gözlenir. Ancak bazı bölgeler çok yağış almasına rağmen sıcaklık ve nem değerlerinin yüksek olması nedeniyle az nüfuslanmıştır.



Buna göre haritada taranarak gösterilen bölgelerden hangisi bol yağış aldığı halde az nüfuslanmıştır?

- A) I B) II C) III D) IV E) V



14. Ekstrem olaylar, bir yerde o güne kadar görülmemeyen veya nadiren görülen doğa olaylarıdır. Bu olaylar, doğal süreçleri etkilediği gibi yaşantımızı da etkiler.

Buna göre, aşağıdakilerden hangisi ekstrem doğa olaylarına örnek olarak gösterilemez?

- A) 2004 tarihinde Endonezya'nın Sumatra adası açıklarında oluşan deprem ve depremin yol açtığı tsunami nedeniyle Güneydoğu Asya'da 150.000'den fazla kişinin hayatını kaybetmesi.
- B) 2013 yılında Rusya'nın Chelyabinsk (Çelyabinsk) bölgesinde büyük bir gök taşının yeryüzünden 30 km yüksekten parçalanarak 1.400 kişinin yaralanmasına sebep olması.
- C) Avrupa Kıtası'nda en yüksek hava sıcaklığının İspanya'nın Sevilla kentinde 4 Ağustos 1981 'de 50 °C olarak ölçülmesi.
- D) 2005 yılında ABD'de meydana gelen Katrina Kasırgasının, Meksika Körfezi boyunca onlarca şehri neredeyse yerle bir etmesi.
- E) Yeryüzü şekilleri engebeli ve bol yağış alan iklim bölgelerinde kütle hareketlerinin yaygın olarak görülmesi.

15. Yeryüzünde her yıl büyük can ve mal kayıplarına yol açan doğa olayları afet olarak adlandırılır. Deprem ve volkanik patlamalar gibi geniş alanlarda etkili olan afetler genellikle levha sınırlarında ve fay hatlarında oluşurlar.



Yukarıdaki haritada gösterilen taralı alanların hangisinde bu doğal afetlerin etkisi en azdır?

- A) I
- B) II
- C) III
- D) IV
- E) V

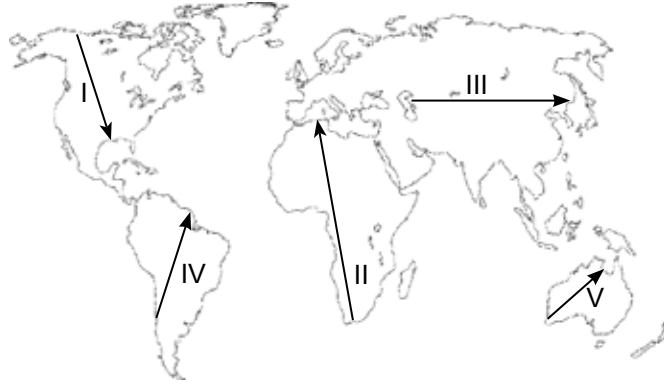
16. Bölge sınırları, bölgeyi oluşturma amaç ve ölçütlerine göre değişiklik gösterebilir. Özelliklerine göre bazı bölgelerin sınırlarının değişimi uzun zaman alırken kimi bölgelerin sınırları daha kısa zamanda değişebilir.

- I. Maden bölgeleri
- II. Kuru tarım bölgeleri
- III. Sık nüfuslu bölgeler
- IV. Sıcak iklim bölgeleri

Yukarıda verilen bölgelerden hangilerinin sınırları daha kısa sürede değişebilir?

- A) I ve II
- B) I ve III
- C) II ve III
- D) II ve IV
- E) III ve IV

17.

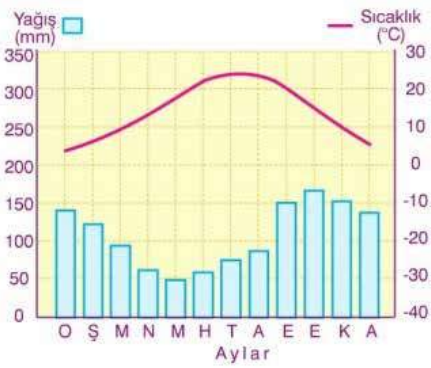


Yukarıdaki Dünya haritasında 5 farklı araştırma grubu numaralandırılan oklar yönünde ve uzunluğunda hareket ederek geçtikleri sahaların iklim ve bitki örtüsüne ait bilgiler toplayacaktır.

Buna göre kaç numaralı araştırma grubu yolcuğunu tamamladığında, varış noktasındaki iklim ve bitki örtüsünün başlangıç noktasındaki ile benzer olduğunu görür?

- A) I B) II C) III D) IV E) V

18. Aşağıda okyanusal iklimin yıllık sıcaklık ve yağış grafiği verilmiştir.



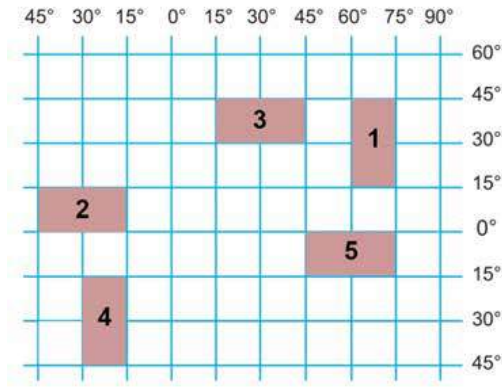
Bu grafikte;

- I. Yıllık sıcaklık ortalaması 14-15 °C civarındadır.
- II. Kışlar ılık, yazlar serin, her mevsim yağışlıdır.
- III. Akarsu rejimleri düzenli, akış hızları yüksektir.
- IV. Yıllık yağış miktarı 1000-1500 mm'ler arasındadır.
- V. Toprakların oluşumunda kimyasal çözülme etkilidir.

yargılarından hangisini doğrulayacak bir bilgi yoktur?

- A) I B) II C) III D) IV E) V

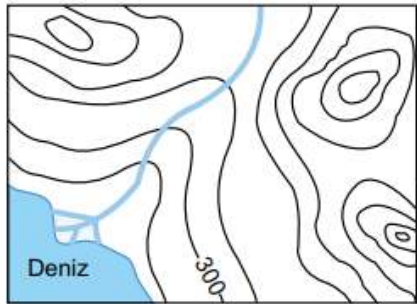
19. Beş farklı bölgenin matematik konumları koordinat sistemi üzerinde gösterilmiştir.



Buna göre bölgelerle ilgili verilen aşağıdaki ifadelerden hangisi yanlıştır?

- A) 2. ve 5. bölgelerin tamamı dönenceler arasında yer alır.
- B) 2. ve 3. bölgelerin doğusu ile batısı arasındaki zaman farkı aynıdır.
- C) 1. ve 4. bölgelerin kuzey-güney yönündeki genişlikleri 3330 km'dir.
- D) 3. bölgenin iz düşüm alanı 5. bölgenin iz düşüm alanından geniştir.
- E) 21 Aralık tarihinde 1. bölgede gündüz süresi kuzeye gidildikçe kısalır.

20. Aşağıda bir yöreye ait izohips haritası verilmiştir.



Bu haritada, izohipslerin aşağıdaki özelliklerinden hangisini doğrulayacak bir bilgi yoktur?

- A) Akarsu vadilerinde eğriler “^” (ters V) şeklini alır.
- B) Yükseltinin arttığı yöne doğru eğriler küçülür.
- C) İzohipsler arasındaki yükselti farkı 150 m'dir.
- D) Nokta ile gösterilen alanlar dağların zirveleridir.
- E) Bölgenin kuzeydoğusunda bir boyun bölgesi yer alır.



21. Bir toplumda olması istenen düzeni bireysel vicdanlar sağlayamaz. Çünkü vicdanın herhangi bir zorlama ve yaptırım gücü yoktur. Durum böyle olunca toplumsal yaşamda kargaşa meydana gelir ve güvenlik kaygısı artar. Toplumsal yaşamın devam edebilmesi için bir üst kuruma ihtiyaç duyulur.

Yukarıdaki paragraf hangi soruya verilmiş bir cevaptır?

- A) Bürokrasi gerekli midir?
- B) Sivil toplum gerekli midir?
- C) Devlet nasıl ortaya çıkmıştır?
- D) Bireyin temel hakları nelerdir?
- E) İktidarın kaynağı nedir?

22. I. Thales - Su
II. Heraklitos - Ateş
III. Pythagoras - Sayı
IV. Demokritos - Hava
V. Anaximenes - Atom

Yukarıdaki filozof - arkhe eşleştirmelerinden hangilerinin yerleri değiştirilirse doğru olur?

- A) II ve III
- B) I ve V
- C) II ve IV
- D) III ve V
- E) IV ve V

23. “Biz romantik olduktan sonra dağlar güzelleşti”

Eugene Delacroix

Yukarıda verilen söz değerlendirildiğinde “güzel” ile ilgili olarak aşağıdakilerden hangisi söylenebilir?

- A) Güzel’in kaynağı öznedir.
- B) Güzel’in kaynağı doğadır.
- C) Güzel ortak estetik bir yargıdır.
- D) Güzel evrensel bir değerdir.
- E) Güzel taklit etmekle ortaya çıkar.



24. * İnsan akıl ve iradesiyle kendi davranışlarını seçebilme özgürlüğüne sahiptir.
 * Tedbir insandan, takdir Allah'tandır. İnsan özgür ve sorumludur.
 * İnsan Allah'ın belirlediği eylemleri seçme özgürlüğüne sahiptir ve sorumludur.
 * Allah insana irade ve kudret vermiştir. Allah adil olduğu için insan eylemlerinden sorumludur.

Yukarıda irade özgürlüğünün varlığına dair farklı görüşler verilmiştir. **İrade özgürlüğünün varlığını savunan yaklaşımların aksine insanın eylemlerinde özgür olmadığını savunan yaklaşım aşağıdakilerden hangisidir?**

- A) Meşşailik B) Eş'ariye C) Maturudi D) Cebriye E) Mutezile

25. Aristoteles'e göre var olan, form kazanmış olan maddedir ama madde ile form arasındaki ilinti rölatifdir. Daha aşağıdakine göre form olabilen şey daha yukarıdakine göre maddedir.

Paragraftaki açıklamaya dayanarak aşağıdaki kavramlardan hangileri arasındaki ilişki doğru verilmiştir?

- A) Tahta – cam – bardak
 B) Toprak – tuğla – ev
 C) Kum – ceket – kalem
 D) Güneş – neşeli – hava
 E) Demir – bilek - ağaç

26. J. Locke'un, "İnsan zihni (tabularassa) boş bir levha gibidir. İnsan zihninde doğuştan hiçbir bilgi yoktur." sözüyle **eleştirdiği ve desteklediği görüş ikilisi aşağıdakilerden hangisinde doğru olarak verilmiştir?**

- A) Pragmatizm – Entüsyonizm
 B) Rasyonalizm – Kritisizm
 C) Emprizm – Kritisizm
 D) Rasyonalizm – Emprizm
 E) Entüsyonizm – Emprizm

27. Skolastik felsefede teoloji egemendir. Skolastik düşünce sonrası felsefe ve bilimi temele alan modern düşünce 17. yy'a damgasını vurmuştur. Bilimsel çalışmalarda deney ve gözlem temel alınırken, yaşamın her alanında birey ön plana çıkmıştır.

Parçadan hareketle aşağıda verilenlerden hangisi modern düşüncenin özelliklerinden biri değildir?

- A) Bilim felsefeyi etkilemiştir.
 B) Filozof otoriteye bağlıdır.
 C) Birey ön plana çıkmıştır.
 D) Toplumsal hayat dünyevidir.
 E) Doğa deney ve akla dayanır.



28. Bir felsefe sorusu nedir?

“Peki, katkısız bir felsefe nedir, neyi sorar, nasıl bir soruyu başlatır? Bana öyle geliyor ki genel olarak felsefe sorularının yapısını göz önüne sermede en aydınlatıcı ışık bu sorunun yanıtıdır. Çünkü bir felsefe sorusunun olanca ağırlığı, ‘nedir’ kilit taşına dayanır. Tek tek felsefe çalışmalarının esenlikle yürümesi, çalışmayı başlatıp güden edimlerin yerli yerinde olmasına, gereği gibi yorumlanmasına bağlıdır.”

Nermi Uygur, Dilin Gücü, s. 32-41.

Buna göre aşağıdakilerden hangisi bir felsefe sorusudur?

- A) Bahçe kapısı kapalı mı?
- B) Yağmur nasıl yağar?
- C) İyi nedir?
- D) Uzaylılar var mıdır?
- E) Atom bölünebilir mi?

- 29.** Ben kendime yeter oldum
Başka bir ben istemem
Çünkü çoksun, çoksun, çoksun artık sen
Burhan Şeşen

Yukarıdaki şarkı sözünde söz yazarının argümanı nedir?

- A) Karşısındakini fazlalık olarak görmesi
- B) Kendi kendine kalmak istemesi
- C) Yanında başka birini istememesi
- D) Yalnız kalmaktan hoşlanması
- E) Aynı kişiyi görmekten sıkılması

- 30.** Panenteizm, Tanrı'yı soyut, mutlak ve değişmez gibi yönleriyle evrenin üstünde (aşkın); somut, görelî ve değişen yönleriyle de evrenin içinde (içkin) gören anlayıştır.

Aşağıda verilenlerden hangisi Panenteizm görüşüne uygundur?

- A) Tanrı ile evren özdeşdir.
- B) Tanrı doğanın kendisidir.
- C) Tanrı tüm evrene yayılmıştır.
- D) Tanrı evren; evren tanrıdır.
- E) Vahdet-i vücud (varlığın birliği)



31. İslam'da doğru bilgiye ulaşmanın yolları "akıl", "vahiy" ve "salim duyular"dır.

Buna göre aşağıdaki ayetlerden hangisinde doğru bilgiye ulaşmanın yollarından bahsedilmemiştir?

- A) Hakkında bilgin olmayan şeyin ardına düşme; çünkü kulak, göz ve kalp, bunların hepsi ondan sorumludur. (İsra Suresi / 36)
- B) İşte Allah, size ayetlerini böyle açıklar; ki akıl erdiresiniz. (Bakara Suresi, 242. Ayet)
- C) De ki: "Size Allah'ın hazineleri yanımdadır demiyorum, gaybı da bilmiyorum ve ben size bir meleşim de demiyorum. Ben, bana vahyedilenden başkasına uymam." De ki: "Kör olanla, gören bir olur mu? Yine de düşünmeyecek misiniz?" (En'am suresi 50. Ayet)
- D) Siz, insanlara iyiliği emrederken, kendinizi unutuyor musunuz? Oysa siz kitabı okuyorsunuz. Yine de akıllanmayacak mısınız? (Bakara Suresi, 44. Ayet)
- E) "Namazlara, özellikle orta namaza devam ediniz." (Bakara suresi 238. Ayet)

32. İnsanın Allah'la iletişim yollarından biri de duadır. İnsanın Allah'ın yüceliği ve büyüklüğü karşısında kendi zayıflığını kavrayıp bütün varlığıyla ona yönelerek yalvarması, sığınması, şükretmesi, istek ve dilekte bulunmasıdır.

Aşağıda dua ile ilgili verilen bilgilerden hangisi yanlıştır?

- A) Dua yalnızca özel zamanlarda yapılır.
- B) Dua etmek aynı zamanda ibadet sayılır.
- C) Duada samimi ve içten olunmalıdır.
- D) Sadece sıkıntılı anlarda değil sevinçli zamanlarda da dua edilmelidir.
- E) Dua yalnızca yüce Allah'a yapılır.

33. En güzel isimler Allah'ındır. O halde O'na o güzel isimlerle dua edin...(A'raf Suresi,180. Ayet)

Ayette geçen Allah'ın en güzel isimlerine ne denir?

- A) Ef'al-i mükellefin
- B) Zati sıfatlar
- C) Esma-i hüсна
- D) Subuti sıfatlar
- E) Vahdaniyet



34. Bir çocuğu bahçesinde yakalayan sahabî, onu kolundan tutup Efendimize (s.a.v) getirdi. Hurmalarını taşıladı, cezasını verin, diye şikayette bulundu. O Sevgi çağlayanı Efendimiz (s.a.v), çocuğa dönerek hurma ağacını niçin taşıladığını sordu. Çocuk da aç olduğunu, karnını doyurmak için öyle yaptığını söyledi. Peygamber (s.a.v) o şefkat dolu sesiyle çocuğu şöyle uyardı: - “Oğlum! Hurma ağaçlarını taşılama! Yere düşen hurmaları al, ye!” Sonra da o çocuğa hayır duada bulunarak evine gönderdi.

Yukarıda anlatılan olayda Peygamber Efendimizin hangi özelliği anlatılmaktadır?

- A) Sabırlı olması
- B) Hoşgörülü olması
- C) Sözünde durması
- D) Kararlı olması
- E) Cesaretli olması

35. Arnold Toynbee “İnsanın elindeki maddi kudret ne kadar fazlaşırsa, insanının kendisiyle ve diğer insanlarla ilişkilerinde Allah’ın rehberliğine ve yardımına ihtiyacı o derece büyük olur. Böylece tekniğin gelişmesiyle din, insan için daha az değil, daha çok ehemmiyet kazanır. Diğer insanlarla mücadele ihtiyacını bir tarafa bırakırsak, insanın tabiata karşı yegâne savunma imkânının teknikten ibaret olduğunu görürüz. Halbuki insanın bizzat insana karşı yegâne savunma vasıtası, ahlaki ve vicdani setler kurmak suretiyle, sadece dindir” demektedir.

Yukarıdaki düşünceye göre aşağıdakilerden hangisine ulaşılabilir?

- A) İnsan ilişkilerinde ahlaki ve vicdani setler önemlidir.
- B) Ahlaki ve vicdani setler kurmak için yegâne vasıta, sadece dindir.
- C) İnsanlar arası ilişkilerde Allah’ın rehberliğine ve yardımına ihtiyaç kesindir.
- D) Tekniğin gelişmesiyle din, insan için daha önemsiz hale gelmiştir.
- E) İnsanın tabiata karşı yegâne savunma imkânı teknikten ibarettir.



36. “Ben altmış yıllık çalışma hayatım sırasında her gün biraz daha fazla İslam uygarlığını tanımanın ve tanıtmanın Batı dünyasına ulaşma davası bakımından en sağlam daha doğrusu tek yolu olduğuna inandım. Bugünkü bilgime göre, genç Batı uygarlığını İslam uygarlığının değişik coğrafi ve iktisadi şartlar altında gerçekleşen devamı olarak görüyorum. Bu anlamda İslam bilimleri Yunan bilimlerinin devamı olarak gelişti. Diğer taraftan Yunan bilimlerinin temelini eski Mısır ve Babilonya bilimlerine dayandığını bilimler tarihi ortaya koyuyor. Benim için bilimler tarihi bir bütündür.” (Prof. Dr. Fuat Sezgin).

Fuat Sezgin’in yukarıdaki yazısına göre hangi düşünceye ulaşamayız?

- A) Batı uygarlığı Yunan uygarlığının devamıdır.
- B) Batı uygarlığı İslam uygarlığının devamıdır.
- C) İslam bilimleri Yunan bilimlerinin devamı olarak gelişmiştir.
- D) Yunan bilimlerinin temeli eski Mısır ve Babilonya bilimlerine dayanır.
- E) Bilim ve uygarlıklar birbirlerinden etkilenecek gelişmiştir.

37. “Kendi ellerinizle kendinizi tehlikeye atmayınız.” (Bakara sûresi, 195)

“Bir yerde bulaşıcı hastalık ortaya çıktığını duyduğunuz zaman oraya girmeyiniz. Bulunduğunuz yerde bulaşıcı bir hastalık ortaya çıkarsa, oradan da çıkmayınız.” (Hz. Muhammed SAV)

“Allah şifası olmayan hiçbir hastalık vermemiştir” (Hz. Muhammed SAV)

Yukarıdaki ayet ve hadislerle baktığımızda, aşağıdaki hangi düşünce yanlıştır?

- A) Bulaşıcı hastalığın olduğu yerlere girilmemeli.
- B) Bulaşıcı hastalığın olduğu yerden çıkılmamalı.
- C) Hastalıklara karşı tedbir almak bizi hastalıktan korumaz.
- D) Kendimizi tehlikeye atmamalıyız.
- E) Her hastalığın şifasını aramalıyız.


38. “Dini sorumlulukların ön şartı akıl ve iradedir. Akıl insanları diğer canlılardan ayıran ve pek çok görevi olan temel bir özelliktir; Selim Akıl ise insanın düşünme, araştırma, anlama, karar verme yollarını kullanarak bilgiye ulaşmasıdır. Kur’an-ı Kerim’in birçok ayetinde “Düşünmez misiniz?”, “Akletmez misiniz?” şeklinde sorularla insanın selim akıl ile bilgi edinmesine vurgu yapılmıştır.

Buna göre aşağıdakilerden hangisi “selim aklın” şartlarından birisi değildir?

- A) Kavrama
- B) Karar verme
- C) Düşünme
- D) Araştırma
- E) Yorulma

39.

İlim ilim bilmektir.
İlim kendin bilmektir.
Sen kendini bilmezsin.
Ya nice okumaktır.
Yunus EMRE



Yukarıdaki dörtlükten hangi yargıya ulaşamaz?

- A) Kişi, İlim öğrenme çabası içinde olmalıdır.
- B) İlim kişinin kendisini bilmesidir.
- C) İlim ile meşgul olmak insanın kendisini bulmasıdır.
- D) Kişi kendini bilirse her şeyi bilebilir.
- E) Okumanın kendini bulma yolunda önemi vardır.

- 40.
- I. Akıl sahibi insanların özgür irade ile seçtiğidir.
 - II. İlahi kurallara sahiptir.
 - III. İnsanları iyiliğe yönlendirir.
 - IV. Sadece ahiret mutluluğunu hedefler.
 - V. Belli bir ırka hastır.

Yukarıda din ile ilgili olarak söylenen ifadelerden hangileri doğrudur?

- A) I ve II
- B) I, II ve III
- C) I, II ve V
- D) I, II, III ve V
- E) IV ve V

TESTİNİZ BİTMİŞTİR.

CEVAPLARINIZI CEVAP ALANINA İŞARETLEMİYİ UNUTMAYINIZ.

KAZANIM DEĞERLENDİRME SINAVI CEVAP ANAHTARI

| Tarih | Coğrafya | Felsefe | Din Kültürü ve Ahlak Bilgisi |
|-------|----------|---------|------------------------------|
| 1. B | 1. D | 1. C | 1. E |
| 2. A | 2. D | 2. E | 2. A |
| 3. E | 3. B | 3. A | 3. C |
| 4. D | 4. E | 4. D | 4. B |
| 5. E | 5. B | 5. B | 5. D |
| 6. B | 6. C | 6. D | 6. A |
| 7. E | 7. B | 7. B | 7. C |
| 8. D | 8. C | 8. C | 8. E |
| 9. C | 9. D | 9. A | 9. D |
| 10. B | 10. D | 10. E | 10. B |