

1. SINIF



10. Hafta Fasikülü
2020-2021 Eğitim-Öğretim Yılı



EVDE EĞİTİM E-FASİKÜL' DE



YERKÖY ARGE

Yerköy İlçe Milli Eğitim Müdürlüğünün
uzaktan eğitim sürecinde öğrencilerimiz
için hazırladığı destek hizmetidir.

<http://yerkoy.meb.gov.tr>





Yerköy İlçe Millî Eğitim Müdürlüğü

Mehmet DURMAZ
İlçe Milli Eğitim Müdürü

Meliha ÖZDEN
Necmettin SAGLAM
Şube Müdürleri

M.Suat ATİLA
Koordinatör ve Grafik Tasarım

Hazırlayanlar

Fadime YIKILMAZ DAĞAŞAN	Atatürk İlkokulu
Yılmaz TÜNGER	Sekili Şht. Osman Pekşen İlkokulu
Muhammet DURAN	TOKİ Şht. Ali Salmanlı İlkokulu
Ahmet Şevki ŞAHİN	Saray Yibitaş Ortaokulu

ATATÜRK'ÜN HAYATI



* Atatürk, bin sekiz yüz seksen bir (1881) yılında, Selanik 'te doğdu.

* Adını Mustafa koydular.

Altın Bilgi: Selanik şehri, şu anda Yunanistan'ın sınırları içinde bulunmaktadır.

* Askeri okula giderken, matematik öğretmeni Kemal adını verdi. Atatürk 'ün adı böylece “ Mustafa Kemal“ oldu.



* Atatürk'ün annesinin adı Zübeyde Hanım'dır.



* Atatürk'ün babasının adı Ali Rıza Efendi 'dir



* Atatürk 'ün kız kardeşinin adı Makbule Hanım 'dır.

- * Atatürk, çok zeki ve çalışkan bir öğrenciydi.
- * Askeri liseyi ve Harp okulunu başarıyla bitirdi. İyi bir asker oldu.
- * Kurtuluş Savaşı'nda Türk milletine liderlik ederek düşmanları yurttan attı.
- * Bağımsızlığımızı kazanmamızı sağladı.
- * Cumhuriyetimizi kurdu.

HAYAT BİLGİSİ

- * Bütün hayatını ülkemiz ve milletimiz için çalışarak geçirdi.
- * Atatürk , 10 Kasım bin dokuz yüz otuz sekiz (1938) yılında ,İstanbul ‘da Dolmabahçe Sarayı ’nda öldü .



Atatürk'ün anıt mezarı Anıtkabir, Ankara'dadır.

ETKİNLİK

1 – Mustafa ne zaman, nerede doğdu?

.

2 – * Annesinin adı :

* Babasının adı :

* Kız kardeşinin adı :

3 – Mustafa’ya “ Kemal ” adını kim verdi?

.

4 – Mustafa Okulu bitirince ne oldu?

.

5 – Atatürk ne zaman öldü ?

.

6 – Atatürk nerede öldü ?

.

7 – Atatürk ‘ün anıt mezarının adı nedir ?

MİLLİ BAYRAMLAR VE MİLLİ GÜNLER

1) 19 MAYIS ATATÜRK'Ü ANMA VE GENÇLİK VE SPOR BAYRAMI



- Atatürk, 19 Mayıs 1919'da Kurtuluş Savaşı'nı başlatmak üzere **Samsun**'a gitmiştir.
- 19 Mayıs, ulusumuz için önemli bir gündür. Atatürk bu anlamlı günü Türk gençliğine armağan etmiştir.

23 NISAN ULUSAL EGEMENLİK VE ÇOCUK BAYRAMI



- 23 Nisan 1920'de Türkiye Büyük Millet Meclisi açılmıştır. Bunun değerinin iyi anlaşılması için Atatürk bu günü çocuklara armağan etmiştir.

2) 29 EKİM CUMHURİYET BAYRAMI



- 29 Ekim 1923'te Cumhuriyet ilan edilerek, ülkemizin yönetimi milli iradeye verilmiştir.



3) 30 AĞUSTOS ZAFER BAYRAMI

- Büyük Taarruz 26 Ağustos 1922'de başlamış ve 30 Ağustos'ta zaferle sonuçlanmıştır.
- Kazanılan büyük zaferden dolayı her yıl 30 Ağustos'ta törenler yapılır; akrobat pilotlar uçuş gösterileri yapar, resmi geçitler düzenlenir.

MİLLİ GÜNÜMÜZ



MİLLİ BAYRAMLARIMIZ

29 Ekim Cumhuriyet Bayramı

23 Nisan Ulusal Egemenlik ve Çocuk Bayramı

19 Mayıs Atatürk'ün Anma ve Gençlik ve Spor Bayramı

30 Ağustos Zafer Bayramı



YANGIN

Bir an dikkatsizlik,
Yangına sebep olur.
Küçük bir kıvılcımla
Koskoca ev kül olur.

Çakmak ve kibrit ile
Oynamamak gerekir.
Ocağa iyi bakıp,
Söndürmek güvenlidir.

Beytullah Hatoğlu



Aşağıdaki ilk üç soruyu şiire göre yanıtlayınız.

1. Yangının nedeni aşağıdakilerden hangisidir?

A. uyumak

B. dikkatsizlik

2. Koskoca ev nasıl kül olur?

A. küçük bir kıvılcımla

B. kendi kendine

3. Aşağıdakilerden hangisi yangınları önler?

A. Çakmak ve kibritle
 oynamak

B. Dikkatli davranmak



4. Aşağıdakilerden hangisi yazı araç ve gereçlerinden **değildir**?

A.



B.



5. etmeliyiz - yananlara - evi - yardım
Bu sözcüklerle oluşturulan anlamlı ve kurallı cümle hangisidir?
A. Evi yananlara yardım etmeliyiz.
B. Yardım etmeliyiz evi yananlara.
6. **Aşağıdakilerden hangisi kurallı ve anlamlı bir cümledir?**
A. Oynamamalıyız ateş ve kibritle.
B. Kibrit ve ateşle oynamamalıyız.
7. Babası, Talata kibritle oynamamasını söyledi.
Cümlesinde hangi sözcüğün yazımı yanlıştır?
A. Talata B. kibritle
8. Sokaklar() caddeler() evlerin önleri insanlarla doluydu.
Cümledeki yay ayraçların içine hangi noktalama işaretleri konulmalıdır?
A. (,) (.) B. (,) (,)
9. yangını söndürmek için itfaiye geldi. **cümlesinde hangi sözcüğün ilk harfi büyük yazılmalıdır?**
A. yangını B. itfaiye
10. **Aşağıdaki resimlerde anlatılanlardan hangisi, daha önce gerçekleşir?**
A.  B. 
11. Yangın çıkmaması için dikkatli olmalıyız() Yangın çıkarsa polise() itfaiyeye haber vermeliyiz.
Yukarıdaki cümlelerde yay ayraçların içine hangi noktalama işaretleri konulmalıdır?
A. (.) (.) B. (,) (,)
12. **Satır sonuna sığmayan sözcükleri ayırırken hangi işareti kullanırız?**
A. kesme işaretini B. kısa çizgiyi

Sel, nehirlerde fazlalaşan suların taşmasıdır. Şiddetli yağmurlar ve eriyen karlar, sellere neden olur. Sel bir su baskınıdır. Bölgeyi basan su, akarken çoğu şeyi sürükler. Can ve mal kaybına neden olur.

Sel baskınlarını önlemek için barajlar yapılmalıdır. Ormanların korunması ve ağaç dikilmesi de seli önler.



Aşağıdaki ilk üç soruyu metne göre yanıtlayınız.

1. Aşağıdakilerden hangisi selin nedenlerinden biri **değildir**?

- A. şiddetli yağan yağmur B. deniz suyu

2. Aşağıdakilerden hangisi nehirlerin taşması sonucu oluşur?

- A. küçük göller B. su baskınları

3. Sel baskınlarını önlemek için hangileri yapılmalıdır?

1. Barajlar yapılmalıdır.
2. Ağaç dikilmelidir.
3. Köprüler yapılmalıdır.

- A. 1 ve 2 B. 1 ve 3

4.



1



2



3



4

Olayların oluş sırasına göre resimler nasıl sıralanmalıdır?

- A. 4, 3, 2, 1 B. 3, 4, 2, 1

5. Yağmur mu yağacak () cümlesinin sonuna hangi noktalama işareti konulmalıdır?

A. (.)

B. (?)

6. ve bizleri sel baskınlarından korur.

Cümle, hangisi ile tamamlanırsa anlamca doğru olur?

A. Barajlar - ormanlar

B. Barajlar - yüksek binalar

7. Yaka sözcüğünün harflerini bir kez kullanarak hangisini yazamayız?

A. ayak

B. kayak

8. Dağdan gelir taştan gelir,
Bir kükremiş aslan gelir.

Yukarıdaki bilmecenin yanıtı hangisidir?

A.



B.



9. Yağmur yağacağı için yanıma aldım.

cümlesini anlamca doğru tamamlayan sözcük hangisidir?

A. topumu

B. şemsiyemi

10. Eşleştirmelerden hangisi doğrudur?

A.



→ şemsiye

B.



→ spor ayakkabısı

11. Hangi resimdeki varlığın yazılışı yanlıştır?

A.



ahtapot

B.



zürefa

Ormanların kralı aslan, bir gün bütün arkadaşlarını bir araya toplamış. Konuşmaya başlamış:

— Deprem, sel, heyelân birer doğal afettir. Ormanımız da bir deprem bölgesidir. Bu yüzden bazı önlemler almamız gerekiyor, demiş.

Herkes bu fikri kabul etmiş. Ayı, kurt, zürafa, evleri onarmışlar. Fil, timsah ve tilki, depremde yangın çıkabilir diye itfaiye ekibini kurmuşlar. Sincap, karga, domuz, barınmak için çadır dikmişler. İnek ve tavuk, gerekli ilâçları ve yiyecekleri hazırlamışlar. Depreme karşı bütün önlemler alınmış.

İlk yedi soruyu metne göre yanıtlayınız.

1. Ormanların kralı hangisidir?

A.



B.




2. Hangisi doğal afetlerden biri **değildir**?

A. deprem

B. yağmur

3. Aşağıdakilerden hangisi evlerin onarımını üstlenen hayvanlardan biridir?

A.



B.



4. Aşağıdakilerden hangisi itfaiye ekibinde yer **almıyor**?

A.



B.



5. Aşağıdaki eşleştirmelerden hangisi **yanlıştır**?

A.



→ İlâçları
hazırlamış.

B.



→ Evleri onarmış.

6. Metne en uygun başlık aşağıdakilerden hangisidir?

A. Deprem

B. Hayvanlar

7. Deprem, heyelan, sel cümlesi, anlamca doğru olması için hangisiyle tamamlanmalıdır?

A. insanlara gereklidir.

B. doğal afettir.

8. Oyun oynamaya zaman ayırmalıyız. cümlesi kaç sözcükten oluşmuştur?

A. 4

B. 3

9. Aşağıdakilerden hangisi hasta ziyaretinde kullanılan sözcük grubudur?

A. Bugün kaç gol attın?

B. Geçmiş olsun.

10. Hangi cümledeki noktalama işareti **yanlış** kullanılmıştır?

A. Tuğçe bize gelecek?

B. Hangi okula gidiyorsun?

11. Aşağıdakilerden hangisinin yazımı **yanlıştır**?

A. şemsiye

B. kirbit

12. Kasap ile et arasındaki anlam ilişkisi, eczacı ile hangi sözcük arasında vardır?

A. ilâç

B. doktor

KIZILAY

Bir beldeyi su bassa,
Deprem yerleri sarssa,
Yangında evler yansa,
Hemen koşar Kızılay.

Evsiz çadır verir,
Aça yemek yedirir,
Yoksulları giydilir,
Ne güzel dost Kızılay.

Mehmet Dede
(Kısaltılmıştır)



Aşağıdaki ilk dört soruyu şiire göre yanıtlayınız.

1. Kızılay nedir?

A. Yardım kurumudur.

B. Eğitim kurumudur.

2. Kızılay, hangi durumda insanlara yardım **etmez**?

A. yangında

B. bayramda

3. Kızılay, doğal afetlerde evsiz kalanlar için ne yapar?

A. Arsa verir.

B. Çadır verir.

4. Kızılay kimlere giyecek yardımı yapar?

A. yoksullara

B. zenginlere

5. gün - kara - Kızılay - dostudur **sözcükleriyle kurulan anlamlı ve kurallı cümle aşağıdakilerden hangisidir?**

A. Kızılay, kara gün dostudur. B. Dostudur kara gün Kızılay.

6. Aşağıdaki işaretlerden hangisi cümle sonunda **kullanılmaz**?

A. (.)

B. (,)

7. Şiirlerde cümlelerin ilk harfi yazılır. **cümlesindeki noktalı yere hangisi yazılırsa anlamca doğru olur?**

A. büyük

B. küçük

8. Aşağıdaki sözcüklerden hangisinin yazılışı doğrudur?

A. yamur

B. itfaiye

.....
Nerden alır suyunu,
Kardan mı, yağmurdan mı ()
Şu nazlı dereciğin,
Yatağı çamurdan mı ()

Hasan Âli Yücel

9. ve 10. soruları şiire göre yanıtlayınız.

9. Şiir için en uygun başlık hangisidir?

A. Yağmur

B. Dere

10. Şiirdeki yay ayraçların içine hangi noktalama işaretleri konulmalıdır?

A. (?) (?)

B. (.) (?)

11.



1



2



3



4

Olayların oluş sırasına göre resimlerin sıralanışı nasıl olmalıdır?

A. 1, 4, 3, 2

B. 1, 2, 3, 4

6. Aşağıdaki işaretlerden hangisi cümle sonunda **kullanılmaz**?

A. (.)

B. (,)

7. Şiirlerde cümlelerin ilk harfi yazılır. **cümlesindeki noktalı yere hangisi yazılırsa anlamca doğru olur?**

A. büyük

B. küçük

8. Aşağıdaki sözcüklerden hangisinin yazılışı doğrudur?

A. yamur

B. itfaiye

.....
Nerden alır suyunu,
Kardan mı, yağmurdan mı()
Şu nazlı dereciğin,
Yatağı çamurdan mı ()

Hasan Âli Yücel

9. ve 10. soruları şiire göre yanıtlayınız.

9. Şiir için en uygun başlık hangisidir?

A. Yağmur

B. Dere

10. Şiirdeki yay ayraçların içine hangi noktalama işaretleri konulmalıdır?

A. (?) (?)

B. (.) (?)

11.



1



2



3



4

Olayların oluş sırasına göre resimlerin sıralanışı nasıl olmalıdır?

A. 1, 4, 3, 2

B. 1, 2, 3, 4

29 EKİM

Cumhuriyet Bayramı,
Geldi, bize ne mutlu.
Bayraklarla donattık,
Güzel okulumuzu.

Yirmi dokuz Ekimi,
Karşılarız neşeyle,
Çünkü bu günde erdik,
Büyük cumhuriyete.

Ali Püsküllüoğlu



Aşağıdaki ilk dört soruyu metne göre yanıtlayınız.

1. Şairin mutlu olma nedeni aşağıdakilerden hangisidir?
A. Cumhuriyet Bayramı'nın gelmesi
B. Okulu bayraklarla donatmaları
2. Nereyi bayraklarla donatmışlar?
A. caddeyi
B. okulu
3. Şiirdeki donatmak sözcüğünün anlamı aşağıdakilerden hangisidir?
A. süslemek
B. asmak
4. Şairin, 29 Ekimi neşeyle karşılama nedeni aşağıdakilerden hangisidir?
A. 29 Ekimde cumhuriyetin kurulması
B. 29 Ekimde okula gelmesi
5. Yemeklerden dişlerimi fırçalarım. cümlesini en anlamlı şekilde tamamlayan sözcük hangisidir?
A. önce
B. sonra

Sevimli tay Sırım'ın canı çok acıyormuş. Dişlerinde çürükler varmış. Veterinere gitmesi, tedavi olması gerekiyormuş. Korktuğu için veterinerlere gitmeyi hep erteliyormuş. Bir gün yolda tavşan kardeşleri görmüş. Onlara dişinin çok ağrıdığını anlatmış. Tavşanlar, Sırım'ın durumuna çok üzölmüşler. Onu ikna edip veterinerlere götürmüşler. Veteriner dişlerini tedavi etmiş.

Aradan zaman geçmiş. Sırım, yine dişlerine iyi bakmamaya başlamış. Bir gün tavşanlarla karşılaşmış. Tavşanlar keyifle havuç yiyorlarmış. Dişleri pırıl pırılmış. Sırım bunun nedenini merak etmiş.
– Sizin dişleriniz nasıl bu kadar sağlıklı() diye sormuş.

Aşağıdaki 6, 7, 8 ve 9. soruları metne göre yanıtlayınız.

6. Sırım'ın canı neden acıyormuş?

A. Dişi çok ağrıdığı için

B. Gece uyuyamadığı için

7. Sırım, aşağıdakilerden hangisinin adıdır?

A.



B.



8. Sırım'ı veterinerlere kim götürmüş?

A. tavşanlar

B. annesi

9. Metinde () ile gösterilen yere hangi noktalama işareti konulmalıdır?

A. (.)

B. (?)

10. Tay, aşağıdakilerden hangisinin yavrusudur?

A.



B.



11. korkmayalım - gitmekten - doktora sözcükleri ile oluşturulan anlamlı ve kurallı cümle hangisidir?

A. Doktora gitmekten korkmayalım.

B. Korkmayalım doktora gitmekten.

MATEMATİK

Toplama İşlemi Alıştırmaları

1	3	5	7	9
+	+	+	+	+
1	1	1	1	1
+	+	+	+	+

2	4	6	8	0
+	+	+	+	+
1	1	1	1	1
+	+	+	+	+

Çıkarma İşlemi Alıştırmaları

9	7	5	3	1
-	-	-	-	-
1	1	1	1	1
-	-	-	-	-

8	6	4	2	10
-	-	-	-	-
1	1	1	1	1
-	-	-	-	-

Karışık Toplama ve Çıkarma İşlemi Alıştırmaları

9	9	8	8	7	7
+	-	+	-	+	-
2	2	2	2	2	2
+	-	+	-	+	-

4	4	5	5	6	6
+	-	+	-	+	-
2	2	2	2	2	2
+	-	+	-	+	-

2	2	3	3	5	5
+	-	+	-	+	-
2	2	2	2	2	2
+	-	+	-	+	-

8	8	7	7	6	6
+	-	+	-	+	-
2	2	2	2	2	2
+	-	+	-	+	-

TOPLAMA İŞLEMİ İLE İLGİLİ PROBLEMLERİ

1. Ayşe'nin 7 elması vardı. Hamza 4 elma daha aldı. Ayşe'nin kaç elması oldu ?

2. Meltem , geçen hafta 12 soru çözdü . Meltem bu hafta ise 8 soru çözdü. Meltem iki haftada kaç soru çözdü ?

3. Fatma' nın 4 dergisi vardı. Halası Fatma ' ya 5 dergi daha verdi. Fatma' nın kaç dergisi oldu?

4. Müge önce 13 fındık , sonra da 6 fındık yedi. Müge kaç tane fındık yedi?

5. Ali günde 5 çiçek , Elif ise 7 çiçek suladı . İki arkadaş bir günde kaç çiçek suladı?

6. Manavdan 14 portakal , 6 mandalina aldım. Manavdan kaç meyve almış oldum?

7. Tabakta 13 zeytin vardı. Ceyda , tabağa 6 zeytin daha koydu. Tabakta kaç zeytin oldu?

8. Dolabımda 6 gömleğim vardı. Abim 8 tane daha getirdi. Kaç gömleğim oldu?

MATEMATİK

9. Bir sınıfta 12 sıra vardı. 6 sıra daha geldi. Sınıfta kaç tane sıra oldu?

10. Bir gazeteci sabah 11 gazete , akşam da 7 gazete satmıştır. Gazeteci toplam kaç adet gazete satmıştır?

MATEMATİK

5)23 Nisan bayramı kutlamaları için Ayşe 9 bayrak, Aslı 13 bayrak getirdi. Buna göre sınıfımıza bayrak getirilmiştir?

6) Baloncudan balon almak için 8 çocuk sıraya girmişti. Bu sıraya önce 5 sonra 6 çocuk katıldı. Baloncudan balon almak için kaç çocuk sıra beklemektedir?

7)Efe, kitabının önce 7, sonra 4 daha sonra 8 sayfasını okuyarak bitirdi.
Efe'nin kitabı toplam kaç sayfadır?

8) Suat ve Hande'nin yaşlarının toplamı 18'dir. Hande 10 yaşında olduğuna göre Suat'ın yaşı kaçtır?

ÇIKARMA İŞLEMİ GEREKTİREN PROBLEMLER

1) Ömer'in akvaryumunda 15 tane Japon balığı vardı. 8 tanesini arkadaşı Hasan'a hediye etti. Ömer'in kaç tane Japon balığı kaldı?

2) Gülay'ın 12 saksı çiçeğinden kışın 4 tanesi kurudu. Gülay'ın kurumayan kaç saksı çiçeği kaldı?

3) Toplantının başında 19 öğrenci velisi vardı. Toplantının ortasında 6 öğrenci velisi ayrıldı. Toplantı kaç öğrenci velisiyle bitirildi?

4) EBA'da öğretmenimizin gönderdiği 14 çalışmadan 11 tanesini tamamladım. Geriye kaç tane çalışma kaldı?

MATEMATİK

5) Nermin 16 sayfalık kitabının 9 sayfasını okudu. Geriye okunmayan kaç sayfa kalmıştır?

6) Perihan'ın oturduğu apartmanda 20 daire vardır. Bu apartmanda 9 dairede kiracılar oturmaktadır. Apartmanda kaç dairede ev sahipleri oturmaktadır?

7) Okulumuza 15 tane servis geliyor. Bu servislerden 6 tanesi gitti. Geriye kaç tane servis kaldı?

8) Yahya 8 kase sütlaçtan 5 kase sütlacı yedi. Geriye kaç kase sütlaç kaldı?

MATEMATİK

9) Minibüste 18 kişi vardı. Çarşıya yaklaşıncı 12 kişi indi. Diğerleri son durakta indi. Son durağa kadar kaç yolcu kalmıştır?

10) Ceyhun bu ay 20 gün okula gitmesi gerekirken 6 gün okula gitmedi. Ceyhun bu ay kaç gün okula gitmiştir?