

3. SINIF



12. Hafta Fasikülü
2020-2021 Eğitim-Öğretim Yılı

EVDE EĞİTİM E-FASİKÜL' DE



YERKÖY ARGE

Yerköy İlçe Milli Eğitim Müdürlüğü'nün
uzaktan eğitim sürecinde öğrencilerimiz
için hazırladığı destek hizmetidir.

<http://yerkoy.meb.gov.tr>





Yerköy İlçe Millî Eğitim Müdürlüğü

Hazırlayanlar

Ömer YIMAZ
Özlem KÜÇÜK
Ayşe Nur COŞKUN
Serhat GÜLCEGÜL
Yakup MURAT
Ahmet YARIÇI

Atatürk İlkokulu
Şht. Kamil Çelikkaya İlkokulu
Şht. Kamil Çelikkaya İlkokulu
Şht. Kamil Çelikkaya İlkokulu
Şht. Kamil Çelikkaya İlkokulu
Reşat Akyön İlkokulu

Mehmet DURMAZ
İlçe Milli Eğitim Müdürü

Meliha ÖZDEN
Necmettin SAGLAM
Şube Müdürleri

M.Suat ATİLA
Koordinatör ve Grafik Tasarım

TÜRKÇE



HORUZ VE İNCİ

Horoz, çöplükte gezinirken bir inci bulmuş. "Ne kadar da şanssızım!" diye söylenmiş. "Bu benim ne işime yarar ki?"

Keşke bunun yerine bir buğday tanesi bulsaydım." demiş.

İnciyi alan horoz, onu bir zahireciye götürmüştü. "Al şu inciyi de bana buğday ver." demiş. "Çünkü benim için buğday, inciden daha değerlidir."

(Aşağıda verilen ilk üç soruyu metne göre cevaplayınız.)

1) Metnin konusu nedir?

.....

2) Metnin ana fikri nedir?

.....

3) Siz olsaydınız başlığı ne yapardınız?

.....

Aşağıdaki cümleleri metne göre dolduralım.

Horoz çöplükte gezinirken bulmuş.

İnciyi alan horoz, onu bir zahireciye

"Bu benim ne yarar ki?"

"Al şu inciyi de bana ver."

"Çünkü benim için buğday daha değerlidir."

TÜRKÇE

Aşağıda verilen atasözlerini tamamlayalım.

Balık kokar.

Acele işe karışır.

Bir elin nesi var, elin sesi var.

Gül olmaz.

Mum ışık vermez.

İki dinle, söyle.

Üzüm baka baka kararır.

Atılan geri dönmez.

El elin eşeğini çağırarak arar.

Ayağını göre uzat.

İşleyen demir tufmaz.

Çoktan seçmeli soruları cevaplayalım.

1. Hangi cümlelerin sonuna soru işareti konmalıdır?

- a) Kitap oku ki kendini geliştir
- b) Bunu bana sorma
- c) Durmadan yürüdün mü

2. Hangi cümlede hayal ürünü bir ifade vardır?

- a) kafesteki kuşum ötüyor.
- b) Annemin yaptığı kek nefis olmuş.
- c) Bu sabah güneş bana göz etti.

3. 'dal' sözcüğü hangi kelimde farklı anlamda kullanılmıştır?

- a) Babam ağacın dallarını budadı.
- b) Havuza koşarak daldı.
- c) Ektiğim fidan dalları büyüdü.

TÜRKÇE

4. Aşağıdaki eşleştirmelerden hangisi farklıdır?

- a) acı – tatlı b) güzel – süslü c) genç – ihtiyar

5.(Sabahleyin erkenden balık tutmak için buluştuk.) Cümlesinde aşağıdakilerden hangisinin cevabı yoktur?

- a) Nerede b) Niçin c) Ne zaman

6. Aşağıdaki sözcüklerden hangisi sözlükte önce gelir?

- a) kilim b) köpek c) karpuz

7. Aşağıdaki sözcüklerin hangisinde yapım eki vardır?

- a) elmalar b) serçe c) simitçi

8. Aşağıdaki cümlelerden hangisinde sebep-sonuç ilişkisi yoktur?

- a) Dayım geleceği için çok mutluyum.
b) Çok çalıştığım için acıktım.
c) Bu kalemleri senin için aldım.

9. "Bu adam çok cimri" cümlesinde altı çizili kelimenin zıt anlamlısı hangisidir?

- a) çalışkan b) kıskanç c) cömert

10. Aşağıdakilerden hangisi bir ünlem cümlesidir?

- a) Çantamı almayı unuttum
b) Arzu, hiç kitap okumuyor
c) İmdaaat, kurtarın beni

11. Aşağıdaki cümlelerin hangisinde büyük harf kullanımında hata yapılmıştır?

- a) Akşam ailecek Ayşelere gittik.
b) Yarın bize Yusuf amcam gelecek.
c) Van gölünü görmek isterdim.

12. "Bebeğin mavi gözleri hepimizi büyüledi." Bu cümlede ön ad (sıfat) olan sözcük hangisidir?

- a) bebeğin b) gözleri c) mavi

TÜRKÇE

13. Aşağıdaki cümlelerin hangisinde, varlığın sayısını belirten sözcük vardır?

- a) Küçük kızı herkes sevdi.
- b) Yeşil vazoyu kırdı.
- c) Kahvaltıda bir yumurta yedi.

14. Aşağıdaki sözcüklerden hangisi hecelerine yanlış ayrılmıştır?

- a) eđ - len - ce - li
- b) ge - mi - ci - ler
- c) tel - e - viz - yon

MATEMATİK

1-) Baharatçıdan 250g kimyon, 300 g karabiber ve 150g tarçın alan Ceren toplam kaç gramlık alışveriş yapmıştır?

6-) Annem pazardan kilosu 2 TL olan soğandan 4 kg, 3 kg' mı 5 TL olan patatesten 6 kg aldı. Satıcıya kaç TL öder?

2-) Manav 225 kg elma, 375 kg portakal ve 180 kg muz satmıştır. Manav toplam kaç kg ürün satmıştır?

7-) Yusuf'un kütlesi babasından 35 kg eksiktir. Babası 77 kg olduğuna göre Yusuf ile babasının kütleleri toplamı kaç kg'dır?

3-) Deniz bahçelerinden topladığı 875 kg portakalın önce 365 kg sattı. 175 kg da sınıftaki arkadaşlarına dağıttı. Deniz'in kendisinde kaç kg portakal kaldı?

8-) Bir ekmek 375 gramdır. Ali fırından 2 ekmek alırsa 1 kg'dan kaç gram eksik yük taşımış olur?

4-) Mehmet manavdan 1 kg' mı 4 TL olan muzdan 7 kg aldı. Kasaya 2 tane 20 TL verdi. Mehmet kaç TL para üstü almalıdır?

9-) Aslı her gün sabah kahvaltıda 65 g peynir yiyor. Aslı bir haftada kaç gram peynir yemiş olur?

5-) Ceren Kasaptan 1 kg et aldı. Etin 300 g kıyma yaptırdı. Eve kaç gram et götürdü?

10-) Bir fırına 50 kg gelen un çuvallarından 18 tane indirildi. Bu fırına kaç kg un indirilmiştir?

MATEMATİK

11-) Evlerinin yakınındaki aktara giden Ömer 140 gr tarçın, 30 gr zencefil, 50 gr kekik olan paketlerin her birinden 2'ser tane aldı. Ömer'in aldığı baharatların ağırlığı toplam kaç gramdır?

12-) Zeynep ders kitabını tartınca 165 g, defterinin 75 g geldiğini gördü. Zeynep'in kitap ve defteri yarım kilodan ne kadar eksiktir?

13-) Bir kutuda 220 tane atış var. Atışların her biri 4 g geldiğine göre kutunun ağırlığı kaç gramdır?

14-) Her gün 50 gram fındık yiyen Nilay 2 haftada kaç gram fındık yer?

15-) Annesi ,babası ve İlkin' in kütleleri toplamı 234 kg dır. Annesi 73 kg, babası 107 kg olduğuna göre İlkin' in kütlesi ne kadardır?

16-) Bir kasa elma 28 kg gelmektedir. 5 kasa elma 100 kg' dan kaç kg fazladır?

17-) Didem 29 kg, babası Didem'in ağırlığından 7 kg eksiktir. Didem ile babasının ağırlıkları toplamı kaç kg'dır?

18-) Elâ'nın annesi pasta yapmak için üzerinde 25 g yazan kabartma tozundan iki düzine aldı. Elâ'nın annesi kaç gram kabartma tozu almıştır?

MATEMATİK

19-) Bir manav almak istenilen narları tartmak için terazinin kefesine 3 tane 2 kg, 2 tane 1 kg, 2 tane 500g ve 4 tane 250 g lık ölçü birimi kullanıyor. Narların ağırlığı kaç kg'dır?

20-) Bir aile her hafta 5 kg elma, 8 kg portakal 3kg muz tüketmektedir. Bu aile bir ayda toplam kaç kg meyve tüketir?

HAYAT BİLGİSİ

Tarihî ve Doğal Güzelliklerimiz

1) Aşağıdaki bilgilerden **hangisi yanlıştır?**

- A) Ülkemizde birçok milli park ve müze vardır.
- B) Tarihi ve doğal güzellikler ülkemiz için önemlidir.
- C) Tarihi ve doğal güzellikler turistlerin ilgisini çekmez.

2) Peri Bacaları görseli ile ilgili olarak verilenlerden **hangisi yanlıştır?**



- A) Doğal bir güzelliiktir.
- B) Her yıl çok sayıda turist ziyaret eder.
- C) Bozulup yenisi yapılabilir.



3) Yukarıda verilen Pamukkale görseli ile ilgili olarak verilenlerden hangisi **doğrudur?**

- A) Çok kısa bir zamanda oluşmuştur.
- B) Doğal bir güzelliiktir.
- C) İnsanlar tarafından yapılmıştır.

4) Aşağıda verilenlerden hangisi tarihi ya da doğal özelliği olan bir **yer değildir?**

- A) Yaşadığımız yerdeki alışveriş merkezi
- B) Mersin'de bulunan Kız Kalesi
- C) Edirne'de bulunan Selimiye Camisi

5) Tarihi veya doğal bir mekân gezilirken yapılması gereken davranış aşağıdakilerden **hangisi olmalıdır?**

- A) Adımızı duvarlara kazımak,
- B) Tarihi ve doğal güzelliği bozmadan ziyaret etmek,
- C) Hediye olsun diye bir parçasını söküp almak,

6) -Müzeler geçmişisağlar.
-Efes Antik Kenti birhava müzesidir. -Doğal uzun yıllardan sonra oluşmuştur.

Yukarıdaki ifadelerde boş bırakılan alanlara sırasıyla hangi sözcükler **yazılmalıdır?**

- A) tanımamızı-açık-güzellikler
- B) açık-tanımamızı-güzellikler
- C) güzellikler-tanımamızı-açık

7) Tarihi ve doğalkorunmalı ve onları gelecekaktarmalıyız.

Yukarıdaki ifadede boş bırakılan alanlara sırasıyla hangi sözcükler **yazılmalıdır?**

- A) yerleri - özellikleri
- B) güzellikleri - nesillere
- C) nesilleri - yerleri

8) İnsan katkısı olmadan zamanla kendiliğinden oluşan güzelliklere **ne ad verilir?**

- C) doğal güzellik
- B) tarihi eser
- A) turistik güzellik

HAYAT BİLGİSİ

9) Aşağıdaki yerlerden hangisi doğal güzelliklerden **birisi değildir?**

A) Ölü Deniz Muğla



B) Uludağ Bursa



C) 15 Temmuz Şehitler Köprüsü İstanbul



10) Tarihi eserlerin konulduğu, saklandığı ve sergilendiği yere **ne ad verilir?**

A) müze B) ev C) salon

11) Tarihi ve doğal güzelliklerin korunmasının sebebi aşağıdakilerden hangisi **olamaz?**

- A) Tarihi ve doğal güzelliklerin zarar görmesini sağlamak.
B) Tarihi ve doğal güzelliklerin zarar görmesini engellemek.
C) Bu güzelliklerin nesilden nesile aktarılmasını sağlamak.

12) Aşağıdaki yerlerden hangisi tarihi güzelliklerden **birisi değildir?**

A) İshak Paşa Sarayı



B) Ağrı Dağı



C) Kars Kalesi



- ☐ -Tarihi eserler markette sergilenir.
 -Tarihi eserler koruma altındadır.
☐ -Ülkemizde birçok tarihi eser vardır.

13) Tarihi eserler ile ilgili yukarıda verilen bilgilerden hangisi **yanlıştır?**

- A) ☐
B)
C) ☐

FEN BİLİMLERİ

1) Aşağıdaki cümlelerde boş bırakılan yerleri verilen kelimelerden uygun olanlarla tamamlayınız.

tesisleri

doğal çevre

korunması

Binalar, yollar

doğal çevre

Ağrı Dağı

çevre

canlı

Yapay çevre

* Kendiliğinden oluşan insanlar tarafından yapılmamış olan çevreye denir.

*..... doğal çevreye örnek olarak verilebilir.

*Varlıkların içinde bulunduğu ortama denir.

*Kendiliğinden oluşmayan, insanlar tarafından yapılmış olan çevreye denir.

*..... yapay çevreye örnek olarak verilebilir.

* İnsanların yaptıkları yanlışlar yüzünden zarar görmektedir.

* Hava kirliliği, su kirliliği, toprak kirliliği, ormanların yok edilmesi gibi nedenlerle birçok yok olmaktadır.

*Sağlıklı bir yaşamın sürdürülebilmesi için doğal çevrenin gerekir.

*Kirli atıklar için arıtma kurulmalıdır.

FEN BİLİMLERİ

2. Aşağıdaki ifadelerden hangisi **yanlıştır**?

- A) Çevre kirliliğinin sebebi insanlardır.
- B) Çevre kirliliğinden sadece bitkiler zarar görür.
- C) Çevre kirliliği, bazı canlıların yok olmasına sebep olur.

3. Aşağıdakilerden hangisi, toprağın kirlenmesinin nedenlerindendir?

- A) Hayvan dışkıları
- B) Bitki kalıntıları
- C) Pet şişe ve plastik torbalar

4. Aşağıdakilerden hangisi **yapay çevreye örnektir**?



Yukarıdaki orman görseli için aşağıdakilerden hangisi **söylenemez**?

- A) Birçok canlıya ev sahipliği yapar.
- B) Doğal çevredir.
- C) İnsan eliyle oluşturulmuştur

6. Çevre kirliliğinin önlenmesi için aşağıdakilerden hangisi veya **hangileri yapılabilir**?

- I. Fabrika bacalarına filtre takmalıyız.
- II. Deterjan sularını akarsulara akıtmalıyız.
- III. Geri dönüşüm kutuları olmayan yerlerde çöpleri çevreye atmalıyız.
- IV. Çöplerimizi sulara değil de çöp kutularına atmalıyız.

- A) I ve II
- B) I ve IV
- C) II ve III

FEN BİLİMLERİ

7. Geri dönüşümle ilgili aşağıdakilerden **hangisi doğrudur?**

- A. Her atık maddenin geri dönüşümü olur.
- B. Geri dönüşüm çevre kirliliğine neden olur.
- C. Geri dönüşüm ülke ekonomisine katkı sağlar.

8. I. Meyve kabukları II. Cam şişeler III. Sakızlar

Yukarıdaki atıkların doğada yok olma süreleri en uzundan en kısaya doğru sıralandığında, sıralama **nasıl olur?**

- A) I , III, II
- B) II, III, I
- C) III, II, I

9. Aşağıdakilerden hangisi doğal çevreyi korumak için alınabilecek önlemlerden biri **değildir?**

- A) Yeşil alanlar korunmalı, Milli Parklara sahip çıkılmalı.
- B) Ulaşımında özel araçlar daha fazla kullanılmalı.
- C) Şehirler planlı ve kurallara uygun olarak yerleşime açılmalı, çarpık kentleşme önlenmeli.

10. Aşağıdakilerden hangi ikisi **canlı varlıktır?**

- A) Yumurta, su
- B) Hava, tohum
- C) Yumurta ve tohum


11. Aşağıdakilerden hangisi doğal anıtlara **örnek değildir?**




Let's Look and Circle

1. Van is snowy/cloudy.
2. Yozgat is rainy/windy.
3. Iğdır is sunny/snowy.
4. Kırıkkale is cold/hot.
5. Eskişehir is snowy/sunny.
6. Kocaeli is windy/sunny.
7. Bolu is warm/cold.
8. Ankara is warm/hot.


Eskişehir



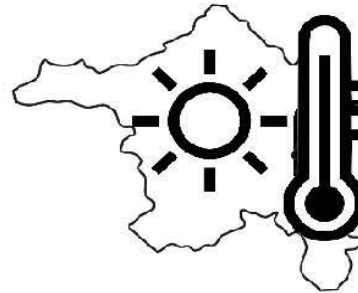
Van



Iğdır



Ankara




Kırıkkale



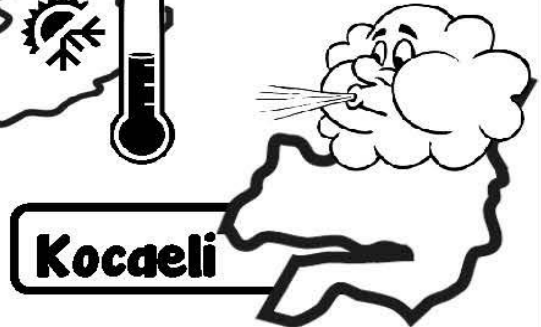
Yozgat



Bolu



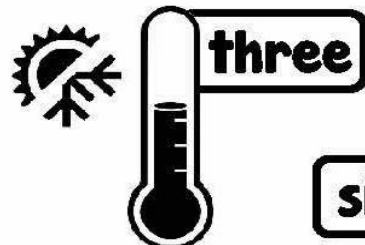
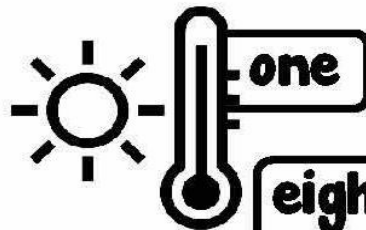


Kocaeli



Let's Look and Write

cloudy - warm
windy - snowy
cold - hot
sunny - rainy

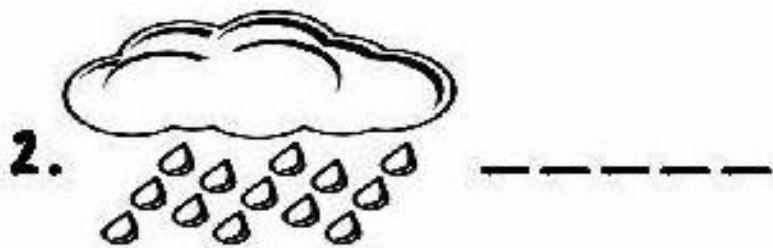
1. It is hot.
2. It is _____
3. It is _____
4. It is _____
5. It is _____
6. It is _____
7. It is _____
8. It is _____



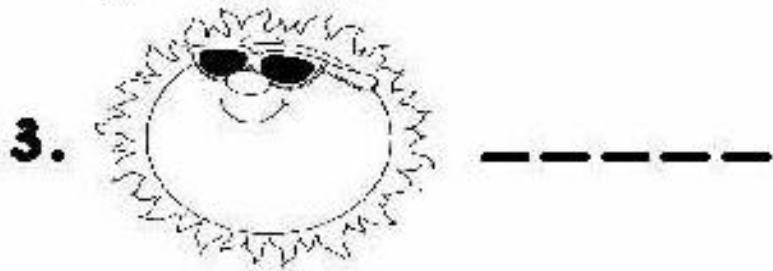
Let's write the words.



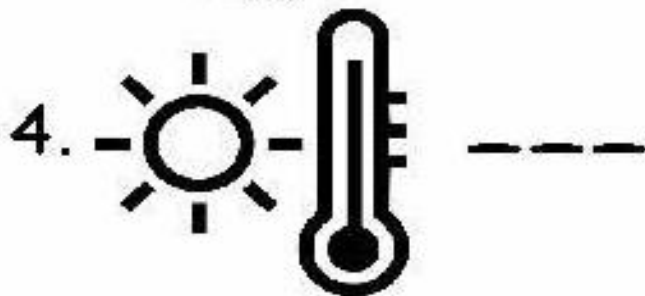
SW
ONY



YAN
IR



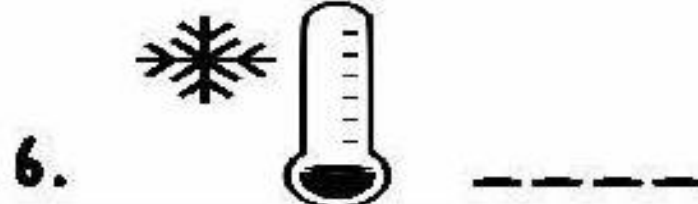
SUY
NN



T
OH



AM
RW



LC
DO

İNGİLİZCE

