

4. SINIF TM DERSLER SENE SONU DENEME SINAVI

TRKE

1- “Gç” szcğ ařağıdaki cmlelerin hangisinde “zor” anlamında kullanılmıřtır?

- A. Gç uygulanan cisimlerde řekil deęiřiklięi olur.
- B. Byle gç gsterisi yapmaya gerek yok.
- C. İřin en gç tarafı da buydu.
- D. Gç kazanmak iin iyi beslenmelisin.

2- Ařağıdaki cmlelerin hangisinde terim anlamlı bir szck kullanılmamıřtır?

- A. İkinci perdede oyuncular farklı kostmler giymiřti.
- B. Karenin evresini bir ırpıda buldu.
- C. Yiyeceklerde mikrop remesin diye buzdolabında saklarız.
- D. Kendine yeni řeyler almıřtı.

1. eve 2. misafir 3. sizin 4. iki 5. daha 6. gelmiř

3- Yukarıdaki kelimelerle anlamlı ve kurallı bir cmle elde etmek iin sıralama nasıl olmalıdır?

- A. 1-3-2-4-6-5
- B. 1-2-3-6-5-4
- C. 3-2-4-1-5-6
- D. 3-1-4-2-5-6

4- Ařağıdaki cmlelerin hangisinde anlatım bozukluęu vardır?

- A. Eve gelmesine henz daha iki saat vardı.
- B. Eve gelmesine iki saat daha vardı.
- C. İki saate kadar eve gelmiř olacaktı.
- D. İki saat daha geince eve gelmiř olacaktı.

Bundan birkaç yıl önce ablamla bir tartışmamız olmuştu. O zamandan beri aramız açıldı. Neredeyse birbirimize hiç rastlamamaya çalışıyorduk. Bayramlar haricinde konuşmuyorduk dersem yalan olmaz. Geçenlerde arkadaşlarımdan birinin ablası hastalandı. Onun perişan hâlini gördükçe kendi ablamı daha çok düşünür oldum. Meğer onu ne çok özlemişim. Yanına koşup boynuna sarılmaya hazırdım. Ablam sekiz saat uzaktaki bir şehirde oturuyordu. Arabama atlayıp yola çıktım. Evine vardığımda kapıyı ablam açtı. Yüzüne öfkeli bir ifade vermeye çabalayarak "Sen miydin Elif?" dedi. Öfkeli duruşunun ardında gözlerinin içinin güldüğünü görebiliyordum. Tereddüt etmeden boynuna sarıldım. Önce oralı bile olmadı. Sonra birdenbire ikimiz de ağlamaya başladık.

Aşağıdaki üç soruyu yukarıdaki metne göre cevaplayınız.

5- Elif'in ablasıyla arasının bozulmasının sebebi nedir?

- A. Uzak bir yere taşınması.
- B. Anlaşmazlık yaşamaları.
- C. İkisinin de uzak şehirlerde olmaları.
- D. Ablasını bayramlarda ziyaret etmemesi.

6- Elif, ablasını özlediğini ne zaman fark ediyor?

- A. Ablası onunla konuşmayınca
- B. Elif uzak bir şehre taşınınca.
- C. Arkadaşının ablası hastalanınca.
- D. Bayram gelince.

7- Ablanın gerçekten öfkeli olmadığını nereden anlıyor olabilir?

- A. Boynuna sarılmasından.
- B. Kaşlarını çatmasından.
- C. Kapıyı açmasından.
- D. Gözlerindeki gizli gülüşten.

8- Aşağıdakilerden hangisi hikâye unsurlarından değildir?

- A.Yazar B.Yer C.Zaman D.Olay

9- “İnsanlar arkadaşlarından gördüğü davranışları uygular.” açıklmasına karşılık gelen atasözü hangisidir?

- A. Bir elin nesi var, iki elin sesi var.
- B. Komşu komşunun külüne muhtaçtır.
- C. Üzüm üzüme baka baka kararır.
- D. Birlikten kuvvet doğar.

10- Aşağıdaki cümlelerden hangisinde pekiştirme sözü kullanılmamıştır?

- A. Masmavi gökyüzüne bakmaya doyamıyordu.
- B. Dikkat etsenize, kitabı paramparça ettiniz!
- C. Böyle yaptıkça büsbütün uzaklaşıyorum ondan.
- D. Bütün kitaplarını okumuştı.

11- “Yeni evinin geniş bahçesinde neşeli bakışlarla dolaşıyordu.” cümlesinde kaç tane ön ad vardır?

- A.1
- B.2
- C.3
- D.4

Yoksul bir çocuk görsem
yağmur altında üşüyen
köprü olmak geçer
hiç değilse
içimden
SUNAY AKIN

12- Yukarıdaki şiirde kaç hece vardır?

- A.25
- B.26
- C.27
- D.28

13- Aşağıdaki cümlede seçeneklerdeki soruların hangisinin cevabı yoktur?

“Dedem sabah kahvesini içtikten sonra ülkede neler olduğuna bakmak için gazete okurdu.”

- A. Ne zaman?
- B. Niçin?
- C. Kim?
- D. Nereye?

14- Hangisinde dilimize girmiş yabancı sözcükler kullanılmamıştır?

- A. Karışıklığı düzeltmek için yeni bir şeyler yapmak gerekiyordu.
- B. Bu festival şehirde tam bir kaos yaratmıştı.
- C. Şehrin imajını yenilemek için bir fuar düzenledik.
- D. Finali bir tiyatro oyunuyla yaptılar.

15- Aşağıdakilerden hangisinde büyük ünlü uyumuna uymayan sözcükler kullanılmamıştır?

- A. Gelin kapıyı açıp içeri girdi.
- B. Traktörü tarlaya doğru sürdü.
- C. Elbisem somuş, mavimtırak olmuştu.
- D. Okurken gözlerim yoruldu.

16- Aşağıdaki kelimelerden hangisi, sesli harfle başlayan bir ek aldığında sonundaki sessiz harf yumuşamaz?

- A.Sanat B.Balık C.Kitap D.Sokak

17- “Yoğurt – ayran” kelimeleri arasındaki anlam ilişkisi aşağıdakilerden hangisinde vardır?

- A. domates – salça
- B. koyun – ağıl
- C. bilezik – bilek
- D. yol – yolcu

18- “Karyola” sözcüğünün anlamlı en küçük parçası (kökü) aşağıdaki cümlelerin hangisinde vardır?

- A. Şehre bütün gece kar yağdı.
- B. Kar yolları kapamıştı.
- C. Kara göründü.
- D. Karyolanı odanın ortasına mı koydun?

19- Hangi cümlede hem yapım eki, hem çekim eki almış sözcükler bir arada kullanılmamıştır?

- A. Evi topladı ama kitaplığın tozunu almayı unuttu.
- B. Yaşasın, baloncu!
- C. Susuz kalma, sağlığını bozarsın.
- D. Boğazında bir sertlik duyuyordu.

20- Aşağıdaki eylemler ve zamanları hangi seçenekte yanlış eşleştirilmiştir?

- A. Geliyor – şimdiki zaman
- B. Bakmış – gelecek zaman
- C. Gördü- geçmiş zaman
- D. İster – geniş zaman

TÜRKÇE TESTİ BİTTİ. CEVAPLARINIZI KONTROL EDİNİZ.

MATEMATİK


1. 450 sayısına kaç onluk eklersek 800 sayısını elde ederiz?

- A.25 B.35 C.45 D.55

$$800 - 450 = 350 \quad 350 : 10 = 35$$

2. Aşağıdaki papatyalar belli bir kurala göre sıralanmıştır.

6. adımda kaç papatya olmalıdır?



- A.8 B.9 C.10 D.11

3. *Rakamları birbirinden farklı.

*Altı basamaklı en küçük tek sayı

Yukarıda belirtilen doğal sayı hangisidir?

A.123 456 B.102 345 C.120 345 D.102 354

$$\begin{array}{r} \text{A}43 \\ - \text{2B}5 \\ \hline 548 \end{array}$$

4. Yukarıdaki işlemde $\text{A} + \text{B}$ kaçtır?

A.17 B.18 C.20 D.21

5. $\frac{1}{25}, \frac{1}{8}, \frac{1}{15}$ kesirleri aşağıdaki seçeneklerden hangisinde doğru sıralanmıştır?

A) $\frac{1}{25} > \frac{1}{8} > \frac{1}{15}$

B) $\frac{1}{8} > \frac{1}{25} > \frac{1}{15}$


C) $\frac{1}{8} > \frac{1}{15} > \frac{1}{25}$

D) $\frac{1}{15} > \frac{1}{8} > \frac{1}{25}$

$$\begin{array}{r} \text{A}6 \\ \times \text{B}5 \\ \hline 130 \\ + 104 \\ \hline 1170 \end{array}$$

6. Yukarıdaki işlemde $\text{A} \times \text{B}$ kaçtır?

A.8 B.10 C.12 D.14



7. Yukarıdaki görselde kaç tane dik açı vardır?

A.6 B.7 C.8 D.10

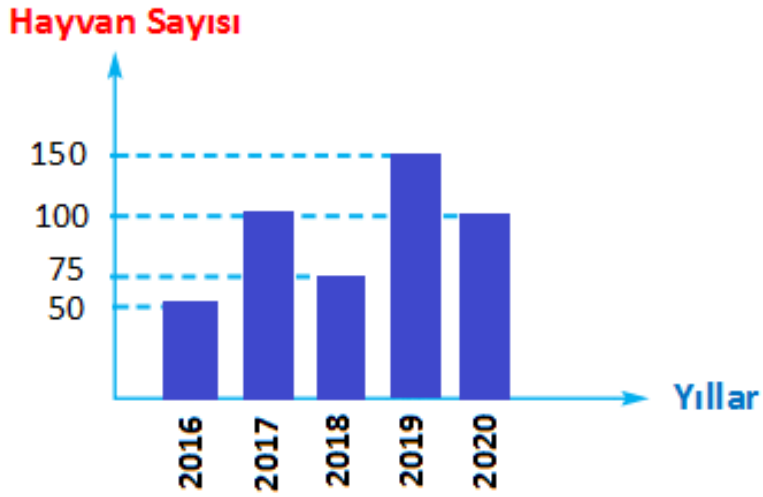
KURUYEMIŞ TÜRÜ	KİLOGRAM FİYATI
Fındık	90 lira
Leblebi	30 lira
Kuru üzüm	40 lira
Fıstık	120 lira

8. En pahalı üründen çeyrek kilogram, en ucuz üründen 2 kg, diğerlerinden birer kilogram aldığımızda kaç lira öderiz?

A.220 lira B.200 lira C.180 lira D.190 lira

9. 2 saat 15 dakika süren bir sinema filmi saat 18.05’de bittiğine göre film kaçta başlamıştır?

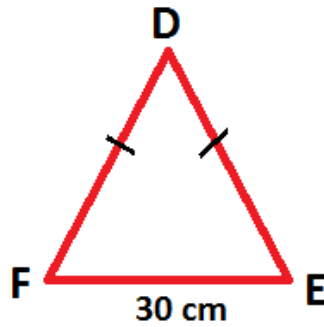
A.15.50 B.15.00 C.15.30 D.14.45



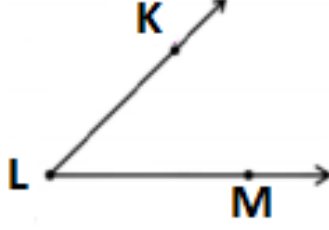
10. Yukarıdaki grafikte bir çiftlikteki yetiştirilen ineklerin yıllara göre sayısı verilmiştir. Bu verilere göre aşağıdaki bilgilerden hangisi yanlıştır?

- A. 2017 ve 2020 yıllarında eşit sayıda inek yetiştirilmiştir.
- B. En fazla inek 2017 yılında yetiştirilmiştir.
- C. En az inek 2016 yılında yetiştirilmiştir.
- D. 2019 yılında 2016 yılına göre 100 inek daha fazla yetiştirilmiştir.

11. Bir ikizkenar üçgenin çevresi 120 cm'dir. İkiz olmayan kenarı 30 cm olduğuna göre, ikiz kenarlardan biri kaç mm'dir?



- A.45 B.35 C.350 D.450



12. Aşağıdaki seçeneklerden hangisi yukarıdaki üçgenin ismi olamaz?

- A. \widehat{KLM} B. \widehat{KML} C. \widehat{L} D. \widehat{MLK}

13. Dedem 76, ninem 80 yaşındadır. Benim yaşıım ninemin yaşının dörtte biri kadardır. 6 yıl sonra yaşlarımızın toplamı kaç olur?

- A.176 B.182 C.194 D.196

14. Yarıısı 150 olan sayının 3 katı ile 28'in farkı kaçtır?

- A.700 B.800 C.772 D.872

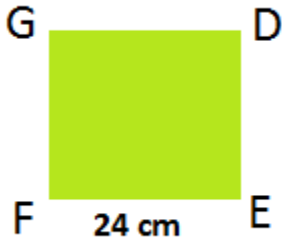
15. Mahallemizde 4 600 kişi yaşamaktadır. 1000 tanesi çocuk, erkeklerden 400 fazla da kadın olduğuna göre erkeklerin sayısı kaçtır?

- A.1600 B.2600 C.600 D.800

A E D M H Y

16. Yukarıdaki harflerin kaç tanesinin hem yatay hem dikey simetri doğrusu vardır?

- A.1 B.2 C.3 D.4



17. Bir kenarı 24 cm olan karenin çevresi bir dikdörtgenin çevresine eşittir. Dikdörtgenin kısa kenarı 11 cm ise uzun kenarı kaç cm'dir?

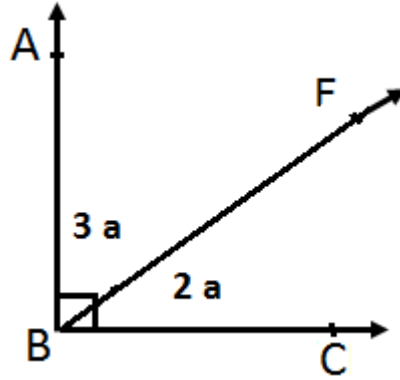
- A.35 cm B.37 cm C.39 cm D.22 cm

18. Her biri diğerinin 3 katı olan 4 sayının toplamı 320'dir. En büyük sayı kaçtır?

- A.136 B.237 C.216 D.218

19. 15 liraya 3 kalem alabiliyorum. 90 liraya kaç sabun alabilirim?

- A.10 B.11 C.20 D.15

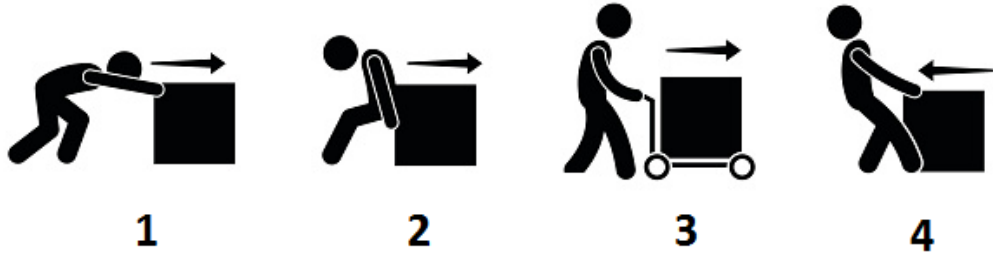


20. Yukarıdaki şekilde ABC açısı 90° olduğuna göre FBC açısı kaç derecedir?

- A.18 B.36 C.54 D.70

MATEMATİK TESTİ BİTTİ. CEVAPLARINIZI KONTROL EDİNİZ.

FEN BİLİMLERİ



1. Yukarıdaki görsele göre hangi seçenek doğrudur?

- A. 1 itme 2 çekme 3 itme 4 çekme
- B. 1 çekme 2 itme 3 itme 4 çekme
- C. 1 itme 2 itme 3 itme 4 çekme
- D. 1 itme 2 itme 3 çekme 4 çekme



2. Yukarıda bir temizlik ürününün üzerindeki uyarı işareti görülüyor. Hangi anlama gelemmez?

- A. Ellerinizi bu ürünle yıkayınız.
- B. Cildinizle temas ettirmeyiniz.
- C. Cildinize zarar verebilir.
- D. Ellerinizi bu ürünle yıkamayınız.

3. Lastik ve sünger düşünüldüğünde hangi seçenek doğrudur?

- A. Renksizdir ve kokusuzdur.
- B. Kuvvet uygulandığında kalıcı şekil bozukluğu olur.
- C. Kuvvet uygulamayı bıraktığımızda eski şekline döner.
- D. Sert ve kırılmandır.

4. Aşağıdaki öğrencilerin verdiği bilgilere göre hangi seçenek doğrudur?

Tahta bir maden çeşididir.



OYA

Linyit enerji üretiminde ve ısıtmada kullanılır.



ÜMİT

Bütün kayaların renkleri ve parlaklığı aynıdır.



CİHAN

Kayaçlar parçalanarak kaya, çakıl ve kuma dönüşür.



PELİN

A.	OYA	ÜMİT	CİHAN	PELİN
	Y	D	Y	D
B.	OYA	ÜMİT	CİHAN	PELİN
	Y	Y	Y	D
C.	OYA	ÜMİT	CİHAN	PELİN
	Y	D	Y	Y
D.	OYA	ÜMİT	CİHAN	PELİN
	D	D	Y	D



5. Yukarıdaki görsellerde çeşitli ses kaynakları verilmiştir. Buna göre aşağıdaki seçeneklerden hangisi doğrudur?

- A. 1 ve 8 yapay ses kaynaklarıdır.
- B. 7, 4 ve 6 doğal ses kaynaklarıdır.
- C. 2, 1 ve 6 doğal ses kaynaklarıdır.
- D. 9, 3 ve 5 yapay ses kaynaklarıdır.

6. Aşağıdaki bilgiler doğrultusunda hangi seçenek doğrudur?

- Dünya'nın en ince katmanıdır.
- Üzerinde karalar ve denizler bulunur.
- Canlıların üzerinde yaşadığı katmandır.

- A. Çekirdek
- B. Yer kabuğu
- C. Atmosfer
- D. Ateş küre

7. Dünya'nın kendi etrafında dönüşü ile hangisi oluşmaz?

- A. Mevsimler
- B. 24 Saat
- C. Bir Gün
- D. Gece-Gündüz


8. Dünya'nın Güneş etrafında dönmesi ile ilgili aşağıda verilen bilgilerden hangisi yanlıştır?

- A. Geçen süreye 1 yıl denir.
- B. 365 gün 6 saatte tamamlanır.
- C. Tam bir dönüşte bir mevsim oluşur.
- D. Dünya, elips şeklinde bir yörüngede Güneş'in etrafında dolanır.

9. Aşağıdaki görsele göre, şehirlerin hangisinde Güneş, daha erken doğar?

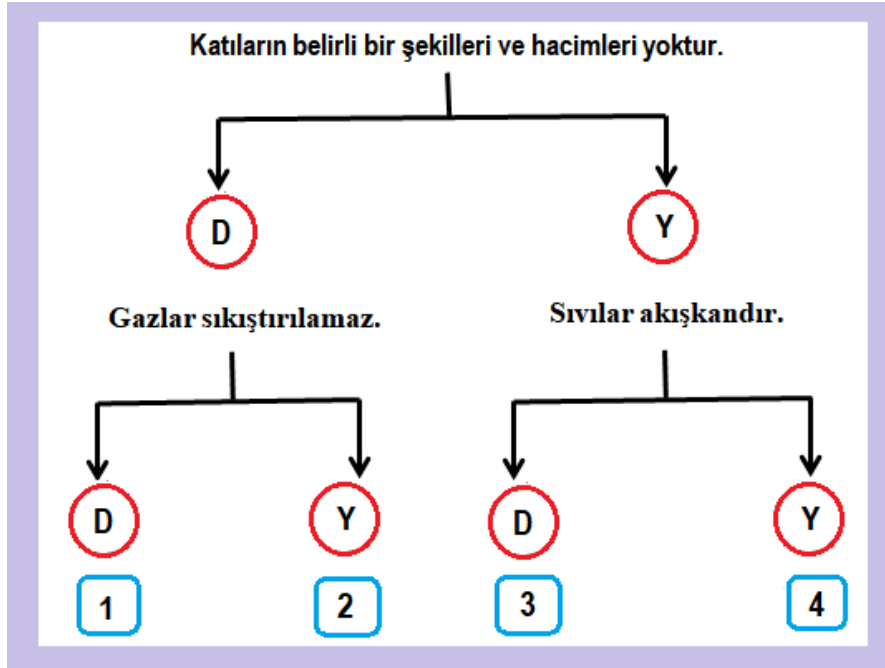


- A. Kastamonu
- B. Ağrı
- C. Karaman
- D. Balıkesir



10. Yukarıdaki modele göre hangisi söylenebilir?

- A. 1 numaralı bölgede gündüz yaşanmaktadır.
- B. 2 numaralı bölgede gündüz yaşanmaktadır.
- C. 1 numaralı bölgede öğlen olmuştur.
- D. 2 numaralı bölgede akşam olmuştur.



11. Yukarıdaki şemaya göre kaçınıcı çıkışa ulaşırız?

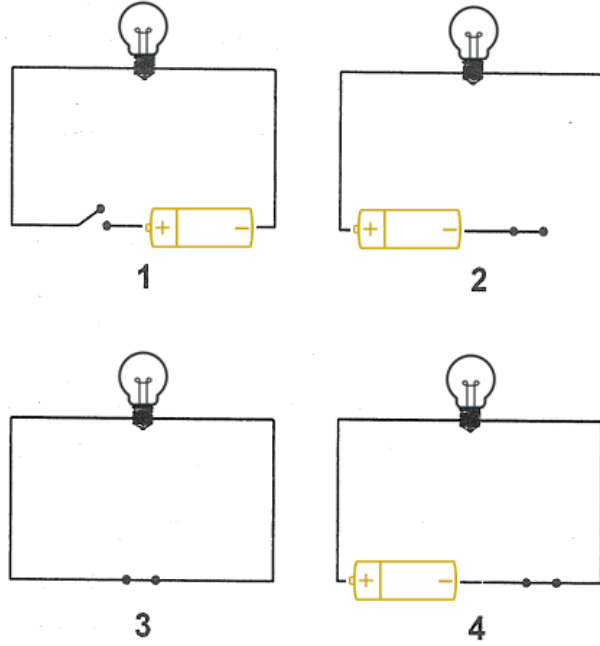
- A. 1
- B. 2
- C. 3
- D. 4



12.Yukarıdaki öğrencilerden hangileri doğru tavsiye vermiştir?

- A. Nisa - Barış B. Nisa - Defne C. Barış - Defne D. Nisa – Defne

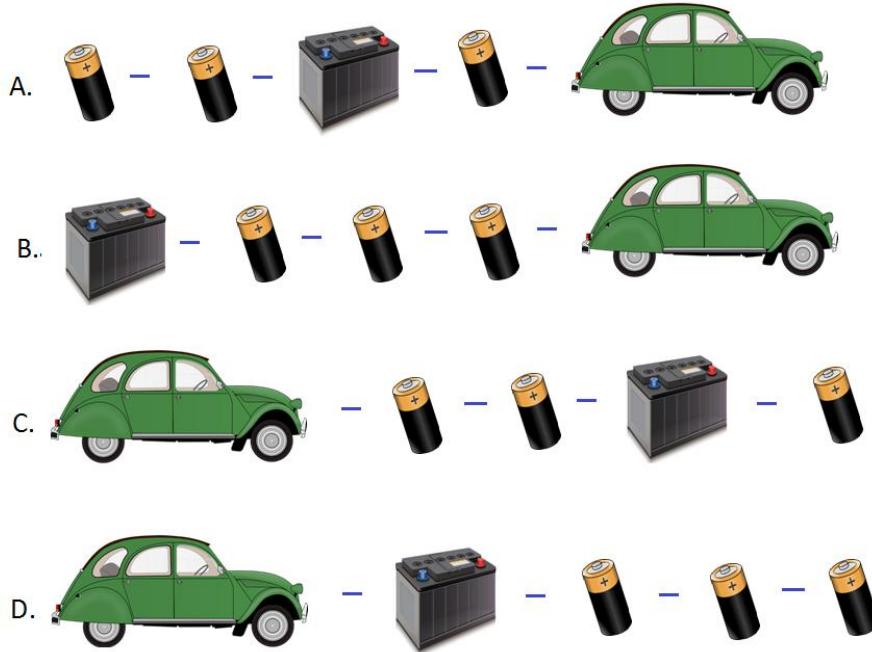
13.Aşağıdaki elektrik devrelerinin hangisindeki ampul ışık verir?



- A. 1 B. 2 C. 3 D. 4

14. El feneri ... ile çalışır. Otomobil ... ile çalışmaz, ... ile çalışır çünkü ... enerjisi ...i çalıştırmak için yeterli değildir.

Yukarıdaki cümledeki boşluklar hangi seçenekteki sırayla doldurulursa doğru olur?



15. Vücudumuzda yapıcı-onarıcı olarak görev yaparlar.
Büyüme ve gelişmeyi sağlarlar.
Yaraların iyileşmesi için ihtiyacımız vardır.

Yukarıdaki ifadeler aşağıdaki besin içeriklerinden hangisini anlatır?

- A. Karbonhidratlar B. Yağlar
C. Mineraller D. Proteinler

16. Meyve ve sebzelerde aşağıdaki besin içeriklerinden hangisi daha çoktur?

- A. Mineraller B. Vitaminler
C. Yağlar D. Proteinler

Bütün besinlerde bulunur. Vücudumuzun yaklaşık % 75'ini oluşturur.
Düzenleyici olarak görev yapar. Günde en az iki litre tüketilmelidir.

17. Yukarıda tanımı verilen aşağıdakilerden hangisidir?

- A. Sebze
- B. Meyve
- C. Su
- D. Yumurta

18. Aşağıda ışık hakkında verilen bilgilerden hangisi doğrudur?

- A. Bir cisim görebilmek için gözümüzden cisme ışık gitmelidir.
- B. Işık bir enerji türüdür.
- C. Işık çevre kirliliğine neden olmaz.
- D. Işık miktarı arttıkça aydınlanma azalır.


19.1. Ateş böcekleri

- 2. El feneri
- 3. Ampul
- 4. Televizyon

Yukarıda verilenlerden hangileri ışık kaynağıdır?

- A) 1 - 2 - 3
- B) 1 - 3
- C) 2 - 3 - 4
- D) 1 - 2 - 4

20. Aşağıdaki görsele bakan biri hangisini söyleyemez?



- A. Bütün canlılar beslenme yapar.
- B. Bitkiler kökleriyle topraktan besin alır.
- C. Beslenme canlıların ortak özelliğidir.
- D. Bitkilerin besine ihtiyacı yoktur.

FEN BİLİMLERİ TESTİ BİTTİ. CEVAPLARINIZI KONTROL EDİNİZ.

SOSYAL BİLGİLER



İlk iki soruyu yukarıdaki krokiye göre cevaplayınız.

1. Yukarıdaki krokiye göre aşağıda verilen bilgilerden hangisi yanlıştır?

- A. Çiçekçinin kuzeybatısında Sinan'ın evi vardır.
- B. Hastanenin güneyinde okul vardır.
- C. Berberin kuzeydoğusunda hastane vardır.
- D. Parkın kuzeyinde okul vardır.

2. Krokiye göre hangi seçenek doğrudur?

- A. Yonca Sokak, Yıldız Sokak'ın güneyindedir.
- B. Berber, Atatürk Caddesi'nin doğusundadır.
- C. Hastane, Atatürk Caddesi'nin kuzeydoğusundadır.
- D. Park, Yonca Sokak'ın güneyindedir.



1



2



3



4



5

3. Yukarıdaki görsellere göre aşağıda verilen seçeneklerden hangisi doğrudur?

- A. 1, 3 ve 4 beşeri unsurlardır.
- B. 2, 4 ve 5 doğal unsurlardır.
- C. 3 ve 4 doğal unsurlardır.
- D. 3 ve 4 beşeri unsurlardır.

4. Aşağıdaki davranışlardan hangisi teknolojik ürünlerin yanlış kullanımına verilebilecek örneklerden biri olamaz?

- A. Televizyonu yakından izlemek.
- B. Taşıtları süratli kullanmak.
- C. Uzun saatler bilgisayar kullanmak.
- D. Derslerde projeksiyon cihazı kullanmak.

5. Aile bütçesine katkıda bulunmak isteyen biri hangisini yapar?

- A. Pahalı ürünleri tercih eder.
- B. İsteklerine öncelik verir.
- C. İhtiyaçlarına göre alışveriş listesi hazırlar.
- D. Reklamlara bakarak ürün satın alır.

- I. Ev telefonu
- II. Mobil telefon
- III. Mektup
- IV. Telgraf

6. Verilen haberleşme araçlarının geçmişten günümüze göre sıralanışı aşağıdakilerden hangisidir?

- A. I, II, III, IV B. IV, I, III, II C. III, IV, II, I D. III, IV, I, II

7. Aşağıdaki davranışlardan hangisi hoşgörölü bir davranış değildir?

- A. Farklı futbol takımlarını tutan arkadaşlara kötü davranmak.
- B. Sınıfta söz alıp konuşan bir öğrencinin sözünü dinlemek.
- C. Farklı düşüncelere sahip olan insanlara saygılı davranmak.
- D. Başkalarının görüşlerine beğenmesek de saygı duymak.

8. Aşağıdakilerden hangisi bütçenin tanımı olabilir?

- A. Gelirle giderin dengelenmesi.
- B. Zorunlu harcamaların belirlenmesi.
- C. Gelirin ne kadar olduğunun belirlenmesi.
- D. Giderin ne kadar olduğunun belirlenmesi.

9. Aşağıda verilen sembollere göre hangisi söylenemez?



- A. Erzurum kar yağışlıdır.
- B. ankara parçalı bulutludur.
- C. İstanbul yağmurludur.
- D. Samsun sislidir.

10. Ürünlerin üretim, dağıtım, tüketimleri ile ilgili yapılan eşleştirmelerinden hangileri doğrudur?

- I. Buğdayın tarlada yetişmesi. ⇒ üretim
- II. Fırından ekmek almak. ⇒ dağıtım
- III. Sofraya ekmek getirmek. ⇒ tüketim

- A) I ve II
- B) I ve III
- C) II ve III
- D) I, II ve III

11. Atatürk ne zaman ve nerede doğmuştur?

- A. 1938 – Selanik
- B. 1881 – Selanik
- C. 1881 – İstanbul
- D. 1938 – İstanbul

12. Atatürk'ün doğduğu şehir eskiden bizim toprağımızdı. Savaşta kaybettiğimiz bu şehir, günümüzde hangi ülkenin toprağıdır?

- A. İtalya
- B. İngiltere
- C. Yunanistan
- D. Fransa

13. Aşağıdakilerden hangisi kıta değildir?

- A. Asya
- B. Avrupa
- C. Avusturya
- D. Amerika

14. Aşağıdaki ülkelerden hangisi farklı bir kıtada bulunur?

- A. Suriye
- B. Yunanistan
- C. İspanya
- D. Almanya

15. I. Dünya Savaşı'nda yenilince Osmanlı Devleti hangi antlaşmayı imzaladı?

- A. Mondros Ateşkes Antlaşması
- B. Lozan Antlaşması
- C. Ankara Antlaşması
- D. İstanbul Antlaşması

16. Atatürk, "Ordular! İlk hedefiniz Akdeniz'dir. İleri!" emrini aşağıdaki savaşlardan hangisinde vermiştir?

- A. Büyük Taarruz
- B. I. İnönü Savaşı
- C. Çanakkale Savaşı
- D. Sakarya Savaşı

17. TBMM hangi tarihte, nerede açılmıştır?

- A. 1920 – İstanbul
- B. 1923 – İstanbul
- C. 1920 – Ankara
- D. 1923 - Ankara

18. Yağış ve eğimin fazla olduğu yerlerde toprak ve kaya kütlelerinin yer değiştirmesiyle olur.

Fay hatlarının faaliyete geçmesiyle yerin derinliklerinde oluşan sarsıntıların yeryüzüne yansımalarıdır.

Açıklaması verilen doğal afetler aşağıdakilerin hangisinde yer alır?

- A. Erozyon – deprem
- B. Heyelan – deprem
- C. Sel – deprem
- D. Çığ - deprem

19. Milli kültür, bir milletin kendine özgü düşünüş ve yaşayış biçimidir. Buna göre aşağıda verilenlerden hangisi milli kültürümüze ait değildir?



A.



B.



C.



D.

20. Aşağıdakilerden hangisi bir ilkokulda aynı sınıfta okuyan iki öğrencinin kesin olan ortak özelliğidir?

- A. Aynı memlekette doğmuşlardır.
- B. Boyları aynı uzunluktadır.
- C. İkisi de aynı yıl doğmuştur.
- D. Parmak izleri farklıdır.

SOSYAL BİLGİLER TESTİ BİTTİ. CEVAPLARINIZI KONTROL EDİNİZ.

CEVAP ANAHTARI

TÜRKÇE	MATEMATİK	FEN BİLİMLERİ	SOSYAL BİLGİLER
1- C	1- A	1- C	1. D
2- D	2- C	2- A	2. C
3- D	3- B	3- C	3. C
4- A	4- A	4- A	4. D
5- B	5- C	5- C	5. C
6- C	6- A	6- B	6. D
7- D	7- C	7- A	7. A
8- A	8- A	8- C	8. A
9- C	9- A	9- B	9. D
10- D	10- B	10- B	10.D
11- C	11- D	11- C	11.B
12- D	12- B	12- A	12.C
13- D	13- C	13- D	13.C
14- A	14- D	14- A	14.A
15- A	15- A	15- D	15.A
16- A	16- A	16- A	16.A
17- A	17- B	17- C	17.C
18- D	18- C	18- B	18.B
19- B	19- D	19- A	19.B
20- C	20- B	20- D	20.D