

Adı, Soyadı:

Sınıfı: 4 /..... No:

MÜZİK SINAVI 2

B

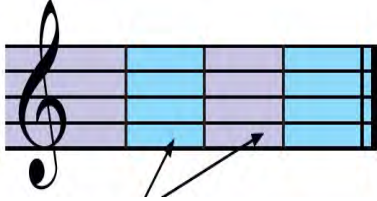
. . İstiklal Marşının sözlerini kim bestelemiştir ?

A) Mehmet Akif
ERSOY

B) Osman Zeki
ÜNGÖR

C) Necip Fazıl
KISAKÜREK

D) Behçet Kemal
ÇAĞLAR



. Dizek üzerinde, dik çizgilerle birbirinden ayrılan eşit süreli bölümlere ne denir.

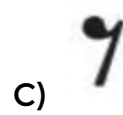

A) Dizek

B) Sol Anahtarı

C) Nota

D) Ölçü

. Aşağıdaki sembollerden hangisi sol anahtarıdır ?



. Sol anahtarının yanındaki rakamlara ne denir ?

A) vuruş

B) zaman belirteci

C) ölçü

D) bitiş çizgisi

. “..... düşünce ve hislerimizin seslerle ifade edilme sanatıdır.”
Cümlesinde noktalı yere aşağıdakilerden hangisi yazılmalıdır ?

A) Resim

B) Tiyatro

C) Sinema

D) Müzik

. “Seslerin sürelerini ölçmek için elimiz veya ayağımızla yaptığımız, aşağı ve yukarı yöndeki eşit süreli harekete denir.”

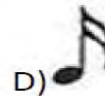
A) Dörtlük

B) Vuruş

C) Sus

D) Dizek

. Aşağıda verilen sembollerden hangisi dörtlük notadır ?




. Aşağıda verilen sembollerden hangisi sekizlik notadır ?



. Aşağıda verilen sembollerden hangisi sekizlik sustur ?

- A)  B)  C)  D) 

. Aşağıdaki sembollerden hangisi dörtlük notadır ?

- A)  B)  C)  D) 

Başarılar Dilerim

Sınıf Öğretmeni