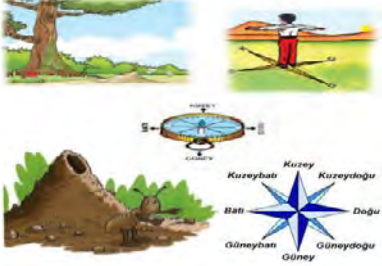


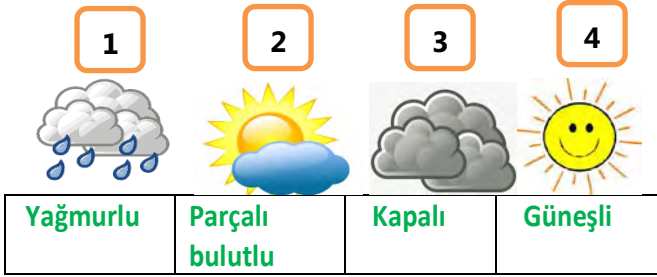
SORULAR

1. Aşağıdaki görsel hangi konuyu anlatıyor ?



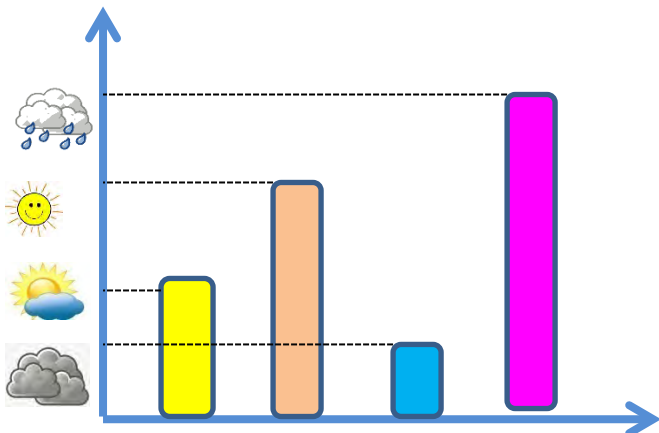
- A) Afetler
- B) Yönler
- C) Kronoloji
- D) Kültür

2. Salih, hava durumunu gösteren görselleri adlandırırken kaç numaralı görseli **hatalı** yazmıştır ?




- A) 1 B) 2 C) 3 D) 4

3. Aşağıdaki grafikte yıl içinde en çok hangi hava olayı görülmüştür ?



- A) Bulutlu B) Güneşli
C) Parçalı Bulutlu D) Yağmurlu

4. Aşağıdaki görsellerden hangisi doğal unsur **değildir**?

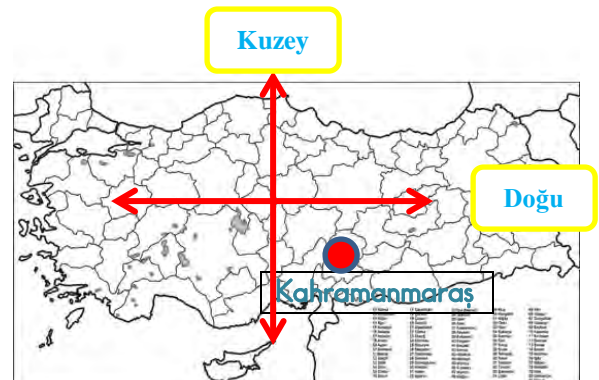


5. Hatice, sosyal bilgiler dersi "Yönler" konusunda aşağıdaki tabloyu doldururken kaç numaralı eşleştirmelerde **hata yapmıştır** ?

1	Camilerin minare kapaşı	Güney
2	Kutup yıldızı	Kuzey
3	Karıncanın yuvası	Doğu
4	Ağaçların yosunlu kısmı	Kuzey
5	Pusulanın renkli ucu	Güney

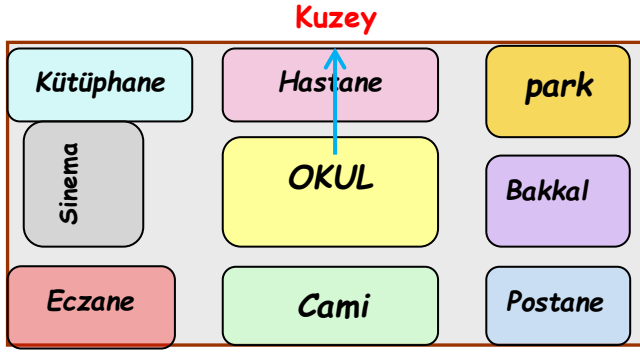
- A) 1-3 B) 3-5 C) 2-5 D) 2-4

6. Aşağıdaki haritaya göre Kahramanmaraş ili yön pusulasının neresindedir ?



- A) Kuzeybatı B) Kuzeydoğu
C) Güney D) Güneydoğu

7. Batuhan, aşağıdaki krokiye bakarak hangi cümleyi **yanlış** kurmuştur ?



- A) Okulun doğusunda bakal vardır.
 B) Okulun kuzeyinde hastane vardır.
 C) Okulun güneyinde cami vardır.
 D) Okulun kuzeybatısında postane vardır.

8.

- I. Erzurum Kongresi
 II. Amasya Genelgesi
 III. TBMM' nin açılması
 IV. Atatürk' ün Samsun'a gelmesi
 V. Sivas Kongresi

Yukarıda verilenlerin doğru **kronolojik** sıralaması aşağıdakilerden hangisidir ?

- A) IV - II - I - V - III
 B) V - III - I - IV - II
 C) I - V - III - IV - II
 D) I - II - III - IV - V

9. Aşağıdaki savaşlardan hangisi Kurtuluş Savaşı (Milli Mücadele) içinde yapılan savaşlardan biri **değildir** ?

- A) 1. İnönü Savaşı
 B) 2. İnönü Savaşı
 C) Çanakkale Savaşı
 D) Sakarya Meydan Savaşı

10. 1. Dünya Savaşında Osmanlı Devleti yenilmiş ve İtilaf Devletleri tarafından ordusu dağıtılmıştır.

Kurtuluş Savaşı'nda (Milli Mücadele yıllarında) düşman işgaline karşı Türk halkının kendi gücü ile kurduğu yerel kuvvetlere ne ad verilir ?

- A) Kurtuluş Ordusu Birlikleri
 B) Kuvayı Milliye
 C) Savunma gücü
 D) TBMM Ordusu

11. Aşağıdakilerden hangisi veya hangileri krokinin faydalarındandır ?

- ▲ Bir adresi bulmak için krokiden yararlanılır.
 ★ Bir arkadaşımıza evimizin yerini basit bir kroki çizerek tarif edebiliriz.
 ♥ Yakın çevremizi kâğıt üzerinde gösterebilmek için krokiden yararlanılır.

- A) ♥ ★ B) ▲ ♥
 C) ▲ D) ▲ ★ ♥


12. Aşağıdaki grafik, aralık ayına ait 1 haftalık hava durumunu gösteriyor.

GÜNLER	HAVA OLAYLARI	SICAKLIK
Pazartesi		8
Salı		4
Çarşamba		5
Perşembe		7
Cuma		-2
Cumartesi		4
Pazar		6

Grafiğe göre haftanın en **sıcak** ve en **soğuk** günleri kaç derece ile gösterilmiştir ?

- A) 8 ile 7
 B) 8 ile -2
 C) 6 ile 8
 D) 7 ile -2

13.



1



2



3



4



5



6

Yukarıdaki kaç numaralı fotoğraflar milli kültürümüze **ait değildir** ?

- A) 1 - 2 - 3 B) 4 - 5 - 6
 C) 3 - 4 - 6 D) 1 - 4 - 6

14.



Yukarıdaki haritada ;

Deniz, göl, ırmak gibi su olan yerler renk ile , yüksek yerler , dağlarrenk ile Düzlük alanlar (ovalar) iserenk ile gösterilmiştir.

Paragrafta boşluklara gelmesi gereken uygun kelimeler sırası ile hangi seçenekte verilmiştir ?

- A) Yeşil - açık kahverengi - mavi
- B) Mavi - kahverengi - yeşil
- C) Kahverengi - yeşil - mavi
- D) Yeşil - mavi - kahverengi

15. Ela , doğal afetler ile ilgili verilen cümlelerdeki boşluklara gelen ▲ - ■ - ● işaretleri doğru şekilde doldurmak istiyor. Ela bu işaretlerin yerine sırası ile hangi kelimeleri yazmalıdır ?

- Yerkabuğunda oluşan ani kırılma , çatlama sonucu oluşan yer sarsıntısına ▲ denir.
- Eğimli yerlerde toprağın kayarak yer değiştirmesine ■ denir.
- Şiddetli yağmur veya aniden eriyen kar suları nedeniyle oluşan su taşkınlarına ● denir.



- | | | | |
|----|---------|---------|--------|
| A) | deprem | heyelan | sel |
| B) | hortum | çığ | sel |
| C) | erozyon | çığ | deprem |
| D) | deprem | sel | çığ |

16.

- Binaları sağlam zemine yapmak
- Deprem çantası hazırlamak
- Devrilebilecek eşyaları duvara sabitlemek

Yukarıda verilen bilgileri ne zaman yapmalıyız ?

- A) Deprem anında
- B) Depremden sonra
- C) Depremden önce
- D) Hortumdan sonra

17.



Kimlik kartımızda bize özel olan, başka birininkiyle aynı olması mümkün olmayan bilgi kaç numaralı kutucuk ile gösterilmiştir ?

- A) 1
- B) 2
- C) 3
- D) 4

18. Haritada Milli Mücadele'de başarı gösteren bazı illerimiz verilmiştir.



Verilen bu illerimizdeki Milli Mücadele Kahramanlarımız sırasıyla hangi seçenekte doğru verilmiştir ?

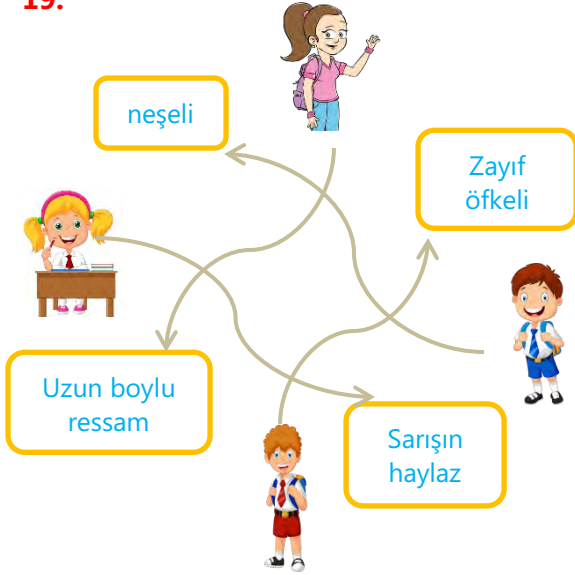
1.

2.

3.

- | | | | |
|----|--------------|------------|---------------|
| A) | Sütçü İmam | Şahin Bey | Hasan Tahsin |
| B) | Hasan Tahsin | Sütçü İmam | Şahin Bey |
| C) | Ali Saip Bey | Sütçü İmam | Şerife Bacı |
| D) | Şerife Bacı | Şahin Bey | Yörük Ali Efe |

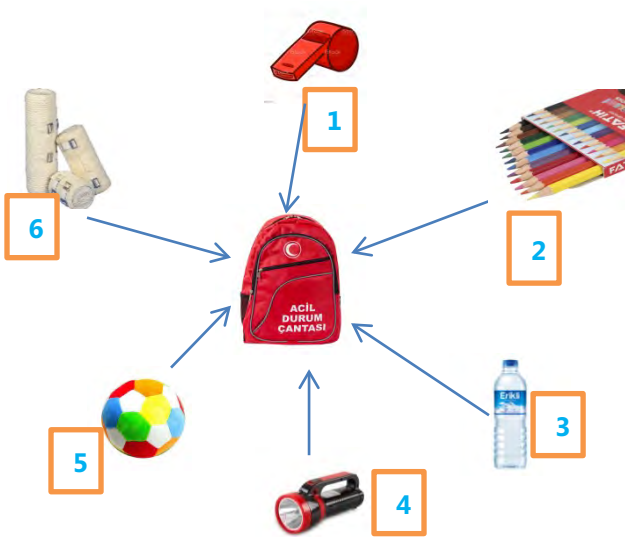
19.



Yukarıdaki fotoğrafı inceleyen Berra'nın nasıl bir cümle kurması beklenir ?

- A) İnsanların hepsi aynı kişilik özelliklerine sahiptir.
- B) İnsanları sadece fiziksel özelliklerine göre sevebiliriz.
- C) İnsanların fiziksel özellikleri aynıdır.
- D) İnsanlar fiziksel ve kişisel özellik bakımından farklılık gösterebilirler.

20. Ümran, deprem çantası hazırlarken kaç numaralı görseli ya da görselleri çantasına **koymamalıdır** ?



- | | |
|--------------|--------------|
| A) 2 - 4 - 6 | B) 1 - 2 - 3 |
| C) 5 | D) 2 - 5 |

Her soru 5 puandır.
Başarılar dilerim
Faruk CANDAN