

Adı:  
Soyadı:  
Sınıfı:

YAKAKÖY İLKOKULU 4. SINIFLAR  
1.DÖNEM 2. SOSYAL BİLGİLER YAZILISI

10.01.2022

Puanı:.....

**A. Aşağıda verilen ifadelerden doğru olanların başına "D", yanlış olanların başına "Y" yazınız. 20p**

Hava olaylarını bilmek çiftçilerin, balıkçıların, pilotların işlerini kolaylaştırır.

Ağaçların ve taşların yosun tutmuş tarafları kuzey yönünü gösterir.

Yüzümüzü güneşin doğduğu yöne çevirdiğimizde arkamız kuzeyi gösterir.

Haritalardaki farklı renkler yer şekillerini ve yüksekliklerini gösterir.

Mustafa Kemal, Millî Mücadele yolunda halkın desteğini almamıştır.

Bir yerin bazı özelliklerinin gösterildiği kabataslak ve kuşbakışı çizime harita denir.

Yunanlılara karşı ilk direnişi başlatan gazeteci Hasan Tahsin'dir.

Evler, fabrikalar, oyun parkları, yollar doğal unsurlardır.

Hava tahminleri, Devlet Meteoroloji İşleri Genel Müdürlüğü tarafından yapılır.

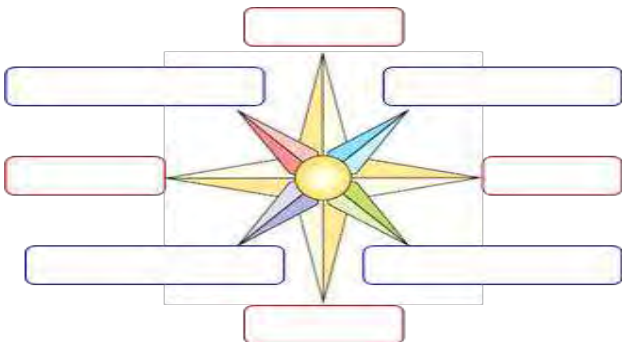
Bir toprak parçasının kayarak yer değiştirmesine çığ denir.

**B. Aşağıda kutucuklarda verilen kelimeleri cümlelerdeki boşluklara uygun şekilde yerleştiriniz. 20p**





meteoroloji	empati	Milli Mücadele	kuzeyi	güneyi	Şahin Bey
Hasan Tahsin	deprem	Kuva-yı Milliye	hava olayları	Doğal Unsurlar	parmak izi

- ❖ ..... ve gözdeki iris tabakası ve kişiye özeldir.
- ❖ Kendimizi karşıımızdakinin yerine koyarak hareket etmeye denir.
- ❖ Öğle vaktinde gölgemizin yönü ..... gösterir.
- ❖ İşgal güçlerine karşı direnmek için halkın kurduğu silahlı güçlere denir.
- ❖ Yağmur, kar, dolu, sis gibi olaylara .....denir.
- ❖ Hava olaylarını inceleyen bilim dalına ..... denir.
- ❖ İnsan etkisi olmadan doğal olarak yaratılan varlıklara ..... denir.
- ❖ Mustafa Kemal 19 Mayıs 1919'da Samsun'a giderek .....yi başlatmıştır.
- ❖ Yer kabuğunun derin katmanlarının kırılıp yer değiştirmesi sonucu ..... oluşur.
- ❖ İzmir" de düşmana ilk kurşunu gazeteci..... sıkıştır.

**C) Aşağıdaki şeklin üzerine ana ve ara yönleri yazınız. (10 P)**



**D) Aşağıdaki tabloda hava durumu sembollerinin anlamlarını yazınız. (4 P)**

	
.....	.....
	
.....	.....

**E. Aşağıdaki doğal afetleri, anlamları ile eşleştiriniz. 10p**

Heyelan	Çok şiddetli rüzgârların meydana getirdiği doğal afettir.
Çığ	Şiddetli yağmurlar sonucu derelerin taşarak her tarafı su basması sonucu oluşan afettir.
Sel	Aşağı yağın yağmurdan dolayı yumuşayan toprağın aşağıya doğru kayarak çevreye zarar vermesi sonucu oluşan afettir.
Deprem	Yer kabuğunun derin katmanlarının kırılıp yer değiştirmesi yüzünden oluşan sarsıntı, yer sarsıntısı, zelzele.
Fırtına	Dağlarda birikmiş kar kütlelerinin aşağıya kayması sonucu oluşan afettir.

1. Doğu cephesinde Ermenilerle kahramanca mücadele eden komutanımız hangisidir?

- A) İsmet Paşa      B) Kazım Karabekir Paşa  
C) Ali Fuat Paşa      D) Fevzi Paşa

2. Aşağıdakilerden hangisi deprem anında yapılması gereken doğru davranışlardan biri değildir?

- A) Bir masa ya da sıranın yanına çökmek.  
B) Başını elleri arasına alarak korumak.  
C) Tehlike geçene kadar olduğu yerde kalmak.  
D) Hemen merdivenlerden aşağıya koşmak.

3. Aşağıdakilerden hangisi yön bulma yöntemlerinden biri değildir?

- A) Bulutların hareketleri  
B) Pusula  
C) Karınca yuvaları  
D) Ağaç gövdelerinin yosunlu tarafları

4. Aşağıdaki doğal afetlerden hangisi ülkemizde daha fazla can ve mal kaybına neden olur?

- A) Sel      B) Heyelan  
C) Çığ      D) Deprem

5. Aşağıdakilerin hangisinden yararlanarak yönümüzü bulamayız?

- A) Ay ve bulutun konumundan  
B) Güneş'in hareketlerinden  
C) Geceleyin Kutup Yıldızından  
D) Ağaç ve taşların üzerindeki yosunlardan

6. Millî Mücadele için hazırlık yaparken Mustafa Kemal Paşa, aşağıdaki şehirlerden hangisinde toplantı yapmamıştır?

- A) Amasya      B) Konya      C) Erzurum      D) Sivas

- I. Çok telaşlı bir insanım.  
II. Uzun boylu zayıf bir kişiyim.  
III. İnsanlara güvenirim.  
IV. Düz siyah saçlıyım.

7) Yukarıda verilenlerin hangileri fiziksel özelliklerimizdendir?

- A) I. ve II.      B) II. ve III.  
C) II. ve IV.      D) I. ve III.

- 1-Selim, ilkokula başladı.  
2-Selim, ilk karnesini aldı.  
3-Selim, ilk dişini çıkardı.  
4- Selim, ikinci sınıfa geçti.

8) Selim'in yaşamına ait verilen gelişmelerin kronolojik olarak doğru sıralanışı, aşağıdakilerden hangisidir?

- A) 3, 2, 1, 4      B) 1, 2, 4, 3  
C) 1, 3, 4, 2      D) 3, 1, 2, 4

9) Mustafa Kemal Paşa'ya ne zaman 'Mareşallık' ve 'Gazilik' unvanı verilmiştir?

- A) Çanakkale Savaşından sonra  
B) Başkomutanlık Meydan Muharebesinden sonra  
C) Sakarya Meydan Muharebesinden sonra  
D) İnönü Savaşından sonra

Çoktan seçmeli her soru 4 puan