

BİLSEM DENEME SINAVI-2

www.bilsemrehberi.com

Telefon: 0553 059 18 78

Bilgisayar ortamında
hazırlanmış, süre ayarlı
deneme talebi için bizleri
arayabilirsiniz.

1) ALMAN =ANLAM

AKSARAY = SAKARYA

ÇARIK = ÇIRAK

Yukarıdaki kelimelerdeki harflerin yerlerini değiştirerek yeni kelimeler türetilmiştir. Aşağıdaki kelimelere aynı yöntem uygulansa hangisinden bir hayvan ismi çıkartılamaz?

A) KİLİT

B) HAŞİN

C) KATLAR

D) KIRMA

2) Emre — Esra — Rabia — Başak — ?

Yukarıdaki isimler belli bir kurala göre sıralanmıştır. Buna göre soru işareti yerine aşağıdaki isimlerden hangisi gelebilir?

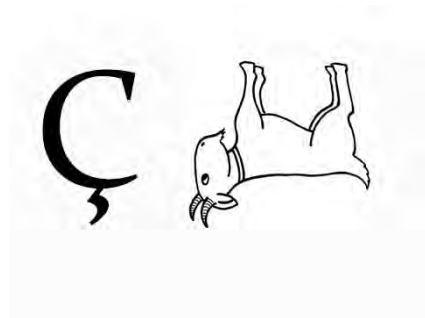
A) TAHİR

B) ASLI

C) EMEL

D) LEYLA

3)



Yandaki görselde bir harf ve bir resimle bir kelime anlatılmak istenmiştir. Anlatılmak istenen kelime aşağıdakilerden hangisi olabilir?

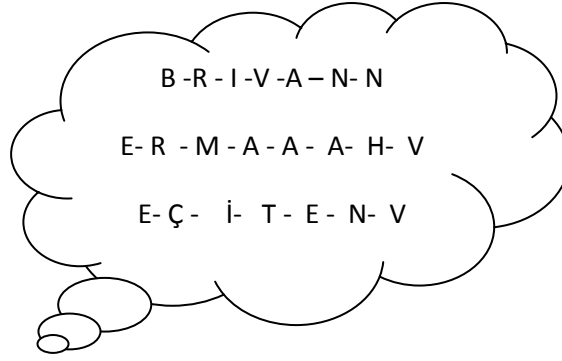
A) KEÇİ

B) ÇEKİÇ

C) ÇİÇEK

D) KEÇE

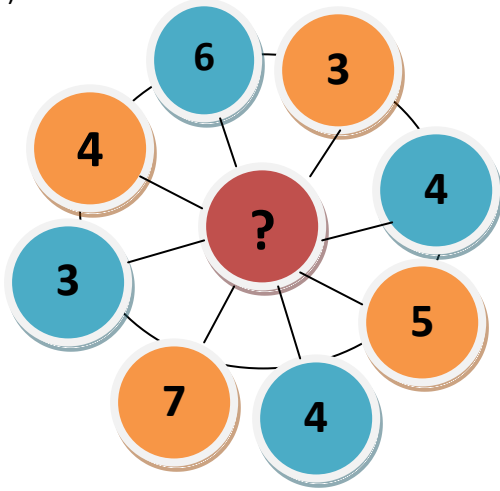
4)



Yukarıdaki harflerden üç kelime oluşturulsa aşağıdaki kelimelerden hangisi boşta kalır?

- A) Veteriner
- B) Bahçıvan
- C) Berber
- D) Manav

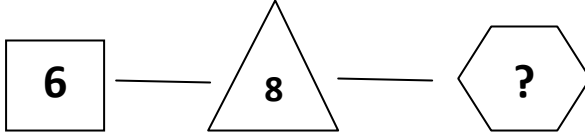
5)



Sayı tekerleğinin ortasındaki soru işareti yerine hangi sayı gelmelidir?

- A) 2
- B) 3
- C) 4
- D) 5

6)



Yukarıdaki şekillerin içindeki sayılar belli bir kurala göre sıralanmıştır. Soru işareti yerine aşağıdakilerden hangisi gelmelidir?

- A) 3
- B) 4
- C) 5
- D) 6

7) Harflerinin yerleri değiştirilip yeni kelime oluşturulduğunda “Doruk” anlamını taşıyacak kelime aşağıdakilerden hangisidir?

- A) ÇARIK
- B) VEZİR
- C) TARAK
- D) DESEN

8)

$$\triangle + \square + \bigcirc = 12$$
$$\triangle \times \square = 12$$
$$\bigcirc \times \triangle = 15$$

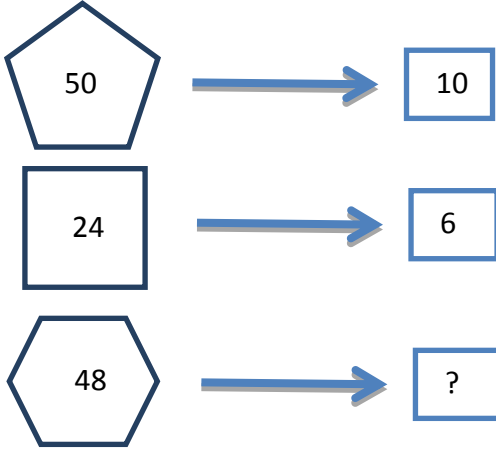
Yukarıda verilen bilgilere göre



sayısı aşağıdakilerden hangisidir?

- A) 546
- B) 345
- C) 524
- D) 534

9.



? İşareti yerine aşağıdakilerden hangisi gelmelidir?

- A) 4
- B) 6
- C) 8
- D) 10

10.



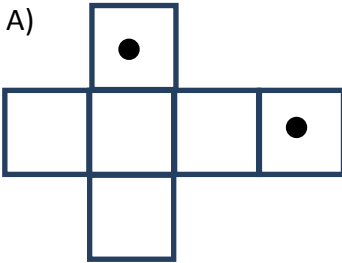
Yukarda her bir şekil bir rakamı temsil ettiğine göre bu sayı kaç olabilir?

- A) 4536
- B) 3436
- C) 3543
- D) 6535

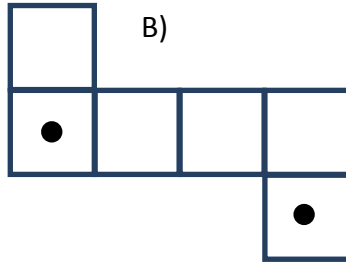
11.

Aşağıdaki şekiller küp haline getirildiğinde hangisinde iki nokta komşu olmaz?

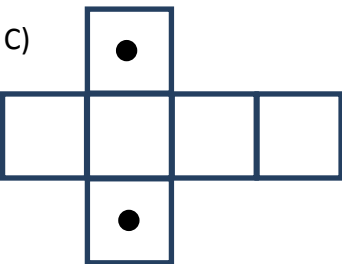
A)



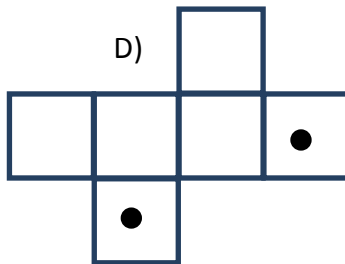
B)



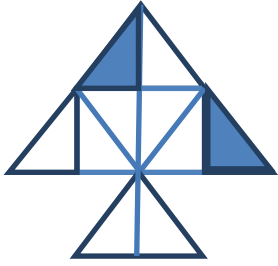



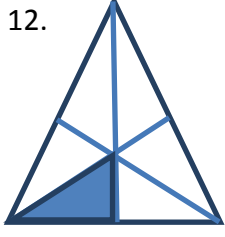
C)



D)



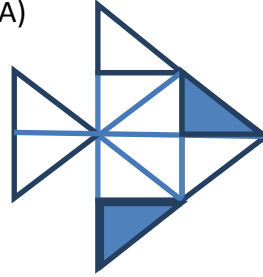
12.



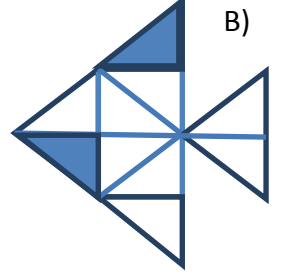
?

? İşareti yerine aşağıdakilerden hangisi gelmelidir?

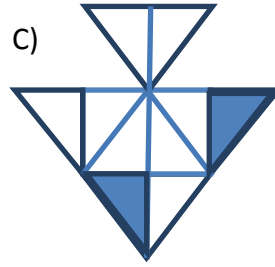
A)



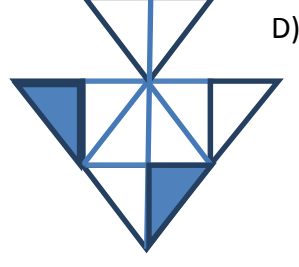
B)



C)



D)



Ali Emelden daha ağır ve kısadır. Mehmet ise Emelden daha hafif ve uzundur.

13 ve 14. Soruları yukardaki yargıya göre cevaplandırınız.

13.

Grubun boy sıralaması nedir?

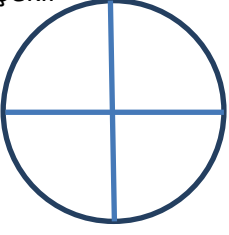
- A) Emel<Ali<Mehmet
- B) Ali<Mehmet<Emel
- C) Ali<Emel<Mehmet
- D) Emel<Mehmet<Ali

14.

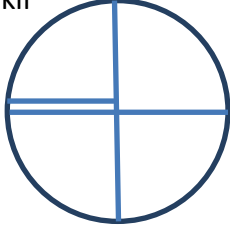
Grubun ağırlık sıralaması nedir?

- A) Mehmet<Emel<Ali
- B) Ali<Emel<Mehmet
- C) Emel<Ali<Mehmet
- D) Ali<Mehmet<Emel

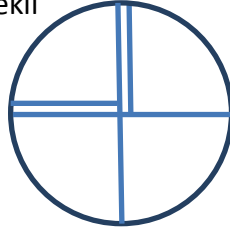
1.Şekil



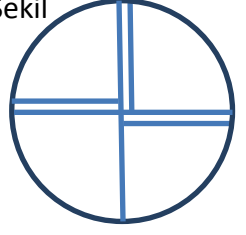
2.Şekil



3.Şekil




4.Şekil



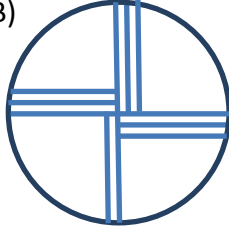
15.

Yukardaki şekil sırasına göre 8. Şekil ne olmalıdır?


A)




B)



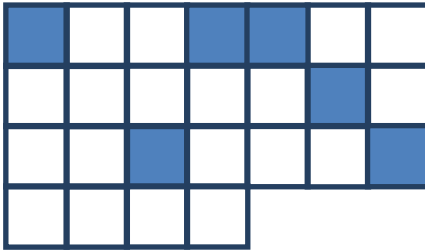


C)



D)




16.




?

? İşareti yerine aşağıdakilerden hangisi gelmelidir?


A)



B)



C)



D)

