




Aşağıdaki kelimeleri hecelerine ayıralım.

Perde = Sandalye = tren =
Makarna = Yastık = okul =
Kavanoz = Pencere = gece =
Bardak = Patlıcan = Mert =

Aşağıdaki kelimelerin son hecelerinden yeni kelimeler bulup devam ettirelim.

 masa ⇒ ⇒ ⇒ ⇒

 sevgi ⇒ ⇒ ⇒ ⇒

 maya ⇒ ⇒ ⇒ ⇒

Aşağıda hecelerine doğru ayrılan sözcüklerin kutucuğuna "✓" koyalım.

İs-tan-bul
○

Bur-sa
○

Ana-do-lu
○

a-i-le
○

s-por-cu
○

pir-a-sa
○

sar-ma-şık
○

p-lan
○

kar-tal
○

as-a-let
○

#ilkokuletkinliklerim

1- Alfabe de eksik olan harfleri tamamlayınız.

a-b-c-□-d-e-□-g-ğ-□-ı-i-□-k-l-□-n-
□-ö-p-□-s-ş-□-u-□-v-y-z.

2- Aşağıdaki kelimeleri hecelerine ayırınız.

kelime = _____ aile = _____ tren = _____

şemsiye = _____ dondurma = _____ sıra = _____

3- Aşağıdaki kelimelerin zıt anlamlarını yazınız.

gece = _____ yaşlı = _____

uzun = _____ şişman = _____

4- Aşağıda () içine uygun noktalama işaretini yazınız.

- Aylin kalem aldı ()
- Burcu ()'nın topu patladı ()
- Eyvah () elim yandı ()
- Kediye kim yem verdi ()

SAATLER

Aşağıdaki saatlerin akrep ve yelkovanını çiziniz.



1:30



2:30



7:30



12:30



6:30



11:30



4:30



9:30



10:30

SAATLER

Aşağıdaki saatlerin akrep ve yelkovanını çiziniz.



9:00



11:00



2:00



4:00



6:00



1:00



3:00



12:00



7:00

1. Zeynep'in 7 balonu vardır. Poyraz'ında Zeynep'ten 3 fazla balonu vardır. İkisinin toplam kaç balonu vardır ?

Çözüm :



2. Çınar'ın 6 arabası vardır. Kuzey'in Çınar'dan 4 fazla arabası vardır. İkisinin toplam kaç arabası vardır ?

Çözüm :



3. Evde 5 yumurta vardı. Bugün 4 yumurta daha topladım. Annem 3 tanesini kek için kullandı. Kaç yumurta kaldı ?

Çözüm :



4. Annem 5 kitap, teyzem 7 kitap aldı. 4 ünü okudum. Okunacak kaç kitabım kaldı?

Çözüm :



1. Annemin 8papatyası vardı.9tanede babam aldı.Papatyaların 4 tanesi soldu.Kaç papatya kaldı?

Çözüm :



2. 9 yumurtam vardı. Bugün tavuklarımız 4 tane daha yumurtladı. 5 tanesini kek için kullandım.Kaç yumurtam kaldı?



Çözüm :

3. Dün 5, bugün 8 elma topladım.Yarın kaç elma toplarsam 20 elmam olur?



Çözüm :



4. Dedem 7₺, babaannem 11₺ verdi. Begendiğim oyuncak arabayı almak için kaç ₺ ihtiyacım vardır ?

Çözüm :

Yavru kediler uyumayı çok severler. Kedim Pamuk günde 16 saat uyuyor. Buna göre hafta sonu kaç saat uymuştur?



Simitçi dün 35 simit, bugün 38 simit satmıştır. Simitçi iki günde toplam kaç simit satmıştır?



Güneş 9 yaşındadır. Annesi ise Güneş'ten 33 yaş büyüktür. Buna göre Güneş ve annesinin yaşları toplamı kaçtır?



Ali amca bugün 27 karpuz, karpuzlardan 24 fazla kavun satmıştır. Ali amca bugün kaç meyve satmıştır?



Dondurmacı bugün 16 top çilekli, 13 top vanilyalı, 11 top kakaolu dondurma satmıştır. Bugün toplam kaç top dondurma satmıştır?



Defne dün 25 sayfa bugün, dün 7 sayfa fazla okuyarak kitabını bitirmiştir. Buna göre Defne'nin kitabı kaç sayfadır?



1.

Berna'nın 8lirası vardı.5 lirada annesi verdi.Berna 3 lirası ile ikolata aldı kaç lirası kaldı?

özüm :



2.

Murat 20 liralık bir araba beğenmiştir. Annesi 8 lira, babası 7lira vermiştir. Murat'ı araba almak için kaç lirası eksiktir?

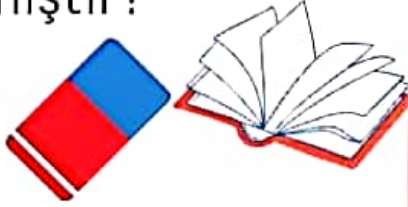
özüm :



3.

Bilge 18 lirasının 6 lirasına defter, 3 lirasına silgi almıştır. Bilge'nin kaç lirası kalmıştır?

özüm :



4.

Yusuf'u 17 lirası vardır. 5 lirasına misket, 10lirasına top almıştır. Kaç lirası kalmıştır?

özüm :



1. Bir otobüste 20 yolcu vardır. 1. durakta 3 kişi, 2. durakta 4 kişi inmiştir. Otobüste kaç yolcu kalmıştır ?

Çözüm :



2. 1. Sepette 7 gül, 2. Sepette 6 gül vardır. Çiçekçi güllerin 8 tanesini satmıştır. Çiçekçinin kaç gülü kalmıştır?

Çözüm :



3. Sınıfta 9 kız, 7 erkek vardır. 2 kız, 2 erkek daha gelirse sınıfta kaç öğrenci olur?

Çözüm :



4. Eda bayramda 9 şeker, kardeşi de 7 şeker toplamıştır. Topladıkları şekerleri bir kaseye koyduktan sonra 5 ini ye işlerdir. Kasede kaç şeker kalmıştır?

Çözüm :

1.

Fadime nine 20 adımlık yolun önce 7 adımını, sonra 6 adımını gitmiştir. Geriye kaç adım kalmıştır?

Çözüm :



2. Bahceden Ali 6, kardeşi 8 portakal toplamıştır. Anneleri 4 tanesinin suyunu sıkmıştır. Geriye kaç portakal kalmıştır?

Çözüm :



3. 16 sayfalık kitabın önce 8 sayfasını, sonra 3 sayfasını okumuştur. Geriye kaç sayfa kalmıştır?







Çözüm :



4. Cebimde 8 misketim vardı. Abim 7 misket verdi. Bende kardeşime misketlerimden 3ünü verdim kaç misketim kaldı?

Çözüm :

Aşağıdaki kelimeleri yanlarındaki noktalı yerlere sözlük sırasına göre sıralayıp yazalım.

 <ul style="list-style-type: none">*demir*araba*tarak	 <ul style="list-style-type: none">* martı* kayık* satır
 <ul style="list-style-type: none">*erik*çanta*elmas	 <ul style="list-style-type: none">* parti* küpe* petek
 <ul style="list-style-type: none">* aslan* tavşan* tilki	 <ul style="list-style-type: none">* valiz* yorgan* yastık

Balonlarda yazan kelimeleri sözlük sırasına dizelim, numaralandıralım.

 <ul style="list-style-type: none">○ Ela○Aymina○Esat	 <ul style="list-style-type: none">○ Efe○Nehir○Asya	 <ul style="list-style-type: none">○ Mert○ Hiranur○ Melek	 <ul style="list-style-type: none">○Çınar○İlgaz○Bilal
 <ul style="list-style-type: none">○ Arsen○Ayşegül○ Ceyda	 <ul style="list-style-type: none">○Büşra○Kutay○ Berra	 <ul style="list-style-type: none">○Ömer○Rüzgar○ Eymen	 <ul style="list-style-type: none">○ Salih○ Fırat○ Selim