



GÜN GÜN ARA TATİL TEKRAR ETKİNLİKLERİ



(11 NİSAN 2022 – PAZARTESİ)

TÜRKÇE

Verilen kelimelerin zıt anlamlarını karşılarına yazınız.

gece :	sağ :	siyah :	hızlı :
aç :	bayat :	tek :	alt :
iyi :	dar :	dost :	uzun :
zayıf :	yakın :	acı :	dolu :
ucuz :	ön :	güzel :	eğri :

MATEMATİK

Verilen çarpma işlemlerini yapınız. Boş bırakılan yerlere gelmesi gereken sayıları yazınız.

$2 \times 5 = \dots\dots\dots$	$2 \times 4 = \dots\dots\dots$	$3 \times 5 = \dots\dots\dots$	$3 \times 4 = \dots\dots\dots$
$3 \times 3 = \dots\dots\dots$	$4 \times 3 = \dots\dots\dots$	$5 \times 1 = \dots\dots\dots$	$2 \times 2 = \dots\dots\dots$
$4 \times 1 = \dots\dots\dots$	$8 \times 2 = \dots\dots\dots$	$9 \times 3 = \dots\dots\dots$	$7 \times 1 = \dots\dots\dots$
$\square \times 5 = 25$	$\square \times 3 = 18$	$\square \times 2 = 12$	$\square \times 4 = 36$
$\square \times 2 = 14$	$\square \times 2 = 20$	$\square \times 3 = 24$	$\square \times 3 = 21$

HAYAT BİLGİSİ

Verilen kelimeleri uygun boşluklara yazınız.

Kemal	10 Kasım 1938	Mahalle Mektebi	Şemsi Efendi İlkokulu	Zübeyde	Ankara
Dolmabahçe	Ali Rıza	Makbule	Anıtkabir	İstanbul	Selanik

- Mustafa Kemal Atatürk, 1881 yılında’te doğdu
- Babasının adı, annesinin adı, kız kardeşinin adı ise’dir.
- Atatürk önce annesinin isteği ile’ne daha sonra ise modern bir eğitim veren’na gitti.
- Ortaokul matematik öğretmeni Mustafa’ya ismini verdi.
-’de’da Sarayı’nda vefat eden Mustafa Kemal Atatürk’ün mezarı başkentimiz’dadır. Atatürk’ün mezarının adı’dir.





(12 NİSAN 2022 – SALI)



TÜRKÇE

Verilen kelimelerin eş anlamlarını karşılarına yazınız.

yaşlı :

ak :

ulus :

hediye:

ırak :

düş :

özlem :

asır :

güz :

yanıt :

kelime :

görev :

yoksul:

yürek :

kırmızı:

ilan :

hızlı :

yurt :

konuk :

anı :

MATEMATİK

Verilen bölme işlemlerini yapınız. Bölme işleminin elemanlarının isimlerini görsele yazınız.

$20 \div 5 = \dots\dots\dots$

$12 \div 4 = \dots\dots\dots$

$35 \div 5 = \dots\dots\dots$

$24 \div 4 = \dots\dots\dots$

$9 \div 3 = \dots\dots\dots$

$15 \div 3 = \dots\dots\dots$

$18 \div 2 = \dots\dots\dots$

$16 \div 2 = \dots\dots\dots$

$4 \div 1 = \dots\dots\dots$

$10 \div 2 = \dots\dots\dots$

$18 \div 3 = \dots\dots\dots$


$27 \div 3 = \dots\dots\dots$

45	5
<hr/>	
<hr/>	

24	3
<hr/>	
<hr/>	

28	4
<hr/>	
<hr/>	

14	2
<hr/>	
<hr/>	



HAYAT BİLGİSİ

Milli bayramlarımızı yazınız.

-
-
-
-



Dini bayramlarımızı yazınız.

-
-






(13 NİSAN 2022 – ÇARŞAMBA)

TÜRKÇE



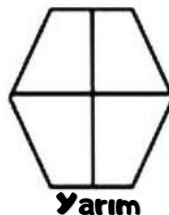
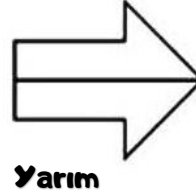
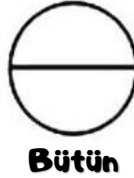
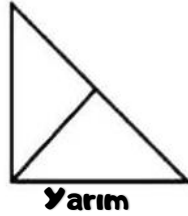


Verilen eş sesli kelimelerle ilgili cümleler kurunuz.



MATEMATİK

Verilen şekillerin belirtilen kadarını boyayınız.



HAYAT BİLGİSİ

Verilen cümlelerin başına doğru ise (D), yanlış ise (Y) yazınız.

- () Okul bahçesi, oyun parkı güvenli oyun alanlarındandır.
- () Trafiğe açık alanlar, inşaatlar güvenle oyun oynayabileceğimiz yerlerdir.
- () Bisiklet, paten, kay kay gibi araçları süratli kullanmamalıyız.
- () Düşüğümüzde zarar görmemek için kask, dizlik, dirseklik gibi ekipmanlar kullanmalıyız.
- () Evdeki elektrikli aletleri kullanırken kimseden yardım almak zorunda değiliz.




(14 NİSAN 2022 – PERŞEMBE)



TÜRKÇE

Boşluklara uygun noktalama işaretlerini yerleştiririm.

- Yarın akşam tiyatroya gideceğiz!)
- Hatice!) Gülden ve Mehmet çarşıya alışverişe çıktılar!)
- Funda!)nın bu olanlardan haberi var mı!)
- Neden böyle şeyler hep benim başıma gelir anlamıyorum!)
- Hey!) elektrik kaçağı var sakın oraya dokunma!)
- İzmir!)in boyozu!) gevreği ve kumrusu meşhurdur!)
- Toplantı saat 12!)30!)da mı başlayacak!)
- Kerem eve girdi!) ellerini yıkadı!) kıyafetlerini değiştirdi!) sofraya oturdu!)
- Yarışmada Şerife 1!) Sinem 2!) İbrahim ise 3!) oldu!)
- İlköğretim kelimesi il!)köğ!)re!)tim şeklinde mi hecelenir!)



MATEMATİK

50 ye yuvarlanan en küçük ve en büyük doğal sayıların toplamı kaçtır?



Simitçi tezgâhında 2 düzine simit vardı. Bir destesi satıldı. Tezgâhta kaç simit kaldı?



Bir bölme işleminde bölünen 36, bölen 9 ise bölüm kaçtır?



Bir çiftlikte 4 tavuk, 8 civciv, 2 köpek vardır. Çiftlikteki hayvanların ayak sayıları toplamı kaçtır?



HAYAT BİLGİSİ

Boşlukları doldurunuz.

- Türkiye Cumhuriyeti'nin başkenti'dır.
- Türkiye'nin tane şehri vardır.
- Ülkemizin çevresinde 4 tane deniz vardır. Bunlar, ve 'dir.

Verilen kelimeleri hecelerine ayırınız.

- tatil :
- günaydın :
- simitçi :
- elbise :
- bilgisayar :
- uzunluk :
- ! • hanımeli :
- ! • kırkayak :
- ! • semizotu :
- ! • ilkokul :
- ! • kardanadam :

Yanlış yazılan kelimelerin doğrusunu yazınız.

- herkez :
- gaste :
- öğretmen :
- sovan :
- sarmısak :
- tiren :
- sipor :
- şarz :
- kiprik :
- penbe :
- bütüm :

MATEMATİK

Eda ve 4 arkadaşı 20 kurabiyeyi eşit olarak paylaşıyor. Her birine kaç kurabiye düşer?

Bir çıkarma işleminde çıkan 24, fark 18 ise, eksilen kaçtır?

7 onluk 4 birlik sayısı ile 5 onluk 8 birlik sayısının farkının, yarısı kaçtır?

6 yıl önce 2 yaşında olan Kemal, 5 yıl sonra kaç yaşında olur?

HAYAT BİLGİSİ

İstenenlere göre her bölüme ilgili taşıtları yazarak tabloyu tamamlayınız.

Kara Taşıtları	Deniz Taşıtları	Hava Taşıtları	Demiryolu Taşıtları
.....
.....
.....
.....