

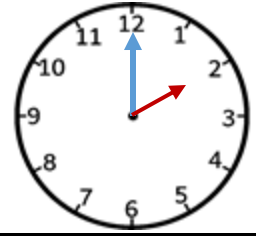
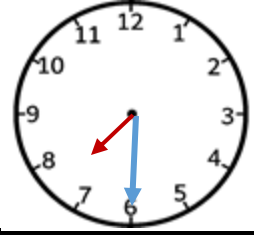
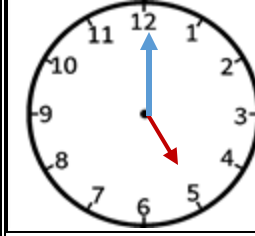
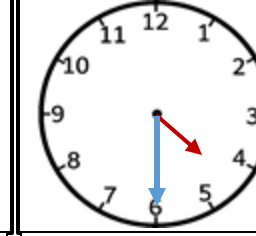
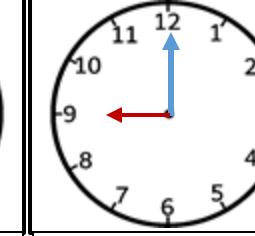
AD SOY AD :

1. SINIF SAATLER DEĞERLENDİRME SORULARI

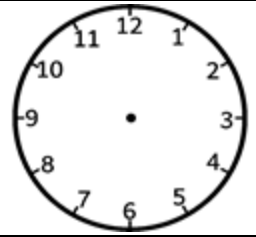
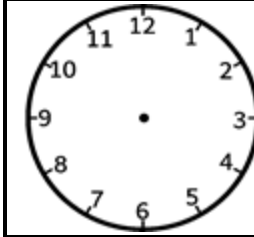
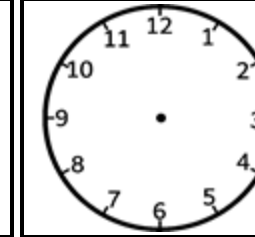
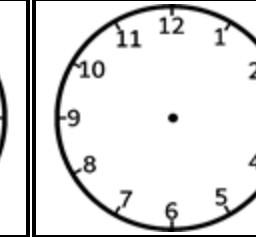
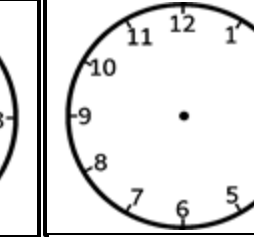
1. Aşağıdaki boşlukları uygun ifadelerle doldurunuz. (5'şer puan)

- Zaman ölçme aracına denir.
- Saatin içindeki kısa çubuğun adı uzun çubuğun adı dır.
- Akrep gösterir, yelkovan gösterir.
- 1 saat dakikadır.
- Yarım saat dakikadır.

2. Aşağıdaki saatlerin kaçı gösterdiğini ve okunuşunu altına yazınız. (5'şer puan)

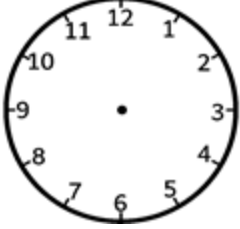
				
Saat : .	Saat : .	Saat : .	Saat : .	Saat : .
Okunuşu :	Okunuşu :	Okunuşu :	Okunuşu :	Okunuşu :

3. Verilen saatlerin akrep ve yelkovanını çiziniz. (5'şer puan)

				
03.00	01.30	05.00	10.00	12.30

4. Aşağıdaki problemleri çözünüz. (5'er puan)

2. Zeynep saat 01.00'de kitap okumaya başladı. Saat 05.00'de kitap okumayı bıraktı. Zeynep kaç saat kitap okumuştur?



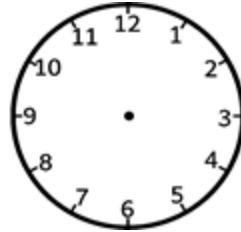
1. Saat 03.30'da başlayan sinema saat 06.30'da bitmiştir. Sinema kaç saat sürmüştür?



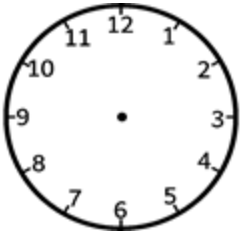
4. Miraç saat 02.00'da parka gitmiş saat 03.00'da parktan dönmüştür. Miraç kaç saat parkta oynamıştır?



3. Yusuf saat 08.00'da uyumuş ve 3 saat sonra uyanmıştır. Miraç uyandığında saat kaçtır?



5. Bukre saat 01.00'da okula gelmiş ve 6 saat okulda kalmıştır. Bukre okuldan çıktığında saat kaçı gösterir ?



AD SOY AD :

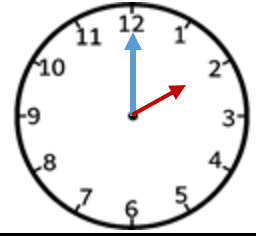
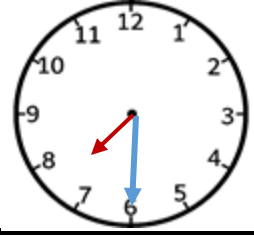
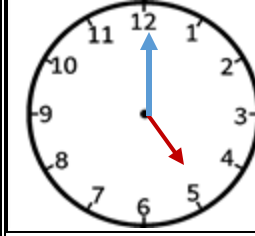
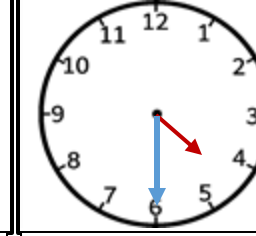
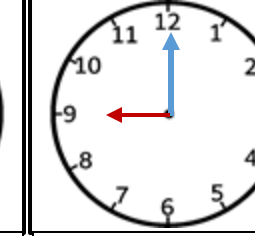
CEVAP ANAHTARI

1. SINIF SAATLER DEĞERLENDİRME SORULARI

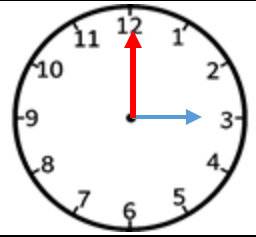
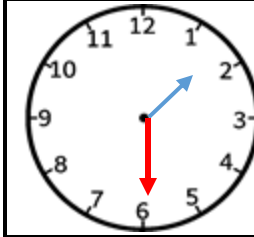
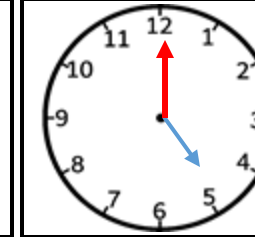
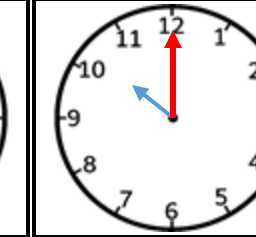
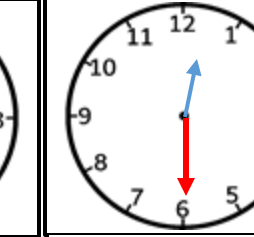
1. Aşağıdaki boşlukları uygun ifadelerle doldurunuz. (5'şer puan)

- Zaman ölçme aracına **saat** denir.
- Saatin içindeki kısa çubuğun adı **akrep** uzun çubuğun adı **yelkovan** dır.
- Akrep **saati** gösterir, yelkovan **dakikayı** gösterir.
- 1 saat **60** dakikadır.
- Yarım saat **30** dakikadır.

2. Aşağıdaki saatlerin kaçı gösterdiğini ve okunuşunu altına yazınız. (5'şer puan)

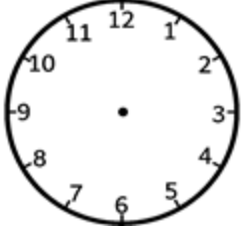
				
Saat : 02.00	Saat : 07.30	Saat : 05.00	Saat : 04.30	Saat : 09.00
Okunuşu :	Okunuşu :	Okunuşu :	Okunuşu :	Okunuşu :
Saat 2	Saat 7 buçuk	Saat 5	Saat 4 buçuk	Saat 9

3. Verilen saatlerin akrep ve yelkovanını çiziniz. (5'şer puan)

				
03.00	01.30	05.00	10.00	12.30

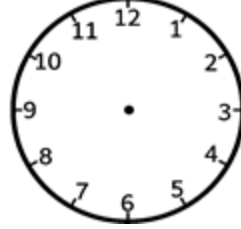
4. Aşağıdaki problemleri çözünüz. (5'er puan)

1. Zeynep saat 01.00'de kitap okumaya başladı. Saat 05.00'de kitap okumayı bıraktı. Zeynep kaç saat kitap okumuştur?



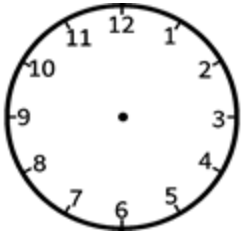
$5 - 1 = 4$ saat
kitap okumuştur.

2. Saat 03.30'da başlayan sinema saat 06.30'da bitmiştir. Sinema kaç saat sürmüştür?



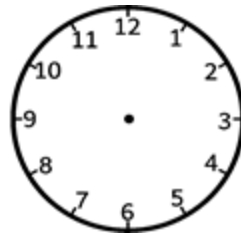
$6 - 3 = 3$ saat
sürmüştür.

3. Miraç saat 02.00'da parka gitmiş saat 03.00'da parktan dönmüştür. Miraç kaç saat parkta oynamıştır?



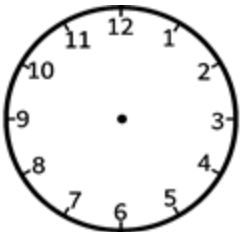
$3 - 2 = 1$ saat
parkta oynamıştır.

4. Yusuf saat 08.00'da uyumuş ve 3 saat sonra uyanmıştır. Miraç uyandığında saat kaçtır?



$8 + 3 = 11$
11.00 'dır

5. Bukre saat 01.00'da okula gelmiş ve 6 saat okulda kalmıştır. Bukre okuldan çıktığında saat kaçı gösterir ?



$1 + 6 = 7$
07.00'ı gösterir.