

TATİL SONU

Yaz tatili sanki bitmek bilmedi. Arkadaşlarımla buluştuğumuzda çok mutlu olduk. Birbirimizi çok özlemişiz. Okul çıkışında parkta toplandık. Eren köpeğini parka getirdi. Köpeğinin adını, Usta koymuş. Bence çok komik bir isim. Sıraç kâğıttan uçak yapmayı öğrenmiş. Parkta sürekli uçağı ile oynadı. Beyza hâlâ tatilden vazgeçemiyor gibiydi. Parka radyosunu getirmiş, dans ediyordu. Selin sınıfımızın en çalışkanıdır. İlk günden parka elinde yeni kitabı ile geldi. Ağaçların altında okuma yapmak istemiş. Onun okuma sevgisine imreniyorum. Sanırım, Emre de onun kadar çalışkan olmaya niyetli. Hiç Selin'in yanından ayrılmadı. Çantası olan kız mı kim? O benim işte, Funda. Ben de en çok Eren ve Usta ile oynadım.

Funda MENEKŞE

1-2-3 ve 4.soruları okuma metnine göre cevaplayalım.

1- Çocuklar ne zaman parkta toplandılar?

2-Selin kitabını nerede okuyacaktı?

3-Kâğıttan uçak yapan kimdir?

4-Beyza parkta ne yapıyordu?

5-Verilen sözcüklerin hece ve harf sayılarını örnekteki gibi yazalım.

Sözcük	Hece Sayısı	Harf Sayısı
mandalina	4	9
battaniye		
pırasa		
portakal		

5-Cümlelerde boş bırakılan yerlere uygun noktalama işaretlerini koyalım.

Eyvah, yine geç kaldık ()
Pazardan elma () muz ve nar aldı.
Okullar ne zaman açıldı ()
Bu akşam erken uyumalıyım ()

6-Aşağıdaki sözcükleri örnekteki gibi hecelerine ayıralım.

domates	do - ma - tes
salıncak	
afacan	
arkadaşlık	

7- Kelimelerdeki ünlü ve ünsüz harfleri örnekteki gibi yazalım.

Sözcük	Ünlü Harfler	Ünsüz Harfler
tablet	a - e	t - b - l - t
çalışkan		
aroma		
enerji		

8- Aşağıdaki cümlelerin hangisinde kelime sayısı en çoktur?

- A) Ben uçaktan çok korkarım.
B) Arkadaşlarla dün parkta eğlendik.
C) Ela ile Lale el ele verdiler.

9- Aslan çok zayıf bir çocuktur.
Yukarıda cümlede altı çizili sözcüğün zıt anlamlısı hangisidir?

- A) büyük
B) uzun
C) şişman

10- Aşağıdakilerin hangisi cümle değildir?

- A) Eve geldim.
B) Okula sabah erkenden
C) Gece çok yağmur yağdı.

- ☐ Gökhan kağıt uçağını uçurdu.
☐ Gökhan kağıttan uçak yapmaya karar verdi.
☐ Renkli kağıtların içinden en güzelini seçti.
☐ Büyük bir özenle uçağını yaptı.

11- Yukarıdaki cümleleri anlamlı şekilde sıralarsak doğru sıralama nasıl olur?

(A)	(B)	(A)
1	4	4
2	1	3
3	2	2
4	3	1

12- "gezegen" sözcüğü satır sonuna sığmadığı zaman nasıl ayrılır?

- A) gez - ege
B) geze - gen
C) gezeg - en

13- " elma - armut - vişne "

Yukarıdaki sözcükleri sözlük sırasına göre (alfabeye göre) sıralarsak doğru sıralama nasıl olur?

- A) elma - armut - vişne
B) vişne - elma - armut
C) armut - elma - vişne

Hafta sonu yozgattan Necip geldi.

14- Yukarıdaki cümlede yanlış yazılan kelime hangisidir?

- A) Necip
B) yozgattan
C) geldi

15- Aşağıdakilerden hangisi her zaman büyük harfle yazılır.

- A) Meyve isimleri
B) İnsan isimleri
C) Eşya isimleri

1- sipor 2- tiren 3- pembe

16- Yukarıdaki sözcüklerden hangileri yanlış yazılmıştır?

- A) 1 ve 2
B) 1 ve 3
C) 2 ve 3

17- Aşağıdaki cümlelerin hangisinin sonuna farklı bir noktalama işareti gelmelidir?

- A) Yaşasın, bayram geldi ()
B) Bayramda misafir geldi mi ()
C) Bayramda herkes mutlu oldu mu ()

1- Bizden farklı olan arkadaşlarımıza nasıl davranmalıyız?

- A) Onlarla arkadaşlık kurmamalıyız.
- B) Onlara saygılı olmalıyız.
- C) Oyunlarımıza onları almamalıyız.

2- Ders zili çaldığında hangisini yapmamız doğru olur?

- A) Sakince sınıfımıza gitmeliyiz.
- B) Bahçede oynamaya devam etmeliyiz.
- C) Koşarak sınıfa gitmeliyiz.

3- Anne, baba ve çocuklardan oluşan en küçük topluluğa ne denir?

- A) ev
- B) aile
- C) akraba

4- Aşağıdakilerden hangisi oyun oynamak için güvenli bir alandır?

- A) İnşaat bahçesi
- B) Yaya kaldırımı
- C) Okul bahçesi

5- Aşağıdakilerden hangisi dini bayramlarımızdan biridir?

- A) Zafer Bayramı
- B) Cumhuriyet Bayramı
- C) Kurban Bayramı

6- Beslenme ile ilgili aşağıdakilerden hangisi doğrudur?

- A) Ketçap mayonezi bolca tüketmek
- B) Sadece sevdiğimiz yemekleri yemek
- C) Düzenli kahvaltı yapmak

7- Aşağıdakilerden hangisini gün içinde sık sık yapmalıyız?

- A) Tırnaklarımızı kesmek
- B) Banyo yapmak
- C) Ellerimiz yıkamak

8- Aşağıdakilerden hangisi yanlış bir davranıştır?

- A) Yakından televizyon izlemek
- B) Bahçede yeterince oyun oynamak
- C) Düzenli kitap okumak

9- Aşağıdakilerden hangisini yapmak tehlikelidir?

- A) Güvenli şekilde asansöre binmek.
- B) Oyun oynarken asansöre saklamak.
- C) Eve çıkarken merdivenleri kullanmak

10- Hangi maddeyi doğaya atmak çok tehlikelidir?

- A) Meyve kabukları
- B) Pil ve batarya
- C) Meyve çekirdekleri

11- Atatürk'ün ailesi ile ilgili verilen bilgilerden hangisi doğrudur?

- A) Annesinin adı Makbule'dir.
- B) Babasının adı Ali Rıza'dır.
- C) Kız kardeşinin adı Zübeyde'dir.

12- Aşağıdaki eşleştirmelerden hangisi yanlıştır?

- | | |
|-------------|-----------------|
| A) Kaymakam | İlçeyi yönetir. |
| B) Vali | İli yönetir. |
| C) Muhtar | Ülkeyi yönetir. |



13- Yukarıda kutlanan bayram aşağıdakilerden hangisi olabilir ?

- A) Kurban Bayramı
- B) Ramazan Bayramı
- C) 23 Nisan Ulusal Egemenlik ve Çocuk Bayramı

14- Bayrağımızla ilgili aşağıdakilerden hangisi doğrudur?

- A) Kırmızı ay ve beyaz yıldızdan oluşur.
- B) Kırmızı zemin üzerinde beyaz ay ve yıldızdan oluşur.
- C) Beyaz zemin üzerine kırmızı ay ve yıldızdan oluşur.

15- Aşağıdakilerden hangisi yanlış bir davranıştır?

- A) Cam şişeleri geri dönüşüm kutusuna atmak
- B) Atık kağıtları biriktirip sobada yakmak.
- C) Atık yağları biriktirip atık yağ toplama noktalarına götürmek.

16- Aşağıdaki ağaçlardan hangisi sonbaharı temsil eder?

A)



B)



C)



17- Aşağıdakilerden hangisi ihtiyaçtır?

A)



B)



C)



18- Hangisi evde beslenecek bir hayvan değildir?

A)



B)



C)



19- Aşağıdaki trafik ışıklarından hangisi yayalar için değildir?

A)



yeşil

B)



kırmızı

C)




sarı

20- Aşağıdakilerden hangisi okul çantamızda bulunmamalıdır?

A)



B)



C)



1- Aşağıdaki paralardan hangisi en küçüktür?

A)



B)



C)



2- Yandaki paraların toplamı kaç liradır?

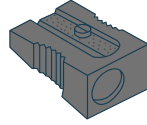
A) 5

B) 8

C) 9



3- Yandaki kalemtıraşı almak için satıcıya 15 lira veren Kenan kaç lira para üstü alır?



11 TL

A) 5

B) 4

C) 3

★ Kulaç

▲ Karış

♥ Parmak

4- Yukarıdaki uzunluk ölçme araçlarından en kısa olanı hangisidir?

A) ♥

B) ▲

C) ★

5- Aşağıdaki tabloda boş bırakılan yerleri uygun şekilde dolduralım.

DÜN	BUGÜN	YARIN
Salı		
	Cuma	
Pazar		

Eylül 2022

PT	SA	ÇA	PE	CU	CT	PZ
			1	2	3	4
5	6	7	8	9	10	11
12	13	14	15	16	17	18
19	20	21	22	23	24	25
26	27	28	29	30		

6-7 ve 8. soruları takvime göre cevaplayalım.

6- Ayın 1. günü hangi gündür?

A) Pazartesi

B) Perşembe

C) Cuma

7- Ayın 23. günü hangi gündür?

A) Pazartesi

B) Perşembe

C) Cuma

8- Eylül ayına ait takvim toplam kaç gündür?

A) 26

B) 7

C) 30

Tablo : Kullanılan oy sayısı

ÖĞRENCİLER	OY SAYILARI
Kemal	8
Gökberk	3
Yavuz	5
Ertuğrul	2

9- En az oy alan kimdir?

A) Gökberk

B) Ertuğrul

C) Yavuz

10- Sınıf başkanı kim olmuştur?

A) Kemal

B) Yavuz

C) Gökberk

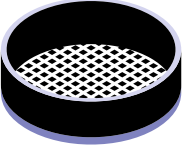
Tuna KALIN

11- Aşağıdakilerden hangisi ile sıvıları ölçmeyiz?

A)



B)



C)



12- Can'ın resimdeki akvaryumu daha çabuk doldurabilmesi için aşağıdakilerden hangisini kullanması gerekir?

A)






B)



C)



13- Aşağıdaki geometrik şekillerin isimlerini yazalım.




14- Aşağıdaki şekillerden hangisinin yarısı boyanmıştır?

A)



B)



C)




15- 3 onluk 8 birlikten oluşan sayı kaçtır?

A) 83

B) 38

C) 33



16- Yukarıda toplam kaç bütün nar vardır?

A) 5 nar

B) 4 nar

C) 6 nar

17- Aşağıdakilerden saatlerden hangisi 12.30'u göstermektedir?


A)



B)



C)



18- Aşağıdakilerin hangisi örüntüdür?

A)



B)




C)



19- Aşağıdaki geometrik cisimlerden hangisinin köşesi yoktur?

A)



B)



C)



20- Aşağıdakilerden hangisi 11.00'i gösterir?

A)



B)



C)



1- Toplama işlemlerinde verilmeyen sayıları bulalım.

$$\begin{array}{r} 8 \\ + \square \\ \hline 16 \end{array} \quad \begin{array}{r} \square \\ + 7 \\ \hline 14 \end{array} \quad \begin{array}{r} 4 \\ + \square \\ \hline 12 \end{array} \quad \begin{array}{r} \square \\ + 9 \\ \hline 17 \end{array}$$

2- Aşağıdakilerden toplama işlemlerini yapalım.

$$\begin{array}{r} 9 \\ + 7 \\ \hline \square \end{array} \quad \begin{array}{r} 8 \\ + 8 \\ \hline \square \end{array} \quad \begin{array}{r} 4 \\ + 6 \\ \hline \square \end{array} \quad \begin{array}{r} 5 \\ + 7 \\ \hline \square \end{array}$$

3- Aşağıdakilerden çıkarma işlemlerini yapalım.

$$\begin{array}{r} 18 \\ - 9 \\ \hline \square \end{array} \quad \begin{array}{r} 14 \\ - 7 \\ \hline \square \end{array} \quad \begin{array}{r} 15 \\ - 8 \\ \hline \square \end{array} \quad \begin{array}{r} 20 \\ - 10 \\ \hline \square \end{array}$$

4- Ortadaki sayıdan bir önceki ve bir sonraki sayıyı yazalım.

	15	
	8	
	5	

	4	
	17	
	12	

5- İleriye doğru 2'şer ritmik sayma yazalım.

2				

6-İleriye doğru 5'şer ritmik sayma yazalım.

5				

7- Geriye doğru 2'şer ritmik sayma yazalım.

20				

8- Asel 16 sayfalık kitabın 5 sayfasını sabah, 8 sayfasını akşam okudu. Geriye okunacak kaç sayfa kalmıştır?

9- Kartal 9 lira babasından 8 lira annesinden aldı. Parasının 12 lirasına defter aldı. Geriye kaç lirası kalır?

10- Ela 7 yaşındadır. Lale, Ela'dan 3 yaş büyüktür. Ela ve Lale'nin yaşları toplamı kaçtır?

11- Aşağıdaki sayıların okunuşlarını örnekteki gibi yazalım.

15	on beş
48	
50	
96	

12- Aşağıdaki okunuşlarını verilen sayıları örnekteki gibi rakamla yazalım.

yirmi beş	25
otuz yedi	
kırk sekiz	
elli dokuz	

KONULAR

1	Paralar	
2	Paralar	
3	Paralar / Problemler	
4	Uzunluk ölçme	
5	Zamanı ölçme / saat	
6	Zamanı ölçme / takvim	
7	Zamanı ölçme / takvim	
8	Zamanı ölçme / takvim	
9	Tablo okuma	
10	Tablo okuma	
11	Sıvıları ölçme	
12	Sıvıları ölçme	
13	Geometrik şekiller	
14	Kesirler	
15	Onluk birlik	
16	Kesirler	
17	Zamanı ölçme / saat	
18	Örüntü	
19	Geometrik şekiller	
20	Zamanı ölçme / saat	

www.egitimhane.com

KONULAR

1	Verilmeyen toplananı bulma	
2	Toplama işlemi	
3	Çıkarma işlemi	
4	Önceki-sonraki sayı bulma	
5	2'şer ileri ritmik sayma	
6	5'er ileri ritmik sayma	
7	20'den geriye ritmik sayma	
8	Toplama-çıkarma problemleri	
9	Toplama-çıkarma problemleri	
10	Toplama-çıkarma problemleri	
11	2 basamaklı sayıları okuma-yazma	
12	2 basamaklı sayıları okuma-yazma	

NOTLAR