

ADI, SOYADI:

FATMA MİTHAT GÜR SOY İLKOKULU 4. SINIFLAR DENEME SINAVI

Aşağıdaki soruları dikkatle okuyarak cevaplayınız.

TÜRKÇE SORULARI

İlk 2 soru aşağıdaki metin ile ilgilidir.

Ankara'dan Adana'ya giderken Aksaray'da bozkırın ortasında tüm ihtişamıyla karşılar sizi Hasan Dağı. Bir şapka gibi süsler onu kar örtüsü. Etekleri meşe ağaçları, ardıç ağaçları, üzüm bağları, çam ağaçlarıyla doludur.

Hasan Dağı deniz seviyesinden 3268 metre yüksek olan tepesiyle bir volkanik dağdır. 10 bin yıl öncesine dönseydik belki de dağın patlamalarına şahit olabilirdik.


1. Hasan Dağı hakkında hangi bilgi **yanlıştır**?

- ☐ a) Ankara'dan Adana'ya gidenler görebilir.
- ☐ b) Dağın eteklerinde çeşitli ağaçlar bulunur.
- ☐ c) Hasan Dağı Adana'dadır.
- ☐ d) En son 10 bin yıl önce patlamıştır.

2. Hasan Dağı'nın eteklerinde hangi ağaç **bulunmaz**?

- ☐ a) Çam ağacı
- ☐ b) Meşe ağacı
- ☐ c) Ardiç ağacı
- ☐ d) İncir ağacı

3. Aşağıdaki hayvanların adının hangisi sözlükte daha **sonda** yer alır?



4.

7	6	28	29	1
---	---	----	----	---

Yukarıdaki şifreli ifadede **harflerin alfabemizdeki sıraları** kullanılmıştır. Yukarıda adı şifrelenmiş öğrencinin adı ne olabilir?

- ☐ a) Fatma
- ☐ b) Feyza
- ☐ c) Ahsen
- ☐ d) Ahmet

5.

ç	h	v	z	t
i	n	c	e	l
k	ö	t	ü	n
u	z	u	n	ü
ü	s	t	e	d

Yandaki bulmacada bazı kelimelerin zıt anlamlıları gizlenmiştir. Bu bulmacada hangi kelimenin **zıt anlamlısı yoktur**?

- ☐ a) kolay
- ☐ b) iyi
- ☐ c) alt
- ☐ d) kalın

6. Yalnız oynadığım zaman Küçülür dünya, İçine sığamam.

Yukarıdaki şiirin **ana duygusu** hangisi olabilir?

- ☐ a) Çocuklar yalnız oynamalıdır.
- ☐ b) Yalnız oynamak eğlencelidir.
- ☐ c) Yalnızlık sıkıcıdır.
- ☐ d) Yalnız oynamak zevklidir.

7. Aşağıdaki cümlelerden hangisinde **hayali bir ifade** vardır?

- ☐ a) Mor kirpinin dikenleri vardı.
- ☐ b) Mor kirpi ormana yürüdü.
- ☐ c) Mor kirpi çok susamıştı.
- ☐ d) Mor kirpi dikenleriyle bulutları deldi.

8. Aşağıdaki kelime çiftlerinden hangisi **eş anlamlı değildir**?

- ☐ a) kafa-baş
- ☐ b) öğrenci-talebe
- ☐ c) ihtiyar-yaşlı
- ☐ d) temiz-kirli

9. "Süratli" sözcüğüyle aynı anlama gelen kelime hangi cümlede vardır?

- ☐ a) Arabayı yavaş kullanıyordu.
- ☐ b) Arabayı hızlı kullanıyordu.
- ☐ c) Arabayı dikkatsiz kullanıyordu.
- ☐ d) Arabayı özenli kullanıyordu.

10. "Resul, bozulan arabayı **onardı** ." Cümlesinde "onardı" sözcüğün yerine hangisi yazılırsa cümlemin anlamı **değişmez**?



- (a) tamir etti (b) yıkadı (c) bozdu (d) attı

11. I- Henüz çalmadı.

II- Ne zaman çalar?

III- Beş dakika sonra çalar.

IV- Zil çaldı mı?

Yukarıdaki diyalog **oluş sırasına göre** sıralandığında sıralama nasıl olur?

- (a) I-IV-II-III (b) II-III-IV-I (c) VI-III-II-I (d) IV-I-II-III

12. 1-Yıldızları avuç avuç,

2-Toplayarak bir taç yabttım.

3-Hemen döndüm yeryüzüne,

4-Kedimin başına taktım.

Kaçıncı satırda **yanlış yazılmış** bir kelime vardır?

- (a) 1 (b) 2 (c) 3 (d) 4

13. MATEMATİK SORULARI

Hangi sayının **yüzler basamağında** 4 rakamı vardır?

- (a) 2 485 (b) 7 602 (c) 4 093 (d) 5 364

- 14.

67 098

Yukarıdaki sayı hakkında hangi bilgi **yanlıştır**?

- (a) Birler basamağında 8 rakamı vardır. (b) Binler bölümünde 67 vardır. (c) Yüzler basamağında 9 rakamı vardır. (d) Beş basamaklı bir sayıdır.

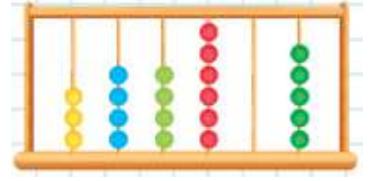
15. Hangi sayının okunuşu **yanlıştır**?

- (a) 12 012 = on iki bin on iki (b) 12 000 = on iki bin iki yüz (c) 12 202 = on iki bin iki yüz iki (d) 12 002 = on iki bin iki

16. "8, 4, 3, 0, 1" rakamlarını kullanarak yazılabilecek **en büyük** ve **en küçük** doğal sayılar hangileridir?

- (a) 84310 10348 (b) 84301 13048 (c) 83410 31048 (d) 81034 31048


17. Yanda verilen sayı hangisidir?



- (a) 344 605 (b) 433 422 (c) 341 421 (d) 344 420

18. Hangi bilgi **yanlıştır**?

- (a) beş basamaklı büyük sayı: 99 999 (b) üç basamaklı en büyük sayı: 999 (c) dört basamaklı en küçük sayı: 1 000 (d) beş basamaklı en küçük sayı: 9 999

19.  Aklımdan tuttuğum sayı **rakamları birbirinden farklı beş basamaklı en büyük çift sayıdır**.

Aklımdan tuttuğum sayı nasıl yazılır?

- (a) 98764 (b) 98765 (c) 98766 (d) 86874

20. A=56 006 B=56 056

C=56 556 D=56 566

yukarıdaki sayıların **büyükten küçüğe** sıralaması nasıl olur?

- (a) D>A>B>C (b) D>C>B>A (c) D>A>B>C (d) C>D>A>B

21. Bir stadyumda futbol maçı izleyen 52 567 izleyici vardır. Bunların 21 449 tanesi **kadın** stadyumda kaç **erkek** izleyici vardır?

- (a) 31 118 (b) 31 117 (c) 31 119 (d) 32 118

22. Medine'nin tabletinin şifresi rakamları birbirinden farklı dört basamaklı en büyük çift sayıdır. Medine'nin tabletinin şifresi hangisidir?



- (a) 9999 (c) 9875
(b) 9876 (d) 1234

23. 2001 – 3001 – ▲ – 5001 – ■

Yukarıda verilen ritmik saymaya göre üçgen ve kare yerine gelecek sayıların toplamı kaç olur?

- (a) 90002 (c) 10002
(b) 10001 (d) 90001

24. Okunuşu "yedi yüz bin on beş" olan sayı aşağıdakilerden hangisidir?

- (a) 701 500 (c) 700 015
(b) 715 000 (d) 705 150

25. SOSYAL BİLGİLER SORULARI

Kaç yaşından itibaren nüfus cüzdanına fotoğraf yapıştırmak yasal zorunluluktur?

- (a) 1 (b) 10 (c) 15 (d) 20

26. Züleyha ile Hamza ikiz kardeşlerdir. Züleyha ile Hamza'nın kimliklerinde hangi bilgisi farklıdır?

- (a) Doğum tarihi
(b) Anne adı
(c) Baba adı
(d) Kimlik numarası

27. Nüfus cüzdanının çipli (yongalı) olmasının nedeni nedir?

- (a) Bize ait bazı bilgiler bu bölümde kayıtlıdır.
(b) Yeni kimlik kartları tek renk olduğu için çiplidir.
(c) Kimlik kartı bir daha yenilenemeyeceği için çiplidir.
(d) Kimliğimizin görüntüsünün güzel olması için çiplidir

28. () Türk vatandaşlarının T.C. kimlik numaraları 11 hanelidir.
() Bütün insanların parmak izleri aynıdır.
() Yeni kimlik kartlarının arka yüzünde yaşadığımız yer yazar.
() Kronolojik sıralamada önemli olaylar tarih sırasına göre yazılır.
Yukarıda verilen bilgilerden doğru olanın yanına D yanlış olanın yanına Y yazarsak nasıl bir görüntü ortaya çıkar?

- (a) D-Y-Y-D (c) Y-D-Y-D
(b) Y-Y-D-Y (d) D-D-D-Y

29. I. Okula başladım.

II. Yürümeye başladım.

III. Doğdum

IV. 4. sınıfa geçtim.

Yukarıdaki olayları kronolojik sıraya koyarsam sıralama nasıl olur?

- (a) III-II-I-IV (c) II-I-III-IV
(b) III-I-II-IV (d) IV-III-II-I

- 30.

Kronolojiye göre Ali'nin okul hayatı hangi yılda başlamıştır?

- (a) 2010 (c) 2004
(b) 2009 (d) 2012

- 31.

Yukarıdaki kronolojiye göre aşağıdaki bilgilerden hangisi yanlıştır?

- (a) Ali 2004 yılında doğdu
(b) Ali 2010 yılında birinci sınıfa başladı.
(c) Ali ikinci sınıfa gitmedi
(d) Ali 2009 yılında ana sınıfındaydı

32. FEN BİLİMLERİ SORULARI

1. Kayaçlar çok büyük kayalardır.
2. Kayaçların hepsi yeryüzünün üstündedir.
3. Kayaçlar ufalanarak kaya ve taşlara dönüşür.

Kayaçlar hakkında verilen bilgilerden **kaç tanesi doğrudur.**

- (a) 2 (b) 1 (c) 0 (d) 3

33. Dünyada en fazla ülkemizde bulunan ve cam, deterjan, yakıt gibi maddelerin yapımında kullanılan madenin adı nedir?

- (a) altın (c) linyit
(b) bor (d) bakır

34. Çok uzun yıllar önce ölümler toprağın altında başkalaşan bitki ve hayvan kalıntılarına ne denir?



- (a) mineral (c) maden
(b) kalıntı (d) fosil

35. Fosiller hakkında verilen hangi bilgi yanlıştır?

- (a) Milyonlarca yıl önce ölen bitki ve hayvan kalıntılarıdır.
(b) Fosillerin oluşması için çok uzun zaman geçmesi gerekir.
(c) Fosiller, bilimsel araştırmalar için önemli değillerdir.
(d) Fosilleri inceleyen bilim insanına paleontolog denir.

36. I- Altın madeni süs ve takı yapımında kullanılır.

II- Demir madeni inşaatlardan otomobile bir çok alanda kullanılır.

III- Bakır madeninden boya yapılır.

IV- Bor madeninin cam ve deterjan yapılır.

Yukarıda verilen bilgilerden hangisi yanlıştır?

- (a) I (b) II (c) III (d) IV

37. Öğretmeni Ahmet'e Canlılar yaşamlarını dünyanın hangi katmanda sürdürürler, diye sordu Ahmet hangi cevabı verirse doğru cevap vermiş olur?

- (a) taş küre (c) yeryüzü
(b) manto (d) çekirdek

38. _____ Daha çok inşaatlarda ve otomobillerde kullanılır.

_____ Kuyumculukta, süslemede, madalya yapımında kullanılır.

_____ Elektrik ve telefon kablolarında kullanılır.

_____ Deterjan ve cam üretiminde kullanılır.

Yukarıdaki boşluklara sırasıyla hangi madenler yazılmalıdır?

- (a) demir-altın-bakır-bor
(b) mermer-altın-alüminyum-bor
(c) kurşun-petrol-bakır-bor
(d) bor-altın-gümüş-krom

39. Madenlerle ilgili ifadelerden hangisi yanlıştır?

- (a) Ekonomik değerleri vardır.
(b) Yer kabuğunun farklı derinliklerinde yer alırlar.
(c) Yurdumuzda en çok çıkarılan maden altındır.
(d) Madenleri çıkarmak zor ve zahmetlidir.

40. - Çok değerli bir madenim.

-Benden küpe, kolye, bilezik yapılır.

- Elektriği iyi ilettiğim için cep telefonları, televizyonlarda bile kullanılırım.

Yukarıda bahsedilen maden hangisidir?

- (a) Altın
(b) Demir
(c) Bakır
(d) Alüminyum