

Aşağıdaki soruları dikkatle okuyarak cevaplayınız.

### TÜRKÇE SORULARI

İlk 3 soru aşağıdaki metin ile ilgilidir.

Tencereye beş su bardağı suyu koyalım ve kaynamaya başlayınca 1 tatlı kaşığı tuzu ekleyelim. Ardından yarım paket makarnayı koyup tahta kepçe yardımı ile karıştıralım. Makarnamızı 12 dakika kaynamaya bırakalım. Aynı bir tavada rendelediğimiz üç domatesin üzerine iki diş sarımsağı ekleyelim.

5 dakika sonra domateslerin üzerine 2 yemek kaşığı tereyağı ekleyelim. Süzdüğümüz makarnayı servis tabağına alarak domates sosumuzu ekleyelim. Afiyetle yiyelim.

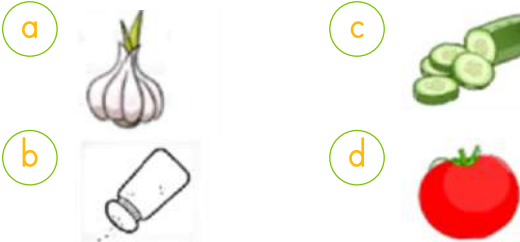
1. Yukarıdaki yemek tarifinde hangi mutfak aracı **kullanılmamıştır**?

- (a) Tencere (c) Rende  
(b) Tatlı kaşığı (d) Fırın

2. Makarna yaparken aşağıdaki adımlardan hangisi **yapılmaz**?

- (a) Tencereye 5 bardak su koymak.  
(b) 10 dakika makarnayı kaynatmak.  
(c) Rendede 3 domates rendelemek.  
(d) Makarnayı servis tabağına koymak.

3. Soslu makarnaya tarifinde aşağıdakilerden **yoktur**?



4. Yanda verilen harfleri bir kez kullanarak aşağıdaki sözcüklerden hangisi **oluşturulamaz**?



- (a) unutkan (c) utanma  
(b) kutu (d) Utku

5. Babası **ağızına tıktırıyor**du lokmaları.

Herkes bilirdi,

Çok önemliydi kahvaltı.

Yukarıdaki şiirde geçen "**ağızına tıktırmak**" deyiminin anlamı hangisidir?

- (a) Zorla yemesini sağlamak  
(b) Yemek yemesini engellemek  
(c) Yemek yapmasını istemek  
(d) Yemek seçmesini istemek

6.



Yandaki görselde anlatılmak istenen deyim aşağıdakilerden hangisidir?

- (a) Saçı başı karışmak. (c) Saçı başı ağırmak.  
(b) Saçını süpürge etmek (d) Saçını başını yolmak

7. Aşağıdaki cümlelerden hangisinde **hayali bir ifade** vardır?

- (a) Ahtapot sekiz kollu kazak giydi.  
(b) Ahtapotların sekiz kolu vardır.  
(c) Ahtapotlar açık denizde yaşar.  
(d) Ahtapotlar mor renkli olurlar.

8. "Neşet Ertaş **meşhur**" bir sanatçıdır.

Cümlesinde tırnak yazılan sözcüğün eş anlamlısı aşağıdakilerden hangisidir?

- (a) ünlü (c) anlayışlı  
(b) yardımsever (d) cimri

9.



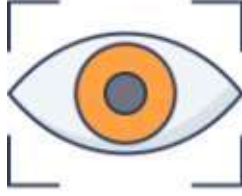
Yukarıdaki sohbette Türkçe karşılığı olduğu halde hangi numaralı cümlede **yabancı bir sözcük** kullanılmıştır?

- (a) 1 (b) 2 (c) 3 (d) 4

10. Aşağıdaki cümlelerin hangisinde **zıt anlamlı** kelimeler bir arada kullanılmıştır?

- (a) Öğretmenine saygıyla karşılık verdi.
- (b) Öğle yemeğini sabahtan yedi.
- (c) Seni ilk ve son kez uyarıyorum.
- (d) Kapiya ufak tefek biri geldi

11. I- göz atmak  
II- göz gezdirmek  
III- göz kulak olmak  
IV- gözü ağrımak  
Yukarıdakilerden hangisi **deyim değildir?**



- (a) III
- (b) I
- (c) IV
- (d) II

12. Dünyada her yıl binlerce kuş ve hayvan türü insanların doğru veya dolaylı olarak yaptıkları şeyler yüzünden yok oluyor. Uzmanların yaptıkları araştırmalara göre böyle devam ederse birçok canlı türünün 50 yıl sonra soyu tükenecek. Dinozorlar ve mamutlar gibi sadece isimlerini duyacağız. Paragrafa göre hangisi **söylenemez?**

- (a) Mamutlar ve dinozorlar nesli tükenmiş hayvanlardır.
- (b) İnsanlar doğaya bazen bilerek bazen de bilmeyerek zarar verir.
- (c) İnsanlar tüm hayvanları yok edecek.
- (d) Bazı hayvan türleri yok olmak üzeredir.

13. **MATEMATİK SORULARI**

Hangi sayının **yüzler basamağındaki** sayı binler basamağındaki sayıdan 2 fazladır?

- (a) 2 485
- (b) 7 602
- (c) 4 093
- (d) 5 364

14. Aşağıdaki sayılardan hangisinin **en yakın yüzlüğü** diğerlerinden farklıdır?

- (a) 5449
- (b) 5495
- (c) 5350
- (d) 5411

15. 3 6 9 2

Kutuların üzerinde yazan rakamlarla oluşturulacak dört basamaklı en büyük sayının **en yakın yüzlüğü** hangisidir?

- (a) 9100
- (b) 3500
- (c) 9600
- (d) 9700

İL	NÜFUS
Erzurum	762 062
Sivas	638 956
Malatya	800 165
Çanakkale	542 157

Bu illerin nüfuslarına göre **büyükten küçüğe** doğru sıralanışı aşağıdakilerden hangisidir?

- (a) Malatya-Erzurum-Sivas-Çanakkale
- (b) Çanakkale -Sivas-Erzurum-Malatya
- (c) Sivas-Çanakkale -Erzurum-Malatya
- (d) Malatya-Erzurum-Çanakkale-Sivas

17.

404	714	302	805
949	504	483	601

Yukarıdaki sayılardan kaç tanesi **500'den küçüktür?**

- (a) 5
- (b) 6
- (c) 3
- (d) 4

18. Hangi saymada yanlışlık yapılmıştır?

- (a) 703-803-903-1103
- (b) 1201-1301-1401-1501
- (c) 6666-6766-6866-6966
- (d) 4098-4198-4298-4398

19.



Yandaki tableti almak için uzun zamandır para biriktiren Emirhan'ın 2543 lirası vardır. Tablet 2865 lira ise Emirhan kaç lira daha biriktirmelidir?

- (a) 5408
- (b) 422
- (c) 322
- (d) 3456

20. A=33 003 B=33 333  
C=30 333 D=33 030  
yukarıdaki sayıların **küçükten büyüğe doğru** sıralaması nasıl olur?

- (a) D-A-B-C (c) D-A-B-C  
(b) C-A-D-B (d) C-D-A-B

21. **T** Yedi bin yüz yedi  
**O** Yedi bin yetmiş beş  
**A** Yedi bin yedi  
**R** Yedi bin yedi yüz yetmiş

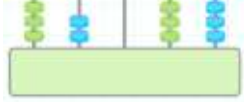
Yukarıdaki sayılardan hangisi **daha büyüktür?**

- (a) T (b) O (c) A (d) R

22. Birler Bölüğü : 275  
Binler Bölüğü : 40  
Bölükleri verilmiş olan sayı hangisidir?

- (a) 40 275 (c) 275 275  
(b) 27 540 (d) 400 275

23. Yanda abaküste gösterilen sayı kaçtır?



- (a) 62 045 (c) 52 045  
(b) 62 245 (d) 52 145

24. Aşağıdaki sayılardan hangisi en yakın onluğa **doğru yuvarlanmıştır?**

- (a) 4 627 → 4 700 (c) 6 595 → 6 600  
(b) 5 309 → 5 400 (d) 7 289 → 7 300

25. SOSYAL BİLGİLER SORULARI

Ahsen, Fatma'nın kimlik bilgilerini doldururken ona bazı sorular sorar. Aşağıdakilerden hangisi bu sorulardan olamaz?

- (a) adı (c) anne adı  
(b) soyadı (d) sokağı

26. I- Doğum Yeri: SELANİK  
II- Doğum Tarihi: 1881  
III- Anne Adı: MAKBULE  
IV- Adı: Mustafa Kemal  
Yukarıda M. Kemal Atatürk'ün kimlik bilgileri verilmiştir. Bu bilgilerden hangisi **yanlıştır?**

- (a) I (b) II (c) III (d) IV



Yukarıdaki kronolojiye hangisi **daha sonra** olmuştur.

- (a) Çocuğun konuşması (c) Ablasının doğması  
(b) Çocuğun doğması (d) Anne babasının evlenmesi

28. Ümit yufka yürekli, mavi gözlü, utangaç ve hayvanseverdir. Ümit ile ilgili verilen bilgilerden hangisi **fiziksel özelliğidir?**

- (a) Mavi gözlü olması (c) Yufka yürekli olması  
(b) Utangaç olması (d) Hayvansever olması

29. Zümra çok iyi gitar çalar. Boş zamanlarında kitap okur, sinemaya gider. Annesine ev işlerinde yardımcı olur? Hangisi Zümra'nın **yeteneğidir?**


- (a) Annesine yardım etmesi (c) Sinemaya gitmesi  
(b) Gitar çalması (d) Kitap okuması

30. I- Kardeşimin doğumu  
II- Annemle babamın evlenmesi  
III- Kardeşimin okula başlaması  
IV- Benim doğumum  
Yukarıdaki olayların kronolojik olarak sıralanışı hangi seçenekte **doğru** olarak verilmiştir?

- (a) III-II-I-IV (c) II-I-III-IV  
(b) III-I-II-IV (d) II-IV-I-III

31. Aşağıdakilerden hangisi bir **ihtiyaçtan** bahsedilmektedir?

- a) Ela'nın resim çizmesi
- b) Gülsima'nın şarkı söylemesi
- c) Feyza'nın yemek yemesi
- d) Ümit'in televizyon izlemesi

32.  FEN BİLİMLERİ SORULARI  
Dünyanın **kendi etrafında** dönmesi hakkında verilen hangi bilgi **yanlıştır**?

- a) Dünya kendi etrafında 24 saatte döner.
- b) Dünya kendi etrafında dönünce gece ve gündüz olur.
- c) Batıdan doğuya doğru döner.
- d) Dünya kendi etrafındaki hareketi 1 haftada tamamlar.

33. Dünyanın **en içteki** katmanının adı nedir?



- a) atmosfer
- b) çekirdek
- c) manto
- d) taş küre

34. Dünya, Güneş etrafındaki **üç tam dolanımını** ne kadar sürede tamamlar?

- a) 3 yıl
- b) 3 gün
- c) 3 ay
- d) 3 hafta

35. Mevsimler Dünya'nın hangi hareketi sonucu oluşur?

- a) Ay'ın etrafında dolanması
- b) Güneş'in etrafında dolanması
- c) Güneş'in Dünya etrafında dolanması
- d) Kendi eksenini etrafında dönmesi

36. Kayaçlar ufalanarak aşağıdakilerden hangisini oluşturmaz?

- a) Kum
- b) Çakıl
- c) Taş
- d) Tabaka

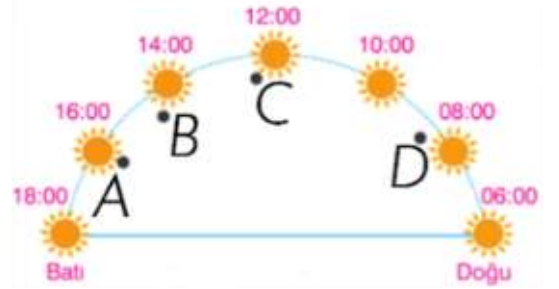
37.



Yandaki resime göre A ve B noktadaki durumlar hakkında hangi seçenek doğrudur.

- a) A noktasında gündüz B noktasında gece yaşanır
- b) A noktasında gece B noktasında gündüz yaşanır.
- c) A ve B noktasında da gündüz yaşanır.
- d) A ve B noktasında da gece yaşanır.

38.



Yukarıda, saatlere göre Güneş'in konumları verilmiştir.

Bu resme göre hangi noktada gölgemizin boyu **en kısa olur**?

- a) D
- b) B
- c) C
- d) A

39.



Fosiller hakkında hangi bilgi **yanlıştır**?





- a) Bize dünyanın geçmişi hakkında bilgiler verir.
- b) Sadece hayvanların fosili olur.
- c) Fosiller bilim adamlarına yardım eder.
- d) Çok uzun yıllar önce yaşayan canlılardır.

40. - Sıvı bir madenim.

- Araçların yakıtları benden yapılır.

- Asfalt, plastik, boya benden yapılır.

Yukarıda bahsedilen maden hangisidir?

- a)  petrol
- b)  elmas
- c)  kömür
- d)  altın