

ADI, SOYADI:

FATMA MİTHAT GÜRSOY İLKOKULU 4. SINIFLAR DENEME SINAVI

Aşağıdaki soruları dikkatle okuyarak cevaplayınız.

TÜRKÇE SORULARI

İlk 2 soru aşağıdaki metin ile ilgilidir.

Gözlerinden biri sarı diğerinin de mavi renkli oluşu ile bilinen Van kedisi ülkemize ait bir kedi türüdür. Kuvvetli vücudu olan, orta boylu, genelde düz beyaz renkli bir kedir. Suda yüzmeyi, suyla oynamayı çok sever. Diğer adı da "Türklerin yüzen kedisi"dir. Hareketli, sevmekten, oynamaktan hoşlanan; sahibine çok sadık olan bu asil kediler ülkemizde Van şehrinde yaşar.



1. Van Kedisi için aşağıdakilerden hangisi söylenemez?

- a) Ülkemize ait bir kedi türüdür.
- b) Genellikle beyaz renklidir.
- c) Yüzmekten hoşlanmazlar.
- d) Oynamaktan çok hoşlanırlar.

2. Aşağıdakilerden hangisi Van Kedisi'nin sevdiği şeylerden biri değildir.

- a) Oyun
- b) Avlanma
- c) Hareketlilik
- d) Yüzme

3. Aşağıdaki yiyeceklerin hangisinin adı daha çok heceden oluşmaktadır?

- a)  b)  c)  d) 

4. SESLİ HARFLER

KALIN	a-i-u-o
İNCE	e-ı-ü-ö

Alfabemizde 8 sesli harf vardır. Bunların 4 tanesi kalın 4 tanesi incedir. Bu halde aşağıdaki cümlelerin hangisinin tamamında kalın sesli harfler vardır?

- a) Okulumuzda yavru kediler var.
- b) Sonunda okulumuz açıldı.
- c) Okulda kütüphane yapıldı.
- d) Okulumuzun bahçesini seviyorum.

5.

Kedi-	Telev-
cikler	izyon
Kitap-	Ayakk-
çılar	abıcı

Yukarıdaki tabloda satır sonuna sığmayan sözcüklerin yazımında kaç yanlış yapılmıştır?

- a) 1
- b) 2
- c) 3
- d) 4

6.



Çok sinirlenmek, kızmak anlamında deyimleri sıralayacak olsam aşağıdakilerden hangisini yazmam doğru olmaz?

- a) Küplere binmek
- b) Deliye dönmek
- c) Öfkeye kapılma
- d) Göz gezdirmek

7. "kırmak" sözcüğü hangisinde farklı bir anlamda kullanılmıştır.

- a) Yusuf arabanın camını kırdı.
- b) Feyza kardeşinin kalbini kırdı.
- c) Annem yanlışlıkla tabağı kırdı.
- d) Ablam telefonunu kırdı.

8. Aşağıdaki cümlelerin hangisinde hayali ifade yoktur?

- a) Keloğlan uçan halısına bindi.
- b) Tarlaya sihirli fasülye ekti.
- c) Bütün gün dereye yüzdü.
- d) Dereye sihirli balık gördü.

9. Aşağıdaki atasözlerinden hangisi tasarruf etmek, para biriktirmek ile ilgili değildir?

- a) ayağını yorgana göre uzat
- b) sakla samanı gelir zamanı
- c) üzüm üzüme bakarak kararır
- d) damlaya damlaya göl olur

10. Aşağıdaki kelime çiftlerinden hangisi eş anlamlı değildir?

- (a) ihtiyar-yaşlı. (c) büyük-küçük  
(b) zengin-varlıklı (d) doktor-hekim

11. I - Ekmeklerin parasını ödedi.

II- Berat fırına gitti.

III- Ekmeği alıp eve döndü.

IV- Satıcıdan üç tane ekmeğe istedi.

Yukarıdaki cümleleri olayları oluş sırasına göre sıralarsak sıralama nasıl olur?

- (a) I-III-II-IV (c) II-I-IV-III  
(b) II-IV-I-III (d) III-III-IV-I

12. Dün akşam Gaye damdan düşer gibi bize geldi.

Aşağıdaki cümlelerden hangisi yukarıdaki cümleyle aynı anlamdadır ?

- (a) Dün akşam Gaye aniden bize geldi.  
(b) Dün akşam Gaye bize geç geldi.  
(c) Dün akşam Gaye bize üzgün geldi.  
(d) Dün akşam Gaye bize mutlu geldi.

13.



### MATEMATİK SORULARI

Yukarıdaki örüntüde soru işareti yerine kaç gelmelidir?

- (a) 138 (c) 136  
(b) 137 (d) 135

14. Hangi örüntü altışar altışar çoğalmaktadır?

- (a) 10 - 17 - 24 - 31 - 38 - 45  
(b) 25 - 35 - 45 - 55 - 65 - 75  
(c) 33 - 36 - 39 - 42 - 45 - 48  
(d) 46 - 52 - 58 - 64 - 70 - 76


15.



Kutuların üzerinde yazan rakamlarla oluşturulacak dört basamaklı en büyük sayı ile en küçük sayının toplamı kaçtır?

- (a) 11 001 (c) 13 001  
(b) 12 001 (d) 14 001

16.



Zümra, en yakın yüzlüğe yuvarlandığında 1000 olan sayıları vurmak istiyor. Buna göre Zümra yukarıdaki hedefte kaç tane sayıyı vurmamalıdır?

- (a) 4 (b) 5 (c) 6 (d) 7

17.



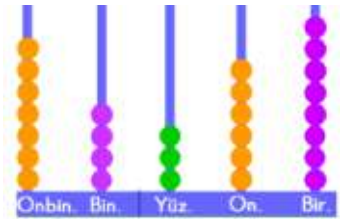
Aras yukarıdakilerini almak için kaç lira biriktirmelidir?

- (a) 5785 ₺ (c) 6970 ₺  
(b) 8990 ₺ (d) 9080 ₺

18. 74 378 sayısı abaküste

modellenirken

hangi basamaktaki toplar eksik çizilmiştir?



- (a) Onlar Bas. (c) Binler Bas.  
(b) Yüzler Bas (d) Onbinler Bas.

19.

624 903

Yukarıdaki sayıyla ilgili aşağıdaki bilgilerden hangisi yanlıştır?

- (a) Altı basamaklı bir sayıdır.
- (b) 4 rakamı binler basamağındadır.
- (c) 2 rakamı yüz binler basamağındadır.
- (d) 0 rakamı onlar basamağındadır.

20. A=67 067

B=67 676

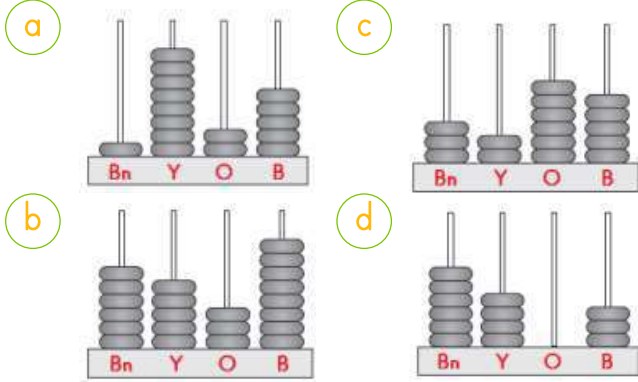
C=67 766

D=67 667

yukarıdaki sayıların **küçükten büyüğe doğru** sıralaması nasıl olur?

- (a) A-D-B-C
- (b) C-A-D-B
- (c) D-A-B-C
- (d) C-D-A-B

21. Aşağıda model ile gösterilen hangi sayı daha büyüktür?



22. Hamza'nın tabletinin şifresi dört basamaklı en büyük sayının 175 fazlası ise tabletinin şifresi nedir?

- (a) 1 174
- (b) 10 174
- (c) 10 175
- (d) 11 174



23. Hangi sayının on binler basamağındaki rakam daha büyüktür?

- (a) 62 045
- (b) 92 245
- (c) 32 045
- (d) 52 145

24. Bir stadyumda 12 346 kadın ve 17 678 erkek izleyici vardır. Bu stadyumda toplam kaç seyirci vardır?

- (a) 30 024
- (b) 20 024
- (c) 32 024
- (d) 31 024

25. SOSYAL BİLGİLER SORULARI

İssiz bir adaya düşen Fatma yanına aşağıdakilerden hangisini alırsa temel ihtiyacı olan bir şey almış olur?



- (a) parfüm
- (b) yemek
- (c) dürbün
- (d) top

26. Nüfus cüzdanında bulunan hangi bilgi, her insan için farklıdır?

- (a) doğum günü
- (b) soyad
- (c) kimlik numarası
- (d) ad

27.



Yukarıdaki kronolojiye hangisi **daha önce** olmuştur.

- (a) Çocuğun konuşması
- (b) Çocuğun doğması
- (c) Ablasının doğması
- (d) Anne babasının evlenmesi

28.



Kendini başka bir insanın yerine koyarak onu anlamaya çalışmak hangi kavramla açıklanır?

- (a) empati
- (b) sevgi
- (c) kıskançlık
- (d) farklılık

29. Engelli olan insanlara karşı davranışlarda aşağıdakilerden hangisi doğru bir davranış olmaz?

- (a) Onları da toplumun bir parçası olarak görmeliyiz.
- (b) Onlara saygı ve sevgiyle yaklaşmalıyız.
- (c) Onları toplumdan uzak tutmalıyız.
- (d) Etkinliklerimize onları da katmalıyız.

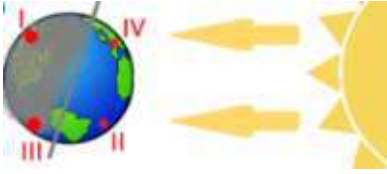
30. -Mehmet futbol takımına seçildi.  
-Ahsen hikaye yazma yarışmasını kazandı.  
-Zümra gitar ile konser verdi.  
Cümleleriyle bireylerin hangi alanda ortak özellikleri vurgulanmak istenmiştir?

(a) duyguları (c) yetenekleri  
(b) istekleri (d) düşünceleri

31. Olimpiyatlarda ve dünya şampiyonalarında halter dalında büyük başarılar elde etmiş olan miili sporcumuz hangisidir?

(a) Naim Süleymanoğlu  
(b) Talha Akgül  
(c) Mete Gazoz  
(d) Fatih Terim

32.



#### FEN BİLİMLERİ SORULARI

Yukarıdaki durumda hangi bölgelerde gündüz yaşanır?

(a) I-II (b) II-IV (c) II-III (d) I-IV

33. Dünyanın katmanları hakkında hangi bilgi **yanlıştır**?



(a) Atmosfer gaz katmanıdır.  
(b) Çekirdek soğuk haldedir.  
(c) Yerkürede insanlar yaşar.  
(d) Yerkürenin bir kısmı sularla kaplıdır.

34. Dünya, kendi etrafında 7 kez dönerse hangisi olur?

(a) 1 yıl (c) 7 ay  
(b) 3 gün (d) 1 hafta

35. Dünya'mız .....dan doğuya doğru döner. Boş bırakılan yere ne yazılmalıdır?

(a) batı (c) doğu  
(b) kuzey (d) güney

36. Aşağıdaki ifadelerden hangisi yanlıştır?

(a) Dünya'nın her yerinde bir gün 24 saattir.  
(b) Yıl içinde gece ve gündüz süreleri değişir  
(c) Gün içinde gölgemizin boyu değişir.  
(d) Güneş dünya etrafında dolanır.

37.

Para	Kömür	Tahta
Altın	Bakır	Bor

Yukarıdaki tabloda maden olanlar boyanırsa kaç kutu boyanması gerekir?

(a) 3 (b) 4 (c) 5 (d) 6

38. İnşaat, heykel ve mutfak tezgâhında kullanılan madendir.

Bahsedilen maden hangisidir?

(a) altın (c) bakır  
(b) mermer (d) tuz

39.



Dünya, Güneş çevresinde bir turunu ..... da tamamlar. Boşluğa hangisi gelemez?

(a) 1 yılda (c) 12 ayda  
(b) 365 günde (d) 1 haftada

40. 1 yıl ..... mevsimdir.

1 yıl ..... aydır.

1 yıl ..... haftadır.

Boşluklara gelecek sayılar sırasıyla hangi seçenekte verilmiştir?

(a) 4-12-52 (c) 52-4-12  
(b) 4-365-52 (d) 24-12-52

41. BONUS SORU

Yandaki tabloda soldan sağa ve yukarıdan aşağı gelen sayıların toplamı hep 15'dir. O halde A, B, C sayıları sırayla kaçtır?

A	5	1
	B	
4	5	C

(a) 9-5-6 (c) 5-9-8  
(b) 9-8-5 (d) 6-9-7