

ADI SOYADI:

TÜRKÇE



CUMHURİYET

29 Ekimde,
Cumhuriyet kuruldu.
Ulus özgür sesini,
Tüm dünyaya duyurdu.

Cumhuriyet bizlere,
Armağandır Ata'dan.
Egemenlik sesleri,
Yükseldi Ankara'dan.

Al bayrağım göklerde,
Övünçle dalgalanır.
Cumhuriyet Bayramı,
Hep kıvançla kutlanır.
Hülya ÖNEL

(İlk üç soruyu şiire göre cevaplandırınız.)

1- Ulusumuz kimlere sesini duyuruyor?

- A)Tüm dünyaya B)Tüm uluslara
C)Tüm devletlere

2- Atatürk'ün bizlere armağan ettiği aşağıdakilerden hangisidir?

- A) Meclis B)Cumhuriyet C) Okul

3- Cumhuriyet Bayramı her zaman nasıl kutlanır?

- A)Sevinçle B)Gururla C)Kıvançla

4-Aşağıdakilerden hangisi anlamlı ve kurallı bir cümledir?

- A) Çantasını aldığı gibi dışarı
B) Açık olan lambaları kapatalım.
C) Fırından aldığı ekmekleri

Yardımlaşma, grupta dostluk ve sevgiyi

5-Yukarıdaki ifadenin doğru olabilmesi için aşağıdakilerden hangisi yazılmamalıdır?

- A) azaltır B) çoğaltır C)artırır

6-Aşağıdaki cümlelerden hangisinin sonuna farklı bir noktalama işareti gelmelidir?

- A) Soruları neden dikkatli okumadın
B) Arkadaşlarla güzel oyun oynadık
C) Kitap okumak karakterli bir iştir



Doğada bana ayı derler. Bal ve armuda bayılırım.

7-Görselle ilgili aşağıdaki bilgilerden hangisi yanlıştır?

- A) İsimde iki hece vardır.
B) İsim satır sonunda bölünemez.
C) İsimde üç tane ünsüz harf vardır.

Kars

Kayseri

Kastamonu

8-Yukarıdaki il adlarının alfabetik sıraya göre sıralaması aşağıdakilerden hangisidir?

1.

2.

3.

A)	Kars	Kastamonu	Kayseri
B)	Kayseri	Kars	Kastamonu
C)	Kastamonu	Kayseri	Kars



9- Aşağıdaki cümlelerin hangisinde virgül, eş görevli kelimelerin arasında kullanılmamıştır?

- A) Çantama kitap, defter ve kalem koydum.
B) Miraç, başkan yardımcılığına seçildi.
C) Bugün hayat bilgisi, Türkçe, matematik derslerini işleyeceğiz.

10-Aşağıdaki eşyalardan hangisinin adı dört hecelidir?



A)



B)



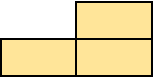
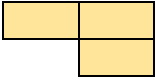
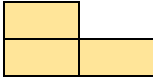
C)

11-Aşağıdaki kelimelerden hangisi **yanlış** hecelenmiştir?

- A)Te-le-viz-yon B)E-lek-trik
C)Ma-nda-li-na

Ekmek	Dayı
Karanlık	Deniz

12-Kerem , tabloda zıt anlamı olan kelimeyi kesiyor. Kesildikten sonra tablonun şekli nasıl olur?

- A)  B)  C) 

13- "Bu hafta hikaye okumaya başlıyorum." cümlesinde "hikaye" kelimesinin yerine aşağıdaki-lerden hangisini yazarsak, cümlenin anlamı **değişmez**?

- A) kitap B) öykü C) şiir

Sema	getirdi	bardağı	annesine.
1	2	3	4

14-Yukarıdaki cümlenin anlamlı ve kurallı olabilmesi için hangi numaralı kelimeler yer değiştirmelidir?


- A)1-2 B)2-4 C)1-3

15-Aşağıdaki cümlelerin hangisinde yazım yanlışı vardır?

- A) Yarın 29 ekimi cumhuriyet bayramını kutlayacağız.
B) Babam ve annem okula gelecek.
C) Dedemle beraber Avdan köyüne gittik.

MATEMATİK

1-İsmail dedesinin bahçesinden 28 tane ceviz topluyor. İsmail 3 arkadaşının yanına gidip her birine 4 ceviz veriyor. İsmail'in kaç ceviz kaldı?
A)12 B)16 C)20



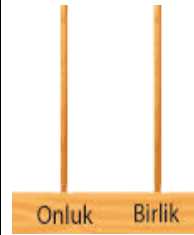
2-Elma yemeyi çok seven Ayaz, tablodaki elmalardan kaç tanesini yerse geriye bir düzine elma kalır?

- A)6 B)4 C)2

SAYI	35	
Basamak adları	Birler basamağı	Onlar basamağı
Basamak değeri	▲	★

3-Yukarıdaki tabloda bulunan sayıya göre ▲ ve ★ yerine hangi sayılar yazılmalıdır?

- A)  B)  C) 



4-Yandaki abaküste 5onluk 3 birlikten oluşan sayıyı gösterebilmek için kaç tane boncuk çizilmelidir?

- A) 5 B) 8 C) 3

5-Aşağıdaki toplama işlemlerinden hangisinin sonucu en büyüktür?

A)	B)	C)
$\begin{array}{r} 78 \\ + 21 \\ \hline \end{array}$	$\begin{array}{r} 55 \\ + 24 \\ \hline \end{array}$	$\begin{array}{r} 64 \\ + 23 \\ \hline \end{array}$
*****	*****	*****

50

6-Aşağıdaki sayılardan hangisi en yakın onluğa yuvarladığımızda tablodaki sayıyı **vermez**?

- A)47 B)52 C)58

10

14

18

.....

26

30

7-Yukarıdaki örüntüde noktalı yere hangi sayı yazılmalıdır?

- A)20 B)22 C)24

84	65	60	51	57	32
----	----	----	----	----	----

8-Yukarıdaki sayıların **büyükten küçüğe** sıralanışının doğru olması için hangi iki sayının yer değiştirmesi gerekir?

- A)51 ile 57 B)65 ile 60 C)84 ile 65

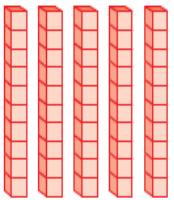


9- 2 deste ile 2 düzinenin toplamı kaç eder?

- A)24 B)34 C)44

10-45'ten başlayarak geriye doğru beşer ritmik sayarken 4.sırada hangi sayıyı söyleriz?

- A)25 B)20 C)15



11-Onluk taban bloklarıyla modellenen sayıdan bir **önce** gelen sayı kaçtır?



- A) 55 B) 56 C) 57

12- Aşağıdaki sayılardan hangisinin okunuşu **yanlış** verilmiştir?

- A) 17. On yedinci
B) 12. On dördüncü
C) 6. Altıncı

13-Aşağıdaki örüntülerden hangisinin kuralı **farklıdır**?

- A) 12-14-16-18-20
B) 3-5-7-9-11-13-15
C) 9-13-17-21-25-29

14-Yetmiş beş sayısı hangi onluklar arasındadır?

- A)60 ile 70 B)70 ile 80 C)80ile 90



"Aklımdan tuttuğum sayı 6 birlik, 7 onluktan oluşuyor."

15- Buna göre Cem'in aklından tuttuğu sayı kaçtır?

- A) 76 B) 87 C) 96

HAYAT BİLGİSİ



Okul çantasının çok ağır olduğunu gören öğretmeni "Neden çantanı göre hazırlamadın? O zaman çok daha hafif olurdu."

1-Yukarıdaki ifadenin doğru olabilmesi için aşağıdakilerden hangisi yazılmalıdır?

- A)Ders programı B)Beslenme programı
C)Okul programı

Konuşmacıyla göz teması kurmak.
Konuşmacının sözünü kesmek.
Başka işlerle uğraşabiliriz.
Konuşmanın bitmesini beklemeliyiz.

2-Yukarıdakilerden kaç tanesi dinleme kurallarındandır?

- A)2 B)3 C)4

3-Arkadaşlarıyla oyun oynayan Muhammed Ali, aşağıdakilerden hangisini **yapmamalıdır**?

- A) Oyunda öfkesini kontrol etmeli.
B) Kazanan arkadaşlarını tebrik etmeli.
C) Oyunu kazanmak için kuralları bozabilir.

	D	Y
Grupta kararları sadece lider almalıdır.	K	O
Grup başarı için işbirliği yapılmalıdır.	K	E
Grup üyeleriyle nazik konuşulmalıdır.	U	N
Kazanmak için bazen hile yapılabilir.	İ	L

4-Tablodaki ifadeleri doğru ve yanlış olarak işaretlediğimizde, şifre olan kelime aşağıdakilerden hangisidir?

- A) okul B) koku C) kedi

5)Paramızdan tasarruf etmek için aşağıdakilerden hangisini **yapmamalıyız**?

- A) Odadan çıkarken açık lambayı kapatmalıyız.
B) Yeni kıyafetlerle spor yapmalıyız.
C) Gereksiz akan suyu kapatır.



6-Tabloda soru işareti ile gösterilen yere aşağıdaki kelimelerden hangisi yazılabilir?

- A)Ten rengi B)Ayakkabı rengi C)Elbise rengi

Derslerimde çok başarılıyım.



Süveyda

Spor yapmayı seviyorum.



Ömer

Siyah gözlü, sarı saçlıyım.



Arda

7-Hangi öğrenci ilgisinden bahsetmektedir?

- A)Ömer B)Süveyda C)Arda

8-Aşağıdaki ifadelerden hangisi **yanlıştır**?

- A) İsteklerimizi söylerken emir verebiliriz.
B) Arkadaşımı anlamak için empati yapmalıyız.
C) İletişimde kaba ve kırıcı söz söylememeliyiz.



Ev ve okuldaki kaynakları özenli kullanmak ne işe yarar?

9-Oğuz'un sorusuna cevap veren, arkadaşlarından hangisi **yanlış** ifade söylemiştir?

- A) Doğadaki kaynakları tüketiriz.
B) Tasarruf ederek, paramızı koruruz.
C) Bütçemize katkı sağlamış oluruz.

10- Aşağıdaki ifadelerden hangisinde nezaket ifadesi **bulunmuyor**?

- A) Yarışmayı dürüstçe kazanmadın.
B) Silgiyi verdiğin için teşekkür ederim.
C) Sana çarptığım için özür dilerim.