

ADI, SOYADI:

FATMA MİTHAT GÜRSOY İLKOKULU 4. SINIFLAR DENEME SINAVI

Aşağıdaki soruları dikkatle okuyarak cevaplayınız.

Ben kitap okumayı seviyorum. Hem de çok. Babam, benim bir kitap kurdu olduğumu söylüyor. Gözlüklü bir kurt. Ben bugüne kadar hiç kitap kurdu görmedim. Nasıl olduklarını çok merak ediyorum. Hayvanlar ansiklopedisine baktım. Orada kitap kurdu diye bir şey yok. Arkadaşım Süleyman, benimle aynı sınıfa gidiyor. O da bugüne kadar hiç kitap kurdu görmemiş. Süleyman da çok kitap okuyor. Süleyman macera kitaplarını çok sever. Ama o kitaplarını bana vermiyor. Onların kapaklarına bile dokundurtmuyor. Kitaplarından birinin resimlerine bakmak istediğimde uzaktan tutup gösteriyor.

1. Metinde babası oğluna neden "**Kitap Kurdu**" demektedir?

- a) Eski kitapları biriktirdiği için
- b) Çok kitap okuduğu için
- c) Eski kitapları sattığı için
- d) Kitapların içinde kurt olduğu için

2. Metindeki Süleyman hakkında hangisi **söylenemez**?

- a) Süleyman da çok kitap okumaktadır.
- b) Çocukla aynı sınıfa gitmektedir.
- c) Süleyman macera kitaplarını sever.
- d) Süleyman, kitaplarını herkes ile paylaşır.

Çocuklardan biri()
- Ali , nerede, dedi()
Yaşlı adam cevap verdi()
- Ne yapacaksınız()

3. Parantezle belirtilen yerlere sırasıyla hangi noktalama işaretleri gelmelidir?

- a) (:) (.) (:) (?) c) (:) (?) (:) (?)
- b) (?) (.) (:) (?) d) (:) (.) (:) (!)

4. Aşağıdaki cümlelerin hangisinde "**yüz**" kelimesi **farklı** bir anlamda kullanılmıştır?

- a) Yüzünden düşen bin parçaydı.
- b) Dedem bana yüz lira verdi.
- c) Sınava yüz kişi girecekmiş.
- d) Yüz tane boncuk dizdim.

ağaç	ocak	pazar
yüz	tahta	bağ

5. Yukarıdaki tablodaki kaç eş sesli kelime **değildir**?

- a) 1 b) 2 c) 3 d) 4

6. Aşağıdaki cümlelerin hangisinde **zıt anlamlı** kelimeler bir arada **kullanılmıştır**?

- a) Eve gelir gelmez ödevlerini yapmaya başladı.
- b) Derse geç geldiği için öğretmeninden özür diledi.
- c) İnsanların güvenini kazanmak istiyorsan dürüst olmalısın.
- d) Geç başlamasına rağmen sınavı arkadaşlarından erken bitirdi.

7. Aşağıdaki cümlelerin hangisinde **sebep - sonuç** ilişkisi vardır?

- a) Şurup içmediği için doktor hap vermiş.
- b) Akşam sinemaya ya da tiyatroya gidelim.
- c) Sabah arabamız çalışmadı.
- d) Onur, çok yüksek sesle konuşuyor.

8.

Sema kitap okumayı çok sever.....

Yukarıdaki cümlelerin **devamı** aşağıdakilerden hangisi olabilir?

- a) özellikle de öykü kitaplarına bayılır.
- b) hiç kitabı kalmamış.
- c) sonunda kitabı kalmamış.
- d) ama kitapları düzenli kullanır

9.

O kadar yemek yemenin kilo aldı.

Yukarıdaki noktalı yere aşağıdakilerden hangisi gelmelidir?

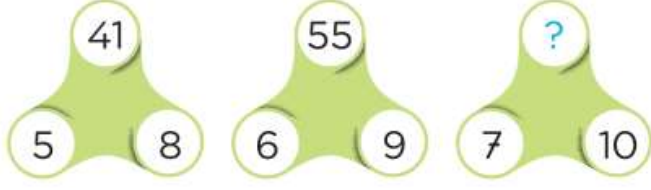
- a) illa c) değil
- b) sonucunda d) belki

- a 25 b 10 c 12 d 20

20. Çiftliğimizde 56 inek, 75 tavuk ve 48 keçi vardır. Çiftliğimizdeki hayvanların **tüm ayaklarına** aşı yapılacaktır. O halde bu işlem için kaç aşı gerekir?

(a) 558 (b) 458 (c) 566 (d) 468

21.



Yukarıdaki şekillerin her birinde aynı kural uygulanmıştır. Buna göre "?" ile gösterilen yere kaç yazılmalıdır?

(a) 17 (b) 70 (c) 71 (d) 82

22. Bir ormanda 1768 gürgen, 3794 meşe ağacı vardır. Bu ormanda gürgen ve meşelerin **toplamı kadar** da çam ağacı olduğuna göre ormandaki toplam ağaç sayısı kaçtır?

(a) 12 124 (b) 11 124 (c) 16700 (d) 11 225

23.



Yukarıda Ahmet amcanın tarlasından aldığı ürünlerin miktarı verilmiştir. Buna göre Ahmet amca tarlasından kaç kilogram ürün elde etmiştir?

(a) 9778 (b) 9796 (c) 9838 (d) 9889

24. Zümra'nın kumbarasında 8 tane 20 lira, 9 tane 50, 12 tane 100 ve 6 tane 200 lira varsa, kumbara da ne kadar para vardır?

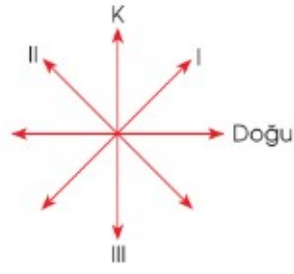
(a) 2 010 (b) 3 100 (c) 3 010 (d) 3 110

SOSYAL BİLGİLER SORULARI

25. **23 Nisan 1920** tarihinde gerçekleşen tarihi olay hangisidir?

(a) Cumhuriyetin ilanı
(b) Millet Meclisi'nin açılması
(c) Atatürk'ün Ankara'ya gelişi
(d) Kurtuluş Savaşı'nın başlangıcı

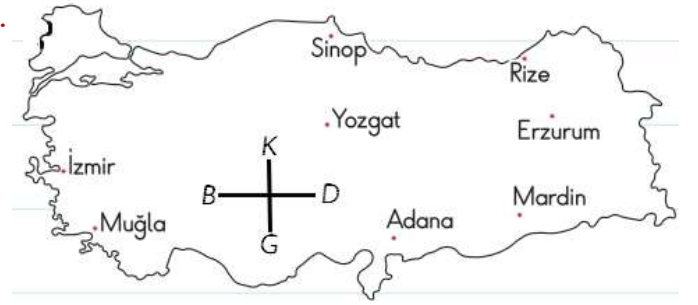
26.



Yandaki verilen yön şemasında numaralı olarak verilen yerlere karşılık gelen yönler aşağıdakilerden hangisinde **sırasıyla** doğru olarak verilmiştir?

(a) I-doğu
II-güney
III-kuzeybatı
(b) I-kuzeybatı
II-kuzeydoğu
III-güney
(c) I-güney
II-doğu
III-kuzeydoğu
(d) I-kuzeydoğu
II-kuzeybatı
III-güney

27.



Sonraki 3 soru yukarıdaki haritayla ilgilidir.

Yukarıdaki haritaya göre ülkemizin **en kuzeyinde** hangi şehir vardır?

(a) Sinop (b) Yozgat (c) Adana (d) Mardin

28. Haritaya göre hangi bilgi **yanlıştır**?

(a) Erzurum ülkemizin doğusundadır.
(b) İzmir ülkemizin batısındadır.
(c) Adana ülkemizin güneyindedir.
(d) Yozgat ülkemizin batısındadır.

29. Kuzey ile doğunun arasındaki yön kuzey doğudur. O halde ülkemizin **kuzey doğusunda** hangi şehir vardır?

(a) Rize (b) Mardin (c) Muğla (d) Adana

30. Aşağıdakilerden hangisi **İzmir'i** işgal etmiştir?

(a) Yunanistan (b) İtalya (c) Fransa (d) İngiltere

31. İşgalci Devletler

I. İngiltere II. Fransa
III. İtalya IV.

Noktalı yere hangisi gelmelidir?

- (a) Almanya (c) Çin
(b) Yunanistan (d) Avusturya

32. FEN BİLİMLERİ SORULARI

Kuvvet cisimde değişikliğine yol açabilir.

Yukarıdaki boş yere hangisi yazılırsa uygun olur?

- (a) şekil (c) renk
(b) sayı (d) adet

33. Aşağıdaki eşleştirmelerden hangisi **yanlıştır**?

- (a) Topa ayağımızla vurmak----itme (c) Telefon tuşuna uygulanan kuvvet----itme
(b) Dolabı açarken uygulanan kuvvet ----çekme (d) Çiviye çakarken uygulanan kuvvet----çekme

34. Öğretmen, kuvvetin şekil değiştirici etkisine örnekler verilmesini istemiştir.

Ahsen: Pedal çevirmek

İkra: Kola kutusunu ezmek

Feyza: Çekmeceyi açmak

Kader: Topu kaleye vurmak

Buna göre hangi öğrencinin söylediği örnek **doğrudur**?

- (a) Ahsen (c) Feyza
(b) İkra (d) Kader

35.



Züleyha ve Hamza resimdeki gibi voleybol oynuyorlar. Buna göre ikisinin de topa uyguladığı hareket hakkında hangi seçenek **doğrudur**?

- (a) Züleyha itme, Hamza çekme
(b) Züleyha itme, Hamza itme
(c) Züleyha çekme, Hamza çekme
(d) Züleyha çekme, Hamza itme

36.



Yukarıdaki süngere etki eden kuvvet ile ilgili yapılan yorumlardan hangisi **doğrudur**?

- (a) Süngere hareket kazandırmıştır.
(b) Süngerin şeklini değiştirmiştir.
(c) Süngerin yerini değiştirmiştir.
(d) Süngeri hızlandırmıştır.

37. Hangi gruptaki besinlerle beslenen biri **dengeli beslenmiş** olur?

- (a) Yumurta, peynir, cips ve hamburger
(b) Et, süt, ayran, kola ve çikolata
(c) Et, süt, yumurta, bal, sebze ve meyve
(d) Hamburger, patates kızartması ve kola

Beyin fonksiyonlarını olumsuz yönde etkiler ve bilinci devre dışı bırakır. İnsanlar onu kullandıktan sonra duygularını da kontrol edemez. Görme zorlukları yaşar, konuşması değişir. Dengesini kaybeder.

38. Yukarıda verilen ifade hangi **zararlı alışkanlığın** kullanımı ile ortaya çıkar?

- (a) alkol (c) tütün
(b) sigara (d) nargile

39. * Alkol ve sigara zararlı maddelerdir.

* Sigaranın içinde bir çok zararlı madde bulunmaktadır.

* Sigarada bulunan nikotin bağımlılık yapar.

Yukarıdaki ifadelerden kaç tanesi **doğrudur**?

- (a) 0 (b) 1 (c) 2 (d) 3

40. **Proteinler ile ilgili;**

I. Et ve süt ürünlerinde bolca bulunur.

II. Bizi hastalıklardan korur.

III. Bütün besinlerde bulunur.

IV. Kemiklerimizi geliştirir.

Yukarıdaki ifadelerinden hangileri **doğrudur**?

- (a) I ve IV (c) II ve III
(b) I ve III (d) II ve IV