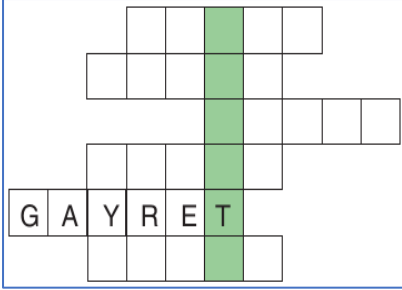


3. SINIFLAR HAFTALIK DEĞERLENDİRME SINAVI-16

- Bakkal () Nasrettin Hoca () ya bakmış ()
 () Borcunu vermezsen seni dostlarının yanında mahcup ederim () demiş ()
 1-) Yukarıdaki metinde yay ayraçlarla belirtilen yerlere sırasıyla hangi noktalama işaretleri getirilmelidir?
 A) (.) (') (.) (") (") (!) B) (.) (') (: (-) (.) (.)
 C) (.) (') (: (") (!) (.)

SABİR	AHLAK	GAYRET	SELAM	SEVGİ	SAYGI
-------	-------	--------	-------	-------	-------

2-) Yukarıdaki sözcükler, sözlükteki sırasına göre sondan başa doğru yandaki kutucuklara yerleştirilecektir. Renkli kutucuklar yukarıdan aşağıya doğru okunursa hangi sözcük elde edilir?



- A) SALATA B) VASITA C) RABITA

3-) Yukarıdaki sözcüklerden bazılarının zıt anlamlıları bulmacaya yerleştirilmiştir. Buna göre sözcüklerden kaç tanesinin zıt anlamlısı bulmacaya yazılmamıştır?

• ince	• güzel	Ç	O	K	E	M
• parlak	• kötü	İ	Y	İ	R	A
• uzun	• hızlı	R	İ	R	K	T
• temiz	• az	K	A	L	İ	N
		İ	Y	İ	S	E
		N	E	L	A	K

- A) 1 B) 2 C) 3

Ben kuzuları çok severim.	•	• düşünce
Keşke bir kuzum olsaydı.	•	• duygu
Çocuklar, hayvanlarla dostluk kurmayı öğrenmelidir.	•	• istek

4-) Yukarıdaki cümlelerin bildirdiği anlamlarıyla eşleştirildiğinde doğru eşleştirme hangi seçenekte verilmiştir?

- A) B) C)

1-kahraman	2-olay	3-yer	4-zaman
------------	--------	-------	---------

- ☐ Olay bahçede gerçekleşmiştir.
☐ Olay akşamüstü gerçekleşmiştir.
☐ Olayı Yağız ve arkadaşları yaşamıştır.
☐ Sıkışan kediye kurtarmak için sarf ettikleri çaba anlatılmıştır.

5-) Verilen ifadeler hikâye unsurlarıyla eşleştirildiğinde doğru sıralama hangi seçenekte verilmiştir ?

- A) 1-2-3-4 B) 3-4-1-2 C) 3-2-4-1

6-) Aşağıdaki sözcüklerin hangisinin hece sayısı diğerlerinden fazladır?

- A) kitaplık B) sandalye C) televizyon

7-) Aşağıdaki şekillerin hangisinde kesrin birim kadarı boyanmıştır?



8-) $\frac{6}{8}$ kesri için hangisi söylenemez?

A) Kesrin, birim kesri $\frac{1}{8}$ 'dir.

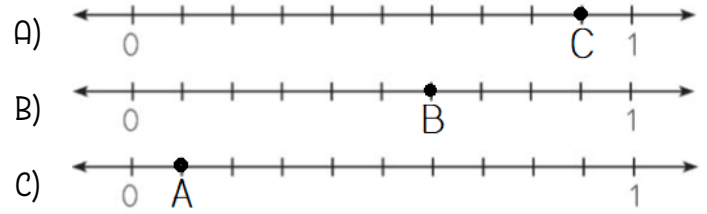
B) Bütün, 8 eş parçaya ayrılmış.

C) 'Sekiz bölü altı' olarak okunur.

9-) " $\frac{28}{100}$ kesri ... tane birim kesirden oluşur." ifadesinde noktalı yere hangisi yazılmalıdır?


- A) 28 B) 100 C) 1

10-) Aşağıda sayı doğrusunda gösterilen kesirlerden hangisi birim kesire örnektir?



11-) Yandaki taban blokta gösterilen kesrin birim kesri aşağıdakilerden hangisidir?

- A) $\frac{38}{100}$ B) $\frac{1}{100}$ C) $\frac{100}{1}$



☐ Bir bütün sekiz eş parçaya bölünmüş, içinden üç eş parçası alınmıştır.

☐ Bir bütün üç eş parçaya bölünmüş, içinden sekiz eş parçası alınmıştır.

☐ Bir bütün sekiz eş parçaya bölünmüş, içinden bir eş parçası alınmıştır.

12-) $\frac{3}{8}$ kesri hangi sembolle gösterilen ifadede belirtilmiştir?

- A) \triangle B) \square C) \bigcirc

13-) Bir deste kalemin $\frac{7}{10}$ 'i kaç kalemdir?

- A) 10 B) 1 C) 7

Pelin : İnsan kulağı belirli bir aralıktaki sesleri işitebilir.

Rıfat : İnsan kulağı her sesi işitir.

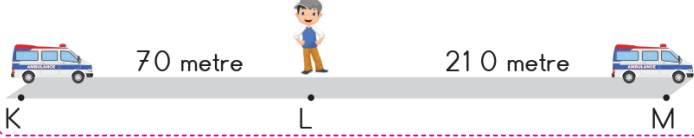
Halit : İnsan kulağı seslerin şiddetini anlayamaz.

14-) Yukarıda ses ve ses şiddeti ile ilgili bilgi veren öğrencilerden hangisi ya da hangilerinin verdiği bilgi doğrudur?

- A) Halit, Pelin B) Rıfat, Halit C) Yalnız Pelin

3. SINIFLAR HAFTALIK DEĞERLENDİRME SINAVI-16

Ses şiddeti, sesin kaynağından uzaklaştıkça azalır.



Yukarıdaki görselde, K noktasından hareket edip L noktasındaki Ali'nin yanından geçerek M noktasına giden ambulans gösterilmiştir.

15-) Ambulansın siren sesi Ali'nin bulunduğu noktaya göre en düşük , en yüksek ve orta işaretleriyle gösterildiğinde hangi gösterim doğru olur?

- A) K L M
- B) K L M
- C) K L M

16-) "Ses nasıl yayılır?" sorusuna verilebilecek cevap için aşağıdaki görsellerden hangisi kullanılabilir?

- A) B) C)

17-) "Yağmur sesiyle uyandım. Kuşlar ötüyor, köpekler havlıyor, annem "Günaydın." diyor ve televizyondan müzik sesi geliyordu." paragrafta geçen doğal ses kaynakları hangi seçenekte bir arada verilmiştir?

- A) Yağmur — köpek — kuş - insan
- B) Köpek — kuş — televizyon - yağmur
- C) Televizyon - kuş- köpek - insan

"Ses kaynağına yaklaştıkça ses şiddeti ses kaynağından uzaklaştıkça ses şiddeti"

18-) Yukarıdaki boşluklara sırasıyla hangileri yazılmalıdır?

- A) artar-artar B) artar-azalır C) azalır-artar

19-) Aşağıdakilerden hangisi hem ışık kaynağı hem de ses kaynağıdır?

- A) B) C)

1- Yüksek yerdeki eşyaları sandalyeye çıkararak alabilirim.

2- Kabloyu prize takmak istediğimde annemden yardım isterim.

3- Oyuncaklarımla oynadıktan sonra hepsini yerine koyarım.

20-) Yukarıda verilen cümlelerden oluşabilecek kazaları önlemeye yönelik olanlar hangileridir?

- A) 2-3 B) 1-2-3 C) Yalnız 1

1- Islak elle prize dokunmak

2- Kesici aletlerle oynamak

3- Havluyla saçlarımızı kurutmak

4- Koridorda koşarak oyun oynamak

21-) Yukarıdaki hangi davranışlar tehlikelidir?

- A) 1-2-3 B) 1-3-4 C) 2-4-1

22-) Acil bir durum yaşayan ve yardıma ihtiyacı olan birine aşağıdakilerden hangisini sormayız?

- A) Telefon numarasını
- B) Ailesinden kime nasıl ulaşacağımızı
- C) Telefonunun markasını

1 Bozulmuş Besin

2 Temizlik İlacı

3 Düşmeler

4 İlaçlar

23-) Yukarıdakilerden hangileri çocukların zehirlenmesine neden olabilir?

- A) 1-2-4 B) 1-2-3 C) 2-4

24-) Okulda yaralanma durumunda aşağıdakilerden hangisi çağrılır?

- A) B) C)

25-) Yukarıdaki işaretin anlamı nedir?



- A) Yangın B) Giriş kapısı C) Asansör merdiveni

Adı Soyadı: _____		
CEVAP ANAHTARI		
1) A B C	10) A B C	19) A B C
2) A B C	11) A B C	20) A B C
3) A B C	12) A B C	21) A B C
4) A B C	13) A B C	22) A B C
5) A B C	14) A B C	23) A B C
6) A B C	15) A B C	24) A B C
7) A B C	16) A B C	25) A B C
8) A B C	17) A B C	
9) A B C	18) A B C	
Doğru: _____	Puan: _____	Ortalama: _____

Cevaplar:

cba abc aca cbb ccb bab bac cac a