

SAKARYA İLKOKULU 3/A SINIFI  
HAFTALIK DENEME SINAVI-14

**TÜRKÇE**

**ALİ RIZA BEY**

Ali Rıza Bey'e apartmanda denize bakan bir oda hazırlamışlardı. İhtiyar adam, rahat ve bol yiyeceğe kavuşunca kısa sürede iyileşti. Artık elinde bastonuyla evin içinde dolaşıyor. Leylâ'nın papağanına, kelimeler öğretmeye çalışıyordu. Evde oturmaktan sıkıldığı zaman Ali Rıza Bey'i güzelce giydirdiyordu Hayriye Hanım. Sonra açık bir arabaya bindirerek gezmeye gönderiyordu.

Reşat Nuri GÜNTEKİN

**(1,2 ve 3. Soruları metne göre cevaplayınız.)**

**1) Ali Rıza Bey'e nasıl bir oda hazırlanıyor?**

- A) sokağa bakan
- B) denize bakan
- C) okula bakan

**2) İhtiyar adam neye kavuşuyor?**

- A) çocuklarına ve evine
- B) rahata ve eşine
- C) rahata ve bol yiyeceğe

**3) Ali Rıza Bey iyileştikten sonra aşağıdakilerden hangisini yapmıyor?**

- A) Bastonuyla duvarlara vuruyor.
- B) Evin içinde bastonuyla dolaşıyor.
- C) Leyla'nın papağanına kelimeler öğretiyor.

**4) “Damlaya damlaya ..... olur? atasözü hangi sözcükle tamamlanmalıdır?**

- A) Deniz
- B) Nehir
- C) Göl

**5) “Bakkaldan iki ekmek aldım” cümlesinde hangi kelime bir ismin özelliğini belirtmiştir? (hangi kelime sıfattır?)**

- A) bakkaldan
- B) iki
- C) aldım

**6) “yaprak, karıncalar, ağaç, pencereler, öğrenciler, evler, kemer” sözcüklerinden kaç tanesi çoğul isimdir?**

- A) 5
- B) 4
- C) 3

**7) “ Kar yağdı.....yeterli miktarda değil.” cümlesinde boş bırakılan yere hangisi gelmelidir?**

- A) ancak
- B) için
- C) gibi

**8) Aşağıdaki sözcüklerden hangisinin zıt anlamlısı yoktur?**

- A) sabah
- B) yoksul
- C) pencere

**9) Aşağıdaki özel isimlerin hangisinin yazılışı doğrudur?**

- A) Çanakkale boğazı
- B) Atatürk Üniversitesi
- C) Doğu Anadolu

**10) Aşağıdaki cümlelerde altı çizili sözcüklerden hangisi sıfattır?**

- A) Meraklı adam soru sordu.
- B) Akşam sinemaya gideceğiz.
- C) Yemeğini yedin mi?

11) “Çünkü yüzmeyi çok seviyorum.”  
cümlesi hangi sorunun cevabı olabilir?

- A) Yüzmeyi nasıl öğrendin?
- B) Her gün yüzüyor musun?
- C) Niçin havuza gidiyorsun?

12) Aşağıdaki sözcüklerden hangisi sıfat  
olamaz?

- A) pencere
- B) turuncu
- C) yuvarlak

## MATEMATİK




1) “2, 5, 4” sayıları ile oluşturulabilecek üç  
basamaklı en büyük sayı en yakın onluğa  
yuvarlanırsa hangisi olur?

- A) 250
- B) 540
- C) 450

2) Ben 7 yaşındayım. Annem 34, babam ise  
annemden 5 yaş büyüktür. Üçümüzün yaşları  
toplamı kaçtır?

- A) 46
- B) 53
- C) 80

3) Verilen şekillerden hangisinin Error! ‘i  
boyanmıştır?

- A) 
- B) 
- C) 

4) “2 – 7 – 12 – ? – 22 – ? – 32 – 37 – 42 – 47”

Yukarıdaki örüntüde soru işareti olan yerlere  
sırasıyla hangi sayılar yazılmalıdır?

- A) 13 – 23
- B) 17 – 27
- C) 17 – 31

5)  $357 < B < 369$  sıralamasındaki “ B “  
yerine aşağıdakilerden hangisi yazılamaz?

- A) 359
- B) 368
- C) 379

6)

Bölünen :	32	
Bölen :	5	-
Kalan :	2	

Yukarıdaki bilgilere göre sayı-  
ları bölme işlemindeki yerlerine  
yazarsak aşağıdakilerden hangi-  
si doğru olur?

- A.  $32 \overline{) 5}$
- B.  $32 \overline{) 5}$
- C.  $32 \overline{) 2}$

7) 72 sayısının çeyreği kaçtır?

- A) 36
- B) 18
- C) 30

8) Romen rakamlarıyla yapılan çarpma  
işlemlerinden hangisinin cevabı yanlıştır?

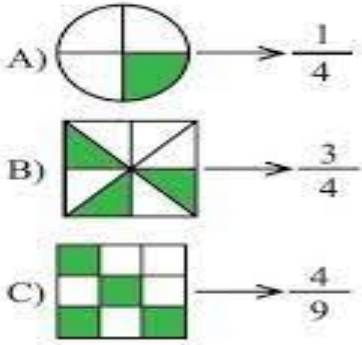
- A)  $IV \times III = XII$
- B)  $V \times II = X$
- C)  $X \times II = XV$

9) Mert tanesi 4 lira olan silgilerden 4 tane almış ve kırtasiyeye 20 lira vermiştir. Mert'in kaç lira para üstü alması gerekir?

- A) 4
- B) 12
- C) 28

10)

Aşağıda verilen şekil ve kesir eşleştirmelerinden hangisi yanlıştır?



11) Aşağıdakilerden hangisi birim kesirdir?

- A) Error!
- B) Error!
- C) Error!

12)  $26 \times 17 = ?$  işleminin sonucu kaçtır?

- A) 43
- B) 322
- C) 442

13) Bir çuvaldaki 78 cevizden 24'ü çürük çıktı. Geriye kalan cevizler 3 arkadaş arasında eşit olarak dağıtıldı. Her birine kaç ceviz düşer?

- A) 54
- B) 18
- C) 51

**HAYAT BİLGİSİ**

1) Esra: Tanımadığımız bir kişi bizimle konuşmak isterse .....

Esra'nın cümlesinde boş bırakılan yere aşağıdakilerden hangisi gelmelidir?

- A) cevap vererek sohbet etmeliyiz.
- B) eve doğru birlikte yürümeliyiz.
- C) onunla konuşmayıp oradan uzaklaşmalıyız.

2) Grup çalışmalarında başarılı olabilmek için, her üyede bulunması gereken özellik hangisidir?

- A) Sorumluluk
- B) Kıskançlık
- C) Zeki olma

3) Aşağıdakilerden hangisi "yaya geçidi" levhasıdır?



4) Öncelikli görevi trafiğin akışını düzenlemek olan meslek aşağıdakilerden hangisidir?

- A) zabıta
- B) itfaiyeci
- C) trafik polisi

5) Aşağıdakilerden hangisi kazalara yol açabilecek davranışlardan değildir?

- A) Ödevlerini geç saate bırakmak
- B) Kesici aletlerle oyun oynamak
- C) Yanıcı maddelerle oyun oynamak

6) Üçüncü sınıfa başlayacak olan Zehra kumbarasında biriktirdiği paralarla öncelikle


aşağıdakilerden hangisini alırsa parasını doğru kullanmış olur?

- A) Çanta
- B) Bisiklet
- C) Telefon

7) Aşağıdakilerden hangisi temel ihtiyaçlarımızdan birisi değildir?

- A) Beslenme
- B) Eğlenme
- C) Barınma

8) Aşağıdakilerden hangisi “kontrollü demir yolu geçidi” levhasıdır?



9) Yarın görsel sanatlar dersi olan Erdem, okul çantasına aşağıdakilerden hangisini koymalıdır?

- A) Türkçe sözlüğünü
- B) Cetvelini
- C) Boya kalemini

10) Arkadaş olarak seçeceğimiz kişide aşağıdaki özelliklerden hangisinin bulunmasını istemeyiz?

- A) Dürüstlüğü
- B) Sevecenliğin
- C) Yalancılığın

1) Dağın zirvesine tırmanan biri için hangi iki katmanda olduğu söylenebilir?

- A) Su küre – Taş küre
- B) Taş küre – Hava küre
- C) Hava küre – Su küre

2) “Tren bulunduğumuz istasyona yaklaşmakta”

Buna göre tren yaklaştıkça ses şiddetinde nasıl bir değişiklik olur?

- A) Sesin şiddeti artar.
- B) Sesin şiddeti değişmez.
- C) Sesin şiddeti azalır.

3) Aşağıdaki ses kaynaklarından hangisi yapay ses kaynağıdır?

- A) Gitar sesi
- B) Kuş sesi
- C) Gök gürültüsü

4) Aşağıdaki ışık kaynaklarından hangileri doğru verilmiştir?

Doğal Işık Kaynağı

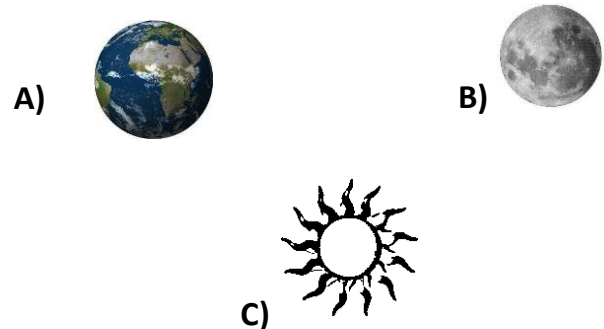
- A) Ampul
- B) Şimşek
- C) Dalga

Yapay Işık Kaynağı

- Şimşek
- El feneri
- Alarm

5) Işık yayarak çevresini aydınlatan her cisim ışık kaynağıdır.

Aşağıdakilerden hangisi ışık kaynağıdır?



6) Aşağıdaki maddeler katı madde olarak gruplanırsa hangisi bu

gruplamanın dışında kalır?

- A) Hava B) Bakır tel  
C) Masa

7) Aşağıdakilerden hangisi katı madde olduğu halde sıvılar gibi konulduğu kabın şeklini alır?

- A) Su B) toz şeker  
C) zeytinyağı

8) Aşağıdakilerden hangisi ışık kaynağı değildir?

- A) Ay B) Yıldız  
C) Güneş

9) Aşağıdaki varlıklardan hangisinin çıkardığı sesin şiddeti daha azdır?

- A) Kükreyen aslan  
B) Koşan at  
C) Yürüyen karınca

10) "Çok şiddetli seslerin olduğu ortamlarda bulunmak .....kaybına yol açabilir." cümlesinde noktalı yerlere aşağıdakilerden hangisi gelmelidir?

- A) işitme  
B) görme  
C) koku alma

## ENGLISH

1) How does he feel?  
(O nasıl hissediyor?)



- A) happy B) angry  
C) energetic

2) OLD → .....  
Kelimesinin zıt anlamlısı hangisidir?

- A) angry  
B) fast  
C) young

3) Aşağıda ilk harfleri verilmeyen üç kelimeyi tamamlayacak ortak harf hangisidir?

\_\_all , \_\_ired , \_\_eddy bear

- A) B B) T  
C) D

4) What is Bill doing?  
(Bill ne yapıyor?)



Mike



Bill



Jack

- A) He is riding a bike.  
B) He is playing football.  
C) He is running.

5) XII – VII = ?  
işleminin sonucu hangisidir?

- A) V  
B) IV  
C) VI

# CEVAP ANAHTARI

## TÜRKÇE

1	A	B	C
2	A	B	C
3	A	B	C
4	A	B	C
5	A	B	C
6	A	B	C
7	A	B	C
8	A	B	C
9	A	B	C
10	A	B	C
11	A	B	C
12	A	B	C

## MATEMATİK

1	A	B	C
2	A	B	C
3	A	B	C
4	A	B	C
5	A	B	C
6	A	B	C
7	A	B	C
8	A	B	C
9	A	B	C
10	A	B	C
11	A	B	C
12	A	B	C
13	A	B	C

## HAYAT BİLGİSİ

1	A	B	C
2	A	B	C
3	A	B	C
4	A	B	C
5	A	B	C
6	A	B	C
7	A	B	C
8	A	B	C
9	A	B	C
10	A	B	C

## FEN BİLİMLERİ

1	A	B	C
2	A	B	C
3	A	B	C
4	A	B	C
5	A	B	C
6	A	B	C
7	A	B	C
8	A	B	C
9	A	B	C
10	A	B	C

## İNGİLİZCE

1	A	B	C
2	A	B	C
3	A	B	C
4	A	B	C
5	A	B	C