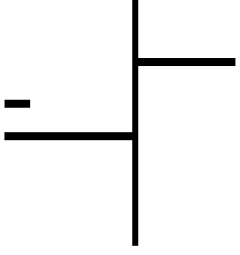


Ad:.....

Soyad:.....



# BÖLME İŞLEMİ

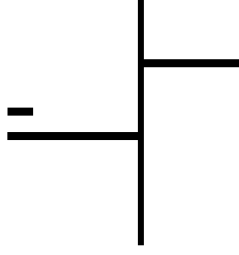


BÖLÜNEN: 67

BÖLEN: 2

BÖLÜM:

KALAN:

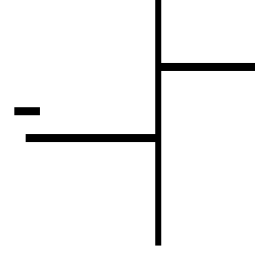


BÖLÜNEN: 88

BÖLEN: 7

BÖLÜM:

KALAN:

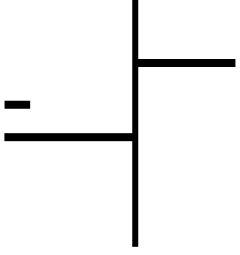


BÖLÜNEN: 90

BÖLEN: 10

BÖLÜM:

KALAN:

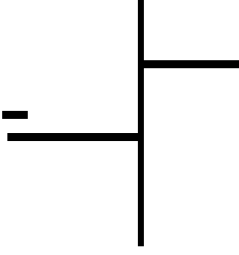


BÖLÜNEN: 78

BÖLEN: 3

BÖLÜM:

KALAN:

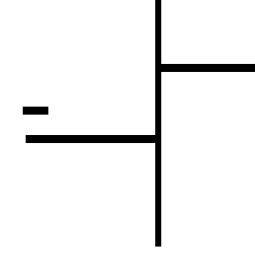


BÖLÜNEN: 94

BÖLEN: 4

BÖLÜM:

KALAN:

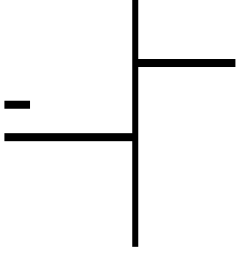


BÖLÜNEN: 49

BÖLEN: 5

BÖLÜM:

KALAN:

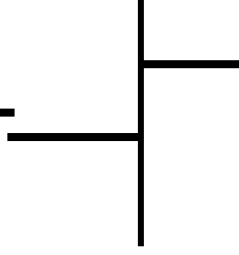


BÖLÜNEN: 45

BÖLEN: 3

BÖLÜM:

KALAN:

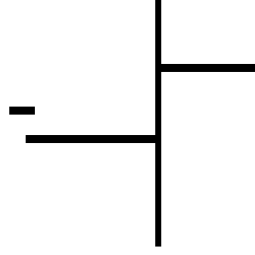


BÖLÜNEN: 98

BÖLEN: 6

BÖLÜM:

KALAN:

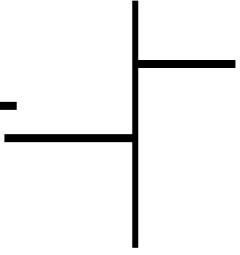


BÖLÜNEN: 68

BÖLEN: 6

BÖLÜM:

KALAN:

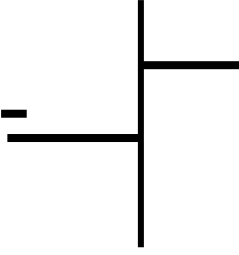


BÖLÜNEN: 28

BÖLEN: 4

BÖLÜM:

KALAN:

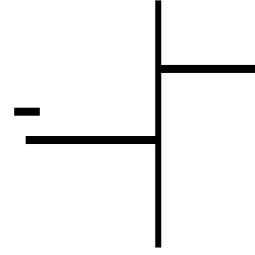


BÖLÜNEN: 52

BÖLEN: 8

BÖLÜM:

KALAN:

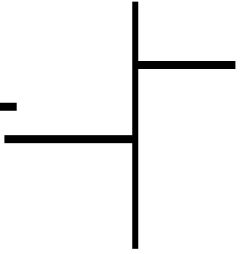


BÖLÜNEN: 97

BÖLEN: 9

BÖLÜM:

KALAN:

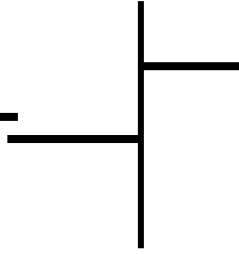


BÖLÜNEN: 80

BÖLEN: 10

BÖLÜM:

KALAN:

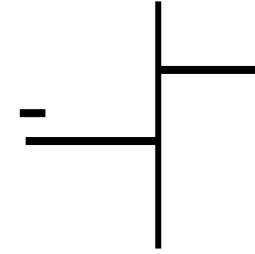


BÖLÜNEN: 70

BÖLEN: 10

BÖLÜM:

KALAN:

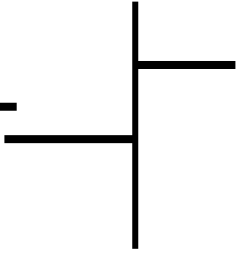


BÖLÜNEN: 30

BÖLEN: 10

BÖLÜM:

KALAN:

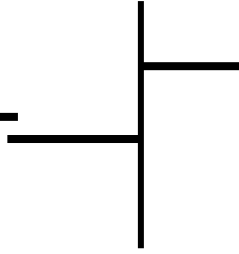


BÖLÜNEN: 90

BÖLEN: 9

BÖLÜM:

KALAN:



BÖLÜNEN: 50

BÖLEN:

BÖLÜM:

KALAN:

TARIK TOPLU



Ad:.....

Soyad:.....



# BÖLME PROBLEMLERİ

1.)



Bir kırtasiyede kurşun kalemler 5 liradan satılmaktadır. **Emir Ali aldığı kalemler için 95 lira ödediğine göre kaç kalem almıştır?**

2.)

Ömer 42 tane olan misketlerini, her birine eşit dağılacak şekilde 3 arkadaşına paylaşıyor. **Ömer'in her bir arkadaşına kaç tane misket düşer ?**

3.)

Tarik öğretmen 39 öğrencisiyle bir oyun oynamak için öğrencilerinden 3 lider seçti ve geri kalan öğrencileri 9 eşit gruba ayırdı. **Buna göre her bir grupta kaç kişi olur?**

4.)

Sevde, tanesi 3 liradan bir miktar ekmek almıştır. Aldığı ekmekler için fırıncıya 80 lira vermiştir. Fırıncı para üstü olarak 8 lira vermiştir. **Buna göre Sevde kaç ekmek almıştır?**

5.)

Bir öğretmen ödevlerini eksiksiz yapan öğrencilerine şeker dağıtacaktır. Öğretmen ödevlerini eksiksiz yapan öğrencilerine, aldığı 63 şekerini eşit bir şekilde dağıtmıştır. **Her bir öğrencisine 3 tane şeker düştüğüne göre ödevini eksiksiz yapan öğrenci sayısı kaçtır?**

6.)

Kitap okumayı çok seven Adem her ay 7 kitap bitirmektedir.. **Buna göre Adem 84 kitabı kaç ayda bitirir?**



7.)

İnci ve 3 arkadaşı sinemaya gitmişlerdir. Sinema biletleri için 90 lira vermişlerdir. Para üstü olarak 15 lira geri almışlardır. **Buna göre Adem bir bilet ücreti kaç liradır?**

8.)



Bir çiftçi tarlasından topladığı 124 kg çileğin 40 kilogramını ailesine vermiştir. Geri kalanın ise kilogramını 6 liradan satmıştır. **Buna göre bu çiftçi çilek satışından kaç lira kazanmıştır?**

TARİK TOPLU

9.)

Kalem, silgi ve kalem açacağı fiyatları tablodaki gibidir.

Kalem	8 TL
Silgi	4 TL
Kalem Açacağı	5 TL

Kendinur 1 tane kalem açacağı , 2 tane silgi ve bir miktar atkı almıştır. Kendinur'un aldığı 53 TL tutmuştur. **Buna göre Kendinur kaç tane kalem almıştır?**

