

2022-2023 EĞİTİM-ÖĞRETİM YILI İLKOKULU
SOSYAL BİLGİLER 2. DÖNEM 1. YAZILI SINAV SORULARI

Adı Soyadı:..... Okul No:..... Puan:

A. Aşağıda verilen bilgilerden doğru olanların başına “D”, yanlış olanlara ise “Y” harfi koyunuz.

- (.....) TSE damgası, üzerinde bulunduğu ürünün kaliteli olduğunu gösterir.
(.....) Eğer giderlerimiz gelirlerimizden daha çok olursa bütçemize uygun hareket etmiş oluruz.
(.....) İsteklerimizden önce ihtiyaçlarımızı göz önünde bulundurmak daha doğrudur.
(.....) Tasarruf yaparak hem aile hem de yurt ekonomisine katkıda bulunuruz.
(.....) Temel ihtiyaçlar kişiden kişiye değişir.
(.....) Bütçe hazırlarken isteklerimize öncelik vermeliyiz
(.....) Fiziki haritalarda yeşil renk doğal bitki örtüsünü gösterir.
(.....) Bilim insanları, istedikleri hedefe ulaşmak için planlı ve kararlı bir şekilde çalışır.
(.....) Deprem sırasında cam ya da balkondan hemen atlanmalıdır.

B. Aşağıdaki cümleleri verilen kelimelerden uygun olanları ile tamamlayınız. (9 x 1 = 9 Puan)

beşeri - Tüketiciyi Koruma Derneği'ne - bütçe - TSE - Edison -
Okul Müdürüne - son kullanma tarihini - doğal - çığ - Kazım Karabekir - kuzeyi -
112 - Graham Bell - çiftçilik - heyelan - garanti belgesinin - güneyi




1. Satın aldığımız bir gıda ürününün kontrol etmeliyiz.
2. Satın aldığımız bir ürünle ilgili şikayetlerimiz
için.....başvurmaliyiz.
3. Çevremizdeki fabrikalar, köprüler, binalar unsurlardır.
4. Buzdolabı, televizyon gibi dayanıklı ürünler aldığımızda mutlaka
olmasına dikkat etmeliyiz.
5. Belirli bir süre için planlanan, gelir ve giderlerin tümünedenir.
6. Doğu Cephesi komutanı'dir.
7. Kullandığımız ampulü icat etmiştir.
8. Pusulanın renkli ucu daima gösterir.
9. Dik yamaçlara biriken kar kütesinin düşmesi sonucumeydana gelir.

C. Aşağıdaki verilen kutucuklara kullanım alanlarına uygun teknolojik ürünlerden üçer tane yazınız.

(12 x 1 = 12 Puan)	
Eğitim	Ulaşım
1-	1-
2-	2-
3-	3-
İletişim	Sağlık
1-	1-
2-	2-
3-	3-

D. Aşağıdaki ifadelerde verilen numaralarla görselleri eşleştiriniz. (4 x 1,5 = 6 P)

- 1) Ürünlerin Türkiye'de üretildiğini ifade eder.
- 2) Ürünün ambalajının geri dönüştürülebileceğini ifade eder.
- 3) Ürünün kontrol edildiğini ifade eder.
- 4) Ürünün veya hizmetin belirlenen ihtiyacı karşıladığını anlamını taşır



- 1- * Ürünlerin tüketiciye sunulmak üzere ilgili mağazalara götürülmesidir.
* Toplumun ihtiyacı olan ürünleri sağlamak üzere yapılan çalışmadır.
* Ürünün satın alınması işlemidir.

Yukarıda verilen tanımlar sırasıyla hangisine aittir?

- A) Üretim - tüketim – dağıtım
B) Tüketim – dağıtım – üretim
C) Dağıtım - tüketim – üretim
D) Dağıtım - üretim – tüketim

2- **Aşağıdakilerden hangisi deprem öncesinde yapılması gerekenlerden değildir?**

- A) Binaların sağlam yapılması
B) Binadan hemen çıkılması
C) Deprem çantası hazırlanması
D) Deprem tatbikatları yapılması

3- **Aşağıdakilerden hangisi teknolojik ürünlerin doğru kullanılmaması nedeniyle ortaya çıkabilecek sorunlardan değildir?**

- A) Ses kirliliği B) Çevre kirliliği
C) Depremler ve sel D) Işık kirliliği

4- **İnsanların daha önce olmayan bir şeyi ilk kez yapmalarına ne denir?**

- A) Teknoloji B) Alet C) İcat D) Evcilleştirme

5- **Aşağıdaki ürünlerden hangisinin garanti belgesi olmaz?**

- A) Çamaşır makinesi B) Simit
C) Ütü D) Bilgisayar

6- **Aşağıdaki buluşlardan hangisi diğerlerinden önce yapılmıştır?**

- A) ampul B) teleskop
C) matbaa D) tekerlek

7- **Ahmet, mağazadan aldığı ayakkabının iki gün sonra bazı yerlerinde yırtılma olduğunu görmüştür. Bu durumda Ahmet'in öncelikle ne yapması gerekir?**

- A) Mağazayı Tüketici Hakem Heyetine şikâyet etmelidir
B) Ayakkabısını, ayakkabı tamircisine götürmelidir
C) Ayakkabısını, faturasıyla birlikte mağazaya götürmelidir
D) Ayakkabısını giymeye devam etmelidir.

8- **Aşağıdakilerden hangisi bir hava olayı değildir?**

- A) Yağmur B) Deprem C) Sis D) Kar

9- **Tarım ve hayvancılık sektöründe çalışan Hasan Bey'in mesleği aşağıdakilerden hangisi olamaz?**

- A) Çiftçi B) Ziraat Mühendisi
C) Gıda Mühendisi D) Mimar

10- **Aşağıdaki eşleştirmelerden hangisi yanlıştır?**

<u>Ham Madde</u>	<u>Ürün</u>
A) Pamuk	Pantolon
B) Buğday	Makarna
C) Deri	Ceket
D) Ahşap	Tencere

11- **Bilinçli bir tüketici aşağıdakilerden hangisini yapmaz?**

- A) Aldığı mal bozuk çıktıysa çöpe atar
B) Alışveriş sonunda fiş veya fatura alır
C) Aldığı ürünün son kullanma tarihine bakar
D) TSE damgası olan ürünü alır

12- **Hayatımızda önemli yer tutan icatlar için aşağıdakilerden hangisi söylenemez?**

- A) Farklı bilim insanları tarafından geliştirilmiştir.
B) Değiştirilmeden, ilk haliyle kullanılmaktadır.
C) Başka buluşlara ortam yaratmıştır.
D) İşleri kolaylaştırmıştır

13- **"Teknolojik ürünler yaşadığımız yerin özelliklerine göre farklılaşmıştır." Buna göre Denizli'de hangisine daha az ihtiyaç duyulur?**

- A) Uçak B) Tren C) Vapur D) Otobüs

14- **Esma'nın ailesi, bilinçli bir tüketicinin yapması gereken hassasiyeti göstererek alışverişlerini yapmaktadır. Buna göre, Esma'nın ailesi alışveriş yaparken aşağıdakilerden hangisine dikkat etmektedir?**

- A) Ambalaj renklerine
B) Marketin büyüklüğüne
C) Ürünün sergilendiği raflara
D) Ürünün aile bütçesine uygunluğuna

15- **Orçun : "TSE damgası taşıyor."**

Efe : " Satıcı iki yıl garantisi olduğunu söyledi.

Ali: "Fiyatı benzer ürünlere göre daha ucuz."

Veli : " Televizyonda çok güzel reklamı vardı."

Yukarıdaki arkadaşlar fotoğraf makinesi hakkında konuşuyorlar. Hangisinin sözü ürünü almak için önemli olamaz?

- A) Orçun B) Efe C) Ali D) Veli

16- **"Bazı mesleklerde ürün elde edilmez, fakat yapılan bir hizmet vardır." Bu açıklamaya göre hangi seçenekteki meslekte hizmete dayalı bir ekonomik faaliyet vardır.**

- A) Çiftçi B) Doktor C) Marangoz D) Madenci