

2022-2023 EĞİTİM-ÖĞRETİM YILI ..... İLKOKULU  
MATEMATİK 2. DÖNEM 1. YAZILI SINAV SORULARI

Adı Soyadı:.....

Okul No:.....

Puan: .....

1) Aşağıda verilen işlemleri yapınız. (10P)

$$\begin{array}{r} 467 \\ + 531 \\ \hline \end{array}$$

$$\begin{array}{r} 8466 \\ + 5245 \\ \hline \end{array}$$

$$\begin{array}{r} 589 \\ - 345 \\ \hline \end{array}$$

$$\begin{array}{r} 6293 \\ - 3458 \\ \hline \end{array}$$

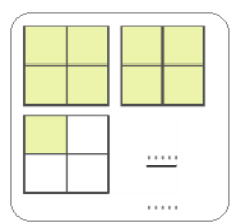
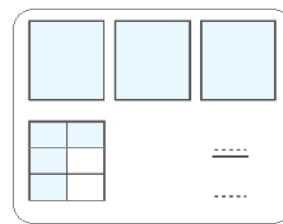
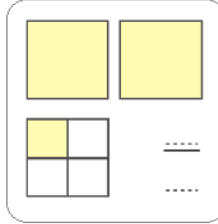
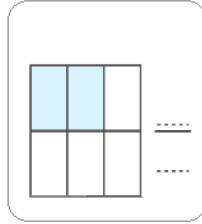
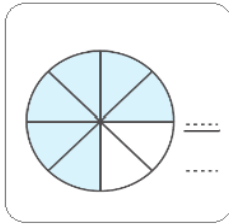
2) Aşağıda verilen işlemlerini yaparak tabloda boş bırakılan yerleri doldurunuz. (10P)

$$\begin{array}{r} 529 \\ \times 5 \\ \hline \end{array}$$

127	3	Bölünen	
-		Bölen	
		Bölüm	
		Kalan	

$$\begin{array}{r} 275 \\ \times 12 \\ \hline \end{array}$$

3) Aşağıdaki kesirleri yazınız. (10P)



4) Aşağıdaki kesirlerde toplama ve çıkarma işlemlerini yapınız. (11P)

$$\frac{8}{14} - \frac{5}{14} = \frac{\quad}{\quad}$$

$$\frac{17}{20} - \frac{5}{20} = \frac{\quad}{\quad}$$

$$\frac{7}{8} - \frac{2}{8} = \frac{\quad}{\quad}$$

$$\frac{8}{9} - \frac{7}{9} = \frac{\quad}{\quad}$$

$$\frac{5}{5} - \frac{3}{5} = \frac{\quad}{\quad}$$

$$\frac{7}{9} + \frac{1}{9} = \frac{\quad}{\quad}$$

$$\frac{9}{18} + \frac{5}{18} = \frac{\quad}{\quad}$$

$$\frac{8}{20} + \frac{5}{20} = \frac{\quad}{\quad}$$

$$\frac{14}{23} + \frac{7}{23} = \frac{\quad}{\quad}$$

$$\frac{4}{10} + \frac{2}{10} = \frac{\quad}{\quad}$$

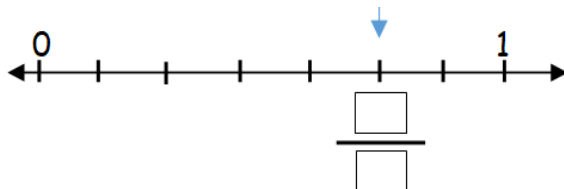
$$\frac{3}{12} + \frac{2}{12} = \frac{\quad}{\quad}$$

5) Aşağıdaki kesirleri küçükten büyüğe sembol kullanarak sıralayınız. (10P)

$$\frac{2}{4}, \frac{5}{4}, \frac{4}{4}, \frac{8}{4} \dots\dots\dots$$

$$\frac{4}{3}, \frac{4}{2}, \frac{4}{5}, \frac{4}{4} \dots\dots\dots$$

6) Aşağıdaki sayı doğrusuyla gösterilen kesri yazınız? (7P)



7) Aşağıdaki zaman birimlerinin dönüşümünü yapınız. (10P)

2 ay = ..... gündür.

1 yıl= ..... haftadır.

3 hafta= ..... gündür.

1 gün= .....saattir.

1 yıl= ..... aydır.

1 saat = ..... dakikadır.

1 dakika= .....saniyedir.

3 saat= ..... dakikadır.

1 ay= ..... haftadır.

3 ay= .....gündür.

8) Tabloyu uygun şekilde dolduralım. (8P)

Sayılar	En yakın onluk	En yakın yüzlük
238		
1933		

9) Aşağıda verilen bölme ve çarpma işlemlerini kısa yoldan yapınız. (8P)

$2500 \div 10 = \dots\dots\dots$

$72 \times 1000 = \dots\dots\dots$

$60\,000 \div 100 = \dots\dots\dots$

$542 \times 10 = \dots\dots\dots$

$45\,000 \div 1000 = \dots\dots\dots$

$63 \times 100 = \dots\dots\dots$

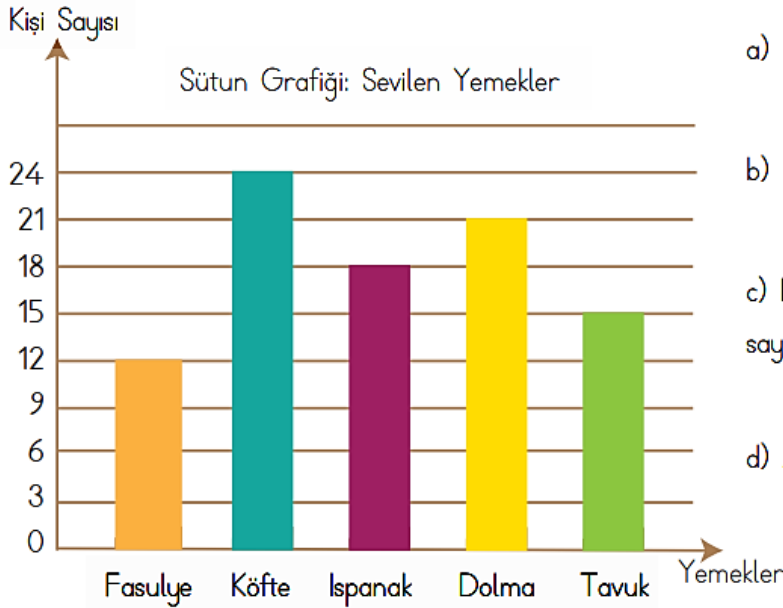
$6200 \div 100 = \dots\dots\dots$

$812 \times 10 = \dots\dots\dots$

10) Semih, arkadaşlarına sevdikleri yemeklerle ilgili bir anket hazırlamıştır.

Anket sonuçlarına göre oluşturulan grafik üzerinden soruları yanıtlayınız.

(8P)



a) En çok sevilen yemek hangisidir?

b) En az sevilen yemek hangisidir?

c) Köfte sevenlerin sayısı, tavuk sevenlerin sayısından kaç kişi fazladır?

d) Ankete toplam kaç kişi katılmıştır?

11) 60 litre yağı 3 litrelik şişelere koymak istersek kaç tane şişe gerekir? (4P)

A) 19

B) 20

C) 21

D) 22

12) Saat 12.00'da yatan bir bebek, 18.00 da uyanıyor. Bu bebek kaç saat uyumuştur? (4P)

A) 8 saat

B) 7 saat

C) 5 saat

D) 6 saat