

Adı Soyadı:.....

Okul No:.....

Puan:

Aşağıdaki işlemleri yapınız. $4 \times 4 = 16$ puan

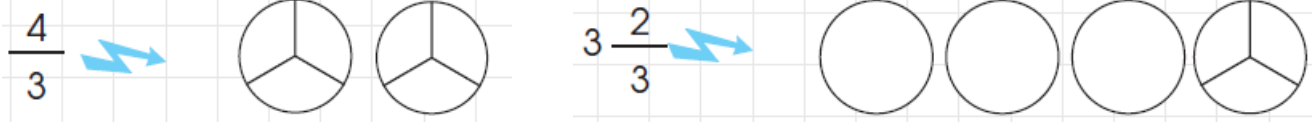
$$\begin{array}{r} 2576 \\ + 1464 \\ \hline \end{array}$$

$$\begin{array}{r} 7100 \\ - 1505 \\ \hline \end{array}$$

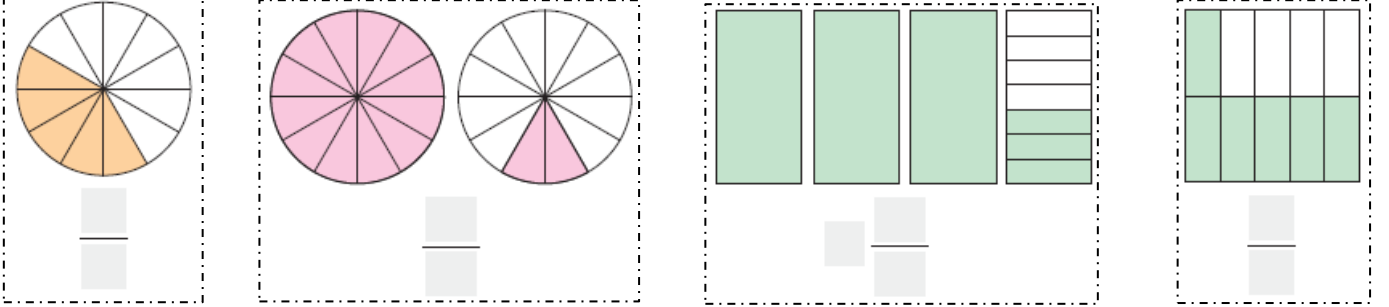
$$\begin{array}{r} 267 \\ \times 58 \\ \hline \end{array}$$

$$\begin{array}{r} 632 \overline{) 8} \\ \hline \end{array}$$

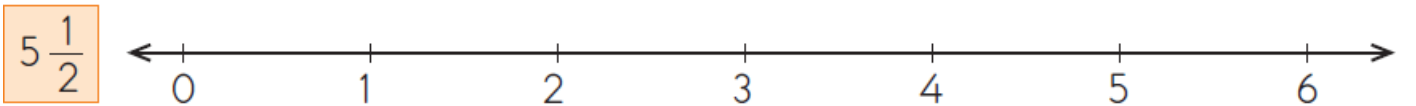

1. Aşağıda verilen şekilleri belirtilen kesir kadarını boyayınız. $2 \times 3 = 6$ puan



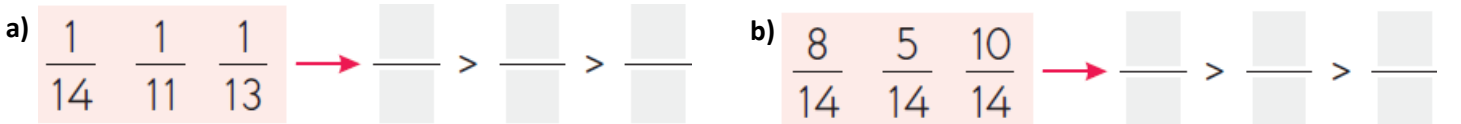
2. Aşağıdaki şekillerin boyalı kısmına karşılık gelen kesirleri yazınız. $4 \times 2 = 8$ puan



3. Aşağıdaki sirlere sayı doğrusunda gösteriniz. ($3 \times 2 = 6$ puan)



4. Aşağıda verilen kesirleri büyükten küçüğe doğru sıralayınız. ($2 \times 3 = 6$ puan)



5. Aşağıda verilen kesir işlemlerini yapınız. ($2 \times 3 = 6$ puan)

a) $\frac{8}{6} + \frac{2}{6} + \frac{7}{6} = \frac{\quad}{\quad}$ b) $4\frac{3}{10} + 4\frac{5}{10} = \frac{\quad}{\quad}$ c) $4\frac{7}{9} - 2\frac{1}{9} = \frac{\quad}{\quad}$

<p>7. Ayşe Hanım'ın 720 ₺ parası vardı. Ayşe Hanım parasının $\frac{3}{4}$'ü ile elektrik süpürgesi aldı. Ayşe Hanım'ın geriye kaç TL parası kalmıştır? (6 puan)</p>	<p>8. Kumbaramda çıkan paranın $\frac{2}{7}$'si 32 ₺'dir. Buna göre kumbaramdaki paranın tamamı kaç ₺'dir? (6 puan)</p>
<p>9. Simge parasının $\frac{3}{9}$'ü ile dondurma, $\frac{2}{9}$'si ile de çikolata aldı. Simge'nin geriye parasının <u>kaçta kaç</u>ı kalmıştır? (6 puan)</p>	<p>10. 20.35'te başlayan bir film 1 saat 45 dakika sürmüştür. Buna göre film saat kaçta bitmiştir? (6 puan)</p>

11. Aşağıdaki zaman ölçüm birimleri arasındaki dönüşümleri yapınız? (6x2=12 puan)

9 dakika=saniye

210 dakika=.....saat dakika

1 yıl=.....ay

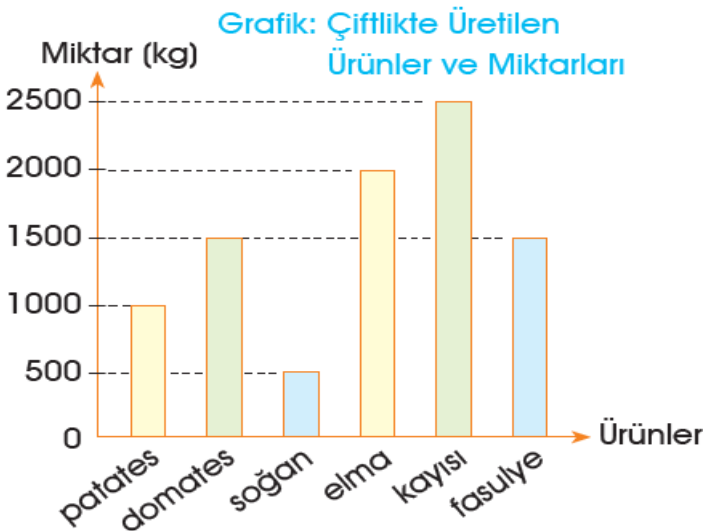
100 dakika=saat Dakika

150 saniye=.....dakika saniye

1 yıl=.....hafta

12. Akşam saat 21.30'da uyuyan Ezgi saat 8.00'da uyanıyor. Buna göre Ezgi toplam kaç saat uyumuştur? (7 puan)

(3x3=9 puan)



13. Yandaki grafiğe göre en çok satılan ürün hangisidir?.....

14. En çok satılan ürün ile en az satılan ürün arasındaki fark kaçtır?

.....

15. Sebze üretimi meyve üretiminden kaç kg fazladır.