

2022-2023 EĞİTİM-ÖĞRETİM YILI İLKOKULU
MATEMATİK 2. DÖNEM 1. YAZILI SINAV SORULARI

Adı Soyadı:..... Okul No:..... Puan:

1- Aşağıdaki işlemleri yapınız. (8x3=24 p)

$$\begin{array}{r} 4508 \\ + 2457 \\ \hline \end{array}$$

$$\begin{array}{r} 2152 \\ + 7684 \\ \hline \end{array}$$

$$\begin{array}{r} 7596 \\ - 1284 \\ \hline \end{array}$$

$$\begin{array}{r} 6300 \\ - 2783 \\ \hline \end{array}$$

$$\begin{array}{r} 257 \\ \times 4 \\ \hline \end{array}$$

$$\begin{array}{r} 49 \\ \times 38 \\ \hline \end{array}$$

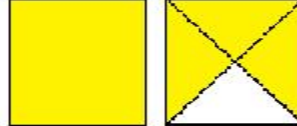
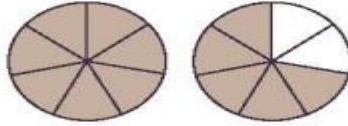
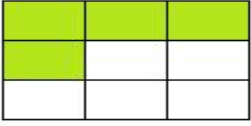
$$\begin{array}{r} 296 \overline{) 4} \\ \hline \end{array}$$

$$\begin{array}{r} 840 \overline{) 6} \\ \hline \end{array}$$

2- $\triangle \div 5 = 24 \div 3$ eşitliğinin doğru olması için \triangle yerine hangi sayı yazılmalıdır?
(6 puan)

3- $\frac{4}{10}$ kesrini sayı doğrusunda gösteriniz. (6 puan)

4- Aşağıda verilen modellerdeki boyalı kesirleri yazınız. (3x3=9 p)



5- $\frac{2}{8}, \frac{7}{8}, \frac{1}{8}, \frac{4}{8}$ basit kesirleri sembol kullanarak **küçükten büyüğe** doğru sıralayınız. (5 puan)

6- $\frac{4}{5}, \frac{2}{5}, \frac{1}{5}, \frac{3}{5}$ basit kesirleri sembol kullanarak **büyükten büyüğe** doğru sıralayınız. (5 puan)

7- $\frac{2}{8}$ kesrini şekille gösteriniz. (5 puan)

8- Aşağıda verilen kesirlerle toplama ve çıkarma işlemlerini yapınız. (5 puan)

$$\frac{2}{9} + \frac{4}{9} =$$

$$3\frac{5}{7} + 2\frac{2}{7} =$$

$$\frac{8}{12} - \frac{4}{12} =$$

$$5\frac{6}{8} - 3\frac{1}{8} =$$

9- Okulumuzun izcilik kulübündeki 84 kişinin $\frac{2}{7}$ 'si kampa gidecektir. Kampa kaç kişinin gideceğini bulunuz. (5 puan)

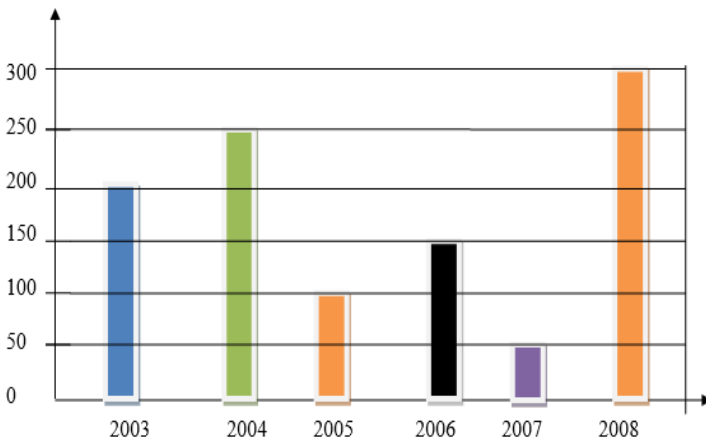
10- Aşağıda verilen dönüşümleri yapınız. (10 puan)

- 2 saat 30 dakika = dakika
- 240 saniye =dakika
- 3 dakika 20 saniye =saniye
- 130 gün =aygün
- 4 hafta =gün

11- Okulundan saat 15.20'de çıkan Aslı, saat 15.45'te evine varmıştır. Aslı okuldan eve kaç saniyede gitmiştir? (5 puan)

12-

Üretilen Fındık Miktarı
(ton)



Yandaki grafiğe göre:

- 1.En çok fındık hangi yıl üretilmiştir?
.....
2. 2004 ve 2005 yıllarında toplam kaç ton fındık üretilmiştir?
.....
- 3.En az fındık hangi yıl üretilmiştir?
.....
- 4.Tüm yılların toplamında kaç ton fındık üretilmiştir?
.....
- 5.En az fındık üretilen yıl ile en çok fındık üretilen yıl arasında kaç ton fark vardır?
.....

(Her soru 3 puandır.)