



3.SINIF



23. HAFTA KAZANIM DEĞERLENDİRME

Adın Soyadın:

Ankara, Türkiye'nin başkenti ve İstanbul'dan sonra en kalabalık ikinci ilidir. Ankara'nın 13 Ekim 1923'te başkent ilan edilmesinin ardından şehir hızla gelişmiştir. Ankara'nın 25 ilçesi ve bu ilçelere bağlı 1425 mahallesi bulunmaktadır.

Yüksek dağlarla kuşatılan ilde kışları soğuk, yazları kurak geçen bir iklim görülür. En fazla yağışı ilkbahar mevsiminde alır. En sıcak ay temmuz-ağustos, en soğuk ay ise ocak ayıdır.

İlk 3 soruyu metne göre cevaplayınız.

1. Ankara'da en fazla yağış hangi mevsimde görülür ?

- A. Kış
- B. İlkbahar
- C. Sonbahar

2. Türkiye'nin en kalabalık ili neresidir ?

- A. Ankara
- B. İzmir
- C. İstanbul

3. Ankara ne zaman başkent olmuştur?

- A. 23 Nisan 1920
- B. 29 Ekim 1923
- C. 13 Ekim 1923

4. "Ağlamak" kelimesinin zıt anlamlısı aşağıdakilerden hangisidir?

- A. ağlamamak
- B. gülmek
- C. kederlenmek

5. Aşağıdaki cümlelerin hangisinde olay ikinci kez gerçekleşecektir?

- A. Bugün parka gideceğiz.
- B. Geçen hafta da oyuncak aldık.
- C. İftar yemeğinde yine dışarıda olacağız.

6. Öykü'nün 48 tokası vardır. Tokalarının $\frac{1}{4}$ inin rengi sarıdır. Buna göre Öykü'nün kaç tane sarı tokası vardır?

- A. 8
- B. 12
- C. 24

7. Yan tarafta verilen saatin öğleden sonra okunuşu hangi seçenekte verilmiştir?

- A. 15.00
- B. 13.00
- C. 03.00



8. ? Elma



Yukarıdaki anlatıma göre '?' olan yere hangi sayı yazılmalıdır?

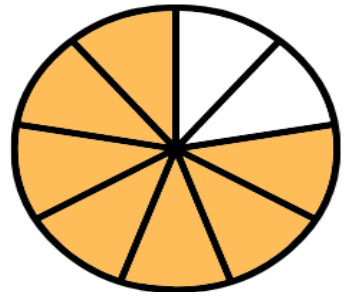
- A. 3
- B. 12
- C. 15

9. 21 boya kalemim $\frac{1}{3}$ ünü kaybettim kaç boya kalemim kaldı?

- A. 14
- B. 7
- C. 3

10. Aşağıda gösterilen kesir aşağıdakilerden hangisidir?

- A. $\frac{4}{7}$
- B. $\frac{7}{9}$
- C. $\frac{7}{8}$




11. Aşağıdaki seslerden hangisi insanlar tarafından duyulmaz?

- A. Yağmurun sesi
- B. Karıncanın ayak sesleri
- C. Çamaşır makinesinin sesi

12. Ses dalgaları yayıldığı için farklı yerlerden işitilir?

- A. Sağa sola
- B. Arkaya
- C. Her yöne

13. Hangi ışık kaynağı diğerlerinden farklıdır?



14. Rüzgar, gök gürültüsü, insan sesleri kaynaklarıdır?

- A. Doğal ses
- B. Yapay ses
- C. Yapay ışık

15. İşitme kaybı yaşamak istemiyorsak aşağıdakilerden hangisini yapmalıyız?

- A. Çok gürültülü ortamlarda uzun süre kalmalıyız.
- B. Kulaklıkla müzik dinleyerek uyuya kalmalıyız.
- C. Kulaklarımızı şiddetli seslerden korumalıyız.

16. Okula gelirken ve okuldan giderken tanımadığınız bir çocuk sizden zorla para istiyor

Bu durumda ne yapmalısınız?

- A. Onunla kavga ederim.
- B. Öğretmenime haber veririm.
- C. Hemen paramı veririm.

17. Aşağıdakilerden hangisi trafikte karşıya geçmek için güvenli yerlerden biri değildir?


- A. Ana caddeler
- B. Alt ve üst geçitler
- C. Trafik ışıklarının bulunduğu yerler

18. Kayıkla kayan bir çocuk aşağıdakilerden hangisini yapmamalıdır?

- A. Kask takmalıdır.
- B. Hız yapmalıdır.
- C. Dizlik ve dirseklik takmalıdır.

19. Trafik kazalarından korunmak için aşağıdakilerden hangisini yapmamalıyız?

- A. Yaya kaldırımlarını kullanmak.
- B. Trafik işaretlerine uymak.
- C. Aceleci davranmalıyız.



20. Yukarıda ok ile gösterilen yere ne ad verilir?

- A. Trafik lambası
- B. Yaya geçidi
- C. Yürüyüş yolu