

Adı Soyadı:

3. SINIF



Not:

27. HAFTA KAZANIM DEĞERLENDİRME

Mete sabah erkenden kalkmış, ödevinin başına oturmuştu. Ödevinin konusu uzay ile ilgiliydi. Mete uzayı hep merak eder, uzay ile ilgili araştırmalar yapardı. En merak ettiği şey de uzayda yaşamın olup olmadığıydı.



Mete internetten yaptığı araştırmanın sonuçlarını defterine yazarken babası seslendi. Bugün pazardı ve babası ile parka gideceklerdi. Mete ödevini bitirip hızlıca hazırlandı ve babası ile parka gittiler. Orada arkadaşları ile yine uzay ve gezegenler hakkında konuştu. Ne dersiniz, sizce uzayda yaşam var mıydı?

İlk 3 soru metne göre cevaplandırılacaktır.

1. Mete'nin en merak ettiği şey neymiş?

- A) Dünya'nın hareketleri
- B) Araştırma ödevleri
- C) Uzayda yaşamın olup olmadığı

2. Metinde olay hangi günde geçmektedir?

- A) cumartesi
- B) pazar
- C) çarşamba

3. Mete babası ile nereye gitmiş?

- A) Alışverişe
- B) Parka
- C) Sinemaya

4. Aşağıdaki atasözlerinden hangisi "İnsanlar sinirli anda hatalı davranabilir, bunun bedelini de ağır öder." anlamındadır?

- A) Öfke ile kalkan zararlar oturur.
- B) Aç ayı oynamaz.
- C) Kelin ilacı olsa başına sürer.

5. Aşağıdaki atasözlerinden hangisi diğerlerinden farklı anlamdadır?

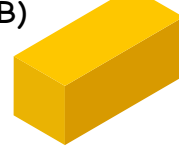
- A) Balık baştan kokar.
- B) Bir elin nesi var, iki elin sesi var.
- C) Birlikten kuvvet doğar.

6. Aşağıdaki geometrik cisimlerden hangisinin yüz sayısı diğerlerinden farklıdır?

A)



B)



C)



7. Aşağıdaki cisimlerden hangisinin köşesi ve ayrıtı yoktur?

A) küp

B) silindir

C) dikdörtgen prizma

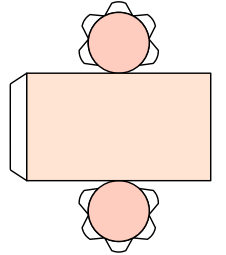
8. Aşağıdakilerden hangisi yan tarafta verilen geometrik cismin özelliklerinden biri değildir?

- A) 8 köşesi vardır.
- B) 8 ayrıtı vardır.
- C) 6 yüzü vardır.



9. Yan tarafta açılımı verilen geometrik cisim aşağıdakilerden hangisidir?


- A) silindir
- B) küre
- C) koni



DİKKAT SORUSU

10. Mehmet, aşağıdaki izometrik kağıtta belirtilen noktaları birleştirerek bir şekil oluşturuyor. Bu şeklin adı nedir?

- A) beşgen
- B) altıgen
- C) sekizgen



11. Aşağıdaki seçeneklerden hangisinde öğrenci olarak bizlerin sorumluluklarından biri ifade edilmiştir?

- A) Evin boya badana işlerini yapmak.
- B) Derslerimize çalışıp ödevlerimizi yapmak.
- C) Bir işte çalışıp para kazanmak.

12. "Kişilerin ülkesine karşı yerine getirmesi gereken görev ve sorumluluklarına denir." cümlesinde boş bırakılan yere hangisi getirilmelidir?

- A) vatandaşlık görevi
- B) kişisel bakım
- C) fiziksel özellik

13. Verilen ifadelerden yanlış olan hangisidir?

- A) Kurallara uyulan bir toplumda düzen bozulur.
- B) Her vatandaşın ülkesine karşı görev ve sorumlulukları vardır.
- C) Sorumluluk kazanma bilinci ailede başlar.

14.

- I. Okullar
- II. Parklar
- III. Ormanlar
- IV. Piknik alanları

Yukarıdakilerden hangileri ortak kullanım alanlarındandır?

- A) I, II ve IV
- B) II, III ve IV
- C) I, II, III ve IV


15. Ortak kullanım alanlarının temiz tutulmaması sonucu hangi durum yaşanabilir?

- A) Kirlilik sonucu oluşacak mikroplar hastalık saçar.
- B) Susuzluk sonucu kuraklık yaşanır.
- C) İklim değişikliği olur.

16. Aşağıdaki eşleştirmelerden hangisi yanlıştır?

- A) şelale → doğal çevre
- B) çocuk parkı → doğal çevre
- C) köprü → yapay çevre

17. Aşağıdakilerden hangisi dünyamıza, çevremize en çok zarar veren varlıktır?



18. Verilen ifadelerden yanlış olan hangisidir?

- A) Bitmiş pilleri çöpe atmamız.
- B) Çevrenin korunmasından hepimiz sorumluyuz.
- C) Kaynakları bilinçli kullanarak çevreyi koruyabiliriz.



19.

Yukarıda verilen görsel ile ilgili hangisi doğrudur?

- A) Doğal çevreye ait bir unsurdur.
- B) Doğada kendiliğinden oluşmuştur.
- C) Yapay çevreye ait bir unsurdur.

20. Aşağıdaki davranışlardan hangisi doğal çevreye zarar verir?

- A) Ormanda ateş yakmak.
- B) Geri dönüşüm yapmak atık suları arıtmak.
- C) Fabrika bacalarına filtre takmak.

CEVAPLAR

- 1 A B C
- 2 A B C
- 3 A B C
- 4 A B C
- 5 A B C
- 6 A B C
- 7 A B C
- 8 A B C
- 9 A B C
- 10 A B C

- 11 A B C
- 12 A B C
- 13 A B C
- 14 A B C
- 15 A B C
- 16 A B C
- 17 A B C
- 18 A B C
- 19 A B C
- 20 A B C



27. HAFTA KAZANIM DEĞERLENDİRME CEVAP ANAHTARI

1	C
2	B
3	B
4	A
5	A
6	C
7	B
8	B
9	A
10	A

11	B
12	A
13	A
14	C
15	A
16	B
17	A
18	A
19	C
20	A

