

## KESİR KAVRAMI

**Altın Bilgi 1 ° :** Bütünün kaç eş parçaya bölündüğünü gösteren sayıya payda ; eş parçalardan kaç tanesinin alındığını gösteren sayıya ise pay denir.

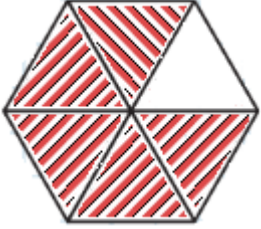
A - Aşağıdaki şekillerin taralı kısmını belirten kesir sayılarını örnekteki gibi yazınız.



1 → Pay  
3 → Payda

Okunuşu : 1 bölü 3 ya da 3 'te 1


Açıklaması : Bir bütün 3 eş parçaya bölünmüş , 1 tanesi alınmış.



..... → Pay  
..... → Payda

Okunuşu : .....

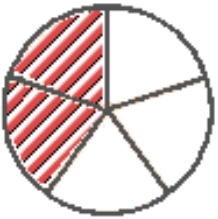
Açıklaması : .....  
.....



..... → Pay  
..... → Payda

Okunuşu : .....


Açıklaması : .....  
.....



..... → Pay  
..... → Payda

Okunuşu : .....

Açıklaması : .....  
.....



..... → Pay  
..... → Payda

Okunuşu : .....

Açıklaması : .....  
.....

## KESİR KAVRAMI

B - Aşağıda verilen kesir sayılarını örnekteki gibi sayı doğrusunda gösteriniz.

