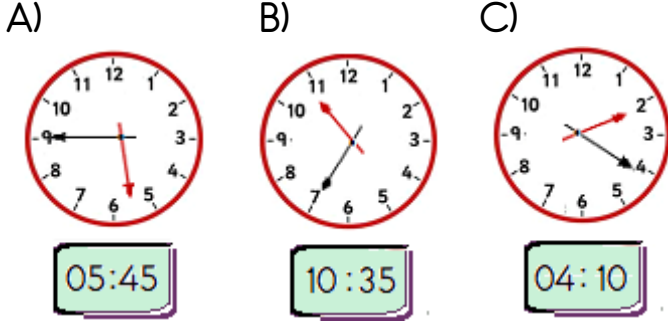


## ZAMAN ÖLÇÜLERİ TESTİ

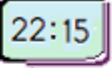
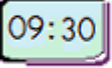

1 - Aşağıdaki analog saatlerin , dijital saatteki karşılıkları altlarına yazılmıştır.

Buna göre , hangi saatin gösterdiği zaman yanlış yazılmıştır?

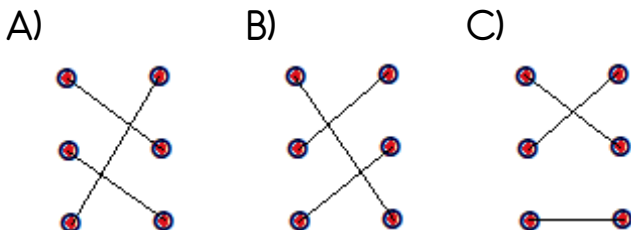


2 - Bir saatin  $\frac{1}{10}$  ' i ile  $\frac{1}{5}$  ' inin toplamı kaç dakikadır ?

A) 12 B) 18 C) 24

3 -  • • Dokuz buçuk  
 • • Bire çeyrek var  
 • • Onu çeyrek geçiyor

Yukarıda verilen dijital saatlerin okunuşlarıyla eşleştirilmesi hangi seçenekte doğru olarak verilmiştir ?



4 - Aşağıdaki eşitliklerden hangisi yanlıştır ?

A) 215 dakika = 3 saat 45 dakika  
 B) 4 saat 35 dakika = 275 dakika  
 C) 325 saniye = 5 dakika 25 saniye

5 - I. Bir buçuk saat 90 dakikadır.

II.  $\frac{1}{4}$  saat 15 dakikadır

III. 6 çeyrek saat 3 yarım saate eşittir.

Yukarıda verilen bilgilerden hangileri doğrudur ?

A) I ve II B) II ve III

C) I , II ve III

6 - Mevlüt 'ün annesi , Mevlüt 'e 80 dakikadır arkadaşlarıyla oynadığını ve eve dönmesi gerektiğini söyledi. Mevlüt eve geldiğinde saat 14.50 'yi gösterdiğine göre oyun oynamaya saat kaçta başlamıştır ?

A) 13.20 B) 13.30 C) 16.10

7 - Bir televizyon dizisi 21.10 'da başladı.  
70 dakikalık dizi arasında 3 defa sekizer  
dakikalık reklam arası verildiğine göre dizi  
saat kaçta bitmiştir ?

- A) 22.44      B) 22.54      C) 23.04

8 - " Hafta sonu izlediğimiz film saat  
17.40 'ta başladı 20.15 'te bitti."

Yukarıdaki ifadeye göre film süresi  
hangi seçenekte doğru verilmiştir ?

- A) 2 saat 25 dakika  
A) 2 saat 35 dakika  
A) 2 saat 55 dakika

9 - Babam yılda 20 iş günü izin  
kullanmakta ve her hafta pazar günü  
evinde dinlenmektedir.

Buna göre babam yılda kaç gün  
çalışmış olur ?

- A) 345      B) 313      C) 293

10 - Her 3 saatte 5 dakika ileri giden  
bir saat günün sonunda kaç dakika ileri  
gitmiş olur ?

- A) 20      B) 30      C) 40

11 - Otobüs durağına  
her 15 dakikada bir  
otobüs gelmektedir.



İlk otobüs saat  
06.45 'te geldiğine  
göre beşinci otobüs saat kaçta gelir ?

- A) 07.30      B) 07.45      C) 08.00

12 - Sınıf arkadaşım Alya 'nın 8 Ağustos  
Salı günü doğum günüydü. 23 Ağustos  
günü de benim doğum günüm.

Buna göre , benim doğum günüm  
hangi güne denk gelmektedir ?

- A) Çarşamba      B) Pazartesi  
C) Perşembe

13 - Ablam , kazandığı burs sayesinde  
1 yıl , 4 ay , 3 hafta süreyle yurt dışında  
staj yaptı.

Buna göre ablam yurt dışında kaç  
gün staj yapmıştır ?

- A) 506      B) 512      C) 521

