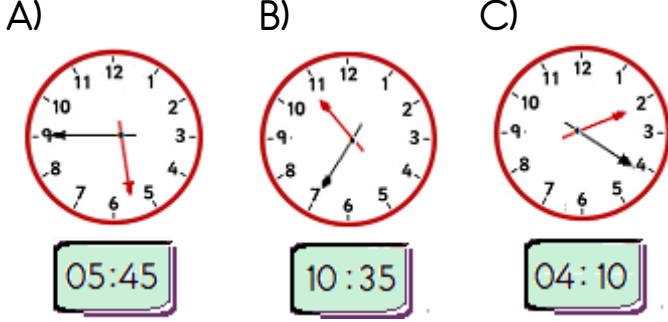


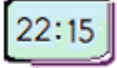
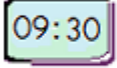

1 - Aşağıdaki analog saatlerin , dijital saatteki karşılıkları altlarına yazılmıştır.

Buna göre , hangi saatin gösterdiği zaman yanlış yazılmıştır?

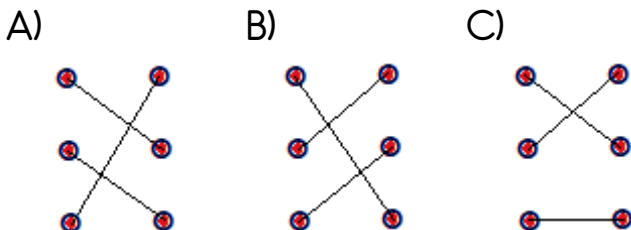


2 - Bir saatin $\frac{1}{10}$ ' i ile $\frac{1}{5}$ ' inin toplamı kaç dakikadır ?

A) 12 B) 18 C) 24

3 -  • • Dokuz buçuk
 • • Bire çeyrek var
 • • Onu çeyrek geçiyor

Yukarıda verilen dijital saatlerin okunuşlarıyla eşleştirilmesi hangi seçenekte doğru olarak verilmiştir ?



4 - Aşağıdaki eşitliklerden hangisi yanlıştır ?

A) 215 dakika = 3 saat 45 dakika
 B) 4 saat 35 dakika = 275 dakika
 C) 325 saniye = 5 dakika 25 saniye

5 - I. Bir buçuk saat 90 dakikadır.

II. $\frac{1}{4}$ saat 15 dakikadır

III. 6 çeyrek saat 3 yarım saate eşittir.

Yukarıda verilen bilgilerden hangileri doğrudur ?

A) I ve II B) II ve III

C) I , II ve III

6 - Mevlüt 'ün annesi , Mevlüt 'e 80 dakikadır arkadaşlarıyla oynadığını ve eve dönmesi gerektiğini söyledi. Mevlüt eve geldiğinde saat 14.50 'yi gösterdiğine göre oyun oynamaya saat kaçta başlamıştır ?

A) 13.20 B) 13.30 C) 16.10

7 - Bir televizyon dizisi 21.10 'da başladı. 70 dakikalık dizi arasında 3 defa sekizer dakikalık reklam arası verildiğine göre dizi saat kaçta bitmiştir ?

- A) 22.44 B) 22.54 C) 23.04

8 - " Hafta sonu izlediğimiz film saat 17.40 'ta başladı 20.15 'te bitti."

Yukarıdaki ifadeye göre film süresi hangi seçenekte doğru verilmiştir ?

- A) 2 saat 25 dakika
A) 2 saat 35 dakika
A) 2 saat 55 dakika

9 - Babam yılda 20 iş günü izin kullanmakta ve her hafta pazar günü evinde dinlenmektedir.

Buna göre babam yılda kaç gün çalışmış olur ?

- A) 345 B) 313 C) 293

10 - Her 3 saatte 5 dakika ileri giden bir saat günün sonunda kaç dakika ileri gitmiş olur ?

- A) 20 B) 30 C) 40

11 - Otobüs durağına her 15 dakikada bir otobüs gelmektedir.

İlk otobüs saat 06.45 'te geldiğine göre beşinci otobüs saat kaçta gelir ?



- A) 07.30 B) 07.45 C) 08.00

12 - Sınıf arkadaşım Alya 'nın 8 Ağustos Salı günü doğum günüydü. 23 Ağustos günü de benim doğum günüm.

Buna göre , benim doğum günüm hangi güne denk gelmektedir ?

- A) Çarşamba B) Pazartesi
C) Perşembe

13 - Ablam , kazandığı burs sayesinde 1 yıl , 4 ay , 3 hafta süreyle yurt dışında staj yaptı.

Buna göre ablam yurt dışında kaç gün staj yapmıştır ?

- A) 506 B) 512 C) 521

