

# 3. SINIFA HAZIRLIK – MATEMATİK

Onluk, Birlik – Deste, Düzine

★ Aşağıda verilen sayıların kaç onluk ve birlikten oluştuğunu yazınız.

17 =

56 =

91 =

70 =

6 =

60 =

63 =

66 =

★ Aşağıda onluk ve birliklerine ayrılmış sayıların kaç olduklarını yazınız.

3 onluk 5 birlik =

8 onluk 2 birlik =

9 onluk =

5 birlik =

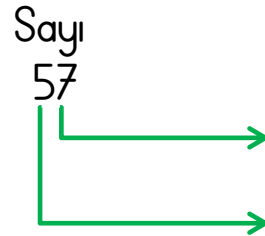
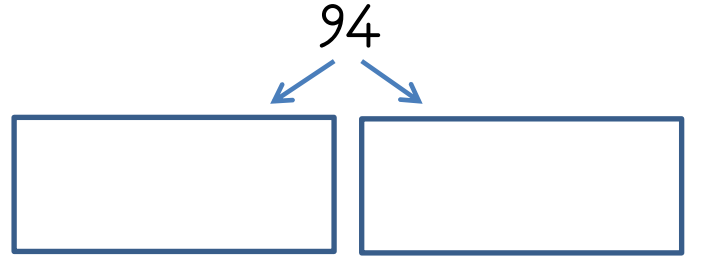
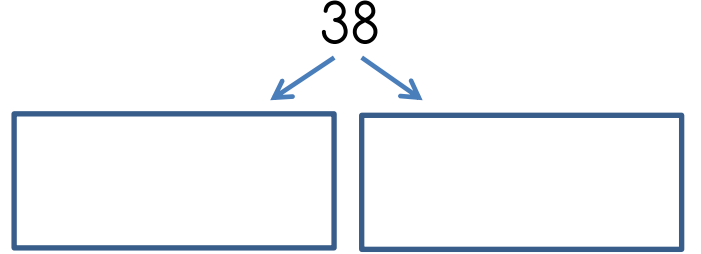
4 onluk 4 birlik =

6 onluk 7 birlik =

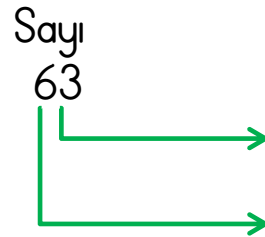
2 onluk 8 birlik =

7 onluk 7 birlik =

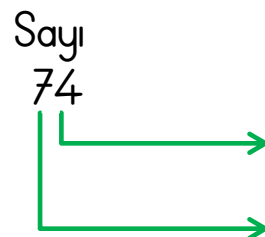
★ Aşağıda verilen sayıların basamak adlarını yazınız.



Basamak Adı

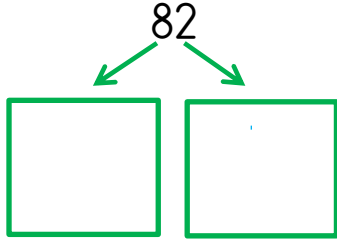
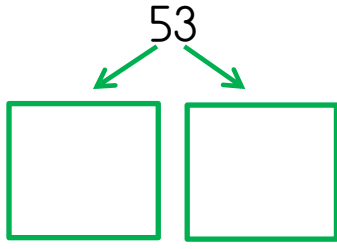


Basamak Adı

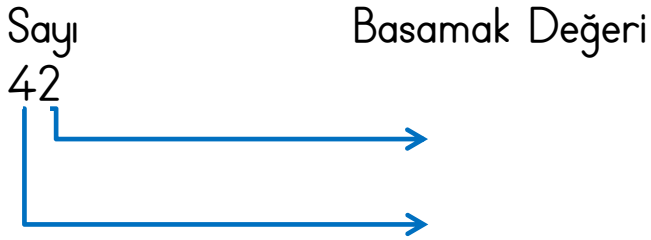


Basamak Adı

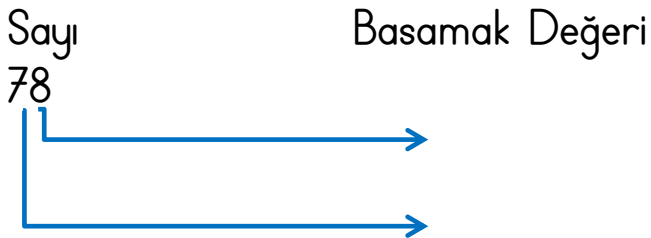
★ Aşağıda verilen sayıların basamak değerlerini yazınız.



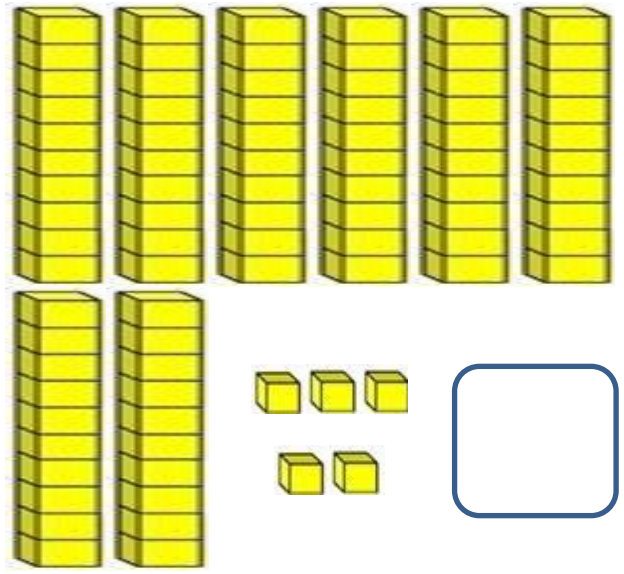
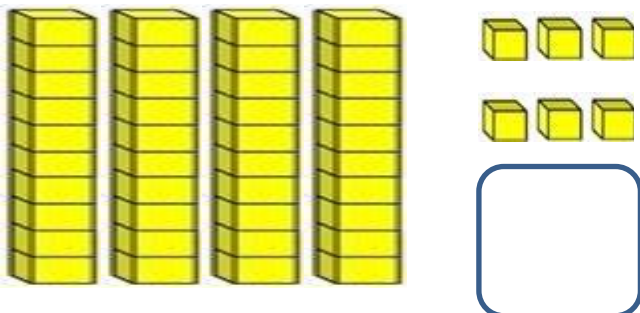
Sayı 42 Basamak Değeri



Sayı 78 Basamak Değeri



★ Aşağıda bloklarına ayrılmış şekilde verilen sayının kaç olduğunu yazınız.



★ Aşağıdaki boşlukları uygun şekilde doldurunuz.

1 deste = ..... nesne

1 düzine = ..... nesne

2 deste = ..... nesne

2 düzine = ..... nesne

3 deste = ..... nesne

3 düzine = ..... nesne

6 deste = ..... nesne

4 düzine = ..... nesne

9 deste = ..... nesne

5 düzine = ..... nesne