

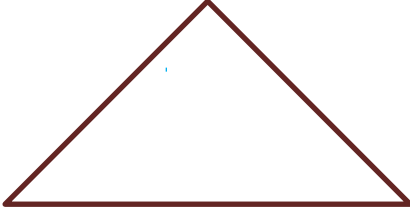





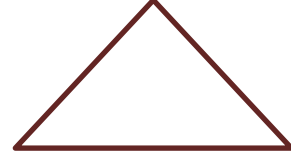
### 3. SINIFA HAZIRLIK – MATEMATİK


#### Geometrik Şekiller ve Geometrik Cisimler

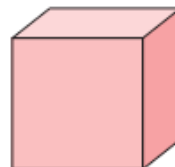
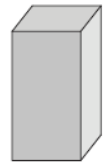
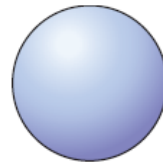
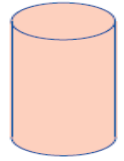
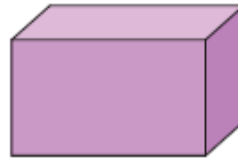
 Aşağıdaki geometrik şekillerin isimlerini içlerine yazınız.



 Aşağıdaki geometrik şekillerin köşe ve kenarlarını ok çizerek gösteriniz.

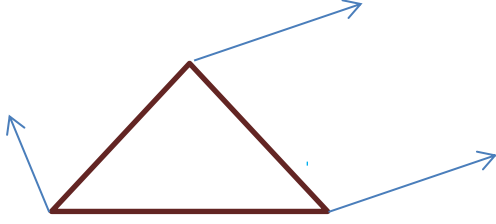


 Aşağıdaki geometrik cisimlerin altlarına isimlerini yazınız.



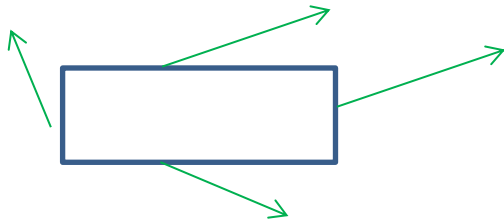
1.) Dikdörtgen için aşağıdakilerden hangisi doğrudur?

- a) Tüm kenar uzunlukları eşittir.
- b) Birbirine eş 2 uzun ve birbirine eş 2 kısa kenarı vardır.
- c) Toplam 3 köşesi vardır.



2.) Yukarıdaki şeklin ve okların gösterdiği yerlerin isimleri aşağıdakilerden hangisinde sırasıyla verilmiştir?

- a) Üçgen – Kenar
- b) Kare – Kenar
- c) Üçgen – Köşe



3.) Yukarıdaki şeklin ve okların gösterdiği yerlerin isimleri aşağıdakilerden hangisinde sırasıyla verilmiştir?

- a) Dikdörtgen – Kenar
- b) Kare – Kenar
- c) Dikdörtgen – Köşe



4.) Yukarıdaki top hangi geometrik cisme benzemektedir?

- a) Küp
- b) Küre
- c) Silindir



5.) Yukarıdaki tekerlek hangi geometrik cisme benzemektedir?

- a) Silindir
- b) Kare prizma
- c) Dikdörtgen prizma



6.) Yukarıdaki kitap hangi geometrik cisme benzemektedir?

- a) Silindir
- b) Kare prizma
- c) Dikdörtgen prizma



7.) Evlerin çatısı hangi geometrik cisme benzemektedir?

- a) Kare prizma
- b) Üçgen prizma
- c) Dikdörtgen prizma