

YENİ BİR BAŞLANGIÇ

Duru ve Mehmet sokakta buldukları köpeği sahiplenmeye karar verdiler. Köpeği güzelce yıkadılar. Bahçelerine kulübe yaptılar. Köpeğe "Pakman" ismini verdiler. Birlikte çok güzel zaman geçirdiler.



1. ve 2. soruları metne göre cevaplayalım.

1. Duru ve Mehmet köpeğe hangi ismi verdiler?

- A. Pakman
- B. Pekmez
- C. Pekmen

2. Köpek için aşağıdakilerden hangisini yapmamışlardır?

- A. Köpeği yıkadılar.
- B. Köpeğe kulübe yaptılar.
- C. Köpeğe ninni söylediler.

3. Deniz, okulda arkadaşlarıyla görüşeceği için çok mutluydu. Yukarıdaki cümlede aşağıdaki sorulardan hangisinin cevabı yoktur?

- A. Kim?
- B. Nasıl?
- C. Niçin?

4. Aşağıdaki cümlelerden hangisinin sonunda nokta kullanılmalıdır?

- A. Kaç yaşındasın
- B. Sana bir hediye vereceğim
- C. Off, çok gerginim


5. şişman ak
 zayıf büyük
 beyaz küçük

Yukarıdaki sözcüklerden eş anlamlı olanlar eşleştirilecektir.

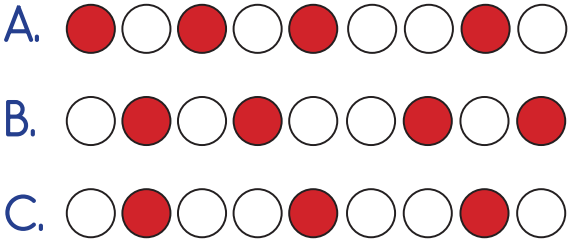
Buna göre aşağıdaki hangi eşleştirme doğrudur?

- A. — B. —
C. —

6. Aşağıdaki öğrencilerden hangisi kelimeyi doğru telaffuz etmiştir?



7. "Salyangoz" kelimesinin sırasıyla her bir harfi bir daire ile gösterildikten sonra ünlü harflerle gösterilen daireler boyanmaktadır. Boyama bittikten sonra oluşan şekil hangisidir?



8. Pazara gittim bir tane, eve gittim bin tane.

Yukarıdaki bilmecenin cevabı aşağıdakilerden hangisidir?



9. (K) deniz 1. ○
 (Y) havuç 2. ○
 (I) karpuz 3. ○
 (A) fare 4. ○

Yukarıdaki kelimeleri, harfleri kullanarak alfabetik olarak sıraladığımızda hangi kelimeye ulaşırız?

- A. YİKA
 B. KAYI
 C. YAKI

10. Denize gittiler	<input type="checkbox"/>	<input type="checkbox"/> Olumsuz cümle
Yanımda oturmadı	<input type="checkbox"/>	<input type="checkbox"/> Soru cümlesi
Kaç yaşında-sın	<input type="checkbox"/>	<input type="checkbox"/> Olumlu cümle

Yukarıdaki cümleler, türleriyle eşleştirilecektir.

Buna göre doğru eşleştirme nasıl olmalıdır?

- A.  B.  C. 

11. Gözlükleri olmadığı iyi göremiyordu.
Yukarıdaki cümlede noktalı yere hangisi gelmelidir?
A. ama B. için C. neden

12.



Aşağıdakilerden hangisinin ilk hecesi yukarıdaki görselin son hecesidir?

- A. B.
C.

13.

üçüncü	koptu
sayfası	kitabın

Yukarıdaki kelimelerle anlamlı ve kurallı cümleler oluşturulacaktır.
Buna göre baştan üçüncü sözcük hangisi olur?

- A. sayfası B. üçüncü
C. koptu

14. Satır sonuna sığmayan "oyunlar-da" kelimesi aşağıdakilerden hangisi gibi bölünemez?

- A. B.
C.

15.

Sözcükler	Sayısal Eşleşme	
KAY	426	624
YAK		
AYK	642	264
YKA		


➔

İstenen Sözcük
AYK

Her sözcük bir sayı ile şifrelenmiştir.
İstenen sözcüğün şifresi hangisidir?

- A. 264 B. 642 C. 426

1.



Resimde verilen çileklerin sayısı ile aşağıdakilerden hangisi yanlıştır?

- A. Çileklere 2 çilek daha eklersek 2 deste çilek olur.
- B. Çileklerden 8 tanesini çıkarırsak 1 düzine çilek kalır.
- C. Çileklerin sayısı 1 onluk, 8 birlikten oluşmaktadır.

2. Onlar basamağı 6 olan iki basamaklı en küçük sayı ile birler basamağı 4 olan en büyük iki basamaklı sayının farkı kaçtır?

- A. 34
- B. 75
- C. 43

3.



Yukarıdaki sayı örüntüsü belli bir kurala göre oluşturulmuştur. Kuralı bozan sayı hangisidir?

- A. 35
- B. 39
- C. 45

4.




Yukarıdaki harflerden hangisinin alfabedeki sırası farklı bir onluğa yakındır?

- A. R
- B. T
- C. V

5. Selim çiftliklerinde bulunan hayvan sayılarını aşağıdaki gibi resimlerle göstermiştir.

- Her keçi resmi 3 hayvanı göstermektedir.
- Her arı resmi 2 hayvanı göstermektedir.
- Her kaplumbağa resmi 5 hayvanı göstermektedir.



Bu çiftlikte hangi tür hayvandan daha fazla vardır?

- A. kaplumbağa
- B. keçi
- C. arı

6.



Benim adım Büşra, 9 yaşındayım.



Ben Görkem. Buraktan 6 yaş büyüğüm.



Benim adım Burak. Büşra benim ikiz kardeşim.

Büşra, Burak ve Görkem'in yaşları toplamı babalarının yaşına eşit olduğuna göre babası kaç yaşındadır?

- A. 33 B. 30 C. 24

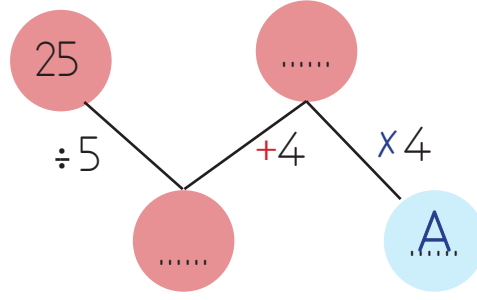
7.



Yukarıdaki öğrencilerin yaptıkları işlemde sembollerle gösterilen sayıların farkı kaçtır?

- A. 14 B. 17 C. 21

8.



Yukarıdaki işlem sırasına göre "A" yerine aşağıdakilerden hangisi gelir?

- A. 36 B. 32 C. 28

9.



Emre bir düzine elmanın 4 tanesini yedi. Geri kalan elmaların çeyreğini arkadaşına verdi.

Emre'nin kaç elması kalmıştır?

- A. 6 B. 4 C. 2

10.



Dedem alışveriş yapmak için yanına yukarıda verilen görseldeki kadar para almıştır.

Dedem yanına kaç lira para almıştır?

- A. 75 B. 85 C. 95

11.



Resimdeki saatten 10 saat sonra yapılan aktivite aşağıdakilerden hangisidir?

- A. Yüzme
- B. Bisiklet sürme
- C. Ders çalışma

12. 3 güne bir futbol oynayan Sinan ilk maçını pazartesi günü yapmıştır.

3. maçını hangi gün yapmıştır?

- A. Salı
- B. Perşembe
- C. Pazar

13. En büyük madeni para ile en küçük kağıt paranın farkı ne kadardır?

- A. 4 lira
- B. 2 lira
- C. 1 lira

14. Tablo: Satılan Ürünlerin Miktarı

Satılan Ürün	Ürün Sayısı
Dondurma	25
Çikolata	34
Ekmek	51


Verilen tablo, bir marketin sattığı ürün sayılarını göstermektedir.

En fazla satılan ürünle en az satılan ürün arasındaki fark kaçtır?


- A. 36
- B. 30
- C. 26

15. 65 santimetrelik kurdeleden, 3 kez 8 cm, 7 kez 3 cm kesiliyor. Buna göre geriye kaç cm kurdele kalmıştır?

- A. 20
- B. 35
- C. 50

1.  İnsanların ten renkleri aynıdır.


 İnsanların fiziksel özellikleri birbirlerinden farklıdır.


 İnsanların yetenekleri birbirinden farklıdır.

Yukarıdaki bilgilerden hangisi doğru değildir?

- A.  B.  C. 




2.  Sınıf kurallarımızı öğretmenimiz belirler.

 Sınıfta her istediğimizi yapabiliriz.




 Sınıf başkanımızı oy birliği ile seçeriz.

Yukarıdaki ifadelerden doğru olanlara "D", yanlış olanlara "Y" yazılırsa hangi seçenek oluşur?




- A.

	D
	Y
	D

 B.

	Y
	Y
	D










 C.

	Y
	D
	D




3. Aşağıdakilerden hangisi grup çalışmasının yararlarındanıdır?

- A. Herkes tek başına çalışmayı öğrenir.
B. Planlı ve düzenli çalışarak iş bölümü yapmayı öğreniriz.
C. Tüm işleri kendi başımıza halledebiliriz.

4. Aşağıdakilerden hangisi sabah kahvaltısına uygun bir menüdür?

- A.   
B.   
C.   

5. Aşağıdaki görsellerden hangisinde İstiklal Marşı'mızın yazarı verilmiştir?

- A.  B.  C. 

6.



Görseldeki çiçekleri saksıda yetiştirmek isteyen İrmak ilk önce aşağıdakilerden hangisini yapmalıdır?

- A. Saksıyı güneşe koymalı
- B. Saksıya toprak koymalı
- C. Çiçekleri sulamalı

7. Aşağıdakilerden hangisi bağımsızlığımızın sembollerinden biri değildir?

- A. Bayrağımız
- B. Milli Marşımız
- C. Okulumuz

8.



Yukarıda verilen iki ürün ile ilgili aşağıdakilerden hangisi doğrudur?

- A. İkisi bitkisel üründür.
- B. İkisi hayvansal üründür.
- C. Biri hayvansal, diğeri bitkisel üründür.

9.

Çorum

Mersin

Malatya


Kayısı

Cezerye

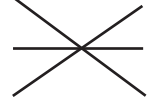
Leblebi

Yukarıdaki il ve o ile ait ürün eşleştirmesi nasıl olmalıdır?

A.



B.



C.



10. Hangi seçenekte doğal afetlerle adları yanlış eşleştirilmiştir?

A.



SEL

B.



HEYELAN

C.



ÇİĞ

TÜRKÇE

- | | |
|-------|-------|
| 1- A | 11- B |
| 2- C | 12- B |
| 3- B | 13- A |
| 4- B | 14- B |
| 5- C | 15- A |
| 6- C | |
| 7- C | |
| 8- C | |
| 9- B | |
| 10- C | |

MATEMATİK

- | | |
|-------|-------|
| 1- B | 11- B |
| 2- A | 12- C |
| 3- A | 13- A |
| 4- C | 14- C |
| 5- A | 15- A |
| 6- A | |
| 7- B | |
| 8- A | |
| 9- A | |
| 10- C | |

HAYAT BİLGİSİ

- | |
|-------|
| 1- C |
| 2- B |
| 3- B |
| 4- C |
| 5- B |
| 6- B |
| 7- C |
| 8- C |
| 9- B |
| 10- B |