

- ✓ Aőağıdaki toplama işlemlerini yapınız.

$$\begin{array}{r} 18 \\ + 8 \\ \hline \end{array}$$

$$\begin{array}{r} 10 \\ + 7 \\ \hline \end{array}$$

$$\begin{array}{r} 18 \\ + 6 \\ \hline \end{array}$$

$$\begin{array}{r} 13 \\ + 7 \\ \hline \end{array}$$

- ✓ Aőağıdaki çıkarma işlemlerini yapınız.

$$\begin{array}{r} 20 \\ - 9 \\ \hline \end{array}$$

$$\begin{array}{r} 17 \\ - 8 \\ \hline \end{array}$$

$$\begin{array}{r} 18 \\ - 10 \\ \hline \end{array}$$

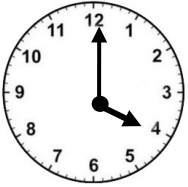
$$\begin{array}{r} 15 \\ - 7 \\ \hline \end{array}$$

- ✓ 14 cevizim vardı. 7 ceviz de babam verdi. Babamın verdikleriyle birlikte kaç tane cevizim oldu?

- ✓ Annem 19 kurabiye yaptı. Kurabiyelerin 5 tanesini yedim. Geriye kaç tane kurabiye kaldı?



- ✓ Eda'nın 8 tokası var. Ela'nın tokalarının sayısı Eda'nın tokalarının sayısından 3 fazladır. Eda tokalarının tamamını Ela'ya veriyor. Ela'nın kaç tane tokası olur?

- ✓ Saatin kaç olduğunu yanına yazınız.


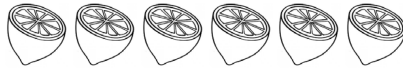


..... : .....

- ✓ Bütünlerden elde edilecek yarım sayılarını altlarına yazınız.

 ..... tane yarım eder.	 ..... tane yarım eder.
---	--

- ✓ Görseli verilen yarımlardan elde edilecek bütün sayılarını altlarına yazınız.

 ..... tane bütün eder.	 ..... tane bütün eder.
---	--

- ✓ Aőağıdaki kutucuklarda verilen sayılardan önce ve sonra gelmesi gereken sayıları boş bırakılan kutucuklara yazınız.

	15	
--	----	--

	12	
--	----	--

	18	
--	----	--