

### 3. SINIFA HAZIRLIK – MATEMATİK

## Çarpma İşlemi Problemleri

★ 6 sayısının 4 katının 3 eksiği kaç-  
tır?

★ 3'ün 4 fazlasının 2 katı kaçtır?

☆ Her gün 10 sayfa kitap okuyan Aysun 1 haftada kaç sayfa kitap okur?



★ Bir sınıfta 9 sıra vardır. Her sırada 2 kişi vardır. Buna göre sınıfta kaç kişi vardır?

★ 1 kilogram elma 5 liradır. 4 kilo elma alan biri kaç lira öder?

★ Ece 6 yaşındadır. Ozan'ın yaşı, Ece'nin yaşının 3 katıdır. Buna göre ikisinin yaşları toplamı kaçtır?

★ Fidan'ın 4 kalemı vardır. Kerim'in kalemı, Fidan'ın kalemının 5 katıdır. Buna göre ikisinin kalem sayıları farkı kaçtır?

★ Akifin 8 topu vardır. Gül'ün topları, Akifin toplarının 10 katı ise ikisinin toplam kaç topu vardır?




1.) 3 top ve 4 kitap alan biri kaç lira öder?

A blank grid for drawing a picture, consisting of 10 columns and 5 rows of squares.


2.) 6 silgi ve 7 bardak alan biri kaç lira öder?

A large rectangular grid consisting of 10 columns and 5 rows of squares, intended for drawing a picture.

3.) 8 kitap ve 9 bardak alan biri kaç lira öder?

A large rectangular grid consisting of 20 columns and 10 rows of squares, intended for drawing a picture.

4.) Jale'nin 7 kalemı vardır. Efe'nin kalemleri, Jale'nin kalemlerinin 4 katıdır. Buna göre ikisinin toplam kaç kalemı vardır?



5.) Rana'nın 50 lirası vardır. Rana, tanesi 8 lira olan toplardan 4 tane aldı. Son durumda Rana'nın kaç lirası kalır?

[illegible]