

Ad, soyad:

.....  
.....  
.....

# Seviye

## Değerlendirme



Doğru : .....  
Yanlış : .....

İrem yaz tatilinin bitmesini sabırsızlıkla bekliyordu. Bir an önce arkadaşlarına kavuşmak istiyordu. Öğretmenini çok özlemişti.

Okulun ilk günü erkenden uyandı. Kahvaltı etmeden önce hemen okul kıyafetlerini giydi. O kadar heyecanlıydı ki elini, yüzünü bile yıkamadan sofraya oturdu. Annesi onu uyarmasa ne yaptığının farkında değildi. Hemen banyoya koştu. Geri döndüğünde:

"Öğretmenim tatilde seksen iki kitap okuduğumu duyunca benimle gurur duyar bence." dedi annesine.

İlk beş soruyu metne göre cevaplayalım.

1- İrem neyi sabırsızlıkla bekliyordu?

- A) Doğum günü hediyesinin gelmesini
- B) Okulun tatil olmasını
- C) Yaz tatilinin bitmesini

2- İrem aşağıdakilerden hangisini diğerlerinden önce yapmıştır?

- A) Elini, yüzünü yıkamak
- B) Okul kıyafetlerini giymek
- C) Kahvaltı sofrasına oturmak

3- İrem tatilde kaç tane kitap okumuştur?

- A) seksen
- B) iki
- C) seksen iki

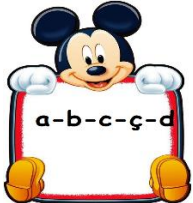
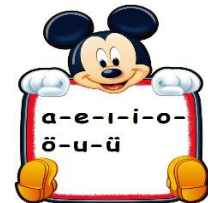


4- Metnin başlığı aşağıdakilerden hangisi olamaz?

- A) Okul Heyecanı
- B) Okula Özlem
- C) Okulda Bir Gün

5- Metindeki altı çizili sözcüğün zıt anlamlısı hangi cümlede yer almaktadır?

- A) Üç adım ileri gidince çarpıştılar.
- B) Geriye bakınca köpeğin peşinden geldiğini gördü.
- C) Kuş alçaktan uçtu.

6- Aşağıdakilerden hangisinde alfabemizdeki tüm sesli harfler verilmiştir?

- A)  B) 
- C)  

7- Hangi harf alfabemizin üçüncü harfidir?

- A)  B)  C) 

8- Aşağıdaki kelimelerden hangisi hecelerine doğru ayrılmıştır?



- A) oy-un-cak B) ka-ran-lık  
C) ot-omo-bil

9- "bayat" kelimesinin zıt anlamlısı hangisidir?

- A) taze B) ılık C) ekmek

10- Hangisi tek başına hece olamaz?




- A) O B) A C) T



11- Yukarıdaki kedilerin kulak sayısı kaçtır?

- A) 7 B) 14 C) 12

12- Aşağıdaki geometrik şekillerden hangisinin kenar sayısı daha azdır?

- A)  B) 
- C) 

13- Ali'nin kumbarasında 11 lira vardı. Ali parasının 3 lirasıyla kalem aldı. Ali'nin kaç lirası kalmıştır?

- A) 7 B) 8 C) 14

14- Hangi toplama işleminin sonucu diğerlerinden farklıdır?

- A)  $17 + 2$   
B)  $15 + 4$   
C)  $12 + 5$

15- Bir çıkarma işleminde eksilen sayı 12, çıkan sayı 8 ise fark/kalan kaçtır?

- A) 4    B) 3    C) 20



16- Bir öğrenciye babası yukarıdaki paradan dört tane verdi. Öğrenci harçlığının 4 lirasını harcadığında kaç lirası kalır?

- A) 9    B) 16    C) 1

17- Onar ritmik sayarken yetmiştenden önce hangi sayıyı söyleriz?

- A) otuz  
B) seksen  
C) altmış




18- Çocuklar gösterdikleri saatte kütüphaneye gittiler. İki saat sonra kütüphaneden çıktılar ve parkta arkadaşlarıyla buluştular. Bir saat parkta oynadıktan sonra eve döndüler.

Çocuklar eve döndüklerinde saat kaçtır?

- A) 3.00    B) 10.00    C) 11.00

19- Efe hafta sonlarında gitar kursuna gidiyor. Pelin ise aynı kursa sadece cumadan sonraki gün gidiyor. Efe ve Pelin'in aynı anda kursta olduğu gün hangisidir?

- A) Cumartesi  
B) Pazar  
C) Perşembe



20- Yukarıdaki elmalardan kaç tane yarım elma elde edilir?

- A) 16    B) 8    C) 14

21- Aşağıdaki öğrencilerden hangisi fiziksel özelliklerinden bahsetmektedir?



- A) İkinci sınıfa gidiyorum.



- B) Biraz kiloluyum.



- C) Futbol oynamayı severim.



22-

Yukarıdaki görselle ilgili hangi ifade doğru değildir?

- A) Öğrencilerin davranışları istenmeyen durumlar yaşanmasına neden olabilir.
- B) Öğrenciler okul kurallarına uymamaktadır.
- C) Öğrenciler güvenli alanda oyun oynamaktadır.

23-

Aşağıdaki çocuklardan hangisinin davranışı doğrudur?



- A) Ülkemizde yaşayan farklı kültürdeki insanlara saygı duyarım.




- B) Sınıfımıza gelen yeni öğrencileri oyunlarımıza almam.



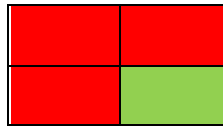
- C) Bütün arkadaşlarımla benim belirlediğim kurallara uyması gerekir.

24- Görsellerden hangisi okulların açıldığı mevsimi ifade etmektedir?

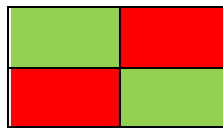


25-


Yukarıdaki tabloda doğru davranışlar yeşile, yanlış davranışlar kırmızıya boyandığında tablonun görünümü nasıl olur?



A)



B)



C)

Test bitmiştir. Cevaplarımızı kontrol edelim.