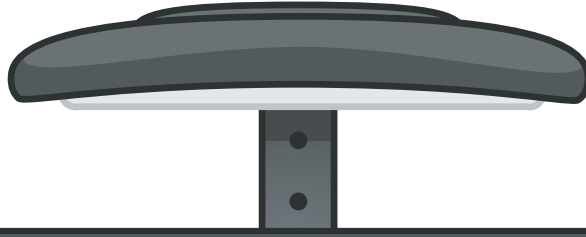


TURUNCU SINIF

İLKOKUL ETKİNLİKLERİ




4.SINIF HAZIRBULUNUŞLUK DENEME SINAVI

TÜRKÇE-15 SORU

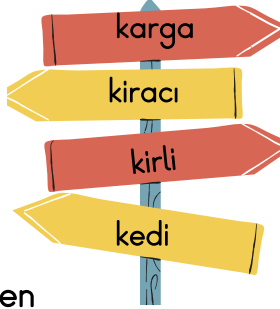
MATEMATİK-15 SORU

FEN BİLİMLERİ-10 SORU

HAYAT BİLGİSİ-10 SORU



1.
2.
3.
4.



1. Yukarıdaki karışık verilen kelimeleri alfabeğe göre yukarıdan aşağıya doğru tabloda sıralarsak en altta hangi kelime yer alır?

- A. karga B. kirli C. kiracı

2. Aşağıdaki cümlelerden hangisinde yazım yanlışı yapılmıştır?

- A. Tirenle yolculuğu seviyorum.
B. İlkokulda takdir almıştım.
C. Sporcu kardeşim sakatlandı.

3. Verilen kelimelerden hangisi satır sonunda **yanlış** bölünmüştür?

- A.

rafa	zü-
------	-----

B.

lık	kitap-
-----	--------

C.

tobüs	o-
-------	----

EŞ ANLAMI OLANLAR

- ıslak
- hediye
- ayran
- konut
- ekmek
- orman
- sınıf

4. Öğretmenin verdiği ödevde göre listeyi dolduran Elisa kaç kelimedede hata yapmıştır?

- A. 2 B. 3 C. 4

5. Aşağıdaki kelime çiftlerinden hangisi anlam ilişkisi bakımından diğerlerinden farklıdır?

- A.

	ihtiyar - genç
--	----------------

B.

	ev - hane
--	-----------

C.

	savaş - barış
--	---------------



6. Papatyada bulunan eş sesli kelimeler koparılsa geriye kaç yaprak kalır?

- A. 1 B. 2 C. 3

7. Aşağıdaki noktalama işaretlerinden hangisi cümlelerin sonunda kullanılamaz?

- A. ? B. !
C. ,

8. Aşağıdaki cümlelerden hangisinde noktalama ile ilgili bir yanlışlık yapılmamıştır?

- A. Ayşe'ler pikniğe gitmiş.
B. Marketten elma, ve kek aldım.
C. Salataya maydanoz koyma sakın!

- ☐ Kulaklığımın kablosu koptu.
☐ Hırsızlar polisten kaçamamış.
☐ Sokak kedisi mamasını bitirmemiş.
☐ Artık ödevlerimi düzenli yapacağım.

9. Yukarıdaki cümlelerden olumlu olanlara (+) olumsuzlara (-) koyarsak toplam kaç çizgi kullanmış oluruz?

- A. 6 B. 5 C. 4

- ☐ Neden bana küstün
☐ Eyvah, ocağı açık unuttum
☐ Off çok sıkıldım
☐ Halıyı sen mi kirlettin

10. Yukarıdaki cümlelerden soru cümlesi olanın başına (?), ünlem cümlesi olanın başına (!) işaretlerini koyarsak tablo nasıl görünür?

- | | | |
|--------------------------|--------------------------|--------------------------|
| A. | B. | C. |
| <input type="checkbox"/> | <input type="checkbox"/> | <input type="checkbox"/> |
| <input type="checkbox"/> | <input type="checkbox"/> | <input type="checkbox"/> |
| <input type="checkbox"/> | <input type="checkbox"/> | <input type="checkbox"/> |
| <input type="checkbox"/> | <input type="checkbox"/> | <input type="checkbox"/> |

11. Aşağıdaki cümlelerin hangisi **mecaz** anlamlıdır?

- A. Kadınlar Voleybol milli takımımız dünya şampiyonu oldu.
- B. Uçan halımla arkadaşımı bulutların üzerinde gezdirdim.
- C. Yarın çok zor bir Matematik sınavımız olacakmış.

Rengini sevmediğim için tişörtümü iade edip turuncu olanı aldım.

12. Verilen cümlede hangi sorunun cevabı vardır?

- A. Niçin?
- B. Ne zaman?
- C. Nerede?

13. Aşağıdaki atasözlerinden hangisinin anlamı diğerlerinden farklıdır?

- A. Ne ekersen onu biçersin.
- B. Sakla samanı gelir zamanı.
- C. İyilik eden iyilik bulur.

Figen 8 yaşındadır. Tek başına dolaşmaya çıkan Figen yolunu kaybedip bir ormana girmiş ve çok korkmuştur. Fotoğrafçı olan Sezen Hanım o sırada ormanda fotoğraf çekerken Figen'i görmüş ve Figen'in kaybolduğunu anlamıştır. Figen'in ailesini arayıp Figen'i evine bırakmış bir daha tek başına bilmediği yerlere gitmeyeceğinin sözünü alıp ailesiyle bir fotoğrafını çektikten sonra görevine geri dönmüştür.

14 ve 15. soruları metne göre cevaplandırınız.




14. Verilen öyküde hikaye unsurlarından hangisinin cevabı yoktur?

- A. Karakter
- B. Zaman
- C. Mekan





15. Sezen Hanım ormanda ne yapıyormuş?

- A. Şarkı söylüyormuş.
- B. Nöbet tutuyormuş.
- C. Fotoğraf çekiyormuş.

SAYI	OKUNUŞU
5  9	beş yüz kırk dokuz
26 	iki yüz altmış
 17	yüz on yedi

1. Yukarıdaki tabloda verilen sayılara göre  +  +  = işleminin sonucu kaçtır?

A. IV B. V C. VI

2.    

örüntüsü 3 adım daha ilerletilirse ikinci ve üçüncü adımın toplamı kaç olur?

A. 113 B. 101 C. 220



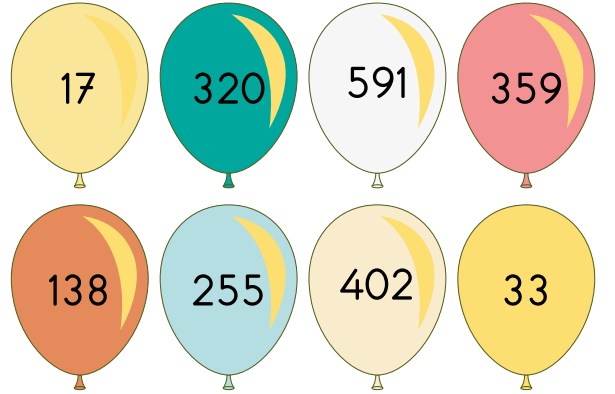
3. Verilen bowling toplarından en yakın yüzlüğü 400 olanlarla atış yapılırsa kaç top kullanılmış olur?

A. 3 B. 4 C. 5

359-971-89-41-453

4. Yukarıda verilen sayıları önce büyüktten küçüğe sonra küçükten büyüğe doğru sıralarsak hangi sayının sıralamadaki yeri değişmez?

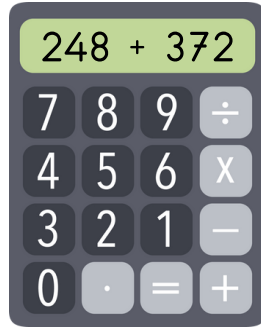
A. 359 B. 41 C. 971



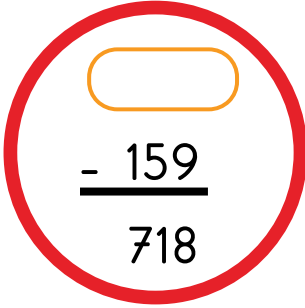
5. Yukarıdaki balonlarda yazan sayılardan çift olanları gökyüzüne bırakan Kerem'in elinde kaç balon kalmıştır?

A. 4 B. 5 C. 3

6. Yandaki hesap makinesi hatalı üretilmiştir. Toplama işleminde **eldeleri unutan** bu cihaz hangi sonucu gösterir?




- A. 620 B. 510 C. 520



7. Verilen çıkarma işleminde boş bırakılan yere hangi sayı yazılmalıdır?

- A. 877 B. 614 C. 559

8. Verilen bölme işleminde bölünen sayı **en çok** kaç olabilir?




- A. 192 B. 200 C. 199



9. 30 kilo muz, 18 kilo elma satan bir manav bu satışlardan kaç para kazanır?

- A. 816 B. 716 C. 616



10. Evi ile okulu arasındaki mesafenin yedide birini giden Burcu kaç metre yürümüştür?

- A. 60 B. 6 C. 70

11. Saat 18.20'de ödev yapmaya başlayan Nesrin ödevini 20.10'da bitirmiştir. Buna göre Nesrin'in ödevi kaç dakika sürmüştür?

- A. 90 B. 60 C. 110



170 TL



195 TL



108 TL

12. Okulundaki öğrencilere hediye olarak yukarıdaki 3 topu alan bir okul müdürü bu hediyeler için toplam kaç para ödemiştir?

- A. 473 B. 545 C. 463

13. Yandaki sürahi 8 bardak su ile dolmaktadır.

3 sürahinin dolması için kaç bardak suya ihtiyaç vardır?

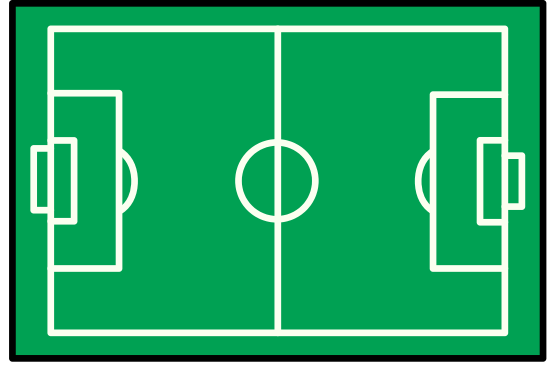


- A. 11 B. 5 C. 24

- ☐ Silindirin ayrıtı ve köşesi yoktur.
☐ Dikdörtgenin karşılıklı kenarları birbirine eşittir.
☐ Altı köşesi ve altı kenarı olan şekillere altıgen denir.
☐ Kare prizmanın bütün yüzleri kareden oluşur.

14. Yukarıda verilen bilgilere göre doğruyanlış tablosunu doldurursak hangi görünümü elde ederiz?

A.	Y	B.	Y	C.	D
	D		D		D
	D		Y		D
	Y		D		Y



15. Dikdörtgen şeklindeki bir futbol sahasının kısa kenarı 60 metre, uzun kenarı kısa kenarından 20 metre fazla ise bu sahanın çevresi kaç metredir?



- A. 160 B. 280 C. 140

1. Aşağıdakilerden hangisi Dünya'nın şeklinin küre olduğunu kanıtlayan bir bilgi değildir?

- A. Uzaydan çekilen fotoğraflar
B. Katmanlardan oluşması
C. Hep aynı yöne giden bir uçağın başladığı noktaya geri dönmesi

İÇ KATMANLAR	DIŞ KATMANLAR
Dış Çekirdek	
	Su Katmanı
İç Çekirdek	Kara Katmanı

2. Dünya'nın katmanları tablosunda boş bırakılan yerlere ne gelmelidir?

		
A.	Manto	Atmosfer
B.	Hava Katmanı	Manto
C.	Yer Kabuğu	Magma

3. Hangi duyu organımız terleme yoluyla boşaltım yapmamızı sağlar?

- A. Burun B. Kulak C. Deri

4. Verilen görsellerin hangisinde hem itme hem de çekme kuvveti uygulanmaktadır?

A.



B.



C.



- ☐ Tuz ve şekeri birbirinden ayırt etmek için rengine bakarız.
☐ Cam bardak kırılğan maddelere örnek olarak gösterilebilir.
☐ Bütün maddeler şekil değiştirdikten sonra eski haline gelebilir.
☐ Demir kapı sert maddelere örnek olarak gösterilebilir.

5. Yukarıda verilen bilgilere göre doğru-yanlış tablosunu doldurursak hangi görünümü elde ederiz?

A.

Y

D

D

Y

B.

Y

D

Y

D

C.

D

Y

D

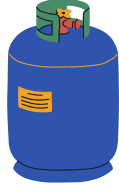
Y



Limonata



Limon



Tüp

6. Verilen görseller sırasıyla hangi madde türlerine örnektir?

A. Sıvı - Gaz - Katı

B. Katı - Sıvı - Gaz

C. Sıvı - Katı - Gaz


7. Işık ve ışık kaynakları ile ilgili verilen cümlelerden hangisi doğrudur?

A. Ay en büyük doğal ışık kaynağıdır.


B. Doğru aydınlatma için çok fazla ışık gereklidir.

C. El feneri yapay ışık kaynağıdır.

8. Aşağıdaki görsellerden hangisinin çıkardığı ses doğal sese örnek değildir?



9. Verilen görsellerden hangisi doğal çevreye örnek değildir?



(Havuz)



(Pamukkale)



(Peri Bacaları)

Televizyon

Şehir Elektiriği

Otomobil

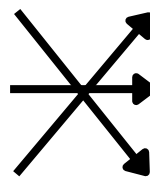
Pil

Duvar Saati


Akü

10. Araçlar ve elektrik kaynakları eşleştirilirse hangi görünüm oluşur?


A.



B.



C.



1. Aşağıda verilen görsellerden hangisi ihtiyaçtır?

A.



B.



C.



Eda



Ellerimi yıkadıktan sonra musluğu kapattım.

Cem



Sırama çok güzel resimler çizdim.

Naz



Gereksiz yanan sınıf lambasını söndürdüm.

2. Hangi öğrenci okul kaynaklarını verimli kullanmaya dikkat etmemiştir?

A. Cem

B. Naz

C. Eda



3. Yukarıda verilen görsellerde hangi sektörden bir meslek yoktur?

A. Sağlık

B. Eğitim

C. Eğlence

4. Beslenme ile ilgili verilen cümlelerden hangisi yanlıştır?

A. Sadece et besinlerini yemek

B. Açıkta satılan yiyecekleri tüketmemek

C. Mevsimine uygun taze besinler tüketmek

5. Bisiklet sürmeyi çok seven Vedat'ın hangisini yapması hatalı bir davranış olur?

A. Bisiklet yolunu kullanması

B. Kask , dizlik ve dirseklik takması

C. Akrobatik hareketler yapması



6. Amcam vali, dayım belediye başkanı ve halam muhtardır. Buna göre akrabalarım hangi idari birimleri yönetiyordur?

A.

Amca	İlçe
Dayı	İl
Hala	Köy

B.

Amca	İl
Dayı	İlçe
Hala	Köy

C.

Amca	İl
Dayı	Köy
Hala	İlçe

cesur

ileri görüşlü

tembel

hayvansever

vatansever

bencil

7. Yukarıda verilenlerden kaç tanesi Atatürk'ün kişilik özelliklerindendir?

A. 3 B. 4 C. 5

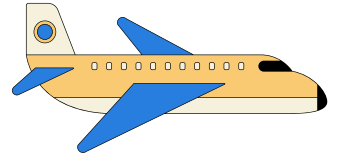
- I. Zafer Bayramı - Dini Bayram
- II. Kurban Bayramı - Milli Bayram
- III. Cumhuriyet Bayramı - Milli Bayram
- IV. Ramazan Bayramı - Dini Bayram

8. Yukarıda verilen bayramlar ve türlerinin doğru olması için hangi maddelerin yer değiştirmesi gerekir?

- A. I ve II
B. I ve III
C. II ve IV


9. Aşağıda ismi verilen ülkemize katkıda bulunan önemli kişilerden hangisi ilk yerli uçağı üretmiştir?

- A. Sabiha Gökçen
B. Vecihi Hürkuş
C. Aziz Sancar



10. Aşağıdaki yön bulma yöntemlerinden hangisi kuzeyi göstermez?

- A. Pusulanın renkli ucu
B. Kutup Yıldızı
C. Güneşin battığı yön



* Doğru cevabın bulunduğu seçeneği optiğe işaretleyiniz.

TÜRKÇE			
1	A	B	C
2	A	B	C
3	A	B	C
4	A	B	C
5	A	B	C
6	A	B	C
7	A	B	C
8	A	B	C
9	A	B	C
10	A	B	C
11	A	B	C
12	A	B	C
13	A	B	C
14	A	B	C
15	A	B	C

MATEMATİK			
1	A	B	C
2	A	B	C
3	A	B	C
4	A	B	C
5	A	B	C
6	A	B	C
7	A	B	C
8	A	B	C
9	A	B	C
10	A	B	C
11	A	B	C
12	A	B	C
13	A	B	C
14	A	B	C
15	A	B	C

FEN BİLİMLERİ			
1	A	B	C
2	A	B	C
3	A	B	C
4	A	B	C
5	A	B	C
6	A	B	C
7	A	B	C
8	A	B	C
9	A	B	C
10	A	B	C

HAYAT BİLGİSİ			
1	A	B	C
2	A	B	C
3	A	B	C
4	A	B	C
5	A	B	C
6	A	B	C
7	A	B	C
8	A	B	C
9	A	B	C
10	A	B	C

Adı:

Soyadı:

Sınıfı:

CEVAP ANAHTARI

TÜRKÇE			
1	A	B	C
2	A	B	C
3	A	B	C
4	A	B	C
5	A	B	C
6	A	B	C
7	A	B	C
8	A	B	C
9	A	B	C
10	A	B	C
11	A	B	C
12	A	B	C
13	A	B	C
14	A	B	C
15	A	B	C

MATEMATİK			
1	A	B	C
2	A	B	C
3	A	B	C
4	A	B	C
5	A	B	C
6	A	B	C
7	A	B	C
8	A	B	C
9	A	B	C
10	A	B	C
11	A	B	C
12	A	B	C
13	A	B	C
14	A	B	C
15	A	B	C

FEN BİLİMLERİ			
1	A	B	C
2	A	B	C
3	A	B	C
4	A	B	C
5	A	B	C
6	A	B	C
7	A	B	C
8	A	B	C
9	A	B	C
10	A	B	C

HAYAT BİLGİSİ			
1	A	B	C
2	A	B	C
3	A	B	C
4	A	B	C
5	A	B	C
6	A	B	C
7	A	B	C
8	A	B	C
9	A	B	C
10	A	B	C