


3. SINIFA HAZIRLIK — MATEMATİK

Kesirler ve Saatler

★ Aşağıdaki şekillerin istenildiği kadarını boyayınız.



Bütün


Yarım

Çeyrek


- 1 bütün yarımından oluşur.
- 1 bütün çeyrekten oluşur.
- 1 yarım çeyrekten oluşur.
- 4 çeyrek bütün eder.
- 2 yarım bütün eder.
- 2 çeyrek yarım eder.

Aşağıdaki şekillerin istenildiği kadarını boyayınız.


Çeyrek



Bütün



Yarım



★ Aşağıdaki saat türlerini eşleştiriniz.


Dijital Saat

Analog Saat



07:30


★ Aşağıdaki saatleri inceleyiniz. Boşlukları doldurunuz.



09:15
Sağ → Saat Sol → Dakika

- Analog saatlerdeki uzun çizginin adı
- Analog saatlerdeki kısa çizginin adı
- Analog saatlerdeki uzun çizgi gösterir.
- Analog saatlerdeki kısa çizgi gösterir.
- Dijital saatlerdeki ilk 2 rakam gösterir.
- Dijital saatlerdeki son 2 rakam gösterir.

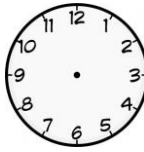
★ Aşağıda okunuşu verilen saatleri analog saatlerde gösteriniz.



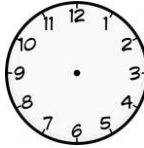
Saat 5 4 buçuk Saat 10 8 buçuk

★ Aşağıda dijital gösterimleri verilen saatleri analog saatlerde gösteriniz.

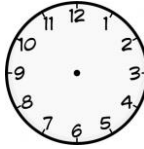
06.30






11.00



07:15









★ Aşağıda analog gösterimleri verilen saatleri dijital saatlerde gösteriniz.



★ Aşağıdaki boşlukları doldurunuz.

- 1 gün saattir.
- 1 saat dakikadır.
- Yarım saat dakikadır.
- Çeyrek saat dakikadır.

★ Aşağıdaki saatlerin öğleden sonra saat kaç gösterdiklerini yazınız.



★ Aşağıda verilen saatlerin okunuşlarını yazınız.

